



آموزش و کتاب‌کار
حسابان (۱) پایه یازدهم
(ویژه‌ی مهندسی‌ها)

مؤلفان:

حسین شفیع‌زاده، پیمان جلیلی



انتشارات خوشخون

به نام بخشندگی گل

نمی‌دونم نوشته رو از کجا شروع کنم، یه مقدار نوشته‌ام شاید غمگین باشه.

ولی دلم خواست که بنویسم.

تولد و مرگ، واژه‌ای که همه مون زیاد شنیدیم، زیاد نوشتیم و زیاد گفتیم. گاهی آرزوی به دنیا اومدن کسی رو داشتیم و گاهی خدایی نکرده آرزوی مرگ خودمون یا دشمنمون رو داشتیم.

واقعاً آرزوی اولی که قشنگه شاید خودمون هم دوست داشته باشیم چند بار به دنیا بیایم و دوران کودکی رو تجربه کنیم، البته اگر دوران کودکی خوبی داشته باشیم. یه پراتز باز کنم بگم کودکانی هستن که شاید روزهایی که باید آرزوی کودکی کردن رو داشته باشن آرزوهایی دارن که من نمی‌تونم برای یه کودک به زبون هم بیارم (آرزوی داشتن غذا و ...، باید فاتحه‌ی اون دنیا رو خوند).

بگذریم! هدفم از گفتن تولد و مرگ بیشتر کلمه‌ی مرگ، مردن، یا بهتر بگم از دست دادن بود. تا این جای زندگی ممکنه خیلی هامون خیلی چیزهای مادی رو از دست داده باشیم، از اون پاک‌کنی بگیر که وقتی می‌افتاد روی زمین نیست و نابود می‌شد تا گم کردن یه هدیه ارزشمند و ...، ولی امیدوارم چیزهای معنوی زیادی از دست نداده باشین مثل عزیزان و دوستان. ای کاش می‌شد مرگ رو از زندگی خط‌زد؛ ولی گاهی همین مرگ یا از دست دادن‌هاست که زندگی رو متفاوت‌تر می‌کنه، گاهی قوی‌ترمون می‌کنه و گاهی خدایی نکرده شکننده‌تر.

امیدوارم همه‌مون قوی‌تر بشیم.

آدم‌های زیادی تو زندگی مون میان و میرن دوست، معلم، مدیر، همکار و ... (البته بسته به شخصیت‌مون ممکنه کم باشن یا زیاد) بعضی هاشون اوقدار ارزشمندن که حتی فکر کردن به نبودنشون دل آدم رو می‌رنجونه (پدر و مادر، یه دوست درجه یک، همسر، فرزند و ...).

شاید بگید شعاره، ولی واقعا وقتی آدم یه انسان ارزشمند یا دوست داشتنی از زندگیش کم میشه (مسافرت، مهاجرت و خدایی نکرده مرگ) گاهی قدر اون آدم رو می‌فهمه.

شاید بعضیا بگن به خاطر احساس ندامت باشه یا فراق. ولی، گاهی جای خالی یه قاب روی دیوار آدم رو ناراحت می‌کنه چه برسه نبود آدمی که چند روزی رو با هم در غم و شادی سپری کردیم. شاید بگید چرا از مرگ، فراق و از دست دادن نوشتیم؟!

نوشتیم چون دوری از یه دوست خوب من رو به خاطرات مشترک برد. چقدر دوری یا از دست دادن می‌تونه سخت باشه. گاهی یه جمله توی دل آدم سال‌ها می‌مونه و آدم رو می‌رنجونه. اون دوست عزیز سال‌ها پیش از بین ما رفت و امروز گاهی در گوشه‌های خاطراتمون زندگی می‌کنه و می‌خنده ولی ...

جمله‌های گفته و ناگفته بینمون، قهرها و آشتی‌ها و ...، آرزوی گفتن حرف‌های خوب، آرزوی نگفتن جمله‌هایی که شاید رنجشی به دلمون گذاشت و ...

رفت و خاطرش موند.

بازم جمله‌ی کلیشه‌ای که ما تو دنیا مسافریم.

یه روز سوار می‌شیم و یه روز شاید در اوج آرزو هامون پیادمون می‌کنن. حواسمون به مسافرایی که تو مترو و قطار ایستادن یا نشستن کنارمون باشه. حواسمون به اونایی که تو ایستگاه جدید سوار می‌شن، حواسمون به اونایی که تو ایستگاه بعدی ممکنه یا قرار پیاده شن. ممکنه خطمون رو عوض کنیم از یه دوست سال‌ها جدا بمونیم،

وئی...

امیدوارم قطارهامون از هم جدا نشه، امیدوارم قطارهامون از خط خارج نشه.

قدر خودتون و اطرافیاتونو بدویند. قدر پدر و مادر، قدر دوست، قدر برادر و خواهر، قدر گلدون، قدر حیوون خونگیتون، قدر قاب عکساتون، قدر گربه‌ی محلتون، قدر کبوتری که گوشه‌ی پنجره نونه کرده، قدر بارون پاییزی، قدر برگ خشک روی زمین، قدر شکوفه‌ی بهاری، قدر برف، قدر دریا و ...

بیاد مسافرهایی که تو یه ایستگاه همسفرمون شدن، تو یه ایستگاه دیگه خطشون رو عوض کردن و بیاد دوست عزیزم که قصد سفری دیگر کرد و ما را در ایستگاه دنیا جا گذاشت با یک جمله‌ی ناگفته.

بیاد [علی یوسفی](#) دوست و همکار عزیزم که در تألیف کتاب حسابان دوره‌ی پیش در کنارمان بود.

چند جمله‌ای در باب کتاب، این کتاب به همت دو تن از دبیران برجسته ایران زمین نوشته شده است دوست و بردارم آقای شفیع‌زاده و دوست و همکار جوانم آقای جلیلی، با علم و با تجربه. این دو عزیز در طی یک سال اخیر و با توجه به تغییرات سیستم آموزشی و کنکور این کتاب را تألیف کردند، کتابی مفهومی و پر از تمرین. کتابی که می‌تواند شما دوست عزیز را برای حسابان (۱)، کنکور و حسابان (۲) آماده کند.

ان شاء الله بتوانیم با شناخت نیازهای نسل شما و تجربه‌ای به دست آمده از سال‌های تدریس دوستان، استرس و دلهره را از دوش تکتکتان برداریم و نسلی شاداب و پر انرژی را، نه تنها برای ساختن آینده‌ی این مرز و بوم بلکه دنیا تربیت کنیم. لازم می‌دانم از تمامی کسانی که در تولید این اثر نقش داشتند به ویژه دو مؤلف عزیز کمال تشکر را داشته باشم و از شما دوست عزیز نیز به خاطر نواقص و کمبودهای احتمالی طلب عفو دارم.



رسول حاجی‌زاده

مدیر انتشارات خوشخوان

به نام خدا

کتابی که پیش روی شماست، ترکیبی از کتاب آموزش و کتاب کار است که با درس‌نامه‌ی جامع شامل مثال‌های تشریحی و تستی نوشته شده است. پیشنهادی نگارش این کتاب، تألیف کتاب‌های کمک آموزشی متعدد و تدریس در مدارس برتر کشور از جمله دبیرستان انرژی اتمی، مدارس علامه حلی و فرزندگان تهران، شعب مدارس سلام و ... است. خوانندگان مدنظر نویسندگان، دانش‌آموزانی هستند که قصد دارند تقریباً به تمام سؤال‌های حسابان (۱) کنکور پاسخ درست بدهند و با پایه‌ی قوی خود را برای یادگیری درس حسابان (۲) آماده سازند.

در نوشتن درس‌نامه به سرفصل کتاب حسابان (۱) جدید وفادار بوده‌ایم و فقط موارد کمی را به عنوان بیشتر بدانیم به برخی فصل‌ها اضافه کرده‌ایم. در عین تطبیق با سرفصل‌های کتاب درسی، حل برخی از مسائل کتاب، به پشتکار و تمرین بیشتری نیاز دارد. حل این سؤالات علاوه بر این که عمق یادگیری و تسلط شما را افزایش می‌دهد، نوعی ورزش ذهنی محبوب می‌شود.

همان‌طور که در تمرینات یک فوتبالیست کار با وزنه نیز وجود دارد!

برای استفاده‌ی بهتر از کتاب، توجه به نکات زیر نیز مفید است:

۱. بخش اول هر فصل، درس‌نامه‌ی جامع همراه با حل مثال‌های تشریحی و تست‌های مرتبط است. در مجموع در درس‌نامه‌ی این کتاب، ۱۲۶ مثال تشریحی و ۲۱۴ تست خواهید دید. حل تست‌ها، دید اولیه‌ی مناسبی به دانش‌آموز می‌دهد و نی برای تسلط کامل می‌توانید از کتاب تست حسابان (۱) انتشارات خوشخوان استفاده کنید.

۲. بخش دوم هر فصل، مسائل تشریحی است که حلشان در همان فصل آورده شده است. در مجموع در کتاب، ۴۴۰ مسئله حل شده وجود دارد. توصیه می‌کنیم قبل از مراجعه به پاسخ تشریحی، خودتان تلاش کنید سؤالات را حل کنید.

۳. بخش سوم هر فصل، تمرینات انتهایی فصل است که در داخل کتاب برای حلشان جای کافی در نظر گرفتیم. در مورد سؤالات با پاسخ عده‌ی، جواب نهایی در انتهای کتاب نوشته شده است.

به عنوان نویسندگان کتاب، از تمام معلمان و اساتید دوران تحصیل خود، همکاران گرامی که تجربه‌ای خود را به من منتقل کردند، کادر اجرایی انتشارات و ویراستارها و به‌طور ویژه از جناب آقای رسول حاجی‌زاده سپاسگزاریم و این کتاب را به دانش‌آموزان ممتاز کشور تقدیم می‌کنیم.

همواره از شنیدن نظر و انتقاد خوانندگان استقبال می‌کنیم








مهر ۱۳۹۷

با آرزوی موفقیت و سربلندی میهن

حسین شفیع‌زاده


پیمان جلیلی



۱	جبر و معادله	فصل اول 
۹۹	تابع	فصل دوم 
۱۶۳	توابع نمایی و لگاریتمی	فصل سوم 
۱۹۱	مثلثات	فصل چهارم 
۲۳۷	حد و پیوستگی	فصل پنجم 

فصل سوم

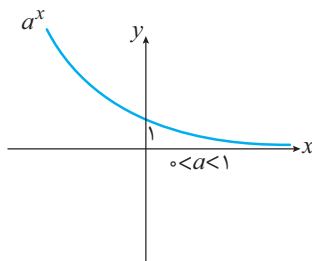
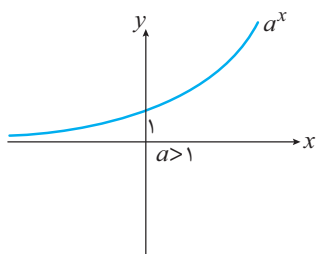
توابع نمایی و لگاریتمی



تعریف

هر تابع با ضابطه‌ی $f(x) = a^x$ را که در آن a عددی مثبت و مخالف ۱ است، یک تابع نمایی می‌نامیم.

نمودار این تابع به یکی از دو صورت زیر است:



تست ۱. به ازای چند مقدار صحیح k تابع $y = (5 - k^2)^x$ یک تابع نمایی است؟

۴) ۲ مقدار

۳) ۳ مقدار

۲) ۴ مقدار

۱) ۵ مقدار

پاسخ: ۱ ۲ ۳ ۴

با توجه به تعریف تابع نمایی باید $5 - k^2$ مثبت و مخالف ۱ باشد.

$$\begin{cases} 5 - k^2 > 0 \Rightarrow k^2 < 5 \\ 5 - k^2 \neq 1 \Rightarrow k^2 \neq 4 \end{cases} \xrightarrow{k \in \mathbb{Z}} k = 0, \pm 1$$

مثال ۱ یک توده معین از باکتری در هر دقیقه، دو برابر می‌شود. اگر در ابتدا ۲۰ باکتری موجود باشد. جرم توده پس از t دقیقه چقدر است؟

پاسخ: چگونگی افزایش تعداد باکتری‌ها به صورت الگوی زیر است:

t بر حسب دقیقه	۰	۱	۲	۳	...
تعداد باکتری	۲۰	20×2	20×2^2	20×2^3	...

طبق این الگو، پس از t دقیقه، تعداد باکتری‌ها برابر 20×2^t است، که به صورت تابع $f(t) = 5 \times 2^{t+2}$ قابل بیان است.

تذکر

یک تابع به صورت $y = ka^x$ ($k \neq 0, a \neq 1, a > 0$) رفتار نمایی دارد. مانند $y = 3^{x-1}$ و $y = \frac{2}{5} \times 3^x$

مثال ۲ نمودار توابع زیر را به کمک انتقال رسم کنید.

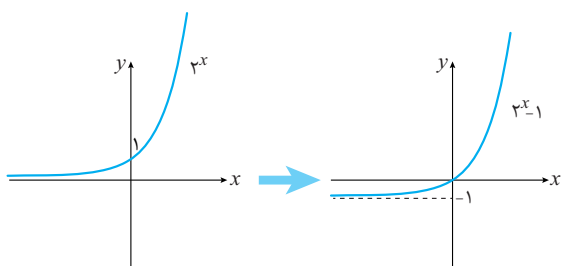
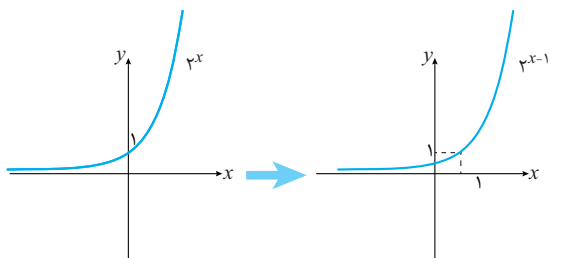
۱) $y = 2^{x-1}$

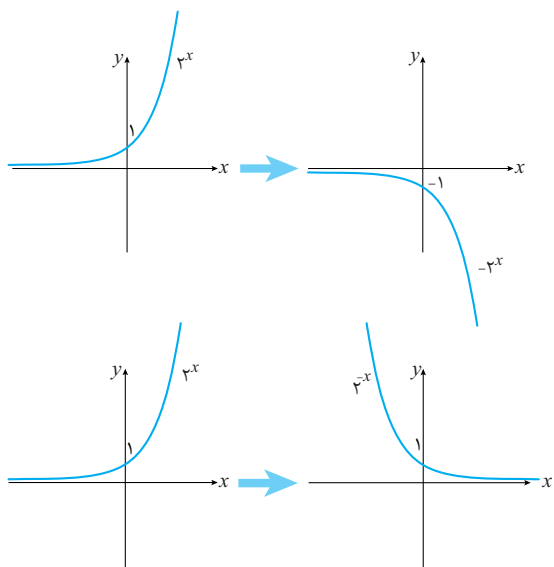
۲) $y = 2^x - 1$

۳) $y = -2^x$

۴) $y = 2^{-x}$

پاسخ: برای رسم $f(x-1)$ ، نمودار $f(x)$ را یک واحد به راست منتقل می‌کنیم. برای رسم $f(x)-1$ ، نمودار $f(x)$ را یک واحد به پایین منتقل می‌کنیم. برای رسم $-f(x)$ ، نمودار $f(x)$ را نسبت به محور x ها قرینه می‌کنیم. برای رسم $f(-x)$ ، نمودار $f(x)$ را نسبت به محور y ها قرینه می‌کنیم.





تذکر

الف) برای رسم $y = a^{-x}$ دو گونه می‌توان رفتار کرد.

۱) نمودار $y = (\frac{1}{a})^x$ را رسم کنیم.

۲) نمودار $y = a^x$ را نسبت به محور y ها قرینه کنیم.

ب) برای رسم $y = a^{x+k}$ دو گونه می‌توان رفتار کرد.

۱) نمودار $y = a^x$ را k واحد به چپ (یا راست) منتقل کنیم.

۲) نمودار $y = a^x$ را به اندازه k ضریب a^k ، در جهت محور y ها منبسط یا منقبض کنیم.

تست ۲. نمودار کدام تابع زیر به صورت مقابل است؟

۱) $y = 1 - 2^{|x|}$

۲) $y = 1 - 2^{-x}$

۳) $y = |2^{-x} - 1|$

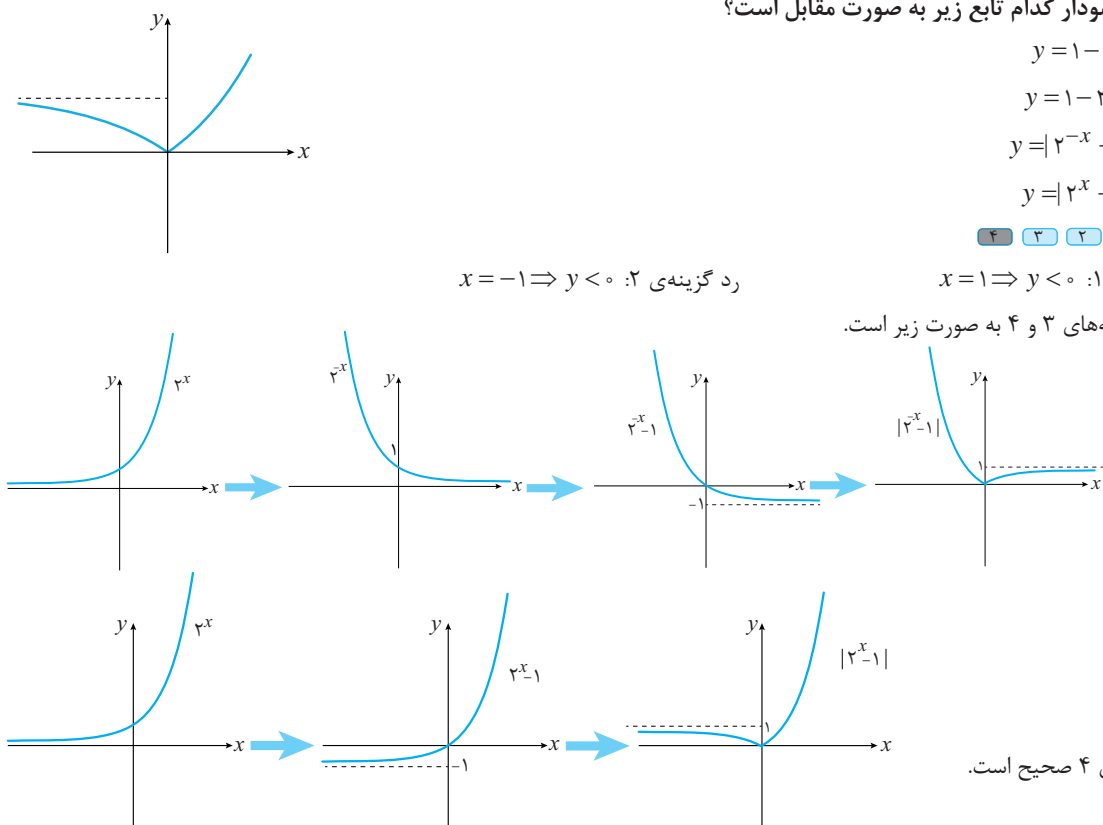
۴) $y = |2^x - 1|$

پاسخ: ۱ ۲ ۳ ۴

رد گزینه‌ی ۱: $x=1 \Rightarrow y < 0$

رد گزینه‌ی ۲: $x=-1 \Rightarrow y < 0$

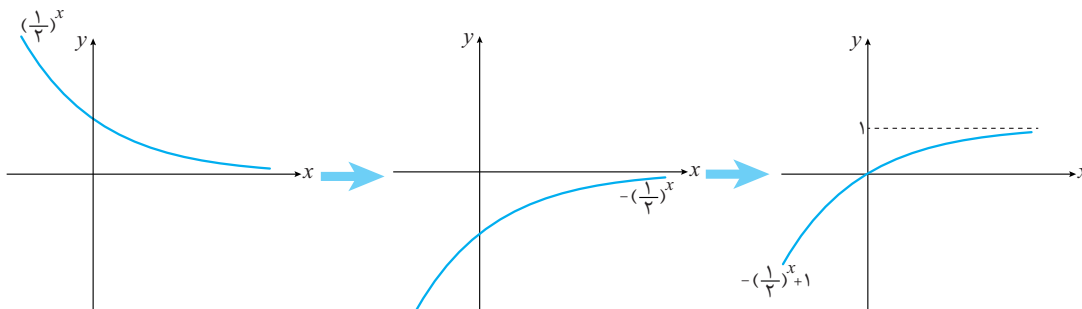
نمودار گزینه‌های ۳ و ۴ به صورت زیر است.



پس گزینه‌ی ۴ صحیح است.



روش اول: نمودار تابع $f(x)$ را طی مراحل زیر، رسم می‌کنیم.



نمودار تابع $f(x)$ از ناحیه‌ی اول و سوم (و مبدأ) عبور می‌کند. پس داریم:

$$\begin{cases} x \geq 0 \xrightarrow{\text{ناحیه اول}} f(x) \geq 0 \Rightarrow x f(x) \geq 0 \\ x < 0 \xrightarrow{\text{ناحیه سوم}} f(x) < 0 \Rightarrow x f(x) \geq 0 \end{cases}$$

در واقع تمام اعداد حقیقی عضو دامنه هستند.

روش دوم: با توجه به ویژگی‌های تابع نمایی داریم:

$$g = x f(x) = x \left(1 - \left(\frac{1}{2} \right)^x \right) = \frac{x(2^x - 1)}{2^x}$$

اگر $x > 0$ آن‌گاه $2^x > 1$ پس حاصل g همواره مثبت است. یعنی کل اعداد مثبت عضو دامنه‌اند.

اگر $x < 0$ آن‌گاه $2^x < 1$ پس مجدداً حاصل g همواره مثبت است. یعنی کل اعداد منفی عضو دامنه‌اند.

بدیهی است که $x = 0$ نیز عضو دامنه است. بنابراین دامنه برابر \mathbb{R} است.

لگاریتم و تابع لگاریتمی

تابع نمایی $y = a^x$ یک تابع یک به یک و در نتیجه وارون پذیر است. وارون تابع نمایی را تابع لگاریتمی می‌نامیم.

تعریف اگر $x > 0$ و $a > 0$ و $a \neq 1$ آن‌گاه

$$y = \log_a^x \Leftrightarrow x = a^y$$

به مثال‌های زیر توجه کنید:

$$2^3 = 8 \Rightarrow \log_2^8 = 3$$

$$10^{-2} = 0.01 \Rightarrow \log_{10}^{0.01} = -2$$

$$2^{\frac{1}{2}} = \sqrt{2} \Rightarrow \log_2^{\sqrt{2}} = \frac{1}{2}$$

تذکر

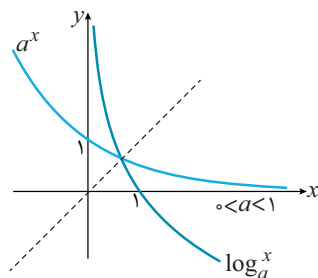
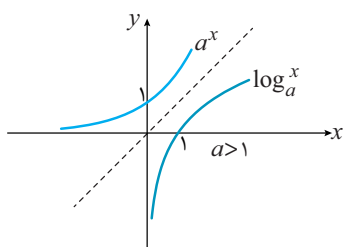
منظور از \log_b^a آن است که b به توان چه عددی برسد تا برابر a گردد. به‌طور مثال منظور از \log_2^{64} آن است که ۲، به توان چند برسد برابر ۶۴ می‌شود که جواب آن ۶ است پس $\log_2^{64} = 6$. و یا منظور از \log_{10}^{100} آن است که ۱۰، به توان چند برسد برابر ۱۰۰ می‌شود که جواب آن ۲ است پس $\log_{10}^{100} = 2$.

تذکر

لگاریتمی که پایه آن ۱۰ باشد را به صورت $\log x$ نشان می‌دهیم.



نمودار تابع $y = \log_a^x$ و معکوس آن یعنی $y = a^x$ نسبت به نیمساز ناحیه‌ی اول و سوم قرینه‌اند. بنابراین نمودار تابع لگاریتمی، به یکی از دو صورت زیر است:



مثال ۴ نمودار توابع زیر را رسم کنید.

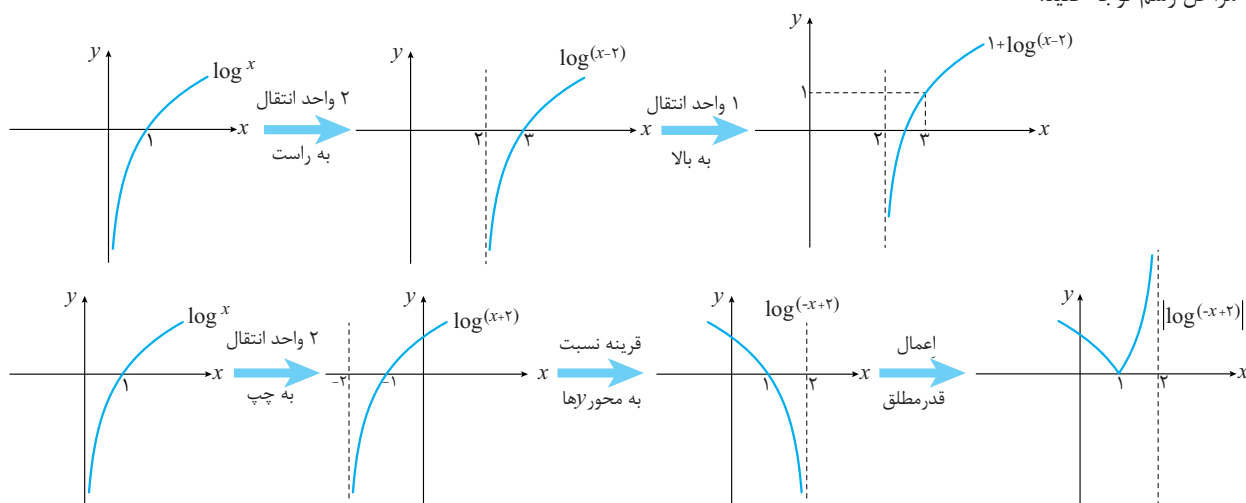
۱) $y = 1 + \log(x - 2)$

۲) $y = |\log(2 - x)|$

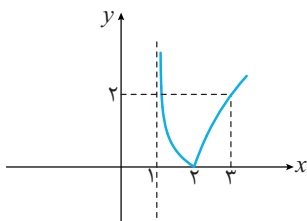
پاسخ: برای رسم نمودار تابع $f(-x)$ ، کافی است نمودار $f(x)$ را نسبت به محور y ها قرینه کنیم.

برای رسم نمودار تابع $-f(x)$ ، کافی است نمودار $f(x)$ را نسبت به محور x ها قرینه کنیم.

به مراحل رسم توجه کنید:



تست ۵. نمودار تابع $y = a|\log_{\frac{1}{2}}(x+b)|$ به صورت مقابل است. حاصل $a+b$ کدام است؟



- ۱ (۱)
- ۲ (۲)
- ۳ (۳)
- ۴ (۴)

پاسخ: ۱ ۲ ۳ ۴

با توجه به نمودار $y = \log_a^x$ ، به ازای $x = 1$ مقدار y برابر صفر است، پس داریم:

$$\begin{cases} x = 2 \\ y = 0 \end{cases} \Rightarrow 0 = a \left| \log_{\frac{1}{2}}(2+b) \right| \Rightarrow \log_{\frac{1}{2}}(2+b) = 0 \Rightarrow 2+b = 1 \Rightarrow b = -1$$

به ازای $x = 3$ مقدار y برابر ۲ است، پس داریم:

$$\begin{cases} x = 3 \\ y = 2 \end{cases} \Rightarrow 2 = a \left| \log_{\frac{1}{2}}(3-1) \right| \Rightarrow 2 = a \left| \log_{\frac{1}{2}} 2 \right| \Rightarrow 2 = a$$

بنابراین $a+b = 1$ است.



با توجه به نمودار لگاریتم، می‌توانیم به نتایج زیر برسیم:

$a > 1$	$0 < a < 1$
$x_1 < x_2 \Rightarrow \log_a^{x_1} < \log_a^{x_2}$	$x_1 < x_2 \Rightarrow \log_a^{x_1} > \log_a^{x_2}$
$0 < x < 1 \Rightarrow \log_a^x < 0$	$0 < x < 1 \Rightarrow \log_a^x > 0$
$x > 1 \Rightarrow \log_a^x > 0$	$x > 1 \Rightarrow \log_a^x < 0$
تابع $y = \log_a^x$ یک به یک است.	تابع $y = \log_a^x$ یک به یک است.

نکته ✓ اگر $x > 0$ آن‌گاه: $\log_a^x < b \Rightarrow \begin{cases} x < a^b & a > 1 \\ x > a^b & 0 < a < 1 \end{cases}$

تست ۶: دامنه‌ی تابع $f(x) = \sqrt{1 - \log(x^2 - 3x)}$ کدام است؟

- (۱) $[-2, 0) \cup (3, 5]$ (۲) $[-2, 0] \cup (3, 5)$
 (۳) $[-2, 3]$ (۴) $(0, 5]$

پاسخ: ۱ ۲ ۳ ۴

شرط اول آن است که $x^2 - 3x > 0$ باشد پس $x < 0$ یا $x > 3$ است.

شرط دوم آن است که $1 - \log(x^2 - 3x) \geq 0$ باشد. با توجه به نکته‌ی بالا داریم:

$$1 - \log(x^2 - 3x) \geq 0 \Rightarrow \log(x^2 - 3x) \leq 1 \Rightarrow x^2 - 3x \leq 10^1 \Rightarrow -2 \leq x \leq 5$$

دامنه برابر اشتراک جواب نامساوی‌های ($x < 0$ یا $x > 3$) با نامساوی‌های $-2 \leq x \leq 5$ است.



$$D_f = [-2, 0) \cup (3, 5]$$

ویژگی‌های لگاریتم

برخی از ویژگی‌های لگاریتم را در جدول زیر مشاهده می‌کنید. دقت کنید در هر کدام از ویژگی‌ها، عبارتی نظیر \log_b^a زمانی تعریف شده است که $a > 0$ ، $b > 0$ و $b \neq 1$ باشد.

۱	$\log_a^1 = 0$	۲	$\log_a^a = 1$
۳	$\log_a^{bc} = \log_a^b + \log_a^c$	۴	$\log_a^{\frac{b}{c}} = \log_a^b - \log_a^c$
۵	$\log_b^{a^n} = n \log_b^a$	۶	$\log_{b^m}^a = \frac{1}{m} \log_b^a$
۷	$\log_b^a = \frac{\log_c^a}{\log_c^b} = \frac{\log a}{\log b}$	۸	$a^{\log_a^b} = b$
۹	$\log_b^a = \frac{1}{\log_a^b}$	۱۰	$a^{\log_c^b} = b^{\log_c^a}$
۱۱	$\log_b^{\frac{1}{a}} = -\log_b^a$		



مثال ۵ با فرض $a = \log 2$ و $b = \log 3$ حاصل عبارات زیر را بیابید.

۱) $\log 5$ ۲) $\log 5 / 75$ ۳) $\log 36\sqrt{2}$

پاسخ: به کمک ویژگی‌های لگاریتم، هر یک از عبارات را محاسبه می‌کنیم شماره‌ی ویژگی به کار رفته، در بالای تساوی‌ها نوشته شده است.

۱) $\log 5 = \log \frac{10}{2} = \log 10 - \log 2 = 1 - a$

۲) $\log 5 / 75 = \log \frac{5}{100} = \log \frac{3}{4} = \log 3 - \log 4 = \log 3 - \log 2^2 = \log 3 - 2 \log 2 = b - 2a$

۳) $\log 36\sqrt{2} = \log(3^2 \times 2^2) = \log 3^2 + \log 2^{\frac{5}{2}} = 2 \log 3 + \frac{5}{2} \log 2 = 2b + \frac{5}{2}a$

تست ۷. با فرض $a = \log 3$ و $b = \log 18$ مقدار $\log 24$ کدام است؟

۱) $5b - 3a$ ۲) $3b - 5a$ ۳) $3b + 5a$ ۴) $5b + 3a$

پاسخ: ۱ ۲ ۳ ۴

ابتدا سعی می‌کنیم $\log 2$ را برحسب a و b به دست آوریم:

$$b = \log 18 = \log(3^2 \times 2) = \log 3^2 + \log 2 = 2 \log 3 + \log 2 = 2a + \log 2$$

پس $\log 2 = b - 2a$ و حالا $\log 24$ را محاسبه می‌کنیم:

$$\log 24 = \log(2^3 \times 3) = \log 2^3 + \log 3 = 3 \log 2 + \log 3 = 3(b - 2a) + a = 3b - 5a$$

تست ۸. اگر $\log_x^y = 2$ و $\log_z^x = 3$ ، حاصل \log_{yz}^x کدام است؟

۱) ۶ ۲) $\frac{1}{6}$ ۳) $\frac{6}{5}$ ۴) $\frac{5}{6}$

پاسخ: ۱ ۲ ۳ ۴

با توجه به رابطه‌ی $\log_b^a = \frac{1}{\log_a^b}$ داریم:

$$\left. \begin{array}{l} \log_x^y = 2 \Rightarrow \log_x^y = \frac{1}{2} \\ \log_z^x = 3 \Rightarrow \log_x^z = \frac{1}{3} \end{array} \right\} \xrightarrow{\text{جمع}} \log_x^y + \log_x^z = \frac{5}{6} \Rightarrow \log_{yz}^x = \frac{5}{6}$$

بنابراین $\log_{yz}^x = \frac{5}{6}$ است.

تست ۹. اگر $y = \log x$ باشد، حاصل $x^{\log 2}$ کدام است؟

۱) $\frac{1}{2}y$ ۲) $2y$ ۳) y^2 ۴) 2^y

پاسخ: ۱ ۲ ۳ ۴

$$y = \log x \Rightarrow x = 10^y$$

در عبارت $x^{\log 2}$ ، به جای x 10^y را جایگزین می‌کنیم:

$$x^{\log 2} = (10^y)^{\log 2} = 10^{y \log 2} = 10^{\log 2^y} = 2^y$$

دقت کنید که در تساوی آخر از فرمول $a^{\log_a^b} = b$ استفاده کردیم.





تست ۱۰. در دنباله‌ای با جمله‌ی عمومی $a_n = \log_3 \frac{2n-1}{2n+1}$ ، مجموع چند جمله‌ی اول برابر ۳- است؟

۱۳ (۱) ۱۴ (۲) ۱۶ (۳) ۱۷ (۴)

پاسخ: ۱ ۲ ۳ ۴

n جمله‌ی اول دنباله را می‌نویسیم و باهم جمع می‌کنیم.

$$S_n = a_1 + a_2 + a_3 + \dots + a_n = \log_3 \frac{1}{3} + \log_3 \frac{3}{5} + \log_3 \frac{5}{7} + \dots + \log_3 \frac{2n-1}{2n+1} =$$

$$= (\log_3 \frac{1}{3} - \log_3 \frac{3}{3}) + (\log_3 \frac{3}{5} - \log_3 \frac{5}{5}) + (\log_3 \frac{5}{7} - \log_3 \frac{7}{7}) + \dots + \log_3 \frac{(2n-1)}{(2n+1)} - \log_3^{(2n+1)}$$

$$= \log_3 \frac{1}{3} - \log_3^{(2n+1)} = -\log_3^{(2n+1)}$$

پس $-\log_3(2n+1) = -3$ است و از آن جا $2n+1 = 3^3$ و در نتیجه $n = 13$ است.

نکته ✓ تعداد ارقام عدد طبیعی n برابر $[\log n] + 1$ است.

مثال ۶ با فرض $\log_2 3 = 0.301$ تعیین کنید که 2^{500} چند رقمی است.

پاسخ:

روش اول: مطابق فرمول بالا داریم:

$$\text{تعداد ارقام} = [\log 2^{500}] + 1 = [500 \cdot \log 2] + 1 = [500 \times 0.301] + 1 = 151$$

روش دوم: این روش همان اساس اثبات فرمولی است که در نکته‌ی بالا بیان کردیم. فرض کنید 2^{500} یک عدد n رقمی باشد پس 2^{500} بین دو عدد 10^{n-1} و 10^n است (مثلاً یک عدد دو رقمی بین 10^1 و 10^2 است).

$$10^{n-1} \leq 2^{500} < 10^n \xrightarrow{\log \text{ می‌گیریم}} \log 10^{n-1} \leq \log 2^{500} < \log 10^n$$

$$\Rightarrow n-1 \leq 500 \cdot \log 2 < n$$

$$\Rightarrow n-1 \leq 500 \times 0.301 < n$$

$$\Rightarrow n-1 \leq 150.5 < n$$

تنها عدد طبیعی که در رابطه‌ی بالا صدق می‌کند، $n = 151$ است.

معادلات لگاریتمی

معادلات لگاریتمی، معادلاتی هستند که در یک طرف یا در طرفین تساوی، لگاریتم قرار دارد. به دلیل یک به یک بودن تابع $y = \log_a^x$ ، برای حل معادلات لگاریتمی، از نکته‌ی زیر استفاده می‌کنیم.

$$\log_a^x = \log_a^y \Leftrightarrow x = y \quad a > 0, a \neq 1$$

نکته ✓

در حل معادلات لگاریتمی، حتماً به دامنه‌ی تعریف توجه کنید.

مثال ۷ معادله‌ی $\log_3(x^2 - 1) = 1 + \log_3(x + 3)$ را حل کنید.

پاسخ: ابتدا تمام لگاریتم‌ها را به یک طرف تساوی منتقل می‌کنیم:

$$\log_3(x^2 - 1) - \log_3(x + 3) = 1 \Rightarrow \log_3 \frac{x^2 - 1}{x + 3} = 1 \Rightarrow \frac{x^2 - 1}{x + 3} = 3^1$$

$$\Rightarrow x^2 - 3x - 10 = 0 \Rightarrow x = 5, -2$$

با آزمایش جواب‌ها در معادله‌ی اولیه، معلوم می‌شود که هر دو جواب قابل قبول است زیرا داخل لگاریتم‌ها منفی نمی‌شود.

تست ۱۱. اگر $\log(x-1) = 3 \log 2 - \log(x-3)$ ، حاصل $\log_3(x-2)$ کدام است؟

- (۱) صفر (۲) ۱ (۳) -۱ (۴) $\frac{1}{2}$

پاسخ: ۱ ۲ ۳ ۴

با توجه به ویژگی‌های لگاریتم، سمت راست تساوی را ساده می‌کنیم:

$$\log(x-1) = 3 \log 2 - \log(x-3) = \log 2^3 - \log(x-3) = \log \frac{8}{x-3}$$

حال با حذف \log از دو طرف تساوی داریم:

$$x-1 = \frac{8}{x-3} \Rightarrow x^2 - 4x + 3 = 8 \Rightarrow (x-2)^2 = 9$$

از دو طرف تساوی \log در پایه ۳ می‌گیریم:

$$\log_3(x-2)^2 = \log_3 9 \Rightarrow 2 \log_3(x-2) = 2 \Rightarrow \log_3(x-2) = 1$$

تست ۱۲. ریشه‌ی مثبت معادله‌ی $x+2 = \log_3(4^x+3)$ کدام است؟

- (۱) ۱ (۲) $\log_3 2$ (۳) ۳ (۴) $2 \log_3 2$

پاسخ: ۱ ۲ ۳ ۴

با توجه به تعریف لگاریتم داریم:

$$\log_3(4^x+3) = x+2 \Rightarrow 4^x+3 = 3^{x+2} \Rightarrow (2^x)^2 + 3 = 4 \times 2^x \xrightarrow{t=2^x}$$

$$t^2 + 3 = 4t \Rightarrow t^2 - 4t + 3 = 0 \Rightarrow \begin{cases} t=1 \Rightarrow 2^x=1 \Rightarrow x=0 \\ t=3 \Rightarrow 2^x=3 \Rightarrow x=\log_2 3 \end{cases}$$

تذکر

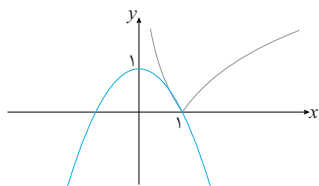
برای حل بعضی از معادلات لگاریتمی می‌توانیم از روش هندسی (رسم نمودار) استفاده کنیم.

مثال ۸. معادله‌ی $x^2 + |\log_3 x| = 1$ چند جواب دارد؟

پاسخ: ابتدا معادله را به صورت $|\log_3 x| = 1 - x^2$ می‌نویسیم، سپس دو طرف تساوی را رسم می‌کنیم.

با توجه به شکل، دو تابع یکدیگر را در دو نقطه قطع می‌کنند پس معادله دو جواب دارد. (جواب‌ها برابر

$x=1$ و $x=\frac{1}{\sqrt{2}}$ است که البته از روی نمودار، جواب $x=\frac{1}{\sqrt{2}}$ ، قابل محاسبه نیست).



مثال‌های کاربردی

در برخی مدل‌سازی‌ها، مانند محاسبه‌ی شدت زلزله، محاسبه‌ی نیمه عمر عناصر رادیواکتیو و پیش‌بینی تعداد جمعیت یک جامعه به یک معادله‌ی لگاریتمی می‌رسیم. در این قسمت نمونه‌هایی از این مسائل را حل می‌کنیم.

مسئله زلزله

برای اندازه‌گیری بزرگی زمین لرزه از مقیاس ریشتر استفاده می‌کنند که میزان انرژی آزاد شده در زلزله را نشان می‌دهد.

اگر بزرگی زمین لرزه برابر M در مقیاس ریشتر و انرژی آزاد شده برابر E در مقیاس ارگ (Erg) باشد، آن‌گاه رابطه‌ی زیر برقرار است:

$$\log E = 11/8 + 1/5 M$$



تست ۱۳. اگر E_1 انرژی آزاد شده در یک زلزله ۸ ریشتری و E_2 انرژی آزاد شده در یک زلزله ۶ ریشتری باشد آن گاه $\frac{E_1}{E_2}$

کدام است؟

- (۱) 10^2 (۲) 10^3 (۳) 10^4 (۴) 10^5

پاسخ: ۱ ۲ ۳ ۴

با توجه به رابطه‌ی بالا داریم:

$$\begin{cases} \log E_1 = 11/8 + 1/5 M_1 = 11/8 + 1/5 \times 8 = 23/8 \\ \log E_2 = 11/8 + 1/5 M_2 = 11/8 + 1/5 \times 6 = 20/8 \end{cases}$$

$$\Rightarrow \log E_1 - \log E_2 = 3 \Rightarrow \log \frac{E_1}{E_2} = 3 \Rightarrow \frac{E_1}{E_2} = 10^3 = 1000$$

تذکر

هر یک ارگ تقریباً 10^{-7} ژول است.

مسئله‌ی نیمه‌ی عمر

مدت زمانی که طول می‌کشد تا جرم یک ماده هسته‌ای نصف شود را نیمه‌ی عمر آن ماده می‌نامند. به طور مثال اگر نیمه‌ی عمر ماده‌ای ۵ سال و جرم اولیه‌ی آن ۱۰۰ میلی‌گرم باشد آن گاه بعد از ۵ سال جرم آن ۵۰ میلی‌گرم خواهد بود. اگر جرم اولیه‌ی ماده‌ای m_0 و نیمه‌ی عمر آن T باشد، آن گاه جرم آن پس از مدت زمان t ، برابر است با:

$$m(t) = m_0 \times 2^{-\frac{t}{T}}$$

تست ۱۴. از یک جسم فسیل ۲۸/۷ درصد از کربن معمولی آن باقی‌مانده است. اگر نیمه‌ی عمر کربن ۵/۵ قرن باشد، قدمت این

جسم فسیلی چند قرن است؟ ($\log 2 = 0/301$, $\log 2/87 = 0/4582$)

- (۱) ۹/۹ (۲) ۱۰/۸ (۳) ۱۱ (۴) ۱۲

پاسخ: گزینه‌ی ۱

$$m(t) = \frac{28/7}{100} m_0 \text{ اگر کربن اولیه باشد آن گاه}$$

$$m(t) = m_0 \times 2^{-\frac{t}{5/5}} \Rightarrow \frac{28/7}{100} m_0 = m_0 \times 2^{-\frac{t}{5/5}}$$

$$\Rightarrow 0/287 = 2^{-\frac{t}{5/5}} \xrightarrow{\log \text{ می‌گیریم}} \log 0/287 = \log 2^{-\frac{t}{5/5}}$$

$$\Rightarrow \log \frac{2/87}{100} = -\frac{t}{5/5} \log 2 \Rightarrow \log 2/87 - 1 = -\frac{t}{5/5} \log 2$$

$$0/4582 - 1 = -\frac{t}{5/5} \times 0/301 \Rightarrow t = \frac{5/5 \times 0/5418}{0/301} = 9/9$$





مسائل حل شده‌ی فصل (۳)

۸. فاصله‌ی نقاط برخورد نمودار دو تابع $y = 2^{x+2} - 13$ و $y = 4 - (\frac{1}{2})^{x-2}$ از هم چقدر است؟
۹. برد توابع زیر را به دست آورید.

الف) $y = 3^{4x-2} - 2$

ب) $y = 1 - \sqrt{3^{(2-x)}}$

ج) $y = 4^x - 2^{x+1}$

۱۰. نامعادلات زیر را حل کنید.

الف) $4^{x^2} \leq 256$

ب) $4^{5-x} > (\frac{1}{25})^0$

ج) $4^x + 2^{x+1} - 8 > 0$

د) $\frac{3\sqrt{x} - 3}{1 - 3\sqrt{x}} \leq 0$

ه) $2^{x-[x]} \leq 1$

۱۱. دامنه‌ی توابع زیر را به دست آورید.

الف) $y = \sqrt{0.0625^x - 4}$

ب) $y = \sqrt{2^x - 3^x}$

ج) $y = \sqrt{x - \frac{x}{2^x}}$

۱۲. فاصله‌ی نقطه‌ی برخورد نمودار وارون تابع $f(x) = 3 \times 2^{1-2x} - 2$ با محور طول‌ها از نیمساز ناحیه‌ی اول و سوم چقدر است؟

۱۳. تابع وارون توابع زیر را به دست آورید.

الف) $y = 3^{1-x} + 2$

ب) $y = 3 \times (\frac{1}{2})^{2x-1} + 4$

ج) $y = \sqrt{2^{2x} - 3}$

د) $y = \log_{\frac{4}{3}} \frac{4-2x}{3}$

ه) $y = 2 \log_{\frac{3}{2}} x^2 - 1$

و) $y = (\log_{\frac{3}{2}} x - 1)^2$

۱۴. اگر توابع $y = 1 + c \log_d \frac{x-2}{d}$ و $y = 3^{-x+a} + b$ وارون هم باشند، مقادیر a, b, c, d را به دست آورید.

۱. شخصی ده میلیون تومان پول دارد. این شخص هر ماه، ۱۰ درصد از پول خود را خرج می‌کند، تابعی بنویسید که مقدار پول باقی‌مانده برای او را پس از x ماه بر حسب میلیون تومان بیان کنید.

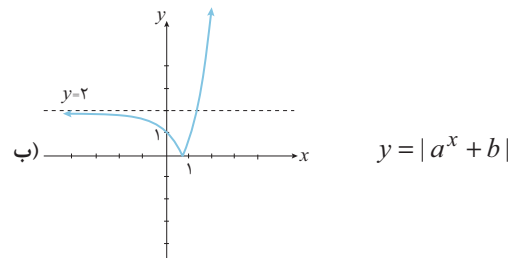
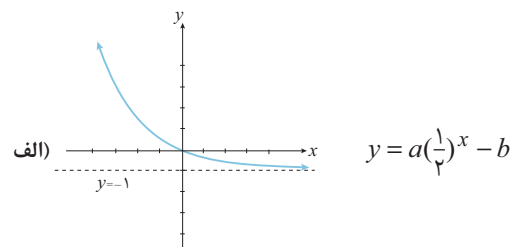
۲. تابع $y = 2^x$ را رسم کنید و به کمک نمودار آن روی محور (ها) به طور تقریبی، نقاطی به عرض‌های $\sqrt[3]{8}$ و $2\sqrt{2}$ را علامت بزنید.

۳. نمودار توابع $f(x) = 2^x$ ، $g(x) = \sqrt{2^x}$ و $h(x) = 4^x$ را به صورت تقریبی در یک دستگاه مختصات رسم کنید.

۴. نمودار توابع زیر را رسم کنید.

الف) $y = (\frac{1}{2})^{x-1}$ ب) $y = |2^x - 1|$ ج) $y = 2^{|x|} + 1$

۵. در هر مورد، پارامترهای مجهول را به دست آورید.



۶. حدود a را طوری تعیین کنید که تابع $y = (\frac{a-3}{a+1})^x$ یک تابع نمایی با دامنه‌ی \mathbb{R} باشد.

۷. معادله‌های زیر را حل کنید.

الف) $3^{x+4} - 3^{x+2} = 8$

ب) $9^x + 3^x = 9^0$

ج) $2^{x+1} + 2^{4-x} = 12$

د) $(\frac{2}{3})^x + (\frac{3}{2})^x = \frac{13}{6}$

و) $(\sqrt{2} + \sqrt{3})^x + (\sqrt{2} - \sqrt{3})^x = 2$

ه) $5^x + 12^x = 13^x$



۱۵. دامنه‌ی توابع زیر را به دست آورید.

الف) $y = 3 \log_{\frac{1}{3}} 4^{x-1}$

ب) $y = \log_{\frac{3}{1}} 3^{-x^2} + 4x - 5$

ج) $y = 3 \log_{\frac{x-1}{x+1}}$

د) $y = \sqrt{1 - \log_{\frac{1}{2}} (x^2 - 14)}$

۱۶. توابع زیر را رسم کنید.

ب) $y = \log_{\frac{1}{2}} x + 1$

د) $y = |\log_{\frac{1}{2}} x|$

الف) $y = \log_{\frac{1}{2}} x + 2$

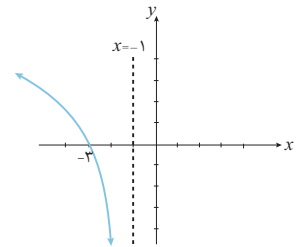
ج) $x - 1 = (\frac{1}{2})^y$

ه) $y = \log_{\frac{1}{2}} |x|$

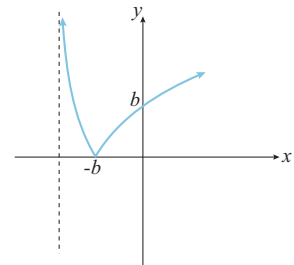
۱۷. توابع $f(x) = \log_{\frac{1}{2}} x$ و $g(x) = \log_{\frac{1}{3}} x$ را با هم در یک دستگاه

مختصات رسم کنید. (رسم دقیق لازم نیست)

۱۸. در هر مورد مقادیر a و b را بیابید.



الف) $y = \log_b (a-x) + a$



ب) $y = \left| \log \frac{(x+a^2+1)}{(a^2+1)} \right|$

۱۹. حاصل عبارتهای زیر را به دست آورید.

ب) $\log_{\frac{1}{2}} \frac{1}{16}$

د) $\log_{\frac{1}{3+2\sqrt{2}}} (\sqrt{2}+1)^{\frac{1}{5}}$

الف) $\log_{\frac{2\sqrt{2}}{4}} \frac{2\sqrt{2}}{\sqrt{2}}$

ج) $\log_{\frac{\sqrt{2}+\sqrt{3}}{\sqrt{2}-\sqrt{3}}}$

ه) $\log_{\sqrt{27}} (\log_{\sqrt{27}} \sqrt{27})$

۲۰. مشخص کنید هر یک از اعداد زیر بین کدام دو عدد صحیح متوالی قرار می‌گیرند.

الف) $\log_{\frac{1}{3}} 3^{0.0}$ ب) $\log_{\frac{1}{12}} \frac{1}{12}$ ج) $\log_{\frac{1}{3}} (\frac{1}{3})$

۲۱. اگر $\log_b a = 5$ ، حاصل $\log_{a^2} \sqrt{b}$ را به دست آورید.

۲۲. اگر $x = \frac{1+\sqrt{37}}{2}$ ، حاصل عبارات زیر را به دست آورید.

الف) $\log_{\sqrt{3}} \frac{3x^2-3x}{\sqrt{3}}$ ب) $\log_{x^2-9} \frac{1+\sqrt{37}}{2}$

۲۳. ثابت کنید تابع زیر معکوس‌پذیر است و ضابطه‌ی تابع معکوس آن را به دست آورید.

$y = \frac{3^x - 3^{-x}}{3^x + 3^{-x}}$

۲۴. حاصل عبارتهای زیر را به دست آورید.

الف) $\log_{\sqrt{2}} 4^{\frac{1}{2}}$

ب) $3^4 + \log_3^4$

ج) $\log_{\frac{1}{2}} \frac{1}{2} - \log_{\frac{1}{2}} \frac{21}{2} + \log_{\frac{1}{2}} \frac{\sqrt{2}}{2}$

د) $\log_{15}^6 \times \log_{15}^5 \times \dots \times \log_{15}^4 \times \log_{15}^3$

ه) $\sqrt{25 \log_{\frac{1}{2}} \frac{1}{\sqrt{5}-2}}$

و) $\log_{\sqrt{2}} \tan 1^\circ + \log_{\sqrt{2}} \tan 2^\circ + \log_{\sqrt{2}} \tan 3^\circ + \dots + \log_{\sqrt{2}} \tan 89^\circ$

۲۵. اگر $n \in \mathbb{N}$ ، توابع $f(x) = \log_{\frac{1}{2}} x^n$ و $g(x) = n \log_{\frac{1}{2}} x$ به ازای چه مقادیری از n ، باهم مساویند؟

۲۶. اگر $\log_{\frac{1}{2}} x + \log_{\frac{1}{2}} y = 2$ و $\log_{\frac{1}{2}} x^2 + \log_{\frac{1}{2}} y^2 = 46$ ، حاصل $\log_{\frac{1}{2}}^{(x+y)}$ چند است؟

۲۷. اگر $16^5 = 4^{x-y} \times 4^{y+4}$ و $\log y = 2 \log \sqrt{3} + \log x$ مقدار $\log_{\frac{1}{2}}^{(y-x)}$ را به دست آورید.

۲۸. اگر $\log_{\frac{1}{8}} \sqrt[2]{\frac{1}{25}} = A$ ، حاصل $\log_{\frac{1}{2}} \frac{1-A}{A}$ را بیابید.

۲۹. اگر $\log_{\frac{1}{5}} x = \frac{2}{5}$ و $y \log_{\frac{1}{2}} x = 310$ مقدار z را بیابید.

۳۰. اگر $\log_{15}^6 = a$ ، حاصل عبارت $\log 25^{a+1} - 6 \log 2$ را به دست آورید.

۳۱. اگر $\log xy^2 = 47$ ، $\log x^3 z = 19$ ، $\log y^2 z^3 = 34$ حاصل $\log xyz$ را به دست آورید.





۴۲. اگر a و b ریشه‌های معادله‌ی $x^2 - 32x + 10 = 0$ باشند، حاصل $\log a + \log b - \log_{(a+b)}$ را بیابید.

۴۳. اگر $x > \sqrt{2}$ ، حاصل عبارت زیر را تا حد امکان ساده کنید.

$$A = \log_{x^2-1} x^{x^2+2x+1} + \log_{\sqrt{x^2-1}} x^{x^2-x^2-x+1}$$

۴۴. نامعادلات زیر را حل کنید.

الف) $\log_{\frac{1}{2}} \frac{5x-1}{2} < -\frac{1}{2}$ ب) $\log_{\frac{1}{3}} x^2 - 3 \geq \log_{\frac{1}{3}} 2x$

۴۵. نمودار تابع $y = \log_{\frac{1}{2}}(x-2) + 2$ در بازه‌ی (a, b) از نمودار تابع

$$y = \log_{\frac{1}{2}} x$$

۴۶. برد توابع زیر را به دست آورید.

الف) $y = 3 \log_{\frac{1}{3}}(f-x) - 2$

ب) $y = \log_{\frac{1}{2}}(x^2+4)$

ج) $y = \log_{\frac{1}{2}}(-x^2-2x+1) + 2$

۴۷. اگر شخصی a تومان در یک بانک سرمایه‌گذاری کند، میزان پول به همراه سودش از فرمول $y = a \left(\frac{100}{1000}\right)^x$ محاسبه می‌شود که در آن x روزهای گذشته از افتتاح حساب و y میزان پول وی پس از x روز است. این شخص چند روز صبر کند تا پولش دو برابر شود؟

$$\left(\log_{\frac{100}{1000}} \frac{200}{100} \simeq 0.00072\right)$$

۴۸. اگر M میزان بزرگی زلزله در مقیاس ریشتر باشد، انرژی آزاد شده در مقیاس ارگ (E) از رابطه‌ی $\log E = 11/8 + 1/5 M$ به دست می‌آید.

الف) میزان انرژی یک زلزله‌ی چند ریشتری برابر 10^{22} ارگ است؟

ب) انرژی یک زلزله‌ی ۷ ریشتری حدوداً چند برابر انرژی یک زلزله‌ی ۶ ریشتری است؟

۴۹. نیمه‌ی عمر یک عنصر رادیواکتیو ۶ ماه است. اگر جرم اولیه این عنصر ۲۴ گرم باشد، پس از حدود چند ماه جرم این عنصر به ۲ گرم می‌رسد؟

$$\log_{\frac{1}{2}} \simeq 0.63$$

۵۰. جمعیت کشوری در سال ۲۰۰۱، ۱۳۰۰ میلیون نفر بوده است. اگر درصد رشد جمعیت این کشور یک درصد در سال بوده باشد، تابعی بنویسید که جمعیت این کشور (y) را بر حسب سال‌های گذشته از ۱۳۰۰ (x) بیان کند. در چه سالی جمعیت این کشور به ۳۰ میلیون نفر رسیده است؟

$$\log_{\frac{1}{10}} \frac{25}{1} \simeq 81/48$$

۵۱. در مبحث شدت صدا، دسی‌بل صدا (D) از رابطه‌ی $D = 10 \log \frac{l}{l_0}$

به دست می‌آید که در آن l شدت صداست و $l_0 = 10^{-12}$ است. دسی‌بل

صدا یا شدت $3/6 \times 10^{-9}$ چقدر است؟ ($\log 6 = 0.78$)

۳۲. اگر $\log_{\frac{1}{2}}^{a+b} - \frac{1}{2} \log_{\frac{1}{2}}^{a-b} = \log_{\frac{1}{2}}^{b+2a} - \log_{\frac{1}{2}}^3 = 1$ را بیابید.

۳۳. اگر $7^a = 245$ و $5^b = 175$ ، حاصل عبارت $\frac{1}{a-1} + \frac{1}{b-1}$ را به دست آورید.

۳۴. اگر $\log_2 a = b$ و $\log_3 b = a$ ، حاصل عبارات زیر را بر حسب a و b بنویسید.

الف) $\log_{12} 12$ ب) $\log_{15} 15$ ج) $\log_{\sqrt{8}} \frac{2\sqrt{8}}{\sqrt{8}}$ د) $\log_{\sqrt{75}} \frac{24}{\sqrt{75}}$

۳۵. اگر $\log_4 a = b$ و $\log_{18} b = a$ ، حاصل $\log_{15} a$ بر حسب a و b بنویسید.

۳۶. اگر $a^2 + b^2 = 14ab$ و $a, b > 0$ ، ثابت کنید:

$$\log \frac{a+b}{4} = \frac{\log a + \log b}{2}$$

۳۷. اگر $\log 5 = 0.699$ ، تعداد ارقام اعداد 5^{96} و 2^{500} را بیابید.

۳۸. معادلات زیر را حل کنید.

الف) $\log_{\frac{1}{3}} x^{-1} = 4$

ب) $\log_x x^f - 2 = 2$

ج) $\log_{\frac{1}{2}} \log_{\frac{1}{2}}(x-1) = 4$

د) $\log_5^{2x-1} + \log_5^{3x-5} = 1$

ه) $\log(2x-4) - \frac{1}{2} \log(x+1) = \log 2$

و) $3 \log(2x) + (2x) \log 3 = 162$

ز) $(\log_{\frac{1}{4}} x)^2 - \log_{\frac{1}{4}} x^5 + 4 = 0$

ح) $10 \log x^2 = x^4$

ط) $x^{\log x - 2} = 1000$

۳۹. اگر $\log(x+1) = \log(2x+10)$ حاصل $\log \frac{x\sqrt{x}}{1}$ را به دست آورید.

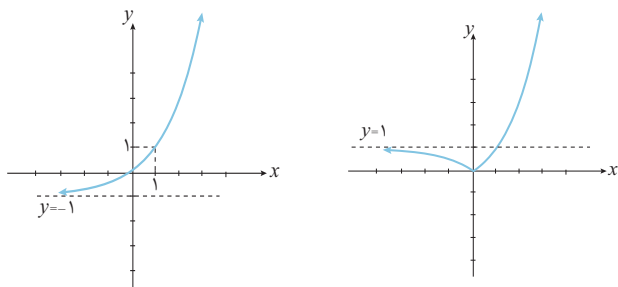
۴۰. اگر عددی ۷ برابر شده و ۲ واحد به آن اضافه کنیم، لگاریتم آن در مبنای ۲، ۳ واحد اضافه می‌شود آن عدد را بیابید.

۴۱. حدود m را طوری تعیین کنید که معادله‌ی $\log(m-2) - \log x = \log(2m-x)$ ، دو ریشه‌ی حقیقی داشته باشد.

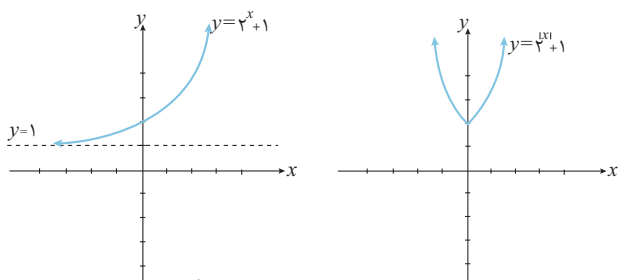
پاسخ مسائل حل شده فصل (۳)



ب) نمودار $y = 2^x$ را یک واحد به سمت پایین جابه‌جا می‌کنیم. پس در نمودار حاصل، قسمت‌های زیر محور x ها را نسبت به آن محور قرینه می‌کنیم.



ج) ابتدا نمودار $y = 2^x + 1$ را رسم می‌کنیم. سپس قسمت‌های سمت چپ محور y ها را حذف نموده و قرینه‌ی قسمت‌های سمت راست محور y را (با حذف خود آن قسمت) نسبت به آن محور رسم می‌کنیم.



البته می‌توان تابع دو ضابطه‌ای $y = \begin{cases} 2^x + 1 & x \geq 0 \\ 2^{-x} + 1 & x < 0 \end{cases}$ را نیز رسم کرد.

د) الف) با بزرگ‌تر شدن x ، نمودار به سمت خط $y = -1$ نزدیک می‌شود پس $b = 1$ یعنی $y = a(\frac{1}{4})^x - 1$ حال نقطه‌ی $(0, 0)$ را در ضابطه‌ی تابع جاگذاری می‌کنیم.

$$0 = a(\frac{1}{4})^0 - 1 \Rightarrow a - 1 = 0 \Rightarrow a = 1$$

ب) با کوچک‌تر شدن x ، نمودار به سمت خط $y = 2$ نزدیک می‌شود. حال با توجه این‌که b عددی است منفی، $b = -2$ ، پس $y = |a^x - 2|$ حال نقطه‌ی $(0, 1)$ را جاگذاری می‌کنیم.

$$|a - 2| = 1 \Rightarrow \begin{cases} a - 2 = 1 \Rightarrow a = 3 \\ a - 2 = -1 \Rightarrow a = 1 \end{cases}$$

$a = 1$ قابل قبول نیست چون پایه‌ی تابع نمایی باید مخالف عدد ۱ باشد.

۶. پایه‌ی تابع نمایی باید عددی مثبت و مخالف ۱ باشد.

$$\frac{a-3}{a+1} \neq 1 \Rightarrow a-3 \neq a+1$$

$$\frac{a-3}{a+1} > 0 \xrightarrow{\text{تعیین علامت}} a < -1 \text{ یا } a > 3$$

۱. پول این شخص در آخر هر ماه، دنباله‌ی زیر را تشکیل می‌دهد.

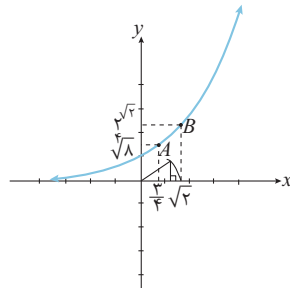
$$10 \times 0.9, 10 \times 0.9^2, 10 \times 0.9^3, \dots$$

میزان پول وی پس از x ماه: $y = 10 \times 0.9^x$

۲. نمودار $y = 2^x$ را به کمک جدول زیر رسم می‌کنیم.

x	-1	0	1	2
y	$\frac{1}{2}$	1	2	4

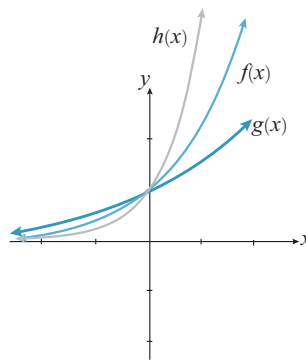
فرض می‌کنیم نقاط A و B به ترتیب با عرض‌های $\sqrt[4]{8}$ و $2\sqrt{2}$ بر روی نمودار هستند.



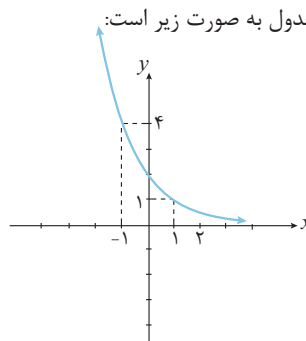
$$y_A = \sqrt[4]{8} = 2^{\frac{3}{4}} \Rightarrow x_A = \frac{3}{4}$$

$$y_B = 2\sqrt{2} \Rightarrow x_B = \sqrt{2}$$

۳.



۴. الف) می‌توانیم نمودار تابع $y = (\frac{1}{4})^x$ را یک واحد به سمت راست منتقل کنیم. روش دیگر، استفاده از جدول به صورت زیر است:



x	-1	0	1	2
y	4	2	1	$\frac{1}{2}$





$$x < 2 \Rightarrow \left(\frac{5}{13}\right)^x > \left(\frac{5}{13}\right)^2$$

$$+ \left(\frac{12}{13}\right)^x > \left(\frac{12}{13}\right)^2$$

$$\frac{\left(\frac{5}{13}\right)^x + \left(\frac{12}{13}\right)^x > 1}{}$$

یعنی به ازای x های کوچکتر از ۲ نیز تساوی برقرار نیست. پس $x = 2$ تنها ریشه‌ی معادله است.

۸. برای پیدا کردن نقطه‌ی برخورد باید معادله‌ی $2^{x+2} - 13 = 4 - \left(\frac{1}{2}\right)^{x-2}$

را حل کنیم.

$$2^{x+2} + \left(\frac{1}{2}\right)^{x-2} - 17 = 0 \Rightarrow 2^{x+2} + 2^{2-x} - 17 = 0$$

$$\xrightarrow{2^x = A} 4A + \frac{4}{A} - 17 = 0$$

$$\xrightarrow{\times A} 4A^2 - 17A + 4 = 0$$

$$\Delta = 17^2 - 4 \times 4 \times 4 = 225$$

$$A = \frac{17 \pm 15}{8} \Rightarrow \begin{cases} A = 4 \\ A = \frac{1}{4} \end{cases}$$

$$A = 4 \Rightarrow 2^x = 4 \Rightarrow x = 2$$

$$A = \frac{1}{4} \Rightarrow 2^x = \frac{1}{4} \Rightarrow x = -2$$

اعداد به دست آمده را در یکی از معادله‌ها جاگذاری می‌کنیم تا عرض‌های نقاط نیز به دست آیند.

$$y = 2^{2+2} - 13 = 3 \quad y = 2^{-2+2} - 13 = -13$$

مختصات نقاط برخورد عبارت است از:

$$(2, 3) \text{ و } (-2, -13)$$

$$\text{فاصله‌ی دو نقطه} = \sqrt{(2+2)^2 + (-13-3)^2} = \sqrt{241}$$

$$3^4 x^{-2} > 0 \Rightarrow 3^4 x^{-2} - 2 > -2 \quad \text{(الف ۹)}$$

$$\Rightarrow R = (-2, +\infty)$$

$$\sqrt{3^{2-x}} > 0 \Rightarrow -\sqrt{3^{2-x}} < 0 \quad \text{(ب)}$$

$$\Rightarrow 1 - \sqrt{3^{2-x}} < 1 \Rightarrow R = (-\infty, 1)$$

(ج) ضابطه‌ی تابع را بازنویسی می‌کنیم:

$$y = (2^x)^2 - 2(2^x) + 1 - 1 = (2^x - 1)^2 - 1$$

$$\Rightarrow (2^x - 1)^2 \geq 0 \Rightarrow (2^x - 1)^2 - 1 \geq -1$$

$$\Rightarrow R = [-1, +\infty)$$

$$4^{x^2} \leq 4^4 \xrightarrow{4 > 1} x^2 \leq 4 \quad \text{(الف ۱۰)}$$

$$\Rightarrow x \in [-2, 2]$$

$$0 / 125 = \frac{125}{1000} = \frac{1}{8} = 2^{-3}$$

$$(2^{-3})^{5-x} > 4 \Rightarrow 2^{-15+3x} > 2^2 \xrightarrow{2 > 1}$$

$$-15 + 3x > 2 \Rightarrow 3x > 17 \Rightarrow x > \frac{17}{3}$$

$$81 \times 3^x - 9 \times 3^x = 8 \Rightarrow 72 \times 3^x = 8 \quad \text{(الف ۷)}$$

$$\Rightarrow 3^x = \frac{1}{9} \Rightarrow x = -2$$

$$3^x = a$$

(ب) تعریف می‌کنیم:

$$a^2 + a - 9 = 0 \Rightarrow (a-9)(a+1) = 0$$

$$a = -1 \Rightarrow 3^x = -1 \quad \text{غ ق ق}$$

$$a = 9 \Rightarrow 3^x = 9 \Rightarrow x = 2$$

(ج) تعریف می‌کنیم: $2^x = A$ ، در نتیجه:

$$2A + \frac{16}{A} = 12 \xrightarrow{\times \frac{A}{2}} A^2 + 8 = 6A$$

$$\Rightarrow A^2 - 6A + 8 = 0 \Rightarrow \begin{cases} A = 2 \\ A = 4 \end{cases}$$

$$2^x = 2 \Rightarrow x = 1$$

$$2^x = 4 \Rightarrow x = 2$$

(د) تعریف می‌کنیم: $\left(\frac{2}{3}\right)^x = A$ ، در نتیجه:

$$A + \frac{1}{A} = \frac{13}{6} \xrightarrow{\times 6A} 6A^2 - 13A + 6 = 0$$

$$\Delta = 169 - 4 \times 6 \times 6 = 25$$

$$A = \frac{13 \pm 5}{12} \Rightarrow \begin{cases} A = \frac{2}{3} \\ A = \frac{3}{2} \end{cases}$$

$$A = \frac{2}{3} \Rightarrow \left(\frac{2}{3}\right)^x = \frac{2}{3} \Rightarrow x = 1$$

$$A = \frac{3}{2} \Rightarrow \left(\frac{2}{3}\right)^x = \frac{3}{2} \Rightarrow x = -1$$

(ه) اعداد $2 + \sqrt{3}$ و $2 - \sqrt{3}$ معکوس هم هستند.

$$(2 + \sqrt{3})^x = A$$

$$A + \frac{1}{A} = 2 \xrightarrow{\times A} A^2 - 2A + 1 = 0$$

$$\Rightarrow (A-1)^2 = 0 \Rightarrow A = 1 \Rightarrow (2 + \sqrt{3})^x = 1 \Rightarrow x = 0$$

$$5^x + 12^x = 13^x \Rightarrow \left(\frac{5}{13}\right)^x + \left(\frac{12}{13}\right)^x = 1 \quad \text{(و)}$$

اعداد ۵، ۱۲ و ۱۳ اعداد فیثاغورسی هستند. یعنی $x = 2$ یکی از ریشه‌های معادله است. حال در اعداد کوچکتر یا بزرگتر از ۲، به دنبال جواب می‌گردیم.

$$x > 2 \Rightarrow \left(\frac{5}{13}\right)^x < \left(\frac{5}{13}\right)^2$$

$$+ \left(\frac{12}{13}\right)^x < \left(\frac{12}{13}\right)^2$$

$$\frac{\left(\frac{5}{13}\right)^x + \left(\frac{12}{13}\right)^x < 1}{}$$

یعنی به ازای x های بزرگتر از ۲، تساوی برقرار نیست.

$$3^{1-x} = y - 2 \Rightarrow 1 - x = \log_3^{y-2}$$

$$\Rightarrow x = 1 - \log_3^{y-2} \xrightarrow{\text{جای } y, x \text{ را عوض می‌کنیم}}$$

تابع وارون: $y = 1 - \log_3^{x-2}$

$$\left(\frac{1}{3}\right)^{2x-1} = \frac{y-4}{3} \Rightarrow 2x-1 = \log_{\left(\frac{1}{3}\right)}^{\frac{y-4}{3}}$$

$$\Rightarrow x = \frac{\log_{\left(\frac{1}{3}\right)}^{\frac{y-4}{3}} + 1}{2} \xrightarrow{\text{جای } y, x \text{ را عوض می‌کنیم}}$$

$$y = \frac{\log_{\left(\frac{1}{3}\right)}^{\frac{x-4}{2}} + 1}{2}$$

ضابطه‌ی وارون

ج) برخلاف موارد «الف» و «ب»، برد این تابع کل اعداد حقیقی نیست. ابتدا برد آن را تعیین می‌کنیم: $\sqrt{2^{2x}} - 3 \geq 0 \Rightarrow \sqrt{2^{2x}} \geq 3 \Rightarrow 2^{2x} \geq 9$
یعنی دامنه‌ی تابع وارون، بازه‌ی $(0, +\infty)$ است.

$$y^2 = 2^{2x} - 3 \Rightarrow 2^{2x} = y^2 + 3 \Rightarrow 2x = \log_2^{y^2+3}$$

$$\Rightarrow x = \frac{1}{2} \log_2^{y^2+3} \xrightarrow{\text{جای } y, x \text{ را عوض می‌کنیم}}$$

تابع وارون: $y = \frac{1}{2} \log_2^{x^2+3}, x \geq 0$

$$4 - 2x = 3^y \Rightarrow 2x = 4 - 3^y \Rightarrow$$

$$x = 2 - \frac{1}{2} \times 3^y \xrightarrow{\text{جای } y, x \text{ را عوض می‌کنیم}}$$

ضابطه‌ی وارون: $y = 2 - \frac{1}{2} \times 3^x$

$$2 \log_3^{x^2} = y + 1 \Rightarrow \log_3^{x^2} = \frac{y+1}{2}$$

$$\Rightarrow x^2 = 3^{\frac{y+1}{2}} \Rightarrow x = \sqrt[2]{3^{\frac{y+1}{2}}} \xrightarrow{\text{جای } y, x \text{ را عوض می‌کنیم}}$$

ضابطه‌ی وارون: $y = \sqrt[2]{\frac{x+1}{3}}$

$$\log_3^x = \sqrt[3]{y+1} \Rightarrow x = 2\sqrt[3]{y+1} \xrightarrow{\text{جای } y, x \text{ را عوض می‌کنیم}}$$

ضابطه‌ی وارون: $y = 2\sqrt[3]{x+1}$

۱۴. وارون یکی از توابع مثلاً تابع نمایی را به‌دستی می‌آوریم:

$$y = 3^{-x+a} + b \Rightarrow 3^{-x+a} = y - b \Rightarrow$$

$$-x + a = \log_3^{y-b} \Rightarrow x = a - \log_3^{y-b}$$

ضابطه‌ی وارون: $y = a - \log_3^{x-b}$

با مقایسه‌ی این تابع با تابع $y = 1 + c \log_d^{x-d}$ می‌فهمیم که:

$$a = 1, b = 2, c = -1, d = 3$$

۱۳. الف) $(2^x)^2 + 2(2^x) - 8 > 0 \xrightarrow{A=2^x}$ ج)

$$A^2 + 2A - 8 > 0 \xrightarrow{\text{تعیین علامت}} A < -4 \text{ یا } A > 2$$

غیرممکن $A < -4 \Rightarrow 2^x < -4$

$$A > 2 \Rightarrow 2^x > 2^1 \Rightarrow x > 1$$

ب) $3\sqrt{x} = A \Rightarrow \frac{A-3}{1-A} < 0 \xrightarrow{\text{تعیین علامت}}$ د)

$$1 < A \leq 3 \Rightarrow 3^0 < 3\sqrt{x} \leq 3^1 \Rightarrow 0 < \sqrt{x} \leq 1$$

$$\Rightarrow x \in (0, 1]$$

ه) $2^{x-[x]} \leq 2^0 \Rightarrow x - [x] \leq 0$

از طرفی می‌دانیم $0 \leq x - [x]$ بنابراین این نامساوی و نامساوی فوق لازم است که $x - [x] = 0$ و این به ازای $x \in \mathbb{Z}$ برقرار است.

$$0.0625 = \frac{625}{10000} = \frac{1}{16} \quad \text{الف) ۱۱}$$

$$0.0625^x \geq 4 \Rightarrow \left(\frac{1}{16}\right)^x \geq 4 \Rightarrow \left(\frac{1}{4}\right)^{2x} \geq \left(\frac{1}{4}\right)^{-1}$$

$$\xrightarrow{\frac{1}{4} < 1} 2x \leq -1 \Rightarrow x \leq -\frac{1}{2} \Rightarrow D = \left(-\infty, -\frac{1}{2}\right]$$

ب) با توجه به مقایسه‌ی نمودارهای توابع $y = 2^x$ و $y = 3^x$ مشخص است که به ازای x های منفی، مقدار 2^x از 3^x بزرگ‌تر است.

$$2^x - 3^x \geq 0 \Rightarrow x \leq 0 \Rightarrow D = (-\infty, 0]$$

ج) $x - \frac{x}{2^x} \geq 0 \Rightarrow x\left(1 - \frac{1}{2^x}\right) \geq 0 \Rightarrow$ د)

$$\frac{x(2^x - 1)}{2^x} \geq 0$$

$x = 0$ ریشه‌ی عبارت $2^x - 1$ است.

x	$-\infty$	0	$+\infty$
x	-	o	+
$2^x - 1$	-	o	+
2^x	+	+	+
$\frac{x(2^x - 1)}{2^x}$	+	o	+

$$\Rightarrow D = \mathbb{R}$$

۱۲. نقطه‌ی برخورد نمودار وارون تابع f با محور طول‌ها معادله‌ی نقطه‌ی برخورد نمودار تابع f با محور عرض‌هاست یعنی جایی که $x = 0$

$$x = 0 \Rightarrow f(0) = 3 \times 2^1 - 2 = 4$$

نقطه‌ی مورد نظر $(0, 4)$ است.

فاصله‌ی $(0, 4)$ از خط $y = x$

$$\frac{|4 - 0|}{\sqrt{1^2 + 1^2}} = \frac{4}{\sqrt{2}} = 2\sqrt{2}$$



(ج)

(ب)

۱۵. الف)
 ب)
 ج)
 د)

$$4x - 1 > 0 \Rightarrow D = \left(\frac{1}{4}, +\infty\right)$$

$$3 - x^2 > 0 \Rightarrow x^2 < 3 \Rightarrow D = (-\sqrt{3}, \sqrt{3})$$

$$\frac{x-1}{x+1} > 0 \xrightarrow{\text{تعیین علامت}}$$

$$D = (-\infty, -1) \cup (1, +\infty)$$

$$1 - \log_{\frac{1}{2}}(x^2 - 14) \geq 0 \Rightarrow 1 \geq \log_{\frac{1}{2}}(x^2 - 14)$$

$$2^1 \geq x^2 - 14 \Rightarrow x^2 \leq 16 \Rightarrow -4 \leq x \leq 4$$

از طرفی باید $x^2 - 14 > 0$

$$x^2 - 14 > 0 \Rightarrow x^2 > 14 \Rightarrow \boxed{x > \sqrt{14}} \text{ (I) یا } \boxed{x < -\sqrt{14}} \text{ (II)}$$

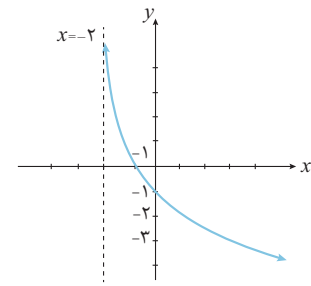
$$(I) \cap (II) \Rightarrow \begin{cases} 4 \geq x > \sqrt{14} \\ -\sqrt{14} > x \geq -4 \end{cases}$$

$$D = [-4, -\sqrt{14}) \cup (\sqrt{14}, 4]$$

$$D = (-2, +\infty)$$

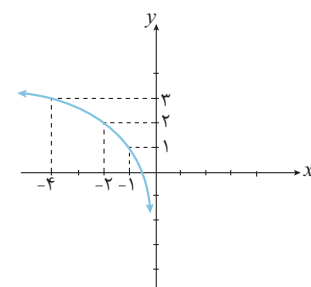
۱۶. الف)

x	$-\frac{3}{2}$	-1	0	2
y	1	0	-1	-2



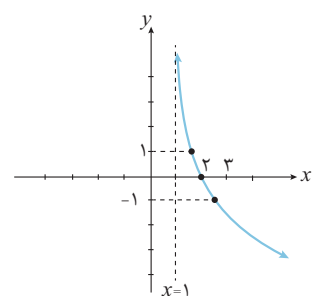
$$D = (-\infty, 0)$$

x	$-\frac{1}{2}$	-1	-2	-4
y	0	1	2	3

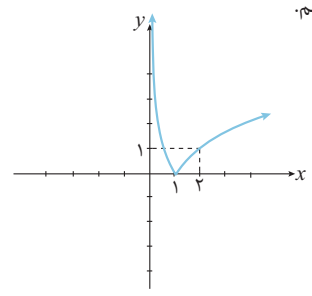


$$x - 1 = \left(\frac{1}{2}\right)^y \Rightarrow y = \log_{\frac{1}{2}}(x-1) \quad (x > 1)$$

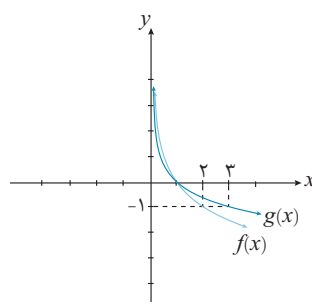
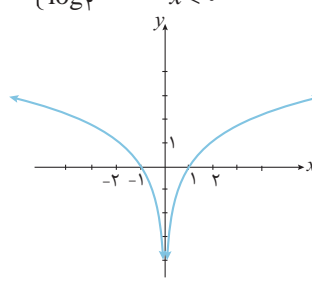
x	$\frac{3}{2}$	2	3
y	1	0	-1



د) کافیت قسمت‌های زیر محور xها در نمودار $y = \log_{\frac{1}{2}} x$ را نسبت به آن محور قرینه کنیم.



ه) کافیت تابع دو ضابطه‌ای $y = \begin{cases} \log_{\frac{1}{2}} x & x > 0 \\ \log_{\frac{1}{2}}^{-1} x & x < 0 \end{cases}$ را رسم کنیم.



۱۷.

۱۸. الف) دامنه‌ی تابع برابر $(-\infty, -1)$ است پس عدد -1 ریشه‌ی $a + 1 = 0 \Rightarrow a = -1$ است.

$$y = \log_b^{(-x-1)} - 1$$

حال مختصات $(-3, 0)$ را جاگذاری می‌کنیم:

$$0 = \log_b^{(-(-3)-1)} - 1 \Rightarrow 1 = \log_b^2 \Rightarrow \boxed{b = 2}$$

د) ابتدا نقطه‌ی $(0, b)$ را در معادله قرار می‌دهیم.

$$y = |\log_{a^2+1}^{a^2+x+1}| \xrightarrow{x=0} b = |\log_{a^2+1}^{a^2+1}|$$





$$\log \sqrt{b} = \log \sqrt{b} = c \Rightarrow b^{1/c} = b^{\frac{1}{2}} \Rightarrow c = \frac{1}{2}$$

$$x = \frac{1 + \sqrt{37}}{2} \Rightarrow 2x = 1 + \sqrt{37} \Rightarrow 2x - 1 = \sqrt{37}$$

$$\xrightarrow{\text{توان } 2} 4x^2 - 4x + 1 = 37 \Rightarrow 4x^2 - 4x = 36$$

$$\Rightarrow x^2 - x = 9 \quad (I)$$

$$\log \frac{3x^2 - 2x}{\sqrt{3}} = \log \frac{3 \times 9}{\sqrt{3}} = \log \frac{27}{\sqrt{3}} = 6$$

$$(I) \Rightarrow x^2 - 9 = x \Rightarrow \log \frac{1 + \sqrt{37}}{x^2 - 9} = \log \frac{x}{x} = 1$$

۲۳. اگر بتوانیم x را بر حسب y بنویسیم، تابع معکوس پذیر است.

$$y = \frac{3^x - 3^{-x}}{3^x + 3^{-x}} = \frac{3^x - \frac{1}{3^x}}{3^x + \frac{1}{3^x}} = \frac{3^{2x} - 1}{3^{2x} + 1}$$

$$\Rightarrow y = \frac{3^{2x} - 1}{3^{2x} + 1} \Rightarrow y \times 3^{2x} + y = 3^{2x} - 1$$

$$\Rightarrow y + 1 = 3^{2x}(1 - y) \Rightarrow 3^{2x} = \frac{y + 1}{1 - y} \Rightarrow 2x = \log_3 \frac{y + 1}{1 - y}$$

$$\Rightarrow x = \frac{1}{2} \log_3 \frac{y + 1}{1 - y} \Rightarrow \text{تابع وارون پذیر است.}$$

$$\xrightarrow{\text{جای } y, x \text{ را عوض می‌کنیم}} y = \frac{1}{2} \log_3 \frac{x + 1}{1 - x}$$

$$\log \frac{4^x}{\sqrt{2}} = \frac{3}{4} \log \frac{4}{\sqrt{2}} = \frac{3}{4} \times \log \frac{2^2}{2^{\frac{1}{2}}} = \frac{3}{4} \times \log 2^{\frac{3}{2}}$$

$$= \frac{3}{4} \times 2 \times \frac{3}{2} = \frac{9}{2}$$

$$3^4 + \log_4^x = 3^4 \times 3 \log_4^x = 3^4 \times 4 \log_4^x$$

$$= 3^4 \times 4^1 = 3^4 \times 4$$

$$\log \frac{2}{\sqrt{3}} = \log \frac{(\sqrt{2})^2}{(\sqrt{3})^2} = \log \frac{1}{3}$$

$$\log \frac{1}{3} - \log \frac{2}{\sqrt{3}} + \log \frac{1}{\sqrt{2}} = \log \frac{1}{3} \times \frac{\sqrt{2}}{2} \times \frac{1}{\sqrt{2}} = \log \frac{1}{3} = -1$$

$$\log \frac{a}{b} \times \log \frac{b}{c} = \frac{\log a}{\log b} = \log \frac{a}{c}$$

$$\log_{1/5}^6 \times \log_{1/4}^5 \times \dots \times \log_{1/2}^4 \times \log_{1/2}^3 =$$

$$\log_{1/4}^6 \times \log_{1/2}^4 \times \dots \times \log_{1/2}^3 =$$

$$\log_{1/2}^6 \times \log_{1/2}^4 \times \dots \times \log_{1/2}^3 = \dots =$$

$$\log_{1/2}^6 \times \log_{1/2}^3 = \log_{1/2}^6 = 4$$

می‌دانیم که \log_M^M برابر ۱ است. بنابراین $[b=1]$

حال نقطه‌ی $(-b, 0)$ را داخل معادله قرار می‌دهیم:

$$22. \quad 0 = |\log_{a^2+1}^{a^2-b+1}| \Rightarrow (a^2+1)^0 = a^2-b+1 \Rightarrow a^2-b+1=1$$

$$\xrightarrow{b=1} a^2=1 \Rightarrow a=\pm 1$$

$$(الف) \quad \log \frac{2\sqrt{2}}{\sqrt{2}} = a \Rightarrow \left(\frac{\sqrt{2}}{2}\right)^a = 2\sqrt{2} \Rightarrow$$

۱۹. الف)

$$(ب) \quad \left(\frac{1}{2^2-2}\right)^a = 2 \times 2^{\frac{1}{2}} \Rightarrow 2^{-\frac{2a}{2}} = 2^{\frac{3}{2}} \Rightarrow -\frac{2a}{2} = \frac{3}{2}$$

$$\Rightarrow a = -1$$

$$\log \frac{1}{3^2} = a \Rightarrow \left(\frac{1}{3^2}\right)^a = \frac{1}{16} \Rightarrow 3^{-2a} = 3^{-4} \Rightarrow$$

ب)

$$\Rightarrow -2a = -4 \Rightarrow a = \frac{4}{2}$$

$$\frac{1}{2+\sqrt{3}} = \frac{1}{2+\sqrt{3}} \times \frac{2-\sqrt{3}}{2-\sqrt{3}} = 2-\sqrt{3}$$

ج)

$$\log \frac{2+\sqrt{2}}{\sqrt{2}-\sqrt{2}} = a \Rightarrow (\sqrt{2}-\sqrt{2})^a = 2+\sqrt{2} \Rightarrow$$

$$\sqrt{\frac{1}{2+\sqrt{3}}}^a = 2+\sqrt{3} \Rightarrow (2+\sqrt{3})^{\frac{a}{2}} = 2+\sqrt{3}$$

$$\Rightarrow a = -2$$

$$(\sqrt{2}+1)^2 = 2+1+2\sqrt{2} = 3+2\sqrt{2}$$

د)

$$24. \quad \log \frac{(\sqrt{2}+1)^{\frac{1}{5}}}{(\sqrt{2}+1)^2} = a \Rightarrow (\sqrt{2}+1)^{\frac{1}{5}a} = (\sqrt{2}+1)^{-\frac{2}{5}}$$

$$\Rightarrow \frac{1}{5}a = -\frac{2}{5} \Rightarrow a = -\frac{2}{5}$$

$$(ب) \quad \log \frac{\sqrt{27}}{\sqrt{3}} = b \Rightarrow \sqrt{3}^b = \sqrt{27}$$

ه)

$$\Rightarrow 3^{\frac{b}{2}} = 3\sqrt{3} = 3^{\frac{3}{2}} \Rightarrow b = 3$$

$$(ج) \quad \log \frac{3}{\sqrt{27}} = a \Rightarrow \sqrt{27}^a = 3 \Rightarrow 3^{\frac{3a}{2}} = 3^1 \Rightarrow a = \frac{2}{3}$$

$$243 < 700 < 739 \Rightarrow \xrightarrow{\log_3}$$

۲۰. الف)

$$\log_3^{243} < \log_3^{700} < \log_3^{739} \Rightarrow 5 < \log_3^{700} < 6$$

$$(د) \quad 0/0 < 0/0 < 0/1 \Rightarrow \xrightarrow{\log_{0/1}}$$

ب)

$$\log_{0/1}^{0/1} > \log_{0/1}^{0/12} > \log_{0/1}^{0/1} \Rightarrow 2 > \log_{0/1}^{0/12} > 1$$

$$\left(\frac{1}{3}\right)^{-4} = 3^4 = 81$$

ج)

$$\left(\frac{1}{3}\right)^{-5} = 3^5 = 243$$

$$81 < 112 < 243 \Rightarrow \left(\frac{1}{3}\right)^{-4} < 112 < \left(\frac{1}{3}\right)^{-5} \Rightarrow -5 < \log_{\frac{1}{3}}^{112} < -4$$

$$\log_b^a = 5 \Rightarrow a = b^5 \Rightarrow a^2 = b^{10} \quad 21.$$

$$y^{\log z} = z^{\log y} = 3^{10} \xrightarrow{(I)} z^{\frac{10}{2}} = 3^{10}$$

$$\Rightarrow z = (3^{10})^{\frac{2}{10}} = 3^2 = 9$$

$$\log_{\Delta} 16 = a \Rightarrow \Delta^a = 16$$

$$2\Delta^{a+1} = 2\Delta^a \times 2\Delta = (\Delta^a)^2 \times 2\Delta = 16^2 \times 2\Delta$$

$$\log 2\Delta^{a+1} - \log 2\Delta = \log 16^2 \times 2\Delta - \log 16^2 \times 2\Delta =$$

$$\log \frac{16^2 \times 2\Delta}{16^2} = \log 10 = \log 10 = 1$$

$$\log y^2 z^2 + \log x^2 z + \log xy^2 = 34 + 19 + 47 = 100$$

$$\Rightarrow \log x^2 y^2 z^2 = 100 \Rightarrow 2 \log xyz = 100$$

$$\Rightarrow \log xyz = 50$$

$$\log b^{2+a} - \log 9 = \log 9 \Rightarrow \frac{b+2a}{9} = 2$$

$$b+2a=18 \quad (I)$$

$$\log_f^{a+b} - \log_f^{a-b} = 1 \Rightarrow \log_f^{\frac{a+b}{a-b}} = 1 \Rightarrow$$

$$a+b=fa-fb \Rightarrow 2a=\delta b \quad (II)$$

$$(I), (II) \Rightarrow \left. \begin{array}{l} 2a = \delta b \\ b + 2a = 18 \end{array} \right\} \Rightarrow b = 3, a = 5$$

$$a = \log_{\sqrt{5}}^{25} \Rightarrow a-1 = \log_{\sqrt{5}}^{25} - \log_{\sqrt{5}}^5 = \log_{\sqrt{5}}^{25}$$

$$\Rightarrow \frac{1}{a-1} = \log_{\sqrt{5}}^5$$

$$b = \log_{\sqrt{5}}^{25} \Rightarrow b-1 = \log_{\sqrt{5}}^{25} - \log_{\sqrt{5}}^5 = \log_{\sqrt{5}}^{25}$$

$$\Rightarrow \frac{1}{b-1} = \log_{\sqrt{5}}^5$$

$$\frac{1}{a-1} + \frac{1}{b-1} = \log_{\sqrt{5}}^5 + \log_{\sqrt{5}}^5 = \log_{\sqrt{5}}^{25} = 1$$

$$\log 12 = \log 2^2 \times 3 = 2 \log 2 + \log 3$$

$$= 2a + b$$

$$\log 15 = \log 5 + \log 3$$

$$= \log 10 - \log 2 + \log 3 = 1 - a + b$$

$$\log_{\sqrt{\lambda}}^{25} = \frac{\log 25}{\log \sqrt{\lambda}} = \frac{\log 5^2}{\log \sqrt{\lambda}} = \frac{2 \log 5}{\frac{1}{2} \log \lambda} = \frac{4 \log 5}{\log \lambda}$$

$$= \frac{2b}{\frac{1}{2} a} = \frac{4b}{a}$$

$$\log_{\sqrt{5}}^{25} = \frac{\log 25}{\log \sqrt{5}} = \frac{\log 5^2 + \log 5}{\frac{1}{2}(\log 5 + \log 5)} =$$

$$\frac{2 \log 5 + \log 5}{\frac{1}{2}(2 \log 5)} = \frac{3 \log 5}{\log 5} = 3 = \frac{4a + 2b}{b - 2a + 2}$$

$$\sqrt{25 \log_{\sqrt{5}}^{25}} = \sqrt{\frac{25 \log_{\sqrt{5}}^{25}}{25}} = \sqrt{\frac{\log_{\sqrt{5}}^{25}}{1}} = \sqrt{5}$$

$$.30 \quad = \sqrt{\frac{4^2}{25}} = \frac{4}{5} = \frac{16}{25}$$

$$\text{عبارت} = \log_{\sqrt{2}}^{\tan 1^\circ \times \tan 2^\circ \times \dots \times \tan 89^\circ}$$

$$\tan 1^\circ \times \tan 89^\circ = \tan 1^\circ \times \cot 1^\circ = 1$$

$$\tan 2^\circ \times \tan 88^\circ = \tan 2^\circ \times \cot 2^\circ = 1$$

$$\tan 44^\circ \times \tan 46^\circ = \tan 44^\circ \times \cot 44^\circ = 1$$

$$.31 \quad \tan 45^\circ = 1$$

$$\Rightarrow \text{عبارت} = \log_{\sqrt{2}}^1 = 0$$

$$g(x) = n \log_x^x$$

$$.32 \quad x > 0 \Rightarrow D_g = (0, +\infty)$$

$$f(x) = \log_x^{x^n}$$

$$x^n > 0 \Rightarrow x > 0 \Rightarrow D_f = (0, +\infty)$$

$$x^n > 0 \Rightarrow x \neq 0 \Rightarrow D_f = \mathbb{R} - \{0\}$$

یعنی در حالتی که عدد فرد است، D_g و D_f مساویند.

$$.33 \quad \text{اگر } n \text{ فرد باشد } f(x) = \log_x^{x^n} = n \log_x^x = g(x)$$

$$\log_x^x + \log_y^y = 2 \Rightarrow \log_{xy}^{xy} = 2$$

$$\Rightarrow xy = 9 \Rightarrow 2xy = 18 \quad (I)$$

$$x^2 + y^2 = 46 \xrightarrow{(I)} x^2 + y^2 + 2xy = 46 + 18 = 64$$

$$\Rightarrow (x+y)^2 = 64$$

$$\log_f^{x+y} = \frac{1}{y} \log_f^{(x+y)^y} = \frac{1}{y} \log_f^{64} = \frac{1}{y} \times 3 = \frac{3}{y}$$

$$2^{x-y} \times 4^{y+2} = 16^5 \Rightarrow 2^{x-y} \times 2^{2y+4} = 2^{20}$$

$$\Rightarrow x - y + 2y + 4 = 20 \Rightarrow x + y = 12 \quad (I)$$

.34 الف

$$ب) \log y = 2 \log \sqrt{3} + \log x = \log 3x$$

$$\Rightarrow y = 3x \quad (II)$$

$$ج) \xrightarrow{(I), (II)} \begin{cases} x + y = 12 \\ y = 3x \end{cases} \Rightarrow y = 9 \text{ و } x = 3$$

$$\log_{\frac{y-x}{6}}^{y-x} = \log_{\frac{6}{6}}^6 = \frac{1}{6}$$

$$A = \log_{\lambda}^{2\sqrt{5/25}} = \log_{\lambda}^{2 \times (\frac{1}{5})^{\frac{1}{2}}} = \log_{\lambda}^{2 \times \frac{1}{\sqrt{5}}}$$

$$.38 \quad = \log_{\frac{1}{\sqrt{5}}}^{2/\sqrt{5}} \Rightarrow 2^{\frac{1}{\sqrt{5}}} A = 2^{\frac{2}{\sqrt{5}}} \Rightarrow A = \frac{1}{\sqrt{5}}$$

$$\frac{1-A}{A} = \frac{1}{A} - 1 = 5 - 1 = 4 \Rightarrow \log_{\frac{1-A}{A}}^A = \log_{\frac{1}{5}}^{\frac{1}{5}} = \log_{\frac{1}{5}}^{\frac{1}{5}} = \frac{1}{5}$$

$$\log_{\frac{1}{5}}^{\frac{1}{5}} = \frac{1}{5} \Rightarrow \log_{\frac{1}{5}}^{\frac{1}{5}} = \frac{1}{5} \quad (I)$$





$$2x - 4 = 5 - \sqrt{13} - 4 = 1 - \sqrt{13}$$

$$3^{\log 2x} + (2x) \log 3 = 3^{\log 2x} + 3^{\log 2x}$$

$$= 2 \times 3^{\log 2x} \Rightarrow 2 \times 3^{\log 2x} = 162$$

$$\Rightarrow 3^{\log 2x} = 81 \Rightarrow \log 2x = 4 \Rightarrow 2x = 10^4$$

$$\Rightarrow x = 5000$$

$$(\log x^f)^2 - \log x^f + 4 = 0$$

$$\Rightarrow (\log x^f)^2 - 5 \log x^f + 4 = 0$$

$$\frac{\log x^f = a}{\log x^f = a} \rightarrow a^2 - 5a + 4 = 0 \Rightarrow (a-1)(a-4) = 0$$

$$a = 1 \Rightarrow \log x^f = 1 \Rightarrow x = 4$$

$$a = 4 \Rightarrow \log x^f = 4 \Rightarrow x = 256$$

$$10^{\log x^f} = x^f \Rightarrow \log x^f = k$$

$$x^f = 10^k \Rightarrow x^f = 10^{2k}$$

معادله‌ی اصلی را بر حسب k می‌نویسیم:

$$10^k = 10^{2k} \Rightarrow k = 2k \Rightarrow k = 0$$

$$\log x^f = 0 \Rightarrow x^f = 1 \Rightarrow x = 1 \quad \text{یا} \quad -1$$

$$x^{\log x-2} = 1000 \Rightarrow \log x = k \Rightarrow x = 10^k$$

معادله را بر حسب k می‌نویسیم:

$$(10^k)^{k-2} = 1000 \Rightarrow 10^{k(k-2)} = 10^3 \Rightarrow$$

$$k^2 - 2k - 3 = 0 \Rightarrow (k+1)(k-3) = 0$$

$$k = -1 \Rightarrow \log x = -1 \Rightarrow x = \frac{1}{10}$$

$$k = 3 \Rightarrow \log x = 3 \Rightarrow x = 1000$$

$$2 \log(x+1) = \log(2x+10) \quad \text{.۳۹}$$

$$\Rightarrow \log(x+1)^2 = \log(2x+10)$$

$$\Rightarrow x^2 + 2x + 1 = 2x + 10 \Rightarrow x^2 = 9$$

$$x = 3 \quad \text{یا} \quad x = -3 \quad \text{غ ق ق} \quad \text{(زیرا } (x+1) \text{ نمی‌تواند منفی باشد)}$$

$$x = 3 \Rightarrow \log \frac{x\sqrt{x}}{x} = \log \frac{3\sqrt{3}}{3} = \log \frac{3^{\frac{3}{2}}}{3} = -\frac{3}{2}$$

$$\log_3^{y^{x+2}} = \log_3^x + 3 \quad \text{.۴۰}$$

$$\Rightarrow \log_3^{y^{x+2}} = \log_3^x + \log_3^3 \Rightarrow y^{x+2} = 3x \Rightarrow x = 2$$

$$\log \frac{m-2}{x} = \log 2m - x \Rightarrow \frac{m-2}{x} = 2m - x \quad \text{.۴۱}$$

$$\Rightarrow m - 2 = 2mx - x^2$$

$$\Rightarrow x^2 - 2mx + (m-2) = 0$$

$$\Delta = 4m^2 - 4(m-2) = 4(m^2 - m + 2)$$

برای وجود دو ریشه، باید $\Delta > 0$

$$m^2 - m + 2 > 0 \quad \text{تعیین علامت} \rightarrow$$

$$m < -1 \quad \text{یا} \quad m > 2$$

$$\log 4 = a \Rightarrow \log 2 = \frac{a}{2} \quad \text{.۳۵}$$

$$\log 18 = b \Rightarrow \log 3^2 + \log 2 = b$$

$$\Rightarrow 2 \log 3 + \frac{a}{2} = b \Rightarrow \log 3 = \frac{b}{2} - \frac{a}{4}$$

$$\log 15 = \log 5 + \log 3 = \log 10 - \log 2 + \log 3$$

$$= 1 - \frac{a}{2} + \frac{b}{2} - \frac{a}{4} = 1 + \frac{b}{2} - \frac{3a}{4}$$

$$a^2 + b^2 + 2ab = 16ab \Rightarrow (a+b)^2 = 16ab \quad \text{.۳۶}$$

$$\left(\frac{a+b}{4}\right)^2 = ab \xrightarrow{\log} \log\left(\frac{a+b}{4}\right)^2 = \log ab$$

$$2 \log \frac{a+b}{4} = \log a + \log b$$

$$\log \frac{a+b}{4} = \frac{\log a + \log b}{2}$$

$$\log 5 \approx 0.699 \Rightarrow 5 \approx 10^{0.699} \Rightarrow$$

$$5^{96} \approx (10^{0.699})^{96} = 10^{67.104} \quad \text{.۳۷}$$

در نتیجه 5^{96} ، 68 رقم دارد.

$$\log 2 = 1 - \log 5 = 1 - 0.699 = 0.301$$

$$\Rightarrow 2 \approx 10^{0.301} \Rightarrow 2^{500} \approx (10^{0.301})^{500}$$

$$\Rightarrow 2^{500} \approx 10^{150.5}$$

در نتیجه 2^{500} ، 151 رقم دارد.

$$\log_3^{x-1} = 4 \Rightarrow 3x - 1 = 81 \Rightarrow 3x = 82 \quad \text{(الف. ۳۸)}$$

$$\Rightarrow x = \frac{82}{3}$$

$$\log_x^{x^f-2} = 2 \Rightarrow x^f - 2 = x^2 \Rightarrow \quad \text{(ب)}$$

$$x^f - x^2 - 2 = 0 \Rightarrow (x^2 - 2)(x^2 + 1) = 0$$

$$\Rightarrow x^2 - 2 = 0 \Rightarrow x = \sqrt{2} \quad \text{یا} \quad x = -\sqrt{2}$$

$-\sqrt{2}$ غیر قابل قبول است چون مبنا نمی‌تواند منفی باشد.

$$\log_3^{(x-1)} = 2^4 \Rightarrow \log_3^{x-1} = 16 \Rightarrow x-1 = 3^{16} \quad \text{(ج)}$$

$$x = 3^{16} + 1$$

$$\log_{(2x-1)}^{(2x-5)} = 1 \Rightarrow (2x-1)(2x-5) = 5 \quad \text{(د)}$$

$$\Rightarrow 6x^2 - 13x + 5 = 5 \Rightarrow x(6x-13) = 0$$

$$\Rightarrow x = 0 \quad \text{و غ ق ق} \quad x = \frac{13}{6}$$

$$\log(2x-4) - \log \sqrt{x+1} = \log 2 \Rightarrow \quad \text{(ه)}$$

$$\frac{2x-4}{\sqrt{x+1}} = 2 \Rightarrow 2x-4 = 2\sqrt{x+1} \Rightarrow x-2 = \sqrt{x+1}$$

$$\xrightarrow{\text{توان } 2} x^2 - 4x + 4 = x + 1 \Rightarrow x^2 - 5x + 3 = 0$$

$$\Delta = 25 - 4 \times 3 = 13$$

$$x = \frac{5 + \sqrt{13}}{2} \quad x = \frac{5 - \sqrt{13}}{2} \quad \text{غ ق ق}$$

به ازای $x = \frac{5 - \sqrt{13}}{2}$ مبنای $2x-4$ منفی خواهد شد چون



$m < -1$ قابل قبول نیست چون باید $m - 2$ مثبت باشد. محدوده‌ی m

$$m > 2$$

۴۲. a و b ریشه‌های معادله هستند.

$$a + b = \frac{-(-32)}{1} = 32$$

$$ab = \frac{1^0}{1} = 1^0$$

$$\log a + \log b - \log_{\sqrt{2}}^{(a+b)} = \log ab - \log_{\sqrt{2}}^{a+b}$$

$$= \log 1^0 - \log_{\sqrt{2}}^{32} = 1 - 5 = -4$$

$$A = \log_{x^2-1}^{(x+1)^2} + \log_{\sqrt{x^2-1}}^{(x-1)^2(x+1)}$$

۴۳

$$= \log_{\sqrt{x^2-1}}^{|x+1|} + \log_{\sqrt{x^2-1}}^{(x-1)^2(x+1)}$$

$$x > \sqrt{2} \Rightarrow x+1 > |x+1| = x+1$$

$$\Rightarrow A = \log_{\sqrt{x^2-1}}^{(x-1)^2(x+1)^2} = \log_{\sqrt{x^2-1}}^{(x^2-1)^2} = 4$$

$$\log_{\frac{1}{2}}^{\Delta x-1} < -\frac{1}{2} \xrightarrow{\frac{1}{2} < 1} \Delta x - 1 > \left(\frac{1}{2}\right)^{-\frac{1}{2}} \quad \text{۴۴ الف}$$

$$\Rightarrow \Delta x - 1 > \sqrt{2} \Rightarrow \Delta x > \sqrt{2} + 1 \Rightarrow x > \frac{\sqrt{2} + 1}{\Delta}$$

$$\log_{\sqrt{2}}^{x^2} - \log_{\sqrt{2}}^{\Delta} \geq \log_{\sqrt{2}}^{x^2} \Rightarrow \frac{x^2}{\Delta} \geq 2x \quad \text{ب}$$

$$\Rightarrow x^2 - 16x \geq 0 \Rightarrow x \leq 0 \quad \text{یا} \quad x \geq 16$$

$x \leq 0$ غیر قابل قبول است. پس $x \geq 16$

۴۵

$$\log_{\sqrt{2}}^{(x-2)^2} + 2 > \log_{\sqrt{2}}^x$$

$$\Rightarrow \log_{\sqrt{2}}^{x-2} + \log_{\sqrt{2}}^{16} > \log_{\sqrt{2}}^{x^2}$$

$$\Rightarrow 16(x-2) > x^2 \Rightarrow x^2 - 16x + 32 < 0$$

$$\Delta = 256 - 4 \times 32 = 128 \Rightarrow x = \frac{16 \pm \sqrt{128}}{2}$$

$$= 8 \pm 4\sqrt{2}$$

$$\xrightarrow{\text{تعیین علامت}} 8 - 4\sqrt{2} < x < 8 + 4\sqrt{2}$$

با توجه به شرط دامنه‌ها باید $x > 2$ و این شرط برقرار است.

$$a = 8 - 4\sqrt{2}, \quad b = 8 + 4\sqrt{2} \Rightarrow a + b = 16$$

۴۶ الف) برد تابع لگاریتمی درجه اول، کل اعداد حقیقی است. $R = \mathbb{R}$

$$x^2 \geq 0 \Rightarrow x^2 + 4 \geq 4 \Rightarrow \log_{\sqrt{2}}^{x^2+4} \geq \log_{\sqrt{2}}^4 \Rightarrow y \geq 2 \quad \text{ب}$$

ج) باید $-x^2 - 2x + 1 > 0$ حال مقدار بیشینه‌ی $-x^2 - 2x + 1$ را به دست می‌آوریم:

$$-x^2 - 2x + 1 = -(x^2 - 2x + 1) + 2 = -(x-1)^2 + 2 \leq 2$$

$$-x^2 - 2x + 1 \leq 2 \xrightarrow{\log_{\sqrt{2}}} \log_{\sqrt{2}}^{-x^2-2x+1} \leq \log_{\sqrt{2}}^2$$

$$\Rightarrow \log_{\sqrt{2}}^{-x^2-2x+1} + 2 \leq 3 \Rightarrow y \leq 3$$

۴۷. پول شخص پس از دو برابر شدن به $2a$ می‌رسد یعنی $y = 2a$

$$2a = a \left(\frac{2001}{2000}\right)^x \Rightarrow \left(\frac{2001}{2000}\right)^x = 2 \Rightarrow$$

$$x = \log_{\frac{2001}{2000}} 2 = \frac{1}{\log_{\frac{2000}{2001}} 2} \Rightarrow$$

$$\Rightarrow x = \frac{1}{0.00072} \approx 1388.9$$

یعنی باید ۱۳۸۹ روز صبر کند.

$$E = 10^{22} \Rightarrow \log 10^{22} = 11/8 + 1/5 M \Rightarrow \quad \text{۴۸ الف}$$

$$22 = 11/8 + 1/5 M \Rightarrow 1/5 M = 10/2$$

$$\Rightarrow M \approx 6/8 \text{ ریشتر}$$

$$\log E_2 = 11/8 + 1/5 \times 7 = 22/3$$

ب

$$\log E_1 = 11/8 + 1/5 \times 6 = 20/8$$

$$\log \frac{E_2}{E_1} = \log E_2 - \log E_1 = 1/5 \Rightarrow$$

$$\frac{E_2}{E_1} = 10^{1/5} \approx 31/6$$

۴۹. می‌توان y (جرم ماده) را برحسب x (تعداد ماه‌ها) به صورت زیر نوشت:

$$y = 24 \times 2^{-\frac{x}{6}} \xrightarrow{y=2} 2 = 24 \times 2^{-\frac{x}{6}} \Rightarrow$$

$$\frac{x}{6} = 12 \Rightarrow \frac{x}{6} = \log_{\sqrt{2}}^{12} = \log_{\sqrt{2}}^6 + \log_{\sqrt{2}}^2 \Rightarrow$$

$$\frac{x}{6} = 2 + \frac{1}{0.63} \Rightarrow x = 12 + \frac{6}{0.63} \Rightarrow x \approx 21/5$$

۵۰. رشد جمعیت، ۱ درصد در سال بوده است یعنی جمعیت هر سال $1/01$

برابر جمعیت سال قبل بوده است.

$$y = 20 \times 1/01^x$$

$$30 = 20 \times 1/01^x \Rightarrow 1/01^x = 1/5$$

$$x = \log_{1/01}^{1/5} = \log_{1/01}^{\sqrt{2/25}} = \frac{1}{2} \log_{1/01}^{2/25}$$

$$\approx \frac{1}{2} \times 81/48 = 40/74$$

جمعیت کشور در سال ۱۳۴۱، به سی میلیون رسیده است.

$$l = 3/6 \times 10^{-9} = 36 \times 10^{-10}$$

۵۱

$$D = 10 \log \frac{l}{l_0} = 10 \log \frac{36 \times 10^{-10}}{10^{-12}}$$

$$= 10 \log 3600 = 10 \log 6^2 \times 10^2 = 20 \log 60$$

$$= 20(\log 10 + \log 6) = 20(1 + 0/78)$$

$$= 20 \times 1/78 = 35/6$$

تمرینات فصل سوم



۶. معادله‌های زیر را حل کنید.

الف) $\left(\frac{1}{\sqrt{2}}\right)^{x+3} + \sqrt{2}^{1-x} = 10$

ب) $16^x - 5 \times 4^x + 4 = 0$

ج) $8^{x-1} = 2^{x^2+x-5}$

د) $4 \times 2^{2x} - 6^x = 18 \times 3^{2x}$

ه) $[2^x] = 0$

۷. حدود k را طوری تعیین کنید که معادله‌ی $4^x - 3 \times 2^x + k = 0$ دقیقاً یک ریشه داشته باشد.

۸. به کمک رسم نمودار، تعداد ریشه‌های معادله‌ی زیر را به دست آورید.

الف) $2^{x-3} + 1 = x$ ب) $|x| - 3^x = 2$

۹. نمودار توابع $y = 7 - 2^x$ و $y = 2^{2x-2} - 1$ همدیگر را در چه نقاطی قطع می‌کنند؟

۱۰. برد توابع زیر را به دست آورید.

الف) $y = \sqrt{3} \sqrt{2^x - 1} - \sqrt{3}$

ب) $y = |-1 - 3^{x-1}|$

ج) $y = 2^x + 2^{-x} + 1$

۱. نمره‌ی تراز یک دانش‌آموز در اولین آزمون آزمایشی سال برابر ۴۸۰۰ بوده است. اگر این دانش‌آموز در هر آزمون ۵ درصد عملکرد بهتری نسبت به آزمون قبل داشته باشد (ترازش ۵ درصد افزایش یابد) تابعی بنویسید که نمره‌ی تراز او (y) را برحسب شماره‌ی آزمون (x) بیان کند. در آزمون هشتم تراز این دانش‌آموز حدوداً چند خواهد شد؟

۲. تابع $y = \left(\frac{1}{3}\right)^x$ را رسم کنید و به کمک نمودار آن، روی محور y ها

به طور تقریبی، نقاطی به عرض‌های $\sqrt[3]{\frac{1}{4}}$ و $\left(\frac{1}{3}\right)^{-\frac{1}{2}}$ را علامت بزنید.

۳. نمودار توابع زیر را رسم کنید.

الف) $y = 3^{1-x} - 1$

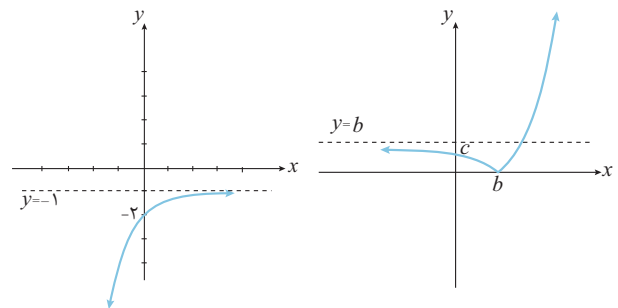
ب) $y = \left(\frac{1}{3}\right) \sqrt{x^2}$

ج) $y = \frac{x \times 2^x}{|x|}$

۴. در هر مورد پارامترهای مجهول را به دست آورید.

الف) $y = a \left(\frac{1}{3}\right)^{x-b} + a$

ب) $y = |a^{x-1} - 2|$



۵. به ازای چه مقادیری از k ، تابع $y = (k - k^3)^{x-k} + k$ یک تابع نمایی یا دامنه‌ی \mathbb{R} است؟





۱۱. نامعادلات زیر را حل کنید.

الف) $2^{x^2-x+1} \leq 8$

ب) $(\frac{1}{10})^x + (\frac{1}{10})^{x+1} > 10010$

ج) $\frac{2^{x+1} - 2^x - 7}{2^x - 4} \leq 2$

د) $\frac{\sqrt{2}}{2} < [3^x] \leq 2\sqrt{2}$

۱۴. اگر توابع $f(x) = \sqrt[3]{a+2^x} - 2$ و $g(x) = \log_b(x^r + cx^r + 12x + 7)$ باهم مساوی باشند. مقدار $a + b + c$ را بیابید.

۱۵. دامنه‌ی توابع زیر را به دست آورید.

الف) $y = x \log_{\frac{1}{2}} x^{-2}$

ب) $y = \log_{\frac{1}{2}}(x^r + 4x + 4)$

ج) $y = \sqrt{1 - \log_{\frac{1}{2}} \log_{\frac{1}{2}}(-x)}$

۱۲. دامنه‌ی توابع زیر را به دست آورید.

الف) $y = \sqrt{3^{x-1} - \sqrt{3}}$

ب) $y = \sqrt{4^x + 2^x - 6}$

ج) $y = \sqrt{2^x + 1} - x$

د) $y = \frac{[x]}{2[x] - 1}$

۱۶. رسم کنید.

الف) $y = \log_{\frac{1}{2}}^{-x}$

ب) $2^y = 3 - 2x$

ج) $\log_{\frac{1}{2}} y = \log_{\frac{1}{2}} x$

د) $y = |\log_{\frac{1}{2}} 2^x - 2|$

۱۳. تابع وارون توابع زیر را بیابید.

الف) $y = (\frac{1}{2})^{2-x} - 1$

ب) $y = |2^{x-4}|$

ج) $y = \sqrt[3]{1 - 3^x}$

د) $y = 2 \log_{\delta}^{(x+1)}$

ه) $y = \sqrt{\log_{\frac{1}{2}} x - 3}$

و) $y = \log \frac{3-x}{2x+1}$

ج) $\log_{\frac{3}{2}} \sqrt{3^4}$

۲۱. اگر $\log_b^a = 4$ و $\log_a^b = b$ ، حاصل b^{2b} را بیابید.

۲۲. اگر $\log_a^3 a^6 = 4$ ، حاصل $\log_a^3 a^6$ را بیابید.

۲۳. اگر $x = \frac{-1 + \sqrt{17}}{2}$ ، حاصل عبارت‌های زیر را به دست آورید.

الف) $\log_{\frac{1}{\lambda-x-x^2}} x^{\lambda+x}$

ب) $\log_{\frac{5}{64}} x - x^3$

۲۴. حاصل عبارت‌های زیر را به دست آورید.

الف) $\log_{\frac{27 \times 10^{-15}}{9 \times 10^{-10}}}$

ب) $625 \log_{\sqrt{5}}^2 \div 81 \log_3^2$

ج) $\log_3^{25} \log_4^9 - \log_{\sqrt{2}}^{\frac{5}{\sqrt{2}}}$

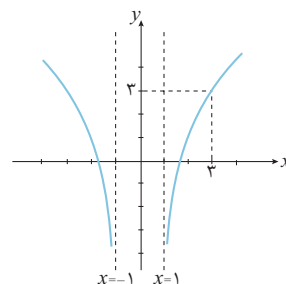
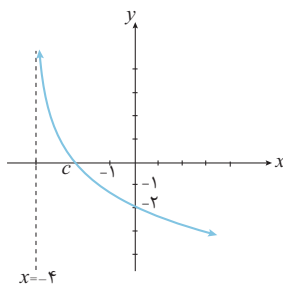
د) $9 \log_7^{\frac{\log_7^4}{\log_7^2}}$

ه) $(\log_{\frac{6}{2}})^2 + \frac{\log_{\frac{7}{2}}^4}{\log_{\frac{6}{2}}^4}$

۱۷. در هر مورد با توجه به شکل، مقادیر مجهول را به دست آورید.

الف) $y = \log_b^{(x+a)}$

ب) $y = \log_b^{(x^2-a)}$



۱۸. تعداد ریشه‌های معادلات زیر را به کمک رسم نمودار مشخص کنید.

الف) $\log_3^x = \log_{\frac{1}{3}}^{1-x}$

ب) $|\sqrt{x} - \log_3^x| = 1$

ج) $\log_3^x = 3^x$

۱۹. حاصل عبارت‌های زیر را به دست آورید.

الف) $\log_{\frac{27\sqrt{3}}{9\sqrt{3}}}$

ب) $\log_{\frac{1}{128}} \sqrt[3]{2}$

ج) $\log_{\log 17} 10$

د) $\log_{\frac{\sqrt{3} + \sqrt{2}}{5-2\sqrt{6}}}$

۲۰. مشخص کنید هریک از اعداد زیر بین کدام دو عدد صحیح متوالی قرار

الف) \log_3^{1000} می‌گیرند.

ب) $\log_{\frac{1}{2}}^{15}$





۲۵. اگر $3^a = A$ ، حاصل $\log_3^9 A^2$ را بیابید.

۲۶. اگر $\frac{4}{3} = \log_{\sqrt{3}} a$ حاصل $\log_8^{(a^3+7)}$ چقدر است؟

۲۷. اگر $\log 2 = k$ ، حاصل عبارت زیر را بر حسب k بیابید.

$$\log(6 - 2\sqrt{5}) + 2\log(1 + \sqrt{5})$$

۲۸. اگر $20 = 4x^2 - y^2$ و $1 = \log_4^x y^2 = \log_4^y x^2$ مقادیر x و y را بیابید.

۲۹. اگر $4 = 2^x \times 4^{y-1}$ و $2 = \log_4^x y + \log_4^y x$ مقادیر x و y را با فرض

گویا بودن بیابید.

۳۵. اگر $a = \log 24$ و $b = \log 18$ ، حاصل $\log_{\frac{3}{8}}^{\frac{3}{2}} a$ را بر حسب a و b

بنویسید.

۳۰. اگر $3 = \log_{yz}^x y$ و $4 = \log_y^{xz} x$ حاصل $\log_x^z x$ را به دست آورید.

۳۴. اگر $\log \frac{a+b}{3} = \frac{\log a + \log b}{2}$ حاصل عبارت زیر را به دست

آورید.

$$A = \frac{a^2 + b^2 + \Delta ab}{a^2 + b^2 - ab}$$

۳۱. اگر $\log x^2 y = 0/5$ و $\log x^f yz = 0/3$ و $\log xy^3 z^2 = 1/1$ حاصل

$\log xyz$ را بیابید.

۳۷. اگر $\log 2 = 0/301$ ، تعداد ارقام عدد 5^{48} و تعداد صفرهای پس از

ممیز عدد 2^{-96} را بیابید.

۳۲. اگر $\log_n^{125} = \log_n^{25}$ ، حاصل \log_2^n را بیابید.

۳۳. اگر $\log_a^x c$ ، $\log_b^x c$ ، $\log_c^x a$ جملات متوالی یک دنباله‌ی حسابی

باشند، ثابت کنید $c^2 = (ac)^{\log_a^b}$

۳۴. اگر $a = \log 3$ و $b = \log 5$ ، حاصل عبارات زیر را بر حسب a و b

بنویسید.

الف) $\log 45$

ب) $\log \frac{9}{5}$

ج) $\log_{27} \sqrt{5}$

د) $\log_{\frac{5}{6}} \sqrt[3]{75}$



۴۱. m را طوری تعیین کنید که معادله‌ی زیر دقیقاً یک ریشه‌ی حقیقی داشته باشد.

$$(\log_3^x)^2 + m = \frac{4}{\log_3^2 x}$$

۴۲. اگر $x > 1$ حاصل عبارت زیر را به دست آورید.

$$A = \log_{x^2+3x+2}^{x^2-1} + \log_{x^2-3x+2}^{x^2-4} \\ = \log_{\frac{x+2}{x-1}}^{\frac{x+2}{x-1}} + \log_{\frac{x+2}{x-1}}^{\frac{x+2}{x-1}}$$

۴۳. نامعادلات زیر را حل کنید.

الف) $\log_{\frac{1}{6}}^{x^2-x} \geq -1$

ب) $(2 \log_3^x - 1)^2 < 4$

ج) $2(\log_3^x)^2 + |\log_3^x| - 3 \leq 0$

د) $[\log_4^x]^2 < \log_4^y$

۴۴. نمودار تابع $f(x) = \log_{\lambda}^x$ در بازه‌ی $(a, +\infty)$ بالاتر از نمودار تابع

$g(x) = \log_{\frac{1}{2}}^x + 4$ حداقل مقدار a چقدر است؟

۳۸. معادلات زیر را حل کنید.

الف) $\log_{\frac{1}{7}}^{1-x^2} = -1$

ب) $\log_6^{\log_7^x} = 1$

ج) $\log_x^{12-x} = 2$

د) $\log_{\delta}^{\frac{x+2}{x-3}} + \log_{\delta}^x = 1$

ه) $2(\log_{16}^x)^2 + \log_{16}^{x^2} = 5$

و) $\log_x^2 \times \log_x^2 + \log_x^{\frac{2}{x^2}} = 3$

ز) $9 \log_3^{x^2} = x^2$

ح) $x^{\log_{\delta}^x + 1} = \delta^6$

۳۹. اگر $2 = \log_6^{x+5} + \log_6^{2x-4}$ ، حاصل $\log_{\frac{1}{x}}^{x+12}$ چقدر است؟

۴۰. اگر عددی را معکوس کنیم به لگاریتم آن در مبنای ۴، ۸ واحد اضافه می‌شود لگاریتم آن عدد در مبنای $\sqrt{32}$ چقدر است؟

۴۵. برد توابع زیر را به دست آورید.

الف) $f(x) = \sqrt{x} \log_{\delta}^{(3-x)}$

ب) $g(x) = \frac{1}{\log_{\gamma}^x}$

ج) $h(x) = (\log_{\gamma}^x)^2 + \log_{\gamma}^{x^2}$

د) $k(x) = \log_{\frac{1}{2}}^{(4x-x^2)} + 1$

۵۰. بزرگی زلزله در مقیاس ریشتر (M) بر حسب انرژی آزاد شده بر حسب

ارگ (E) از رابطه‌ی $M = \frac{2}{3}(\log E - 11/8)$ به دست می‌آید. میزان

انرژی آزاد شده در یک زلزله‌ی چند ریشتری برابر $10^{23/5}$ ارگ است؟

۵۱. براساس آزمایش‌های متعدد مشخص شده که اگر a نفر مبتلا به نوع

خاصی از ویروس در جامعه‌ای که درمانی برای آن ندارد، حضور داشته

باشند تعداد افراد مبتلا به ویروس (y) بر حسب روزهای گذشته از شروع

بیماری (x) از رابطه‌ی $y = a \times 1/4^x$ به دست می‌آید. پس از چند روز

کامل تعداد مبتلایان به بیماری، بیش از ۱۱ برابر خواهد شد؟

$$\log 11 = 1/0.42, \quad \log 1/96 = 0/2922$$

۴۶. اگر $f(x) = \log\left(\frac{x-1}{x+1}\right)$ ، نمودار تابع $y = f(x) + f(-x)$ را

رسم کنید.

۴۷. اگر با نرخ بهره‌ی ۲۴ درصد در سال، پایان هر ماه سود را به سرمایه

اضافه کنند، پس از ۵ سال سرمایه چند برابر می‌شود؟

$$\log 328 = 2/516, \quad \log 102 = 2/0086$$

۴۸. از یک جسم فسیلی ۲۸/۷ درصد از کربن معمولی آن باقی مانده است.

اگر نیم عمر کربن ۵/۵ قرن باشد، قدمت این جسم فسیلی چند قرن

است؟

$$\log 2 = 0/301, \quad \log 2/87 = 0/4582$$

۴۹. اگر جمعیت به طور نمایی با ضریب ثابت ۲ درصد در سال رشد کند، پس

از چند سال این جمعیت ۳/۱ برابر می‌شود؟

$$\log 31 = 1/4902, \quad \log 1/02 = 0/0086$$

