



آموزش و کتاب کار  
ریاضی (۱) پایه دهم  
(ویژهی مهندسها)

مؤلفین:

رسول حاجی زاده، پیمان جلیلی، حسن باطنی



انتشارات خوشخوان

خداوند متعال را شاکرم که اسباب خدمت به دانش‌آموزان تیزهوش و ممتاز ایران عزیزمان را چندین سال متوالی است که نصیب این جانب کرده است و امیدوارم این لطف را در سال‌های بعد نیز به شرط حیات، از بنده دریغ نکند.

کتاب‌هایی که در انتشارات خوشخوان نگارش می‌شود مخصوص دانش‌آموزان ممتاز، تیزهوش، المپیادی و از همه مهم‌تر مختص دانش‌آموزان **علاقه‌مند** است، بسیار متأسف می‌شوم که کتابی از کتب انتشارات ما را دانش‌آموزی خریداری کند که با اجبار فرد خاصی مانند معلم، اولیاء و یا... باشد و آن دانش‌آموز هیچ اشتیاقی به حل مسائل ریاضی و هوش نداشته باشد.

یکی از بیماری‌هایی که در سنوات گذشته نصیب جوانان عزیزمان شده است **قرار گرفتن در جریان** به نام **گند از سد کنکور** است که باعث شده است وقت این عزیزان به بطالت و بیهوده سپری شود. اغلب شبکه‌های صدا و سیما متأسفانه در همین راستا گام برمی‌دارند و آنتن خود را در اختیار افراد سودجویی قرار می‌دهند که این افراد سودجو فقط و فقط به فکر مال‌اندوزی بوده و این‌که با این برنامه‌های پمکی و پوچشان چه بلایی بر سر نوجوانان و جوانان این مرز و بوم می‌آورند کاری ندارند. همان‌طور که آگاهید تمام شادابی و تفریح و... به بهانه‌ی آمادگی برای کنکور از دانش‌آموزان گرفته شده است. در همین راستا باز با عرض تأسف ناشرین و مولفینی وجود دارند که فقط به فکر بالا بردن آمار فروش و سود حاصل از این فروش می‌باشند و در این بین چه عزیزانی قربانی می‌شوند خدا می‌داند. با آگاهی از این موضوع که نگارش و ارائه‌ی کتاب به بازار باید در جهت‌ی باشد که شادابی و رضایت دانش‌آموزان نه تنها نباید کمرنگ شود بلکه باید این کتب باعث بالا رفتن روحیه و انگیزه‌ی آن عزیزان نیز باشد. چرا که رضایت خداوند باری تعالی هم در همین استه پرسنل و مؤلفین محترم انتشارات خوشخوان با انگیزه‌ای مضاعف بیش از پیش همت کرده و در این راستا شبانه‌روز وقت صرف می‌کنند و امید دارند که این کتب به مخاطبین واقعی خود برسد که همانا دانش‌آموزان ممتاز و تیزهوش می‌باشد. ولی متأسفانه همیشه این نگرانی وجود دارد که نکند دانش‌آموزی که در دروس ریاضی، فیزیک، شیمی، علاقه و استعداد کافی ندارد ولی رو به این کتاب‌ها آورده است که اگر چنین شود در چشم آن دانش‌آموز ما هم تبدیل به همان انتشاراتی می‌شویم که در جهت از بین بردن شادابی و روحیه از دانش‌آموزان گام برداشته‌ایم و این گناهی است نابخشودنی. بنابراین خواهشمند است خرید این کتاب را برای دانش‌آموزانی توصیه کنید که تفریح و اوقات فراغتشان با ریاضی و هوش سپری می‌شود. در انتها از زحمات تمام عزیزان که در تولید این اثر گام برداشتند تقدیر و تشکر می‌شود و از شما مخاطبین گرامی هم انتظار می‌رود عیوب و ایرادات کار را به ما ارجاع دهید تا در چاپ‌های بعدی مورد توجه قرار گیرد.

رسول حاجی‌زاده

«مدیر انتشارات خوشخوان»

بِسْمِ اللَّهِ الرَّحْمَنِ الرَّحِيمِ

نگارش کتاب کمک‌آموزشی برای درس ریاضیات کار ساده‌ای نیست آن هم وقتی که مخاطبین دانش‌آموزان ممتاز باشند. از طرفی مؤلفین این کتاب در سنوات گذشته خود از دانش‌آموزان ممتاز و برگزیدگان المپیاد ریاضی بوده‌اند که خوشبختانه سر از تدریس ریاضی در مدارس ممتاز تهران درآورده‌اند و با نیاز آموزشی این نوع دانش‌آموزان آشنایی کافی دارند. بنابراین بلافاصله بعد از عرضه شدن کتاب ریاضیات دهم، گروه مؤلفین متشکل از آقایان رسول حاجی‌زاده، پیمان جلیلی و حسن باطنی کار تألیف و جمع‌آوری مطالب مربوطه را آغاز کردند و این هماهنگی و بالا پایین کردن مطالب در جلسات بسیار متعددی و تا حدود یک سال این روند ادامه پیدا کرد تا این‌که با حول و قوه‌ی الهی در انتهای بهار ۹۶ بازبینی نهایی کتاب به اتمام رسید. امید است هر آنچه از دل برمی‌آید بر دل نشیند؛ مؤلفین کتاب با اشتیاق تمام و با تلاش شبانه‌روزی این ناچیز را برای شما بزرگواران تدوین کرده‌اند امید است نیازها را درست تشخیص داده باشند و پس از مطالعه‌ی کامل کتاب لبخندی از روی رضایت بر چهره‌ی‌تان نقش بسته باشد.

با تجربه‌ای که در کلاس‌های درس در مدارس ممتاز از جمله تیزهوشان‌ها داشته‌ایم مصلحت در آن دیده شد که در آموزش بعضی از مطالب پا را فراتر از گلیم گذاشته و مطالبی را خارج از کتاب درسی آموزش دهیم چون ممکن است این مطالب مورد نیاز همه نباشد آن‌ها را با عنوان «بیش‌تر بدانیم» آورده‌ایم و مسائل و تمارین مربوط به این مباحث را که همگانی نمی‌باشند و فقط ویژه‌ی دانش‌آموزان علاقمند است با رنگی متمایز مشخص کرده‌ایم.

توصیه می‌شود در ابتدا مسائل نمونه را خودتان حل کنید و جواب خود را با جواب ارائه شده مقایسه کنید و یا احياناً اگر قادر به حل مسئله نبودید از پاسخ تشریحی نوشته شده راهنمایی بگیرید. برای تمارین انتهای فصل نیز تا حد ممکن جواب نهایی نوشته شده است تا جواب خودتان را با آن مقایسه کنید امیدواریم کمی و کاستی‌ها را بر ما ببخشاید.

مؤلفین



# فهرست مطالب

## مجموعه و دنباله‌ها

۳۶	مسائل نمونه درس ۲	۳
۳۷۸	پاسخ مسائل نمونه درس ۲	۳
۳۹	تمرین درس ۲	۶
۴۱	<b>درس سوم: دنباله‌ی حسابی</b>	۷
۴۱	■ جمله‌ی عمومی دنباله‌ی حسابی	۹
۴۵	مسائل نمونه درس ۳	۱۱
۴۶	پاسخ مسائل نمونه درس ۳	۱۵
۴۸	تمرین درس ۳	۱۶
۵۰	پاسخ تمرین درس ۳	۱۹
۵۱	<b>درس چهارم: دنباله‌ی هندسی</b>	۲۱
۵۱	■ جمله‌ی عمومی دنباله‌ی هندسی	۲۲
۵۷	مسائل نمونه درس ۴	۲۵
۵۸	پاسخ مسائل نمونه درس ۴	۲۹
۶۰	تمرین درس ۴	۳۰
۶۲	پاسخ تمرین درس ۴	۳۰
۶۳	<b>سوالات المپیاد</b>	۳۰
۶۶	<b>راهنمای حل سوالات المپیاد</b>	۳۲

## فصل ۱

### درس اول: مجموعه‌ها

- مقدمات و یادآوری
- بازه
- مجموعه‌های متناهی و نامتناهی
- مجموعه‌ی مرجع و مجموعه‌ی متمم
- جبر مجموعه‌ها
- دو مجموعه‌ی جدا از هم
- روابط بین تعداد اعضاء مجموعه‌ها (۱)
- روابط بین تعداد اعضاء مجموعه‌ها (۲)
- مسائل نمونه درس ۱
- پاسخ مسائل نمونه درس ۱
- تمرین درس ۱
- پاسخ تمرین درس ۱

### درس دوم: الگو و دنباله

- الگو
- دنباله

## مثلثات

۸۲	پاسخ مسائل نمونه درس ۱	۷۱
۸۵	تمرین درس ۱	۷۱
۸۸	پاسخ تمرین درس ۱	۷۳
۸۹	<b>درس دوم: دایره‌ی مثلثاتی</b>	۷۴
۸۹	■ دایره‌ی مثلثاتی:	۷۵
۸۹	■ نسبت‌های مثلثاتی در دایره‌ی مثلثاتی	۷۵
۹۲	■ محاسبه‌ی نسبت‌های مثلثاتی یا معلوم بودن یکی از آنها	۷۷
۹۴	■ رابطه‌ی بین شیب خط با تانژانت زاویه	۷۸
۹۶	مسائل نمونه درس ۲	۷۸
۹۸	پاسخ مسائل نمونه درس ۲	۸۰

## فصل ۲

### درس اول: نسبت‌های مثلثاتی

- نسبت‌های مثلثاتی در مثلث قائم‌الزاویه
- تشابه و نسبت‌های مثلثاتی
- نسبت‌های مثلثاتی دو زاویه‌ی متمم
- نسبت‌های مثلثاتی زاویه‌ی  $45^\circ$
- نسبت‌های مثلثاتی زاویه‌های  $30^\circ$  و  $60^\circ$
- مساحت
- قضیه‌ی سینوس‌ها
- قضیه‌ی کسینوس‌ها
- مسائل نمونه درس ۱

۱۰۸	پاسخ مسائل نمونه درس ۳	۱۰۲	تمرین درس ۲
۱۱۰	تمرین درس ۳	۱۰۳	پاسخ تمرین درس ۲
۱۱۲	پاسخ تمرین درس ۳	۱۰۴	<b>درس سوم: روابط بین نسبت‌های مثلثاتی</b>
۱۱۳	<b>سؤالات المپیاد</b>	۱۰۴	■ اتحادهای مثلثاتی
۱۱۳	<b>راهنمای حل سؤالات المپیاد</b>	۱۰۷	مسائل نمونه درس ۳

## ۱۱۷ توان‌های گویا و عبارات‌های جبری

۱۲۸	تمرین درس ۱	۱۱۷
۱۳۰	پاسخ تمرین درس ۱	۱۱۷
۱۳۱	<b>درس دوم: عبارات جبری</b>	۱۱۸
۱۳۱	■ اتحادهای سال گذشته	۱۱۸
۱۳۶	■ عبارت گویا	۱۱۹
۱۳۷	■ مثلث خیام و بسط دوجمله‌ای $(a + b)^n$	۱۱۹
۱۳۸	■ بسط دوجمله‌ای نیوتن	۱۲۰
۱۳۹	مسائل نمونه درس ۲	۱۲۱
۱۴۱	پاسخ مسائل نمونه درس ۲	۱۲۱
۱۴۶	تمرین درس ۲	۱۲۳
۱۵۲	پاسخ تمرین درس ۲	۱۲۴
۱۵۳	<b>سؤالات المپیاد</b>	۱۲۵
۱۵۵	<b>راهنمای حل سؤالات المپیاد</b>	

## فصل ۳ توان و ریشه

### درس اول: توان و ریشه

- ریشه‌ی  $n$ ام عدد  $a$
- ضرب رادیکال‌ها
- به توان رساندن رادیکال‌ها
- جمع و تفریق رادیکال‌ها
- حدود اعداد رادیکالی
- توان‌های گویا
- رادیکال زیر رادیکال
- مقایسه‌ی اعداد رادیکالی
- رادیکال مرکب
- مسائل نمونه درس ۱
- پاسخ مسائل نمونه درس ۱

## ۱۶۱ معادله‌ها و نامعادله‌ها

۱۸۳	تمرین درس ۱	۱۶۱
۱۸۶	پاسخ تمرین درس ۱	۱۶۱
۱۸۷	<b>درس دوم: سهمی</b>	۱۶۱
۱۸۷	■ نمودار سهمی	۱۶۲
۱۸۹	■ مختصات رأس سهمی	۱۶۳
۱۹۰	■ محور تقارن سهمی	۱۶۳
۱۹۳	مسائل نمونه درس ۲	۱۶۷
۱۹۴	پاسخ مسائل نمونه درس ۲	۱۶۹
۱۹۸	تمرین درس ۲	۱۷۰
۲۰۰	پاسخ تمرین درس ۲	۱۷۲
۲۰۱	<b>درس سوم: تعیین علامت</b>	۱۷۳
۲۰۳	■ تعیین علامت عبارت $ ax + b $	۱۷۵
		۱۷۷

## فصل ۴ معادله‌های درجه دوم و ریشه‌های آن

### درس اول: معادله‌ی درجه دوم و ریشه‌های آن

- حل معادله‌ی درجه‌ی دوم
- الف. فاکتورگیری
- ب. اتحاد مزدوج
- ج. اتحاد مربع دوجمله‌ای
- د. اتحاد جمله مشترک
- بحث در وجود ریشه‌های معادله‌ی درجه‌ی دوم
- رابطه‌ی بین ضرایب و ریشه‌های معادله‌ی درجه دوم
- تعیین دو عدد که مجموع و حاصل ضربشان مشخص باشند
- تجزیه‌ی سه جمله‌ای درجه دوم
- حل مسئله به کمک معادله‌ی درجه‌ی دوم
- مسائل نمونه درس ۱
- پاسخ مسائل نمونه درس ۱

۲۲۱	■ ناساوی کوشی	۲۰۴	■ تعیین علامت عبارت $(ax + b)^n$
۲۲۳	■ حل نامعادله‌ی درجه‌ی یک	۲۰۴	■ تعیین علامت چندجمله‌ای درجه‌ی دوم
۲۲۴	■ حل نامعادله‌ی درجه‌ی دوم	۲۰۷	■ تعیین علامت عبارت درجه‌ی دوم و نمودار سهمی
۲۲۶	■ نامعادلات قدر مطلق	۲۱۱	■ مسائل نمونه درس ۳
۲۲۷	■ حل نامعادله به کمک بازبینی	۲۱۲	■ پاسخ مسائل نمونه درس ۳
۲۲۹	■ مسائل نمونه درس ۴	۲۱۶	■ تمرین درس ۳
۲۳۰	■ پاسخ مسائل نمونه درس ۴	۲۱۷	■ پاسخ تمرین درس ۳
۲۳۵	■ تمرین درس ۴	۲۱۸	■ <b>درس چهارم: حل نامعادله</b>
۲۳۸	■ پاسخ تمرین درس ۴	۲۱۸	■ ناساوی‌ها و خواص آن
۲۳۹	■ <b>سؤالات المپیاد</b>	۲۲۰	■ ناساوی میانگین حسابی و هندسی
۲۴۱	■ <b>راهنمای حل سؤالات المپیاد</b>		

**۲۴۵** ..... **تابع**

۲۷۷	■ پاسخ تمرین درس ۲	۲۴۵	
۲۷۸	■ <b>درس سوم: انواع تابع</b>	۲۴۵	■ زوج مرتب
۲۷۸	■ تابع چندجمله‌ای	۲۴۵	■ رابطه
۲۷۹	■ تابع همبانی	۲۴۶	■ تابع
۲۸۰	■ تابع ثابت	۲۴۹	■ مسائل نمونه درس ۱
۲۸۰	■ تابع ضابطه‌ای (قطعه‌ای)	۲۵۰	■ پاسخ مسائل نمونه درس ۱
۲۸۳	■ تابع قدر مطلق	۲۵۱	■ تمرین درس ۱
۲۸۵	■ قوانین انتقال نمودارها	۲۵۳	■ <b>درس دوم: دامنه و برد</b>
۲۸۹	■ تاثیر انتقال بر روی دامنه و برد	۲۵۵	■ به دست آوردن دامنه از روی نمایش جبری
۲۸۹	■ نکات جمع‌بندی	۲۵۷	■ نام‌گذاری توابع و مقدار تابع در نقطه
۲۹۱	■ مسائل نمونه درس ۳	۲۶۰	■ تابع خطی
۲۹۳	■ پاسخ مسائل نمونه درس ۳	۲۶۱	■ مدل‌سازی با تابع
۲۹۹	■ تمرین درس ۳	۲۶۲	■ محاسبه‌ی برد توابع در نمایش جبری
۳۰۷	■ پاسخ تمرین درس ۳	۲۶۵	■ مسائل نمونه درس ۲
۳۰۸	■ <b>سؤالات المپیاد</b>	۲۶۷	■ پاسخ مسائل نمونه درس ۲
۳۱۰	■ <b>راهنمای حل سؤالات المپیاد</b>	۲۷۲	■ تمرین درس ۲

**۳۱۳** ..... **مردن**

۳۱۶	■ اصل ضرب	۳۱۳	■ تناظر یک‌به‌یک
۳۲۲	■ تعداد مقسوم‌علیه‌های مثبت یک عدد طبیعی	۳۱۳	■ اصل مثنم
۳۲۳	■ معرفی یک نماد (فاکتوریل)	۳۱۴	■ اصل شمول و عدم شمول

**فصل ۵** 

**درس اول: تابع و مقدمات آن**

۲۴۵	■ زوج مرتب
۲۴۵	■ رابطه
۲۴۶	■ تابع
۲۴۹	■ مسائل نمونه درس ۱
۲۵۰	■ پاسخ مسائل نمونه درس ۱
۲۵۱	■ تمرین درس ۱
۲۵۳	■ <b>درس دوم: دامنه و برد</b>
۲۵۵	■ به دست آوردن دامنه از روی نمایش جبری
۲۵۷	■ نام‌گذاری توابع و مقدار تابع در نقطه
۲۶۰	■ تابع خطی
۲۶۱	■ مدل‌سازی با تابع
۲۶۲	■ محاسبه‌ی برد توابع در نمایش جبری
۲۶۵	■ مسائل نمونه درس ۲
۲۶۷	■ پاسخ مسائل نمونه درس ۲
۲۷۲	■ تمرین درس ۲

**فصل ۶** 

**درس اول: مقدماتی از شمارش**

۳۱۳	■ تناظر یک‌به‌یک
۳۱۳	■ اصل مثنم
۳۱۴	■ اصل شمول و عدم شمول

۳۵۳	<b>درس سوم: ترکیب</b>	۳۲۵	مسائل نمونه درس ۱
۳۵۳	■ معرفی ترکیب و ارتباط دادن آن با تبدیل	۳۲۷	پاسخ مسائل نمونه درس ۱
۳۵۵	■ تعداد زیرمجموعه‌های $r$ عضوی یک مجموعه‌ی $n$ عضوی	۳۳۲	تمرین درس ۱
۳۵۷	■ بسط دوجمله‌ای نیوتن	۳۳۶	پاسخ تمرین درس ۱
۳۵۷	■ اتحادهای ترکیبیاتی	۳۳۷	<b>درس دوم: جایگشت</b>
۳۵۸	■ تقسیم $r$ شیء یکسان بین $k$ نفر	۳۳۷	■ جایگشت خطی بدون تکرار
۳۵۹	■ مسأله‌ی مسیر	۳۳۹	■ جایگشت $r$ شیء از $n$ شیء متمایز (تبدیل)
۳۶۱	مسائل نمونه درس ۳	۳۴۰	■ جایگشت با تکرار
۳۶۴	پاسخ مسائل نمونه درس ۳	۳۴۰	■ جایگشت با شرایط خاص
۳۷۰	تمرین درس ۳	۳۴۳	■ جایگشت دوری
۳۷۴	پاسخ تمرین درس ۳	۳۴۶	مسائل نمونه درس ۲
۳۷۵	<b>سؤالات المپیاد</b>	۳۴۷	پاسخ مسائل نمونه درس ۲
۳۷۹	<b>راهنمای حل سؤالات المپیاد</b>	۳۴۹	تمرین درس ۲
		۳۵۲	پاسخ تمرین درس ۲

۳۸۵	<b>آمار و احتمال</b>	۳۸۵	<b>درس اول: احتمال یا اندازه‌گیری شانس</b>
۴۲۰	<b>درس دوم: آمار</b>	۳۸۹	■ اعمال بر روی پیشامدها
۴۲۳	مسائل نمونه درس ۲	۳۹۲	■ احتمال در فضاهای گسسته‌ی محدود
۴۲۴	پاسخ مسائل نمونه درس ۲	۳۹۶	مسائل نمونه درس ۱
۴۲۵	تمرین درس ۲	۴۰۰	پاسخ مسائل نمونه درس ۱
۴۲۶	<b>سؤالات المپیاد</b>	۴۱۰	تمرین درس ۱
۴۲۷	<b>راهنمای حل سؤالات المپیاد</b>	۴۱۹	پاسخ تمرین درس ۱

## فصل ۷

### درس اول: احتمال یا اندازه‌گیری شانس

- اعمال بر روی پیشامدها
- احتمال در فضاهای گسسته‌ی محدود
- مسائل نمونه درس ۱
- پاسخ مسائل نمونه درس ۱
- تمرین درس ۱
- پاسخ تمرین درس ۱

## مجموعه و دنباله‌ها

## سخنی با دبیر

همکار گرامی: در این کتاب فصل ۱، در ۴ درس ارائه شده است.

۱. **مجموعه‌ها:** ممکن است به نظر برسد پرداختن به جبر مجموعه‌ها در این بخش جایگاهی ندارد. مخصوصاً با علم به این که به این بحث در سال آتی و در قالب کتاب آمار و احتمال پرداخته خواهد شد. ولی از نظر نویسنده، آشنایی با اعمالی مثل تفاضل متعارف یا قوانینی مثل قانون مورگان ولو بدون دانستن نامشان، در حل مسائل ترکیبیات و احتمال به دانش آموز کمک می‌کند. همچنین با این که می‌توان از قوانینی مثل توزیع پذیرسی یا قانون جذب و... صرف نظر کرد ولی تسلط به این قوانین می‌تواند سرعت عمل دانش آموزان را در پاسخ گویی به تست‌ها افزایش دهد.

۲. **الگو و دنباله:** در این بخش پراگماتیسم در سطوح مختلف ساده و دشوار تأکید شده است و این نکته که جملات عمومی دنباله‌های عددی لزوماً متحصص به فرد نیستند.

۳ و ۴. **دنباله‌های حسابی و هندسی:** در این دو بخش ضمن معرفی فرمول‌ها و نکات مفید، فرمول‌های مجموع جملات دنباله‌ها به ویژه در دنباله‌های هندسی تحت عنوان «بیشتر بدانیم» مورد توجه قرار گرفته است. با این که مجموع جملات دنباله‌ها از مباحث کتاب درسی نیست ولی با توجه به مثال‌های ارائه شده می‌تواند برای دانش آموزان ممتاز بسیار جذاب و مفید باشد.

## سخنی با دانش آموز

دانش آموز عزیز: می‌توانیم این فصل را به دو بخش کلی مجموعه‌ها و دنباله‌ها تقسیم کنیم.

**مجموعه‌ها:** از این بخش مستقیم در کنکور سؤال مطرح می‌شود و همچنین اگر به این بخش تسلط کافی نداشته باشید حل برخی از سؤالات ترکیبیات و احتمال در فصل‌های ۶ و ۷ ساده‌تر خواهد شد.

**الگو و دنباله‌ها:** از این بخش به طور مستقیم در کنکور سؤال مطرح می‌شود. بحث مجموع جملات دنباله‌ها از مباحث کتاب درسی نیست ولی مطالعه آن به دانش آموزان ممتاز و مستعد توصیه می‌شود. لازم به ذکر است که بحث الگو و دنباله برای دانش آموزان علاقمند به ریاضی جذابیت ویژه‌ای دارد و همین امر باعث شده است طراحان سؤالات الهیاده توجه ویژه‌ای به این بحث داشته باشند.



## فهرست مطالب فصل

۳۵	– دنباله‌ی بازگشتی	۳	<b>درس اول: مجموعه‌ها</b>
۳۶	مسائل نمونه درس ۱	۳	■ مقدمات و یادآوری
۳۷۸	پاسخ مسائل نمونه درس ۱	۶	■ بازه
۳۹	تمرین درس ۱	۶	– انواع بازه در نمایش‌های مختلف
۴۱	<b>درس سوم: دنباله‌ی حسابی</b>	۶	– اجتماع، اشتراک و تقاضل بازه‌ها
۴۱	■ جمله‌ی عمومی دنباله‌ی حسابی	۷	■ مجموعه‌های متناهی و نامتناهی
۴۵	مسائل نمونه درس ۳	۹	■ مجموعه‌ی مرجع و مجموعه‌ی متمم
۴۶	پاسخ مسائل نمونه درس ۳	۱۱	■ جبر مجموعه‌ها
۴۸	تمرین درس ۳	۱۵	■ دو مجموعه‌ی جدا از هم
۵۰	پاسخ تمرین درس ۳	۱۶	■ روابط بین تعداد اعضاء مجموعه‌ها (۱)
۵۱	<b>درس چهارم: دنباله‌ی هندسی</b>	۱۹	■ روابط بین تعداد اعضاء مجموعه‌ها (۲)
۵۱	■ جمله‌ی عمومی دنباله‌ی هندسی	۲۱	مسائل نمونه درس ۱
۵۶	– یک تعبیر هندسی زیبا	۲۲	پاسخ مسائل نمونه درس ۱
۵۷	مسائل نمونه درس ۴	۲۵	تمرین درس ۱
۵۸	پاسخ مسائل نمونه درس ۴	۲۹	پاسخ تمرین درس ۱
۶۰	تمرین درس ۴	۳۰	<b>درس دوم: الگو و دنباله</b>
۶۲	پاسخ تمرین درس ۴	۳۰	■ الگو
۶۳	<b>سؤالات المپیاد</b>	۳۲	– الگوی خطی
۶۶	<b>راهنمای حل سؤالات المپیاد</b>	۳۲	■ دنباله



## مقدمات و یادآوری

دانش‌آموزان ممتاز معمولاً مفاهیم و قوانین مجموعه‌ها را به سادگی درک می‌کنند. برای یادآوری مفاهیم مجموعه‌ها که در سال‌های گذشته مطرح شده، تعدادی مثال حل می‌کنیم و سپس مفاهیم کتاب درسی را مطرح کرده و در هر مورد به حل مثال‌های مربوط می‌پردازیم.

مجموعه‌ی  $A$  را با اعضا و مجموعه‌ی  $B$  را با نمادهای ریاضی نمایش دهید.

$$A = \{x^2 \mid x = \frac{y}{4}, 2y \in \mathbb{N}, x \leq 1\} \quad B = \{3, 6, 12, 24, \dots\}$$

حل.

$$x: \frac{1}{4}, \frac{2}{4}, 1, \frac{4}{4}, \frac{5}{4}, \dots$$

برای یافتن اعضای  $A$ ، باید اعداد مورد نظر را بنویسیم.

$$x: \frac{1}{4}, \frac{1}{2}, \frac{1}{2}, \frac{2}{4}, \frac{5}{4}, 1$$

حال  $x$ ها را از روی اعداد با شرط  $x \leq 1$  تشکیل می‌دهیم.

$$A = \left\{ \frac{1}{16}, \frac{1}{4}, \frac{1}{4}, \frac{4}{4}, \frac{25}{16}, 1 \right\}$$

برای نوشتن مجموعه‌ی  $B$  توجه کنید که اگر اعضای مجموعه را بر ۳ تقسیم کنیم، اعداد حاصل، توانی از ۲ هستند.

$$B = \{3 \times 1, 3 \times 2, 3 \times 4, \dots\} = \{3 \times 2^k \mid k \in \mathbb{N}\}$$

تمام زیرمجموعه‌های مجموعه‌ی  $A = \{1, \{1\}, \emptyset\}$  را بنویسید.

زیرمجموعه‌های مجموعه‌ی  $A$  عبارتند از:

$$\{\emptyset\}, \{1\}, \{\{1\}\}, \{\emptyset, 1\}, \{\emptyset, \{1\}\}, \{1, \emptyset\}, \{1, \{1\}\}, \{\emptyset, 1, \{1\}\}$$

لازم به یادآوری است که یک مجموعه‌ی  $n$  عضوی،  $2^n$  زیرمجموعه دارد. اثبات این موضوع را در فصل‌های بعدی خواهید دید. همان‌طور که در مثال بالا مشاهده کردید مجموعه‌ی سه عضوی  $A$  دارای ۸ زیرمجموعه است.



## تذکر

دقت شود که مجموعه‌ی  $\emptyset$  برابر تهی است و عضوی ندارد در حالی که مجموعه‌ی  $\{\emptyset\}$  مجموعه‌ای است با یک عضو و عضو آن مجموعه‌ی تهی است. برای یک تمثیل ساده می‌توان مجموعه‌ی تهی را با یک جعبه‌ی خالی که چیزی در آن نیست و یک مجموعه‌ی مثل  $\{\emptyset\}$  را می‌توان به عنوان جعبه‌ای که داخل آن یک جعبه‌ی خالی است تشبیه کرد. جعبه‌ی خالی که جعبه‌ی خالی، دیگر خالی نیست.

اگر به اعضای مجموعه‌ی  $A$ ، دو عضو اضافه شود، به تعداد زیرمجموعه‌هایش ۴۸ واحد افزوده می‌شود. تعداد اعضای مجموعه‌ی  $A$  چندانست؟

حل. اگر مجموعه‌ی  $A$  دارای  $n$  عضو باشد، آنگاه  $2^n$  زیرمجموعه خواهد داشت. بنابراین:

$$48 + (\text{تعداد زیرمجموعه‌های مجموعه‌ی } A) = (\text{تعداد زیرمجموعه‌های مجموعه‌ی جدید که } 2 + n \text{ عضو دارد})$$

$$2^{n+2} = 2^n + 48 \Rightarrow 2^{n+2} - 2^n = 48 \Rightarrow 2^n(2^2 - 1) = 48 \Rightarrow n = 4$$

(۱) برای مجموعه‌ی  $B$  می‌توان فرمول‌های دیگری یافت. در واقع جواب نوشته شده، یکی از جواب‌هاست. دلیل این موضوع را در بخش الگو و دنباله خواهید دید.

دیده...



مثال ۴

اگر  $A = \{a, b, c, d, e, f\}$  و  $B = \{c, d, g\}$  باشند تعداد مجزوعه‌هایی مانند  $X$  را بیابید که در رابطه‌ی  $(A \cap B) \subseteq X \subseteq (A \cup B)$  صدق می‌کنند.

حل. مجموعه‌های  $A \cup B$  و  $A \cap B$  را تشکیل می‌دهیم.

$$A \cup B = \{a, b, c, d, e, f, g\}, \quad A \cap B = \{c, d\}$$

مجموعه‌ی  $X$  حتماً باید اعضای  $c$  و  $d$  را داشته باشد و نیز می‌تواند از اعضای  $\{a, b, e, f, g\}$  عضو داشته باشد. یعنی تعداد  $X$ ‌های متفاوت، همان تعداد زیرمجموعه‌های یک مجموعه‌ی ۵ عضوی است.

$$\text{تعداد مجموعه‌های } X = 2^5 = 32$$



مثال ۵

مجموعه‌ی  $A = \{a, b, c, d, e, f, g, h\}$  چند زیرمجموعه دارد که حتماً شامل  $a$  و  $c$  باشد ولی شامل  $b, h$  نباشد؟

حل. زیرمجموعه‌ی مورد نظر به صورت رویه‌رو است.  $\{a, c, \{d, e, f, g\}\}$  {اعضای زیرمجموعه‌ای از}

اعضای  $b$  و  $h$  را انتخاب نمی‌کنیم پس مجموعه‌ی مورد نظر شامل  $a$  و  $c$  است و اعضای  $d, e, f, g$  و نیز می‌توانند عضو آن باشند یا نباشند. پس عضوهای زیرمجموعه‌ی دلخواه از  $\{d, e, f, g\}$  را به همراه  $a$  و  $c$  در یک مجموعه قرار می‌دهیم.

$$\text{تعداد زیرمجموعه‌ها} = 2^4 = 16$$



مثال ۶

$B = \dots$  با هم برابر باشند.

$$\Rightarrow a^2 + 2 \geq 2$$

پس  $a^2 + 2$  نمی‌تواند با ۱ برابر باشد:

$$a^2 + 2 = 3 \Rightarrow a^2 = 1 \Rightarrow a = 1 \text{ یا } a = -1$$

$a = 1$  غیر قابل قبول است چون با جایگذاری  $a = 1$  هر دو عضو مجموعه‌ی  $A$  برابر ۳ خواهند شد.



مثال ۷

اگر  $A \subseteq B$ ، عبارت  $[(A \cap B) \cup B] - [(A \cup B) \cap A]$  را تا حد امکان ساده کنید.

اگر  $A \subseteq B$  باشد می‌توان نتیجه گرفت:  $A \cup B = B$  و  $A \cap B = A$

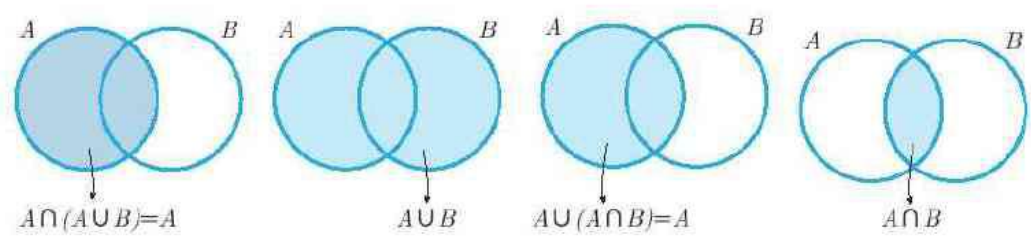
$$[(A \cap B) \cup B] - [(A \cup B) \cap A] = (A \cup B) - (B \cap A) = B - A$$




په اژای هر دو مجموعه‌ی دلخواه  $A$  و  $B$  می‌توان نوشت:

$$(A \cup B) \cap A = A, \quad (A \cap B) \cup A = A$$

دو رابطه‌ی فوق به قانون جذب در مجموعه‌ها معروف هستند. می‌توان درستی این روابط را به کمک نمودار ون تحقیق کرد.



یادآوری ۱



اثبات قانون جذب:

چون  $(A \cap B)$  زیرمجموعه‌ی  $A$  است، پس اجتماع آن دو، برابر مجموعه‌ی بزرگ‌تر یعنی  $A$  است.

$$(A \cap B) \subseteq A \Rightarrow (A \cap B) \cup A = A$$

چون  $A$  زیرمجموعه‌ی  $(A \cup B)$  است، پس اشتراک آن دو، برابر مجموعه‌ی کوچک‌تر یعنی  $A$  است.

$$A \subseteq (A \cup B) \Rightarrow (A \cup B) \cap A = A$$

بنابر قانون جذب می‌توان مثال  $\forall$  را حتی بدون در نظر گرفتن فرضی مثال، حل کرد.

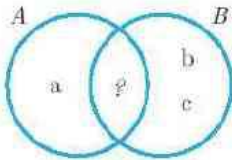
$$[(A \cap B) \cup B] - [(A \cup B) \cap A] = B - A$$

اگر  $A - B = \{a\}$  و  $B - A = \{b, c\}$  باشد مجموعه‌ی  $(A \cup B) - (A \cap B)$  را تشکیل دهید.

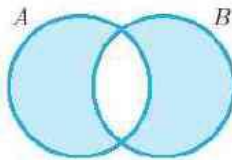
می‌توان به کمک نمودار ون مسئله را بهتر درک کرد.

با کمی دقت می‌توان مترجه شد که  $(A \cup B) - (A \cap B)$  در واقع اجتماع مجموعه‌های  $(A - B)$  و  $(B - A)$  است.

$$(A \cup B) - (A \cap B) = (A - B) \cup (B - A) = \{a, b, c\}$$



مثال ۸



اجتماع مجموعه‌های  $(A - B)$  و  $(B - A)$  را اصطلاحاً تفاضل متقارن مجموعه‌های  $A$  و  $B$  می‌نامند و آن را با نماد  $A \Delta B$  نمایش می‌دهند.<sup>۱</sup>

$$A \Delta B = (A - B) \cup (B - A)$$

بدراحتی و با کمک نمودار ون می‌توان تساوی رویه‌رو را نتیجه گرفت:  $A \Delta B = (A \cup B) - (A \cap B)$

عمل تفاضل متقارن برای یافتن اعضای است که از دو مجموعه  $A$  و  $B$  تنها در یکی عضویت دارند نه هر دو. به عنوان مثال اگر  $A$  مجموعه‌ی اعداد بخش پذیر بر ۳ و  $B$  مجموعه‌ی اعداد بخش پذیر بر ۵ باشد مجموعه‌ی  $A \Delta B$  مجموعه‌ی اعدادی است که تنها بر ۳ یا تنها بر ۵ بخش پذیرند.

$$A = \{3, 6, 9, 12, 15, 18, 21, \dots\} \quad B = \{5, 10, 15, 20, 25, 30, \dots\}$$

$$A \Delta B = \{3, 5, 6, 9, 10, 12, 18, 20, 21, \dots\}$$



نکته

اگر  $A_i = \{x \mid i \leq x \leq i^2 + 1\}$  حاصل  $A_1 \cup A_2 \cup \dots \cup A_{1000}$  را با نمادهای ریاضی بنویسید.

در این نوع نگارش،  $A$  اصطلاحاً اندیس  $A$  است. می‌توان نوشت:

$$\left. \begin{array}{l} A_1 = \{x \mid 1 \leq x \leq 2\} \\ A_2 = \{x \mid 2 \leq x \leq 5\} \\ A_3 = \{x \mid 3 \leq x \leq 10\} \\ \vdots \\ A_{1000} = \{x \mid 1000 \leq x \leq 1000001\} \end{array} \right\} \Rightarrow A_1 \cup A_2 \cup \dots \cup A_{1000} = \{x \mid 1 \leq x \leq 1000001\}$$

(۱) علامت  $\Delta$  را دلتا می‌نامند.



نکته ۲

پدای (تجمیع عمل اجتماع یا اشتراک تعداد زیادی مجموعه، آن‌ها را با نماد  $\cup$  و  $\cap$  اندیسن نماد گذاری می‌کنیم و به صورت زیر می‌نویسیم.

$$\bigcup_{i=1}^n A_i = A_1 \cup A_2 \cup \dots \cup A_n, \quad \bigcap_{i=1}^n A_i = A_1 \cap A_2 \cap \dots \cap A_n$$

مثال ۱۰

اگر  $A_i$  مجموعه‌ی شماره‌های طبیعی عدد  $2i$  باشد حاصل عبارت  $\bigcap_{i=1}^n A_i$  را تا حد امکان ساده کنید. حل. با جاگذاری از ۱ تا  $10$  می‌توان نوشت:

$$\begin{aligned} \bigcap_{i=1}^{10} A_i &= A_1 \cap A_2 \cap \dots \cap A_{10} \\ &= \left( \begin{array}{c} \text{مجموعه‌ی شماره‌های} \\ \text{طبیعی } 4 \end{array} \right) \cap \left( \begin{array}{c} \text{مجموعه‌ی شماره‌های} \\ \text{طبیعی } 8 \end{array} \right) \cap \dots \cap \left( \begin{array}{c} \text{مجموعه‌ی شماره‌های} \\ \text{طبیعی } 40 \end{array} \right) \\ &= \text{مجموعه‌ی شماره‌های طبیعی } 4 \\ &= \{1, 2, 3\} \end{aligned}$$



بازه

به محدوده‌ای از اعداد حقیقی که بین دو عدد حقیقی مشخص هستند یا از یک عدد حقیقی مشخص بزرگ‌تر یا از آن کوچک‌تر هستند، یک بازه از اعداد حقیقی می‌گوییم.

انواع بازه در نمایش‌های مختلف

بازه	نوع بازه	نمایش مجموعه‌ای	نمایش هندسی
$(a, b)$	باز	$\{x   x \in \mathbb{R}, a < x < b\}$	
$(a, b]$	نیم‌باز	$\{x   x \in \mathbb{R}, a < x \leq b\}$	
$[a, b)$	نیم‌باز	$\{x   x \in \mathbb{R}, a \leq x < b\}$	
$[a, b]$	بسته	$\{x   x \in \mathbb{R}, a \leq x \leq b\}$	
$(a, +\infty)$	باز	$\{x   x \in \mathbb{R}, a < x\}$	
$[a, +\infty)$	نیم‌باز	$\{x   x \in \mathbb{R}, a \leq x\}$	
$(-\infty, a)$	باز	$\{x   x \in \mathbb{R}, x < a\}$	
$(-\infty, a]$	نیم‌باز	$\{x   x \in \mathbb{R}, x \leq a\}$	

اجتماع، اشتراک و تفاضل بازه‌ها

همانند سایر مجموعه‌ها، می‌توان اعمال مجموعه‌ای را بر روی بازه‌ها نیز انجام داد.

حاصل عبارت‌های زیر را تا حد امکان ساده کنید.

(الف)  $(-1, 3] \cap (1, 4)$       (ب)  $(-2, 4] - (-6, 4)$       (ج)  $(-1, 4) \cup [4, +\infty)$

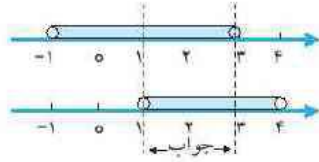
مثال ۱۱

حل. معمولاً ساده کردن عبارت‌های شامل بازه‌ها کار ساده‌ای است اما در صورت نیاز می‌توان عملیات را در نمایش هندسی بازه‌ها (نمایش روی محور اعداد) انجام داد.

۱) در ریاضی  $(a, b)$  می‌تواند به معنای اعداد حقیقی بین  $a$  و  $b$  باشد همچنین می‌تواند معادل نقطه‌ای با طول  $a$  و عرض  $b$  باشد و نیز می‌تواند به معنی بزرگ‌ترین مقسوم‌علیه مشترک اعداد طبیعی  $a$  و  $b$  باشد. نحوه برداشت از نماد  $(a, b)$  به بیعت مورد نظر بستگی دارد.

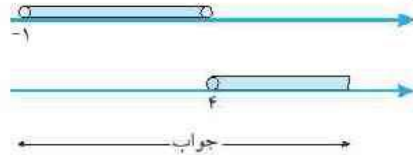


$$(-1, 3] \cap (1, 4) = (1, 3] \text{ (الف)}$$



(ب) تنها عضو  $(-2, 4]$  که عضو  $(-6, 4)$  نیست، عدد ۴ است.  $(-2, 4] - (-6, 4) = \{4\}$

$$(ج) (-1, 4) \cup [4, +\infty) = (-1, +\infty)$$



حل.  $\bigcup_{i=1}^{100} i$  را به دست آورید.

مثال ۱۲

حل.

$$= \{1, 2, 3, \dots, 100\}$$

اگر  $A_i = (-2i - 1, i^2)$  و  $i$  عدد طبیعی باشد حاصل عبارت  $A_i$

حل. با جاگذاری آنها، بازه‌های  $A_1$  و  $A_2$  و ... را تشکیل می‌دهیم.

$$A_1 = (-3, 1), A_2 = (-5, 4), A_3 = (-7, 9), \dots, A_{20} = (-41, 400)$$

حل. زیرمجموعه‌ی تمام بازه‌های  $A_2$  تا  $A_{20}$  است. پس اشتراک بازه‌ها همان  $A_1$  است.  $\bigcap_{i=1}^{20} A_i = (-3, 1)$

عدد طبیعی  $n$  را طوری بیابید که بازه  $\left[\frac{n-1}{n}, \frac{n+1}{n}\right]$  شامل سه عدد حسابی باشد.

مثال ۱۴

حل. می‌دانیم  $1 + \frac{1}{n} > 1$  و  $1 - \frac{1}{n} < 1$  یعنی بازه‌ی مورد نظر حتماً شامل عدد ۱ است.

از طرفی چون  $n \in \mathbb{N}$  پس عدد  $\frac{1}{n}$  حداکثر برابر ۱ است و این به ازای  $n = 1$  اتفاق می‌افتد و تنها در همین شرایط است که بازه می‌تواند شامل اعدادی حسابی غیر از عدد ۱ باشد.

$$n = 1 \Rightarrow \left[\frac{n-1}{n}, \frac{n+1}{n}\right] = [0, 2]$$

### مجموعه‌های منتهای و نامنتهای

اگر تعداد اعضای مجموعه‌ای برابر یک عدد حسابی باشد، مجموعه را منتهای (یا پایان) و در غیر این صورت آن را نامنتهای می‌نامیم. به عنوان مثال مجموعه‌ی اعداد طبیعی  $400$  رقمی، مجموعه‌ی تمام اجرام آسمانی و مجموعه‌ی تمام انسان‌ها، مثال‌هایی از مجموعه‌ی منتهای و مجموعه‌ی اعداد طبیعی، مجموعه‌ی  $(1, 2)$  و مجموعه‌ی اعداد گنگ بین  $10^{-6}$  و  $10^{-5}$ ، مثال‌هایی از مجموعه‌های نامنتهای هستند.

مشخص کنید کدام یک از مجموعه‌های زیر منتهای و کدام یک نامنتهای هستند. (با ذکر دلیل)

مثال ۱۵

(الف) مجموعه‌ی اعداد حقیقی کوچک‌تر از ۲ و بزرگ‌تر از  $-3$

(ب) مجموعه‌ی اعداد اول به صورت  $2n + 3$  ( $n \in \mathbb{N}$ )

(ج) مجموعه‌ی اعداد اول که یک واحد از مربع یک عدد صحیح کوچک‌ترند.



$$A = \left\{ \frac{n^2}{n+4} \mid n \in \mathbb{N}, \frac{n^2}{n+4} \in \mathbb{N} \right\} \quad (د)$$

(ه) مجموعه‌ی اعداد گنگ  $\sqrt{2}$  و  $\sqrt{3}$

حل. الف) مجموعه‌ی مورد نظر همان بازه‌ی  $(2, -3)$  است که شامل بی‌شمار عدد حقیقی است پس نامتناهی است.  
 ب) اعداد اول به جز عدد ۲ همه فرد هستند. در بین اعداد فرد، به جز عدد ۳ می‌توان همه را به صورت مجموع یک عدد زوج طبیعی با ۳ نوشت پس مجموعه‌ی مورد نظر همان اعداد اول به استثنای اعداد ۲ و ۳ است. بنابراین نامتناهی است.

ج) اگر  $x$  عضو مجموعه‌ی مورد نظر باشد می‌توان نوشت:  $x = a^2 - 1$

$$x = (a - 1)(a + 1)$$

عدد  $x$  عددی است اول پس نمی‌تواند حاصل‌ضرب دو عدد دیگر باشد مگر این که  $(a - 1)$  برابر ۱ باشد.

$$a - 1 = 1 \Rightarrow a = 2 \Rightarrow x = 3$$

بنابراین مجموعه‌ی فوق تک‌عضوی و متناهی است.

د) عدد  $\frac{n^2}{n+4}$  عددی است طبیعی پس باید  $n^2$  بر  $n+4$  بخش‌پذیر باشد. می‌توان نوشت:

$$\frac{n^2}{n+4} = \frac{n^2 - 16 + 16}{n+4} = \underbrace{\left( \frac{n-4}{1} \right)}_{\text{سقیم}} + \frac{16}{n+4}$$

برای این که حاصل طبیعی باشد، باید  $(n+4)$  از مقسوم‌علیه‌های ۱۶ باشد و تعداد  $n$  های مورد نظر محدود است پس مجموعه متناهی است.  $n = 4, 12$

ه) میانگین هر دو عدد، عددی است بین آن دو یعنی  $\sqrt{2} < \frac{\sqrt{2} + \sqrt{3}}{2} < \sqrt{3}$ . به همین ترتیب می‌توان بی‌شمار عدد گنگ دیگر مثلاً بین  $\frac{\sqrt{2} + \sqrt{3}}{2}$  و  $\sqrt{2}$  و یا بین  $\sqrt{3}$  و  $\frac{\sqrt{2} + \sqrt{3}}{2}$  نوشت پس مجموعه نامتناهی است.



نکته ۳

اگر  $a < b$  آنگاه تناسبی معادل یا شرط  $(c, d > 0)$  برقرار است:  $a < \frac{ac+bd}{c+d} < b$

اثبات:

$$a < b \xrightarrow{c>0} ac < bc \xrightarrow{+bd} ac + bd < bc + bd$$

$$\Rightarrow \frac{ac + bd}{c + d} < b \quad (I)$$

$$a < b \xrightarrow{d>0} ad < bd \xrightarrow{+ac} ac + ad < ac + bd$$

$$\Rightarrow a < \frac{ac + bd}{c + d} \quad (II)$$

حکم برقرار است.  $(I), (II) \Rightarrow$

به کمک نکته‌ی فوق و با انتخاب  $c$  و  $d$  مناسب می‌توان بین هر دو عدد متمایز، بی‌شمار عدد گنگ و بی‌شمار عدد گویا نوشت.  
 مثال ۱۶ بین اعداد  $\frac{1}{5}$  و  $\sqrt{2}$ ، یک عدد گنگ بنویسید.

حل. با انتخاب ضریب ۱ و ۲ می‌توان برای عدد مورد نظر به مثالی مناسب دست یافت.

$$\frac{1}{5} < \frac{2\sqrt{2} + \frac{1}{5}}{3} < \sqrt{2}$$



مثال ۱۷

مجموعه‌ی  $A = \left\{ \frac{3n-5}{n+1} \mid n \in \mathbb{N} \right\}$  را در نظر بگیرید. آیا این مجموعه عضوی دارد که برابر ۲ باشد؟ آیا عضوی دارد که برابر ۴ باشد؟  
 حل.  $\frac{3n-5}{n+1}$  را برابر ۲ و ۴ قرار می‌دهیم. اگر  $n$  به دست آمده عدد طبیعی باشد، پاسخ مسئله است.

$$\begin{aligned} \frac{3n-5}{n+1} = 2 &\Rightarrow 3n-5 = 2n+2 \Rightarrow n=7 && \text{قابل قبول} \\ \frac{3n-5}{n+1} = 4 &\Rightarrow 3n-5 = 4n+4 \Rightarrow n=-9 && \text{غیر قابل قبول} \end{aligned}$$

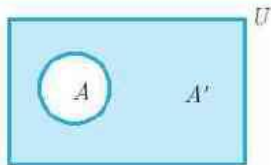


همان گونه که در مثال بالا دیده می‌شود در مبحث مجموعه‌ها، همانطور که از عضویت در یک مجموعه صحبت می‌شود، ممکن است عدم عضویت در مجموعه‌ای مورد نظر باشد یعنی مجموعه‌ای که شامل اعضای باشد که در مجموعه‌ی ما عضویت ندارند.

تعریف

**مجموعه‌ی مرجع.** در هر بحث از مجموعه‌ها، می‌توان مجموعه‌ای در نظر گرفت که تمام مجموعه‌های مورد بحث، زیرمجموعه‌ی آن باشند. این مجموعه را مجموعه‌ی مرجع می‌نامیم و آن را با  $U$  یا  $M$  نمایش می‌دهیم یعنی برای هر مجموعه  $A$  داریم:  $A \subseteq U$

تعریف



**مجموعه‌ی متمم.** متمم هر مجموعه مثل  $A$  که آن را با  $A'$  نمایش می‌دهیم، عبارت است از مجموعه‌ی اعضای  $U$  که عضو  $A$  نیستند و عضو  $U$  هستند. به عبارت دیگر  $A' = U - A$ . بدیهی است اگر  $U$  مشخص نیافتد، صحبت از  $A'$  بی‌معنی است.

به عنوان مثال، اگر دانش‌آموزان کلاس شما مجموعه‌ی  $A$  را تشکیل دهند و مجموعه‌ی مرجع را دانش‌آموزان کل دبیرستان در نظر بگیریم،  $A'$  برابر است با مجموعه‌ی تمام دانش‌آموزان دبیرستان که هم‌کلاس شما نیستند و اگر مرجع را کل دانش‌آموزان استان شما در نظر بگیریم، مجموعه‌ی  $A'$  بسیار بزرگ‌تر خواهد بود.

در هر مورد با توجه به مجموعه‌ی مرجع،  $A'$  را تشکیل دهید.

مثال ۱۸

(الف)  $A = \{2^n \mid n \in \mathbb{N}, n < 8\}$        $U = \{2^n \mid n \in \mathbb{W}, n < 15\}$

(ب)  $A = (-\infty, 2) \cup [4, +\infty)$        $U = \mathbb{R}$



(الف)

$$A = \{1, 2, 4\} \quad A' = \{5, 6, 7, 8, 10, 12, 14\}$$

$$A = \{1, 2, 4\} \quad A' = \{3, 5, 6, 7, 8, 10, 12, 14\}$$

$$A = \{1, 2, 4\} \quad A' = \{3, 5, 6, 7, 8, 10, 12, 14\}$$

(ب)

(ج)





(د) مجموعه‌ی  $A$  شامل حاصل ضرب‌های مختلف اعداد گویاست و اگر  $a$  را برابر  $1$  انتخاب کنیم،  $b$  هر عدد گویایی می‌تواند باشد

پس مجموعه‌ی  $A$  همان مجموعه‌ی اعداد گویاست.  $A' = \mathbb{Q} - A = \mathbb{Q} - \mathbb{Q} = \emptyset$



**مثال ۱۹**

اگر  $A = \{2x + 1 | x \in \mathbb{N}, x < 5\}$  و  $B = \{x | x^2 \geq 4, x \in \mathbb{Z}\}$  و  $M = \mathbb{Z}$ ، حاصل عبارت‌های زیر را به دست آورید.

(الف)  $B - A'$  (ب)  $A - B$

حل. مجموعه‌های  $A$  و  $A'$  و  $B$  را با اعضایشان نمایش می‌دهیم.

$A = \{3, 5, 7, 9\}$

$A' = \{\dots, -1, 0, 1, 2, 4, 6, 8, 10, 11, \dots\}$

$B = \{\dots, -3, -2, 2, 3, \dots\}$

(الف)  $B - A' = \{3, 5, 7, 9\}$  (ب)  $A - B = \emptyset$



**مثال ۲۰**

اگر  $A_i = \mathbb{R} - (-i, i)$  و  $U = \mathbb{R}$ ، حاصل عبارت زیر را به صورت بازه‌ای بنویسید.

$$\bigcap_{i=1}^{+\infty} A_i = ?$$

حل.  $A_i$  شامل اعداد بازه  $[-i, i]$  نیست بنابراین می‌توان  $A_i$ ها را به صورت زیر تشکیل داد:

$A'_1 = [-1, 1]$ ,  $A'_2 = [-2, 2]$ ,  $\dots$ ,  $A'_{+\infty} = [-1000000, 1000000]$

$A'_i$  زیرمجموعه‌ی سایر مجموعه‌هاست. پس اشتراکشان همان  $A'_1$  است.

$$\bigcap_{i=1}^{+\infty} A'_i = [-1, 1]$$



چند رابطه‌ی کاربردی. با توجه به تعاریف اولیه‌ی اجتماع، اشتراک و تفاضل و همچنین مجموعه‌های مرجع و متمم می‌توان روابط ساده‌ی زیر را نوشت. تحقیق در مورد درستی این تساوی‌ها به راحتی و به کمک نمودار ون ممکن است.

- |                            |                     |                     |
|----------------------------|---------------------|---------------------|
| ۱) $(A')' = A$             | ۲) $M' = \emptyset$ | ۳) $\emptyset' = M$ |
| ۴) $A \cup M = M$          | ۵) $A \cap M = A$   | ۶) $A \cup A' = M$  |
| ۷) $A \cap A' = \emptyset$ | ۸) $A - A' = A$     |                     |

و با توجه به تفاضل دو مجموعه به رابطه‌ی زیر توجه ویژه داشته باشید:

۹)  $A - B = A \cap B'$



**مثال ۲۱**

حاصل عبارت  $(A \cap M) - (A' - A)$  را به دست آورید.

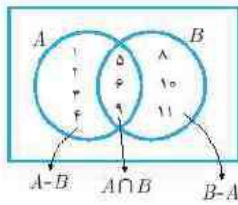
حل.  $(A \cap M) - (A' - A) = A - A' = A$

**مثال ۲۲**

اگر  $A \cap B' = \{1, 2, 3, 4\}$  و  $B \cap A' = \{8, 10, 11\}$  و  $A \cap B = \{5, 6, 9\}$ ، مجموعه‌های  $A$  و  $B$  را با اعضایشان نمایش دهید.

حل. دقت کنید که مجموعه‌ی مرجع داده نشده و این مسئله بدون در نظر گرفتن مجموعه‌ی مرجع، جواب ثابت دارد. می‌توانیم از روابط  $A \cap B' = A - B$  و  $B \cap A' = B - A$  استفاده کنیم و مسئله را به کمک نمودار ون بهتر درک کنیم.





یا توجه به نمودار ون داریم:

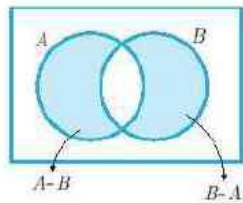
$$A = \{1, 2, 3, 4, 5, 6, 9\}$$

$$B = \{5, 6, 9, 8, 10, 11\}$$

همان گونه که می‌بینیم به کمک نمودار ون می‌توان به تساوی‌هایی مثل  $(A - B) \cup (A \cap B) = A$  دست یافت.

اگر  $A \cap B' = B \cap A'$  حاصل عبارت  $[(A \cup B) - (A \cap B)] - A$  را به دست آورید.

مثال ۲۳



همان گونه که از نمودار ون مشخص است، در حالت کلی مجموعه‌های  $(A - B)$  و  $(B - A)$  اشتراکی ندارند. حال که دو مجموعه‌ی بدون هیچ عضو اشتراکی با هم برابری پس هر دو تهی هستند.

$$\left. \begin{aligned} A - B = \emptyset &\Rightarrow A \subseteq B \\ B - A = \emptyset &\Rightarrow B \subseteq A \end{aligned} \right\} \Rightarrow A = B$$

$$[(A \cup B) - (A \cap B)] - A = [(A \cup A) - (A \cap A)] - A = (A - A) - A = \emptyset - A = \emptyset$$

حبرمجموعه‌ها

همان گونه که در بحث عبارت‌های جبری، از اتحادهای مفید و کاربردی برای حل مسائل دشوار یا حل سریع‌تر مسائل استفاده می‌شود، در بحث مجموعه‌ها نیز روابطی کاربردی وجود دارد که حل مسائل را ساده می‌کند. در این بخش به صورت اجمالی به معرفی و اثبات روابط به کمک نمودار ون یا به کمک روابط از پیش اثبات شده می‌پردازیم.

پایه‌تئوری ۲

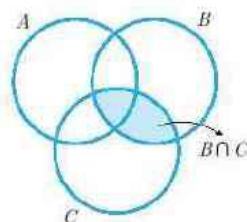
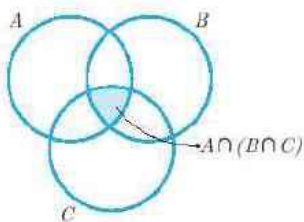
توانین (خواص) جبر مجموعه‌ها

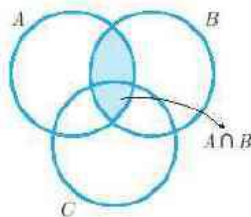
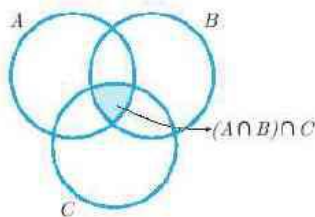
$$1) \left\{ \begin{aligned} A \cup B &= B \cup A \\ A \cap B &= B \cap A \end{aligned} \right. \quad \text{خاصیت جابه‌جایی}$$

می‌توان به راحتی به کمک نمودار ون، خاصیت جابه‌جایی را ثابت کرد. در واقع در اعمال اجتماع و اشتراک دو مجموعه، ترتیب مجموعه‌ها هیچ اهمیتی ندارد. در حالت کلی اگر تعداد مجموعه‌ها از ۲ به ۳ یا بیشتر افزایش یابد نیز روابط مشابهی به دست می‌آید. در حالتی که تعداد مجموعه‌ها ۳ تا باشد، خاصیت شرکت‌پذیری حاصل می‌شود.

$$2) \left\{ \begin{aligned} A \cup (B \cap C) &= (A \cup B) \cap C \\ A \cap (B \cup C) &= (A \cap B) \cup C \end{aligned} \right. \quad \text{خاصیت شرکت‌پذیری (انجمنی)}$$

اثبات شرکت‌پذیری عمل اشتراک



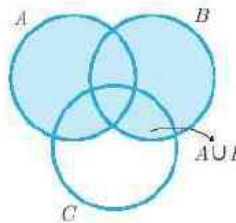
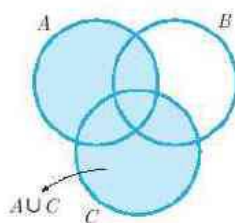
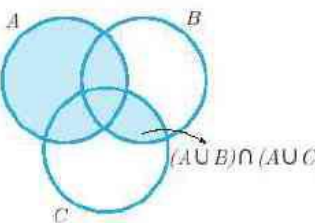
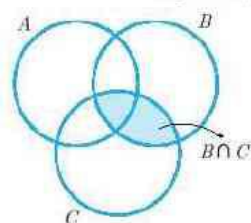
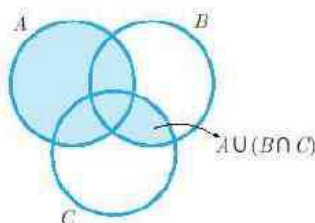


توجه شود که در خاصیت شرکت پذیری فقط عمل اجتماع یا اشتراک وجود دارند هر دو با هم، اگر هر دو عمل در ارتباط سه مجموعه وجود نداشته باشد خاصیت بخشی مورد استفاده قرار می گیرد.

$$۳) \begin{cases} A \cup (B \cap C) = (A \cup B) \cap (A \cup C) \\ A \cap (B \cup C) = (A \cap B) \cup (A \cap C) \end{cases}$$

خاصیت بخشی (توزیع پذیری)

این خاصیت همانند بخش عمل ضرب در جمع یا نهای عبارتهای جبری است. اثبات خاصیت بخشی اجتماع نسبت به اشتراک



به کمک قانون بخشی، عبارتهای زیر را بسط دهید.

مثال ۲۴

(ب)  $(A \cup B) \cap (C \cup D)$

(الف)  $A \cup (B \cap C \cap D)$

حل (الف) قانون بخشی محدودیتی در تعداد مجموعهها ندارد.

حل

$$A \cup (B \cap C \cap D) = (A \cup B) \cap (A \cup C) \cap (A \cup D)$$

(ب) در سوالات از این دست  $(A \cup B)$  را به شکل یک مجموعه می بینیم و در عبارت دوم بخش می کنیم.

$$\begin{aligned} (A \cup B) \cap (C \cup D) &= [(A \cup B) \cap C] \cup [(A \cup B) \cap D] \\ &= [(A \cap C) \cup (B \cap C)] \cup [(A \cap D) \cup (B \cap D)] \\ &= (A \cap C) \cup (B \cap C) \cup (A \cap D) \cup (B \cap D) \end{aligned}$$

حاصل عبارت زیر را تا حد امکان ساده کنید.

مثال ۲۵

$$[(A \cup B)' \cap (A \cup B)] \cup (A' \cap B)$$

حل. ابتدا عبارت داخل  $[\ ]$  را ساده می کنیم. « $A \cup$ » در هر دو برانتهز مشترک است. می توانیم از عکس قانون بخشی استفاده کنیم. (مشابه فاکتورگیری



در عبارات جبری

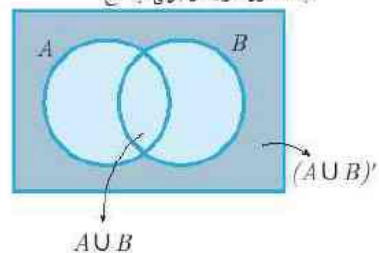
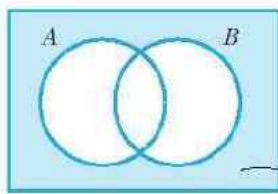
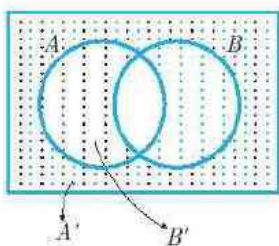
$$(\underline{A \cup B'}) \cap (\underline{A \cup B}) = A \cup (B' \cap B) = A \cup \emptyset = A$$

کل عبارت را می‌توان به صورت  $A \cup (A' \cap B)$  نوشت.

$$A \cup (A' \cap B) = \underbrace{(A \cup A')}_{M} \cap (A \cup B) = M \cap (A \cup B) = A \cup B$$



$$۳) \begin{cases} (A \cup B)' = A' \cap B' \\ (A \cap B)' = A' \cup B' \end{cases} \quad \text{قانون مورگان}$$



اثبات قانون مورگان برای اجتماع

ثابت کنید  $(A \cap B \cap C)' = A' \cup B' \cup C'$  (به کمک جبر مجموعه‌ها)

**مثال ۲۶**

حل. عبارت  $(A \cap B)$  را یک مجموعه در نظر می‌گیریم و از مورگان برای دو مجموعه استفاده می‌کنیم.

$$[(A \cap B) \cap C]' = \underbrace{(A \cap B)'}_{\text{مورگان}} \cup C' = \underbrace{(A' \cup B')}_{\text{مورگان}} \cup C' = A' \cup B' \cup C'$$



قانون مورگان برای هر تعداد مجموعه قابل تعمیم است یعنی:

$$\left( \bigcap_{i=1}^n A_i \right)' = \bigcup_{i=1}^n A_i'$$

$$\left( \bigcup_{i=1}^n A_i \right)' = \bigcap_{i=1}^n A_i'$$

**نکته ۴**

**مثال**



$$A \cup (A \cap B) = (A \cap M) \cup (A \cap B) \stackrel{\text{عکس چینی}}{=} A \cap (B \cup M) = A \cap M = A$$

$$A \cap (A \cup B) = (A \cup \emptyset) \cap (A \cup B) \stackrel{\text{عکس چینی}}{=} A \cup (B \cap \emptyset) = A \cup \emptyset = A$$

حاصل را تا حد امکان ساده کنید.

مثال ۲۸

$$(A \cup B \cup C) \cap [(C - B) \cup (B - A)] \cup A \cup B \cup C$$

حل: بر خلاف ظاهر پیچیده و ترسناک سوال، فرم  $\square \cap (\square \cup \square)$  دیده می شود و می دانیم که جواب همان  $\square$  است.

$$(A \cup B \cup C) \cap [(C - B) \cup (B - A)] \cup A \cup B \cup C \stackrel{\text{چنینا}}{=} A \cup B \cup C$$

درستی تساوی های زیر را ثابت کنید.

مثال ۲۹

- (الف)  $A - (A \cap B) = A - B$   
 (ب)  $(A - B) - C = A - (B \cup C)$   
 (ج)  $(A - B) \cup (B - A) = (A \cup B) - (A \cap B)$

حل:

$$(الف) \quad A - (A \cap B) = A \cap (A \cap B)' \stackrel{\text{مورگان}}{=} A \cap (A' \cup B') \stackrel{\text{چینی}}{=} \underbrace{(A \cap A')}_{\emptyset} \cup (A \cap B')$$

$$= \emptyset \cup (A - B) = A - B$$

(ب)  $(A - B) - C = (A \cap B') \cap C' \stackrel{\text{شرکت پذیری}}{=} A \cap (B' \cap C')$

$$\stackrel{\text{عکس مورگان}}{=} A \cap (B \cup C)' = A - (B \cup C)$$

(ج)  $(A - B) \cup (B - A) = (A \cap B') \cup (B \cap A') \stackrel{\text{چینی}}{=} [(A \cap B') \cup B] \cap [(A \cap B') \cup A']$

$$\stackrel{\text{چینی}}{=} \left[ (A \cup B) \cap \underbrace{(B \cup B')}_{M} \right] \cap \left[ \underbrace{(A \cup A')}_{M} \cap (B' \cup A') \right]$$

$$= [(A \cup B) \cap M] \cap [M \cap (B' \cup A')] = (A \cup B) \cap (B \cap A)' = (A \cup B) - (A \cap B)$$

حاصل را تا حد امکان ساده کنید.

مثال ۳۰

- (الف)  $A - [A' - (A - B)]$   
 (ب)  $[A \cap (A' \cup B)] \cup [B \cap (A' \cup B')]$

حل:

$$(الف) \quad A - [A' - (A - B)] = A - [A' - (A \cap B')] = A - [A' \cap (A \cap B)']$$

$$\stackrel{\text{مورگان}}{=} A - \left[ \underbrace{A' \cap (A' \cup B)}_{\text{چینی}} \right] = A - A' = A$$

$$(ب) \quad [A \cap (A' \cup B)] \cup [B \cap (A' \cup B')] \stackrel{\text{چینی}}{=} \left[ \underbrace{(A \cap A')}_{\emptyset} \cup (A \cap B) \right] \cup \left[ (B \cap A') \cup \underbrace{(B \cap B')}_{\emptyset} \right]$$

$$= (A \cap B) \cup (B \cap A') \stackrel{\text{عکس چینی}}{=} B \cap \underbrace{(A \cup A')}_{M} = B \cap M = B$$



## مثال ۳۱

دابت کنید اگر  $A \cap B = A \cap C$  و  $A \cup B = A \cup C$  می‌توان نتیجه گرفت  $B = C$

حل

$$\begin{aligned} B &= \underbrace{B \cup (A \cap B)}_{\text{عکس جنب}} = \underbrace{B \cup (A \cap C)}_{\text{مربع}} = \underbrace{(B \cup A) \cap (B \cup C)}_{\text{یعنی}} \\ &= \underbrace{(A \cup C) \cap (B \cup C)}_{\text{مربع}} = \underbrace{(A \cap B) \cup C}_{\text{عکس یعنی}} = \underbrace{(A \cap C) \cup C}_{\text{مربع}} = C \end{aligned}$$

همان گونه که در این چند مثال دیدیم، جبر مجموعه‌ها ابزارهای قوی در درک مفاهیم مجموعه‌هاست. • با توجه به این که در کتاب درسی اشاری‌های مستقیمی به این مبحث نشده به همین حد اکتفا می‌کنیم.

## دو مجموعه‌ی جدا از هم

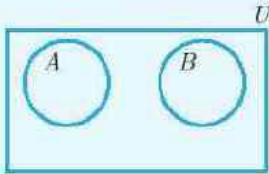
به دو مجموعه‌ی  $A$  و  $B$  که عضو مشترک نداشته باشند، دو مجموعه‌ی جدا از هم یا مجزا گویند.

$$A \cap B = \emptyset \Leftrightarrow A \text{ و } B \text{ از هم مجزا هستند.}$$

به عنوان مثال مجموعه‌ی اعداد زوج و مجموعه‌ی اعداد فرد، جدا از همند یا مجموعه‌ی اعدادی که باقی‌مانده‌ی تقسیم آن‌ها بر ۳ برابر ۱ است و مجموعه‌ی اعداد مضرب ۳ جدا از همند.

## تکلیف ۵

اگر  $A$  و  $B$  دو مجموعه‌ی مجزا باشند یعنی  $(A \cap B) = \emptyset$  در نتیجه هر یک از هر مجموعه‌ی متمم دیگری است.



$$A \cap B = \emptyset \Rightarrow A \subseteq B', B \subseteq A'$$

$$A \cap B = \emptyset \Rightarrow A \cap B' = A, A \cup B' = B', \dots$$

## مثال ۳۲

اگر  $A$  و  $B$  و  $C$  دو مجموعه‌ی جدا از هم باشند، حاصل عبارت زیر را تا حد امکان ساده کنید.

$$(C - B) \cap (A \cup (B - C))$$

حل. روش اول:  $B$  و  $C$  از هم جدا هستند پس  $C - B = C$  و  $B - C = B$  یعنی می‌توان عبارت فوق را به صورت زیر نوشت.

$$(C - B) \cap (A \cup (B - C)) = C \cap (A \cup B) = \emptyset$$

چون  $C$  از  $A$  و نیز از  $B$  جدا است پس  $C$  هیچ اشتراکی با  $(A \cup B)$  ندارد و حاصل نهی شده است. روش دوم: در روش دوم نیز عبارت را تا  $C \cap (A \cup B)$  ساده می‌کنیم. حال می‌توان از خاصیت پخشی اشتراک نسبت به اجتماع استفاده کرد.

$$C \cap (A \cup B) = \underbrace{(C \cap A) \cup (C \cap B)}_{\text{یعنی}} = \underbrace{\emptyset \cup \emptyset}_{\substack{C \text{ و } A \text{ مجزا هستند} \\ C \text{ و } B \text{ مجزا هستند}}} = \emptyset$$

## مثال ۳۳

اگر مجموعه‌های  $A$  و  $(B \cap C)$  جدا از هم باشند، حاصل عبارت زیر را تا حد امکان ساده کنید.

$$(A \cup B' \cup C') \cup (A \cap B \cap C) \cap B'$$

حل. مجموعه‌های  $A$  و  $(B \cap C)$  از هم جدا هستند یعنی  $A \cap (B \cap C) = \emptyset$  پس عبارت وسط  $(A \cap B \cap C)$  برابر نهی است.



حال توجه کنید که بر اساس نکته‌ی گفته شده چون  $A$  و  $(B \cap C)$  از هم جدا هستند پس  $A \subseteq (B \cap C)'$  حال می‌توان نوشت:

$$A \subseteq (B \cap C)' \Rightarrow A \cup (B \cap C)' = (B \cap C)' \Rightarrow A \cup B' \cup C' = B' \cup C'$$

بنابراین می‌توان عبارت اصلی را به صورت زیر نوشت:

$$(B' \cup C') \cup \emptyset \cap B'$$

دقت کنید که به علت تقدم عملیات، ابتدا باید  $(B' \cup C')$  را با  $\emptyset$  اجتماع کنیم و در غیر این صورت به جواب درست نخواهیم رسید.

$$\text{عبارت} = (B' \cup C') \cap B' = B'$$



### روابط بین تعداد اعضاء مجموعه‌ها (۱)

#### تستی ۶

در مبحث مجموعه‌ها هر چه صحت از «و» شود بحث از اشتراک و هر چه صحت از «یا» شود بحث از اجتماع دو مجموعه است.

#### مثال ۲۴

۲ مجموعه‌ی زیر را تشکیل دهید و ارتباطشان را بررسی کنید.

$A =$  مجموعه‌ی اعداد طبیعی کوچک‌تر از ۲۵ که بر ۴ بخش پذیرند.

$B =$  مجموعه‌ی اعداد طبیعی کوچک‌تر از ۲۵ که باقی‌مانده‌ی تقسیم آن‌ها بر ۳، برابر ۲ است.

$C =$  مجموعه‌ی اعداد طبیعی کوچک‌تر از ۲۵ که باقی‌مانده‌ی تقسیم آن‌ها بر ۳، برابر ۲ است و بر ۴ بخش پذیرند.

$D =$  مجموعه‌ی اعداد طبیعی کوچک‌تر از ۲۵ که باقی‌مانده‌ی تقسیم آن‌ها بر ۳، برابر ۲ است یا بر ۴ بخش پذیرند.

حل. ۴ مجموعه را تشکیل می‌دهیم.

$$A = \{4, 8, 12, 16, 20, 24\}$$

$$B = \{2, 5, 8, 11, 14, 17, 20, 23\}$$

$$C = \{8, 20\} \quad D = \{2, 4, 5, 8, 11, 12, 14, 16, 17, 20, 23, 24\}$$

همان گونه که مشخص است،  $D = A \cup B$  و  $C = A \cap B$ . یعنی اعضای مجموعه‌ی  $C$  همزمان هر دو شرط را برآورده می‌سازند ولی اعضای مجموعه‌ی  $D$  حداقل یکی از شرط‌های عضویت در  $A$  و  $B$  را دارا هستند.



#### تذکر

باردقت شود مفهوم «یا»ی ریاضی با «یا»ی مورد استفاده در گفتگوی روزمره لزوماً یکسان نیست. مثلاً وقتی مجرب شما در کلاس حاضر شده و اعلام می‌کند علی در زنگ تفریح اول و یا در زنگ تفریح دوم پیش مجرب برود قطعاً انتظار او این است که او دقیقاً در یکی از دو زنگ اول و یا دوم پیش مجرب برود و اگر هر دو زنگ تفریح علی پیش مجرب برود اطاعت امر نشده است. این «یا»ی معامره است ولی وقتی در زبان ریاضی از «یا» استفاده می‌کنیم، ممکن است هر دوی اتفاقات با هم رخ دهند به عنوان مثال اگر  $(x - 2)(y - 3) = 0$  باشد آن گاه  $x = 2$  یا  $y = 3$  فوهد بود و این به آن معناست که یا  $x = 2$  است یا  $y = 3$  است یا هر دو.

#### مثال ۲۵

چند عدد بین  $3^0$  و  $8^0$  داریم که حداقل بر یکی از اعداد ۴ یا ۹ بخش‌پذیر باشند؟ این تعداد، چه ارتباطی با تعداد مضارب ۴ بین  $3^0$  و  $8^0$  و نیز تعداد مضارب ۹ بین  $3^0$  و  $8^0$  دارد؟

حل. فرض کنید  $A$  مجموعه‌ی مضارب ۴ بین  $3^0$  و  $8^0$  و  $B$  مجموعه‌ی مضارب ۹ بین  $3^0$  و  $8^0$  باشد. در این صورت مجموعه‌ی مورد نظر مسئله، همان  $A \cup B$  است.

$$A = \{32, 36, 40, 44, 48, 52, 56, 60, 64, 68, 72, 76\}$$



$$B = \{۳۶, ۴۵, ۵۴, ۶۳, ۷۲\}$$

$$A \cup B = \{۳۲, ۳۶, ۴۰, ۴۴, ۴۵, ۴۸, ۵۲, ۵۴, ۵۶, ۶۰, ۶۳, ۶۴, ۶۸, ۷۲, ۷۶\}$$

$$n(A) = ۱۲ \quad n(B) = ۵ \quad n(A \cup B) = ۱۵$$

در واقع، اعضای مجموعه‌های  $A$  و  $B$  با هم شمرده می‌شوند ولی دو عضو  $۳۶$  و  $۷۲$  که اعضای مشترک هستند، دو بار شمرده می‌شوند و باید از مجموع کم شوند یعنی:

$$n(A \cup B) = ۱۲ + ۵ - ۲ = ۱۵$$



۱) رابطه‌ی زیر بین تعداد اعضای مجموعه‌های متناهی  $A$  و  $B$  و اشتراک و اجتماعشان برقرار است.

$$n(A \cup B) = n(A) + n(B) - n(A \cap B)$$

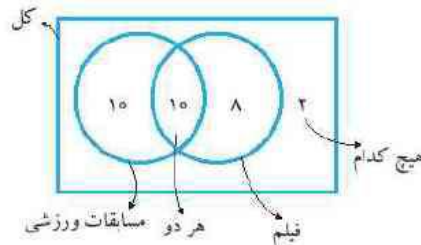
مثال ۲۶ در کلاسی با  $۳^a$  دانش‌آموز،  $۲^b$  نفر از دانش‌آموزان به مسابقات ورزشی و  $۱۸$  نفر به نمایش فیلم علاقه دارند. اگر  $۱^c$  نفر از دانش‌آموزان هم به فیلم و هم به مسابقات ورزشی علاقه داشته باشند، چند نفر از دانش‌آموزان کلاس نه به فیلم و نه مسابقات ورزشی علاقه‌مندند؟

حل. روش اول: فرض کنید  $A$  مجموعه‌ی دانش‌آموزان علاقه‌مند به مسابقات ورزشی و  $B$  مجموعه‌ی دانش‌آموزان علاقه‌مند به فیلم باشد. در این صورت  $n(A) = ۲^b$  و  $n(B) = ۱۸$  و  $n(A \cap B) = ۱^c$

$$n(A \cap B) = ۱^c \quad n(B) = ۱۸ \quad n(A) = ۲^b$$

$$n(A \cup B) = n(A) + n(B) - n(A \cap B) = ۲^b + ۱۸ - ۱^c = ۲۸$$

یعنی  $۲۸$  نفر به فیلم یا مسابقات ورزشی علاقه‌مندند. پس از  $۳^a$  نفر  $۲$  نفر به هیچ کدام علاقه ندارند. روش دوم: در برخی موارد می‌توان به کمک نمودار ون، مسائل را به سادگی حل کرد.



روش سوم (روش نادرست): می‌توان نتیجه گرفت که تمام دانش‌آموزان یا به دو مورد علاقه‌مندند یا هیچ کدام! یعنی می‌توان تعداد

$$کل را سنهای تعداد افراد علاقه‌مند به دو رشته کرد و تعداد افراد بی‌علاقه به هر دو رشته را به دست آورد!  $۳^a - ۱^c = ۲^b$$$



پدرای به دست آوردن تعداد افرادی که نه عضو  $A$  و نه عضو  $B$  هستند باید تعداد اعضای مجموعه‌ی مرجع را منهای تعداد اعضای  $(A \cup B)$  کنیم.

$$n(A' \cap B') = n((A \cup B)') = n(U) - n(A \cup B)$$

نکته ۷

مثال ۲۷ مجموع تعداد اعضای  $A$  و  $B$  برابر تعداد اعضای مشترکشان است. تعداد اعضای اجتماع دو مجموعه چند برابر تعداد اعضای مشترکشان است؟

$$n(A) + n(B) = ۵ \times n(A \cap B)$$

... مسئله

حل

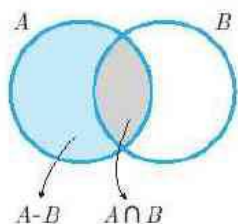
مثال ۲۷





$$\begin{aligned} &= \Delta n(A \cap B) - n(A \cap B) = 4 \times n(A \cap B) \\ \Rightarrow \frac{n(A \cup B)}{n(A \cap B)} &= 4 \end{aligned}$$

**مثال ۲۸** مجموعه‌ی  $A$ ، دارای  $2^5$  عضو می‌باشد. تعداد عضوهای مجموعه‌ی  $B$  عددی است بین ۵ و ۱۰. مجموع تعداد اعضای  $(A - B)$  و  $(A \cap B)$  چقدر است؟



**حل.** تعداد اعضای مجموعه‌ی  $B$  نامشخص است. رسم نمودار و ن می‌تواند کارگشا باشد. با توجه به شکل می‌توان فهمید:

$$\begin{aligned} n(A - B) + n(A \cap B) &= n(A) \\ \Rightarrow n(A - B) + n(A \cap B) &= 2^5 \end{aligned}$$

**مثال ۲۹** از ۲۷ دانش‌آموز یک کلاس که هر یک حداقل به یکی از دروس ریاضی، فیزیک یا شیمی علاقه‌مندند، ۱۲ نفر به فیزیک، ۱۴ نفر به ریاضی، ۱۵ نفر به شیمی، ۵ نفر به ریاضی و فیزیک، ۶ نفر به ریاضی و شیمی و ۵ نفر به فیزیک و شیمی علاقه‌مندند.

(الف) چند نفر به هر ۳ درس علاقه‌مندند؟

(ب) چند نفر به ۲ درس علاقه‌مندند؟

**حل.** در این مسئله ۳ مجموعه باید در نظر گرفته شوند. چون هنوز رابطه‌ای برای ۳ مجموعه نداریم، رسم شکل می‌تواند کارگشا باشد.

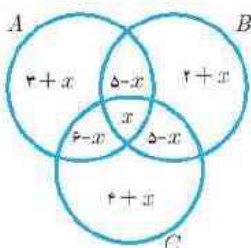
$$\begin{aligned} n(A) &= 14 & n(A \cap B) &= 5 & \text{مجموعه‌ی دانش‌آموزان علاقه‌مند به ریاضی} &= A \\ n(B) &= 12 & n(A \cap C) &= 6 & \text{مجموعه‌ی دانش‌آموزان علاقه‌مند به فیزیک} &= B \\ n(C) &= 15 & n(B \cap C) &= 5 & \text{مجموعه‌ی دانش‌آموزان علاقه‌مند به شیمی} &= C \\ n(A \cap B \cap C) &= x \end{aligned}$$

$$n(A \cap B) - x = 5 - x = \text{تعداد دانش‌آموزانی که صرفاً به ریاضی و فیزیک علاقه‌مندند.}$$

$$n(A \cap C) - x = 6 - x = \text{تعداد دانش‌آموزانی که صرفاً به ریاضی و شیمی علاقه‌مندند.}$$

$$n(B \cap C) - x = 5 - x = \text{تعداد دانش‌آموزانی که صرفاً به فیزیک و شیمی علاقه‌مندند.}$$

دقت کنید که به عنوان مثال از تفاضل عدد ۱۴ و مجموع اعداد  $(5 - x)$  و  $x$  و  $(6 - x)$  عدد  $3 + x$  به دست آمده است.



$$(3 + x) + (5 - x) + x$$

$$+ (6 - x) + (4 + x)$$

$$+ (5 - x) + (4 + x) = 27$$

$$\Rightarrow x = 2$$

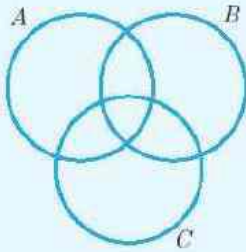
(الف) ۲ نفر به هر ۳ درس علاقه‌مندند.

(ب) تعداد افرادی که صرفاً به دو درس علاقه‌مندند عبارتست از

$$(5 - x) + (6 - x) + (5 - x)$$

$$= 16 - 3x = 16 - 6 = 10 = \text{تعداد علاقه‌مندان فقط به ۲ درس}$$





پس برای سه مجموعه A و B و C و با توجه به نمودار می‌توان اصل شمول و عدم شمول را به صورت زیر نوشت:

$$n(A \cup B \cup C) = n(A) + n(B) + n(C) - n(A \cap B) - n(A \cap C) - n(B \cap C) + n(A \cap B \cap C)$$

در واقع با جمع زدن اعضای A و B و C و اعضای A ∩ B و A ∩ C و B ∩ C دو بار شمرده می‌شوند و باید کم شوند ولی با کم کردن A ∩ B و A ∩ C و B ∩ C اعضای A ∩ B ∩ C بیش از حد کم می‌شوند که باید مجدداً اضافه شوند. البته توجه شود که ما با یک اصل سروکار داریم و نیاز به اثبات نداریم! ولی با روشی که در مثال ۳۴ استفاده شد، می‌توان این رابطه را اثبات کرد. حال قسمت الف مثال ۳۹ را به کمک فرمول اخیر حل می‌کنیم.

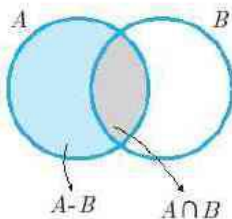
$$n(A \cup B \cup C) = n(A) + n(B) + n(C) - n(A \cap B) - n(A \cap C) - n(B \cap C) + n(A \cap B \cap C)$$

$$\Rightarrow 27 = 14 + 12 + 15 - 5 - 6 - 5 + n(A \cap B \cap C)$$

$$\Rightarrow n(A \cap B \cap C) = 2 \Rightarrow \text{۲ نفر به هر ۳ درس علاقه‌مندند}$$

روابط بین تعداد اعضای مجموعه‌ها (۲)

مشابه اصل شمول و عدم شمول که برای اجتماع و اشتراک و خود مجموعه‌ها بیان شد، می‌توان روابطی برای مجموعه‌هایی نظیر A - B، A Δ B، A' ∩ B'، A' ∪ B' و ... نوشت. در این بخش به معرفی اجمالی این روابط به کمک نمودار و ن می‌پردازیم. درک این روابط و به کارگیری مناسب آن‌ها می‌تواند در حل بسیاری از سوالات احتمال که در فصل هفتم مطرح می‌شوند، کمک کند.



تفاضل دو مجموعه

$$n(A - B) = n(A) - n(A \cap B)$$

از این رابطه در حل مثال ۳۸ این بخش استفاده کردیم. برای درک بهتر تساوی، به شکل مقابل توجه کنید.

اجتماع متمم‌های دو مجموعه

$$n(A' \cup B') = n(U) - n(A \cap B)$$

برای درک این تساوی می‌توان همانند مورد قبل از نمودار و ن استفاده کرد. همچنین می‌توان از قواعد جبر مجموعه‌ها برای اثبات آن بهره برد.

$$n(A' \cup B') \stackrel{\text{موردگان}}{=} n((A \cap B)') = n(U - (A \cap B)) = n(U) - n(U \cap (A \cap B)) = n(U) - n(A \cap B)$$

اشتراک متمم‌های دو مجموعه

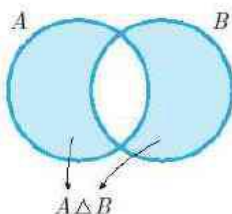
$$n(A' \cap B') = n(U) - n(A \cup B)$$

$$n(A' \cap B') \stackrel{\text{موردگان}}{=} n((A \cup B)') = n(U - (A \cup B)) = n(U) - n(U \cap (A \cup B)) = n(U) - n(A \cup B)$$

البته احتمالاً شما ترجیح می‌دهید از نمودار و ن استفاده کنید!



## تفاضل متقارن



$$\begin{aligned}n(A \Delta B) &= n(A \cup B) - n(A \cap B) \\ &= n(A) + n(B) - 2n(A \cap B)\end{aligned}$$

برک درستی تساوی به راحتی به کمک نمودار ون ممکن است.

چند عدد ۳ رقمی داریم که

(الف) بر ۵ یا ۷ بخش پذیر باشد؟

(ب) فقط بر ۵ یا فقط بر ۷ بخش پذیر باشد؟

(ج) نه بر ۵ و نه ۷ بخش پذیر باشد؟

(د) همزمان بر ۵ و ۷ بخش پذیر نباشد؟

(ه) بر ۵ بخش پذیر باشد ولی بر ۷ بخش پذیر نباشد؟

حل. مجموعه‌ی مرجع اعداد ۳ رقمی است.  $n(U) = 999 - 1000 + 1 = 900$

مجموعه‌ی اعداد ۳ رقمی بخش پذیر بر ۵ را  $A$  و مجموعه‌ی اعداد ۳ رقمی بخش پذیر بر ۷ را  $B$  می‌نامیم. کوچک‌ترین و بزرگ‌ترین اعداد ۳ رقمی عضو  $A$  عبارتند از ۱۰۰ و ۹۹۵. کوچک‌ترین و بزرگ‌ترین اعداد ۳ رقمی عضو  $B$  عبارتند از ۱۰۵ و ۹۹۵.

$$n(A) = \frac{995 - 100}{5} + 1 = 180$$

$$n(B) = \frac{994 - 105}{7} + 1 = 128$$

$$n(A \cap B) = \frac{985 - 105}{35} + 1 = 26$$

تعداد اعداد بخش پذیر بر ۳۵

(الف) چون از  $n(A \cup B)$  استفاده کرده باید  $n(A \cup B)$  را به دست آوریم.

$$n(A \cup B) = n(A) + n(B) - n(A \cap B) = 180 + 128 - 26 = 282$$

(ب) فقط بر ۵ یا فقط بر ۷ معادل «بای فارسی یا همان تفاضل متقارن است.

$$n(A \Delta B) = n(A \cup B) - n(A \cap B) = 282 - 26 = 256$$

(ج) نه بر ۵ و نه بر ۷ بخش پذیر باشد معادل  $A' \cap B'$  است.

$$n(A' \cap B') = n(U) - n(A \cup B) = 900 - 282 = 618$$

(د) همزمان بر ۵ و ۷ بخش پذیر نباشد معادل  $A' \cup B'$  است.

$$n(A' \cup B') = n(U) - n(A \cap B) = 900 - 26 = 874$$

(ه) بر ۵ بخش پذیر باشد ولی بر ۷ نه. این معادل  $A - B$  است.

$$n(A - B) = n(A) - n(A \cap B) = 180 - 26 = 154$$





۱ مجموعه‌ی A را به کمک اعضا و مجموعه‌ی B را به کمک

$$A = \{x \in \mathbb{R} \mid x^2 - 2x + 1 = 0\}$$

$$B = \{x \in \mathbb{N} \mid x^2 - 3x + 2 = 0\}$$

۱۰ اگر  $A_1 = (-i, i+1)$  و  $U = \mathbb{R}$ ، حاصل عبارت زیر را تا حد امکان ساده کنید.

$$A_1' \cap A_2' \cap \dots \cap A_{1000}'$$

۱۱ حاصل را تا حد امکان ساده کنید. (M مجموعه مرجع است)

(الف)  $[(A' - A)' \cap M] \cup A'$

(ب)  $[(B - C) \cup (C - B) \cup A] \cap A$

(ج)  $(A \cap B \cap C) \cup (A' \cap C) \cup (B' \cap C)$

۱۲ درستی تساوی‌های زیر را به کمک جبر مجموعه‌ها اثبات کنید.

(الف)  $A' - B = B' - A$

(ب)  $(A - B) - C = (A - C) \cap (B' - C)$

(ج)  $(A \cup B) - (B \cup C) = (A - B) - C$

(د)  $(A \Delta B)' = A' \Delta B$

۱۳ اگر  $A \subseteq B \subseteq C$  حاصل را تا حد امکان ساده کنید.

$$[(A \cap B') \cup (B \cap C') \cup (C \cap A')] \cup (A' \cup B' \cup C)'$$

۱۴ اگر مجموعه‌ی C از مجموعه‌های A' و (A - B) مجزا باشد

حاصل عبارت  $(A \cap C) - B$  را بیابید.

۱۵ اگر C و B' مجزا باشند، همچنین B و A' نیز مجزا باشند، راجع

به A و B و C چه می‌توان گفت؟

۱۶ اگر  $n(A - B) = 10$  و  $n(B - A) = 8$  و  $n(B) = 14$

آن‌گاه  $n(A \cup B)$  چند است؟

۱۷ تعداد اعضای مجموعه‌ی B دو برابر تعداد اعضای مجموعه‌ی A

است. اگر  $n(A \cup B) = 30$  و  $n(A \cap B) = 6$ ، تعداد زیرمجموعه‌های

B چند برابر تعداد زیرمجموعه‌های A است؟

۱۸ در یک کلاس ۲۶ نفره، تمام دانش‌آموزان حداقل به یکی از

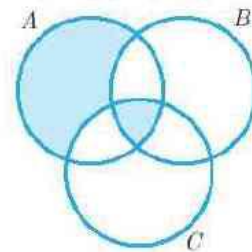
دروس ریاضی، فیزیک یا شیمی علاقه‌مندند. اگر تعداد علاقه‌مندان دروس

ریاضی، فیزیک و شیمی به ترتیب ۱۸ و ۱۳ و ۷ نفر باشد و هیچ‌کسی

همزمان به دروس شیمی و فیزیک علاقه‌مند نباشد و نیز تعداد کسانی که به

ریاضی و فیزیک علاقه‌مندند دو برابر تعداد کسانی باشد که به ریاضی و

شیمی علاقه‌مندند، مشخص کنید چند نفر فقط به یک درس علاقه‌مندند؟



$$\mathbb{R} \quad \mathbb{R}$$

$$\bigcup_{i=1}^n$$

$$\mathbb{N}$$



## پاسخ مسائل نمونه‌ی

## درس ۱



۱

$(x, y)$  های مورد نظر عبارتند از  $(1, 1)$  و  $(1, 2)$  و  $(1, 3)$  و

 $(2, 1)$ 

$$A = \{1^2 \times 1, 1^2 \times 2, 1^2 \times 3, 2^2 \times 1\} = \{1, 2, 3, 4\}$$

اگر اعضای مجموعه‌ی  $B$  را با عدد ۱ جمع کنیم، حاصل مکعب کامل خواهد شد. پس اعضا به صورت  $n^3 - 1$  هستند.

$$B = \{n^3 - 1 \mid n \in \mathbb{N}\}$$

۲

تعداد اعضای مجموعه را از  $n$  به  $2n$  می‌رسانیم. تعداد زیرمجموعه‌ها از  $2^n$  به  $2^{2n}$  افزایش می‌یابد.

$$2^{2n} = 2^n + 240 \Rightarrow 2^{2n} - 2^n - 240 = 0$$

$$2^n = A \text{ قرار می‌دهیم}$$

$$A^2 - A - 240 = 0 \Rightarrow (A - 16)(A + 15) = 0$$

$$A = -15 \quad \text{غرفی}$$

$$A = 16 \Rightarrow 2^n = 16 \Rightarrow n = 4$$

۳

$(x, y)$  های مورد نظر عبارتند از  $(1, 1)$  و  $(1, 2)$  و  $(2, 2)$  و

$(1, 3)$  و  $(2, 3)$  و  $(3, 3)$  و  $(1, 4)$  و  $(2, 4)$  و  $(3, 4)$  و  $(4, 4)$

$$A = \left\{ \frac{1}{1}, \frac{2}{1}, \frac{2}{2}, \frac{3}{1}, \frac{3}{2}, \frac{3}{3}, \frac{4}{1}, \frac{4}{2}, \frac{4}{3}, \frac{4}{4} \right\} = \left\{ 1, \frac{2}{3}, \frac{3}{4}, \frac{4}{3} \right\}$$

مجموعه‌ی  $A$ ، ۶۴ زیرمجموعه دارد.

۴

$$a^2 + b^2 \geq 0 \Leftrightarrow a^2 + b^2 + 4 \geq 4$$

$$-\sqrt{c} \leq 0 \Rightarrow 1 - \sqrt{c} \leq 1$$

۹

عبارت  $a^2 + b^2 + 4$  و  $1 - \sqrt{c}$  نمی‌توانند با هم برابر باشند پس

$$a^2 + b^2 + 4 = -c^2 + 4 \text{ و } 1 - \sqrt{c} = d$$

از طرفی  $a^2 + b^2 + 4$  حداقل برابر ۴ است در حالی که  $-c^2 + 4$  حداکثر برابر ۴ می‌باشد پس تنها حالت برابری این دو آن است که هر ۲ برابر ۴ باشند.

$$a^2 + b^2 + 4 = -c^2 + 4 = 4 \Rightarrow a = b = c = 0$$

$$1 - \sqrt{c} = d \Rightarrow d = 1$$

$$a + 2b + 3c + 4d = 4$$

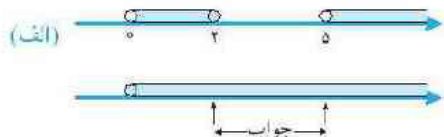
۵

هاشور بزرگ قسمت‌هایی از  $A$  است که عضو  $B$  یا  $C$  نیستند

یعنی  $A - (B \cup C)$  و هاشور کوچک اشتراک سه مجموعه است.

$$= [A - (B \cup C)] \cup (A \cap B \cap C)$$

۶



$$(0, +\infty) - ((0, 2] \cup (5, +\infty)) = (2, 5]$$

(ب)  $\mathbb{R} - (\mathbb{R} \cap (-1, +\infty)) =$   
 $(-\infty, -1]$

$$\mathbb{R} - (-1, +\infty) = (-\infty, -1]$$

۷

$$A_1 = [\sqrt{2}, 2)$$

$$A_2 = [\sqrt{3}, 2)$$

⋮

$$A_{1395} = [\sqrt{1395}, 1395)$$

$$A_1 \cup A_2 \cup \dots \cup A_{1395} = [\sqrt{2}, 1395)$$

۸

عدد وسط بازه (مرکز بازه)، میانگین اعداد ابتدا و انتهای آن است.

$$\frac{n+3+2n+1}{2} = 10 \Rightarrow 2n+2 = 10 \Rightarrow n=4$$

(الف) می‌توان عبارت مورد نظر را به صورت  $n(n+1) + 121$  نوشت.

$n(n+1)$  یعنی حاصل ضرب دو عدد طبیعی متوالی همواره زوج است و جمع آن با ۱۲۱ عددیست فرد. پس نمی‌تواند مضرب ۴ باشد. مجموعه‌ی مورد نظر تهی و منتهای است.

(ب) مجموعه‌ی اعداد اول نامتناهی است و چون اعداد اول یا  $10^0$

رقم یا کمتر محدود هستند پس تعداد اعداد اول یا بیش از  $10^0$  رقم بی‌شمار است و مجموعه نامتناهی است.

(ج) مجموعه‌ی اعداد گویای بین هر دو عدد دلخواه، همواره نامتناهی است.

(د) تعداد نقاط داخل مثلث مشخص بی‌شمار است و مجموعه نامتناهی است.



$$\begin{aligned}
 (ج) \quad (A \cup B) - (B \cup C) &= (A \cup B) \cap (B \cup C)' \\
 &\stackrel{\text{دمورگان}}{=} (A \cup B) \cap (B' \cap C') \\
 &\stackrel{\text{ترکب پذیری}}{=} [(A \cup B) \cap B'] \cap C' \\
 &\stackrel{\text{یختگی}}{=} [(A \cap B') \cup (B \cap B')] \cap C' \\
 &= (A \cap B') \cap C' = (A - B) - C
 \end{aligned}$$

(د)  $A \Delta B$  یعنی تفاضل متقارن مجموعه‌های  $A$  و  $B$  که در قبل تعریف شد.

$$\begin{aligned}
 A \Delta B &= (A - B) \cup (B - A) \\
 (A \Delta B)' &= [(A - B) \cup (B - A)]' \\
 &\stackrel{\text{دمورگان}}{=} (A - B)' \cap (B - A)' = (A \cap B')' \cap (B \cap A')' \\
 &\stackrel{\text{دمورگان}}{=} (A' \cup B) \cap (B' \cup A) \\
 &\stackrel{\text{یختگی}}{=} [(A' \cup B) \cap B'] \cup [(A' \cup B) \cap A] \\
 &\stackrel{\text{یختگی}}{=} [(A' \cap B') \cup (B \cap B')] \cup [(A' \cap A) \cup (B \cap A)] \\
 &= (A' \cap B') \cup (B \cap A) \\
 &= (A' - B) \cup (B - A') = A' \Delta B
 \end{aligned}$$

عبارت  $(A' \cup B' \cup C)'$  را به دو روش می‌توان ساده کرد:

$$\begin{aligned}
 A \subseteq B \subseteq C &\Rightarrow C' \subseteq B' \subseteq A' \\
 \Rightarrow A' \cup B' \cup C' &= A' \Rightarrow (A' \cup B' \cup C')' = A
 \end{aligned}$$

روش دوم: از قانون دمورگان استفاده می‌کنیم.

$$(A' \cup B' \cup C')' = A \cap B \cap C = A \quad (I)$$

چون  $A \subseteq B \subseteq C$  پس حاصل برابر  $A$  است. حال به بررسی عبارت اول می‌پردازیم.

$$\begin{aligned}
 A \subseteq B &\Rightarrow A - B = \emptyset \\
 B \subseteq C &\Rightarrow B - C = \emptyset \\
 [(A \cap B') \cup (B \cap C') \cup (C \cap A')] & \\
 = [(A - B) \cup (B - C) \cup (C - A)] & \\
 = C - A = C \cap A' & \quad (II)
 \end{aligned}$$

$$\stackrel{(II), (I)}{\Rightarrow} \text{عبارت مورد نظر} = (C \cap A') \cup A$$

$$\stackrel{\text{یختگی}}{=} (C \cup A) \cap (A' \cup A) = C \cup A = C$$

روش اول: از نمودارون استفاده می‌کنیم.

مجموعه‌های  $A'_1, A'_2, \dots, A'_n$  به صورت زیر هستند:



$$A'_1 \cap A'_2 \cap \dots \cap A'_n = (-\infty, -1395] \cup [1396, +\infty)$$

$$\begin{aligned}
 (الف) \quad [(A' - A)' \cap M] \cup A' & \\
 = [(A')' \cap M] \cup A' &= (A \cap M) \cup A' \\
 = A \cup A' &= M
 \end{aligned}$$

$$(ب) \quad \frac{A \cup B}{A \cap B} = \frac{A \cup B}{A \cap B}$$

$$\frac{A \cup B}{A \cap B} = \frac{A \cup B}{A \cap B}$$

$$\frac{A \cup B}{A \cap B} = \frac{A \cup B}{A \cap B}$$

$$\frac{A \cup B}{A \cap B} = \frac{A \cup B}{A \cap B}$$

$$\frac{A \cup B}{A \cap B} = \frac{A \cup B}{A \cap B}$$

$$\frac{A \cup B}{A \cap B} = \frac{A \cup B}{A \cap B}$$

$$\frac{A \cup B}{A \cap B} = \frac{A \cup B}{A \cap B}$$

$$\frac{A \cup B}{A \cap B} = \frac{A \cup B}{A \cap B}$$

$$\frac{A \cup B}{A \cap B} = \frac{A \cup B}{A \cap B}$$

$$\frac{A \cup B}{A \cap B} = \frac{A \cup B}{A \cap B}$$

$$\frac{A \cup B}{A \cap B} = \frac{A \cup B}{A \cap B}$$

$$\frac{A \cup B}{A \cap B} = \frac{A \cup B}{A \cap B}$$

$$\frac{A \cup B}{A \cap B} = \frac{A \cup B}{A \cap B}$$

$$\frac{A \cup B}{A \cap B} = \frac{A \cup B}{A \cap B}$$

$$\frac{A \cup B}{A \cap B} = \frac{A \cup B}{A \cap B}$$

$$\frac{A \cup B}{A \cap B} = \frac{A \cup B}{A \cap B}$$

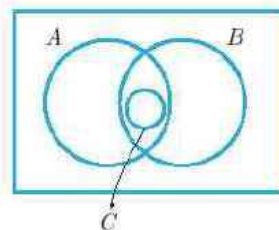
$$\frac{A \cup B}{A \cap B} = \frac{A \cup B}{A \cap B}$$



$$n(A \cup B) = n(A) + n(B) - n(A \cap B)$$

$$= 16 + 14 - 6 = 24$$

۱۷



چون  $C$  از  $A'$  جداست پس  $C$  داخل  $A$  است. از طرفی چون  $C$  از  $A - B$  جداست پس  $C$  از بخشی از  $A$  که با  $B$  عضو مشترک ندارد نیز جداست پس  $C$  زیرمجموعه‌ی  $A \cap B$  است. (مطابق شکل)  
پس  $A \cap C = C$

$$(A \cap C) - B = C - B = \emptyset$$

روش دوم: از جبر مجموعه‌ها استفاده می‌کنیم.

$$C \cap A' = \emptyset \stackrel{uA}{\Rightarrow} (C \cap A') \cup A = A$$

$$\Rightarrow (C \cup A) \cap (\underbrace{A' \cup A}_M) = A$$

$$\Rightarrow C \cup A = A \Rightarrow C \subseteq A$$

$$\Rightarrow C \cap A = C$$

$$C \cap (A - B) = \emptyset \quad \text{حال می‌دانیم}$$

$$\Rightarrow C \cap (A \cap B') = \emptyset \Rightarrow (C \cap A) \cap B' = \emptyset$$

$$\Rightarrow C \cap B' = \emptyset \Rightarrow C \subseteq B$$

$$(A \cap C) - B = C - B = \emptyset$$

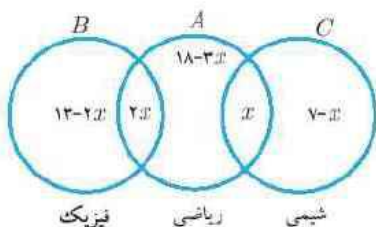
۱۸

روش اول: نمودارون مربوط را رسم می‌کنیم.

$A$  = مجموعه‌ی دانش‌آموزان علاقه‌مند به ریاضی

$B$  = مجموعه‌ی دانش‌آموزان علاقه‌مند به فیزیک

$C$  = مجموعه‌ی دانش‌آموزان علاقه‌مند به شیمی



مجموع تعداد اعضای هر بخش باید برابر ۲۶ باشد.

$$13 + 7 + 18 - 3x = 26 \Rightarrow x = 4$$

تعداد دانش‌آموزانی که فقط به یک درس علاقه‌مندند برابر است با:

$$26 - 3x = 14$$

روش دوم: از فرمول اصل شمول برای ۳ مجموعه استفاده می‌کنیم.

$$n(A) = 18, n(B) = 13, n(C) = 7$$

$$n(B \cap C) = 0, n(A \cap B) = 2n(A \cap C)$$

$$n(A \cap B \cap C) = 0, n(A \cup B \cup C) = 26$$

$$26 = 18 + 13 + 7 - n(A \cap C) - 2n(A \cap C) - 0 + 0$$

$$\Rightarrow n(A \cap C) = 4 \Rightarrow n(A \cap B) = 8$$

$$\text{تعداد فقط فیزیک} = n(B) - n(A \cap B) = 5$$

$$\text{تعداد فقط شیمی} = n(C) - n(A \cap C) = 3$$

$$\text{تعداد فقط ریاضی} = n(A) - n(A \cap B) - n(A \cap C) = 6$$

$$\text{تعداد تک درس} = 5 + 3 + 6 = 14$$

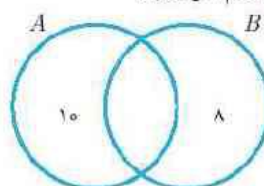
۱۵

با استدلال مشابه مسئله‌ی ۱۴ می‌توان نتیجه گرفت:

$$C \subseteq B, B \subseteq A \Rightarrow C \subseteq B \subseteq A$$

۱۶

روش اول: رسم نمودارون



حال برای آن که تعداد اعضای  $B$  برابر ۱۴ باشد در قسمت  $A \cap B$  عدد ۶ را جاگذاری کنیم.

$$n(A \cup B) = 10 + 6 + 8 = 24$$

روش دوم:

$$n(B) = n(B - A) + n(A \cap B)$$

$$\Rightarrow 14 = 8 + n(A \cap B) \Rightarrow n(A \cap B) = 6$$

$$n(A) = n(A - B) + n(A \cap B) = 6 + 10 = 16$$





۶ مجموعه‌های زیر را با نمودار ون نمایش دهید.  
(الف)  $(A \Delta B)'$

\_\_\_\_\_

\_\_\_\_\_

\_\_\_\_\_

(ب)  $(A \cup B)' - C$

\_\_\_\_\_

\_\_\_\_\_

\_\_\_\_\_

(ج)  $(A' \cup B) \cap C'$

\_\_\_\_\_

\_\_\_\_\_

\_\_\_\_\_

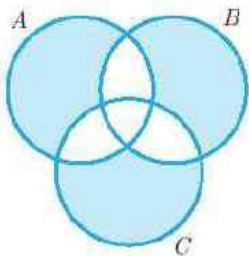
(د)  $(A \Delta B) - C$

\_\_\_\_\_

\_\_\_\_\_

\_\_\_\_\_

۷ برای نمایش ون زیر یک عبارت مجموعه‌ای مثال بنویسید.



۸ اگر  $A \cup B \subseteq A \cap B$  در مورد A و B چه می‌توان گفت؟

\_\_\_\_\_

\_\_\_\_\_

۹ اگر  $A - B \subseteq A \cap B$  عبارت  $[A \cup (A \cap B)] \cup B$  را ساده کنید.

\_\_\_\_\_

\_\_\_\_\_

\_\_\_\_\_

۱۰ اگر  $A \subseteq B \cap C$  و  $B \cup C \subseteq A$  حاصل عبارت زیر را به دست آورید.

$$[A - (B \cup C)] \cup [C - (A \cup B)] \cup [B - (A \cup C)]$$

۱ مجموعه‌های A و B را به کمک اعضا و مجموعه‌های C و D را با نمادهای ریاضی نمایش دهید.

$$A = \left\{ \frac{n^2}{n+2} \mid n \in \mathbb{Z}, \frac{n^2}{n+2} \in \mathbb{N} \right\}$$

$$B = \{x + 2y \mid x, y \in \mathbb{Z}, x^2 + y^2 \leq 4\}$$

$$C = \left\{ \frac{2}{5}, \frac{3}{6}, \frac{4}{7}, \dots \right\}$$

$$D = \{1, 2, 3, 4, 8, 9, 16, 17, 64\}$$

۲ اگر به اعضای مجموعه‌های ۲ واحد اضافه کنیم، تعداد زیرمجموعه‌ها ۱۱۲ تا از حالتی که یکی از اعضایش را حذف کنیم، بیشتر است. خود مجموعه چند زیرمجموعه دارد؟

\_\_\_\_\_

\_\_\_\_\_

\_\_\_\_\_

۳ اگر به اعضای مجموعه‌ای A یکی اضافه کنیم، مجموعه‌های A و B و C روی هم ۷۲ زیرمجموعه خواهند داشت. اگر به اعضای مجموعه‌ای B یکی اضافه کنیم، سه مجموعه روی هم ۸۸ زیرمجموعه و اگر به مجموعه‌ای C یک عضو اضافه کنیم، سه مجموعه روی هم ۶۴ زیرمجموعه خواهند داشت. تعداد اعضای هر مجموعه را مشخص کنید.

\_\_\_\_\_

\_\_\_\_\_

\_\_\_\_\_

\_\_\_\_\_

۴ مجموعه‌ای ۳ عضوی تشکیل دهید که هر عضویش زیرمجموعه‌اش نیز باشد.

\_\_\_\_\_

\_\_\_\_\_

۵ a و h و d را طوری به دست آورید که مجموعه‌های  $B = \{a^2 + 4b^2, 1 - b^2, d^2 + 2d + 1\}$  و  $A = \{fab, -2\}$  با هم برابر باشند.

\_\_\_\_\_

\_\_\_\_\_

\_\_\_\_\_





۱۶ درستی تساوی‌های زیر را به کمک جبر مجموعه‌ها ثابت کنید.  
 الف)  $A - (B - C) = (A - B) \cup (A \cap C)$

---

---

---

$$(A \Delta B) \Delta A$$

---

---

---



---

---

---



---

---

---



---

---

---



---

---

---



---

---

---



---

---

---



---

---

---



---

---

---



---

---

---



---

---

---



---

---

---



---

---

---



---

---

---



---

---

---



---

---

---



---

---

---



---

---

---



---

---

---



---

---

---



---

---

---



---

---

---



---

---

---



---

---

---



---

---

---



---

---

---



۱۹ متناهی یا نامتناهی بودن مجموعه‌های زیر را با ذکر دلیل مشخص کنید.

$$A = \{a \mid a \in \mathbb{Q}', \sqrt{2}a \in \mathbb{Q}\} \text{ (الف)}$$

$$B = \{x + y \mid x, y \in \mathbb{Q}', xy \in \mathbb{Q}\} \text{ (ب)}$$

(ج) مجموعه‌ی مثلث‌هایی که طول اضلاعشان برابر  $(a^2 + 1)^2$  و  $a^4$  و  $(a^2 + 1)$  است.

$$C = \{x \mid x \in \mathbb{P}, \frac{x+1}{2} \notin \mathbb{P}\} \text{ (د) (مجموعه اعداد اول)}$$

۲۰ اگر  $[A \cup (A \cap B)] - [B \cap (A \cup B)]$  برابر  $A \cup (A \cap B \cap C)$  باشد ثابت کنید  $A$  و  $B$  از هم مجزا هستند.

۲۱ اگر  $A = \{1, 2, 3, \dots, 10\}$  و  $B = \{9, 10, 11, 12\}$  و  $U = \{1, 2, 3, \dots, 15\}$  مجموعه‌های زیر را تشکیل دهید.

$$A - B \text{ (الف)}$$

$$B - A \text{ (ب)}$$

$$A \Delta B \text{ (ج)}$$

$$A' \cup B' \text{ (د)}$$

$$B' - A \text{ (ه)}$$

۲۲ حاصل را تا حد امکان ساده کنید.

$$[(C \cup D) \cap A] \cup [(C \cup D) \cap A']$$

۲۳ حاصل عبارت‌های زیر را به دست آورید.

$$(الف) (1, +\infty) - (2, +\infty)$$

$$(ب) ((-\infty, 2) \cup [5, +\infty)) \cap (3, 10)$$

۲۴ به ازای چند عدد طبیعی بازه‌ی  $\left[\frac{n-3}{111}, \frac{2n+1}{5}\right]$  شامل عدد ۱ است؟

۲۵ اگر  $A_i = (2^{i-1}, 2^i)$  حاصل عبارت  $\bigcup_{i=1}^{+\infty} A_i$  را تا حد امکان ساده کنید.

۲۶ اگر مجموعه‌ی  $A$ ،  $10$  عضو داشته باشد و  $n(A \cup B) = 30$  مجموعه‌ی  $B$  حداقل و حداکثر چند عضو می‌تواند داشته باشد؟

۲۷ تعداد اعضای مجموعه‌های  $A$  و  $B$  به ترتیب  $6/8$  و  $8/8$  تعداد اعضای  $A \cup B$  است. چند درصد از اعضای مجموعه‌ی  $B$  عضو  $A$  هستند؟



۲۸ تعداد اعضای  $A - B$  از تعداد اعضای  $A \cup B$ ، ۵ تا کمتر است. اگر تعداد اعضای  $B \cap C$  از تعداد اعضای مجموعه  $C$ ، ۶ واحد کمتر باشد، مجموعه  $B \cup C$  چند عضو دارد؟

---



---



---



---

۲۹ اگر  $n(A \Delta B) = 20$  و  $A \subseteq B'$ ،  $n(A \cup B)$  را بیابید.

---



---



---



---

۳۰ اگر  $A \subseteq B$  باشد به کمک جبر مجموعه‌ها ثابت کنید:

$$n(B - A) = n(B) - n(A)$$

---



---



---



---

۳۱ در بین اعداد طبیعی بین ۲۰۰ و ۶۰۰ چند عدد داریم که: (الف) بر ۳ و ۴ بخش پذیر باشد؟

---



---



---



---

(ب) بر ۳ یا ۴ بخش پذیر باشد؟

(ج) نه بر ۳ و نه بر ۴ بخش پذیر باشد؟

(د) فقط بر ۴ یا فقط بر ۳ بخش پذیر باشد؟

(ه) همزمان بر هر دو بخش پذیر نباشد؟

(الف) چند نفر در این کلاس عینکی هستند و ساعت می‌بندند؟

---



---



---



---

(ب) چند نفر در این کلاس فقط عینک با فقط ساعت دارند؟

---



---



---



---

۳۳ از ۳۰ نفر دانش‌آموزان یک کلاس که هر کدام حداقل به یکی از ورزش‌های فوتبال، والیبال یا بسکتبال علاقه‌مندند، ۱۵ نفر به فوتبال، ۱۱ نفر به والیبال و ۱۸ نفر به بسکتبال علاقه دارند. اگر ۷ نفر به فوتبال و والیبال، ۴ نفر به والیبال و بسکتبال و ۵ نفر به فوتبال و بسکتبال علاقه‌مند باشند مشخص کنید:

(الف) چند نفر به هر سه رشته علاقه‌مندند؟

---



---



---



---

(ب) چند نفر فقط به یک رشته علاقه‌مندند؟

---



---



---



---

(ج) چند نفر دقیقاً به ۲ رشته علاقه‌مندند؟

---



---



---



---

(د) چند نفر به والیبال علاقه‌مندند ولی به فوتبال علاقه ندارند؟

---



---



---



---

۳۴ در یک جامعه آماری، ۶۰ درصد افراد، گروه خونی A دارند، ۴۰ درصد به دیابت مبتلا هستند و ۳۰ درصد فشار خون بالا دارند. اگر ۳۰ درصد افراد با گروه خونی A به دیابت مبتلا باشند و ۱۰ درصد این افراد فشار خون بالا داشته باشند و نیز ۳۰ درصد کسانی که به فشار خون بالا مبتلا هستند دچار دیابت باشند، مشخص کنید: (تمام افراد جامعه حداقل یکی از شروط فوق را دارا هستند.)

(الف) چند درصد از افراد جامعه گروه خونی A دارند ولی فشار خون بالا ندارند؟

---



---



---



---



(ب) چند درصد از کسانی که دچار دیابت هستند، گروه خونی A دارند؟

---



---

(د) چند درصد افراد جامعه نه دیابت دارند و نه فشار خون بالا؟

---



---



---

(ج) چند درصد از افراد جامعه گروه خونی A دارند و همزمان به دیابت و فشار خون مبتلا هستند؟

---



---



## درس ۱

## پاسخ تمرین

(الف) ۵۴ درصد

(ب) ۴۵ درصد

(ج) ۳ درصد

(د) ۳۹ درصد

(الف) ۲

(ب) ۱۸

(ج) ۱۰

(د) ۴

۳۴

۳۲

(الف) ۳

(ب) ۱۷

۳۳

۳۲

۱۱۲

۵۰ درصد

۱۱

۲

۲۴

۲۷

۲۸



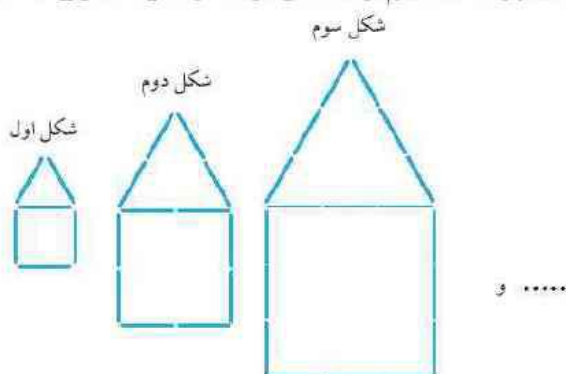


## الگو

الگو یک ساختار منظم از اشکال، اعداد و به طور کلی اطلاعات است که به خاطر منظم بودن، به کمک قواعد ریاضی قابل تحلیل و احتمالاً قابل پیش‌بینی خواهد بود. در این بخش به بررسی الگوهای عددی و برخی از الگوهای هندسی متناظر آن‌ها می‌پردازیم.

به الگوی هندسی زیر توجه کنید. تعداد پاره‌خط‌های لازم برای ساختن هر یک از شکل‌ها، الگوی عددی می‌سازند.

## مثال ۴۱



می‌توانیم برای شکل  $n$  ام فرمولی به دست آوریم که تعداد پاره‌خط‌ها را بر حسب  $n$  مشخص کند. با اندکی دقت معلوم می‌شود که تعداد پاره‌خط‌ها در مرحله  $n$  ام برابر است با  $6n$ .

در بسیاری از الگوهای عددی، می‌توان به قاعده یا فرمولی برای مرحله  $n$  ام دست یافت که به آن جمله عمومی الگو می‌گویند. در مثال ۱ جمله عمومی الگو  $a_n = 6n$  است.  $a_n$  (اندیس  $n$ ) یعنی عدد  $n$  ام الگوی به نام  $a$ . به هر یک از اعداد الگو، یک جمله آن گفته می‌شود. در مورد مثال ۱ داریم:

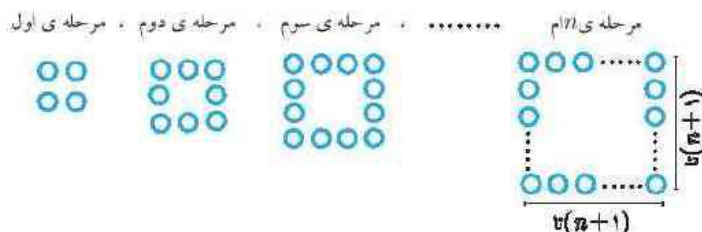
$$a_1 = 6, a_2 = 12, \dots$$

یافتن فرمول مهم است چون به کمک آن می‌توان اطلاعات بیشتری در مورد الگو به دست آورد. مثلاً برای یافتن تعداد پاره‌خط‌های شکل دهم می‌توان بدون رسم شکل، با استفاده از فرمول  $a_n = 6n$  تعداد پاره‌خط‌های آن مرحله را فهمید.

$$a_{10} = 6 \times 10 = 60$$

الگوی هندسی زیر و اعداد متناظر آن را که نشان‌دهنده تعداد دایره‌هاست در نظر بگیرید. جمله عمومی را به دست آورید.

## مثال ۴۲



حل. روش اول: سطرهای اول و آخر، هر کدام از  $(n+1)$  دایره و  $(n-1)$  سطر دیگر هر کدام از ۲ دایره تشکیل شده‌اند بنابراین:

$$a_n = 2(n+1) + (n-1) \times 2 = 4n$$

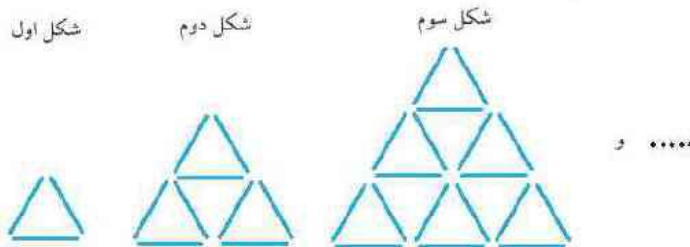
روش دوم: هر ضلع مربع از  $(n+1)$  دایره تشکیل شده ولی دایره‌های واقع بر راس‌های مربع در دو ضلع قرار دارند و دوبار شمرده می‌شوند، بنابراین باید از مجموع کم شوند.

$$a_n = 4(n+1) - 4 = 4n$$

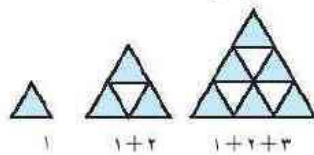


### مثال ۴۳

در شکل‌های زیر، تعداد پاره‌خط‌های لازم برای ساختن شکل‌ها الگویی عددی می‌سازند. جمله‌ی عمومی این دنباله را به دست آورید.



حل. در واقع هر شکل، از تعدادی مثلث با الگویی زیر ساخته می‌شود.



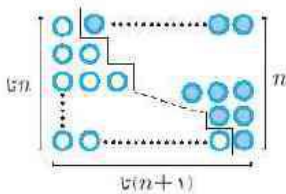
یعنی کافی است تعداد مثلث‌های رنگی را شماره و در ۳ ضرب کنیم.

$$\text{تعداد مثلث‌های مرحله‌ی } n \text{ ام} = 1 + 2 + 3 + \dots + n$$

$$a_n = 3(1 + 2 + 3 + \dots + n) \text{ جمله‌ی عمومی تعداد پاره‌خط‌ها}$$

جمله‌ی عمومی فوق می‌تواند صورت ساده‌تری داشته باشد. برای رسیدن به فرمولی جالب‌تر به شکل مقابل توجه کنید.

در این شکل تعداد نوپ‌های تور با تعداد توپ‌های توخالی برابر  $1 + 2 + 3 + \dots + n$  است و با توجه به شکل می‌توان فهمید مجموع تعداد توپ‌های تور و توخالی یا هم برابر است با  $n(n+1)$ ؛ یعنی:



$$1 + 2 + 3 + \dots + n = \frac{n(n+1)}{2}$$

$$a_n = \frac{3n(n+1)}{2} \text{ بنابراین}$$



مجموع  $n$  عدد طبیعی متوالی از  $(n)$   $1 + 2 + 3 + \dots + n = \frac{n(n+1)}{2}$

فرمول فوق از فرمول‌های بسیار پرکاربرد در ریاضیات است که برای آن اثبات‌های متعدد هندسی و نیز اثبات جبری وجود دارد. در برخی از الگوهای عددی در هر مرحله یک تساوی عددی یا جبری دیده می‌شود. به مثال زیر توجه کنید:

$$\begin{aligned} 1^2 &= 1^2 \\ 1^2 + 2^2 &= (1+2)^2 \\ 1^2 + 2^2 + 3^2 &= (1+2+3)^2 \\ &\vdots \\ 1^2 + 2^2 + \dots + n^2 &= (1+2+\dots+n)^2 \end{aligned}$$

### مثال ۴۴



در چنین الگویی، اعداد ۱، ۹، ۳۶ و... که در مراحل مختلف تولید می‌شوند، اهمیتی ندارند بلکه تساوی مجموع مکعبات اعداد ۱ تا  $n$  یا مربع مجموع اعداد ۱ تا  $n$  مورد نظر است.<sup>۱</sup>



یا محاسبه‌ی  $۱ + \frac{1}{۲} + \frac{1}{۴} + \frac{1}{۸} + \dots + \frac{1}{۲^n}$  فرمولی برای محاسبه‌ی عبارت  $۱ + \frac{1}{۲} + \frac{1}{۴} + \dots + \frac{1}{۲^n}$  حدس بزنید.

### مثال ۴۵

حل

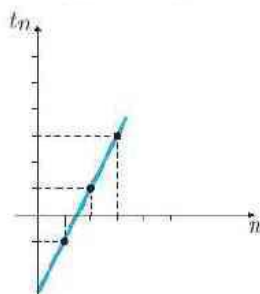
$$\begin{aligned} 1 + \frac{1}{2} &= \frac{3}{2} = 2 - \frac{1}{2} \\ 1 + \frac{1}{2} + \frac{1}{4} &= \frac{7}{4} = 2 - \frac{1}{4} \\ 1 + \frac{1}{2} + \frac{1}{4} + \frac{1}{8} &= \frac{15}{8} = 2 - \frac{1}{8} \\ &\vdots \\ 1 + \frac{1}{2} + \frac{1}{4} + \dots + \frac{1}{2^n} &= 2 - \frac{1}{2^n} \end{aligned}$$



### الگوی خطی

اگر الگویی شامل تعدادی عدد باشد طوری که جمله‌ی عمومی آن به صورت  $t_n = a \times n + b$  باشد، الگو را خطی می‌نامیم.  $t_n$  جمله‌ی عمومی الگو و  $a$  و  $b$  دو عدد حقیقی دلخواه و ثابت هستند. در واقع هرگاه جمله‌ی عمومی الگو بر حسب  $n$  عبارتی از درجه‌ی ۱ یا صفر باشد، الگو خطی است.

به الگوی  $t_n = 2n - 3$  توجه کنید که در آن جملات اول، دوم، سوم، ... به ترتیب ۱، ۱، ۳، ... به دست می‌آید.



حال اگر آن‌ها را در صفحه‌ی مختصات در بعدی نشان دهیم به صورت مقابل خواهد بود. که در آن اعداد طبیعی موجود بر محور  $x$ ها نشانگر شماره‌ی جمله و اعداد موجود بر محور  $y$ ها نشانگر مقدار جمله‌ی عمومی است. همان طور که مشاهده می‌شود این نقاط بر روی خطی فرضی با معادله‌ی  $y = 2x - 3$  قرار دارند و به همین دلیل به این نوع الگوها، الگوهای خطی می‌گویند. و در حالت کلی می‌توان گفت:

ویژگی ۱: در الگوی خطی  $t_n = an + b$  هر جمله منتهای جمله‌ی قبلی برابر با ضرب  $n$  یعنی  $a$  است.  
ویژگی ۲: تمام جملات الگوی خطی  $t_n = an + b$  بر روی  $y = ax + b$  قرار دارند که در آن شیب خط همان اختلافی است که دو جمله‌ی متوالی از یکدیگر دارند.

جملات سوم و پنجم یک الگوی خطی به ترتیب برابر ۸ و ۱۶ هستند. جمله‌ی عمومی و جمله‌ی هشتم الگو را به دست آورید.

### مثال ۴۶

حل

$$\begin{aligned} t_n = an + b &\Rightarrow \text{الگو خطی است.} \\ t_3 = 8 &\Rightarrow \begin{cases} 3a + b = 8 \\ 5a + b = 16 \end{cases} \Rightarrow \begin{cases} -3a - b = -8 \\ 5a + b = 16 \end{cases} \Rightarrow \begin{cases} a = 4 \\ b = -4 \end{cases} \\ t_5 = 16 &\Rightarrow \begin{cases} 3a + b = 8 \\ 5a + b = 16 \end{cases} \Rightarrow \begin{cases} -3a - b = -8 \\ 5a + b = 16 \end{cases} \Rightarrow \begin{cases} a = 4 \\ b = -4 \end{cases} \\ \Rightarrow t_n = 4n - 4 &\quad \text{جمله‌ی هشتم} = t_8 = 4 \times 8 - 4 = 28 \end{aligned}$$



### دنباله

هر تعداد عدد را که پشت سر هم قرار می‌گیرند، یک دنباله می‌گویند. دقت کنید که در یک دنباله بر خلاف مجموعه‌ها، ترتیب اعداد (جملات) اهمیت دارد.

(۱) اثبات این فرمول را در آینده خواهیم دید.



برای هر یک از دنباله‌های زیر یک جمله عمومی حدس بزنید.

(الف)  $2, 5, 8, \dots$  (ب)  $\frac{1}{2 \times 3}, \frac{2}{3 \times 4}, \frac{3}{4 \times 5}, \dots$  (ج)  $4, 8, 16, \dots$   
 (د)  $2, 6, 12, \dots$  (ه)  $-1, 2, -3, 4, \dots$  (و)  $2, 12, 112, 1112, \dots$

حل. (الف) هر جمله از جمله قبل خود ۳ واحد بیش‌تر است، پس دنباله یک الگوی خطی به صورت  $t_n = an + b$  می‌باشد که در آن  $a = 3$  است. با جاگذاری  $n = 1$  می‌توان مقدار  $b$  را به دست آورد.

$$t_1 = 2 \Rightarrow a \times 1 + b = 2 \Rightarrow 3 + b = 2 \Rightarrow b = -1$$

جمله عمومی به صورت  $t_n = 3n - 1$  است.

(ب) صورت کسر، شماره جمله و مخرج آن حاصل ضرب دو عدد متوالی یعنی است:  $a_n = \frac{n}{(n+1)(n+2)}$

(ج) جملات دنباله، توان‌های طبیعی عدد ۲ هستند:  $a_n = 2^{n+1}$

(د) می‌توان جملات را به صورت  $2 \times 1, 2 \times 3, 2 \times 4, \dots$  در نظر گرفت:  $a_n = n(n+1)$

(ه) جملات یکی در میان مثبت و منفی می‌باشند. در این نوع سزالات می‌توان از عاملی که متناوباً ۱ و -۱ می‌شود مثل  $(-1)^n$

یا  $a_n = (-1)^n \times n$  استفاده کرد.

نکته ۱۰

اگر جملات دنباله یکی در میان مثبت و منفی شوند، جمله عمومی را بدون در نظر گرفتن منق‌ها به دست آورده و آن را در یکی از عبارتهای  $(-1)^n$  یا  $(-1)^{n+1}$  ضرب می‌کنیم.

نکته ۱۱

اگر جملات دنباله دو تا دو تا مثبت و منفی شوند، جمله عمومی را بدون در نظر گرفتن منق‌ها به دست آورده و آن را در یکی از عبارتهای  $\frac{n(n+1)}{2}$  یا تقریبی آن ضرب می‌کنیم.

(و) برای این که اعداد، الگوی ساده‌تری نمایش دهند، می‌توان همه را منهای ۱ کرد.

$$1, 11, 111, \dots$$

حال اگر همه را در ۹ ضرب کنیم به الگوی روبه‌رو می‌رسیم:

این اعداد هر یک ۱ واحد از توانی از  $10$  کمترند:

$$\begin{aligned} 9, 99, 999, 9999, \dots &\Rightarrow (10^1 - 1), (10^2 - 1), (10^3 - 1), (10^4 - 1), \dots \\ 1, 11, 111, 1111, \dots &\Rightarrow \frac{10^1 - 1}{9}, \frac{10^2 - 1}{9}, \frac{10^3 - 1}{9}, \frac{10^4 - 1}{9}, \dots \\ 2, 12, 112, 1112, \dots &\Rightarrow \left(\frac{10^1 - 1}{9} + 1\right), \left(\frac{10^2 - 1}{9} + 1\right), \left(\frac{10^3 - 1}{9} + 1\right), \left(\frac{10^4 - 1}{9} + 1\right), \dots \\ \Rightarrow a_n &= \frac{10^n - 1}{9} + 1 = \frac{10^n + 8}{9} \end{aligned}$$





تذکر مهم

با دیدن تعدد محدودی از جملات دنباله لزوماً نمی‌توان به جمله عمومی آن به صورت منحصر به فرد دست یافت. به عنوان مثال با دیدن  $۱, ۲, ۳, \dots$  نمی‌توان مطمئن بود که دنباله به صورت  $a_n = n$  است. مثلاً ممکن است به یکی از صورت‌های زیر باشد:

$$۱, ۲, ۳, ۱, ۲, ۳, ۱, ۲, ۳, \dots$$

$$۱, ۲, ۳, ۴, ۴, ۴, \dots$$

بنابراین اگر بخواهیم برای تعدادی از جملات دنباله یک جمله عمومی بنویسیم، به تنها جواب ممکن نرسیده‌ایم.

مثال ۴۸

برای دنباله‌ی زیر سه جمله‌ی عمومی متفاوت بنویسید.

$$۲, ۹, ۲۸, \dots$$

حل. اگر از اعداد فوق یک واحد کم کنیم، جملات مکعب اعداد طبیعی خواهند بود پس یک حدس عبارت است از:

$$a_n = n^3 + ۱$$

ولی دنباله‌های زیر هم می‌توانند همان جملات اولیه را تولید کنند ولی در جملات بعد خود، لزوماً مثل  $a_n$  نیستند:

$$b_n = (n-1)(n-2)(n-3) + n^3 + 1 = 2n^3 - 6n^2 + 11n - 5$$

$$c_n = \frac{(n-1)(n-2)(n^2-9)}{n^2+1} + n^3 + 1$$

دنباله‌های  $b_n$  و  $c_n$  در  $۳$  جمله‌ی اول یا  $a_n$  مشابهت دارند. با همین روش می‌توان بی‌شمار جمله‌ی عمومی متفاوت نوشت.

مثال ۴۹

دنباله‌ی  $a_n = \frac{2n+1}{n+3}$  را در نظر بگیرید.

(الف) جملات اول و نهم آن را به دست آورید.

(ب) آیا در این دنباله جمله‌ای وجود دارد که برابر  $۱/۵$  باشد؟

(ج) آیا در این دنباله جمله‌ای وجود دارد که برابر  $5/3$  باشد؟

حل.

$$a_1 = \frac{2 \times 1 + 1}{1 + 3} = \frac{3}{4} \quad a_9 = \frac{2 \times 9 + 1}{9 + 3} = \frac{19}{12} \quad \text{(الف)}$$

$$a_n = \frac{2n+1}{n+3} = \frac{3}{4} \Rightarrow 4n+2 = 3n+9 \Rightarrow n=7 \quad \text{(ب)}$$

جمله‌ی هفتم برابر  $3/4$  است.

$$a_n = \frac{2n+1}{n+3} = \frac{5}{3} \Rightarrow 3n+2 = 5n+15 \Rightarrow n = -11/2 \quad \text{(ج)}$$

چنین جمله‌ای ندارد.

مثال ۵۰

برای دنباله‌ی زیر دو عدد بعدی را حدس بزنید به طوری که از یک الگوی مشخص پیروی کنند.

$$۱, ۲, ۲, ۴, ۸, ۳۲, ?, ?$$

حل. یافتن جمله‌ی عمومی برای دنباله‌ی فوق دشوار است ولی یک الگو این است که از جمله‌ی سوم به بعد، هر جمله برابر حاصل ضرب دو جمله‌ی قبل از خود است. پس می‌توان نوشت:

$$\text{جمله‌ی هفتم} = ۸ \times ۳۲ = ۲۵۶$$

$$\text{جمله‌ی هشتم} = ۳۲ \times ۲۵۶ = ۸۱۹۲$$



## دنباله‌ی بازگشتی

دنباله‌ای است که جمله‌ی عمومی آن به جای این که بر حسب  $n$  بیان شود، بر حسب جملات قبلی بیان می‌شود. به عنوان مثال برای دنباله‌ی مثال ۵۰ می‌توان نوشت:

$$\begin{cases} a_1 = 1 \\ a_2 = 2 \\ a_n = a_{n-1} \times a_{n-2} \quad n \geq 3 \end{cases}$$

یکی از معروف‌ترین دنباله‌های بازگشتی، دنباله‌ی فیبوناچی است که دو جمله‌ی اول آن برابر ۱ است و از آن به بعد هر جمله برابر مجموع دو جمله‌ی قبل از خود است.

۱, ۱, ۲, ۳, ۵, ۸, ...

$$\begin{cases} a_1 = a_2 = 1 \\ a_n = a_{n-1} + a_{n-2} \quad n \geq 3 \end{cases} \quad \text{جمله‌ی عمومی دنباله‌ی فیبوناچی}$$

برای هر یک از دنباله‌های زیر یک جمله‌ی عمومی بازگشتی حدس بزنید.

## مثال ۵۱

(الف)  $5, 10, 20, \dots$

(ب)  $4, \frac{1}{4}, 4, \frac{1}{4}, \dots$

(ج)  $1, 1, 3, 5, 11, 21, \dots$

حل

(الف) 
$$\begin{cases} a_1 = 5 \\ a_n = 2a_{n-1} \quad n \geq 2 \end{cases}$$

(ب) 
$$\begin{cases} a_1 = 4 \\ a_n = \frac{1}{a_{n-1}} \quad n \geq 2 \end{cases}$$

(ج) 
$$\begin{cases} a_1 = a_2 = 1 \\ a_n = a_{n-1} + 2a_{n-2} \quad n \geq 3 \end{cases}$$



پدرتی (ژردنباله‌ها هم جمله‌ی عمومی بازگشتی و هم جمله‌ی عمومی غیربازگشتی دارند.

## نکته ۱۲

به عنوان مثال جمله‌ی عمومی غیربازگشتی مورد الف مثال ۵۱ می‌تواند به صورت  $a_n = 5 \times 2^{n-1}$  باشد.

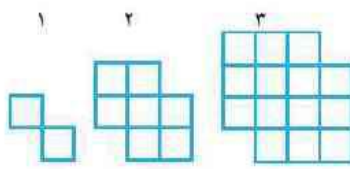
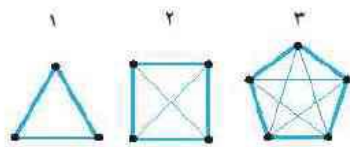
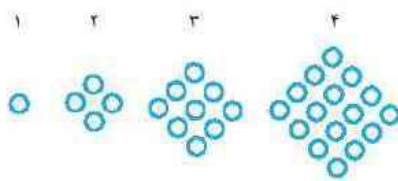


مسائل نمونه

درس ۲



۱ جمله‌ی عمومی الگوهای هندسی زیر را حدس بزنید.



۴ برای هر یک از دنباله‌های زیر یک جمله‌ی عمومی حدس بزنید.

- (الف)  $\frac{7}{9}, \frac{8}{16}, \frac{9}{25}, \dots$
- (ب)  $18, -22, 26, -30, \dots$
- (ج)  $0, -\frac{1}{3}, -\frac{2}{5}, -\frac{3}{7}, \dots$
- (د)  $-2, -4, 6, 8, -10, -12, \dots$
- (ه)  $8, \frac{3}{2}, -\frac{2}{3}, -\frac{7}{4}, \dots$

۵ چند تا از جملات دنباله‌ی زیر اعداد طبیعی هستند؟

$$a_n = \frac{n^2 + 8}{n + 2}$$

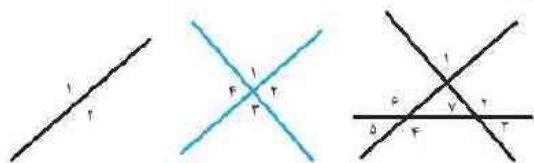
۶ در دنباله‌ی فیبوناچی دو جمله‌ی اول و دوم برابر ۱ هستند. از

جمله‌ی سوم به بعد هر جمله برابر است با مجموع دو جمله‌ی قبل از خود. اگر جمله‌ی  $n$  ام دنباله برابر  $a_n$  باشد دنباله‌ی زیر را تشکیل داده و برای آن یک جمله‌ی عمومی حدس بزنید.

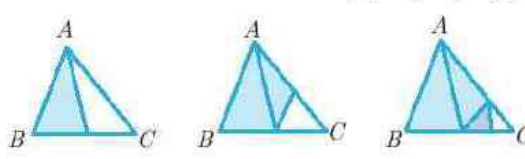
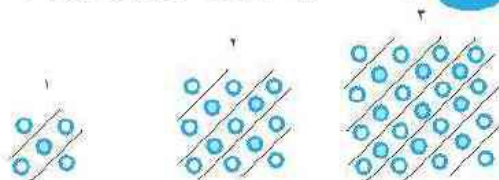
$$b_n = a_n \times a_{n+2} - a_{n+1} \times a_{n+1}$$

۷ در یک صفحه تعدادی خط دویبه دو متقاطع که هیچ سه تا‌یی از

آنها از یک نقطه نمی‌گذرد رسم شده و تعدادی ناحیه‌ی جدا از هم ایجاد می‌شود. اگر  $n$  تعداد خطوط در مرحله‌ی  $n$  ام و جمله‌ی عمومی تعداد نواحی به صورت  $t_n = \frac{n^2 + an + b}{2}$  باشد مقدار  $a$  و  $b$  را به دست آورید.



۸ به کمک شکل‌های زیر چه فرمولی را می‌توان اثبات کرد؟



$$\{ \quad \quad \quad \} =$$





۱

(الف) هر یک از شکل‌ها مربع‌های  $n \times n$  می‌باشند.

$$a_n = n^2$$

(ب) در واقع تعداد پاره‌خط‌ها برابر است با مجموع تعداد اضلاع و قطرهای  $n$  ضلعی. حال به محاسبه‌ی تعداد قطرهای یک  $n$  ضلعی می‌پردازیم. اگر از هر رأس  $n$  ضلعی به جز خودش و دو رأس مجاور، پاره‌خطی تا راسی دیگر رسم کنیم، یک قطر رسم می‌شود. پس در کل می‌توان  $n(n-3)$  پاره‌خط داشت. یعنی از هر یک از  $n$  رأس به  $(n-3)$  رأس دیگر، ولی به عنوان مثال قطری فرضی مثل  $AD$  دو بار شمرده می‌شود (از  $A$  به  $D$  و از  $D$  به  $A$ ). بنابراین تعداد قطرهای  $n$  ضلعی از فرمول  $\frac{n(n-3)}{2}$  به دست می‌آید.

حال در مرحله‌ی  $n$  ام، ما با یک  $(n+2)$  ضلعی سر و کار داریم:

$$\begin{aligned} \text{تعداد قطرهای } (n+2) \text{ ضلعی} &= \frac{(n+2)(n+2-3)}{2} \\ &= \frac{(n+2)(n-1)}{2} \\ \text{تعداد پاره‌خط‌ها} &= a_n = \frac{(n+2)(n-1)}{2} + (n+2) \\ &= (n+2)\left(\frac{n-1}{2} + 1\right) \\ &= \frac{(n+1)(n+2)}{2} \end{aligned}$$

برای حل این مسأله روش ساده‌تری نیز وجود دارد که در فصل ۶ با آن آشنا خواهید شد.

(ج) در واقع یک مربع شطرنجی  $n \times n$  داریم که همواره ۲ تا از خانه‌هایش حذف شده‌اند.

$$a_n = (n+1)^2 - 2$$

۲

دنباله‌ی مساحت‌های قسمت‌های سفید:

$$\frac{1}{2}, \frac{1}{4}, \frac{1}{8}, \dots$$

$$a_n = \frac{1}{2^n}$$

۳

جملات دنباله را به صورت زیر می‌نویسیم:

$$2, 17, 14, 11, \dots$$

این یک الگوی خطی است که در آن  $a = -3$  می‌باشد. یا جاگذاری  $n = 1$  مقدار  $h$  را به دست می‌آوریم:

$$\begin{aligned} t_n &= an + b \Rightarrow t_1 = (-3) \times 1 + b \\ \Rightarrow 2^0 &= -3 + b \Rightarrow b = 23 \Rightarrow t_n = -3n + 23 \end{aligned}$$

۴

(الف) اعداد مخرج ۲ واحد از اعداد صورت بزرگ‌تر هستند.

$$a_n = \frac{n+6}{n+8}$$

(ب) فرض می‌کنیم همه‌ی جملات مثبت باشند. در این صورت یک الگوی خطی به صورت  $4n + 14$  خواهیم داشت. در مرحله‌ی بعد کفایت با ضرب  $(-1)^{n+1}$  حالت مثبت و منفی را ایجاد می‌کنیم.

$$a_n = (4n + 14)(-1)^{n+1}$$

(ج) صورت کسر در هر مرحله یک واحد کم می‌شود و مخرج در هر مرحله دو واحد افزایش می‌یابد و هر دو الگوی خطی می‌باشند.

$$\begin{aligned} \text{دنباله‌ی اعداد صورت} &= 1 - n \Rightarrow a_n = \frac{1-n}{2n-1} \\ \text{دنباله‌ی اعداد مخرج} &= 2n-1 \end{aligned}$$

(د) بدون در نظر گرفتن علامت، دنباله به صورت  $2n$  است (به نکته‌ی ۱۱ مراجعه کنید).

$$a_n = 2n \times (-1)^{\frac{n(n+1)}{2}}$$

(ه) صورت کسر در هر مرحله ۵ واحد کم و مخرج آن یک واحد زیاد می‌شود.

$$\begin{aligned} \text{دنباله‌ی اعداد صورت} &= -5n + 13 \Rightarrow a_n = \frac{-5n + 13}{n} \\ \text{دنباله‌ی اعداد مخرج} &= n \end{aligned}$$

۵

در این نوع سؤالات باید مضرری از مخرج را در صورت پیدا کنیم و در صورت نیاز از اتحادهای جبری یا فاکتورگیری استفاده کنیم. (در واقع صورت را بر مخرج تقسیم می‌کنیم.)

$$a_n = \frac{n^2 - 4 + 12}{n+2} = \frac{n^2 - 4}{n+2} + \frac{12}{n+2} = n - 2 + \frac{12}{n+2}$$

چون  $n$  عددی طبیعی است، برای این که حاصل  $a_n$  نیز طبیعی باشد باید  $\frac{12}{n+2}$  نیز یک عدد طبیعی باشد. یعنی  $(n+2)$  شمارنده‌ی ۱۲ است.

$$\begin{aligned} n+2=1 &\Rightarrow n=-1 & n+2=6 &\Rightarrow n=4 \\ n+2=2 &\Rightarrow n=0 & n+2=12 &\Rightarrow n=10 \\ n+2=3 &\Rightarrow n=1 \\ n+2=4 &\Rightarrow n=2 \end{aligned}$$





در نتیجه ۴ تا از جملات، عدد طبیعی هستند. و در ضمن توجه داشته باشید که اگر شماره‌های منفی عدد ۱۲ را در نظر می‌گیریم برای n مقداری طبیعی یافت نمی‌شد.

۶ جملات دنباله فیبوناچی

$$1, 1, 2, 3, 5, 8, 13, 21, 34, \dots$$

$$b_1 = a_1 a_2 - a_2 a_3 = 1 \times 2 - 1 \times 2 = 0$$

$$b_2 = a_2 \times a_3 - a_3 \times a_4 = 1 \times 3 - 2 \times 2 = -1$$

$$b_3 = a_3 \times a_4 - a_4 \times a_5 = 2 \times 5 - 3 \times 3 = -1$$

$$b_4 = a_4 \times a_5 - a_5 \times a_6 = 3 \times 8 - 5 \times 5 = -1$$

⋮

$$b_n = (-1)^{n+1}$$

۷ با توجه به شکل‌ها مشخص است که  $t_1 = 2$  و  $t_2 = 4$ . حال

این دو عدد را در جمله عمومی جایگذاری می‌کنیم.

$$\begin{cases} t_1 = 2 \Rightarrow \frac{1+a+b}{2} = 2 \Rightarrow a+b=3 \\ t_2 = 4 \Rightarrow \frac{4+\sqrt{2}a+b}{2} = 4 \Rightarrow 2a+b=4 \end{cases}$$

حل دستگاه  $a=1, b=2$

$$t_n = \frac{n^2 + n + 1}{2}$$

۸ شما تعداد نواحی را برای  $n=3$  و  $n=4$  امتحان کنید.

تعداد کل = تعداد مهره‌های رنگی + تعداد مهره‌های سفید

$$(n+1)^2 + n^2 = 2(1+3+\dots+2n-1) + (2n+1)$$

$$\Rightarrow 1+3+\dots+(2n-1) = \frac{(n+1)^2 + n^2 - (2n+1)}{2}$$

$$\Rightarrow 1+3+\dots+(2n-1) = n^2$$

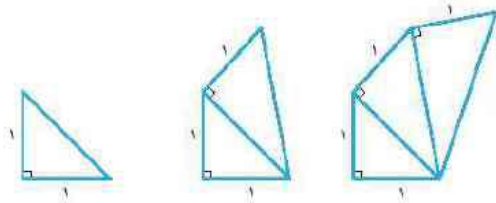




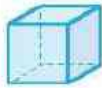
درس ۲

تمرین

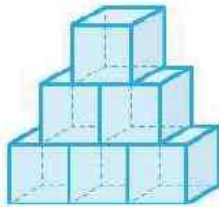
(زا) طول بزرگ‌ترین پاره خط



۲ فرض کنید با ۱۲ تکه چوب، مکعبی به شکل زیر درست کنیم.



(الف) برای درست کردن برجی به شکل زیر به ارتفاع ۳، چند تکه چوب لازم داریم؟



(ب) برای درست کردن برجی با همان الگو و با ارتفاع  $n$  چند چوب کبریت لازم است؟

---



---

۳ به کمک شکل زیر چه فرمولی را می‌توان ثابت کرد؟




---



---



---

$n$  نقطه‌ی مشخص به

---



---



---

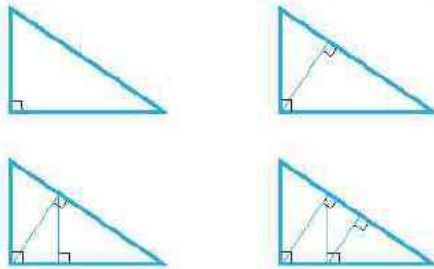
۱ ۲ ۳ ۴ ۵ ۶ ۷ ۸ ۹ ۱۰ ۱۱ ۱۲ ۱۳ ۱۴ ۱۵ ۱۶ ۱۷ ۱۸ ۱۹ ۲۰ ۲۱ ۲۲ ۲۳ ۲۴ ۲۵ ۲۶ ۲۷ ۲۸ ۲۹ ۳۰ ۳۱ ۳۲ ۳۳ ۳۴ ۳۵ ۳۶ ۳۷ ۳۸ ۳۹ ۴۰ ۴۱ ۴۲ ۴۳ ۴۴ ۴۵ ۴۶ ۴۷ ۴۸ ۴۹ ۵۰

۱ ۲ ۳ ۴ ۵ ۶ ۷ ۸ ۹ ۱۰ ۱۱ ۱۲ ۱۳ ۱۴ ۱۵ ۱۶ ۱۷ ۱۸ ۱۹ ۲۰ ۲۱ ۲۲ ۲۳ ۲۴ ۲۵ ۲۶ ۲۷ ۲۸ ۲۹ ۳۰ ۳۱ ۳۲ ۳۳ ۳۴ ۳۵ ۳۶ ۳۷ ۳۸ ۳۹ ۴۰ ۴۱ ۴۲ ۴۳ ۴۴ ۴۵ ۴۶ ۴۷ ۴۸ ۴۹ ۵۰

۱ ۲ ۳ ۴ ۵ ۶ ۷ ۸ ۹ ۱۰ ۱۱ ۱۲ ۱۳ ۱۴ ۱۵ ۱۶ ۱۷ ۱۸ ۱۹ ۲۰ ۲۱ ۲۲ ۲۳ ۲۴ ۲۵ ۲۶ ۲۷ ۲۸ ۲۹ ۳۰ ۳۱ ۳۲ ۳۳ ۳۴ ۳۵ ۳۶ ۳۷ ۳۸ ۳۹ ۴۰ ۴۱ ۴۲ ۴۳ ۴۴ ۴۵ ۴۶ ۴۷ ۴۸ ۴۹ ۵۰



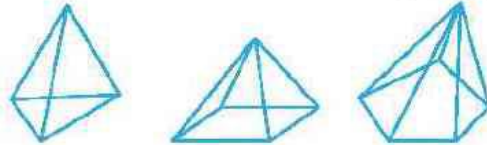
۱ ۲ ۳ ۴ ۵ ۶ ۷ ۸ ۹ ۱۰ ۱۱ ۱۲ ۱۳ ۱۴ ۱۵ ۱۶ ۱۷ ۱۸ ۱۹ ۲۰ ۲۱ ۲۲ ۲۳ ۲۴ ۲۵ ۲۶ ۲۷ ۲۸ ۲۹ ۳۰ ۳۱ ۳۲ ۳۳ ۳۴ ۳۵ ۳۶ ۳۷ ۳۸ ۳۹ ۴۰ ۴۱ ۴۲ ۴۳ ۴۴ ۴۵ ۴۶ ۴۷ ۴۸ ۴۹ ۵۰



۱ ۲ ۳ ۴ ۵ ۶ ۷ ۸ ۹ ۱۰ ۱۱ ۱۲ ۱۳ ۱۴ ۱۵ ۱۶ ۱۷ ۱۸ ۱۹ ۲۰ ۲۱ ۲۲ ۲۳ ۲۴ ۲۵ ۲۶ ۲۷ ۲۸ ۲۹ ۳۰ ۳۱ ۳۲ ۳۳ ۳۴ ۳۵ ۳۶ ۳۷ ۳۸ ۳۹ ۴۰ ۴۱ ۴۲ ۴۳ ۴۴ ۴۵ ۴۶ ۴۷ ۴۸ ۴۹ ۵۰



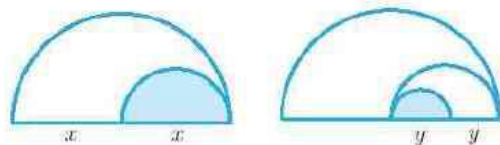
۱ ۲ ۳ ۴ ۵ ۶ ۷ ۸ ۹ ۱۰ ۱۱ ۱۲ ۱۳ ۱۴ ۱۵ ۱۶ ۱۷ ۱۸ ۱۹ ۲۰ ۲۱ ۲۲ ۲۳ ۲۴ ۲۵ ۲۶ ۲۷ ۲۸ ۲۹ ۳۰ ۳۱ ۳۲ ۳۳ ۳۴ ۳۵ ۳۶ ۳۷ ۳۸ ۳۹ ۴۰ ۴۱ ۴۲ ۴۳ ۴۴ ۴۵ ۴۶ ۴۷ ۴۸ ۴۹ ۵۰



۱ ۲ ۳ ۴ ۵ ۶ ۷ ۸ ۹ ۱۰ ۱۱ ۱۲ ۱۳ ۱۴ ۱۵ ۱۶ ۱۷ ۱۸ ۱۹ ۲۰ ۲۱ ۲۲ ۲۳ ۲۴ ۲۵ ۲۶ ۲۷ ۲۸ ۲۹ ۳۰ ۳۱ ۳۲ ۳۳ ۳۴ ۳۵ ۳۶ ۳۷ ۳۸ ۳۹ ۴۰ ۴۱ ۴۲ ۴۳ ۴۴ ۴۵ ۴۶ ۴۷ ۴۸ ۴۹ ۵۰



۱ ۲ ۳ ۴ ۵ ۶ ۷ ۸ ۹ ۱۰ ۱۱ ۱۲ ۱۳ ۱۴ ۱۵ ۱۶ ۱۷ ۱۸ ۱۹ ۲۰ ۲۱ ۲۲ ۲۳ ۲۴ ۲۵ ۲۶ ۲۷ ۲۸ ۲۹ ۳۰ ۳۱ ۳۲ ۳۳ ۳۴ ۳۵ ۳۶ ۳۷ ۳۸ ۳۹ ۴۰ ۴۱ ۴۲ ۴۳ ۴۴ ۴۵ ۴۶ ۴۷ ۴۸ ۴۹ ۵۰



(ب)  $0, 3, 8, 15, \dots$

۷ برای دنباله‌های زیر یک جمله عمومی به صورت بازگشتی

نویسید.

(الف)  $2, 5, \frac{2}{5}, \frac{25}{2}, \frac{4}{125}, \dots$

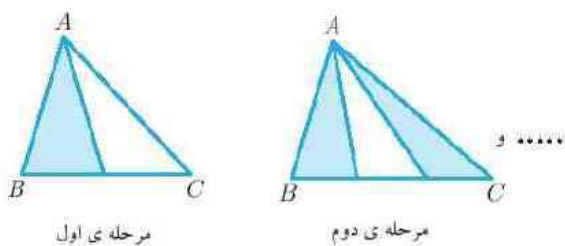
(ب)  $3, 27, 27^9, \dots$

۸ چند تا از جملات دنباله  $a_n = \frac{2n^2 + 2n + 12}{n + 1}$  اعداد

طبیعی هستند؟

۹ دنباله‌های  $b_n = \frac{2n - 4}{2n - 9}$  و  $a_n = \frac{n + 9}{n + 1}$  چند جمله‌ی

مشترک دارند؟



۵ برای هر یک از دنباله‌های زیر یک جمله عمومی بنویسید.

(الف)  $8, -1, -10, -19, \dots$

(ب)  $-1, 1, 5, 11, \dots$

(ج)  $0, 3, 8, 15, \dots$

(د)  $\frac{7}{5}, \frac{77}{55}, \frac{777}{555}, \dots$

(ه)

$\frac{1000}{501}, \frac{999}{502}, \frac{998}{503}, \dots$

۶ برای جملات دنباله‌های زیر، دو جمله عمومی متفاوت حدس

بزنید.

(الف)  $1, \frac{2}{3}, \frac{3}{5}, \dots$





دنباله‌ی حسابی. دنباله‌ای است که در آن به‌جز جمله‌ی اول، هر جمله از جمع جمله‌ی قبل از خود با مددی ثابت به نام قدر نسبت به دسته می‌آید. در یک دنباله‌ی حسابی معمولاً جمله‌ی اول را با  $a$  و قدر نسبت را با  $d$  نمایش می‌دهیم. (دنباله‌ی حسابی را تصادم حسابی یا عددی نیز می‌نامند)

به عنوان مثال دنباله‌ی حسابی با جمله‌ی اول ۳ و قدر نسبت ۴ به صورت زیر است:

$$3, 7, 11, 15, \dots$$

### جمله‌ی عمومی دنباله‌ی حسابی

می‌توان جملات دنباله‌ی حسابی را به صورت زیر نوشت:

$t_1$	$t_2$	$t_3$	...	$t_n$	...
$a$	$a + d$	$a + 2d$	...	$a + (n - 1)d$	...

جمله‌ی عمومی دنباله‌ی حسابی یا قدر نسبت  $d$  و جمله‌ی اول  $a$  عبارت است از:  $t_n = a + (n - 1)d$ .

نکته ۱۳

اگر جملات سوم و هشتم یک دنباله‌ی حسابی به ترتیب برابر ۱۲ و ۲۷ باشد، دنباله را مشخص کنید.

مثال ۵۲

$$\begin{cases} t_3 = 12 \Rightarrow a + 2d = 12 \\ t_8 = 27 \Rightarrow a + 7d = 27 \end{cases} \Rightarrow 5d = 15 \Rightarrow d = 3, a = 6$$

دنباله: ۶, ۹, ۱۲, ...

حل

نکته ۱۴

اگر  $t_m$  و  $t_n$  جملات  $m$ ام و  $n$ ام یک دنباله‌ی حسابی باشد آنگاه خواهیم داشت:  $d = \frac{t_m - t_n}{m - n}$ .

$$\frac{t_m - t_n}{m - n} = \frac{a + (m - 1)d - (a + (n - 1)d)}{m - n} = \frac{md - nd}{m - n} = d$$

اثبات:

برای نمونه در مثال ۵۲ می‌توان قدر نسبت را به شیوه‌ی زیر محاسبه کرد:

$$d = \frac{27 - 12}{8 - 3} = 3$$

در یک دنباله‌ی حسابی به نام  $a$ ، حاصل عبارت  $\frac{t_{10} - t_6}{t_{16} - t_6}$  را به دست آورید.

مثال ۵۳

حل

$$\frac{t_{10} - t_6}{t_{16} - t_6} = \frac{a + 9d - (a + 5d)}{a + 15d - (a + 5d)} = \frac{4d}{10d} = \frac{2}{5}$$

در هر دنباله‌ی حسابی رابطه‌ی زیر برقرار است:

نکته ۱۵

$$\frac{t_m - t_n}{t_p - t_q} = \frac{m - n}{p - q} \quad (p \neq q \text{ و } t_p \neq t_q \text{ یا شرط } t_q \neq t_p)$$





اثبات:

$$d = \frac{t_m - t_n}{m - n} = \frac{t_p - t_q}{p - q} \Rightarrow \frac{t_m - t_n}{t_p - t_q} = \frac{m - n}{p - q}$$

**مثال ۵۴**

دنباله‌ی حسابی ... ۱۳، ۱۷، ۲۱، ... چند جمله‌ی ۳ رقمی دارد؟

حل. جمله‌ی عمومی دنباله را تشکیل می‌دهیم.

$$a = 13 \quad d = 4$$

$$t_n = 13 + 4(n - 1) = 4n + 9$$

$$99 < 4n + 9 < 1000 \Rightarrow 90 < 4n < 991 \Rightarrow \frac{90}{4} < n < \frac{991}{4}$$

$$\xrightarrow{n \in \mathbb{N}} 23 \leq n \leq 247$$

$$\text{تعداد جملات سه‌رقمی} = 247 - 23 + 1 = 225$$



**نکته ۱۶**

اگر  $a, b, c, d, e$  هفت جمله‌ی متوالی از یک دنباله حسابی باشند، آنگاه  $b + d = a + c = e$ .

**مثال**

**مثال**

**مثال**



حل. دنباله را به صورت زیر می‌نویسیم:

$$\begin{array}{ccccccc} 135 & & & & & & 180 \\ & \underbrace{\hspace{10em}}_{28} & & & & & \\ & \text{جمله اول} & & & & & \text{جمله دهم} \end{array}$$

$$t_{10} = 180 \Rightarrow 135 + 9d = 180 \Rightarrow d = 5$$

جملات عبارتند از  $140, 145, 150, 155, 160, 165, 170, 175$



### نکته ۱۷

اگر  $a, b$  و  $k$  عدد پانویسیم به طوری که یک دنباله حسابی تشکیل دهند، گوییم بین  $a$  و  $b$  واسطه حسابی درج کرده‌ایم و قدر نسبت دنباله اثر فرمول زیر به دست می‌آید:

$$d = \frac{b-a}{k+1}$$

با فرمول فوق می‌توان مسائلی مانند مثال ۵۶ را حل کرد. برای اثبات فرمول دقیقاً مشابه حل مثال ۵۶ عمل می‌کنند.

جمله عمومی یک دنباله حسابی به صورت  $t_n = (n-1)m + n + 3m$  است. این دنباله را مشخص کنید.

جمله عمومی یک دنباله حسابی همیشه از الگوی خطی پیروی می‌کند بنابراین بر حسب  $m$  حداکثر از درجه‌ی ۱ می‌تواند باشد بنابراین ضریب  $n^2$  باید برابر صفر باشد:

$$m-1=0 \Rightarrow m=1$$

$$\Rightarrow t_n = n + n + 3 = 2n + 3$$

$$t_1 = 2 \times 1 + 3 = 5$$

$$t_2 = 2 \times 2 + 3 = 7$$

⋮

دنباله:  $5, 7, 9, \dots$



### نکته ۱۸

اگر  $t$  یک دنباله حسابی باشد و داشته باشیم  $m+n=p+q$  می‌توان نتیجه گرفت:  $t_m + t_n = t_p + t_q$

اثبات:

$$t_m + t_n = a + (m-1)d + a + (n-1)d$$

$$= a + a + (m+n)d - d - d = a + a + (p+q)d - d - d$$

$$= a + (p-1)d + a + (q-1)d = t_p + t_q$$

در یک دنباله حسابی، مجموع جملات دهم تا شانزدهم برابر ۷۰ است. جمله سیزدهم دنباله چند است؟

$$a_{10} + a_{16} = a_{11} + a_{15} = a_{12} + a_{14} = 2a_{13}$$

$$\Rightarrow a_{10} + a_{11} + a_{12} + a_{13} + a_{14} + a_{15} + a_{16} = 7a_{13} = 70 \Rightarrow a_{13} = 10$$



### مثال ۶۰

مجموع ۳۰ جمله‌ی اول دنباله‌ی حسابی زیر را به دست آورید.

$$4, 7, 10, 13, \dots$$



حل. کافی است آن دنباله را یک بار از کوچک به بزرگ و بار دیگر از بزرگ به کوچک به صورت زیر نوشته و با هم جمع کنید لازم به ذکر است که جمله سی‌ام برابر  $3 \times 29 + 4$  یعنی ۹۱ می‌باشد:

$$\begin{aligned} S &= 4 + 7 + 10 + \dots + 85 + 88 + 91 \\ + S &= 91 + 88 + 85 + \dots + 10 + 7 + 4 \\ \hline 2S &= \underbrace{95 + 95 + 95 + \dots + 95 + 95 + 95} \\ 2S &= 30 \times 95 \Rightarrow S = \frac{30 \times 95}{2} = 1425 \end{aligned}$$





۱, ۴, ...  
۲, ۷, ...

- ۱ اگر  $6, x-y, 2, x$  و  $x$  جملات متوالی دنباله‌ی حسابی باشند،  $x$  و  $y$  را بیابید.
- ۲ در یک دنباله‌ی حسابی جملات پنجم و نهم به ترتیب برابر  $10$  و  $74$  هستند. دنباله را مشخص کنید.
- ۳ مجموع دو جمله‌ی اول یک دنباله‌ی حسابی برابر  $1$  است. اگر جمله‌ی بیستم دنباله  $130$  باشد، جمله‌ی هفتم دنباله را به دست آورید.
- ۴ مجموع جملات دهم و چهاردهم یک دنباله‌ی حسابی، برابر  $26$  است. اگر جمله‌ی سی‌ام این دنباله برابر  $79$  باشد، جمله‌ی بیست‌ویکم دنباله را بیابید.
- ۵ بین اعداد  $13$  و  $55$ ، شش واسطه‌ی حسابی درج کنید.
- ۶ بین اعداد  $(k^2 + k + 2)$  و  $(k^2 + 4k + 5)$ ،  $k$  واسطه‌ی حسابی درج کرده‌ایم قدر نسبت این دنباله را بیابید.
- ۷ مقادیر  $a$  و  $b$  را طوری به دست آورید که  $t_n = (a + 2b)n^3 + (a - b + 3)n^2 + 2an - b$  یک دنباله‌ی حسابی باشد.
- ۸ در دنباله‌ی حسابی  $3, 7, 11, \dots$  جمله‌ی  $n$ ام کوچکتر از  $400$  و جمله‌ی بعدی آن بزرگتر از  $400$  است.  $n$  را بیابید.
- ۹ دو دنباله‌ی حسابی زیر چند جمله‌ی مشترک بین  $200$  و  $700$  دارند؟
- ۱۰ حاصل ضرب جملات دوم و ششم یک دنباله‌ی حسابی برابر  $6$  است. اگر مجموع جملات سوم و پنجم دنباله برابر  $5$  باشد دنباله را مشخص کنید.
- ۱۱ جمله‌ی اول و قدر نسبت یک دنباله‌ی حسابی به ترتیب  $7-$  و  $3$  هستند. مجموع  $41$  جمله‌ی اول آن را بیابید.
- ۱۲ حاصل ضرب سه جمله‌ی متوالی یک دنباله‌ی حسابی برابر  $1620$  و حاصل جمعشان برابر  $36$  است. قدر نسبت دنباله را بیابید.
- ۱۳ مجموع  $n$  جمله‌ی اول یک دنباله‌ی حسابی از فرمول  $S_n = 3n^2 + 4n$  به دست می‌آید. دنباله را مشخص کنید.
- ۱۴ ثابت کنید اگر  $\frac{1}{a+b}, \frac{1}{a+c}, \frac{1}{b+c}$  جملات متوالی یک دنباله‌ی حسابی باشند،  $a^2, b^2, c^2$  نیز جملات متوالی یک دنباله‌ی حسابی هستند.
- ۱۵ ثابت کنید اگر جملات هم‌مرتبه از دو دنباله‌ی حسابی را با هم جمع کنیم، دنباله‌ی حاصل حسابی است.
- ۱۶ در یک دنباله‌ی حسابی حاصل ضرب جملات دوم و پنجم برابر  $112$  و حاصل جمع جملات دوم تا پنجم برابر  $46$  است. دنباله را مشخص کنید.





پاسخ مسائل نمونه‌ی

درس ۳



۵ - × - - - - -

$$a = 13 \quad b = 55 \quad k = 6$$

$$d = \frac{b-a}{k+1} = \frac{55-13}{6+1} = \frac{42}{7} = 6$$

واسطه‌ها = ۱۹, ۲۵, ۳۱, ۳۷, ۴۳, ۴۹

$$\left\{ \begin{array}{l} - \\ - \end{array} \right. \quad \frac{\text{حل دستگاه}}{\quad} \quad -$$

۶

$$a = k^2 + k + 2 \quad b = k^2 + 4k + 5$$

$$d = \frac{b-a}{k+1} = \frac{(k^2 + 4k + 5) - (k^2 + k + 2)}{k+1} = \frac{3k+3}{k+1}$$

$$\begin{array}{l} 5 \Rightarrow \dots \\ 4 \Rightarrow \dots \\ \dots \Rightarrow \dots \\ \times \Rightarrow \dots \\ - \Rightarrow \dots \end{array}$$

$$\left\{ \begin{array}{l} \dots \\ \dots \end{array} \right. \Rightarrow -$$

$$\left\{ \begin{array}{l} \dots \\ \dots \end{array} \right. \Rightarrow \dots$$

$$\dots \Rightarrow \dots$$

$$\dots \Rightarrow \dots$$

۷

۸

$$\dots \Rightarrow \dots$$

۹

$$\dots \Rightarrow \dots$$

$$\dots \Rightarrow \dots$$

۱۳ جمله‌ی اول دنباله همان  $S_1$  و مجموع دو جمله‌ی اول دنباله برابر  $S_2$  است.

$$a = S_1 = 3 + 4 \Rightarrow a = 7$$

$$a + a + d = S_2 \Rightarrow 14 + d = 20 \Rightarrow d = 6$$

$$7, 13, 20, \dots \quad \text{دنباله:}$$

۱۴ هستند یعنی: جملات متوالی دنباله‌ی حسابی  $\frac{1}{a+b}, \frac{1}{a+c}, \frac{1}{b+c}$

$$\begin{aligned} \frac{2}{a+c} &= \frac{1}{b+c} + \frac{1}{a+b} \\ \Rightarrow \frac{2}{a+c} &= \frac{a+b+b+c}{(b+c)(a+b)} \\ \Rightarrow (a+c)(a+2b+c) &= 2(b+c)(a+b) \\ \Rightarrow a^2 + c^2 + 2ab + 2ac + 2bc &= 2b^2 + 2ac + 2bc + 2ab \\ \Rightarrow a^2 + c^2 &= 2b^2 \end{aligned}$$

در نتیجه  $a^2, b^2, c^2$  جملات متوالی یک دنباله‌ی حسابی هستند.

۱۵ روش اول: جمله‌ی عمومی یک دنباله‌ی حسابی حداکثر از درجه‌ی ۱ است پس مجموع دو دنباله‌ی حسابی نیز از درجه‌ی ۱ و طبیعتاً جمله‌ی عمومی دنباله حسابی است.

روش دوم: دو دنباله را به صورت زیر در نظر می‌گیریم:

$$b_n = a + (n-1)d$$

$$c_n = a' + (n-1)d'$$

$$\Rightarrow b_n + c_n = (a + a') + (n-1)(d + d')$$

دنباله‌ی حاصل دنباله‌ای است حسابی با جمله‌ی اول  $a + a'$  و قدر نسبت  $d + d'$ .

$$\begin{aligned} t_2 \times t_5 &= 112 \\ t_2 + t_2 + t_4 + t_5 &= 2(t_2 + t_5) = 46 \\ \Rightarrow t_2 \times t_5 &= 112, \quad t_2 + t_5 = 23 \end{aligned}$$

از ترکیب دو تساوی نتیجه می‌گیریم:

$$\begin{aligned} t_2(23 - t_2) &= 112 \Rightarrow t_2^2 - 23t_2 + 112 = 0 \\ \Rightarrow (t_2 - 7)(t_2 - 16) &= 0 \\ \Rightarrow \begin{cases} t_2 = 7 \Rightarrow t_5 = 16 \\ t_2 = 16 \Rightarrow t_5 = 7 \end{cases} \end{aligned}$$

ادامه‌ی حل به عهده‌ی خودتان!

۱۰

$$\begin{aligned} 2 + 6 &= 3 + 5 \Rightarrow t_2 + t_6 = t_3 + t_5 = 8 \\ \Rightarrow t_6 &= 8 - t_2 \\ t_2 \times t_6 &= 6 \Rightarrow t_2(8 - t_2) = 6 \\ \Rightarrow t_2^2 - 8t_2 + 6 &= 0 \end{aligned}$$

$$(t_2 - 2)(t_2 - 3) = 0 \Rightarrow \begin{cases} t_2 = 2 \Rightarrow t_6 = 3 \\ t_2 = 3 \Rightarrow t_6 = 2 \end{cases}$$

$$\begin{aligned} \Rightarrow \begin{cases} a + d = 2 \\ a + 5d = 3 \end{cases} &\Rightarrow \begin{cases} d = \frac{1}{4} \\ a = \frac{7}{4} \end{cases} \\ \Rightarrow \begin{cases} a + d = 3 \\ a + 5d = 2 \end{cases} &\Rightarrow \begin{cases} d = -\frac{1}{4} \\ a = \frac{13}{4} \end{cases} \end{aligned}$$

دنباله‌ها به یکی از صورت‌های زیر است:

$$\begin{aligned} \frac{7}{4}, \frac{9}{4}, 2, \frac{5}{4}, \dots \\ \frac{13}{4}, 3, \frac{11}{4}, \dots \end{aligned}$$

۱۱ دنباله عبارت است از:

$$-7, -4, -1, \dots$$

کافی است دنباله را یک بار از کوچک به بزرگ و بار دیگر از بزرگ به کوچک نوشته و یا هم جمع کنیم.

$$t_{41} = a + 40d = -7 + 40 \times 3 = 113$$

$$\begin{aligned} S &= (-7) + (-4) + (-1) + \dots + 107 + 110 + 113 \\ S &= 113 + 110 + 107 + \dots + (-1) + (-4) + (-7) \\ 2S &= \underbrace{106 + 106 + 106 + \dots + 106 + 106 + 106}_{\text{۴۱ جمله}} \\ 2S &= 106 \times 41 \Rightarrow S = \frac{106 \times 41}{2} = 2173 \end{aligned}$$

۱۲ جملات را به صورت  $a, (a+d), (a-d)$  در نظر می‌گیریم.

$$\begin{aligned} a - d + a + d + a &= 36 \Rightarrow a = 12 \\ a(a-d)(a+d) &= 1620 \\ \Rightarrow 12(12^2 - d^2) &= 1620 \Rightarrow 144 - d^2 = 135 \\ \Rightarrow d^2 &= 9 \Rightarrow d = \pm 3 \end{aligned}$$





درس ۳

تمرین

۷. رکتید  $(a^2 - b^2)^2$  و  $a^2b^2$  و  $a^4 + b^4$  به ازای تمام

۱ ۲ ۳ ۴ ۵ ۶ ۷ ۸ ۹ ۱۰ ۱۱ ۱۲

۸. در یک دنباله‌ی حسابی، مجموع ۴ جمله‌ی اول صفر و مجموع جملات پنجم و ششم برابر ۲۴- است. جمله‌ی دوم دنباله را به دست آورید.

---

---

---

---

---

---

۹. در یک دنباله‌ی حسابی روابط زیر برقرار است. دنباله را مشخص کنید.

$$\begin{cases} t_1 \times t_8 = t_4 \times t_5 \\ t_7 + t_7 = 12 \end{cases}$$

---

---

---

---

---

---

۱۰. مجموع سه جمله‌ی اول یک دنباله‌ی حسابی برابر ۵۱ و مجموع چهار جمله‌ی بعد از آن برابر ۱۱۰ است. مجموع هشت جمله‌ی اول دنباله را به دست آورید.

---

---

---

---

---

---

---

---

۱۱. در یک دنباله‌ی حسابی مجموع ۱۲ جمله‌ی اول برابر ۲۴۰ و جمله‌ی هشتم برابر ۲۳ است. قدر نسبت دنباله را به دست آورید.

---

---

---

---

---

---

---

---

۱۲. رکتید  $(a^2 - b^2)^2$  و  $a^2b^2$  و  $a^4 + b^4$  به ازای تمام

۱ ۲ ۳ ۴ ۵ ۶ ۷ ۸ ۹ ۱۰ ۱۱ ۱۲

۱۳. رکتید  $(a^2 - b^2)^2$  و  $a^2b^2$  و  $a^4 + b^4$  به ازای تمام

۱ ۲ ۳ ۴ ۵ ۶ ۷ ۸ ۹ ۱۰ ۱۱ ۱۲

۱۴. رکتید  $(a^2 - b^2)^2$  و  $a^2b^2$  و  $a^4 + b^4$  به ازای تمام

۱ ۲ ۳ ۴ ۵ ۶ ۷ ۸ ۹ ۱۰ ۱۱ ۱۲

۱۵. رکتید  $(a^2 - b^2)^2$  و  $a^2b^2$  و  $a^4 + b^4$  به ازای تمام

۱ ۲ ۳ ۴ ۵ ۶ ۷ ۸ ۹ ۱۰ ۱۱ ۱۲

۱۶. رکتید  $(a^2 - b^2)^2$  و  $a^2b^2$  و  $a^4 + b^4$  به ازای تمام

۱ ۲ ۳ ۴ ۵ ۶ ۷ ۸ ۹ ۱۰ ۱۱ ۱۲

۱۷. رکتید  $(a^2 - b^2)^2$  و  $a^2b^2$  و  $a^4 + b^4$  به ازای تمام

۱ ۲ ۳ ۴ ۵ ۶ ۷ ۸ ۹ ۱۰ ۱۱ ۱۲



متوالی یک دنباله‌ی حسابی هستند.

---

---

---

---

---

---

---

---

۱۷ طول اضلاع مثلث قائم‌الزاویه‌ی  $ABC$ ، جملات متوالی یک دنباله‌ی حسابی هستند. محیط مثلث چند برابر طول وتر آن است؟

---

---

---

---

---

---

---

---

۱۸ اگر  $t_1, t_2, \dots, t_n$  مخالف صفر بوده و جملات یک دنباله‌ی حسابی باشند ثابت کنید:

$$\frac{1}{\sqrt{t_1} + \sqrt{t_2}} + \frac{1}{\sqrt{t_2} + \sqrt{t_3}} + \dots + \frac{1}{\sqrt{t_{n-1}} + \sqrt{t_n}} = \frac{1}{\sqrt{t_n} - \sqrt{t_1}}$$

---

---

---

---

---

---

---

---

۱۹ در یک دنباله‌ی حسابی  $t_m = n$  و  $t_n = m$  قدرنسبت دنباله را به دست آورید.

---

---

---

---

---

---

---

---

۲۰ اگر مجموع جملات یک دنباله‌ی حسابی از فرمول  $S_n = kn^2 + 2n$  به دست آید و جمله‌ی سوم آن برابر ۲۲ باشد دنباله را مشخص کنید.

---

---

---

---

---

---

---

---

۱۲ چند عدد ۲ رقمی داریم که باقی‌مانده‌ی تقسیم آن بر ۴ برابر ۳ باشد؟

---

---

---

---

---

---

---

---

۱۳ در ۲۰۰ جمله‌ی اول دو دنباله‌ی حسابی زیر چند عدد مشترک وجود دارد؟

$$7, 11, 15, \dots$$

$$6, 9, 12, \dots$$

---

---

---

---

---

---

---

---

۱۴ در دنباله‌ی حسابی با جمله‌ی اول ۷ و قدرنسبت ۳، مجموع جملات دهم تا بیستم را بیابید.

---

---

---

---

---

---

---

---

۱۵ اگر مجموع جملات دوم و پنجم یک دنباله‌ی حسابی برابر ۱ و مجموع جملات چهارم و هفتم و هشتم آن برابر ۲۷ باشد، جمله‌ی دهم آن را مشخص کنید.

---

---

---

---

---

---

---

---

۱۶ ثابت کنید اگر  $\frac{1}{\sqrt{y} + \sqrt{x}}$  و  $\frac{1}{\sqrt{x} + \sqrt{z}}$  و  $\frac{1}{\sqrt{x} + \sqrt{y}}$  جملات متوالی یک دنباله‌ی حسابی باشند، اعداد  $x$  و  $y$  و  $z$  نیز جملات





۲۱ مجموع ۵ جمله‌ی متوالی یک دنباله‌ی حسابی برابر ۲۵ و حاصل‌ضرب آن‌ها برابر صفر است. قدر نسبت را بیابید. ( $d \in \mathbb{Z}$ )

---

---

---

---

---

---

---

---

۲۲ حاصل عبارت زیر را به دست آورید.

$$A = (2^0 \cdot 16^2 + 2^0 \cdot 14^2 + \dots + 2^2) - (2^0 \cdot 15^2 + 2^0 \cdot 13^2 + \dots + 1^2)$$

---

---

---

---

---

---

---

---

۲۳ اگر  $a$  و  $d$  به ترتیب نشانگر جمله‌ی اول و قدر نسبت یک دنباله‌ی حسابی باشند آن‌گاه با الگو گرفتن از مثال  $6^0$  ثابت کنید مجموع  $n$  جمله‌ی اول آن دنباله، برابر است با:

$$S_n = \frac{n}{4} [2a + (n-1)d]$$

---

---

---

---

---

---

---

---

۲۴ اگر  $a$  و  $b$  و  $c$  و  $d$  جمله‌ات متوالی یک دنباله‌ی حسابی باشند ثابت کنید  $abcd + (b-c)^2$  مربع کامل است. ( $a, b, c, d \in \mathbb{Z}$ )

---

---

---

---

---

---

---

---



درس ۳

پاسخ تمرین

$\frac{12}{5}$  ۱۷  
 $-1$  ۱۹  
 $d = \pm 5$  ۲۱

$5^0$  ۱۳  
 $539$  ۱۴  
 $2^0$  ۱۵

$2$  ۸  
 $196$  ۱۰  
 $2$  ۱۱

$14$  ۲  
 $3$  ۴  
 $\frac{4}{3}$  ۵





دنباله‌ی هندسی، دنباله‌ای که در آن به جز جمله‌ی اول که غیر صفر هم هست، هر جمله از ضرب جمله‌ی قبلی از خود در عددی ثابت و غیر صفر به نام قدرنسبت به دسته آید را سری هندسی می‌گویند. در یک دنباله‌ی هندسی معمولاً جمله‌ی اول را با  $a$  و قدرنسبت را با  $r$  یا  $q$  نمایش می‌دهیم.

به عنوان مثال دنباله‌ی هندسی با جمله‌ی اول ۴ و قدرنسبت ۳ به صورت زیر است:

$$4, 12, 36, \dots$$

به عنوان مثالی دیگر فرض کنید جمعیت کشوری  $10^6$  میلیون نفر باشد. اگر جمعیت این کشور به طور ثابت هر سال ۳ درصد افزایش یابد، جمعیت این کشور در سال‌های پی‌درپی دنباله‌ای هندسی است. در واقع جمعیت این کشور هر سال برابر است با جمعیت سال گذشته ضرب در  $1.03$ . دنباله‌ی جمعیت این کشور بر حسب میلیون نفر به صورت زیر است:

$$10^6, 10^6 \times 1.03, 10^6 \times 1.03^2, 10^6 \times 1.03^3, \dots$$

$$n = 10^6 \times (1.03)^{n-1}$$

جمله‌ی عمومی دنباله‌ی هندسی

در یک دنباله هندسی با جمله اول  $a$  و قدرنسبت  $r$  جمله‌ی  $n$ ام به صورت زیر است:


جمله‌ی عمومی دنباله‌ی هندسی با قدرنسبت  $r$  و جمله‌ی اول  $a$  عبارت است از:  $a_n = ar^{n-1}$ .

نکته



مثال

۱. در یک دنباله هندسی با جمله اول ۲ و قدرنسبت ۳، جمله‌ی ۱۰ام را بیابید.
۲. در یک دنباله هندسی با جمله اول ۱ و قدرنسبت  $\frac{1}{2}$ ، جمله‌ی ۱۰ام را بیابید.
۳. در یک دنباله هندسی با جمله اول ۱ و قدرنسبت  $\frac{1}{2}$ ، جمله‌ی ۱۰ام را بیابید.
۴. در یک دنباله هندسی با جمله اول ۱ و قدرنسبت  $\frac{1}{2}$ ، جمله‌ی ۱۰ام را بیابید.

حل:



مثال

حل:



تکلیف ۲۰

به دست آوردن قدر نسبت دنباله هندسی یادداشتن دو جمله  $t_n$  و  $t_m$  ( $n > m$ )

$$\begin{aligned} t_n &= ar^{n-1} \\ t_m &= ar^{m-1} \end{aligned} \Rightarrow \frac{t_n}{t_m} = \frac{ar^{n-1}}{ar^{m-1}} = r^{n-m}$$

$$\Rightarrow r = \sqrt[n-m]{\frac{t_n}{t_m}}$$

تذکر

در فرمول قبل اگر  $n - m$  عددی زوج باشد،  $r$  می‌تواند برابر قدرینهی (ادیکال) فوق نیز در نظر گرفت

در مثال ۶۲ می‌توانستیم قدر نسبت را به صورت زیر به دست آوریم:

$$r = \sqrt[5-2]{\frac{24}{3}} = \sqrt[3]{8} = 2$$

جمله‌ی عمومی یک دنباله به صورت  $t_n = 5 \times \sqrt{6}^{n+1}$  است. جمله اول و قدر نسبت دنباله را تعیین کنید.

مثال ۶۳

$$\begin{aligned} n=1 &\Rightarrow t_1 = 5 \times \sqrt{6}^2 = 30 \\ n=2 &\Rightarrow t_2 = 5 \times \sqrt{6}^3 = 5 \times 6\sqrt{6} = 30\sqrt{6} \\ r &= \frac{t_2}{t_1} = \frac{30\sqrt{6}}{30} = \sqrt{6} \end{aligned}$$

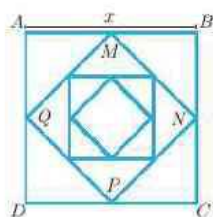
حل

در یک دنباله هندسی ۲ برابر جمله اول به علاوه‌ی جمله دوم برابر جمله سوم است. قدر نسبت دنباله را تعیین کنید.

مثال ۶۴

$$\begin{aligned} 2t_1 + t_2 &= t_3 \Rightarrow 2a + ar = ar^2 \\ \Rightarrow r^2 - r - 2 &= 0 \Rightarrow (r-2)(r+1) = 0 \Rightarrow r=2 \quad \text{یا} \quad r=-1 \end{aligned}$$

حل



مربع ABCD به ضلع  $x$  را در نظر می‌گیریم. وسط‌های اضلاع را به هم وصل می‌کنیم تا مربع جدیدی به دست آید. به همین ترتیب اضلاع هر مربع ایجاد شده را به هم وصل می‌کنیم تا داخل آن مربع جدیدی حاصل شود و همین طور ادامه می‌دهیم. جمله‌ی عمومی مساحت‌های مربع‌ها را به دست آورید و مساحت مربع چهارم را بر حسب  $x$  بنویسید.

مثال ۶۵

$$EN = \sqrt{NC^2 + PC^2} = \sqrt{\frac{x^2}{4} + \frac{x^2}{4}} = \sqrt{\frac{x^2}{2}} = \frac{x}{\sqrt{2}}$$

حل

یعنی طول ضلع هر مربع  $\frac{1}{\sqrt{2}}$  برابر طول ضلع مربع قبل و مساحت هر مربع  $\frac{1}{2}$  مساحت مربع قبلی است. پس یک دنباله‌ی هندسی تشکیل می‌دهند.

$$\begin{aligned} \text{مساحت مربع اول} &= a = x^2, \quad r = \frac{1}{2} \Rightarrow t_n = ar^{n-1} = x^2 \times \left(\frac{1}{2}\right)^{n-1} \\ \text{مساحت مربع چهارم} &= t_4 = x^2 \left(\frac{1}{2}\right)^3 = \frac{x^2}{8} \end{aligned}$$





مثال ۶۹

مجموع  $1^0$  جمله‌ی اول دنباله‌ی هندسی زیر، چند برابر جمله‌ی اول آن است؟

$$3, 6, 12, \dots$$

حل. مجموع حاصل را با  $S$  نمایش می‌دهیم. جمله‌ی دهم دنباله برابر است با  $3 \times 2^{9-1} = 3 \times 2^8$  جمله‌ی نهم برابر است با  $3 \times 2^{8-1} = 3 \times 2^7$

$$\begin{array}{r} S = 3 + 6 + 12 + \dots + 3 \cdot 2^8 + 3 \cdot 2^9 \\ 2S = 6 + 12 + 24 + \dots + 3 \cdot 2^8 + 3 \cdot 2^9 \\ \hline 2S - S = (6 + 12 + 24 + \dots + 3 \cdot 2^8 + 3 \cdot 2^9) - (3 + 6 + \dots + 3 \cdot 2^8) \\ S = 3 \cdot 2^9 - 3 = 3(2^9 - 1) \end{array}$$

بنابراین مجموع ده جمله‌ی اول،  $(2^9 - 1)$  یعنی  $1023$  برابر جمله‌ی اول است.

مثال ۷۰

مجموع بیست‌وهشت جمله‌ی اول دنباله‌ی هندسی با جمله‌ی اول  $(1)$  و قدر نسبت  $(3)$  را بیابید.

دنباله به صورت روبرو است:  $1 \quad 3 \quad 9 \quad 27$

$$t_{17} = (1) \quad (3)^{16} = 3^{16}$$

$$t_{18} = (1) \quad (3)^{17} = 3^{17}$$

$$\begin{array}{r} S = (1) + 3 + (9) + 27 + \dots + (3^{16}) + 3^{17} \\ 3S = 3 + (9) + 27 + (81) + \dots + 3^{17} + (3^{18}) \end{array}$$

می‌توانیم طرفین را در  $3$  یا  $\frac{1}{3}$  ضرب کنیم. دو نسی را از هم کم می‌کنیم.

$$\begin{array}{r} S - (3S) = 1 - (3^{18}) \\ 4S = 3^{18} - 1 \\ S = \frac{3^{18} - 1}{4} \end{array}$$

مثال ۷۱

در دنباله‌ی هندسی  $4 \quad 8 \quad 16$  حداقل چند جمله‌ی اول را با هم جمع کنیم تا حاصل از  $5004$  بزرگتر شود؟ فرض کنید اگر جملات را تا جمله‌ی  $n$ ام با هم جمع کنیم، حاصل از  $5004$  بزرگتر می‌شود.

$$\begin{array}{r} S = 4 + 8 + 16 + \dots + \frac{t_n}{2} + t_n \\ 2S = 8 + 16 + 32 + \dots + t_n + 2t_n \\ \hline S = 2t_n - 4 \end{array}$$

طرفین را در  $2$  یا  $\frac{1}{2}$  ضرب می‌کنیم و تساوی بالا را از تساوی پایین کم می‌کنیم. مشابه مثال‌های قبل، جملات مشابه حذف می‌شوند.

حال قرار می‌دهیم  $S > 5004$

$$2t_n - 4 > 5004 \quad 2t_n > 5008 \quad t_n > 2504$$

$$4 \cdot 2^{n-1} > 2504 \quad 2^n > 626$$

چون  $2^9 < 626 < 2^{10}$  پس نتیجه می‌گیریم:

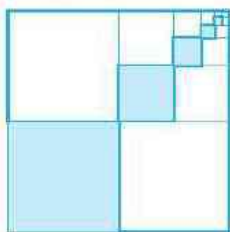
$$n > 9 \quad n > 10 \quad n = 11$$

باید حداقل  $11$  جمله‌ی اول را با هم جمع کنیم.



یک تعبیر هندسی زیبا

$$A = \frac{1}{4} + \frac{1}{16} + \frac{1}{64} + \dots$$



می‌خواهیم برای مجموع جملات دنباله‌ی هندسی روی‌رو یک تعبیر هندسی انجام دهیم:

مربع ABCD به ضلع واحد را در نظر می‌گیریم. مطابق شکل آن را به ۴ قسمت مساوی تقسیم می‌کنیم و گوشه‌ی پایین سمت چپ را رنگ آمیزی می‌کنیم. حال از شکل باقی‌مانده، همین مراحل را در مورد مربع بالا سمت راست که بی‌رنگ است تکرار کرده و  $\frac{1}{4}$  آن را رنگ آمیزی می‌کنیم و به همین ترتیب ادامه می‌دهیم. اگر این عمل را به صورت بی‌شمار تکرار کنیم، کل مساحت رنگ شده برابر است با:

$$S_{\text{رنگی}} = \frac{1}{4} + \frac{1}{4} \times \frac{1}{4} + \frac{1}{4} \times \frac{1}{4} \times \frac{1}{4} + \dots$$

حال اگر به شکل دقت کنیم، مساحت هر مربع رنگ شده برابر مساحت هر یک از مربع‌های بی‌رنگ سنت راست یا بالای آن است پس کل مساحت رنگ شده برابر  $\frac{1}{4}$  مساحت مربع ABCD است.

$$S = \frac{1}{4} + \frac{1}{16} + \frac{1}{64} + \dots = \frac{1}{3}$$

حال مقدار S را بدون در نظر گرفتن مدل هندسی و در واقع مشابه مثال ۷۱ به دست می‌آوریم.

$$S = \frac{1}{4} + \frac{1}{16} + \frac{1}{64} + \dots$$

با توجه به این که  $r = \frac{1}{4}$

$$2S = 1 + \frac{1}{4} + \frac{1}{16} + \dots$$

باید طرفین را در  $\frac{1}{4}$  ضرب کنیم.

$$2S - S = (1 + \frac{1}{4} + \frac{1}{16} + \dots) - (\frac{1}{4} + \frac{1}{16} + \frac{1}{64} + \dots)$$

$$\Rightarrow 2S = 1 \Rightarrow S = \frac{1}{2}$$



برای این که بتوانیم روش فوق را برای یک دنباله‌ی هندسی با  $r$  به‌شمار جمله به کار ببریم، لازم است که قدر نسبت آن دنباله در بازه‌ی  $(-1, 1)$  باشد یعنی  $-1 < r < 1$ . برای مثال فرض کنید می‌خواهیم مجموع جملات یک دنباله‌ی هندسی با جمله‌ی اول ۳ و قدر نسبت ۳ که دارای  $r$  به‌شمار جمله است را به دست آوریم.

$$S = 2 + 6 + 18 + 54 + \dots$$

$$2S = 6 + 18 + 54 + 162 + \dots$$

$$2S - S = (6 + 18 + 54 + 162 + \dots) - (2 + 6 + 18 + 54 + \dots)$$

$$\Rightarrow 2S = -2 \Rightarrow S = -1$$

که به وضوح نادرست است!

دلیل نادرست بودن حل فوق این است که شرط  $-1 < r < 1$  رعایت نشده است. اثبات نکته‌ی گفته‌شده در ریاضیات دانشگاهی انجام می‌شود.

مجموع زیر را به دست آورید. (اعداد، جملات یک دنباله‌ی هندسی هستند.)

$$S = 12 + 4 + \frac{4}{3} + \frac{4}{9} + \dots$$

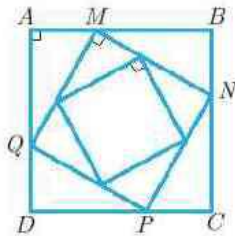




حل: طرفین پر  $\frac{1}{3}$  یا ۳ ضرب ہی کنیم۔

$$\begin{aligned}
 S &= 12 + 4 + \frac{4}{3} + \dots \\
 3S &= 36 + 12 + 4 + \dots \\
 \hline
 2S &= 36 \Rightarrow S = 18
 \end{aligned}$$





۱ جمله ی نهم یک دنباله ی هندسی، معکوس جمله ی سیزدهم آن است. جمله ی یازدهم دنباله را به دست آورید.

۲ در یک دنباله ی هندسی، مجموع ۳ جمله ی اول برابر ۴۵ و جمله ی چهارم ۱۳۵ واحد از جمله ی اول بزرگ تر است. جمله ی اول دنباله را به دست آورید.

۳ در یک دنباله ی هندسی، پانزده برابر جمله ی اول به علاوه دو برابر جمله ی دوم برابر جمله ی سوم است. در این دنباله جمله ی هشتم چند برابر جمله ی ششم است؟ (جمله ی اول دنباله غیر صفر است)

۴ مجموع  $n$  جمله ی اول یک دنباله ی هندسی از فرمول  $S_n = 3^n - 1$  به دست می آید. دنباله را مشخص کنید.

۵ در یک دنباله ی هندسی با قدر نسبت ۴ و جمله ی اول ۱، حاصل ضرب چند جمله ی اول دنباله  $2^{63}$  برابر جمله ی اول است؟

۶ روی اضلاع مربع ABCD به ضلع ۳، مطابق شکل نقاط M و N و P و Q را به گونه ای انتخاب می کنیم که هر نقطه یکی از اضلاع مربع را به نسبت ۱ به ۲ تقسیم کند و با وصل کردن این نقاط به هم مربع جدیدی حاصل شود. همین عمل را متناوباً تکرار می کنیم.

(الف) نشان دهید دنباله ی مساحت های مربع ها، دنباله ای هندسی است. این دنباله را تشکیل دهید.

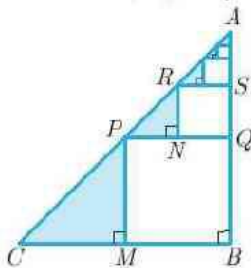
(ب) مجموع تمام مساحت های این مربع ها را به دست آورید.

۷ جملات دوم، چهارم و پنجم یک دنباله ی حسابی، به ترتیب جملات متوالی یک دنباله ی هندسی هستند. قدر نسبت دنباله ی هندسی را به دست آورید. (دنباله ها ثابت نیستند)

۸ معادله ی زیر را حل کنید.

$$1 + x + x^2 + \dots = \frac{1}{\sqrt{x}} \quad (0 < x < 1)$$

۹ مطابق شکل مثلث ABC قائم الزاویه متساوی الساقین است. اگر M وسط BC و N وسط PQ و ... باشند، مجموع مساحت های مثلث های هاشورخورده چه کسری از مساحت مثلث ABC است؟





## ۱. پنج سوال موه

## درس ۴

$$\begin{aligned}
 &= a^n \times r^{1+2+\dots+(n-1)} \\
 &= a^n \times r^{\frac{(n-1)n}{2}} \\
 &\Rightarrow 2^n \times 4^{\frac{(n-1)n}{2}} = 2^{64} \times 2 \\
 &\Rightarrow 2^n \times 2^{n(n-1)} = 2^{64} \\
 &\Rightarrow n + n^2 - n = 64 \Rightarrow n = 8
 \end{aligned}$$

حاصل ضرب ۸ جمله‌ی اول  $2^{64}$  برابر جمله‌ی اول است.

۶

(الف) ابتدا طول ضلع MN را به کمک فیثاغورس به دست می‌آوریم.

$$\begin{aligned}
 MB &= 2, \quad BN = 1 \\
 MN &= \sqrt{MB^2 + BN^2} = \sqrt{4 + 1} = \sqrt{5} \\
 \frac{MN}{AB} &= \frac{\sqrt{5}}{3}
 \end{aligned}$$

یعنی در هر مرحله طول ضلع مربع  $\frac{\sqrt{5}}{3}$  طول ضلع مربع در مرحله‌ی قبل است. یعنی مساحت هر مربع  $\frac{5}{9}$  مساحت مربع قبل از خود است. مساحت‌های مربع‌ها یک دنباله‌ی هندسی به صورت زیر تشکیل می‌دهند.

$$\begin{aligned}
 9, 5, 5 \times \frac{5}{9}, 5 \times \frac{5}{9} \times \frac{5}{9}, \dots \\
 a = 9, \quad r = \frac{5}{9}
 \end{aligned}$$

(ب)

$$\begin{aligned}
 S &= 9 + 5 + \frac{5^2}{9} + \frac{5^3}{9^2} + \dots \\
 \frac{5}{9}S &= 5 + \frac{5^2}{9} + \frac{5^3}{9^2} + \dots \quad \text{طرفین را در } \frac{5}{9} \text{ ضرب می‌کنیم.} \\
 S - \frac{5}{9}S &= 9 \quad \text{طرفین را از هم کم می‌کنیم.} \\
 \Rightarrow \frac{4}{9}S &= 9 \Rightarrow S = \frac{81}{4}
 \end{aligned}$$

۷ جملات دنباله‌ی حسابی را به صورت  $t_2 = a + d$  و  $t_4 = a + 3d$  و  $t_5 = a + 4d$  در نظر می‌گیریم. حال چون این‌ها جملات متوالی یک دنباله‌ی هندسی هستند پس مربع وسطی با حاصل ضرب دو نای دیگر برابر است یعنی:

$$\begin{aligned}
 (a + 3d)^2 &= (a + d)(a + 4d) \\
 \Rightarrow a^2 + 6ad + 9d^2 &= a^2 + 5ad + 4d^2
 \end{aligned}$$

$$\begin{aligned}
 t_1 &= \frac{1}{t_{13}} \Rightarrow t_1 t_{13} = 1 \\
 \frac{2345}{t_{11}^2} &= 1 \Rightarrow t_{11} = \pm 1
 \end{aligned}$$

۱

۲

$$t_1 + t_2 + t_3 = 45 \quad (I) \quad t_3 - t_1 = 135 \quad (II)$$

$$(I) \Rightarrow a + aq + aq^2 = 45$$

$$(II) \Rightarrow aq^3 - a = 135$$

طرفین رابطه‌ی (II) را بر رابطه‌ی (I) تقسیم می‌کنیم.

$$\begin{aligned}
 \frac{a(q^3 - 1)}{a(q^2 + q + 1)} &= \frac{135}{45} \\
 \Rightarrow \frac{(q-1)(q^2 + q + 1)}{(q^2 + q + 1)} &= 3 \Rightarrow q = 4 \\
 (I) \Rightarrow a(1 + 4 + 4^2) &= 45 \Rightarrow a = \frac{45}{21}
 \end{aligned}$$

(قدر نسبت  $q$ )

۳

$$15t_1 + 2t_2 = t_3, \quad \frac{t_8}{t_6} = ?$$

$$15a + 2ar = ar^2$$

$$r^2 - 2r - 15 = 0 \Rightarrow (r-5)(r+3) = 0$$

$$\Rightarrow r = 5 \quad \text{یا} \quad r = -3$$

$$\frac{t_8}{t_6} = \frac{ar^8}{ar^6} = r^2$$

$$\frac{t_8}{t_6} = \begin{cases} 25 \\ 9 \end{cases}$$

۴

جمله‌ی اول برابر مجموع یک جمله‌ی اول است:

$$a = S_1 = 3 - 1 = 2$$

یعنی

مجموع دو جمله‌ی اول برابر است با  $S_2$

$$a + ar = S_2 \Rightarrow 2 + 2r = 8$$

$$\Rightarrow r = 3$$

$$\text{دنباله: } 2, 6, 18, \dots$$

۵

$$r = 4, \quad a = 2$$

$$\Rightarrow n \text{ حاصل ضرب } n \text{ جمله‌ی اول} = a \times ar \times ar^2 \times \dots \times ar^{n-1}$$



دقت کنید که محاسبه‌ی مجموع بی‌شمار جمله‌ی دنباله‌ی هندسی به خاطر رعایت شرط  $0 < x < 1$  درست است.

۹.  $PM = \frac{AB}{2}$  وسط  $AC$  و  $M$  وسط  $BC$  است بنابراین  
 مثلث‌های  $\triangle ABC$  و  $\triangle PMC$  متشابهند و نسبت تشابه  $\frac{1}{2}$  است. بنابراین  
 $\frac{S_{\triangle PMC}}{S_{\triangle ABC}} = \left(\frac{1}{2}\right)^2 = \frac{1}{4}$ . در هر مرحله مساحت هاشور  $\frac{1}{4}$  مرحله‌ی قبل از خود است. اگر مساحت  $\triangle ABC$  را برابر ۱ در نظر بگیریم نسبت مساحت‌های هاشورخورده دنباله‌ای هندسی به صورت زیر تشکیل می‌دهد.

$$\frac{1}{4}, \frac{1}{16}, \frac{1}{64}, \dots$$

$$\begin{aligned} S &= \frac{1}{4} + \frac{1}{16} + \frac{1}{64} + \dots \\ 4S &= 1 + \frac{1}{4} + \frac{1}{16} + \dots \\ \hline 4S - S &= (1 + \frac{1}{4} + \frac{1}{16} + \dots) - (\frac{1}{4} + \frac{1}{16} + \frac{1}{64} + \dots) \\ \Rightarrow 3S &= 1 \Rightarrow S = \frac{1}{3} \end{aligned}$$

$$\Rightarrow \Delta d^2 = -ad \Rightarrow a = -\Delta d$$

جملات را دوباره می‌نویسیم:

$$t_1 = a + d = -4d$$

$$t_2 = a + 2d = -2d$$

$$t_5 = a + 4d = -d$$

قدر نسبت دنباله‌ی هندسی از تقسیم دو جمله‌ی متوالی به دست می‌آید.

$$r_{\text{هندسی}} = \frac{-d}{-2d} = \frac{1}{2}$$

$$1 + x + x^2 + \dots = \frac{1}{1-x}$$

$$-x + x^2 + x^3 + \dots = \frac{x}{1-x}$$

$$1 = \frac{1}{1-x} - \frac{x}{1-x}$$

$$\Rightarrow \frac{1}{1-x} = \frac{1+x}{1-x} \Rightarrow x = \frac{1}{3}$$

۸



## تمرین

## درس ۴



۸ در یک دنباله هندسی ۲ برابر جمله اول به علاوه جمله دوم برابر جمله سوم است. اگر جمله اول مخالف صفر باشد، قدر نسبت دنباله را تعیین کنید.

---



---



---



---

۹ اگر  $\frac{1}{b-a}$  و  $\frac{1}{2b}$  و  $\frac{1}{b-c}$  جملات متوالی یک دنباله حسابی باشند ثابت کنید  $a$  و  $b$  و  $c$  جملات متوالی یک دنباله هندسی هستند.

---



---



---



---

۱۰ اگر  $a$  و  $b$  و  $c$  به ترتیب هم جملات متوالی یک دنباله حسابی باشند و هم جملات متوالی یک دنباله هندسی چه ارتباطی بین  $a$  و  $b$  و  $c$  وجود دارد؟

---



---



---



---

۱۱ در یک دنباله هندسی با قدر نسبت  $r \neq \pm 1$  حاصل  $\frac{S_{2n}}{S_n}$  را بر حسب  $n$  و  $r$  به دست آورید.

---



---



---



---

۱۲ معادله‌ی زیر را حل کنید.

$$1 + x + x^2 + \dots = \frac{2}{x} \quad 0 < x < 1$$

---



---



---



---

۱ بین  $\frac{1}{27}$  و  $81$  شش واسطه‌ی هندسی درج کرده‌ایم. واسطه‌ی چهارم چقدر از واسطه‌ی سوم بزرگ‌تر است؟

---



---



---



---

۲ بین  $3a$  و  $384a$  چند جمله می‌توان درج کرد به طوری که ... باشد؟

---



---



---



---

۱۶

---



---



---



---

۱۷

---



---



---



---

۱۸

---



---



---



---

۱۹ است. جمله‌ی وسطی چند است؟

---



---



---



---

۷ مجموع ۸ جمله‌ی اول یک دنباله‌ی هندسی، ۸۲ برابر مجموع ۴ جمله‌ی اول آن است. قدر نسبت دنباله را مشخص کنید.

---



---



---



---



۱۳ به گونه‌ای انتخاب می‌کنیم که هر نقطه یکی از اضلاع مربع را به نسبت ۱ به ۳ تقسیم کند و با وصل کردن این نقاط به هم، مربع جدیدی حاصل شود. همین کار را به تکرار در مورد هر مربع به وجود آمده‌ای ادامه می‌دهیم. مجموع مساحت‌های تمام مربع‌های بدید آمده را بیابید.

---

---

---

---

---

---

---

---

۱۴ مجموعه ۳ جمله‌ی متوالی یک دنباله‌ی هندسی برابر ۲۵۸ است. اگر این ۳ عدد به ترتیب جملات اول، دوم و هشتم یک دنباله‌ی حسابی باشند آن‌ها را بیابید.

---

---

---

---

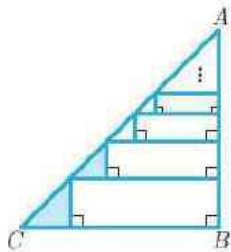
---

---

---

---

۱۸ مطابق شکل مثلث  $ABC$  قائم‌الزاویه متساوی‌الساقین است. اگر قاعده‌ی هر مثلث قائم‌الزاویه هاشورخورده،  $\frac{1}{4}$  پاره خط افقی که قاعده‌اش بر روی آن قرار دارد باشد مساحت هاشورخورده چه کسری از مساحت  $\triangle ABC$  است؟




---

---

---

---

---

---

---

---

۱۵ جملات دوم، چهارم و هشتم یک دنباله‌ی حسابی جملات متوالی یک دنباله‌ی هندسی هستند. قدر نسبت دنباله‌ی هندسی را بیابید.

---

---

---

---

---

---

---

---

۱۹ توبی داریم که از هر ارتفاعی که رها می‌شود پس از برخورد با زمین تا  $\frac{3}{5}$  ارتفاع قبلی خود بالا می‌آید. اگر این توبی از ارتفاع ۱۰ متری رها شود، کل مسافت طی شده در این رفت و برگشت‌ها را حساب کنید.

---

---

---

---

---

---

---

---

۱۶ قدر نسبت یک دنباله‌ی حسابی برابر ۴ است. اگر به جملات اول، دوم و سوم آن به ترتیب اعداد ۱، ۳ و ۶ را اضافه کنیم، دنباله‌ای هندسی تشکیل می‌شود. جملات عمومی دنباله‌ها را بنویسید.

---

---

---

---

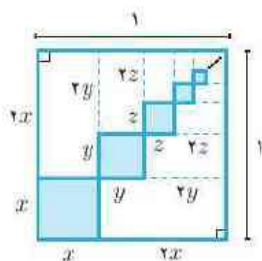
---

---

---

---

۲۰ برای شکل زیر یک معادله به صورت مجموع بی‌شمار جمله‌ی دنباله‌ی هندسی بنویسید. (مطابق بخش بیشتر بدانیم عمل کنید.)




---

---

---

---

---

---

---

---

۱۶ مجموعه  $\{n\}$  جمله‌ی اول یک دنباله‌ی هندسی از فرمول  $S_n = 2^{n+2} - 4$  به دست می‌آید. دنباله را مشخص کنید.

---

---

---

---

---

---

---

---

۱۷ روی اضلاع مربع  $ABCD$  به ضلع ۴، نقاط  $M$  و  $N$  و  $P$  و  $Q$

---

---

---

---

---

---

---

---





## درس ۴

## پاسخ تمرین

$$\frac{1}{\sqrt{7}} \quad 18$$

$$\text{form} \quad 21$$

$$2-1 \quad 8$$

$$1 \frac{1}{2} \quad 14$$

$$\frac{128}{3} \quad 17$$

$$16 \quad 5$$

$$4 \quad 6$$

$$\pm 3 \quad 7$$

$$2 \quad 1$$

$$6 \quad 2$$

$$3 \quad 4$$



۱ سه مجموعه  $A, B, C$  را در نظر بگیرید. کدام یک از گزینه‌ها، برابر مجموعه اعضایی است که دست کم عضو دو تا از این سه مجموعه است؟  
«المپیاد ریاضی در ایران دوره ۳۰»

- (الف)  $(A \cup B \cup C) - (A \cap B \cap C)$  (ب)  $A \cup B \cup C \cup (A \cap B \cap C)$  (ج)  $(A \cap B) \cup (B \cap C) \cup (A \cap C)$   
(د)  $(A \cup B) \cap (B \cup C) \cap (A \cup C)$  (ه) گزینه‌های ج و د هر دو صحیح هستند

۲  $A, B, C, D$  مجموعه‌هایی هستند که در روابط زیر صدق می‌کنند. کدام گزینه لزوماً درست است؟ «المپیاد ریاضی در ایران دوره ۲۵»  
 $D = \emptyset$  (الف)  
 $C = D$  (ب)  
 $A \subseteq B$  (ج)  
 $A = B \cup D$  (د)  
 $D = A \cap B$  (ه)

$$\begin{cases} A \cup C = B \cup C \\ A \cap C = (B \cap C) \cup D \end{cases}$$

۳  $A, B, C$  سه زیرمجموعه دلخواه مجموعه اعداد طبیعی هستند. با دو عمل اجتماع و مکمل، حداکثر چند مجموعه‌ی مختلف می‌توان ساخت؟ «المپیاد ریاضی در ایران دوره ۲۲»

- (الف) ۷ (ب) ۸ (ج) ۱۸ (د) ۱۲۸ (ه) ۲۵۶

۴ مجموعه  $\{۱, ۲, ۳, ۴, ۵, ۶, ۷, ۸, ۹, ۱۰, ۱۱, ۱۲, ۱۳, ۱۴, ۱۵, ۱۶, ۱۷, ۱۸, ۱۹, ۲۰, ۲۱, ۲۲, ۲۳, ۲۴, ۲۵, ۲۶, ۲۷, ۲۸, ۲۹, ۳۰, ۳۱, ۳۲, ۳۳, ۳۴, ۳۵, ۳۶, ۳۷, ۳۸, ۳۹, ۴۰, ۴۱, ۴۲, ۴۳, ۴۴, ۴۵, ۴۶, ۴۷, ۴۸, ۴۹, ۵۰\}$  چند زیرمجموعه دارد که حاصل جمع اعداد آن زوج است؟ «المپیاد کاسینو در ایران دوره ۱۹»

- (الف) ۱۶ (ب) ۳۲ (ج) ۶۴ (د) ۹۶ (ه) ۱۲۸

۵ فرض کنید  $A_1, A_2, \dots, A_{11}$  زیرمجموعه‌هایی از مجموعه  $\{۱, ۲, ۳, ۴, ۵, ۶\}$  باشند. به طوری که اشتراک هر دو زیرمجموعه‌ی  $A_i$  و  $A_j$  حداقل ۲ عضو دارد. در این صورت بیش‌ترین مقدار  $n$  کدام یک از مقادیر زیر است؟ «المپیاد ریاضی در ایران دوره ۱۶»

- (الف) ۲۱ (ب) ۲۲ (ج) ۲۳ (د) ۲۴ (ه) ۲۵

۶  $A, B, C$  سه مجموعه دلخواه هستند و از سطر دوم به بعد، هر مجموعه نفاض دو مجموعه‌ی بالای سر خودش است (سمت چپ منتهی سمت راست). مثلاً  $D = A - B$ . کدام گزینه حتماً درست است؟ «المپیاد ریاضی در ایران دوره ۲۴»

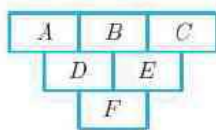
(الف)  $F \subseteq C$

(ب)  $B \subseteq F$

(ج)  $F \subseteq A \cap C$

(د)  $A \cap C \subseteq F$

(ه)  $D \cap C \subseteq F$



۷  $A, B, C$  سه مجموعه هستند و می‌دانیم تعداد اعضای  $A - B, B - C, A - C, B - A, C - A, C - B$  به ترتیب ۳، ۲، ۲، ۴ و ۵ است. تعداد اعضای  $A - C$  چند است؟ «المپیاد ریاضی در ایران دوره ۲۲»

- (الف) صفر (ب) ۱ (ج) ۲ (د) ۳ (ه) ۴

۸ در ابتدای روز اول یک ویروس موزی وارد بدن شده است. در انتهای هر روز، هر ویروس موزی که  $k$  روز عمر کرده باشد،  $k$  ویروس موزی جدید تولید می‌کند و خودش نیز به زندگی ادامه می‌دهد. در انتهای روز ششم چند ویروس موزی متولد می‌شود؟ «المپیاد ریاضی در ایران دوره ۳۳»

- (الف) ۸۹ (ب) ۱۱۲ (ج) ۱۲۸ (د) ۱۴۴ (ه) ۲۴۳



۹ در برکه‌ای ۷ قطعه سنگ وجود دارد که از چپ به راست با اعداد ۱ تا ۷ شماره‌گذاری شده‌اند. قورباغه‌ای روی سنگ شماره‌ی یک نشسته است. فاصله‌ی سنگ‌ها به گونه‌ای است که اگر قورباغه روی سنگ ۱ آید می‌تواند حداکثر تا ۱ سنگ جلو برود. به چند طریق می‌تواند قورباغه، بدون برگشت به سمت چپ، به سنگ شماره‌ی ۷ برود؟

«العیاذ ریاضی در ایران دوره‌ی ۵۳۳»



الف) ۱۰      ب) ۱۱      ج) ۱۲      د) ۱۳      ه) ۱۴

۱۰ ۱۱ ۱۲ ۱۳ ۱۴ ۱۵ ۱۶ ۱۷ ۱۸ ۱۹ ۲۰ ۲۱ ۲۲ ۲۳ ۲۴ ۲۵ ۲۶ ۲۷ ۲۸ ۲۹ ۳۰ ۳۱ ۳۲ ۳۳ ۳۴ ۳۵ ۳۶ ۳۷ ۳۸ ۳۹ ۴۰ ۴۱ ۴۲ ۴۳ ۴۴ ۴۵ ۴۶ ۴۷ ۴۸ ۴۹ ۵۰ ۵۱ ۵۲ ۵۳ ۵۴ ۵۵ ۵۶ ۵۷ ۵۸ ۵۹ ۶۰ ۶۱ ۶۲ ۶۳ ۶۴ ۶۵ ۶۶ ۶۷ ۶۸ ۶۹ ۷۰ ۷۱ ۷۲ ۷۳ ۷۴ ۷۵ ۷۶ ۷۷ ۷۸ ۷۹ ۸۰ ۸۱ ۸۲ ۸۳ ۸۴ ۸۵ ۸۶ ۸۷ ۸۸ ۸۹ ۹۰ ۹۱ ۹۲ ۹۳ ۹۴ ۹۵ ۹۶ ۹۷ ۹۸ ۹۹ ۱۰۰

الف) ۲      ب) ۴      ج) ۶      د) ۸      ه) ۹

۱۰۱ ۱۰۲ ۱۰۳ ۱۰۴ ۱۰۵ ۱۰۶ ۱۰۷ ۱۰۸ ۱۰۹ ۱۱۰ ۱۱۱ ۱۱۲ ۱۱۳ ۱۱۴ ۱۱۵ ۱۱۶ ۱۱۷ ۱۱۸ ۱۱۹ ۱۲۰ ۱۲۱ ۱۲۲ ۱۲۳ ۱۲۴ ۱۲۵ ۱۲۶ ۱۲۷ ۱۲۸ ۱۲۹ ۱۳۰ ۱۳۱ ۱۳۲ ۱۳۳ ۱۳۴ ۱۳۵ ۱۳۶ ۱۳۷ ۱۳۸ ۱۳۹ ۱۴۰ ۱۴۱ ۱۴۲ ۱۴۳ ۱۴۴ ۱۴۵ ۱۴۶ ۱۴۷ ۱۴۸ ۱۴۹ ۱۵۰ ۱۵۱ ۱۵۲ ۱۵۳ ۱۵۴ ۱۵۵ ۱۵۶ ۱۵۷ ۱۵۸ ۱۵۹ ۱۶۰ ۱۶۱ ۱۶۲ ۱۶۳ ۱۶۴ ۱۶۵ ۱۶۶ ۱۶۷ ۱۶۸ ۱۶۹ ۱۷۰ ۱۷۱ ۱۷۲ ۱۷۳ ۱۷۴ ۱۷۵ ۱۷۶ ۱۷۷ ۱۷۸ ۱۷۹ ۱۸۰ ۱۸۱ ۱۸۲ ۱۸۳ ۱۸۴ ۱۸۵ ۱۸۶ ۱۸۷ ۱۸۸ ۱۸۹ ۱۹۰ ۱۹۱ ۱۹۲ ۱۹۳ ۱۹۴ ۱۹۵ ۱۹۶ ۱۹۷ ۱۹۸ ۱۹۹ ۲۰۰

۱، ۲، ۳، ...، ۱۰، ۱۱، ۱۲، ...، ۱۳۸۲، ۱۳۸۳

از چپ شروع می‌کنیم و به تعداد رقم یکان عدد فعلی جلو می‌رویم، بنابراین اعدادی که به آن‌ها برمی‌خوریم عبارتند از: ۱، ۲، ۴، ۸، ... . تعداد این اعداد چند تا است؟

«العیاذ کاسپیتر در ایران دوره‌ی ۵۱۵»

الف) ۳۳۱      ب) ۲۴۶      ج) ۲۴۵      د) ۲۲۷      ه) ۲۷۸

۱۲ دنباله‌ی  $a_n = \sqrt{123 + n^2}$  و  $b_n = n + 3$  ( $n = 1, 2, 3, \dots$ ) داده شده‌اند. فرض کنید که  $T$  کوچک‌ترین عدد صحیح باشد که  $a_r < a_s$  و  $b_s > b_r + 1$  در این صورت  $r + s$  برابر است با:

«العیاذ ریاضی در ایران دوره‌ی ۵۱۵»

الف) ۳۰      ب) ۳۱      ج) ۳۲      د) ۳۳      ه) ۳۸

۱۳ چند تا عدد صحیح  $x$  که  $9 < x < 15$  وجود دارد که دنباله‌ی متناهی:  $1, 2, 6, 7, 9, x, 15, 18, 20$  مشتمل بر هیچ سه جمله‌ای نباشد که تشکیل یک تصاعد عددی بدهند؟

«العیاذ ریاضی در ایران دوره‌ی ۵۱۸»

الف) صفر      ب) ۱      ج) ۲      د) ۳      ه) ۵

۱۴ دنباله‌ی  $a_1, a_2, a_3, \dots$  «برگشتی خطی» نامیده می‌شود اگر فقط اگر اعداد صحیح  $p$  و  $q$  موجود باشند که  $a_{n+p} = pa_{n+1} + qa_n$  دو جمله‌ی بعدی در دنباله‌ی  $2, 5, 14, 41, \dots$  کدام یک از دو عدد زیر است با این شرط که این دنباله «برگشتی خطی» باشد؟

«العیاذ ریاضی در ایران دوره‌ی ۵۱۸»

الف) ۲۸ و ۸۲      ب) ۲۸ و ۱۲۳      ج) ۱۳۶ و ۳۲۸      د) ۱۲۲ و ۳۶۵      ه) ۲۴۴ و ۴۸۷

۱۵ جدول اعداد زیر را در نظر بگیرید:

«العیاذ ریاضی در ایران دوره‌ی ۵۱۹»

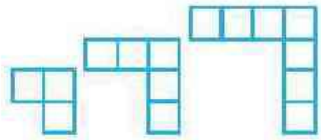
حاصل جمع کلیه سطرهای از سطر اول تا سطر ۱۳۷۹ (یا خود سطر ۱۳۷۹) برابر است با:

					الف) ۶۹۰
					ب) ۱
					ج) صفر
					د) ۱۳۷۹
					ه) ۶۸۹



۱۶ شکل‌های زیر را با چوب‌گیریت ساخته‌اند. اگر  $500$  تا چوب‌گیریت داشته باشیم تعداد مربع‌ها در بزرگ‌ترین شکل مشابهی که می‌توانیم

«المیاد ریاضی در ایران دوره ۱۹»



بسیاریم چند است؟

الف) ۱۶۷

ب) ۱۶۶

ج) ۱۶۵

د) ۱۶۴

ه) هیچ‌کدام

۱۷ دنباله‌ای از اعداد حقیقی بدین شکل تعریف می‌شوند.  $x_1 = 8$  و  $x_n = 3$  و برای هر  $n \geq 1$   $x_{n+1} = 3x_n - 4x_{n-1}$ . بطور مثال:

$x_2 = 4, x_3 = 12, x_4 = 20, \dots$  در بین  $2001$  جمله‌ی ابتدای این دنباله از  $x_n$  تا  $x_{2000}$  چند مضرب ۳ داریم؟ «المیاد ریاضی در ایران

دوره ۱۹»

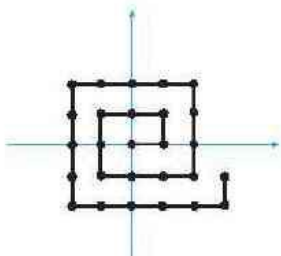
الف) ۱۵۰۱

ب) ۱۵۰۰

ج) ۱۰۰۱

د) ۱۰۰۰

ه) ۹۹۹



۱۸ حلزون در صفحه‌ی مختصات با سرعت ۱ میلی‌متر بر ثانیه شروع به حرکت

می‌کند. او حرکت خود را از مبدأ آغاز می‌کند و مسیری مشابه شکل روبه‌رو را طی

می‌کند (محورهای مختصات بر حسب میلی‌متر مندرج شده‌اند). اگر حلزون حرکت

خود را در لحظه‌ی  $t = 0$  آغاز کرده باشد، در لحظه‌ی  $t = 1381$  (بر حسب

ثانیه) حلزون در چه نقطه‌ای قرار دارد؟ «المیاد ریاضی در ایران دوره ۲۱»

به عنوان مثال در لحظه‌ی  $t = 5$  حلزون در نقطه‌ی  $(-1, 0)$  و در لحظه‌ی  $t = 1$  در نقطه‌ی  $(2, 0)$  قرار دارد.

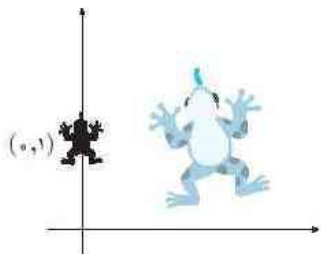
الف)  $(10, -18)$

ب)  $(-8, -18)$

ج)  $(19, 12)$

د)  $(17, -18)$

ه)  $(19, -6)$



۱۹ یک قورباغه در نقطه‌ای به مختصات  $(0, 1)$  از صفحه قرار دارد و هر بار در

جهت عمود بر خطی که مبدأ مختصات را به مکان فعلی‌اش وصل می‌کند (ظوری

که مبدأ در سمت راستش قرار بگیرد) به اندازه‌ی فاصله‌ی همان لحظه‌اش از مبدأ،

جهش می‌کند. اگر قورباغه پس از ۱۵ جهش به نقطه‌ی  $(a, b)$  برسد،  $a$  چند

است؟ «المیاد ریاضی در ایران دوره ۲۲»

الف) صفر

ب) ۲۵۶

ج)  $-128\sqrt{2}$

د)  $-256$

ه)  $-128$

۲۰ اعداد طبیعی را مطابق الگوی مقابل در یک جدول قرار داده‌ایم. مثلاً ۱۴ در سطر دوم و ستون چهارم آمده است. مکان ۱۳۷۷ کدام

«المیاد ریاضی در ایران دوره ۱۲»

۱	۲	۶	۷	۱۵
۳	۵	۸	۱۴	
۴	۹	۱۳		
۱۰	۱۲			
۱۱				

الف) سطر ۲، ستون ۵۲

ب) سطر ۵۲، ستون ۲

ج) سطر ۲، ستون ۵۱

د) سطر ۵۱، ستون ۲

ه) هیچ‌کدام

۲۱ جمله‌ی  $1380$  ام در دنباله‌ی مقابل کدام است؟  $1, 2, 2, 3, 3, 3, 4, 4, 4, 4, 5, \dots$

«المیاد ریاضی در ایران دوره ۲۰»

الف) ۵۴

ب) ۵۳

ج) ۵۲

د) ۵۱

ه) ۵۰





راهنمای حل سؤالات المپیاد

فصل ۱

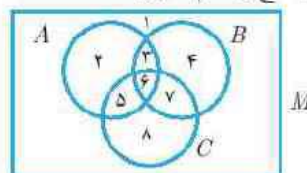


۱.  $n^2 - 2n + 1 = (n-1)^2$  و  $n^2 - 2n + 1 = (n-1)^2$  را در نظر بگیرید.  $n^2 - 2n + 1 = (n-1)^2$  را در نظر بگیرید.

۲.  $n^2 - 2n + 1 = (n-1)^2$  را در نظر بگیرید.  $n^2 - 2n + 1 = (n-1)^2$  را در نظر بگیرید.  $n^2 - 2n + 1 = (n-1)^2$  را در نظر بگیرید.

۳.  $n^2 - 2n + 1 = (n-1)^2$  را در نظر بگیرید.  $n^2 - 2n + 1 = (n-1)^2$  را در نظر بگیرید.  $n^2 - 2n + 1 = (n-1)^2$  را در نظر بگیرید.

۴.  $n^2 - 2n + 1 = (n-1)^2$  را در نظر بگیرید.  $n^2 - 2n + 1 = (n-1)^2$  را در نظر بگیرید.  $n^2 - 2n + 1 = (n-1)^2$  را در نظر بگیرید.



۵.  $n^2 - 2n + 1 = (n-1)^2$  را در نظر بگیرید.  $n^2 - 2n + 1 = (n-1)^2$  را در نظر بگیرید.  $n^2 - 2n + 1 = (n-1)^2$  را در نظر بگیرید.

۶.  $n^2 - 2n + 1 = (n-1)^2$  را در نظر بگیرید.  $n^2 - 2n + 1 = (n-1)^2$  را در نظر بگیرید.  $n^2 - 2n + 1 = (n-1)^2$  را در نظر بگیرید.

۷.  $n^2 - 2n + 1 = (n-1)^2$  را در نظر بگیرید.  $n^2 - 2n + 1 = (n-1)^2$  را در نظر بگیرید.  $n^2 - 2n + 1 = (n-1)^2$  را در نظر بگیرید.

۸.  $n^2 - 2n + 1 = (n-1)^2$  را در نظر بگیرید.  $n^2 - 2n + 1 = (n-1)^2$  را در نظر بگیرید.  $n^2 - 2n + 1 = (n-1)^2$  را در نظر بگیرید.

۹.  $n^2 - 2n + 1 = (n-1)^2$  را در نظر بگیرید.  $n^2 - 2n + 1 = (n-1)^2$  را در نظر بگیرید.  $n^2 - 2n + 1 = (n-1)^2$  را در نظر بگیرید.

۱۰.  $n^2 - 2n + 1 = (n-1)^2$  را در نظر بگیرید.  $n^2 - 2n + 1 = (n-1)^2$  را در نظر بگیرید.  $n^2 - 2n + 1 = (n-1)^2$  را در نظر بگیرید.

۱۱.  $n^2 - 2n + 1 = (n-1)^2$  را در نظر بگیرید.  $n^2 - 2n + 1 = (n-1)^2$  را در نظر بگیرید.  $n^2 - 2n + 1 = (n-1)^2$  را در نظر بگیرید.

۱۲.  $n^2 - 2n + 1 = (n-1)^2$  را در نظر بگیرید.  $n^2 - 2n + 1 = (n-1)^2$  را در نظر بگیرید.  $n^2 - 2n + 1 = (n-1)^2$  را در نظر بگیرید.

۱۳.  $n^2 - 2n + 1 = (n-1)^2$  را در نظر بگیرید.  $n^2 - 2n + 1 = (n-1)^2$  را در نظر بگیرید.  $n^2 - 2n + 1 = (n-1)^2$  را در نظر بگیرید.

۱۴.  $n^2 - 2n + 1 = (n-1)^2$  را در نظر بگیرید.  $n^2 - 2n + 1 = (n-1)^2$  را در نظر بگیرید.  $n^2 - 2n + 1 = (n-1)^2$  را در نظر بگیرید.

۱۵.  $n^2 - 2n + 1 = (n-1)^2$  را در نظر بگیرید.  $n^2 - 2n + 1 = (n-1)^2$  را در نظر بگیرید.  $n^2 - 2n + 1 = (n-1)^2$  را در نظر بگیرید.



- b. جواب گزینه‌ی «الف» می‌باشد.
- a. از روی الگوی نوشته شده، تعداد مربع‌ها در شکل  $n$  ام و سپس تعداد چوب کبریت‌ها در آن شکل را به ترتیب برابر  $(2n+1)$  و  $3(2n+1)+1$  به دست آورید.
- b. نابرابری  $5^{2n} \leq 3(2n+1)+1$  را حل کرده و به جواب برسید.
- c. جواب گزینه‌ی «ح» می‌باشد.

- a. چند جمله‌ی اول را نوشته و مضرب ۳ بودن آن‌ها را بررسی کنید.
- b. ثابت کنید  $a_i$  ها به ازای  $i$  های زوج مضرب ۳ هستند.
- c. جواب گزینه‌ی «ح» می‌باشد.

- a. فرض کنید بعد از گذشت  $n_i$  ثانیه در نقطه‌ی  $(i, 0)$  باشد، در این صورت  $a_1, a_2, a_3, \dots, a_n$  را پیدا کنید.
- b. به ازای  $n = 19$  حاصل  $a_{19}$  برابر ۱۳۸۷ به دست می‌آید.
- c. با برگشتن ۶ واحد به عقب جواب را خواهید یافت.
- d. جواب گزینه‌ی «ه» می‌باشد.

- a. چند حرکت نخست (مثلاً ۶ حرکت) قورباغه را ترسیم کنید.
- b. با الگو گرفتن از شکل به دست آمده جایگاه قورباغه در حرکت بانزدهم را پیش‌بینی کرده و به جواب برسید.
- c. جواب گزینه‌ی «ه» می‌باشد.

- a. قطر‌ها را شماره‌گذاری کرده و نتیجه بگیرید که اولاً اعداد قطر  $i$  ام از بالا به پایین است اگر  $i$  زوج باشد و از پایین به بالا است اگر  $i$  فرد باشد و ثانیاً بزرگ‌ترین عدد موجود در قطر  $i$  ام  $\frac{i(i+1)}{2}$  می‌باشد.
- b. بزرگ‌ترین عدد موجود در قطر ۵۲ را بیابید (به جواب خیلی نزدیک شده‌اید).
- c. جواب گزینه‌ی «د» می‌باشد.

- a. آخرین ۴، آخرین ۵، ... آخرین  $n$  جمله‌ی چندم دنباله می‌باشد؟
- b. با فرضی این که متوجه شده‌اید که آخرین  $n$  جمله‌ی  $\frac{n(n+1)}{2}$  ام از دنباله است آخرین ۵۲ جمله‌ی چندم خواهد بود؟
- c. جواب گزینه‌ی «د» می‌باشد.

- b. اگر فقط اعداد یک رقمی، دو رقمی و سه رقمی را بنویسیم بر روی هم  $450(3) + 45(2) + 4 = 1444$  یعنی ۱۴۴۴ رقم نوشته‌ایم که از ۱۳۸۸ بیش‌تر است پس باید تعدادی از آن‌ها را کم کنیم. از انتهای اعداد به تعداد مورد نیاز رقم کم کنید تا به جواب برسید.
- e. جواب گزینه‌ی «ه» می‌باشد.

- a. دنباله رقم یکان نظم خاصی پیدا می‌کند آن را پیدا کنید.
- b. در هر بازه‌ی  $2^n$  تایی به غیر از بازه‌ی اول دقیقاً به ۴ عدد برخورد می‌کنیم و در بازه‌ی اول به ۵ عدد، بنابراین با تقسیم اعداد از  $1$  تا  $1380$  به بازه‌های  $2^n$  تایی تعداد اعدادی که به آن‌ها برخورد کرده‌ایم را شمرده و عدد ۱۳۸۲ را به آن اضافه کنید.
- e. جواب گزینه‌ی «ه» می‌باشد.

- a. نابرابری  $a_n < b_n$  را حل کرده و به  $n > 19$  برسید.
- b. نابرابری  $a_n > b_n + 1$  را حل کرده و به  $n < 13,375$  برسید.
- e. جواب گزینه‌ی «د» می‌باشد.

- a.  $x$  را برابر  $1^n$  قرار داده و سه جمله که تشکیل تصاعد حسابی می‌دهند پیدا کنید.
- b.  $x$  را برابر  $12,11$  و  $13$  قرار داده و قسمت قبل را تکرار کنید.
- c. به ازای  $x = 14$  سه جمله‌ای که تشکیل تصاعد حسابی بدهد یافت نخواهد شد.
- d. جواب گزینه‌ی «د» می‌باشد.

- a. مقدار  $n$  را برابر ۳ قرار داده و به معادله‌ی  $14 = 5p + 2q$  برسید.
- b. مقدار  $n$  را برابر ۴ قرار داده و به معادله‌ای جدید برسید.
- c. دستگاه دو معادله دو مجهول به دست آمده را حل کرده و  $p$  و  $q$  را بیابید.
- d. با پیدا کردن  $p$  و  $q$  مقادیر  $a_5, a_6, \dots$  را بیابید.
- e. جواب گزینه‌ی «د» می‌باشد.

- a. مجموع اعداد موجود در سطر  $i$  ام یک بار وقتی  $i$  زوج است و یک بار وقتی  $i$  فرد است را یافته و حاصل جمع کل را بیابید.



