

خلاصه درس



فصل اول: آشنایی با نظریه اعداد

درس ۱: استدلال ریاضی

مهم‌ترین موضوع در ریاضیات اثبات درستی یک مطلب است. در این درس می‌خواهیم انواع استدلال در ریاضی را مورد بررسی و مطالعه قرار دهیم. فقط توجه کنید که در ریاضیات، درستی یک مطلب با بررسی چند مثال اثبات نمی‌شود.

مثال نقض: مثالی است که نشان می‌دهد یک حکم و نتیجه گیری کلی نادرست است.

تمرین: آیا برای هر دو عدد حقیقی a و b رابطه $|a+b| = |a| + |b|$ برقرار است؟

پاسخ: خیر، زیرا برای $a = 4$ و $b = -6$ داریم:

$$\left. \begin{aligned} |a+b| &= |4+(-6)| = |-2| = 2 \\ |a|+|b| &= |4|+|-6| = 4+6 = 10 \end{aligned} \right\} \Rightarrow 2 \neq 10 \Rightarrow |a+b| \neq |a|+|b|$$

اثبات مستقیم: اثبات درستی یک مطلب براساس تعاریف، اصول و قضایایی که از قبل درستی آن‌ها را پذیرفته‌ایم، اثبات مستقیم نام دارد.

تمرین: ثابت کنید حاصل جمع هر دو عدد فرد، عددی زوج است.

پاسخ: می‌دانید فرم کلی اعداد فرد به صورت $2k+1$ ($k \in \mathbb{Z}$) است، پس

برای دو عدد فرد $a = 2k+1$ و $b = 2k'+1$ داریم:

$$a+b = 2k+1+2k'+1 = 2k+2k'+2 = 2(k+k'+1)$$

چون k و k' اعداد صحیح هستند، پس $k+k'+1$ نیز عدد صحیحی مانند k'' است:

$$k+k'+1 = k'' \Rightarrow a+b = 2k''$$

بنابراین $a+b$ عددی زوج است.

اثبات با در نظر گرفتن تمام حالات

بعضی مواقع برای اثبات درستی یک مطلب، باید تمام حالات ممکن در مسئله را در نظر گرفته و در هر حالت درستی آن مطلب را اثبات نماییم.

تمرین: برای هر عدد صحیح n ، ثابت کنید $n^2 + 5n + 6$ عددی زوج است.

پاسخ: برحسب این که n زوج یا فرد باشد دو حالت زیر را داریم:

$$\begin{aligned} 1 \text{ حالت } n = 2k+1 &\Rightarrow n^2 + 5n + 6 = (2k+1)^2 + 5(2k+1) + 6 \\ &= 4k^2 + 4k + 1 + 10k + 5 + 6 = 4k^2 + 14k + 12 = 2(2k^2 + 7k + 6) = 2q \end{aligned}$$

$$2 \text{ حالت } n = 2k \Rightarrow n^2 + 5n + 6 = (2k)^2 + 5(2k) + 6$$

$$= 4k^2 + 10k + 6 = 2(2k^2 + 5k + 3) = 2q'$$

بنابراین $n^2 + 5n + 6$ همواره عددی زوج است.

اثبات غیرمستقیم (برهان خلف)

در این روش مراحل زیر را انجام می‌دهیم:

① فرض می‌کنیم حکم نادرست باشد که به این فرض، فرض خلف می‌گویند.

② با استفاده از قوانین منطق گزاره‌ها و یک سری از استدلال‌های درست، به نتیجه یا نتایجی غیرممکن و یا متضاد با فرض مسئله می‌رسیم.

③ با توجه به تناقض ایجادشده معلوم می‌شود که فرض خلف نادرست

است، بنابراین حکم باید برقرار باشد.

تمرین: اگر $n \in \mathbb{Z}$ و n^2 عددی فرد باشد، آن‌گاه ثابت کنید n نیز فرد است.

پاسخ: فرض می‌کنیم n فرد نباشد، پس n عددی زوج است (فرض خلف):

$$n = 2k, k \in \mathbb{Z} \Rightarrow n^2 = 4k^2 = 2(\underbrace{2k^2}_q) = 2q$$

پس n^2 زوج است و این نتیجه خلاف فرض مسئله است زیرا n^2 عددی فرد است، پس باید n عددی فرد باشد.

تمرین: اگر $\sqrt{3}$ عددی گنگ باشد، آن‌گاه ثابت کنید $2\sqrt{2} - \sqrt{3}$ عددی گنگ است.

پاسخ: فرض می‌کنیم $2\sqrt{2} - \sqrt{3}$ عددی گویا مانند q باشد (فرض خلف) پس:

$$q = 2\sqrt{2} - \sqrt{3} \Rightarrow q + \sqrt{3} = 2\sqrt{2} \xrightarrow{\text{توان ۲}} (q + \sqrt{3})^2 = (2\sqrt{2})^2$$

$$\Rightarrow q^2 + 2q\sqrt{3} + 3 = 8 \Rightarrow 2q\sqrt{3} = 5 - q^2 \Rightarrow \sqrt{3} = \frac{5 - q^2}{2q}$$

چون q عددی گویا و مخالف صفر است، پس $\frac{5 - q^2}{2q}$ نیز عددی گویا است.

بنابراین $\sqrt{3}$ نیز عددی گویا است و این نتیجه خلاف فرض مسئله است زیرا $\sqrt{3}$ عددی گنگ است، پس باید $2\sqrt{2} - \sqrt{3}$ عددی گنگ باشد.

اثبات بازگشتی (گزاره‌های هم‌ارز)

می‌دانیم اگر p و q دو گزاره هم‌ارز باشند، آن‌گاه گزاره دو شرطی $p \Leftrightarrow q$ درست است و برعکس. بنابراین برای اثبات درستی p اگر گزاره‌های دو شرطی $q \Leftrightarrow r_1, r_1 \Leftrightarrow r_2, \dots, r_n \Leftrightarrow p$ درست باشند، آن‌گاه از درستی q می‌توان درستی p را نتیجه گرفت. این مطلب اساس اثبات بازگشتی است. یعنی برای اثبات درستی یک حکم، توسط روابط برگشت پذیر آن را به یک رابطه درست و بدیهی می‌رسانیم.

تمرین: اگر x و y دو عدد حقیقی مخالف صفر و مختلف‌العلامت باشند، درستی رابطه مقابل را ثابت کنید.

$$\frac{x}{y} + \frac{y}{x} \leq -2$$

پاسخ: چون x و y مختلف‌العلامت هستند، پس $xy < 0$ عددی منفی است و داریم:

$$\frac{x}{y} + \frac{y}{x} \leq -2 \xrightarrow{\text{توان } xy < 0} xy \left(\frac{x}{y} + \frac{y}{x} \right) \geq -2xy \Leftrightarrow x^2 + y^2 \geq -2xy$$

$$\Leftrightarrow x^2 + 2xy + y^2 \geq 0 \Leftrightarrow (x+y)^2 \geq 0$$

همواره برقرار است. **تمرین:** برای اعداد حقیقی x, y, z رابطه زیر را ثابت کنید.

$$x^2 + y^2 + z^2 \geq xy + xz + yz$$

پاسخ:

$$x^2 + y^2 + z^2 \geq xy + xz + yz \xrightarrow{\times 2} 2x^2 + 2y^2 + 2z^2 \geq 2xy + 2xz + 2yz$$

$$\Leftrightarrow 2x^2 + 2y^2 + 2z^2 - 2xy - 2xz - 2yz \geq 0$$

$$\Leftrightarrow x^2 - 2xy + y^2 + x^2 - 2xz + z^2 + y^2 - 2yz + z^2 \geq 0$$

$$\Leftrightarrow (x-y)^2 + (x-z)^2 + (y-z)^2 \geq 0$$

درس ۲: بخش پذیری در اعداد صحیح

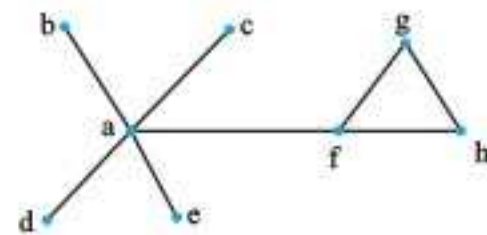
تعریف: برای اعداد صحیح a و b که $a \neq 0$ ، اگر عدد صحیحی مانند q وجود داشته باشد به طوری که $b = aq$ در این صورت می‌گوییم عدد b بر عدد a بخش پذیر است و می‌نویسیم: $a | b$

$$b = aq \Leftrightarrow a | b$$

تعریف: در بین تمام مجموعه‌های احاطه‌گر گراف G ، به مجموعه یا مجموعه‌های احاطه‌گری که کمترین تعداد عضو را دارند، احاطه‌گر مینیمم می‌گوییم. تعداد اعضای چنین مجموعه‌ای را عدد احاطه‌گری گراف G می‌گوییم و آن را با نماد $\gamma(G)$ نشان می‌دهیم.

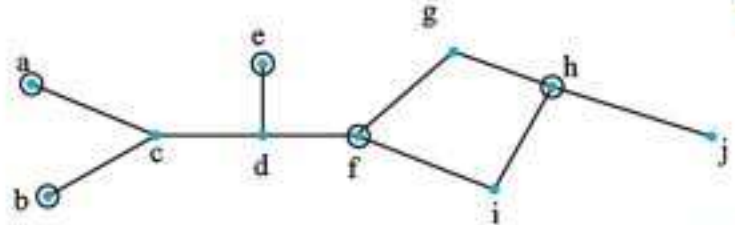
تذکره: یک مجموعه احاطه‌گر مینیمم گراف G را یک γ مجموعه گراف G می‌گویند.

به عنوان مثال گراف زیر با کمتر از دو رأس احاطه نمی‌شود، پس داریم:



از رئوس آن، مجموعه رئوس باقی‌مانده دیگر احاطه‌گر نباشد، یک مجموعه احاطه‌گر مینیمال می‌گویند.

تمرین: برای گراف زیر یک مجموعه احاطه‌گر مینیمال بنویسید.



پاسخ: مجموعه $\{a, b, e, f, h\}$ یک مجموعه احاطه‌گر مینیمال است زیرا: با حذف a ، خود رأس a احاطه نمی‌شود، با حذف b ، خود رأس b احاطه نمی‌شود، با حذف e ، خود رأس e احاطه نمی‌شود، با حذف f ، خود رأس f احاطه نمی‌شود و با حذف h ، رئوس h و j احاطه نمی‌شوند.

نکته: هر مجموعه احاطه‌گر غیر مینیمال را می‌توان با حذف برخی رئوس آن به یک مجموعه احاطه‌گر مینیمال تبدیل کرد.

نکته: هر مجموعه احاطه‌گر مینیمم یک مجموعه احاطه‌گر مینیمال است ولی عکس آن الزاماً صحیح نیست. یعنی ممکن است یک مجموعه احاطه‌گر مینیمال باشد ولی مینیمم نباشد.

تعریف: اگر x عددی حقیقی باشد، برای نمایش عدد صحیح بعد از آن از نماد $\lceil x \rceil$ استفاده می‌کنیم و آن را سقف x می‌نامیم. در حالت کلی داریم:

$$\lceil x \rceil = \begin{cases} x & x \in \mathbb{Z} \\ \text{کوچک‌ترین عدد صحیح بزرگ‌تر از } x & x \notin \mathbb{Z} \end{cases}$$

$$\lceil 3/2 \rceil = 2, \lceil 5 \rceil = 5$$

مثال:

نکته: در هر گراف، هر رأس خودش و تمام رئوس مجاورش را احاطه می‌کند.

نکته: اگر در گرافی ماکزیمم درجه Δ باشد، هر رأس در بیشترین حالت می‌تواند $\Delta + 1$ رأس را احاطه کند.

نتیجه: اگر G یک گراف n رأسی با ماکزیمم درجه Δ باشد و D یک مجموعه احاطه‌گر باشد. آن‌گاه $|D| \geq \lceil \frac{n}{\Delta+1} \rceil$ و از آن‌جا که $\gamma(G)$ نیز اندازه یک مجموعه احاطه‌گر است، پس داریم: $\gamma(G) \geq \lceil \frac{n}{\Delta+1} \rceil$

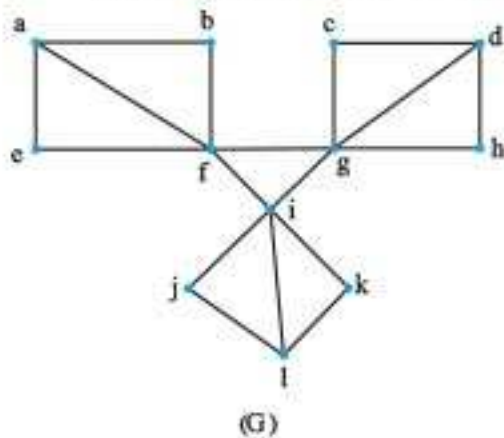
نکته: در بعضی گراف‌ها عدد احاطه‌گری با $\lceil \frac{n}{\Delta+1} \rceil$ برابر است و در بعضی گراف‌ها برابر نیست.

نکته: در گراف‌های P_n و C_n عدد احاطه‌گری با مقدار $\lceil \frac{n}{\Delta+1} \rceil$ برابر است و چون در این گراف‌ها $\Delta = 2$ است، داریم: $\gamma = \lceil \frac{n}{2+1} \rceil = \lceil \frac{n}{3} \rceil$

به عنوان مثال عدد احاطه‌گری P_{13} برابر با $\lceil \frac{13}{3} \rceil = 5$ است.

نکته: اگر برای گراف G یک مجموعه احاطه‌گر m عضوی وجود داشته باشد، آن‌گاه می‌توان نتیجه گرفت که: $\gamma(G) \leq m$

تمرین: عدد احاطه‌گری گراف زیر را بیابید.



$$n = 12, \Delta = 5 \Rightarrow \gamma(G) \geq \lceil \frac{12}{5+1} \rceil \Rightarrow \gamma(G) \geq 2$$

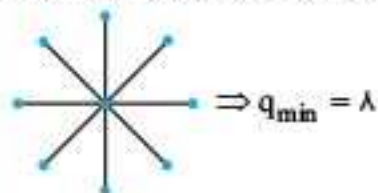
از بین رئوس a, b, c, d ، از بین رئوس e, f, g, h حداقل یک رأس، از بین رئوس i, j, k و l نیز حداقل یک رأس برای احاطه کردن کل گراف باید انتخاب کنیم، پس: $\gamma(G) \geq 3$

$$\gamma(G) \leq 3 \xrightarrow{(1)} \gamma(G) = 3$$

نکته: در گرافی با $\gamma = 1$ کمترین تعداد یال‌ها زمانی اتفاق می‌افتد که یک رأس به تمام رئوس دیگر متصل شده باشد. و بیشترین تعداد یال‌ها زمانی اتفاق می‌افتد که گراف به صورت گراف کامل باشد.

تمرین: در گرافی از مرتبه 9 و $\gamma = 1$ ، کمترین و بیشترین تعداد یال‌ها را بیابید.

پاسخ: برای داشتن کمترین تعداد یال‌ها باید گراف را به صورت زیر در نظر بگیریم:

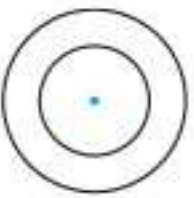


بیشترین تعداد یال‌ها زمانی اتفاق می‌افتد که گراف کامل باشد. پس:

$$K_9 \Rightarrow q_{\max} = \binom{9}{2} = \frac{9 \times 8}{2} = 36$$

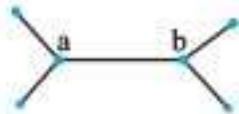
تمرین (الف): یک گراف 9 رأسی با عدد احاطه‌گری 2 رسم کنید که یک مجموعه احاطه‌گر یکتا با اندازه 2 داشته باشد.

تمرین (ب): یک گراف 9 رأسی با عدد احاطه‌گری 2 رسم کنید که بیش از یک مجموعه احاطه‌گر با اندازه 2 داشته باشد.

ردیف	سوالات	نمره
فصل اول		
۱	جاهای خالی را با عبارت مناسب پر کنید. الف) اگر باقی‌مانده تقسیم a بر 5 برابر 3 باشد، باقی‌مانده تقسیم a^4 بر 5 برابر _____ است. ب) باقی‌مانده تقسیم عدد 275678 بر 11 برابر _____ است.	۰/۵
۲	اگر $n^2, n \in \mathbb{N}$ عددی فرد باشد، آن‌گاه ثابت کنید n نیز عددی فرد است.	۱
۳	اگر a عددی صحیح و فرد باشد و $b a+4$ ، آن‌گاه باقی‌مانده تقسیم $2a^2 - b^2 + 30$ بر 8 را بیابید. پرتکرار	۱/۵
۴	برای هر دو عدد حقیقی مثبت x و y نامساوی زیر را به روش اثبات بازگشتی ثابت کنید. پرتکرار $\frac{1}{x} + \frac{1}{y} \geq \frac{4}{x+y}$	۱/۲۵
۵	اگر α و β دو عدد گنگ باشند ولی $\alpha - \beta$ گویا باشد، ثابت کنید $\alpha + 2\beta$ گنگ است.	۱
۶	اگر $n \in \mathbb{Z}$ و $n 2k+7$ و $n 5k+10$ ، آن‌گاه n را بیابید. پرتکرار	۱/۵
۷	بزرگ‌ترین عدد طبیعی را بیابید که در تقسیم بر عدد 75 ، باقی‌مانده تقسیم از چهار برابر مربع خارج قسمت یک واحد بیشتر باشد؟	۱/۲۵
۸	اگر $a b$ و $c d$ ، آن‌گاه ثابت کنید $a.c b.d$.	۱
۹	اگر دو عدد $2a-1$ و $4a+3$ رقم یکان برابر داشته باشند، رقم یکان عدد $9a-6$ را بیابید.	۱
۱۰	اگر a عددی صحیح و دلخواه باشد، ثابت کنید همواره یکی از اعداد صحیح a یا $a+2$ یا $a+4$ بر 3 بخش پذیر است.	۱/۵
۱۱	تیراندازی به سمت یک هدف شامل دو دایره هم‌مرکز تیراندازی می‌کند. اگر به دایره کوچک‌تر بزند، 7 امتیاز و اگر به دایره بزرگ‌تر بزند، 4 امتیاز می‌گیرد. اگر تمام تیرهای او به هدف برخورد کند، به چند طریق می‌تواند امتیاز 59 را کسب کرده باشد.	۱/۵
		
۱۲	ثابت کنید تفاضل مکعب‌های دو عدد صحیح متوالی عددی فرد است.	۱
۱۳	حاصل $(4m+1, 4m+3)$ را بیابید.	۱
فصل دوم		
۱۴	جاهای خالی را با عبارت مناسب پر کنید. الف) مجموع درجات رئوس گراف کامل از مرتبه 4 برابر _____ است. ب) در گراف تهی مجموعه همسایگی باز هر رأس _____ است.	۰/۵
۱۵	یک گراف 4 رأسی غیرتهی k -منتظم رسم کنید که: الف) k بیشترین مقدار ممکن را داشته باشد. ب) k کمترین مقدار ممکن را داشته باشد.	۱

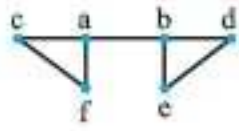
ردیف	سوالات	نمره
۱	عبارت مناسب را از داخل پرانتز انتخاب کنید. الف) حاصل ضرب هر عدد گویا ناصفر در یک عدد گنگ، عددی (گنگ، گویا) است. پرتکرار ب) اگر برای دو عدد صحیح a و b داشته باشیم $a b$ ، برای هر $m \in \mathbb{Z}$ داریم: $(a mb, ma b)$. پ) اگر $a b$ آن‌گاه b, m دو عدد a و b برابر با (a, a) است. پرتکرار ت) اگر $(c, m) = d$ و $ac = bc$ آن‌گاه رابطه $(a \stackrel{m}{=} b, a \stackrel{d}{=} b)$ برقرار خواهد بود.	۱
۲	اگر α و β دو عدد گنگ باشند ولی $\alpha + \beta$ گویا باشد، ثابت کنید $\alpha - \beta$ گنگ است. پرتکرار	۱/۵
۳	ثابت کنید باقی‌مانده تقسیم مربع هر عدد فرد بر ۸، برابر یک است. پرتکرار	۱/۵
۴	اگر در تقسیم، مقسوم و مقسوم‌علیه، هر دو بر عدد صحیح n بخش‌پذیر باشند، ثابت کنید باقی‌مانده تقسیم نیز همواره بر n بخش‌پذیر است.	۱/۲۵
۵	معادله سیاله $6x + 7y = 185$ را حل کرده و جواب عمومی آن را بنویسید. پرتکرار	۱/۷۵
۶	با توجه به گراف G (شکل مقابل) به سوالات زیر پاسخ دهید. پرتکرار الف) مقدار $q - \Delta(G)$ را بیابید. ب) یک دور به طول ۴ مشخص کنید. پ) با ذکر دلیل مشخص کنید گراف مکمل G چند یال دارد?	۲
۷	درست یا نادرست بودن جملات زیر را مشخص کنید. الف) هر مجموعه احاطه‌گر مینیمال، یک مجموعه احاطه‌گر مینیمم است. پرتکرار ب) اگر G یک گراف n رأسی با ماکزیمم درجه Δ باشد، آن‌گاه $\gamma(G) > \left\lfloor \frac{n}{\Delta+1} \right\rfloor$. پ) در گراف P_n حداحاطه‌گری برابر با $\left\lfloor \frac{n}{\Delta+1} \right\rfloor$ است. پرتکرار ت) $\lfloor 3/48 \rfloor = 4$ پرتکرار	۱
۸	عدد احاطه‌گری گراف G (شکل مقابل) را با ارائه راه حل تعیین کنید. پرتکرار	۱/۵
۹	گراف C_9 را رسم کنید. پرتکرار الف) یک γ -مجموعه از آن را مشخص کنید. ب) یک مجموعه احاطه‌گر مینیمال ۵ عضوی از آن را تعیین نمایید.	۱/۵
۱۰	می‌خواهیم با حروف «ش»، «الف» و «ث» و ۵ عدد ۱، ۳، ۵، ۷، ۹ یک رمز شامل ۸ کاراکتر تشکیل دهیم. مطلوب است تعداد کل رمزهایی که در هر یک از آن‌ها حروف کنار هم باشند. پرتکرار	۰/۵
۱۱	با حروف کلمه جیرجیرک چند کلمه ۷ حرفی می‌توان نوشت؟ پرتکرار	۱
۱۲	به چند طریق می‌توان از بین ۶ نوع گل متفاوت، ۱۰ شاخه گل انتخاب کرد به طوری که از گل نوع سوم حداقل ۴ شاخه و از نوع ششم بیش از ۲ شاخه انتخاب کنیم؟ پرتکرار	۱/۷۵
۱۳	در مربع لاتین A (شکل مقابل) جای سطر اول و سوم را با هم جابه‌جا کنید تا مربع لاتین B ایجاد شود. سپس با ذکر دلیل بررسی کنید آیا A و B دو مربع لاتین متعامد هستند؟ پرتکرار	۱/۲۵
۱۴	از بین اعداد طبیعی ۱ تا ۳۰۰، $(1 \leq n \leq 300)$ چند عدد وجود دارد که بر ۴ بخش‌پذیر است ولی بر ۵ بخش‌پذیر نیست؟ پرتکرار	۱/۵
۱۵	ثابت کنید در بین هر سه عدد طبیعی، حداقل دو عدد طبیعی وجود دارد که مجموعشان عددی زوج است؟	۱
۲۰	جمع نمره	

۹ الف) گراف زیر ۶ رأسی و فقط یک مجموعه احاطه گر مینیمم ۲ عضوی دارد.



$\gamma = \{a, b\}$ مجموعه یکتا $(= / ۷۵)$

ب) گراف زیر بیش از یک مجموعه احاطه گر مینیمم ۲ عضوی دارد.



$\gamma = \{a, d\}$ یا $\{b, f\}$ یا $\{c, e\}$ مجموعه ها $(= / ۷۵)$

(فصل ۲ / احاطه گری)

۱۰ در گراف مورد نظر داریم:

$n = 10, \Delta = 2 \Rightarrow \gamma \geq \left\lceil \frac{n}{\Delta + 1} \right\rceil (= / ۷۵) \Rightarrow \gamma \geq \left\lceil \frac{10}{2 + 1} \right\rceil \Rightarrow \gamma \geq 3 (= / ۷۵)$

از طرفی مجموعه $\{g, h, d\}$ یک مجموعه احاطه گر برای گراف است. $(= / ۷۵)$

پس داریم: $\gamma \leq 3 (= / ۷۵) \xrightarrow{\gamma \geq 3} \gamma = 3 (= / ۷۵)$

(فصل ۲ / عدد احاطه گری)

۱۱ با توجه به این که دو تا رقم ۱ و سه تا رقم ۲ داریم، پس:

$\frac{7!}{2! \times 3!} (= / ۷۵) = \frac{7 \times 6 \times 5 \times 4 \times 3!}{2 \times 1 \times 3!} = 210 (= / ۷۵)$

(فصل ۳ / جایگشت های باتکرار)

۱۲ اگر تعداد شاخه های گل نوع i ام را با x_i نشان دهیم، داریم:

$x_1 + x_2 + x_3 + x_4 + x_5 = 11, x_2 \geq 2, x_5 > 3 (= / ۷۵)$

$x_2 \geq 2 \rightarrow x_2 - 2 \geq 0, y_2 = x_2 - 2 \rightarrow x_2 = y_2 + 2, y_2 \geq 0 (= / ۷۵)$

$x_5 > 3 \rightarrow x_5 \geq 4 \rightarrow x_5 - 4 \geq 0, y_5 = x_5 - 4 \rightarrow x_5 = y_5 + 4, y_5 \geq 0 (= / ۷۵)$

$x_1 + y_2 + 2 + x_3 + x_4 + y_5 + 4 = 11 \Rightarrow x_1 + y_2 + x_3 + x_4 + y_5 = 5 (= / ۷۵)$

$n = 5, k = 5 \Rightarrow$ تعداد جواب ها $= \binom{n+k-1}{k-1} = \binom{9}{4} (= / ۷۵)$

(فصل ۳ / شمارش)

۱۳ جایگشت مقابل را در نظر می گیریم:

$1 \rightarrow 2$
 $2 \rightarrow 4$
 $3 \rightarrow 1$
 $4 \rightarrow 3$

۴	۳	۲	۱
۲	۱	۴	۳
۱	۲	۳	۴
۳	۴	۱	۲

(فصل ۳ / مربع لاتین)

۱۴ الف) متعامدند زیرا عدد تکراری وجود ندارد.

۳۲	۲۱	۱۳
۱۱	۳۳	۲۲
۲۳	۱۲	۳۱

۱۳	۲۱	۳۲
۳۲	۱۳	۲۱
۲۱	۳۲	۱۳

ب) متعامد نیستند، زیرا عدد تکراری در مربع حاصل

وجود دارد. (فصل ۳ / مربع های لاتین متعامد)

۱۵ تعداد حالت های ممکن برای انجام این کار معادل است با تعداد تابع های

یک به یک از مجموعه ۴ عضوی به مجموعه ای ۸ عضوی، پس: $(= / ۷۵)$

$(A)_4 = \frac{8!}{(8-4)!} (= / ۷۵) = \frac{8!}{4!} = \frac{8 \times 7 \times 6 \times 5 \times 4!}{4!} = 1680 (= / ۷۵)$

(فصل ۳ / تابع یک به یک)

$S = \{1, 2, \dots, 100\}$

۱۶

$A \Rightarrow |A| = \binom{100}{6} = 16 (= / ۷۵)$ مجموعه اعضایی از S که بر ۶ بخش پذیرند.

$B \Rightarrow |B| = \binom{100}{10} = 10 (= / ۷۵)$ مجموعه اعضایی از S که بر ۱۰ بخش پذیرند.

$A \cap B \Rightarrow |A \cap B| = \binom{100}{30} = 3 (= / ۷۵)$ مجموعه اعضایی از S که بر ۳۰ بخش پذیرند.

بخش پذیرند.

طبق اصل لانه کبوتری، حداقل یک مربع شامل دست کم ۲ نقطه وجود دارد. حال برای ۲ نقطه داخل یک مربع داریم: $(= / ۷۵)$

$BC^2 = AB^2 + AC^2 = 2^2 + 2^2 = 8 \Rightarrow BC = \sqrt{8} (= / ۷۵)$

$BC = \sqrt{8} < \sqrt{8} (= / ۷۵)$ فاصله ۲ نقطه داخل یک مربع

(فصل ۳ / اصل لانه کبوتری)

امتحان ۷ - خرداد ماه ۱۳۹۹ (نوبت دوم)

۱ الف) نادرست (فصل ۱ / مثال نقض) مثال نقض زیر را در نظر بگیرید.

$a = 2 + \sqrt{3}, b = 4 - \sqrt{3} \Rightarrow a + b = 2 + \sqrt{3} + 4 - \sqrt{3} = 6 \in \mathbb{Q} (= / ۷۵)$

ب) درست (فصل ۱ / اثبات مستقیم) $(= / ۷۵)$

$a = 2k + 1 \Rightarrow a^2 - 1 = (2k + 1)^2 - 1 (= / ۷۵) = 4k^2 + 4k + 1 - 1 = 4k^2 + 4k$

$\Rightarrow a^2 - 1 = 4k(k + 1) (= / ۷۵)$

ضرب دو عدد صحیح متوالی، مضرب ۲ است، پس:

$k(k + 1) = 2q \Rightarrow a^2 - 1 = 4 \times 2q = 8q (= / ۷۵)$

۲ طبق رابطه تقسیم داریم:

$a = 4q + 3 (= / ۷۵) \rightarrow 2a + 3 = 2(4q + 3) + 3 = 8q + 6 + 3 = 8q + 9 (= / ۷۵)$

$\Rightarrow 2a + 3 = 8q + 8 + 1 = 8(q + 1) + 1 (= / ۷۵) = 8q' + 1 (= / ۷۵)$

پس باقی مانده برابر ۱ است. $(= / ۷۵)$ (فصل ۱ / قضیه تقسیم)

۳

$\left. \begin{matrix} n | 9k + 7 \\ n | 7k + 6 \end{matrix} \right\} \Rightarrow n | 7(9k + 7) - 9(7k + 6) (= / ۷۵)$

$\Rightarrow n | 63k + 49 - 63k - 54 \Rightarrow n | -5 (= / ۷۵)$

$n \in \mathbb{N} \rightarrow n = 1 \text{ یا } n = 5 (= / ۷۵)$

(فصل ۱ / بخش پذیری)

$7^2 \equiv 49 \Rightarrow 7^2 \equiv 49 - 3 \times 15 (= / ۷۵) \Rightarrow 7^2 \equiv 4 (= / ۷۵)$

$(7^2)^2 \equiv 4^2 \Rightarrow 7^4 \equiv 16 (= / ۷۵) \Rightarrow 7^4 \equiv 16 - 15 \equiv 1 (= / ۷۵)$

$(7^4)^7 \equiv 1^7 \Rightarrow 7^{28} \equiv 1 (= / ۷۵) \xrightarrow{\times 7^2} 7^{30} \equiv 7^2 \equiv 4 (= / ۷۵)$

باقی مانده برابر ۴ است. (فصل ۱ / باقی مانده اعداد)

۵

$5x \equiv 2 \Rightarrow 5x \equiv 2 + 3 \times 11 (= / ۷۵) \Rightarrow 5x \equiv 35 (= / ۷۵)$

$(5, 11) = 1 (= / ۷۵) \Rightarrow x \equiv 7 \Rightarrow x = 11k + 7 (= / ۷۵)$

(فصل ۱ / معادله همبستگی)

۶ الف) دو برابر (فصل ۲ / مجموع درجات رئوس) $(= / ۷۵)$

ب) k (فصل ۲ / گراف k منتظم) $(= / ۷۵)$

پ) مینیمم (فصل ۲ / مجموعه احاطه گر مینیمم) $(= / ۷۵)$

ت) مینیمال (فصل ۲ / مجموعه احاطه گر مینیمال) $(= / ۷۵)$

۷ الف) $N_G[a] = \{a, b, d, e\}$ $(= / ۷۵)$

ب) دور به طول ۴: $adeba$ $(= / ۷۵)$

پ)

مسیر به طول ۳: $aebc$ $(= / ۷۵)$

مسیر به طول ۴: $adebc$ $(= / ۷۵)$

(فصل ۲ / مفاهیم گراف)

$\deg_G(v) + \deg_{\bar{G}}(v) = p - 1 (= / ۷۵) \Rightarrow 9 + 12 = p - 1 (= / ۷۵)$

$\Rightarrow p = 22 (= / ۷۵)$

(فصل ۲ / مکمل گراف)