

# فهرست



تعداد تست‌های آزمون پایان فصل	تعداد تست‌های داخل فصل	تعداد بسته‌های آموزشی	صفحه
۱۰	۱۶	۵	۷
۱۵	۲۵	۱۰	۲۳
۱۵	۲۱	۱۰	۵۱
۲۰	۲۴	۱۱	۷۹
۱۰	۱۶	۹	۱۱۱
۲۰	۲۹	۱۵	۱۳۵
۲۵	۳۵	۲۰	۱۶۹
۱۵	۱۸	۹	۲۱۳
۱۵	۱۹	۸	۲۳۹
۲۵	۵۵	۱۸	۲۶۳
۳۰	۴۴	۱۵	۳۰۹
۲۵	۳۲	۲۱	۳۴۷
۱۵	۲۵	۱۴	۳۸۵
۱۵	۱۵	۸	۴۱۳
۱۵	۲۲	۹	۴۳۵
			۴۵۳
			۴۶۱

## فیزیک ۱ (پایه دهم)

فصل ۱: فیزیک و اندازه‌گیری



فصل ۲: ویژگی‌های فیزیکی مواد



فصل ۳: کار، انرژی و توان



فصل ۴: دما و گرما



فصل ۵: ترمودینامیک



## فیزیک ۲ (پایه یازدهم)

فصل ۱: الکتریسیته ساکن



فصل ۲: جریان الکتریکی و مدارهای جریان مستقیم



فصل ۳: مغناطیس



فصل ۴: القای الکترومغناطیسی و جریان متناوب



## فیزیک ۳ (پایه دوازدهم)

فصل ۱: حرکت بر خط راست



فصل ۲: دینامیک و حرکت دایره‌ای



فصل ۳: نوسان و موج



فصل ۴: برهم‌کنش‌های موج



فصل ۵: آشنایی با فیزیک اتمی



فصل ۶: آشنایی با فیزیک هسته‌ای



## ریاضی‌نامه



## آزمون جامع



# ویژگی‌های فیزیکی مواد


## بسته‌های آموزشی

- |   |                                |
|---|--------------------------------|
| ۱۱. ظرف استوانه‌ای یا مکعبی                             | ۱۴. شناوری و اصل ارشمیدس       |
| ۱۲. نیروی وارد بر کف ظرف از طرف مایع                    | ۱۵. شماره در حرکت و اصل برنولی |
| ۱۳. کاربردهای هم‌فشار بودن نقاط هم‌تراز در یک مایع ساکن |                                |
| ۶. حالت‌های ماده  |                                |
| ۷. نیروهای بین مولکولی                                  |                                |
| ۸. فشار   |                                |
| ۹. فشار در شاره‌ها                                      |                                |
| ۱۰. سانتی‌متر جیوه                                      |                                |

**مشاوره** در این فصل همون اول کار به سری مباحث حفظی داریم که خُب معلومه باید خط به خط حفظشون کنید. در بسته ۹ تست‌های فشار شاره رو جوری بسته‌بندی کردیم که تقریباً همشون به جور حل بشن، پس حتماً این بسته رو با جون و دل بخونید. آخر فصل هم مطالب ساده‌ای داریم که شاید فقط نیروی شناوری یکم در درس‌ساز بشه، البته اصلاً نگران این مباحث نباشید، چون بسته ۱۴، به جدول جمع و جور داره که همه نکاتشو اونجا گفتیم.

تعداد سؤالات در کنکور سراسری ۹۹ داخل: ۳ خارج: ۱

تعداد سؤالات در کنکور سراسری ۱۴۰۰ داخل: ۲ خارج: ۲





## کاربردهای هم‌فشار بودن نقاط هم‌تراز در یک مایع ساکن

۱۳



در تمامی وسیله‌های زیر، نقاط مشخص شده A و B، نقاط هم‌تراز از یک مایع ساکن هستند و در نتیجه هم‌فشارند. از همین نکته استفاده می‌کنیم و روابط این وسیله‌ها را می‌نویسیم:


نام وسیله	شکل	رابطه	توضیحات
لوله U شکل		$P_A = P_B$ $P_0 + \rho_1 g h_1 = P_0 + \rho_2 g h_2$ $\rho_1 h_1 = \rho_2 h_2$	مایعی که ارتفاع بیشتری دارد، چگالی کمتری دارد و مایعی که پایین‌تر قرار گرفته، چگالی بیشتری دارد: $\rho_1 > \rho_2$
جوسنج (بارومتر)		$P_A = P_B$ $P_0 = \rho g h$	میزان بالا آمدن جیوه در لوله، مستقل از سطح مقطع لوله است و اگر فشار در بالای لوله $P' \neq 0$ باشد: $P_0 = P' + \rho g h$
فشارسنج (مانومتر)		$P_A = P_B$ $P = P_0 + \rho g h$	فشار پیمانه‌ای ( $P_g$ ): $P_g = P - P_0 = +\rho g h$ ( $P_g > 0$ )
فشارسنج (مانومتر)		$P_A = P_B$ $P + \rho g h = P_0$ $P = P_0 - \rho g h$	فشار پیمانه‌ای ( $P_g$ ): $P_g = P - P_0 = -\rho g h$ ( $P_g < 0$ )

**نکته:** اعدادی که تمامی انواع فشارسنج‌ها (بارومتر، مانومتر، بوردون و...) نمایش می‌دهند، فشار پیمانه‌ای ( $P_g$ ) است.



## تست

در شکل زیر، آب به صورت پیوسته در لوله جاری است. اگر قطر مقطع بزرگ دو برابر قطر مقطع کوچک باشد، تندی حرکت آب در نقطه A چند برابر تندی آن در نقطه B است؟ (تجربین ۹۸)



۴ (۴)

۲ (۳)

 $\frac{1}{2}$  (۲) $\frac{1}{4}$  (۱)

پاسخ گزینه «۱»

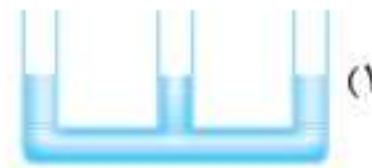
$$\frac{v_A}{v_B} = \left(\frac{D_B}{D_A}\right)^2 = \left(\frac{1}{2}\right)^2 = \frac{1}{4}$$



در شکل مقابل، لوله سه شاخه‌ای که محتوی آب است را مشاهده می‌کنید. جریان هوا را با تندی زیاد از ورودی A وارد مجموعه می‌کنیم. کدام گزینه سطح آب در سه شاخه را به درستی نشان می‌دهد؟



(۲)



(۱)



(۴)



(۳)

پاسخ گزینه «۴» به مسیر عبور جریان هوا دقت کنید. در بالای شاخه سمت راست، کمترین مساحت و بیشترین تندی جریان هوا را داریم؛ در نتیجه فشار در بالای لوله سمت راست کمترین مقدار را دارد و آب در این لوله بیشترین ارتفاع را دارد. همچنین با دقت به شکل متوجه می‌شویم که در بالای شاخه وسطی بیشترین مساحت عبور جریان هوا، کمترین تندی و بیشترین فشار را داریم، در نتیجه آب در شاخه وسط، کمترین ارتفاع را دارد.

تذکر هر چقدر فشار در بالای هر شاخه بیشتر باشد، ارتفاع آب در آن شاخه کمتر است.

## پرسش‌های چهارگزینه‌ای



۱. کدام یک از گزینه‌های زیر درست است؟

(۱) فاصله ذرات سازنده مایع بیشتر از فاصله ذرات سازنده جامد است.

(۲) شیشه و یخ از یک الگوی ثابت تکرار شونده تشکیل شده‌اند.

(۳) افزایش دما و افزودن ناخالصی موجب کاهش نیروی هم‌چسبی مولکول‌های یک مایع می‌شود.

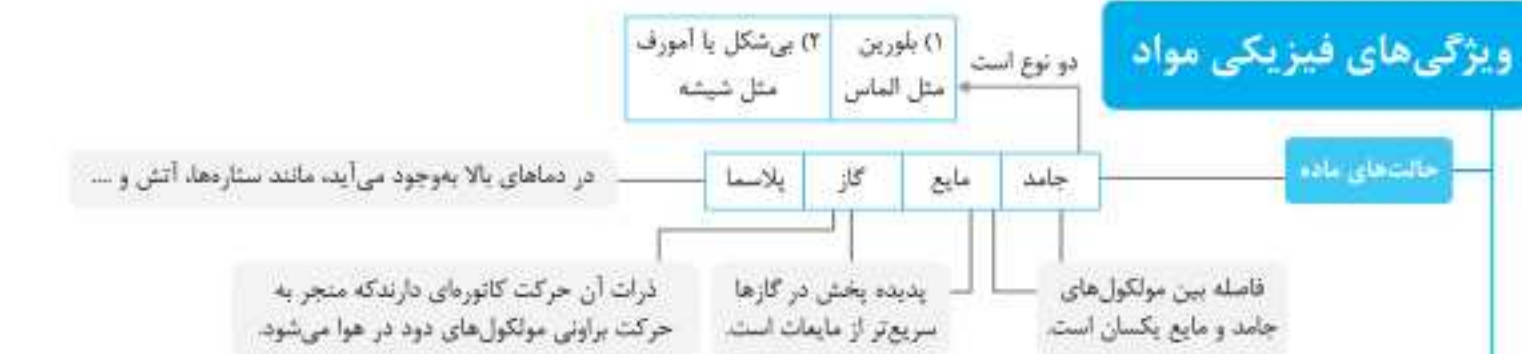
(۴) هر چقدر لوله موئین بیشتر درون ظرف آبی فرو رود، ارتفاع آب درون لوله بیشتر خواهد بود.



# جمع‌بندی



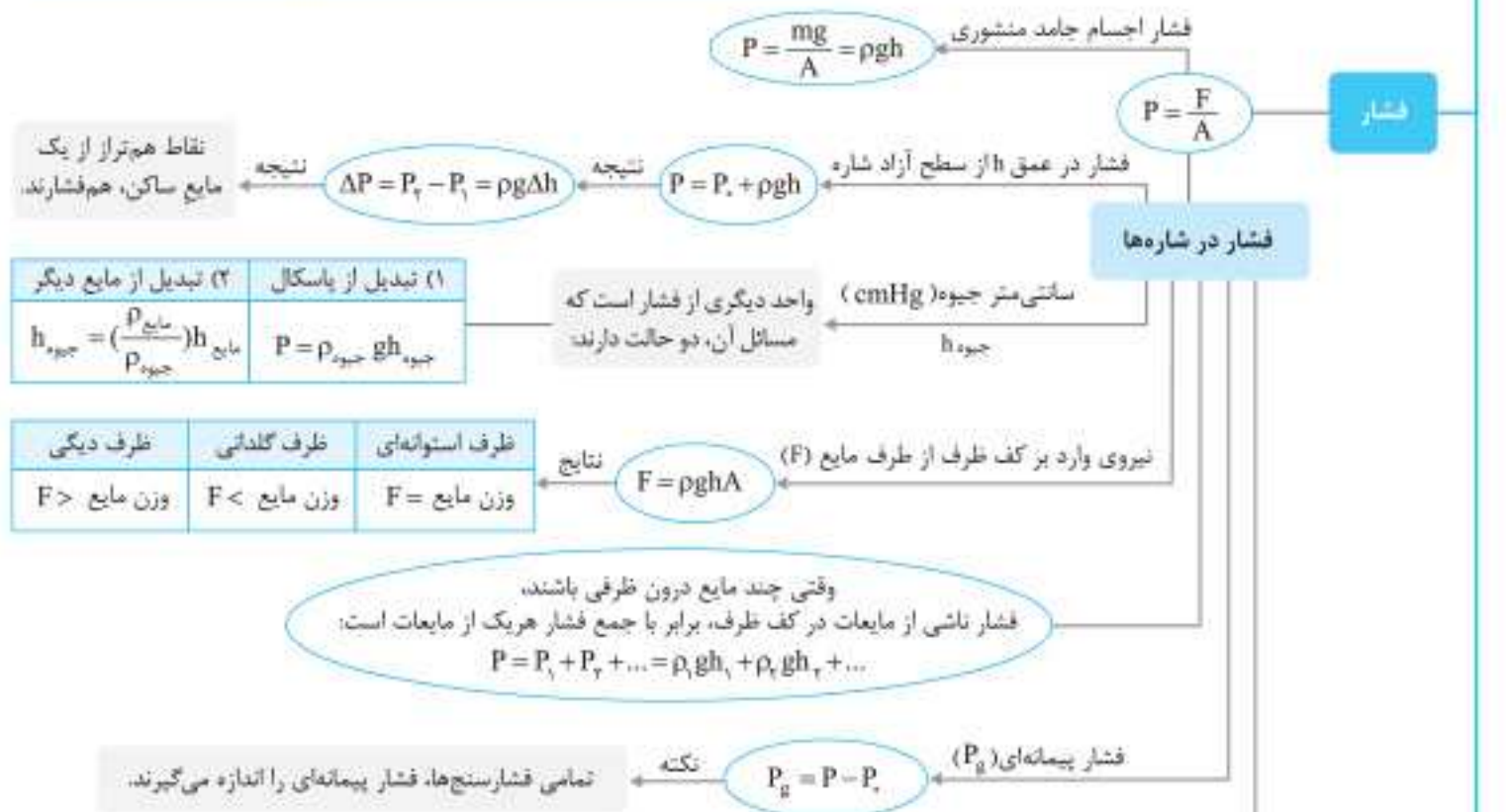
## ویژگی‌های فیزیکی مواد



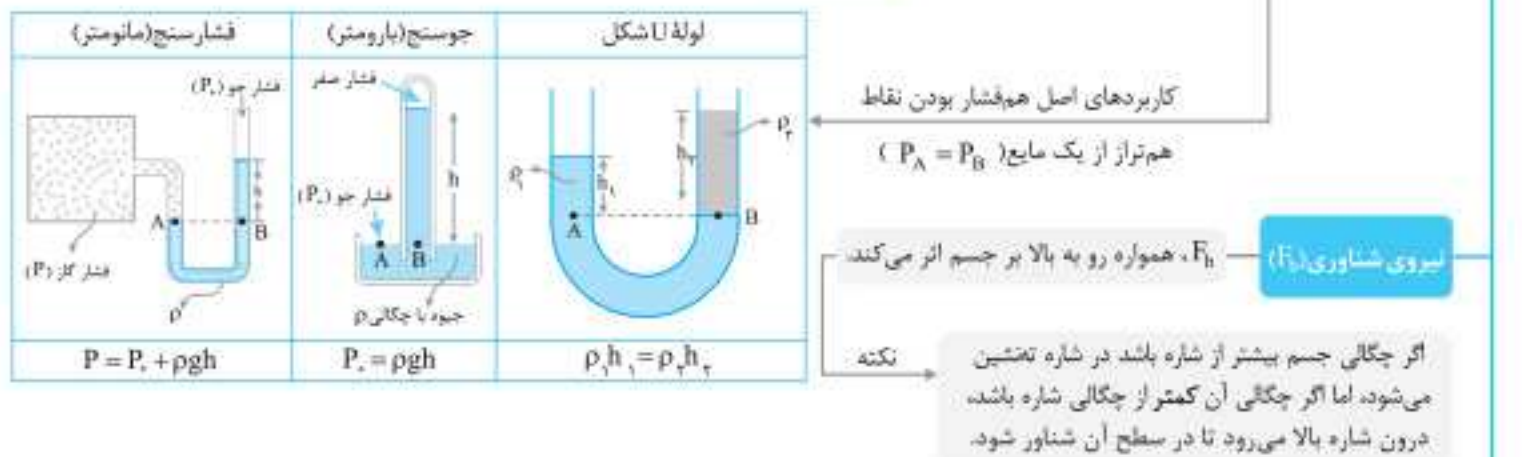
## نیروهای بین مولکولی



## فشار



## نیروی شناوری (۱)



## شاره در حرکت



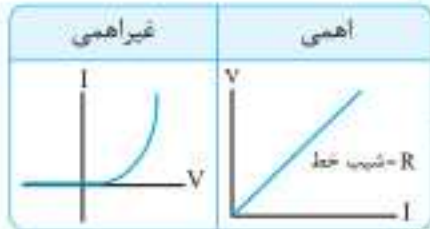


# جمع‌بندی



## جریان الکتریکی و مدارهای جریان مستقیم

آمپر ساعت  $1Ah = 3600 \cdot C$  جریان الکتریکی  $I = \frac{\Delta q}{\Delta t}$



**اهمی**  
مقاومت با تغییر ولتاژ و جریان ثابت می‌ماند.

**غیراهمی**  
مقاومت با تغییر ولتاژ و جریان تغییر می‌کند.

تعریف  $R = \frac{V}{I}$

(۱) مقاومت ویژه رساناهای فلزی، با افزایش دما، افزایش می‌یابد.  
(۲) مقاومت ویژه نیم رساناها، با افزایش دما، کاهش می‌یابد.

نحوه تغییر مقاومت ویژه  $(\rho)$  با دما

$\frac{R_2}{R_1} = \left(\frac{L_2}{L_1}\right)^2 = \left(\frac{A_1}{A_2}\right)^2 = \left(\frac{d_1}{d_2}\right)^2$

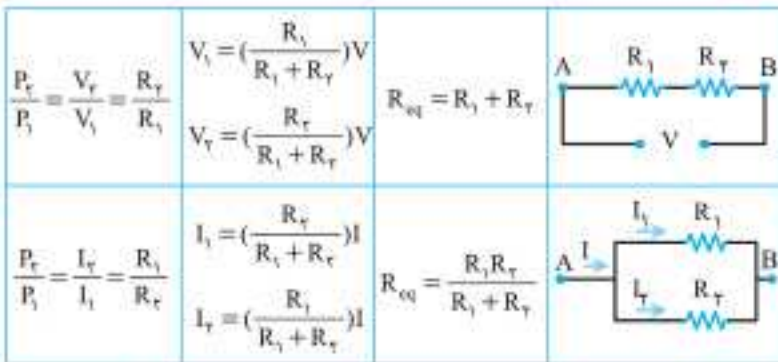
اگر بدون تغییر جرم ابعاد رسانا را تغییر دهیم

مقاومت رسانا بر حسب ابعاد  $R = \rho \frac{L}{A}$



رنوستا یا پتانسیومتر

اگر دو سر A و C به مدار باشد، مقاومت آن ثابت است.  
اگر دو سر A و B در مدار باشد، با حرکت لغزنده مقاومت رنوستا تغییر می‌کند.



به هم بستن مقاومت‌ها

مقاومت سری  $R_{eq} = R_1 + R_2 + \dots$

مقاومت موازی  $\frac{1}{R_{eq}} = \frac{1}{R_1} + \frac{1}{R_2} + \dots$

نکته خاص

\* مقاومت‌ها به هر شکلی که به هم متصل شده باشند، با افزایش یکی از مقاومت‌ها، مقاومت معادل افزایش می‌یابد.  
\* اگر یک مقاومت به صورت موازی به مجموعه‌ی مقاومت‌ها افزوده شود، مقاومت معادل کاهش می‌یابد.  
\* اگر یک مقاومت به صورت سری به مجموعه‌ی مقاومت‌ها افزوده شود، مقاومت معادل افزایش می‌یابد.

حالت خاص

اگر  $n$  مقاومت مشابه  $R$  سری باشند  $R_{eq} = nR$

اگر  $n$  مقاومت مشابه  $R$  موازی باشند  $R_{eq} = \frac{R}{n}$

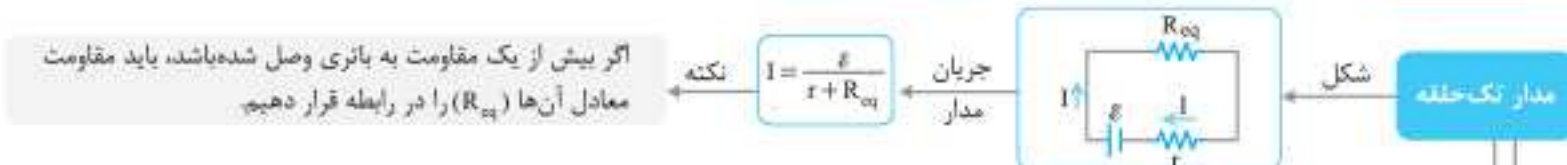


وسایل اندازه‌گیری

(۱) آمپرسنج ایده‌آل  $R_A = 0$

(۲) ولتسنج ایده‌آل  $R_V = \infty$

نکات: \* اگر آمپرسنج موازی با مقاومت بسته شود، مقاومت اتصال کوتاه می‌شود.  
\* جریان در شاخه‌ی ولتسنج صفر است.



اتصال کوتاه

۱- مقاومت

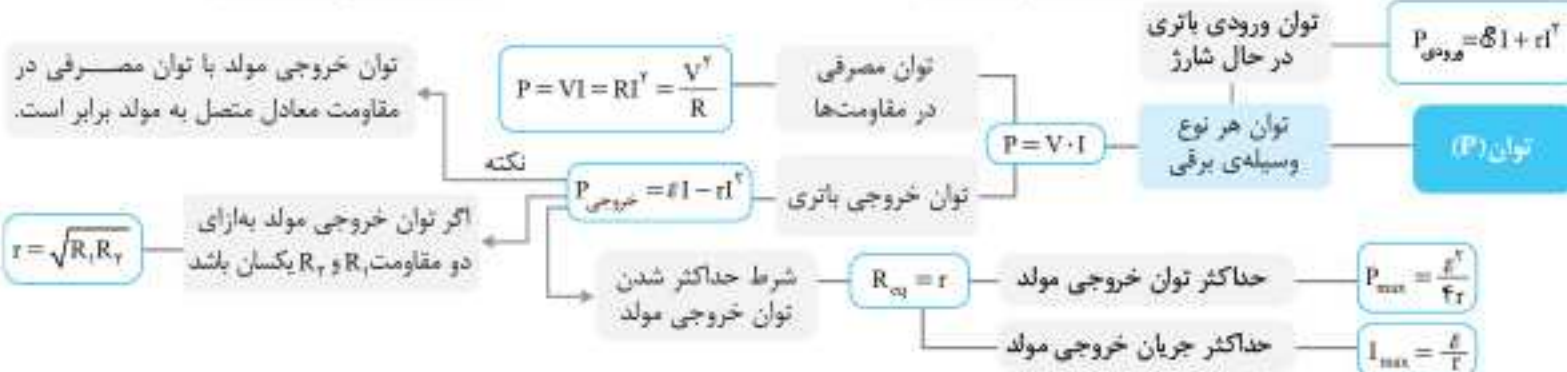
۲- باتری ایده‌آل

در جهت جریان  $-IR$

حذف جهت جریان  $+IR$

از قطب مثبت به منفی  $\varepsilon$

از قطب منفی به مثبت  $\varepsilon$



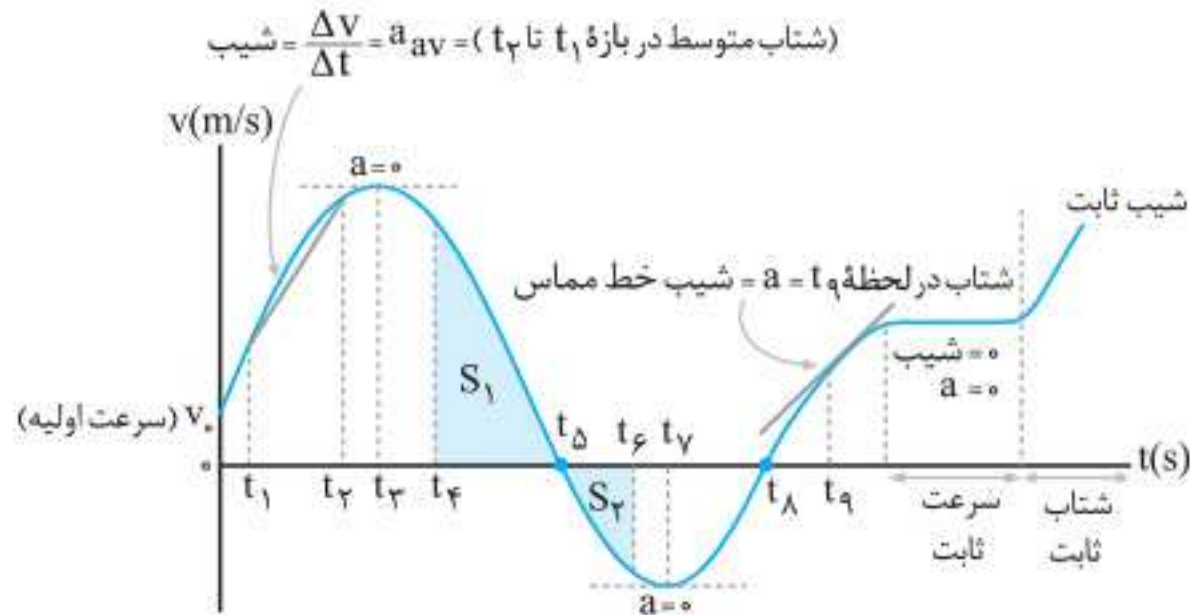


## نمودار سرعت - زمان

۱۰۲



به عنوان مثال نمودار سرعت - زمان شکل زیر را در نظر بگیرید:



- ۱ در لحظاتی که سرعت مثبت است، متحرک در جهت محور  $x$  حرکت می کند (صفر تا  $t_5$  و  $t_8$  تا  $\infty$ ) و در لحظاتی که سرعت منفی است، متحرک در خلاف جهت محور  $x$  حرکت می کند ( $t_8$  تا  $t_5$ ).
- ۲ شتاب متوسط متحرک، بین دو لحظه دلخواه، برابر با شیب خطی است که نمودار سرعت - زمان را در آن دو لحظه قطع می کند. مثلاً شتاب متوسط بین دو لحظه  $t_1$  و  $t_2$  برابر با شیب خط واصل بین این دو نقطه است.

$$\text{شیب خط واصل بین دو نقطه} = \frac{\Delta v}{\Delta t} = a_{av}$$

- ۳ شتاب در لحظه دلخواه  $t$ ، برابر با شیب خط مماس بر نمودار سرعت - زمان در آن لحظه است. مثلاً به لحظه  $t_9$  (در نمودار بالا) نگاه کنید.
  - در هر بازه زمانی ای که نمودار سرعت - زمان، صعودی باشد (شیب مثبت)، شتاب مثبت است و در هر بازه ای که نمودار سرعت - زمان، نزولی باشد (شیب منفی)، شتاب منفی است.
  - در زمان هایی که نمودار سرعت - زمان، خطی باشد، شیب خط ثابت و در نتیجه شتاب، ثابت است.
- ۴ در لحظاتی که نمودار، محور  $t$  را قطع می کند، سرعت صفر شده و تغییر علامت می دهد (دقت کنید که قطع کند نه اینکه مماس شود)، بنابراین در این لحظات متحرک تغییر جهت داده است. مانند لحظه های  $t_5$  و  $t_8$  روی نمودار.
- ۵ در نقاط قله و قعر نمودار (بیشینه و کمینه)، خط مماس افقی و شیب آن صفر است؛ در نتیجه شتاب در این لحظات صفر است. در این لحظات شتاب و نیروی وارد بر متحرک تغییر جهت می دهند. مانند لحظات  $t_3$  و  $t_7$  روی نمودار.

- ۶ مساحت محصور بین نمودار و محور  $t$  برابر با جابه جایی است. اگر سرعت مثبت باشد، این جابه جایی مثبت و اگر سرعت منفی باشد، این جابه جایی منفی است. به عنوان مثال جابه جایی از  $t_4$  تا  $t_5$  برابر با  $\Delta x_1 = S_1$  و از  $t_5$  تا  $t_6$  برابر با  $\Delta x_2 = -S_2$  است؛ بنابراین:

$$\Delta x = \Delta x_1 + \Delta x_2 = S_1 - S_2$$

- برای به دست آوردن مسافت فقط کافی است مساحت ها را با علامت مثبت با هم جمع کنیم:

$$l = S_1 + S_2 = \text{مسافت از } t_4 \text{ تا } t_6$$



## تست

سیملوله‌ای به طول ۶۰ سانتی‌متر، دارای ۲۰۰ حلقه است و از آن جریان ۵A عبور می‌کند.

میدان مغناطیسی درون سیملوله چند تسلا است؟ ( $\mu_0 = 12 \times 10^{-7} \text{ T} \cdot \text{m/A}$ ) (تجربین ۹۸)

(۱)  $2 \times 10^{-1}$  (۲)  $2 \times 10^{-3}$  (۳)  $1/2 \times 10^{-1}$  (۴)  $1/2 \times 10^{-3}$

پاسخ گزینه «۲» با استفاده از رابطه  $B = \frac{\mu_0 NI}{l}$  داریم:

$$B = \frac{\mu_0 NI}{l} \Rightarrow B = \frac{12 \times 10^{-7} \times 200 \times 5}{0.6} = 2 \times 10^{-3} \text{ T}$$

## مواد مغناطیسی

۸۹



## مواد پارامغناطیسی

- این مواد ذاتاً دارای دو قطبی مغناطیسی بوده اما حوزه مغناطیسی ندارند.
  - جهت‌گیری دو قطبی‌ها به صورت کاتوره‌ای است و جسم خاصیت مغناطیسی ندارد، اما با اعمال یک میدان مغناطیسی خارجی قوی، تعدادی از دو قطبی‌ها در جهت میدان جهت‌گیری کرده و خاصیت مغناطیسی ضعیفی ایجاد می‌شود.
  - پس از حذف میدان مغناطیسی خارجی قوی، خاصیت مغناطیسی از بین می‌رود.
- مثال: اورانیم، پلاتین، آلومینیم، سدیم، اکسیژن، اکسید نیتروژن.

## مواد دیامغناطیسی

- دو قطبی مغناطیسی ذاتی ندارند.
  - میدان مغناطیسی خارجی قوی می‌تواند تنها سبب القای دو قطبی‌های مغناطیسی در خلاف سوی میدان خارجی شود.
- مثال: مس، نقره، سرب و بیسموت.

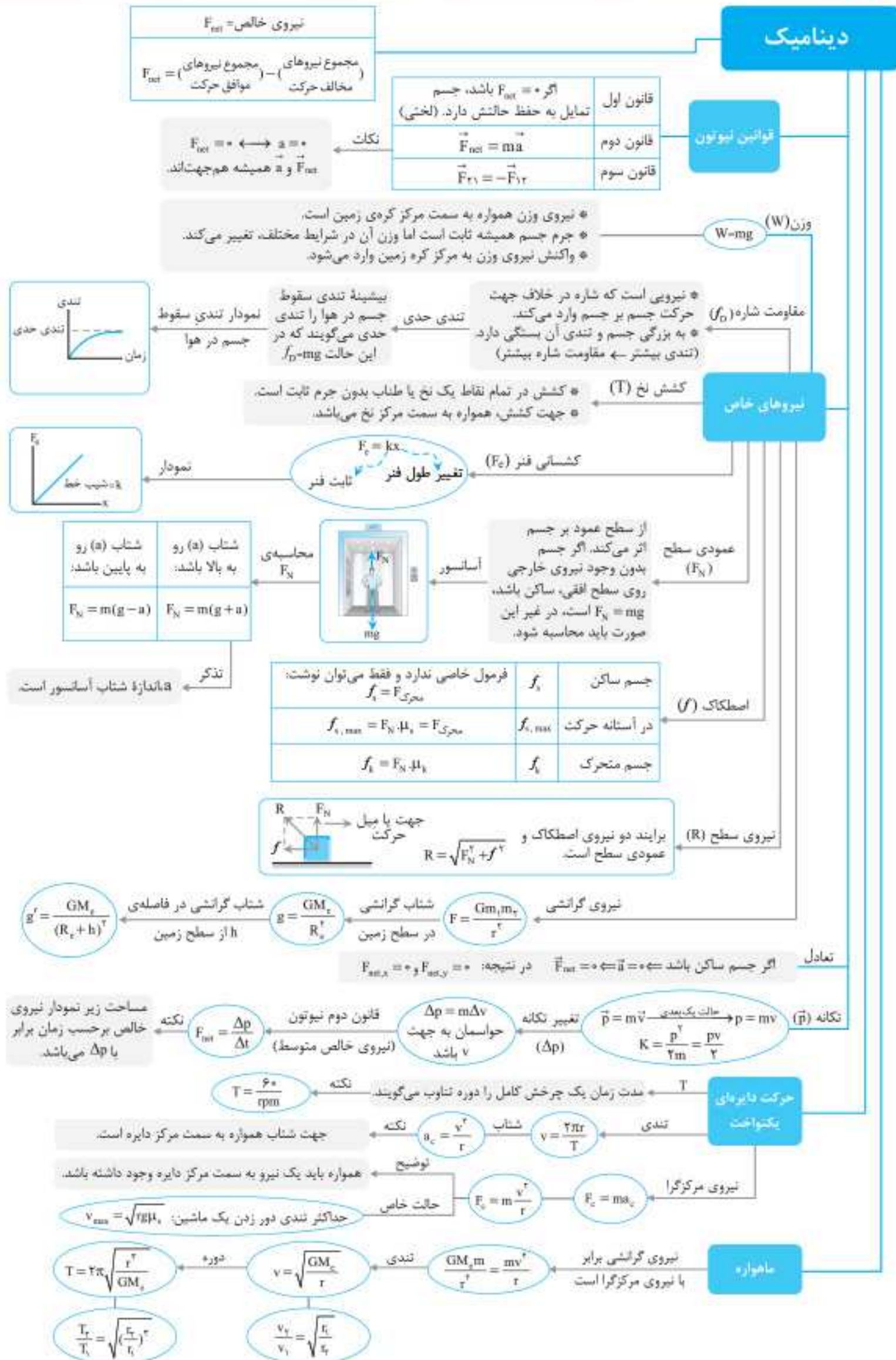
## مواد فرومغناطیسی

نوع ماده فرومغناطیسی	نرم	سخت
دو قطبی مغناطیسی ذاتی	دارد	دارد
حوزه مغناطیسی	دارد	دارد
خاصیت مغناطیسی قبل از قرار گرفتن در میدان مغناطیسی خارجی	دو قطبی‌ها در حوزه‌های کوچک مغناطیسی هم‌جهت هستند، اما به دلیل نامنظم بودن جهت‌گیری‌ها، خاصیت مغناطیسی ندارند.	
شدت میدان مغناطیسی مورد نیاز برای ایجاد خاصیت مغناطیسی	ضعیف	قوی
تأثیر ایجاد میدان مغناطیسی خارجی	حجم حوزه‌ها به سهولت تغییر می‌کند.	حجم حوزه‌ها به سختی تغییر می‌کند.
	وسعت حوزه‌های هم‌جهت با میدان افزایش می‌یابد.	وسعت حوزه‌های هم‌جهت با میدان خارجی، افزایش می‌یابد.
	ماده به سادگی آهنربا می‌شود.	ماده به سختی آهنربا می‌شود.



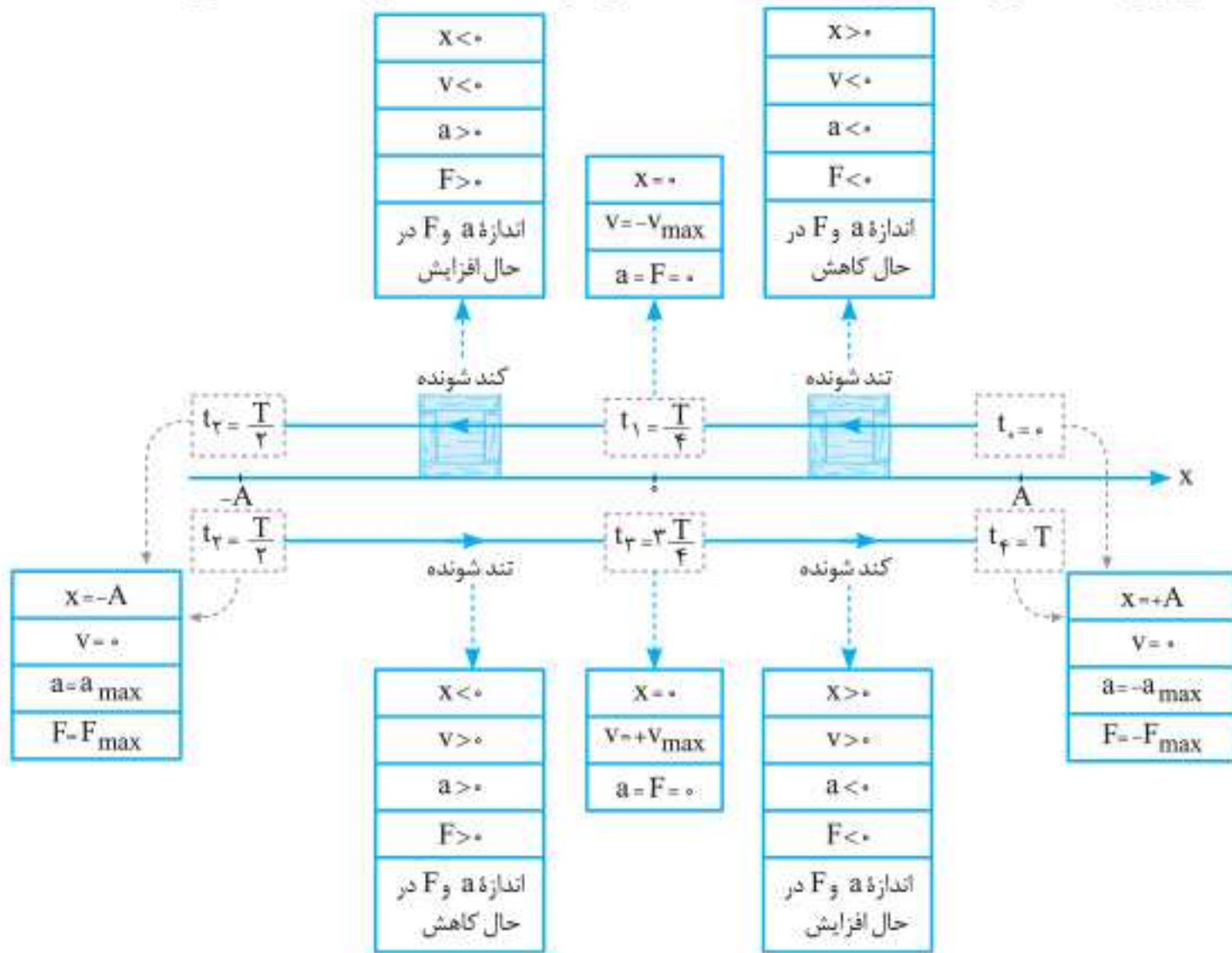


# جمع‌بندک





در شکل زیر نکات مربوط به حرکت هماهنگ ساده را در مدت یک دوره، مشاهده می کنید.



**تست**

نوسانگر ساده‌ای روی پاره‌خطی به طول ۴ سانتی‌متر نوسان می‌کند و در هر ثانیه یک‌بار طول این پاره‌خط را طی می‌کند. بیشینه سرعت این نوسانگر چند سانتی‌متر بر ثانیه است؟ (تجربین ۹۸)

- ۱)  $2\pi$  / ۰      ۲)  $4\pi$  / ۰      ۳)  $2\pi$       ۴)  $4\pi$

**پاسخ گزینه ۳**

$$MN = 2A \Rightarrow 4 = 2A \Rightarrow A = 2\text{cm}$$

نوسانگر در هر نوسان کامل دوبار پاره‌خط نوسان را طی می‌کند. بنابراین وقتی یک‌بار پاره‌خط نوسان را طی می‌کند، یعنی

نصف یک نوسان کامل را انجام می‌دهد و مدت زمان این حرکت برابر با  $\frac{T}{2}$  است:

$$\frac{T}{2} = 1\text{s} \Rightarrow T = 2\text{s}$$

$$v_{\max} = A\omega \xrightarrow{\omega = \frac{2\pi}{T}} v_{\max} = A\left(\frac{2\pi}{T}\right) = 2 \times \frac{2\pi}{2} = 2\pi \text{ cm/s}$$

گلوله‌ای که به فنری متصل است، در سطح افقی بدون اصطکاکی بین دو نقطه M و N نوسان می‌کند و

در هر  $0.4$  ثانیه، ۲ نوسان کامل انجام می‌دهد. اگر بیشینه شتاب نوسانگر  $20 \text{ m/s}^2$  باشد، فاصله MN چند سانتی‌متر است؟ ( $\pi^2 \simeq 10$ ) (تجربین خارج ۹۵)

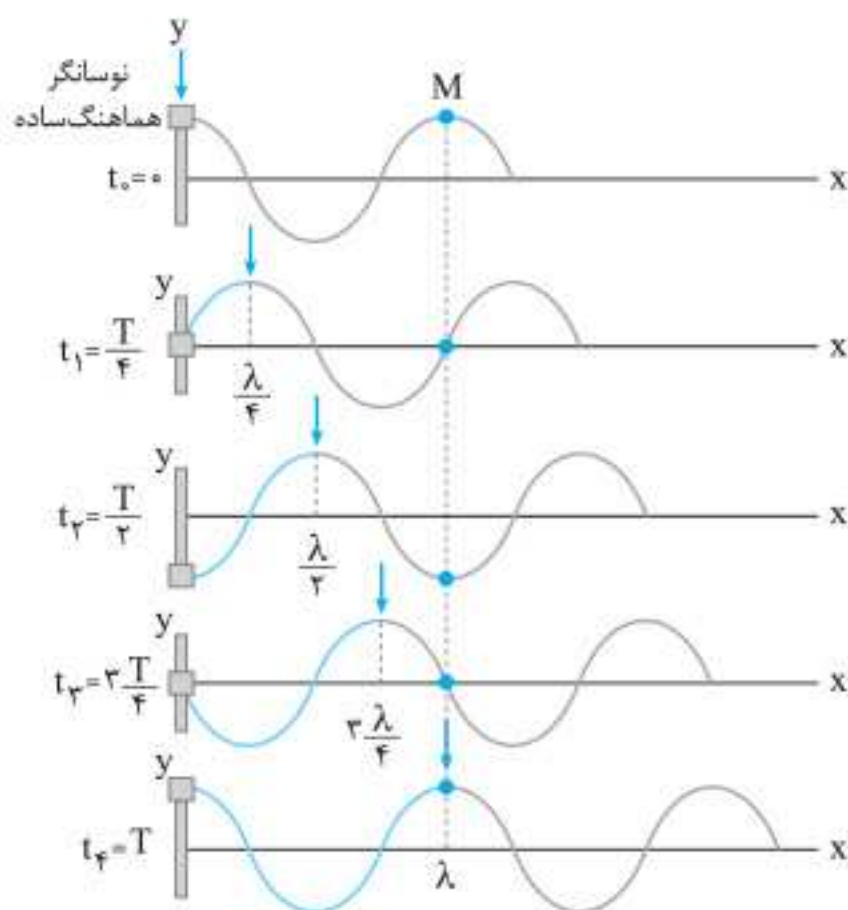
- ۱) ۲      ۲)  $2\sqrt{10}$       ۳) ۴      ۴)  $4\sqrt{10}$

**پاسخ گزینه ۳**

$$\omega = \frac{2\pi}{T} \xrightarrow{T = \frac{t}{n}} \omega = \frac{2\pi}{\frac{t}{n}} = \frac{n \times 2\pi}{t} \xrightarrow{n=2, t=0.4\text{s}} \omega = \frac{2 \times 2\pi}{0.4} = 10\pi \text{ rad/s}$$



## نوسان و موج



۳ مطابق شکل در مدت زمان  $T$  (دوره تناوب)، دو اتفاق مهم می افتد:

الف) موج به اندازه یک طول موج  $(\lambda)$  پیشروی می کند.  
ب) هر ذره از محیط انتشار موج (طناب) یک نوسان کامل انجام می دهد. (به عنوان مثال به حرکت ذره  $M$  دقت کنید).

۴ هر ذره از محیط انتشار موج در مدت زمان  $T$ ، مسافت  $4A$  و در مدت زمان  $\frac{T}{2}$ ، مسافت  $2A$  را طی می کند.

۵ دو نقطه از محیط انتشار موج که فاصله آنها مضرب صحیحی از طول موج است  $(\Delta x = n\lambda)$ ، وضعیت نوسانی کاملاً مشابهی دارند.

۶ پیشروی موج  $(\Delta x)$  در مدت زمان  $\Delta t$  را از رابطه  $\frac{\Delta x}{\lambda} = \frac{\Delta t}{T}$  محاسبه می کنیم.

۷ از آنجایی که هر ذره از محیط انتشار موج در حال انجام حرکت هماهنگ ساده است، تندی آن متغیر است. هنگامی که هر ذره در وضعیت قله یا دره قرار می گیرد، تندی آن صفر شده و تغییر جهت می دهد. همچنین در لحظه ای که ذره در حال عبور از مرکز نوسان (نقطه تعادل) است، تندی آن بیشینه می شود و از رابطه زیر به دست می آید:

$$v_{\max} = A\omega \quad \omega = 2\pi f \quad v_{\max} = A(2\pi f)$$

بسامد زاویه ای (rad / s)  $\uparrow$   
دامنه موج (m)  $\downarrow$   
تندی بیشینه هر ذره (m / s)  $\leftarrow$

## تعیین جهت حرکت ذرات محیط انتشار موج

جهت حرکت ذرات محیط	توضیحات	جهت حرکت موج
	آشفتگی ها از سمت چپ به راست حرکت می کنند و هر ذره از طناب با گذشت زمان، وضعیتی مشابه با نقاط سمت چپ را خواهد داشت.	در جهت محور $x$
	آشفتگی ها از سمت راست به چپ حرکت می کنند و هر ذره از طناب با گذشت زمان، وضعیتی مشابه با نقاط سمت راست را خواهد داشت.	در خلاف جهت محور $x$



## نکته‌ها:

- ۱ تشکیل طیف پیوسته در جامدات و مایعات ملتهب، ناشی از برهم‌کنش قوی بین اتم‌های سازنده آن‌هاست. در حالی که این برهم‌کنش‌ها در گازها وجود ندارد و طیف آن‌ها خطی است.
- ۲ اتم‌های هر گاز دقیقاً همان طول موج‌هایی را جذب می‌کنند که هنگام برانگیختگی آن‌ها را تابش می‌کنند.
- ۳ طیف گسیلی خطی و طیف جذبی خطی برای اتم‌های گاز هر عنصر منحصر به فرد است (طول موج‌های معینی در این طیف‌ها وجود دارد) و می‌توان از آن برای تشخیص نوع گاز استفاده کرد.
- ۴ طیف خورشید یک طیف جذبی خطی است و خطوط تاریک مشاهده شده در آن که به خطوط فرانهوفر معروف‌اند، مربوط به طول موج‌هایی از نور گسیلی خورشید هستند که توسط گازهای جو خورشید و زمین جذب شده‌اند.
- ۵ شدت نور خط‌ها در طیف گسیلی خطی یکسان نیست!



## معادله ریذبرگ برای طول موج‌های گسیلی اتم هیدروژن

۱۷۰



هنگامی که یک الکترون از تراز  $n_U$  با انرژی بالاتر ( $E_U$ ) به تراز  $n_L$  با انرژی پایین‌تر ( $E_L$ ) گذار کند، فوتونی با بسامد  $f$  و طول موج  $\lambda$  گسیل می‌کند. برای به دست آوردن طول موج فوتون گسیل شده داریم:

(ثابت ریذبرگ  $R \simeq 0.01 \text{ nm}^{-1}$ )

$$\frac{1}{\lambda} = R \left( \frac{1}{n_L^2} - \frac{1}{n_U^2} \right) \quad \text{یا} \quad \frac{1}{\lambda} = R \left( \frac{1}{n_U^2} - \frac{1}{n_L^2} \right)$$

(طول موج nm)

$n' = n_L$ : شماره تراز مدار با انرژی پایین‌تر (مدار مقصد)

$n = n_U$ : شماره تراز مدار با انرژی بالاتر (مدار مبدأ)

## رشته خط‌های طیف گسیلی هیدروژن

در رابطه ریذبرگ، براساس شماره مدار مقصد ( $n'$ )، یک رشته از خطوط در طیف گسیلی هیدروژن اتمی به دست می‌آید. این رشته‌ها به ازای مقادیر متفاوت  $n'$  در جدول زیر درج شده‌اند:

نام رشته	مقدار $n'$	رابطه ریذبرگ	مقدارهای $n$	ناحیه طیف
لیمان	۱	$\frac{1}{\lambda} = R \left( \frac{1}{1^2} - \frac{1}{n^2} \right)$	۲, ۳, ۴, ...	فرابنفش
بالمر	۲	$\frac{1}{\lambda} = R \left( \frac{1}{2^2} - \frac{1}{n^2} \right)$	۳, ۴, ۵, ...	فرابنفش و مرئی
پاشن	۳	$\frac{1}{\lambda} = R \left( \frac{1}{3^2} - \frac{1}{n^2} \right)$	۴, ۵, ۶, ...	فروسرخ
براکت	۴	$\frac{1}{\lambda} = R \left( \frac{1}{4^2} - \frac{1}{n^2} \right)$	۵, ۶, ۷, ...	فروسرخ
پفوند	۵	$\frac{1}{\lambda} = R \left( \frac{1}{5^2} - \frac{1}{n^2} \right)$	۶, ۷, ۸, ...	فروسرخ

T و  $\lambda$  افزایش،  $E$  و  $f$  کاهش



## تست

در هسته پایدار، مجموع جرم نوکلئون‌های تشکیل دهنده هسته:

(تجربی خارج ۹۱)

- (۱) مساوی جرم هسته است.
  - (۲) مساوی جرم تبدیل شده به انرژی بستگی هسته است.
  - (۳) بزرگ‌تر از جرم هسته است.
  - (۴) کوچک‌تر از جرم تبدیل شده به انرژی بستگی هسته است.
- پاسخ** گزینه «۳» همواره مجموع جرم نوکلئون‌های تشکیل دهنده هسته از جرم هسته بزرگ‌تر است؛ زیرا در هنگام تشکیل هسته، بخشی از جرم نوکلئون‌ها به صورت انرژی آزاد می‌شود.

هر چه مجموع جرم نوترون‌ها و پروتون‌های هسته یک اتم از جرم آن هسته بیشتر باشد، انرژی بستگی

(ریاضی ۸۸)

هسته \_\_\_\_\_ است و آن هسته \_\_\_\_\_ است.

- (۱) بیشتر - پایدارتر
- (۲) کمتر - پایدارتر
- (۳) کمتر - ناپایدارتر
- (۴) بیشتر - ناپایدارتر

**پاسخ** گزینه «۱» با توجه به تعریف انرژی بستگی، هر چه مجموع جرم نوترون‌ها و پروتون‌های هسته اتم از جرم هسته آن بیشتر باشد، انرژی بستگی هسته بیشتر است؛ در نتیجه برای جداسازی اجزای چنین هسته‌هایی باید انرژی بیشتری مصرف نمود. بنابراین این هسته‌ها پایدارتر هستند.



## پرتوزایی طبیعی

۱۷۸

در پرتوزایی طبیعی سه نوع پرتو می‌تواند ایجاد شود: پرتوی آلفا ( $\alpha$ )، پرتوی بتا ( $\beta$ ) و پرتوی گاما ( $\gamma$ )

نوع پرتو	تعداد نوکلئون‌ها	بار بر حسب بار پایه	میزان نفوذ در سرب	نکته خاص
آلفا ( $\alpha$ )	۴	+۲	۰/۰۱ mm	پرتوی $\alpha$ ، هسته هلیوم ( ${}^4_2\text{He}$ ) است و در آشکارساز دود کاربرد دارد.
بتای منفی ( $\beta^-$ )	۰	-۱	۰/۱ mm	$\beta^-$ همان الکترون ( ${}^0_{-1}e^-$ ) است.
بتای مثبت ( $\beta^+$ )	۰	+۱	۰/۱ mm	$\beta^+$ ، پوزیترون ( ${}^0_{+1}e^+$ ) است.
گاما ( $\gamma$ )	۰	۰	۱۰۰ mm	بیشترین قدرت نفوذ در سرب را دارد.

# آزمون جامع

حالا که تمام کتاب را خوانده‌اید، می‌توانید با آخرین کنکور برگزار شده (آزمون سراسری داخل ۱۴۰۰) خودتان را محک بزنید فراموش نکنید که ۵۵ دقیقه وقت دارید.

(بودجه‌بندی تست‌های فیزیک آزمون سراسری ریاضی ۱۴۰۰)

عنوان کتاب	تعداد تست	درصد از کل
فیزیک ۱	۱۰	۲۲/۲٪
فیزیک ۲	۱۴	۳۱/۱٪
فیزیک ۳	۲۱	۴۶/۷٪

