

## مقدمه ناشر

به نام خدا

بدون شک مارادونا اسطوره فوتبال جهان!

جادوگری که از وسط زمین شروع به دریبل زدن بازیکن می‌کنه، سریعاً نزدیک و نزدیک دروازه می‌شه و ... **gooooooooal!**

حالا برای این که مارادونای کنکور تون باشین، یه سری کتاب جیبی براتون تألیف کردیم به اسم نکته‌باز!

در فرایند تألیف کتابای نکته‌باز، هوشمندانه عمل کردیم، این طوری که نکات کاملاً ضروری کنکور و استراتژی‌های لازم برای حل سؤالات رو، یک جا براتون آوردیم. علاوه بر همه این‌ها، شما با انتخاب نکته‌باز، می‌تونین در سریع‌ترین زمان ممکن مطالب رو جمع‌بندی کنین، چون تو این کتابا همه مطالب کنکور به صورت نکته‌محور دسته‌بندی شدن.

در پایان جا داره یه تشکر ویژه کنیم از تیم تألیف و تولید خیلی سبز که بدون زحماتشون، بدون شک کتابای به این خوبی نداشتیم ...!

مارادونای زندگی‌ت باش ...

## مقدمه مؤلف

سلام به همه آینده‌سازان این مرز و بوم

ماهیت علم شیمی طوریه که برای هر فصل کتاب درسی می‌شه یک کتاب 11 صفحه‌ای نوشت و جلوه‌های مختلفی از اون رو به تصویر کشید، اما چالش اصلی پروژه شیمی «نکته‌باز» این بود که مهم‌ترین مطالب و سرفصل‌های کتاب درسی در قالب نکته (با شمارگان ۴۱۰ تا)، در عین نغزبودن مطالب، کامل و آماده شه و به دستای شما برسه.

در ابتدای شروع پروژه، سخت به نظر می‌رسید، اما شد، آن‌چه که باید می‌شد. یک لقمه آماده، فقط قورت‌دادنش با شما 😊.

پیوستگی و چینش مناسب مطالب این کتاب در قالب دسته‌بندی‌ها، نمودارها و جدول‌ها، یک پنجره جدید از مطالبی که شاید تا حالا بارها خونده باشین، روبه‌روی شما باز می‌کنه تا کمکتون کنه چهارچوب کلی مطالب اصلی رو بهتر به خاطر بسپارید و تثبیت کنید.

۴۱۰ نکته طوری کنار هم چیده شدن تا هم‌زمان با پوشش مطالب اصلی، یک نقشه راه مناسب برای چینش صحیح مطالب شیمیایی (!) در ذهن‌های آماده شما باشن تا علاوه بر زدن یک مهر تأیید بر دانسته‌هاتون، یک مرور سریع از کل مطالب رو هم داشته باشین.

در ادامه، مراتب تشکر و قدردانی خودمو به عزیزانی که منو در مسیر به سرانجام رسیدن این کتاب همراهی کردن، ابراز می‌کنم.

در ابتدا مدیریت محترم انتشارات ، دکتر کمیل نصری بابت فراهم‌نمودن بستر مناسب

استاد یاسر عبداللّهی که نظرات کارشناسانه و حرفه‌ای ایشان، همواره در مراحل مختلف تألیف در ذهنم مرور می‌شد.


سرکار خانم سعیدی که نظرات کارشناسانه و دلسوزانه ایشان، بسیار ارزنده، مفید و در پخته‌ترشدن مطالب کتاب مؤثر بود.

آقای احسان حسینیان، مدیر پروژه و آقایان کیوان صارمی و پیام ابراهیم‌نژاد که اگر همت، پیگیری و راهنمایی‌های این عزیزان نبود، مطمئناً چاپ کتاب در این مدت‌زمان ممکن نبود.

در نهایت، یک تشکر ویژه از تیم تولید خیلی‌سبز که با هنرمندی و صبوری، در انجام هر چه بهتر کارها اهتمام ورزیدند.

در انتها از پیشنهادات، انتقادات، نظرات و ... همکاران، دبیران و مشاوران ارجمند و همه دانش‌آموزان خواننده «شیمی نکته‌باز»، کمال استقبال را دارم.

راه‌های ارتباطی:

 Yaserrash1376@gmail.com

 Yaser\_rash

## فهرست مطالب

### دهم

- فصل اول: کیهان، زادگاه الفبای هستی ..... ۹
- فصل دوم: ردپای گازها در زندگی ..... ۳۶
- فصل سوم: آب، آهنگ زندگی ..... ۶۴

### یازدهم

- فصل اول: قدر هدایای زمین را بدانیم ..... ۹۸
- فصل دوم: در پی غذای سالم ..... ۱۳۴
- فصل سوم: پوشاک، نیازی پایان‌ناپذیر ..... ۱۸۴

### دوازدهم

- فصل اول: مولکول‌ها در خدمت تندرستی ..... ۲۰۹
- فصل دوم: آسایش و رفاه در سایه شیمی ..... ۲۳۲
- فصل سوم: شیمی جلوه‌ای از هنر، زیبایی و ماندگاری .... ۲۷۰
- فصل چهارم: شیمی راهی به سوی آینده‌ای روشن‌تر ..... ۲۹۶



سالم  
روم



## فصل اول

# کیهان زادگاه الفبای هستی

### کیهان شناسی

۱

پرسش‌های بنیادی که ذهن انسان را همواره به خود مشغول ساخته: **۱** هستی چگونه پدید آمده است؟ (پاسخ به این پرسش در قلمرو علم تجربی نمی‌گنجد).

**۲** جهان کنونی چگونه شکل گرفته است؟ **۳** پاسخ به این دو سؤال در پدیده‌های طبیعی چگونه و چرا رخ می‌دهند؟ **۴** قلمرو علم تجربی می‌گنجد.

### ووچراو۲

۲

• **مأموریت این دو فضاپیما، تهیه و ارسال شناسنامه فیزیکی و شیمیایی از چهار سیاره گازی زحل، اورانوس، مشتری و نپتون بود.**

نوع عنصرهای سازنده } اطلاعات شناسنامه‌های  
ترکیب‌های شیمیایی در اتمسفر آن‌ها } ارسالی  
ترکیب درصد مواد سازنده آن‌ها }

### بررسی عنصرهای سازنده زمین و مشتری

۳

۵۰٪ < فراوانی

عنصرهای مشترک

بین دو سیاره



ترتیب فراوانی عنصرهای فراوان زمین:  $Fe > O > Si > Mg > Ni > S > Ca > Al$

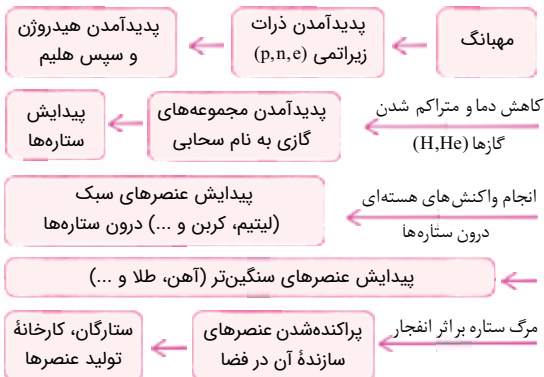
ترتیب فراوانی عنصرهای فراوان مشتری:  $H > He > C > O > N > S > Ar > Ne$

حدود ۹۰٪

- مقایسه نوع و فراوانی عنصرها در دو سیاره زمین و مشتری نشان دهنده توزیع ناهمگون عنصرها در جهان هستی است.

## چگونگی پیدایش عنصرها

۴



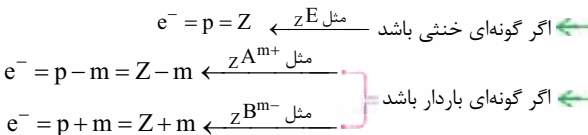
- واکنش هسته‌ای درون خورشید (نزدیک‌ترین ستاره به زمین) ← تبدیل عنصر هیدروژن به عنصر هلیوم

## عدد اتمی (Z) و عدد جرمی (A)

۵

در عنصری با نماد فرضی  ${}^A_Z E$ :  
 $Z =$  شمار پروتون‌های هسته اتم  
 $A =$  مجموع شمار پروتون‌ها و نوترون‌ها در هسته اتم  
 $(p + n)$

تعیین شمار الکترون‌ها در گونه‌های مختلف





۱ در گونه‌های خنثی:  $Z = \frac{A - (\text{اختلاف شمار پروتون و نوترون})}{۲}$

۲ در گونه‌های باردار:

$$Z = \frac{A - (n - e^-) + (\text{بار})}{۲}$$

• درون هسته اتم، همواره رابطه: « $n \geq p$ »، برقرار است (به استثنای  $^1_1\text{H}$ ) در حل مسائل ذرات زیراتمی، اختلاف شمار پروتون‌ها و نوترون‌ها را به صورت  $n - p$  می‌نویسیم؛ اما برای نوشتن معادله اختلاف شمار نوترون‌ها و الکترون‌ها، استراتژی دومرحله‌ای زیر را در نظر می‌گیریم:

۱ اگر گونه مورد نظر، یک ذره خنثی و یا یک ذره باردار مثبت (کاتیون) باشد.

$$n - e^- = \text{اختلاف شمار نوترون‌ها و الکترون‌ها}$$

۲ اگر گونه مورد نظر، یک ذره باردار منفی (آنیون) باشد. ← ابتدا باید سؤال را با معادله « $n - e^-$ » و سپس « $e^- - n$ » حل کنیم و هر کدام که در تناقض با اطلاعات سؤال و هم‌چنین عنصرها نبود را به عنوان پاسخ صحیح در نظر بگیریم.

**تذکر** از بند (۲) بهتر است زمانی استفاده شود که اختلاف شمار الکترون‌ها و نوترون‌ها در «آنیون»، کوچک‌تر یا مساوی بار آن باشد. در غیر این صورت بهتر است از بند (۲) که در قبلی گفته شده، استفاده شود.

**تست** اگر تفاوت الکترون‌های یون  $^{۲۹}\text{X}^{۲-}$ ، با شمار نوترون‌های

آن، برابر ۹ باشد، عدد اتمی این عنصر، کدام است؟ (برگرفته از ریاضی خارج ۱۴۰۱)

۳۷

۳۶

۳۵

۳۴

**پاسخ گزینه ۱ روش اول** حالت اول:  $(n - e^-)$

$$\left. \begin{array}{l} n - e^- = 9 \\ e^- = p + 2 \end{array} \right\} \Rightarrow n - (p + 2) = 9 \Rightarrow n - p = 11$$




$$\xrightarrow{A=79} Z = \frac{79 - (11)}{2} = 34$$

حالت دوم:  $(e^- - n)$

$$\left. \begin{array}{l} e^- - n = 9 \\ e^- = p + 2 \end{array} \right\} \Rightarrow p + 2 - n = 9 \Rightarrow n - p = -7$$

$$\xrightarrow{A=79} Z = \frac{79 - (-7)}{2} = 43$$

اگر  $Z = 43$  باشد، شمار نوترون‌ها برابر ۳۶ می‌شود که قابل قبول نیست! زیرا  $n \geq p$ .

$$Z = \frac{79 - 9 - 2}{2} = 34$$

روش دوم

## ایزوتوپ‌ها

۶

اغلب در یک نمونه طبیعی از عنصری معین، اتم‌های سازنده، جرم یکسانی ندارند.

**ایزوتوپ:** اتم‌های یک عنصرند که شمار پروتون‌های آن‌ها برابر (عددهای اتمی (Z) یکسان) و در شمار نوترون‌ها با یکدیگر متفاوت‌اند (عددهای جرمی (A) متفاوت).

### مقایسه خواص ایزوتوپ‌ها:

۱ خواص شیمیایی (وابسته به Z) یکسان ← در جدول تناوبی عنصرها در یک خانه و مکان قرار می‌گیرند. به همین دلیل به ایزوتوپ‌ها، هم‌مکان نیز گفته می‌شود.

۲ خواص فیزیکی وابسته به جرم (وابسته به A) متفاوت ← مثال ← چگالی، نقطه ذوب، نقطه جوش و ...



**شبهات‌ها:** عدد اتمی (شمار پروتون‌ها، شمار الکترون‌ها و موقعیت در جدول دوره‌ای)، خواص شیمیایی (از قبیل واکنش‌پذیری و خاصیت الکترون‌دهی و الکترون‌گیری و ...)، آرایش الکترونی و طیف نشری خطی

**تفاوت‌ها:** عدد جرمی (A)، شمار نوترون‌ها، میزان فراوانی در طبیعت و خواص فیزیکی وابسته به جرم

ایزوتوپ‌های طبیعی چند عنصر مهم

۷

عنصر	ایزوتوپ‌ها	فراوانی (%)	مقایسه فراوانی
${}_{3}\text{Li}$	${}_{3}^{6}\text{Li}$	۶	${}_{3}^{6}\text{Li} > {}_{3}^{7}\text{Li}$
	${}_{3}^{7}\text{Li}$	۹۴	
${}_{12}\text{Mg}$	${}_{12}^{24}\text{Mg}$	~ ۷۹	${}_{12}^{24}\text{Mg} > {}_{12}^{26}\text{Mg} > {}_{12}^{25}\text{Mg}$
	${}_{12}^{25}\text{Mg}$	~ ۱۰	
	${}_{12}^{26}\text{Mg}$	~ ۱۱	
${}_{17}\text{Cl}$	${}_{17}^{35}\text{Cl}$	~ ۷۵	${}_{17}^{35}\text{Cl} > {}_{17}^{37}\text{Cl}$
	${}_{17}^{37}\text{Cl}$	~ ۲۵	
${}_{1}\text{H}$	${}_{1}^{1}\text{H}$	۹۹/۹۸۸۵	${}_{1}^{1}\text{H} > {}_{1}^{2}\text{H} > {}_{1}^{3}\text{H}$
	${}_{1}^{2}\text{H}$	۰/۰۱۱۴	
	${}_{1}^{3}\text{H}$	ناچیز	

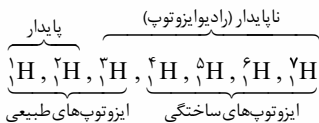


اغلب هسته‌هایی که در آن‌ها نسبت  $(\frac{n}{p} \geq 1/5)$  برقرار باشد، ناپایدار، پرتوزا و رادیوایزوتوپ‌اند و با گذشت زمان متلاشی می‌شوند.

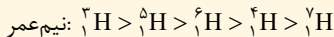
**تذکره** در رادیوایزوتوپ‌های: « ${}^{14}_6\text{C}$  و  ${}^{56}_{26}\text{Fe}$ ،  ${}^{99}_{43}\text{Tc}$ »  $\frac{n}{p} < 1/5$  است؛

اما همگی پرتوزا و ناپایدار هستند. از طرفی در ایزوتوپ  ${}^{238}_{92}\text{U}$ ،  $\frac{n}{p} > 1/5$  است؛ اما پرتوزا نیست!

## ایزوتوپ‌های هیدروژن



ترتیب مقایسه نیم‌عمر رادیوایزوتوپ‌های هیدروژن:



## کاربرد برخی رادیوایزوتوپ‌ها

تکنسیم ( ${}^{99}_{43}\text{Tc}$ )

- ← ❶ نخستین عنصر ساخت بشر
- ← ❷ در طبیعت وجود ندارد ← همه تکنسیم‌های موجود، در واکنشگاه (راکتور) هسته‌ای و به صورت مصنوعی تولید می‌شوند.
- ← ❸ کاربرد در تصویربرداری پزشکی ← تصویربرداری غده تیروئید دلیل؟ ← مشابهت اندازه یون یدید ( $\text{I}^-$ ) با یون حاوی  ${}^{99}_{43}\text{Tc}$  ← جذب توسط غده تیروئید، هم‌زمان با جذب  $\text{I}^-$  ← مقدار یون حاوی  ${}^{99}_{43}\text{Tc}$  در غده تیروئید ↑ ← میسر شدن امکان تصویربرداری
- ← ❹ نیم‌عمر کمی دارد ← نتیجه ← نمی‌توان مقدار زیادی از آن را تولید و برای مدت طولانی نگهداری کرد.

- اورانیم، شناخته شده ترین فلز پرتوزا است و فراوانی مهم ترین ایزوتوپ آن ( $^{235}_{92}\text{U}$ ) در مخلوط طبیعی، کم تر از ۷٪ درصد است.
- **غنی سازی ایزوتوپی:** به فرایندی که در آن فراوانی یکی از ایزوتوپ های یک عنصر را در مخلوط آن ها افزایش می دهند، گفته می شود.

## گلوکز نشان دار

۱۱

- به گلوکز حاوی اتم پرتوزا، گلوکز نشان دار گفته می شود.
- گلوکز نشان دار به همراه گلوکز معمولی در توده های سرطانی (که سوخت و ساز بیشتری دارند) تجمع می یابند و توسط دستگاه آشکارساز پرتو، محل دقیق توده سرطانی تشخیص داده می شود.

## جدول دوره های (تناوبی) عنصرها

۱۲

۱۱۸ عنصر }  
 ۹۲ عنصر موجود در طبیعت ( $\approx 78\%$ )  
 ۲۶ عنصر ساختگی ( $\approx 22\%$ ) } شناخته شده

### جدول دوره های عنصرها

- ← سازماندهی عنصرها براساس افزایش عدد اتمی ( $Z$ )
- ← شروع از عنصر هیدروژن ( $Z=1$ ) و ختم به عنصر اوگانسون ( $Z=118$ )
- ← شامل ۷ دوره و ۱۸ گروه
- ← تکرار خواص عنصرها به طور مشابه با پیمایش هر دوره از چپ به راست
- ← مثال: خواص شیمیایی عنصرهای هم گروه، مشابه یکدیگر است.
- تعلق داشتن هر خانه از جدول به یک عنصر معین (به همراه ایزوتوپ های آن)

عدد اتمی، نماد شیمیایی، نام و جرم اتمی میانگین عنصر

اطلاعاتی که هر خانه از جدول دوره ای، درباره عنصرها بیان می کند

## جرم اتمی عنصرها

۱۳

- جرم اتمها را با وزنه ای می سنجند که جرم آن،  $\frac{1}{12}$  جرم ایزوتوپ کربن - ۱۲ است. به این وزنه، یکای جرم اتمی (amu) می گویند.

- با تعریف amu، شیمی دان‌ها موفق شدند جرم اتمی دیگر عنصرها و هم‌چنین جرم ذره‌های زیراتمی را اندازه‌گیری کنند.
- برخی ویژگی‌های ذره‌های زیراتمی در جدول زیر آمده است:

نام ذره	نماد ( $a$ (جرم نسبی) $b$ (بار نسبی) X)	بار (نسبی)	جرم (amu)
الکترون	${}_{-1}^0e$	-1	$\frac{1}{1836} \approx 0.0005$
پروتون	${}_{+1}^1p$	+1	$1 \approx 1.0073$
نوترون	${}^1_0n$	0	$1 \approx 1.0087$

- جرم اتم هیدروژن برابر  $1 \text{ amu} \approx 1.008$  است.
- از آنجایی که جرم پروتون و نوترون به تقریب با هم برابر ( $1 \text{ amu} \approx$ ) است؛ می‌توان مقدار عددی عدد جرمی عنصرها را تقریباً برابر با جرم اتمی آن‌ها در نظر گرفت.
- عدد جرمی یکا ندارد، در حالی که یکای جرم اتمی، amu است.

## جرم اتمی میانگین

۱۴

- برای اندازه‌گیری جرم اتمی میانگین ( $\bar{M}$ ) عنصری که از ایزوتوپ‌هایی با جرم‌های  $M_1, M_2, \dots, M_n$  و با درصد‌های فراوانی  $F_1, F_2, \dots, F_n$  تشکیل شده است، از رابطه زیر استفاده می‌کنیم:

$$\bar{M} = \frac{M_1F_1 + M_2F_2 + \dots + M_nF_n}{F_1 + F_2 + \dots + F_n}$$

- مجموع درصد‌های فراوانی ایزوتوپ‌های یک عنصر ( $F_1 + F_2 + \dots + F_n$ ) برابر ۱۰۰ است.



برای محاسبه سریع جرم اتمی میانگین، می‌توان از رابطه کاربردی زیر استفاده کرد:

$$\bar{M} = M_1 + \frac{F_2}{100}(M_2 - M_1) + \frac{F_3}{100}(M_3 - M_1) + \dots + \frac{F_n}{100}(M_n - M_1)$$

**تست** عنصر A دارای چهار ایزوتوپ با عدد جرمی ۵۳، ۵۱، ۴۹، ۵۴ است. اگر مجموع فراوانی دو ایزوتوپ اول ۶۵ و فراوانی ایزوتوپ سوم ۱۵ درصد باشد، درصد فراوانی دو ایزوتوپ اول، به ترتیب از راست به چپ کدامند؟ (عدد جرمی ایزوتوپ‌ها، برابر جرم اتمی آن‌ها و جرم اتمی میانگین برای عنصر A، برابر ۹۵/۵۰ فرض شود). (تجربی ۹۹)

۱۷/۵، ۴۷/۵       ۲۹/۵، ۳۵/۵

۱۴/۵، ۵۰/۵       ۱۵، ۵۰

**پاسخ گزینه ۲** ابتدا درصد فراوانی  $A^{54}$  را به دست می‌آوریم.

$$\underbrace{49A}_{\%65} \quad \underbrace{51A \quad 53A}_{\%15} \quad \underbrace{54A}_{\%x} \xrightarrow{\text{مجموع}=100} x = \%20$$

$$50/95 = 49 + \frac{F_2}{100}(2) + 0/15(4) + 0/2(5) \Rightarrow F_2 = \%17/5$$

$$\xrightarrow{F_1+F_2=\%65} F_1 = \%47/5$$

## ۱۵ عدد آووگادرو

شیمی‌دان‌ها به تعداد  $6/02 \times 10^{23}$  از هر ذره، یک مول از آن ذره گویند و آن را با نماد  $N_A$  نشان می‌دهند.

رابطه‌های زیر، بین واحدهای amu و g (گرم) برقرار است:

$$1 \text{ amu} = 1/66 \times 10^{-24} \text{ g}, \quad 1 \text{ g} = 6/02 \times 10^{23} \text{ amu}$$

**تعریف:** جرم یک مول از ذره (تعداد  $6/02 \times 10^{23}$  ذره) برحسب گرم با یکای  $\text{g.mol}^{-1}$

- جرم مولی یک ترکیب برابر با مجموع جرم مولی اتم‌های سازنده آن است.
- جرم مولی و جرم اتمی یک عنصر از نظر عددی با هم برابر است:

جرم مولی یک عنصر بر حسب گرم = جرم  $6/02 \times 10^{23}$  اتم از یک عنصر برحسب گرم

$$= 6/02 \times 10^{23} \times \text{amu} \times \frac{1}{66 \times 10^{-24}} \text{ g}$$

تبدیل جرم اتمی از amu به گرم

$$6/02 \times 10^{23} \times \frac{1}{66 \times 10^{-24}} = 1$$

مقدار عددی جرم مولی = جرم اتمی  
یک عنصر برحسب گرم = یک عنصر

## کسرهای تبدیل (ظعم بی نظیر حل مسئله شیمی)

برای حل مسائلی که در آن تبدیل جرم، مول و تعداد ذرات سازنده ماده به یکدیگر مطرح است، می‌توان از دو روش:

- کسرهای تبدیل و  $\frac{1}{N_A}$  کسرهای پیش‌ساخته استفاده کرد.
- کسرهای تبدیل:** برای تبدیل واحد موارد مطرح شده و خواسته شده به یکدیگر، از طرح زیر استفاده می‌کنیم: (جرم مولی =  $M_W$ )

$$\text{جرم (g)} \xrightarrow{\times \frac{1 \text{ mol}}{M_W}} \text{mol} \xrightarrow{\times \frac{1 \text{ mol}}{N_A}} \text{شمار ذره ها (مولکول، اتم، یون)}$$

## کسرهای پیش ساخته:

$$\text{mol} = \frac{\text{جرم (g)}}{\text{جرم مولی (g.mol}^{-1}\text{)}} = \frac{\text{شمار مولکولها}}{N_A} = \frac{\text{شمار اتمها یا یونها}}{N_A \times \text{مجموع زیوندها}}$$

**تست** ✎ جرم  $3/01 \times 10^{22}$  مولکول از اکسیدی با فرمول عمومی

$N_m O_n$  برابر  $5/4$  گرم است. نسبت  $n$  به  $m$  کدام است؟

(تجربی ۹۵ با تغییر)  $(O = 16, N = 14 : \text{g.mol}^{-1})$

۱  ۲  ۳  ۴  ۵  ۶  ۷  ۸  ۹  ۱۰

**پاسخ گزینه ۴** **روش اول** کسرهای تبدیل: (جرم مولی اکسید

مورد نظر  $M$ )

$$3/01 \times 10^{22} N_m O_n \text{ مولکول} \times \frac{1 \text{ mol } N_m O_n}{6/02 \times 10^{23} N_m O_n \text{ مولکول}}$$

$$\times \frac{(M) \text{ g } N_m O_n}{1 \text{ mol } N_m O_n} = 5/4 \text{ g } N_m O_n$$

$$\Rightarrow \frac{M}{20} = 5/4 \Rightarrow M = 108 \text{ g.mol}^{-1}$$

**روش دوم** کسرهای پیش ساخته:

$$\frac{\text{جرم}}{\text{جرم مولی}} = \frac{\text{شمار ذرات}}{6/02 \times 10^{23}} \Rightarrow \frac{5/4}{M} = \frac{3/01 \times 10^{22}}{6/02 \times 10^{23}}$$

$$\Rightarrow M = 108 \text{ g.mol}^{-1}$$

جرم مولی  $N_2 O_5$  ( $n/m = 2/5$ )، برابر  $108 \text{ g.mol}^{-1}$  است:

$$14m + 16n = 108 \rightarrow 14(2) + 16(5) = 108 \text{ g.mol}^{-1}$$

## نور، کلید شناخت جهان

۱۸

اطلاعات حاصل از نوری که از ستاره‌ها یا سیاره‌ها به ما می‌رسد:

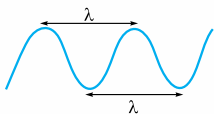
عنصرهای سازنده آن‌ها  دمای آن‌ها



- دانشمندان به کمک دستگاه طیف‌سنج می‌توانند از پرتوهای گسیل شده از مواد گوناگون، اطلاعات ارزشمندی درباره آن‌ها به دست آورند.

## امواج الکترومغناطیس

۱۹

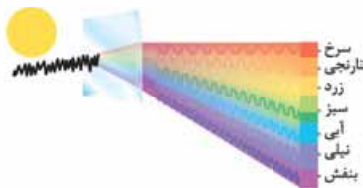


- نور نوعی موج الکترومغناطیس است.
- طول موج (λ):** به فاصله بین دو قله یا دو دره متوالی در یک موج گویند.
- هر چه  $\lambda \uparrow \Rightarrow$  انرژی موج  $\downarrow$

## تجزیه نور خورشید

۲۰

- نور مرئی:** بخش کوچکی از گستره پرتوهای الکترومغناطیس است که طول موج آن بین ۴۰۰ تا ۷۰۰ نانومتر است.
- نور خورشید گستره بسیار بزرگی از پرتوهای الکترومغناطیس را در بر می‌گیرد و بخش مرئی آن با گذر از منشور به صورت زیر تجزیه می‌شود:



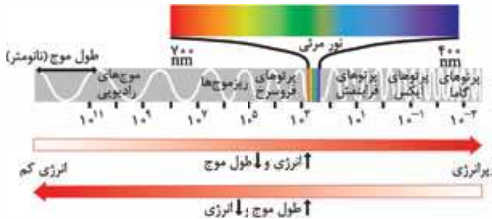
بنفش > نیلی > آبی > سبز > زرد > نارنجی > قرمز: طول موج

بنفش < نیلی < آبی < سبز < زرد < نارنجی < قرمز: انرژی

- هر چه پرتو، پراورزی‌تر یا طول موج آن کم‌تر باشد، میزان شکست یا انحراف آن در منشور بیشتر است.



طیف پرتوهای الکترومغناطیس به صورت زیر است:



## نشر نور و طیف (نشری - خطی)

۲۱

بسیاری از نمک‌ها شعله رنگی دارند.

شعله زردرنگ

فلز سدیم (Na) و ترکیب‌های آن.  
مثال: سدیم سولفات، سدیم کلرید و ...

شعله سبزرنگ

فلز مس (Cu) و ترکیب‌های آن.  
مثال: مس (II) نیترات، مس (II) کلرید و ...

شعله سرخ‌رنگ

فلز لیتیم (Li) و ترکیب‌های آن.  
مثال: لیتیم کلرید، لیتیم نیترات و ...

نشر نور فرایندی است که در آن یک ماده با جذب انرژی، پرتوهایی از جنس پرتوهای الکترومغناطیس از خود گسیل می‌دارد.

اگر نور نشرشده از یک عنصر را از منشور عبور دهیم، الگویی شامل خط(هایی) با طول موج معین به دست می‌آید که به آن طیف (نشری - خطی) عنصر مورد نظر می‌گویند.

### طیف (نشری - خطی) برخی عناصر در محدوده مرئی:



وجود بخار سدیم در آن‌ها

علت نور زرد لامپ‌های بزرگراه‌ها و ...

لامپ نئون

نور سرخ‌فام تابلوه‌های تبلیغاتی

## مدل اتمی بور

۲۲

- هر نوار رنگی در طیف «نشری - خطی»، نوری با طول موج و انرژی معین را نشان می‌دهد.
- نیلز بور بر این باور بود که از بررسی تعداد و جایگاه نوارهای طیف «نشری - خطی» عنصر هیدروژن، می‌توان اطلاعات ارزشمندی از ساختار اتم هیدروژن به دست آورد.
- **نوجه** مدل اتمی بور، توانایی توجیه طیف «نشری - خطی» سایر عنصرها را نداشت.

## مدل کوانتومی اتم

۲۳

- در این مدل اتم را کره‌ای در نظر می‌گیرند که هسته در فضایی بسیار کوچک و در مرکز آن جای دارد و الکترون‌ها در فضایی بسیار بزرگ‌تر و در لایه‌هایی پیرامون هسته توزیع می‌شوند.
- هر لایه را با  $n$  (از ۱ تا ۷) که عدد کوانتومی اصلی خوانده می‌شود، شماره‌گذاری می‌کنند.
- در ساختار لایه‌ای اتم مطابق شکل مقابل، هر بخش پرننگ، مهم‌ترین بخش از یک لایه الکترونی را نشان می‌دهد.
- بخش پرننگ‌تر، بخشی است که الکترون‌های آن لایه، بیشتر وقت خود را در آن فاصله از هسته سپری می‌کنند.
- الکترون در هر لایه‌ای که باشد، در همهٔ نقاط پیرامون هسته حضور پیدا می‌کند **اما** ← در محدودهٔ یادشده احتمال حضور بیشتری دارد.



● انرژی مانند ماده در نگاه ماکروسکوپی، پیوسته و در نگاه میکروسکوپی، گسسته یا کوانتومی است. ← مانند ← خرمن گندم

در مدل کوانتومی

- ← هر لایه، انرژی معینی دارد. ← با افزایش فاصله از هسته ← انرژی لایه ↑
- ← الکترون در هر لایه، مقدار انرژی معینی دارد.
- ← الکترون هنگام انتقال از لایه‌ای به لایه دیگر، بسته‌های انرژی را به صورت پیمانه‌ای جذب و یا نشر می‌کند. ← این موضوع نشان‌دهنده کوانتومی بودن دادوستد انرژی در هنگام انتقال الکترون از لایه‌ای به لایه دیگر است.
- ← هر چه فاصله لایه‌ها (یا تفاوت انرژی بین آن‌ها) ↑ ← انرژی جذب یا آزاد شده ↑ و طول موج پرتو جذب یا نشر شده ↓



در نتیجه جابه‌جایی الکترون بین لایه‌ها، انرژی با طول موج معین، جذب یا نشر می‌شود.

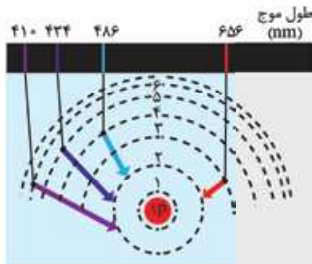
۲۵ نحوه ایجاد طیف «نشری - خطی» عنصرهای مختلف

- از آن جایی که نشر نور مناسب‌ترین شیوه برای از دست دادن انرژی است، الکترون‌ها در اتم برانگیخته هنگام بازگشت به حالت پایه، نوری با طول موج معین نشر می‌کنند.
- انرژی لایه‌های الکترونی پیرامون هسته هر اتم، ویژه همان اتم و وابسته به عدد اتمی آن است. ← پس ← انرژی لایه‌ها و تفاوت انرژی میان آن‌ها

در اتم عنصرهای گوناگون، متفاوت است. بنا بر این ← طیف «نشری - خطی» هر عنصر (تعداد خطوط و طول موج آنها) منحصر به فرد است و مانند اثر انگشت می‌توان از آن برای شناسایی عنصر استفاده کرد.

## ۲۶ نحوه ایجاد طیف نشری - خطی عنصر هیدروژن

در اتم عنصر هیدروژن، بازگشت الکترون از لایه‌های بالایی به لایه  $n = 2$ ، منجر به ایجاد ۴ خط در طیف «نشری - خطی» در محدوده امواج نور مرئی می‌شود:



طول موج (nm)	رنگ	انتقال الکترونی
۴۱۰	بنفش	$n = 6 \rightarrow n = 2$
۴۳۴	نیلی	$n = 5 \rightarrow n = 2$
۴۸۶	آبی	$n = 4 \rightarrow n = 2$
۶۵۶	قرمز	$n = 3 \rightarrow n = 2$

با فاصله گرفتن از هسته اتم، اختلاف سطح انرژی بین دو لایه متوالی کاهش می‌یابد.

بازگشت الکترون از لایه‌های بالاتر به لایه  $n = 1$ ، سبب تابش امواجی در ناحیه امواج فرابنفش و بازگشت الکترون از لایه‌های بالاتر به لایه  $n = 3$ ، سبب تابش امواجی در ناحیه امواج فروسرخ می‌شود.

## ۲۷ اعداد کوانتومی (n و l)

عدد کوانتومی اصلی (n)، شماره لایه الکترونی و عدد کوانتومی فرعی (l) نوع زیر لایه را مشخص می‌کند.

$$n = 1, 2, 3, \dots, 7$$

مقادیر مجاز برای n و l :

$$\rightarrow l = 0, 1, 2, 3, \dots, (n-1)$$



نماد، عدد کوانتومی فرعی و حداکثر گنجایش الکترونی هر زیر لایه:

f	d	p	s	نماد زیر لایه
۳	۲	۱	۰	مقدار l
۱۴	۱۰	۶	۲	حداکثر گنجایش الکترونی (۲l+۱)

حداکثر گنجایش الکترونی در هر لایه  $(n) = 2n^2$

۲۸ زیر لایه‌ها در هر لایه

در هر لایه الکترونی، به تعداد شماره لایه یا عدد کوانتومی اصلی (n)، زیر لایه (با مقادیر: صفر تا (n-1)) وجود دارد.

مثال

$$n=4 \xrightarrow{\text{اعداد کوانتومی فرعی زیر لایه‌ها}} l=0 \text{ تا } (4-1) \xrightarrow{l=0,1,2,3} s, p, d, f$$

$$\xrightarrow{\text{حداکثر گنجایش لایه چهارم (n=4)}} \frac{2(4)^2 = 32e^-}{4s^2, 4p^6, 4d^{10}, 4f^{14}}$$

۲۹ قاعده آفبا (ترتیب پر شدن زیر لایه‌ها از الکترون)

مطابق قاعده آفبا، هنگام پر شدن زیر لایه‌ها از الکترون، ابتدا زیر لایه‌هایی با انرژی کم‌تر (نزدیک‌تر به هسته) و سپس زیر لایه‌هایی با انرژی بیشتر، از الکترون اشغال و در نهایت پر می‌شوند.

هر چه مجموع (n+1) در یک زیر لایه معین ↓ انرژی در نتیجه ← زودتر از الکترون پر می‌شود.

توجه اگر مجموع (n+1) برای دو یا چند زیر لایه با هم برابر باشد، زیر لایه‌ای که n کوچک‌تری دارد، زودتر الکترون می‌گیرد.

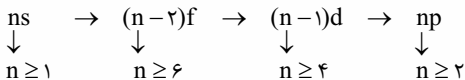
مثال

	n	l	n+l
۳p	۳	۱	۴
۴s	۴	۰	۴

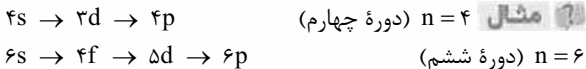
۳p → ۴s: ترتیب پر شدن از الکترون →



## ترتیب پرشدن زیرلایه‌ها مطابق قاعدهٔ آفبا:



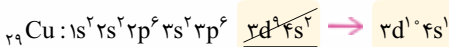
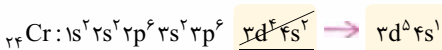
اگر در رابطهٔ بالا،  $n$  را به ترتیب از ۱ تا ۷ قرار دهیم، زیرلایه‌هایی که در هر مرحله ایجاد می‌شوند، همان زیرلایه‌هایی هستند که در هر دورهٔ جدول تناوبی شروع به پرشدن می‌کنند.



## نقض قاعدهٔ آفبا

۳۰

داده‌های طیف‌سنجی نشان می‌دهد که آرایش الکترونی برخی اتم‌ها از قاعدهٔ آفبا پیروی نمی‌کند:



**تست** از عنصرهای ۱ تا ۳۶ جدول تناوبی، چند عنصر در خارجی‌ترین

(تجربی ۱۴۰۱)

زیرلایهٔ اشغال‌شدهٔ اتم خود، تنها یک الکترون دارند؟

۱۳

۱۲

۱۰

۹

**پاسخ گزینه ۱** عنصرهای با اعداد اتمی زیر، در خارجی‌ترین زیرلایهٔ

اشغال‌شدهٔ اتم خود، تنها یک الکترون دارند:

