


# دهم ریاضی یگانه



(رشته های علوم تجربی و ریاضی فیزیک)

از مجموعه رشادت

سعید جلالی





## به نام خداوند جان و خرد کزین برتر اندیشه برنگزد

بسیار خرسندیم که کتاب «ریاضیات دهم یگانه» را تقدیم دانش‌آموزان می‌کنیم. این کتاب مطالب ریاضی پایهٔ اول دورهٔ دوم متوسطه را در سطح پیشرفته ارائه می‌دهد. دانش‌آموز، ابتدا با مباحث هر فصل آشنا می‌شود و با مثال‌های فراوان بر حل آن‌ها اشراف پیدا می‌کند. سپس برای هر فصل، تعدادی سؤال چهارگزینه‌ای و تعدادی مسئلهٔ تشریحی را پاسخ می‌دهد تا بر موضوع تسلط یابد. سؤالات چهارگزینه‌ای برخی تألیفی هستند و برخی مربوط به کنکورهای سراسری دانشگاه‌ها می‌باشند. دانش‌آموزان باید توجه داشته باشند که ترتیب مطالعه و حل آن‌ها باید رعایت شود.

انتظار می‌رود کتاب حاضر، همهٔ نیازهای دانش‌آموزان کلاس دهم را که مایل به تحصیل در بهترین دانشگاه‌ها و بهترین رشته‌های کشور هستند، پاسخ گو باشد.

در این جا لازم می‌دانیم از مؤلف محترم آقای مهندس سعید جلالی که کتاب را زیر نظر دبیر مجموعه تألیف کرده‌اند تشکر کنیم. هم‌چنین از خانم‌ها ناهید صبائی (حروفچین و صفحه‌آرا)، ملیحه محمدی و بهاره خُدّامی (گرافیک‌ها) و مدیران و همکاران واحدهای حروفچینی، تولید و فروش سپاسگزاریم.

امیدواریم دبیران محترم ریاضی و دانش‌آموزان و خانواده‌های عزیز آن‌ها ما را با اعلام نظرات، پیشنهادهای و انتقادهای خود دربارهٔ این کتاب یاری فرمایند.

انتشارات مبتکران

# فهرست

صفحه

عنوان

۸	مجموعه‌ها، الگوها و دنباله‌ها	فصل اول
۲۶	پرسش‌های چهارگزینه‌ای	
۳۲	تمرین‌ها	
۴۰	مثلثات	فصل دوم
۵۸	پرسش‌های چهارگزینه‌ای	
۶۱	تمرین‌ها	
۷۲	توان‌های گویا و عبارت‌های جبری	فصل سوم
۹۱	پرسش‌های چهارگزینه‌ای	
۹۸	تمرین‌ها	
۱۱۲	معادله‌ها و نامعادله‌ها	فصل چهارم
۱۳۶	پرسش‌های چهارگزینه‌ای	
۱۴۳	تمرین‌ها	
۱۶۶	تابع	فصل پنجم
۲۰۶	پرسش‌های چهارگزینه‌ای	
۲۱۲	تمرین‌ها	
۲۳۰	شمارش، بدون شمردن (ترکیبیات)	فصل ششم
۲۴۶	پرسش‌های چهارگزینه‌ای	
۲۴۹	تمرین‌ها	
۲۶۲	آمار و احتمال	فصل هفتم
۲۶۸	پرسش‌های چهارگزینه‌ای	
۲۷۲	تمرین‌ها	
۲۸۲	سؤالات کنکور ۱۳۹۵ داخل و خارج کشور	

# فهرست

عنوان

صفحه

## پاسخ‌نامه تشریحی

### فصل اول

مجموعه‌ها، الگوها و دنباله‌ها

پاسخ پرسش‌های چهارگزینه‌ای ..... ۲۸۸

پاسخ تمرین‌ها ..... ۲۹۲

مثلثات

### فصل دوم

پاسخ پرسش‌های چهارگزینه‌ای ..... ۳۰۱

پاسخ تمرین‌ها ..... ۳۰۴

توان‌های گویا و عبارت‌های جبری

### فصل سوم

پرسش‌های چهارگزینه‌ای ..... ۳۱۰

تمرین‌ها ..... ۳۱۸

معادله‌ها و نامعادله‌ها

### فصل چهارم

پرسش‌های چهارگزینه‌ای ..... ۳۲۵

تمرین‌ها ..... ۳۳۵

تابع

### فصل پنجم

پاسخ پرسش‌های چهارگزینه‌ای ..... ۳۵۰

پاسخ تمرین‌ها ..... ۳۵۷

شمارش، بدون شمردن (ترکیبیات)

### فصل ششم

پاسخ پرسش‌های چهارگزینه‌ای ..... ۳۶۷

پاسخ تمرین‌ها ..... ۳۷۲

آمار و احتمال

### فصل هفتم

پاسخ پرسش‌های چهارگزینه‌ای ..... ۳۷۷

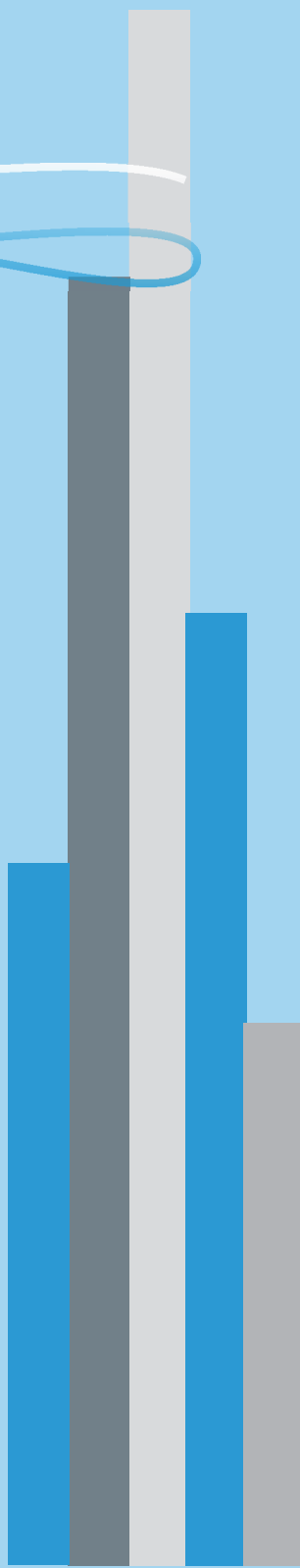
پاسخ تمرین‌ها ..... ۳۸۳

پاسخ سؤالات کنکور ۱۳۹۵ داخل و خارج کشور ..... ۳۸۹

پاسخ‌نامه کلیدی ..... ۳۹۵

# فصل اول

مجموعه ها،  
الگوها و دنباله ها





## فصل ۱

### مجموعه‌ها، الگوها و دنباله‌ها

#### مجموعه‌ها، الگوها و دنباله‌ها

«مجموعه‌ها»، دسته یا گروهی از اشیا یا اعداد یا... هستند که عضوهای آن‌ها قابل تشخیص باشند. مجموعه بدون عضو، «تهی» نامیده می‌شود. عضوهای مجموعه‌ها را داخل «آکولاد» قرار داده و اعضا را با ویرگول (،) جدا می‌کنند. در مواردی که تعداد اعضا زیاد باشد، از نماد «...» استفاده می‌کنیم.

مجموعه‌های عددی با توجه به نیاز به صورت مقابل معرفی و نام‌گذاری شدند:

$\mathbb{N} = \{1, 2, 3, \dots\}$  مجموعه اعداد طبیعی

انواع مختلف اعداد، برای موارد مختلفی استفاده می‌شوند (شمارش یا اندازه‌گیری). مجموعه اعداد طبیعی (Natural) مجموعه‌ای شمارشی است.

$\mathbb{W} = \{0, 1, 2, 3, \dots\}$

مجموعه اعداد حسابی (Whole number) با افزودن عضو صفر به مجموعه اعداد طبیعی مشخص شد. پیش از آن صفر را به عنوان عدد، نمی‌شناختند. (مخترعین عدد صفر، هندی‌ها بودند در ۲۵۰۰ سال پیش).

$\mathbb{Z} = \{\dots, -4, -3, -2, -1, 0, 1, 2, \dots\}$  مجموعه اعداد صحیح

که (Integer number) است و شامل اعضای  $\mathbb{W}$  و قرینه اعضای آن است.  $\mathbb{Z}$ ، حرف اول واژه (Zahl) به معنی عدد است.

#### مجموعه اعداد گویا $Q: \{\frac{m}{n} | m, n \in \mathbb{Z}, n \neq 0\}$

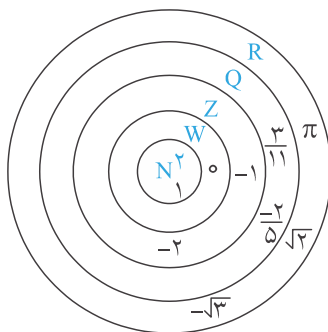
که (Rational number) نامیده می‌شود و شامل همه اعدادی است که بتوان آن‌ها را از یک کسر با صورت و مخرج صحیح به دست آورد.

#### اعداد گنگ $Q'$ یا $Q^c$

که (Irrational number) نامیده می‌شود و به عددی که گویا نباشد، گفته می‌شود.

#### مجموعه اعداد حقیقی $\mathbb{R}$

که (Real number) نامیده می‌شود و شامل همه اعداد گویا و گنگ است.



$$\mathbb{N} \subset \mathbb{W} \subset \mathbb{Z} \subset \mathbb{Q} \subset \mathbb{R}$$

$$\mathbb{Q}' \subset \mathbb{R}$$

$$\mathbb{Q} \cap \mathbb{Q}' = \emptyset$$

$$\mathbb{Q} \cup \mathbb{Q}' = \mathbb{R}$$

#### الگوسازی

بسیاری از امور را از طریق مشاهده و یا الگوبرداری از کارهای دیگران یاد گرفته‌ایم. در ریاضیات نیز مشاهده رابطه‌های بین اشیا (اعم از اعداد و یا اشکال هندسی) و یافتن ارتباط بین آن‌ها به الگوسازی می‌انجامد و از روی این الگوها می‌توان به حکم‌های ریاضی دسترسی پیدا کرد.







به جای علامت سؤال، عدد مناسب قرار دهید:

۳, ۸, ۱۳, ۱۸, ۲۳, ۲۸, ۳۳, ?

۱, ۲, ۴, ۸, ۱۶, ۳۲, ۶۴, ?

۱, ۶, ۷, ۱۲, ۱۳, ۱۸, ۱۹, ?

۱, ۲, ۴, ۷, ۱۱, ۱۶, ۲۲, ?

در ادامه کار، پس از تشخیص الگو باید بتوانیم حکمی پیدا کنیم.

**مثال** اگر داشته باشیم  $۱, ۴, ۷, ۱۰, ۱۳, \dots$  صدمین جمله چه عددی است؟

**پاسخ** ملاحظه می‌کنیم:

مقدار	جمله
۱	اول
$۴ = ۱ + ۳$	دوم
$۷ = ۱ + ۳ + ۳ = ۱ + ۲ \times ۳$	سوم
$۱۰ = ۱ + ۳ + ۳ + ۳ = ۱ + ۳ \times ۳$	چهارم
$۱۳ = ۱ + ۳ + ۳ + ۳ + ۳ = ۱ + ۴ \times ۳$	پنجم
⋮	⋮

بنابراین جمله صدم برابر است با:  $۱ + ۹۹ \times ۳ = ۲۹۸$

و در حالت کلی جمله  $n$  ام برابر است با:  $۱ + (n-1) \times ۳$

اگر در عبارت اخیر به جای  $n$ ، عددی طبیعی قرار دهیم، مقدار جمله متناظر حاصل خواهد شد.

**مثال** با شناسایی الگوی مربوط، به جای علامت سؤال اعداد مناسب قرار دهید.

$۱ \times ۱ = ۱$	$۶ \times ۷ = ۴۲$	$۱۲۳۴۵۶۷۹ \times ۹ = ۱۱۱۱۱۱۱۱$	$۹ \times ۰ + ۱ = ۱$
$۱۱ \times ۱۱ = ۱۲۱$	$۶۶ \times ۶۷ = ۴۴۲۲$	$۱۲۳۴۵۶۷۹ \times ۱۸ = ۲۲۲۲۲۲۲۲$	$۹ \times ۱ + ۲ = ۱۱$
$۱۱۱ \times ۱۱۱ = ۱۲۳۲۱$	$۶۶۶ \times ۶۶۷ = ۴۴۴۲۲۲$	$۱۲۳۴۵۶۷۹ \times ۲۷ = ۳۳۳۳۳۳۳۳$	$۹ \times ۲ + ۳ = ۲۱$
$۱۱۱۱ \times ۱۱۱۱ = ?$	$۶۶۶۶ \times ۶۶۶۷ = ?$	$۱۲۳۴۵۶۷۹ \times ۳۶ = ?$	$۹ \times ۳ + ۴ = ?$
		$۱۲۳۴۵۶۷۹ \times ? = ۵۵۵۵۵۵۵۵$	$? = ۴۱$

**مثال** در عبارت  $۲, ۴, ۸, ۱۶, ۳۲, \dots$  جمله صدم چیست؟

**پاسخ** به سادگی ملاحظه می‌کنیم:

مقدار	جمله
$۲ = ۲^۱$	اول
$۴ = ۲^۲$	دوم
$۸ = ۲^۳$	سوم
$۱۶ = ۲^۴$	چهارم
⋮	⋮

پس جمله صدم برابر  $۲^{۱۰۰}$  و در حالت کلی، جمله  $n$  ام برابر  $۲^n$  است.





**مثال** در یونان باستان، اعداد مربعی را به صورت مقابل نمایش می دادند:



الگوی تعداد نقاط چیست؟

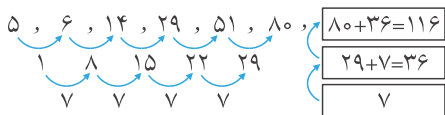
**پاسخ** این اعداد به صورت  $1^2, 2^2, 3^2, 4^2, \dots$  پس صدمین عدد مربعی  $100^2$  و  $n$  امین عدد  $n^2$  است.

۵, ۶, ۱۴, ۲۹, ۵۱, ۸۰, ?

**مثال** به جای علامت سؤال، چه عددی بگذاریم؟

**پاسخ** یافتن الگوی مربوط با توجه به تفاضل اعداد متوالی چندان آسان نیست ولی با توجه به تفاضل جملات متوالی می توان الگو

را یافت:




**مثال** به جای  $\square$ ، عدد مناسب قرار دهید.

الف) ۵, ۶, ۱۴, ۳۲, ۶۴, ۱۱۵, ۱۹۱,  $\square$

ب) ۰, ۲, ۶, ۱۲, ۲۰, ۳۰, ۴۲,  $\square$

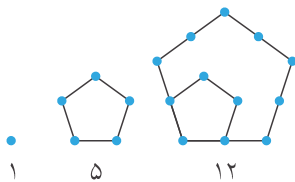
**مثال** اعداد مستطیلی شکل را به صورت مقابل در نظر می گیریم:



الف) جمله بعدی را مشخص کنید.

ب) جمله صدم چیست؟

**مثال** اعداد مخمسی (پنج ضلعی شکل) را به صورت مقابل در نظر می گیریم:



سه جمله دیگر چیست؟


**مثال** اعداد مثلثی به صورت مقابل تعریف می شوند:



الف) سه جمله بعدی اعداد مثلثی چیست؟

ب)  $n$  امین جمله چیست؟

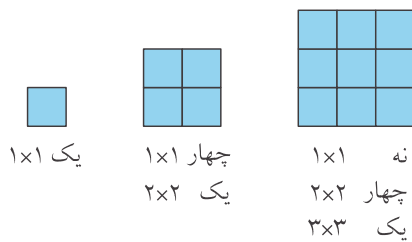
**مثال** در شکل مقابل، چند مربع متفاوت است؟



**پاسخ** مقصود از مربع، یک چهارضلعی است که چهار ضلع مساوی دارد و ضلع های مجاور بر یکدیگر عمود باشند. مربع های

متفاوت آنهایی هستند که یا ابعاد متفاوت دارند و یا جای قرار گرفتن آنها متفاوت باشد.





در هر مربع  $1 \times 1$ ، فقط یک مربع  $1 \times 1$  داریم و در هر مربع  $2 \times 2$  چهار مربع  $1 \times 1$  و یک مربع  $2 \times 2$  و در هر مربع  $3 \times 3$ ، ۹ مربع  $1 \times 1$  و ۴ مربع  $2 \times 2$  و ۱ مربع  $3 \times 3$  داریم.  
حال اگر مربع  $4 \times 4$  را در نظر داشته باشیم، ۱۶ مربع  $1 \times 1$ ، ۹ مربع  $2 \times 2$  و ۴ مربع  $3 \times 3$  و سرانجام ۱ مربع  $4 \times 4$  وجود دارد.  
با همین الگو  $1^2 + 2^2 + \dots + 7^2$  مربع در شکل اصلی داریم.

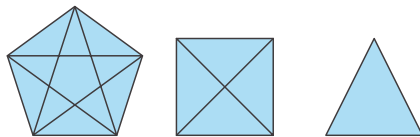
**مثال** در روز نخست در کلاس دهم دبیرستان زندگی، ۲۰ دانش‌آموز برای آشنایی با یکدیگر، دست می‌دهند. اگر هر دانش‌آموز دقیقاً یک‌بار با دیگری دست دهد، در کل چند بار عمل دست دادن انجام می‌شود؟

**پاسخ** مسأله را ساده‌تر می‌کنیم، فرض کنید در کلاس فقط ۵ نفر حاضر بودند. می‌توان از آن برای یافتن الگو کمک گرفت.

تعداد دست دادن‌ها	تعداد دانش‌آموزان
صفر	۱
۱	۲
$3 = 2 + 1$	۳
$6 = 3 + 2 + 1$	۴
$10 = 4 + 3 + 2 + 1$	۵

بنابراین تعداد دست دادن‌ها برای ۵ نفر برابر مجموع اعداد ۱ تا ۴ است. با توجه به این الگو، تعداد دست دادن‌ها برابر است با:

$$1 + 2 + 3 + \dots + 19 = \frac{19 \times 20}{2} = 190$$



روش دوم: با توجه به رسم نمودار نیز می‌توان مسأله را حل کرد: هر فرد را با یک نقطه مشخص می‌کنیم و عمل دست دادن را با اتصال آن دو نقطه نشان می‌دهیم. برای ۳، ۴ و ۵ نفر، شکل‌های زیر را خواهیم داشت:

بنابراین پرسش مورد نظر به این مسأله تبدیل می‌شود که تعداد پاره‌خط‌های وصل‌کننده بین تعدادی نقطه را پیدا کنیم. مشخص است که هر دانش‌آموز با بقیه (اگر تعداد ۵ نفر باشد با ۴ نفر دیگر) دست دهد و حال که ۵ دانش‌آموز داریم  $5 \times 4 = 20$  بار دست دادن تکرار شده است. ولی عمل دست دادن دوطرفه است. پس در شمارش، دست دادن بین هر دو نفر را دو بار شمرده‌ایم. پس تعداد کل دست دادن‌ها  $10 = \frac{5 \times 4}{2}$  است. در حالت ۲۰ دانش‌آموز تعداد  $190 = \frac{20 \times 19}{2}$  است.

**مثال** اگر ۲۰ نفر دور میزی نشسته باشند و هر نفر با افراد کناری خود دست دهد و پس از میهمانی با بقیه دست دهد، تعداد کل دست دادن‌ها، پس از میهمانی چند است؟

$$\frac{n(n-1)}{2} - n = \frac{n(n-3)}{2}$$

تعداد اضلاع - تعداد کل پاره‌خط‌ها

**پاسخ** در واقع مانند آن است که تعداد قطرهای یک  $n$  ضلعی را بیابیم:

$$\frac{20(20-3)}{2} = 170$$

برای ۲۰ نفر، تعداد دست دادن‌ها پس از میهمانی برابر است با:

یا این‌که: تعداد دست دادن‌ها سر میز  $20 \times 2 = 40$  است، ولی هر دست دادن را دو بار به حساب آورده‌ایم؛ پس تعداد دست دادن‌ها بعد از اتمام جلسه  $170 = 190 - 20$  است.



### روش تفاضل متناهی

این تکنیک بسیار جالب، روشی برای حدس زدن فرمول دنباله‌های چندجمله‌ای است. مثلاً دنباله زیر را در نظر بگیرید:

$$۱۶۹, ۱۹۶, ۲۲۵, ۲۵۶, ۲۸۹, ۳۲۴, \dots$$

اگر این دنباله، دنباله‌ای چندجمله‌ای باشد، آیا می‌توانید عدد بعدی را حدس بزنید؟ روش تفاضل متناهی، این است که تفاضل هر دو جمله متناهی را حساب کنیم و دنباله دیگری به دست آوریم. سپس همین کار را با دنباله جدید تکرار کنیم تا جایی که تفاضل هر دو جمله متوالی، عددی ثابت باشد:

$$\begin{array}{ccccccc} ۱۶۹, & ۱۹۶, & ۲۲۵, & ۲۵۶, & ۲۸۹, & ۳۲۴, & \dots \\ \downarrow & \downarrow & \downarrow & \downarrow & \downarrow & \downarrow & \\ ۲۷, & ۲۹, & ۳۱, & ۳۳, & ۳۵, & & \dots \\ \downarrow & \downarrow & \downarrow & \downarrow & & & \\ ۲ & ۲ & ۲ & ۲ & & & \end{array}$$

$$۱۹۶ - ۱۶۹ = ۲۷ \quad ۲۲۵ - ۱۹۶ = ۲۹, \dots \quad \text{در ردیف دوم:}$$

$$۲۹ - ۲۷ = ۲ \quad ۳۱ - ۲۹ = ۲, \dots \quad \text{در ردیف سوم:}$$

آیا اکنون می‌توانید عدد بعدی در دنباله را حدس بزنید؟ با بازگشت به عقب می‌توان جملات بعدی دنباله را حدس زد. عدد بعدی در ردیف سوم، ۲ است. پس در ردیف دوم عدد بعدی باید ۳۷ باشد. بنابراین عدد بعدی در دنباله اصلی باید ۳۶۱ باشد.

این تکنیک یکی از روش‌های بسیار قدرتمند است و می‌توان از آن برای دنباله‌های بسیاری فرمول چند جمله‌ای به دست آورد. برای برخی دنباله‌های عددی تنها یک ردیف تفاضل گرفتن کافی است و برای بعضی دیگر باید چندین دنباله تفاضلی حساب کرد. البته این روش همیشه کارآمد نیست، بعضی وقت‌ها اعداد داده شده برای حدس زدن عدد بعدی کافی نیست. یک اتفاق جالب دیگر که ممکن است در دنباله‌ها بیافتد این است که ممکن است دنباله تفاضلی، تکرار دنباله اصلی باشد؛ مثلاً:

$$۲, ۳, ۵, ۷, ۱۰, ۱۵, ۲۲, ۳۲, \dots$$

$$\begin{array}{ccccccc} \downarrow & \downarrow & \downarrow & \downarrow & \downarrow & \downarrow & \\ ۲ & ۳ & ۵ & ۷ & ۱۰ & & \end{array}$$

در هر صورت محاسبه عدد بعدی کار ساده‌ای است. عدد بعدی در ردیف دوم ۱۵ است. بنابراین عددی که باید در دنباله اصلی حدس بزنیم ۴۷ است.

**مثال** با کمک روش دنباله‌های تفاضلی، جمله بعدی هر یک را حساب کنید:

(الف) دنباله خطی) ۵, ۹, ۱۳, ۱۷, ۲۱, ...

(ب) (تعداد مربع‌های واحد روی سطح مکعب) ۲۴, ۵۴, ۹۶, ۱۵۰, ۲۱۶, ۲۹۴, ۳۸۴, ...

(ج) (توان‌های عدد ۲) ۴, ۸, ۱۶, ۳۲, ۶۴, ۱۲۸, ۲۵۶, ...

(د) (اعداد لوکا) ۷, ۱۱, ۱۸, ۲۹, ۴۷, ۷۶, ۱۲۳, ...

### دنباله عددی (حسابی، خطی)

نوعی دنباله که به هر جمله آن مقداری ثابت (d) افزوده شود تا جمله بعدی به دست آید، دنباله عددی یا دنباله حسابی نامیده می‌شود. به d، قدر نسبت دنباله گفته می‌شود. جمله عمومی دنباله عددی پس از ساده شدن به صورت عبارتی خطی به فرم:  $t_n = n \cdot d + k$  است. بنابراین ضریب n همان قدر نسبت است و n، شماره جمله است.

به طور مثال  $t_n = -7n + 2$  دنباله عددی با قدر نسبت  $d = -7$  و  $t_n = \frac{2-3n}{11}$  که در واقع  $t_n = \frac{2}{11} - \frac{3}{11}n$  است قدر نسبت برابر





$d = \frac{-3}{11}$  دارد. برای  $t_n = (n-1)^2 + 11 - (n+2)^2$  که با ساده شدن به  $t_n = 6n + 14 \rightarrow t_n = n^2 + 4n + 4 - n^2 + 2n - 1 + 11$  می‌رسیم که فرم درجه ۱ (خطی) دارد و بنابراین دنباله عددی با قدر نسبت ۶ (ضریب  $d = n$ ) است. اگر  $t_{n+3} = 3 = t_n + 11$  که با ساده شدن به  $t_{n+3} - t_n = 11$  می‌رسیم به این معنی که تفاضل هر جمله و سه جمله قبلی همیشه ثابت و مقداری ثابت است، نتیجه می‌گیریم که دنباله عددی است. در این حالت انتظار داریم که  $3d = 11$  باشد، پس  $d = \frac{11}{3}$  است. برای نوشتن فرمولی برای دنباله عددی (جمله عمومی)، نخست باید قدر نسبت را به دست آوریم. اگر دو جمله دنباله را داشته باشیم به راحتی می‌توان  $d$  را مشخص کرد. به این ترتیب که می‌دانیم فاصله هر دو جمله متوالی  $d$  است و بنابراین فاصله جمله‌های هفتم و سوم برابر  $4d$  خواهد بود یعنی  $t_7 - t_3 = 4d$  به همین ترتیب:

$$t_m - t_n = (m - n)d$$

سپس می‌نویسیم  $t_n = nd + k$  که در آن به جای  $d$ ، مقدار قدر نسبت را می‌نویسیم و سپس با کمک یکی از جمله‌ها،  $k$  را می‌یابیم.

**مثال** اگر  $t_7 = 3$  و  $d = -2$  باشد، جمله عمومی دنباله عددی چیست؟

$$\begin{aligned} d = -2 \quad t_n &= -2n + k & t_7 &= -2(7) + k = 3 \\ -14 + k &= 3 & k &= 17 & t_n &= -2n + 17 \end{aligned}$$

**پاسخ**

**مثال** جمله‌های پنجم و هشتم دنباله‌ای حسابی به ترتیب ۳ و -۹ هستند، جمله عمومی را مشخص کنید.

$$\begin{aligned} t_8 - t_5 &= (8-5)d & -9-3 &= 3d & -12 &= 3d & d &= -4 \\ t_n &= nd + k & t_n &= -4n + k & t_5 &= 3 & 3 &= -4(5) + k \\ k &= 23 & t_n &= -4n + 23 \end{aligned}$$

روش اول:

$$\begin{aligned} t_n &= nd + k & \left. \begin{aligned} 3 &= 5d + k \\ -9 &= 8d + k \end{aligned} \right\} & -12 &= 3d \\ d &= -4 & k &= 23 & t_n &= -4n + 23 \end{aligned}$$

روش دوم:

$$c - b = b - a = \text{قدر نسبت} \rightarrow c + a = 2b \rightarrow b = \frac{a+c}{2}$$

اگر  $a$ ،  $b$  و  $c$  تشکیل دنباله عددی (حسابی) دهند  
 $b$  را واسطه عددی دو عدد  $a$  و  $c$  می‌نامیم.

چنانچه جمله‌های متوالی دنباله‌ای (رشته‌ای) را مشخص کرده باشند، در صورتی که دو برابر هر عددی برابر مجموع دو عدد قبل و بعد آن باشد، نوع دنباله عددی است.

۳، ۱، -۱، ...

**مثال** جمله عمومی دنباله مقابل را مشخص کنید.

**پاسخ** در هر مرحله، دو واحد کم شده است.  $d = -2$

دقت کنید که دو برابر جمله وسط، برابر مجموع دو جمله طرفین آن است یعنی نوع دنباله، عددی است.

$$t_n = nd + k \quad t_n = -2n + k \quad t_1 = 3 \quad 3 = -2 + k \quad k = 5 \quad t_n = -2n + 5$$





**مثال** جمله عمومی دنباله‌ای عددی را مشخص کنید که قدر نسبت آن ۳ و جمله دوم آن ۷ باشد.

$$d = 3 \quad t_n = nd + k \quad t_2 = 7 \quad 7 = 2 \times 3 + k \quad k = 1 \quad t_n = 3n + 1$$

**پاسخ**

**مثال** جمله عمومی دنباله‌ای عددی را مشخص کنید که جمله‌های سوم و هفتم آن به ترتیب، ۴ و ۱۶ باشند.

**پاسخ** با توجه به این که در دنباله‌های عددی فاصله هر دو جمله متوالی مقدار ثابت  $d$  است، فاصله جمله‌های سوم و هفتم برابر  $4d$  خواهد بود:

$$t_7 - t_3 = 4d \quad -16 - 4 = 4d \quad -20 = 4d$$

$$d = -5 \quad t_n = -5n + k \quad t_3 = 4 \quad 4 = -5 \times 3 + k$$

$$k = 19 \quad t_n = -5n + 19$$

**مثال** بین دو عدد ۳ و ۱۵، پنج عدد درج می‌کنیم که دنباله حاصل تشکیل دنباله عددی دهد. دنباله را مشخص کنید.

**پاسخ** اگر عدد ۳ را جمله اول بگیریم و ۵ جمله وسط و سپس عدد ۱۵، در کل ۷ جمله خواهیم داشت که جمله هفتم ۱۵ خواهد بود. فاصله جمله‌های هفتم و اول، شش جمله است:

$$t_7 - t_1 = 6d \quad 15 - 3 = 6d \quad d = 2$$

$$t_n = 2n + k \quad t_1 = 3 \quad 3 = 2 + k \quad k = 1 \quad t_n = 2n + 1$$

۳, ۵, ۷, ۹, ۱۱, ۱۳, ۱۵

**مثال** جمله عمومی دنباله‌های زیر را بنویسید.

**الف**  $-2a, 11a, 24a, \dots$       **ب**  $a+b, 0, -(a+b), \dots$

**پاسخ**

**الف**  $2 \times 11a = (-2a) + 24a$  نوع دنباله، عددی است.

$$d = 11a - (-2a) = 13a \quad t_n = nd + k \quad t_n = 13an + k$$

$$t_1 = -2a \quad -2a = 13a + k \quad k = -15a \quad t_n = 13an - 15a$$

**ب**  $2 \times 0 = (a+b) + (-(a+b))$  نوع دنباله، عددی است.

$$d = 0 - (a+b) = -(a+b) \quad t_n = nd + k$$

$$t_n = -(a+b)n + k \quad t_1 = (a+b) \quad a+b = -(a+b) + k$$

$$k = 2a + 2b \quad t_n = -(a+b)n + 2a + 2b$$

**مثال** کدام جمله از دنباله  $7, 11, 15, \dots$  برابر  $103$  است؟

**پاسخ** نوع دنباله، عددی است.

$$d = 11 - 7 = 4 \quad t_n = 4n + k \quad t_1 = 7 \quad 7 = 4 + k \quad k = 3$$

$$t_n = 4n + 3 \quad t_n = 103 \quad 103 = 4n + 3 \quad 100 = 4n \quad n = 25$$

جمله بیست و پنجم برابر  $103$  است.

**مثال** کدام جمله دنباله  $104, -91, -78, \dots$  برابر صفر است؟

**پاسخ** نوع دنباله، عددی است.

$$2 \times (-91) = (-104) + (-78) \quad -182 = -182$$





$$d = -91 - (-104) = -91 + 104 = 13 \quad t_n = 13n + k$$

$$t_1 = -104 \quad -104 = 13 + k \quad k = -117$$

$$t_n = 13n - 117 \quad t_n = 0 \quad 0 = 13n - 117 \quad n = 9$$

$$t_9 = 0$$

جمله نهم دنباله، برابر صفر است.

**مثال** در یک دنباله حسابی داریم:  $t_{11} - t_4 = 35$  و  $t_3 + t_{12} = 69$ ، جمله عمومی دنباله را مشخص کنید.

$$t_{11} - t_4 = 7d \quad 35 = 7d \quad d = 5$$

$$t_n = 5n + k \quad t_3 + t_{12} = (15 + k) + (60 + k) = 75 + 2k = 69$$

$$2k = -6 \quad k = -3 \quad t_n = 5n - 3$$

**مثال** در یک دنباله حسابی، مجموع جمله‌های نهم و سیزدهم برابر 50 و جمله پنجم آن 13 است، جمله عمومی دنباله را بیابید.

$$t_n = nd + k \quad t_9 + t_{13} = (9d + k) + (13d + k) = 22d + 2k = 50$$

$$11d + k = 25 \quad \text{رابطه (1)}$$

$$t_5 = 13 \quad 13 = 5d + k \quad \text{رابطه (2)}$$

$$\begin{cases} 11d + k = 25 \\ 5d + k = 13 \end{cases} \quad 6d = 12 \quad d = 2 \quad 10 + k = 13 \quad k = 3 \quad t_n = 2n + 3$$

**مثال** اگر در یک دنباله عددی، جمله هشتم، دو برابر جمله سیزدهم باشد، ثابت کنید جمله دوم نیز دو برابر جمله دهم خواهد بود.

$$t_n = nd + k \quad t_8 = 2t_{13} \quad 8d + k = 2(13d + k)$$

$$8d + k = 26d + 2k \quad -18d = k \quad \text{رابطه (1)}$$

$$\frac{t_2}{t_1} = \frac{2d + k}{10d + k} \xrightarrow{k = -18d} = \frac{2d - 18d}{10d - 18d} = \frac{-16d}{-8d} = 2$$

$$\frac{t_2}{t_1} = 2 \quad t_2 = 2t_1$$

**مثال**  $x$ ، چه باشد اگر  $x+5$  واسطه عددی  $2x+1$  و  $x+2$  باشد؟

**پاسخ** اگر  $a$ ،  $b$  و  $c$  تشکیل دنباله عددی دهند، گوئیم:  $b$  واسطه عددی  $a$  و  $c$  است و رابطه  $2b = a + c$  بین آن‌ها برقرار است.

$$2(x+5) = (2x+1) + (x+2)$$

$$2x+10 = 3x+3 \quad x = 7$$

**مثال** اگر جمله‌های دوازدهم و هشتادوپنجم و جمله آخر در دنباله‌ای عددی به ترتیب 38، 257 و 395 باشند، جمله عمومی دنباله و تعداد جمله‌ها را مشخص کنید.

$$t_{12} = 38 \quad t_{80} = 257$$

**پاسخ** فاصله جمله‌های هشتاد و پنجم و دوازدهم، 73 جمله است، پس:

$$t_{80} - t_{12} = 73d \quad 257 - 38 = 219 = 73d \quad d = 3$$

$$t_n = nd + k \quad t_n = 3n + k \quad t_{12} = 38 \quad 38 = 36 + k \quad k = 2$$

$$t_n = 3n + 2 \quad \text{جمله عمومی}$$

$$395 = 3n + 2 \quad 393 = 3n \quad n = 131$$

دنباله 131 جمله دارد.





**مثال** ثابت کنید اگر  $a$ ،  $b$  و  $c$  تشکیل دنباله حسابی دهند، آن گاه  $\frac{f(b)-f(a)}{b-a}$ ،  $\frac{f(c)-f(a)}{c-a}$  و  $\frac{f(c)-f(b)}{c-b}$  نیز دنباله عددی تشکیل می دهند.

**پاسخ** اگر  $a$ ،  $b$  و  $c$  تشکیل دنباله عددی دهند و قدر نسبت این دنباله  $d$  باشد:  $b-a=d$ ،  $c-a=2d$  و  $c-b=d$  است.  

$$\frac{f(b)-f(a)}{b-a} = \frac{f(b)-f(a)}{d}$$
،  $\frac{f(c)-f(a)}{c-a} = \frac{f(c)-f(a)}{2d}$ ،  $\frac{f(c)-f(b)}{c-b} = \frac{f(c)-f(b)}{d}$   
 برای آن که نشان دهیم این سه جمله، تشکیل دنباله عددی می دهند باید بررسی کنیم که دو برابر جمله وسط، برابر مجموع دو جمله دیگر باشد:

$$2\left(\frac{f(c)-f(a)}{2d}\right) = \frac{f(b)-f(a)}{d} + \frac{f(c)-f(b)}{d}$$

$$\frac{f(c)-f(a)}{d} = \frac{f(b)-f(a)+f(c)-f(b)}{d}$$

$$\frac{f(c)-f(a)}{d} = \frac{f(c)-f(a)}{d} \quad (\text{رابطه بدیهی})$$

**مثال** حاصل ضرب سه جمله متوالی دنباله ای عددی  $1287$  و مجموع آن ها  $33$  است، آن ها را مشخص کنید.

**پاسخ** فرض کنیم سه عدد مورد نظر به صورت:  $a$ ،  $b$  و  $c$  باشند.  
 می دانیم:  $a+c=2b$  است. ( $b$  واسطه عددی  $a$  و  $c$  است).

$$a \cdot b \cdot c = 1287 \quad a+b+c = 33$$

$$2b+b=3b=33 \quad b=11 \quad \begin{cases} a+c=22 \\ 11ac=1287 \end{cases} \quad \begin{cases} a+c=22 \\ a \cdot c=117 \end{cases}$$

$$c=22-a \quad a(22-a)=117 \quad -a^2+22a=117$$

$$a^2-22a+117=0 \quad \begin{cases} a=13, c=9 \\ a=9, c=13 \end{cases}$$

دنباله به یکی از دو شکل مقابل است:  
 $9, 11, 13$  یا  $13, 11, 9$

**مثال** بین اعداد  $11$  و  $111$ ، چه تعداد واسطه عددی می توان قرار داد که بزرگترین واسطه از کوچکترین آن ها  $92$  واحد بیش تر باشد؟

**پاسخ** فرض کنیم که تعداد واسطه ها،  $n$  باشد در این حالت با در نظر گرفتن  $11$  به عنوان جمله نخست،  $111$  جمله  $(n+2)$  ام خواهد بود.  
 $t_{n+2} - t_1 = (n+1)d \quad 111-11=100=(n+1)d$   
 اولین واسطه، جمله دوم و آخرین واسطه، جمله  $(n+1)$  ام خواهد بود.

$$t_{n+1} - t_2 = (n+1-2)d \quad 92 = (n-1)d$$

$$\begin{cases} 100 = (n+1)d \\ 92 = (n-1)d \end{cases} \quad \frac{100}{92} = \frac{(n+1)d}{(n-1)d} \quad \frac{100}{92} = \frac{n+1}{n-1}$$

$$100n - 100 = 92n + 92 \quad 8n = 192 \quad n = \frac{192}{8} = 24$$

تعداد واسطه ها،  $24$  است.

**مثال** جمله عمومی دنباله اعداد بخش پذیر بر  $13$  و سه رقمی را مشخص کنید. این دنباله چند جمله دارد؟

**پاسخ** اولین عدد سه رقمی  $100$  است:  
 $100$  بر  $13$  بخش پذیر نیست و با توجه به باقی مانده  $9$ ، اگر  $4$  واحد به آن بیافزاییم یعنی  $104$ ، نخستین عدد از دنباله است.

$$\begin{array}{r} 100 \quad | \quad 13 \\ - 91 \\ \hline 9 \end{array}$$







$$\begin{array}{r} 999 \quad | \quad 13 \\ - 91 \quad | \quad 76 \\ \hline 89 \\ - 78 \\ \hline 11 \end{array}$$

به همین ترتیب ۹۹۹ آخرین عدد سه رقمی است.  
با توجه به باقی مانده،  $999 - 11 = 988$ ، آخرین عدد بخش پذیر بر ۱۳ و سه رقمی است.

$$\begin{aligned} t_n &= nd + k & t_n &= 13n + k & t_1 &= 104 \\ 104 &= 13 + k & k &= 91 & t_n &= 13n + 91 \\ 988 &= 13n + 91 & n &= 69 \end{aligned}$$

تعداد کل اعداد بخش پذیر بر ۱۳ و سه رقمی، ۶۹ جمله است.

(کنگور)

**مثال** در دنباله عددی ...  $y, 35, x, 125, y$  عدد  $y$  کدام است؟

- (۱) -۱۰      (۲) -۵      (۳) صفر      (۴) ۵

**پاسخ** گزینه (۱) درست است.

$$t_1 = 125 \quad t_3 = 35 \quad t_3 - t_1 = 2d \quad -90 = 2d \quad d = -45 \quad y = 35 + (-45) = -10$$

**مثال** کدام یک از دنباله‌های زیر، دنباله‌ای حسابی است؟

- (۱)  $t_n = 8n + 1$       (۲)  $t_n = n^2$       (۳)  $t_n = \frac{1}{n} - 3$       (۴)  $t_n = n^3 + n$

**پاسخ** گزینه (۱) درست است. جمله عمومی دنباله عددی به فرم  $t_n = nd + k$  (عبارت درجه ۱ بر حسب  $n$ ) است و در این حالت ضریب  $n$  برابر  $d$  است.

**مثال** اعداد  $2p + 3$ ،  $3p + 4$  و  $5p - 1$ ، سه جمله متوالی دنباله‌ای عددی هستند، قدر نسبت این دنباله کدام است؟

(کنگور)

- (۱) -۴      (۲) -۵      (۳) -۶      (۴) -۷

**پاسخ** گزینه (۴) درست است.

$$6p + 8 = 7p + 2 \quad p = 6 \quad 29, 22, 15$$

$$d = 22 - 29 = -7$$

(کنگور)

**مثال** اگر در یک دنباله عددی،  $t_7 - t_{11} = 12$ ، قدر نسبت کدام است؟

- (۱) -۳      (۲) -۲      (۳) ۲      (۴) ۳

**پاسخ** گزینه (۱) درست است.

$$t_7 - t_{11} = (7 - 11)d \quad 12 = -4d \quad d = -3$$

**مثال** در دنباله حسابی با جمله عمومی  $t_n = (k+1)n^2 + 3kn + k - 1$  جمله اول و قدر نسبت به ترتیب کدام اند؟

- (۱) -۵ و -۲      (۲) ۵ و ۲      (۳) ۵ و ۳      (۴) -۵ و -۳

**پاسخ** گزینه (۴) درست است. جمله عمومی دنباله عددی، عبارتی درجه ۱ است؛ پس باید ضریب  $n^2$  برابر صفر باشد.

$$k + 1 = 0 \quad k = -1 \quad t_n = -3n - 2$$

ضریب  $n$  همان قدر نسبت است:  $d = -3$  و  $t_1 = -5$

(کنگور)

**مثال** چندمین جمله از دنباله ...  $8, 5, 2$  برابر ۵۶ است؟

- (۱) ۱۸      (۲) ۱۹      (۳) ۲۰      (۴) ۲۱





**پاسخ** گزینه (۲) درست است. نوع دنباله، عددی است.

$$2(5) = 2 + 8 \quad 10 = 10$$

$$d = 5 - 2 = 3 \quad t_n = 3n + k \quad t_1 = 2 \quad 2 = 3 + k \quad k = -1$$

$$t_n = 3n - 1 \quad t_n = 56 \quad 56 = 3n - 1 \quad n = 19 \quad t_{19} = 56$$

(کنکور)

**مثال** در دنباله حسابی که  $t_1 = 170$  و  $t_7 = 161$ ، چند جمله مثبت دارد؟

۱۹ (۴)

۲۰ (۳)

۱۸ (۲)

۱۷ (۱)

**پاسخ** گزینه (۴) درست است.

$$d = t_7 - t_1 = 161 - 170 = -9$$

$$t_n = -9n + k \quad t_1 = 170 \quad 170 = -9 + k \quad k = 179$$

$$t_n = -9n + 179$$

$$\text{جمله‌های مثبت: } t_n > 0 \quad -9n + 179 > 0 \quad 179 > 9n \quad n < \frac{179}{9}$$

$$n < 19.8, \quad n \in \mathbb{N}$$

۱۹ جمله مثبت دارد.

**مثال** قطار سریع‌السیر به‌طور آزمایشی، فاصله دو شهر را بار اول در ۴ ساعت طی کرده است، طبق برنامه تعیین شده، در هر

رفت و برگشت، ۵ دقیقه از مدت زمان نوبت قبل کاسته می‌شود تا مدت زمان پیمودن این ساعت به ۲ ساعت پیش‌بینی شده

(کنکور)

برسد، تعداد نوبت‌های آزمایشی (با احتساب بار اول) کدام است؟

۲۵ (۴)

۲۴ (۳)

۲۰ (۲)

۱۶ (۱)

**پاسخ** گزینه (۴) درست است. جمله اول ۴ ساعت یعنی ۲۴۰ دقیقه و جمله آخر ۱۲۰ دقیقه و قدر نسبت، (۵-) است.

$$t_n = nd + k \quad t_n = -5n + k$$

$$t_1 = 240 \quad 240 = -5 + k \quad k = 245$$

$$t_n = -5n + 245 \quad 120 = -5n + 245$$

$$5n = 125 \quad n = 25$$

**مثال** اگر مجموع جمله‌های اول، پنجم و نهم دنباله‌ای عددی ۳۶ و جمله پانزدهم برابر ۴۲ باشد، قدر نسبت کدام است؟

(کنکور)

$\frac{4}{3}$  (۴)

۳ (۳)

۲ (۲)

۴ (۱)

**پاسخ** گزینه (۳) درست است.

$$t_n = nd + k \quad t_1 + t_5 + t_9 = d + k + 5d + k + 9d + k$$

$$15d + 3k = 36 \quad 5d + k = 12$$

$$t_{15} = 15d + k = 42 \quad \begin{cases} 5d + k = 12 \\ 15d + k = 42 \end{cases} \quad 10d = 30 \quad d = 3$$

(کنکور)

**مثال** در دنباله‌ای عددی،  $t_m = k$  و  $t_k = m$  است،  $t_{m+k}$  کدام است؟

صفر (۴)

$m \times k$  (۳)

$\frac{m+k}{2}$  (۲)

$m + k$  (۱)

**پاسخ** گزینه (۴) درست است.

$$t_m - t_k = (m - k)d \quad k - m = (m - k)d$$

$$d = \frac{k - m}{m - k} \quad d = -1 \quad t_{m+k} = t_m + kd = k + k(-1) = 0$$





دنباله هندسی

چنانچه در دنباله‌ای، هر جمله در عددی ثابت ضرب شود تا جمله بعدی مشخص شود، دنباله هندسی نامیده می‌شود. در این حالت نسبت هر جمله به جمله قبلی برابر مقداری ثابت (قدر نسبت  $r$ ) خواهد بود. جمله عمومی هر دنباله هندسی را می‌توان به صورت ساده شده  $t_n = r^n \cdot k$  نوشت که  $n$  شماره جمله و  $t_n$  جمله  $n$  ام و  $r$ ، قدر نسبت دنباله و  $k$  عددی ثابت است. با توجه به این که نسبت هر جمله به جمله قبلی  $r$  است، اگر نسبت جمله‌ای به چهارمین جمله قبل آن بیابیم حاصل  $r^4$  و به همین ترتیب داریم  $\frac{t_m}{t_n} = r^{m-n}$  است، سپس می‌نویسیم  $t_n = r^n \cdot k$  و با کمک یکی از جمله‌ها،  $k$  را می‌یابیم.

**مثال** اگر در دنباله‌ای هندسی،  $r = 3$  و  $t_7 = 7$  باشد، جمله عمومی چیست؟

**پاسخ**  $t_n = r^n \cdot k$       $t_n = 3^n \times k$       $t_7 = 7 = 3^7 \times k$       $k = \frac{7}{3^7}$       $t_n = 3^n \times \frac{7}{3^7}$

**مثال** اگر در دنباله‌ای هندسی  $t_5 = 40$  و  $t_7 = 5$  باشد، جمله عمومی چیست؟

**پاسخ**  $\frac{t_5}{t_7} = r^{5-7} = r^{-2} = \frac{40}{5} = 8$       $r^3 = 8$       $r = 2$   
 $t_n = 2^n \times k$       $5 = 2^7 \times k$       $k = \frac{5}{2^7}$       $t_n = 2^n \times \frac{5}{2^7}$

اگر  $a$ ،  $b$  و  $c$  سه جمله متوالی دنباله‌ای هندسی باشند، داریم:  
 $\frac{c}{b} = \frac{b}{a} \rightarrow b^2 = ac$   
 در این حالت  $b$  را واسطه هندسی  $a$  و  $c$  می‌نامیم.  
 برای  $b$  در این حالت دو مقدار قرینه هم می‌توان یافت:  
 $b = \sqrt{ac}$  ،  $b = -\sqrt{ac}$   
 برای آن که تشخیص دهیم که دنباله‌ای از نوع هندسی است یا نه، باید مربع (به توان ۲ رسیده) هر جمله برابر حاصل ضرب جمله‌های قبل و بعد از آن باشد.  
 در صورتی جمله عمومی یک دنباله می‌تواند مربوط به دنباله هندسی باشد که (پس از ساده شدن) فقط از ضرب و تقسیم تشکیل شده و متغیر  $n$  در توان باشد. در این حالت، عددی که به توان  $n$  رسیده که در واقع: «پایه به توان ضرب است، همان قدر نسبت است.»

به طور مثال در  $t_n = \frac{2^{2n+1} \times 3}{5^{n+3} \times 11}$ ، فقط ضرب و تقسیم داریم و متغیر در توان است، پس دنباله هندسی است.

$r = n$  پایه به توان ضرب  $\rightarrow r = \frac{2^2}{5^1} = \frac{4}{5}$   
 $b_n = \frac{2^{1-n} \times 3}{5^{2n+1} \times 7} \rightarrow r = \frac{2^{-1}}{5^2} = \frac{1}{2 \times 25} = \frac{1}{50}$

**مثال** در دنباله‌های زیر، جمله عمومی را مشخص کنید.

- (الف)  $2, -4, 8, \dots$      (ب)  $5, 15, 45, \dots$



**پاسخ**

الف) نوع دنباله، هندسی است.  $(-4)^2 = 2 \times 8$      $16 = 16$

$$r = \frac{-4}{2} = -2 \quad \text{یا} \quad \frac{16}{-4} = -2 \quad t_n = k \cdot r^n \quad t_n = k(-2)^n \quad \text{و} \quad t_1 = 2 \Rightarrow 2 = k(-2)^1 \quad k = -1 \quad t_n = -(-2)^n$$

ب) نوع دنباله، هندسی است.  $15^2 = 5 \times 45$      $225 = 225$

$$r = \frac{15}{5} = \frac{45}{15} = 3 \quad t_n = k \cdot r^n \quad t_n = k \times 3^n \quad \text{و} \quad t_1 = 5 \Rightarrow 5 = k \times 3 \quad k = \frac{5}{3} \quad t_n = \frac{5}{3} \times 3^n$$

**مثال** در دنباله‌ای هندسی، جمله‌های سوم و ششم، به ترتیب برابر ۵ و  $-4^0$  هستند، جمله عمومی دنباله را مشخص کنید.

**پاسخ**

فاصله بین جمله‌های سوم و ششم، ۳ جمله است.

$$\frac{t_6}{t_3} = r^3 \quad \frac{-4^0}{5} = -1 = r^3 \quad r = -2 \quad t_n = r^n \cdot k \quad t_n = (-2)^n \cdot k \quad \text{و} \quad t_3 = 5$$

$$5 = (-2)^3 \cdot k \quad k = \frac{-5}{-8} \quad t_n = (-2)^n \times \frac{-5}{-8}$$

**مثال** جمله هفتم یک دنباله هندسی، هشت برابر جمله چهارم آن است. نسبت جمله سیزدهم به جمله سوم، چیست؟

**پاسخ**

$$t_7 = 8t_4 \quad \frac{t_7}{t_4} = 8$$

فاصله جمله‌های چهارم و هفتم، سه جمله است.

$$\frac{t_7}{t_4} = r^3 = 8 \quad r = 2 \quad \frac{t_{13}}{t_4} = r^{13-4} = r^9 = 2^9 = 512$$

**مثال** نشان دهید، دو دنباله هندسی می‌توان یافت که در هر دو جمله هفتم، ۱۶ برابر جمله پنجم باشد و مجموع سه جمله نخست، برابر ۲۷۳ باشد. جمله چهارم را در هر دو مشخص کنید.

**پاسخ**

فاصله جمله‌های هفتم و پنجم، ۲ جمله است.

$$\frac{t_7}{t_5} = r^{7-5} = r^2 \quad 16 = r^2 \quad r = 4 \quad \text{یا} \quad r = -4$$

اگر جمله اول را  $a$  فرض کنیم، سه جمله اول به صورت:  $ar^2$ ،  $ar$ ، و  $a$  خواهند بود.

$$r = 4: a, 4a, 16a$$

$$a + 4a + 16a = 273 \quad 21a = 273 \quad a = 13 \quad t_1 = 13 \rightarrow t_4 = t_1 \cdot r^3 = 13 \times 4^3 = 832$$

$$r = -4: a, -4a, 16a \quad 13a = 273 \quad a = 21 \quad t_4 = 21(-4)^3 = -1344$$

**مثال** در یک دنباله هندسی، حاصل ضرب جمله‌های چهارم و ششم برابر جمله دهم است، اگر جمله نهم مخالف صفر باشد، تفاضل جمله نخست و قدر نسبت را مشخص کنید.

**پاسخ**

اگر جمله عمومی  $t_n = kr^n$  باشد،  $t_4 = kr^4$  و  $t_6 = kr^6$  و جمله دهم  $t_{10} = kr^{10}$  خواهد بود.

$$t_4 \cdot t_6 = t_{10} \quad kr^4 \cdot kr^6 = kr^{10} \quad k^2 r^{10} = kr^{10} \quad k^2 = k$$

$$k^2 - k = 0 \quad k(k-1) = 0 \quad k = 0 \quad \text{یا} \quad k = 1$$

$$t_1 = kr \quad t_1 - r = kr - r = r(k-1) = r(1-1) = 0$$

