

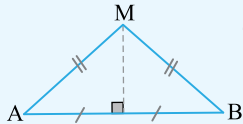


استدلال و اثبات در هندسه

درس اول و دوم: استدلال و آشنایی با اثبات در هندسه

استدلال

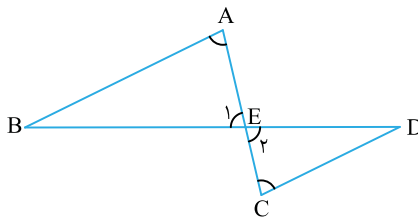
مفهوم	تعریف	مثال
حکم ریاضی	ریاضی‌دان‌ها معمولاً حدس‌های خود را در قالب عبارت‌های ریاضی بیان می‌کنند. این عبارت‌ها «حکم‌های ریاضی» نام دارند. یک حکم ریاضی می‌تواند درست یا نادرست باشد.	حکم ریاضی درست: $a^2 - b^2 = (a-b)(a+b)$ حکم ریاضی نادرست: $23 + 17 = 30$
استدلال	به فرآیند نتیجه‌گیری حکم‌ها «استدلال» می‌گویند. یک استدلال می‌تواند معتبر یا نامعتبر باشد.	استدلال معتبر: $(a+b)(a-b) = a^2 - ab + ab - b^2 = a^2 - b^2$ استدلال نامعتبر: اگر $a^2 = b^2$ در این صورت همواره $a = b$.
اثبات	استدلالی منطقی که درستی یک حکم را نشان می‌دهد.	$(a+b)(a-b) = a^2 - ab + ab - b^2 = a^2 - b^2$
قضیه‌ها	حکم‌هایی که درستی آن‌ها قبلاً ثابت شده است.	هر نقطه روی عمودمنصف یک پاره‌خط از دو سر آن پاره‌خط به یک فاصله است.
اصول موضوع	احکامی که درستی آن‌ها بدون اثبات پذیرفته شده است. «اصول موضوع» نام دارند.	از یک نقطه خارج یک خط، تنها یک خط موازی آن خط می‌توان رسم کرد.



اثبات در هندسه

برای اثبات یک حکم در هندسه، تلاش می‌کنیم به کمک قضیه‌ها و اصول موضوع، استدلالی منطقی برای آن بیان کنیم و به کمک آن استدلال درستی حکم را نتیجه بگیریم.

مثال



در شکل روبه‌رو $\hat{A} = \hat{E}_1$ و $\hat{C} = \hat{E}_2$ می‌خواهیم ثابت کنیم $AB \parallel CD$.

برای این کار به صورت زیر عمل می‌کنیم:

$$\left. \begin{array}{l} \hat{A} = \hat{E}_1 \quad (\text{طبق فرض}) \\ \hat{C} = \hat{E}_2 \quad (\text{طبق فرض}) \\ \hat{E}_1 = \hat{E}_2 \quad (\text{تک‌ضلعی در یک خط مستقیم}) \end{array} \right\} \Rightarrow \hat{A} = \hat{C} \xrightarrow{\text{طبق قضیه‌ی خطوط موازی}} AB \parallel CD$$

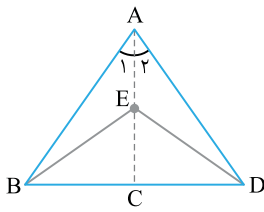
ساختار اثبات در هندسه

هر مسأله‌ی هندسی از دو بخش کلی تشکیل شده است.

فرض	داده‌های مسأله که پذیرفته شده‌اند.
حکم	مواردی که از فرضیات مسأله نتیجه می‌شوند ولی تاکنون درستی آن‌ها را ثابت نکرده‌ایم.

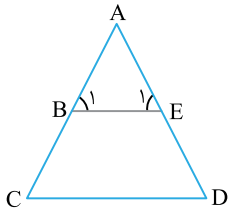


مثال



«در شکل روبه‌رو $AB=AD$ و AC نیمساز زاویه \hat{A} است. ثابت کنید مثلث BDE متساوی‌الساقین است.» در این مثال، فرض و حکم را به‌صورت زیر می‌توان نوشت:

$\hat{A}_1 = \hat{A}_2$, $AB = AD$	فرض
مثلث BDE متساوی‌الساقین است	حکم



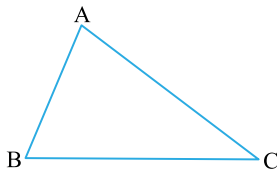
مسئله ۱

در مسأله‌ی زیر، جدول فرض و حکم را کامل کنید.
«در شکل روبه‌رو مثلث ACD مثلثی متساوی‌الساقین با قاعده‌ی CD است. نقطه‌ی B وسط AC و نقطه‌ی E وسط AD است. ثابت کنید $\hat{B}_1 = \hat{E}_1$ ».

$AB = BC$, مثلث ABE	فرض
.....	حکم

راه‌حل: با توجه به آنچه بیان شد، فرض و حکم مسأله به شرح زیر می‌باشد:

مثلث ABE ، مثلث ACD ، $AC = AD$ ، $AB = BC$ و $AE = ED$	فرض
$\hat{B}_1 = \hat{E}_1$	حکم



مسئله ۲

در مسأله‌ی زیر فرض و حکم را مشخص کنید.

«اگر در یک مثلث دو زاویه نابرابر باشند، ضلع روبه‌رو به زاویه بزرگ‌تر بزرگ‌تر است.»

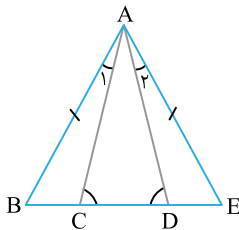
راه‌حل: برای حل این مسأله ابتدا یک شکل رسم می‌کنیم. حال دو زاویه‌ی نابرابر را با \hat{B} و \hat{C} نشان می‌دهیم. بنابراین می‌توان جدول فرض و حکم را چنین تشکیل داد:

ABC مثلث و $\hat{B} > \hat{C}$	فرض
$AC > AB$	حکم

کامل کردن و بررسی درستی استدلال

مسئله ۳

در شکل روبه‌رو مثلث ABE ، با قاعده‌ی BE متساوی‌الساقین است و می‌دانیم $\hat{A}_1 = \hat{A}_2$. ثابت کنید: $\hat{A}_1 = \hat{A}_2$



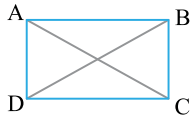
$\hat{A}_1 = \hat{A}_2$	} \xrightarrow{\dots(2)\dots} \begin{matrix} \triangle & \triangle \\ ABC & \cong & ADE \end{matrix}
$\dots(1)\dots = AE$	
$\hat{B} = \hat{E}$ چون مثلث ABE متساوی‌الساقین است.	

در نتیجه طبق برابری اجزای نظیر $\dots(3)\dots$ ، بنابراین مثلث ACD متساوی‌الساقین است، از این رو $\dots(4)\dots$.

راه‌حل: در جایگاه (۱) باید $AB = AE$ را بنویسیم تا تساوی $AB = AE$ به دست آید. در جایگاه (۲) «ز ض ز» باید نوشته شود تا همنهشتی دو مثلث ABC و ADE نتیجه شود. در جایگاه (۳) باید تساوی $AC = AD$ را قرار داد و در جایگاه (۴) تساوی $\hat{A}_1 = \hat{A}_2$ را قرار می‌دهیم.

مسئله ۴

به کمک استدلال زیر می‌خواهیم ثابت کنیم در هر مستطیل قطرهای برابر هستند، جاهای خالی را پر کنید.



$$\left. \begin{array}{l} (۱) \ AD = \dots \\ (۲) \ \hat{D} = \dots = ۹۰^\circ \\ (۳) \ \dots = DC \end{array} \right\} \xrightarrow{(f \# f)} \begin{array}{c} \Delta \quad \Delta \\ ADC \cong BDC \end{array}$$

حال طبق برابری اجزای نظیر نتیجه می‌گیریم $AC = \dots$ (۴).

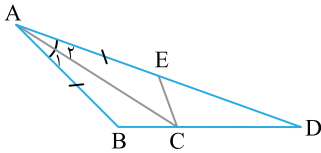
راه‌حل: تساوی‌های (۱)، (۲) و (۳) به شکل زیر کامل می‌شوند:

(۱) $AD = BC$, (۲) $\hat{D} = \hat{C} = ۹۰^\circ$, (۳) $DC = DC$

حال می‌توان دریافت طبق برابری اجزای نظیر ضلع‌های سوم دو مثلث یعنی AC و BD برابرند. در نتیجه تساوی (۴) به شکل $AC = BD$ کامل می‌شود.

مسئله ۵

مینا برای اثبات مسأله‌ای به صورت زیر عمل می‌کند. اشکال استدلال مینا را پیدا کنید.



فرض	$AB = AE$ و AC نیمساز \hat{A}
حکم	$BC = EC$

با توجه به این که AC نیمساز زاویه‌ی A می‌باشد، می‌توان نتیجه گرفت نیمساز زاویه‌ی C هم هست. حال دو مثلث ABC و EAC به حالت «ز ض ز» همنهشت هستند. بنابراین طبق برابری اجزای متناظر خواهیم داشت $BC = EC$.

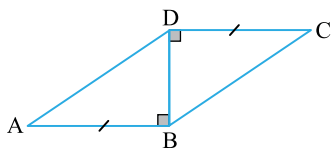
راه‌حل: می‌دانیم AC نیمساز \hat{A} می‌باشد، اما ضرورتی ندارد که نیمساز زاویه‌ی \hat{C} نیز باشد. در واقع اشکال استدلال مینا این است که فرض کرده است AC ، نیمساز زاویه‌ی \hat{C} می‌باشد. استدلال مینا را می‌توان به روش زیر درست کرد:

$$\left. \begin{array}{l} AC = AC \\ \hat{A}_1 = \hat{A}_2 \\ AB = AE \end{array} \right\} \xrightarrow{(f \# f)} \begin{array}{c} \Delta \quad \Delta \\ ABC \cong ACE \end{array}$$

حال طبق برابری اجزای متناظر می‌توان نتیجه گرفت $BC = EC$.

مسئله ۶

زهرا برای اثبات یک مسأله چنین عمل می‌کند:



فرض	$AB = DC$ و $DB \perp DC$ ، $DB \perp AB$
حکم	$\Delta \quad \Delta$ $ABD \cong DBC$

$$\left. \begin{array}{l} \hat{D}BC = \hat{A}DB \\ AD = BC \\ BD = BD \end{array} \right\} \xrightarrow{(f \# f)} \begin{array}{c} \Delta \quad \Delta \\ ABD \cong DBC \end{array}$$

آیا استدلال زهرا درست است؟

راه‌حل: در فرضیات مسأله دلیلی برای تساوی $AD = BC$ آورده نشده است و علت برابری دو زاویه‌ی $\hat{D}BC$ و $\hat{A}DB$ ذکر نشده است. بنابراین استدلال زهرا نامعتبر است. صورت درست استدلال برای ثابت کردن حکم به صورت زیر است:

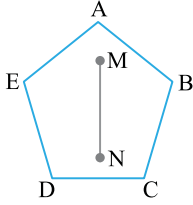
$$\left. \begin{array}{l} BD = BD \\ \hat{D}BA = \hat{D}BC = ۹۰^\circ \\ AB = DC \end{array} \right\} \xrightarrow{(f \# f)} \begin{array}{c} \Delta \quad \Delta \\ ABD \cong DBC \end{array}$$



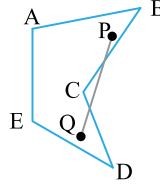
مسئله ۷

محمد و مهدی در حال بررسی محدب و مقعر بودن چندضلعی‌ها هستند. آن‌ها چنین استدلال می‌کنند:

مهدی: چندضلعی روبه‌رو محدب است زیرا دو نقطه مثل M و N درون آن پیدا کرده‌ایم که پاره‌خطی که آن‌ها را به هم وصل می‌کند داخل چندضلعی است.



محمد: چندضلعی زیر مقعر است زیرا دو نقطه مثل P و Q درون آن پیدا کرده‌ایم که پاره‌خطی که آن‌ها را به هم وصل می‌کند، به طور کامل درون چندضلعی قرار نمی‌گیرد.



استدلال کدام یک معتبر است؟

راه‌حل: می‌دانیم اگر پاره‌خطی که دو نقطه داخل یک چندضلعی، درون آن چندضلعی قرار گیرد، چندضلعی مورد نظر محدب است.

توجه کنید که اگر در یک چندضلعی، دو نقطه پیدا کنیم که پاره‌خطی که آن‌ها را به هم وصل می‌کند داخل چندضلعی قرار نگیرد، آن چندضلعی محدب نیست و در نتیجه مقعر است. بنابراین محمد درست استدلال کرده است. همان‌طور که دیدید برای این که ثابت کنیم یک چندضلعی محدب است، باید بگوییم به‌ازای هر دو نقطه داخل چندضلعی پاره‌خطی که آن‌ها را به هم وصل می‌کند، درون آن چندضلعی قرار می‌گیرد و نمی‌توانیم تنها به دو نقطه مثل M و N اکتفا کنیم. در نتیجه استدلال مهدی نامعتبر است.

نتیجه برای رد کردن یک حکم، پیدا کردن تنها یک مثال که خلاف آن حکم باشد کافی است. به این مثال در اصطلاح «مثال نقض» می‌گوییم.

درس سوم: هم‌نهشتی مثلث‌ها

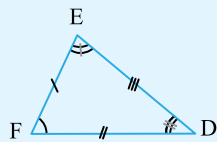
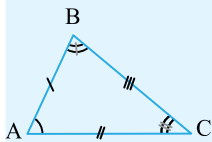
تعریف

دو شکل را هم‌نهشت می‌نامیم اگر بتوان آن‌ها را منطبق بر هم قرار داد.

دو مثلث را هم‌نهشت می‌گوییم اگر هر سه ضلع و هر سه زاویه‌ی آن‌ها با هم برابر باشند. به‌طور مثال در شکل مقابل دو مثلث ABC و DEF، هم‌نهشت هستند. در این صورت می‌توان چنین نوشت:

$$\hat{A} = \hat{F}, \hat{B} = \hat{E}, \hat{C} = \hat{D}$$

$$AB = EF, BC = DE, AC = DF$$



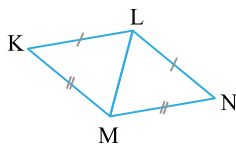
حالت‌های هم‌نهشتی مثلث‌ها

برای بررسی هم‌نهشتی مثلث‌ها، نیازی نیست که همواره برابری هر سه ضلع و هر سه زاویه را بررسی کنیم. بلکه به کمک چند قاعده می‌توان مثلث‌های هم‌نهشت را تشخیص داد. این قاعده‌ها در جدول زیر آمده است.

تساوی سه ضلع «ض ض ض»	تساوی دو ضلع و زاویه‌ی بین آن‌ها «ض ز ض»	تساوی دو زاویه و ضلع بین آن‌ها «ز ض ز»
اگر سه ضلع از مثلثی با سه ضلع از مثلث دیگر برابر باشند، آن‌گاه آن دو مثلث هم‌نهشت هستند.	اگر دو ضلع و زاویه‌ی بین آن‌ها از مثلثی با دو ضلع و زاویه‌ی بین آن‌ها از مثلثی دیگر برابر باشند، آن‌گاه آن دو مثلث هم‌نهشت هستند.	اگر دو زاویه و ضلع بین آن‌ها از مثلثی با دو زاویه و ضلع بین آن‌ها از مثلثی دیگر برابر باشند، آن‌گاه آن دو مثلث هم‌نهشت هستند.

اگر دو مثلث ABC و DEF هم‌نهشت باشند می‌نویسیم $\triangle ABC \cong \triangle DEF$.

توجه

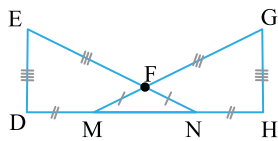


مسئله ۸ با توجه به شکل مقابل ثابت کنید دو مثلث KLM و NLM همبند هستند.

راه حل: می توان نوشت:

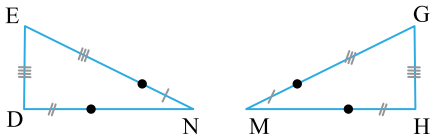
$$\left. \begin{array}{l} KL = LN \\ LM = LM \\ KM = MN \end{array} \right\} \xrightarrow{(f \# f \# f)} \begin{array}{c} \Delta \\ \Delta \end{array} \rightarrow NLM \cong KLM$$

یعنی دو مثلث به حال «ض ض ض»، همبند هستند.

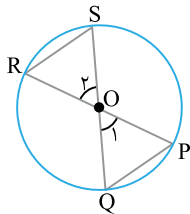


مسئله ۹ در شکل روبه رو ثابت کنید دو مثلث DEN و HGM همبند هستند.

هستند.



راه حل: ابتدا دو مثلث را به شکل مجزا، در شکل روبه رو رسم می کنیم. حال می توان دریافت $DE = GH$ ، $MG = NE$ و $DN = MH$. در نتیجه دو مثلث DEN و HGM به حالت «ض ض ض» همبند هستند.



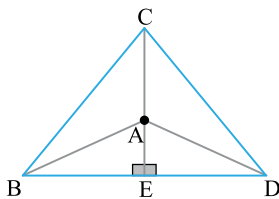
مسئله ۱۰ در شکل روبه رو O مرکز دایره است. ثابت کنید $\Delta ORS \cong \Delta OPQ$.

راه حل: با توجه به این که O مرکز دایره است نتیجه می گیریم OS، OR، OP و OQ شعاع های دایره هستند در نتیجه می توان گفت:

$$\left\{ \begin{array}{l} OS = OQ \text{ (شعاع دایره)} \\ OR = OP \text{ (شعاع دایره)} \\ \hat{O}_1 = \hat{O}_2 \end{array} \right. \xrightarrow{(f \# f \# f)} \begin{array}{c} \Delta \\ \Delta \end{array} \rightarrow ORS \cong OPQ$$

مسئله ۱۱ در شکل روبه رو $CE \perp BD$ و $\hat{CAB} = \hat{CAD}$. ثابت کنید

$$\Delta ABE \cong \Delta ADE$$



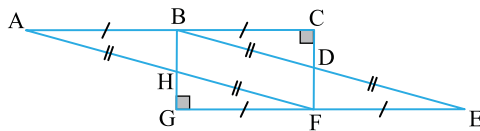
راه حل: می دانیم زاویه های \hat{CAD} و \hat{EAD} مکمل یک دیگرند، به همین ترتیب، \hat{CAB} و \hat{BAE} نیز با هم مکمل هستند. همچنین با توجه به فرض مسئله می دانیم $\hat{CAB} = \hat{CAD}$ ، در نتیجه $\hat{BAE} = \hat{EAD}$. حال می توان نوشت:

$$\left\{ \begin{array}{l} \hat{BAE} = \hat{DAE} \\ AE = AE \\ \hat{AEB} = \hat{AED} = 90^\circ \end{array} \right. \xrightarrow{(p \# f \# f)} \begin{array}{c} \Delta \\ \Delta \end{array} \rightarrow ABE \cong AED$$

همنهشتی مثلث‌های قائم‌الزاویه

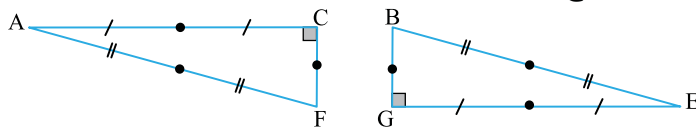
می‌توان حالت‌های همنهشتی مثلث‌ها را برای مثلث‌های قائم‌الزاویه به صورت ساده‌تری بیان کرد، این حالت‌ها در جدول زیر آمده‌اند.

شکل	مثال	توضیح
	<p>در شکل روبه‌رو $AB=DE$ و $\hat{B}=\hat{D}$. در نتیجه:</p> $\triangle ABC \cong \triangle DEF$	<p>اگر وتر و یک زاویه‌ی حاده از یک مثلث قائم‌الزاویه با وتر و یک زاویه‌ی حاده از مثلثی قائم‌الزاویه‌ی دیگر برابر باشند، آن‌گاه آن دو مثلث همنهشت هستند.</p>
	<p>در شکل روبه‌رو $AC=DE$ و $DF=AB$. در نتیجه:</p> $\triangle ABC \cong \triangle DEF$	<p>اگر وتر و یک ضلع مثلثی قائم‌الزاویه، با وتر و یک ضلع از مثلث قائم‌الزاویه‌ی دیگر برابر باشند، آن‌گاه آن دو مثلث همنهشت هستند.</p>



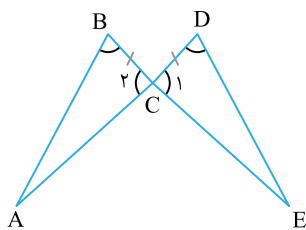
مسئله ۱۲ در شکل روبه‌رو ثابت کنید $\triangle ACF \cong \triangle EGB$.

راه‌حل: ابتدا دو مثلث را جدا از هم ترسیم می‌کنیم. حال می‌توان دریافت $BE=AF$ و $AC=GE$. در نتیجه دو مثلث قائم‌الزاویه‌ی ACF و BGE به حالت وتر و یک ضلع همنهشت هستند.



اجزای نظیر

در حالت کلی، بعد از این که ثابت کردیم دو مثلث همنهشت هستند، می‌توان دریافت ۳ جزء دیگر آن دو مثلث نیز با هم برابر هستند. این ۳ جزء را اجزای متناظر یا اجزای نظیر می‌نامیم.



در شکل روبه‌رو دو مثلث ABC و DCE به حالت «ز ض ز»، همنهشت هستند (زیرا $\hat{B}=\hat{D}$ ، $\hat{C}_1=\hat{C}_2$ و $BC=DC$) اجزای نظیر در این همنهشتی عبارت‌اند از:

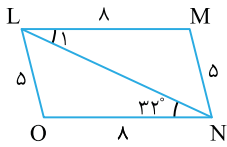
$$\begin{cases} \hat{A}=\hat{E} \\ AC=CE \\ AB=DE \end{cases}$$

مثال

نکته

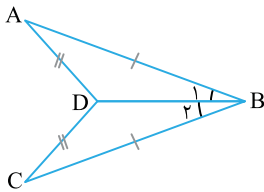
برای تشخیص اجزای نظیر می‌توان از جدول زیر استفاده کرد.

	<p>در شکل روبه‌رو $ABC \cong DEF$ و می‌دانیم $AB=DE$ در نتیجه زاویه‌های روبه‌رو به AB و DE به عنوان اجزای نظیر برابر هستند، یعنی $\hat{C}=\hat{F}$.</p>
	<p>در شکل روبه‌رو $ABC \cong DEF$ و می‌دانیم $\hat{B}=\hat{F}$، در نتیجه ضلع‌های روبه‌رو به \hat{B} و \hat{F} به عنوان اجزای نظیر برابر هستند، یعنی $AC=DE$.</p>



مسئله ۱۳ در شکل روبه‌رو اندازه‌ی زاویه‌ی \hat{L}_1 را حساب کنید.

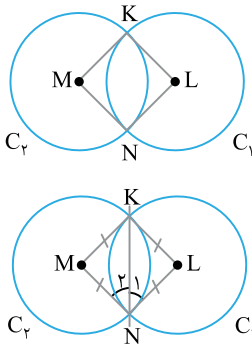
راه‌حل: با توجه به شکل می‌توان نتیجه گرفت دو مثلث LON و LMN به حالت «ض ض ض»، همنهشت هستند، پس طبق برابری اجزای نظیر می‌توان نتیجه گرفت چون $MN=LO=5$ در نتیجه زاویه‌های مقابل به آن‌ها نیز با هم برابرند یعنی: $\hat{L}_1 = 32^\circ$



مسئله ۱۴ با توجه به شکل روبه‌رو و جدول زیر حکم مسئله را ثابت کنید.

فرض	$AD=CD$ و $AB=CB$
حکم	BD نیمساز زاویه‌ی \hat{B} است.

راه‌حل: برای حل مسئله کافی است ثابت کنیم $\hat{B}_1 = \hat{B}_2$. برای این منظور توجه کنید که دو مثلث ADB و DBC به حالت «ض ض ض»، همنهشت هستند، پس طبق برابری اجزای نظیر خواهیم داشت $\hat{B}_1 = \hat{B}_2$ ، بنابراین BD نیمساز زاویه‌ی B می‌باشد.

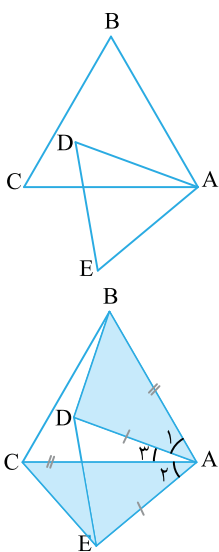


مسئله ۱۵ در شکل روبه‌رو شعاع دو دایره برابر است. ثابت کنید KN نیمساز زاویه‌ی \hat{MNL} است.

راه‌حل: ابتدا با توجه به این که شعاع‌های دو دایره برابر هستند نتیجه می‌گیریم:
 $KL=LN=MN=MK$
 بنابراین می‌توان گفت دو مثلث MKN و KLN به حالت «ض ض ض»، همنهشت هستند زیرا:

$$\begin{cases} KL=MK \\ NK=NK \\ NM=NL \end{cases} \xrightarrow{(f \neq f \neq f)} \begin{matrix} \Delta \\ \Delta \end{matrix} \rightarrow KMN \cong KLN$$

حال طبق برابری اجزای نظیر نتیجه می‌گیریم $\hat{N}_1 = \hat{N}_2$ پس KN نیمساز زاویه‌ی \hat{MNL} است.



مسئله ۱۶ در شکل روبه‌رو مثلث‌های ABC و ADE متساوی‌الاضلاع هستند، ثابت کنید $BD=CE$.

راه‌حل: ابتدا از B به D و از C به E وصل می‌کنیم. حال کافی است ثابت کنیم دو مثلث EAC و DAB همنهشت هستند. می‌دانیم $AB=AC$ و $AD=AE$ ، حال کافی است ثابت کنیم $\hat{A}_1 = \hat{A}_2$. توجه کنید که دو مثلث ABC و ADE متساوی‌الاضلاع هستند، در نتیجه می‌توان گفت:

$$\hat{A}_1 + \hat{A}_3 = 60^\circ, \quad \hat{A}_2 + \hat{A}_3 = 60^\circ$$

از تساوی‌های بالا نتیجه می‌گیریم $\hat{A}_1 = \hat{A}_2$. در نتیجه دو مثلث EAC و DAB به حالت «ض ض ض»، همنهشت هستند، از این رو طبق برابری اجزای نظیر داریم $BD=CE$.