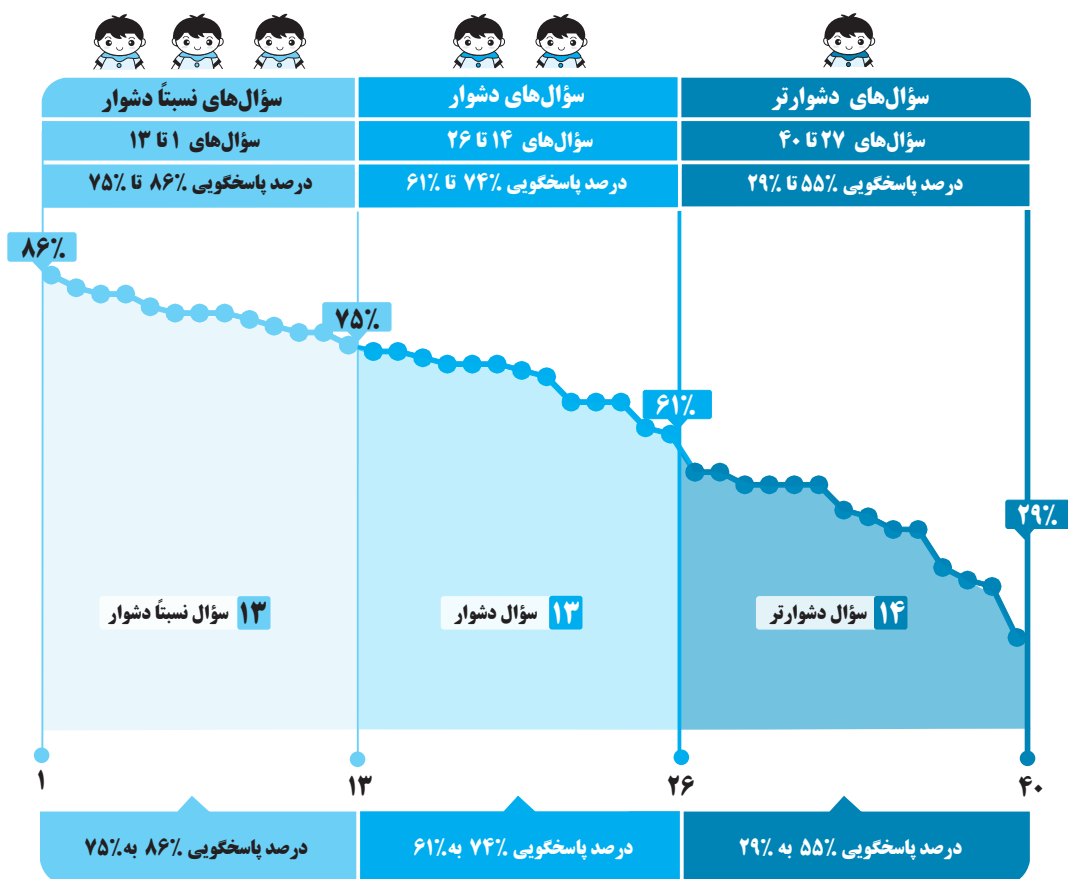




مطالعات اجتماعی
چهارم دبستان

برای هر مبحث کتاب، جدول و نمودار سطح‌بندی سؤال‌ها مانند نمودار پایین تهیه شده. در این جدول تعداد و شماره سؤال پاسخ‌گویی هر سطح، (نسبتاً دشوار، دشوار، دشوارتر)، درصدهای پاسخ‌گویی ابتدایی و انتهایی هر سطح مشخص و نمودار براساس درصد پاسخ به سؤال و شماره سؤال‌ها تنظیم شده است. بدیهی است که این نمودار باید شیب منطقی داشته و هرچه رو به پایان می‌رویم، درصد پاسخ‌گویی کمتر و سؤال‌ها دشوارتر شود.



معرفی نشانه‌ها

در مقابل هر سؤال سه نشانه‌ی زیر را مشاهده می‌کنید:

۳ تاریخ برگزاری آزمون



۲ درصد مراجعه‌کنندگان

به هر سؤال



۱ درصد دانش‌آموزانی که

پاسخ صحیح داده‌اند.



درس اول: همسایه‌ی ما

آبی سبز زرد

| | | | | | | |
|---|----|----|----|----|----|----|
| ۹ | ۱۰ | ۱۱ | ۱۹ | ۲۰ | ۲۱ | ۳۴ |
|---|----|----|----|----|----|----|

درس دوم: اینجا محلّه‌ی ماست

آبی سبز زرد

| | | | | | | | |
|----|----|----|----|----|----|----|----|
| ۱۳ | ۱۵ | ۱۶ | ۱۸ | ۲۸ | ۳۳ | ۳۵ | ۳۸ |
|----|----|----|----|----|----|----|----|

درس سوم: خرید و فروش در محلّه

آبی سبز زرد

| | | | | | | | |
|----|----|----|----|----|----|----|----|
| ۴ | ۵ | ۶ | ۱۴ | ۱۷ | ۲۲ | ۲۳ | ۲۴ |
| ۲۵ | ۲۶ | ۲۷ | ۳۰ | ۳۹ | ۴۰ | | |

درس چهارم: نقشه‌ی محلّه‌ی ما

آبی سبز زرد

| | | | | | |
|----|----|----|----|----|----|
| ۱ | ۲ | ۳ | ۷ | ۸ | ۱۲ |
| ۲۹ | ۳۱ | ۳۲ | ۳۶ | ۳۷ | |

محلّه‌ی ما

فصل اول

با درخت دانش گام به گام پیشرفت خود را ارزیابی کنید.

نسبتاً دشوار دشوار دشوارتر

تعداد تست‌های فصل

تست ۴۰



| | |
|-----------------------|--------|
| تعداد تست‌های دشوارتر | تست ۱۴ |
| حداکثر درصد پاسخگویی | ۵۵ |
| حداقل درصد پاسخگویی | ۲۹ |

| | |
|----------------------|--------|
| تعداد تست‌های دشوار | تست ۱۳ |
| حداکثر درصد پاسخگویی | ۷۴ |
| حداقل درصد پاسخگویی | ۶۱ |

| | |
|----------------------------|--------|
| تعداد تست‌های نسبتاً دشوار | تست ۱۳ |
| حداکثر درصد پاسخگویی | ۸۶ |
| حداقل درصد پاسخگویی | ۷۵ |

گام اول: میزان تسلط خود را با رنگ مشخص کنید.

آبی خیلی خوب
سبز متوسط
زرد مسلط نیستیم

گام‌های بعدی: اگر گام اولتان زرد بود در نوبت‌های بعدی مطالعه و تمرین، پیشرفت خواهید کرد، سپس خانه‌های سبز یا آبی را رنگ کنید.



سؤال‌های نسبتاً دشوار

۱- کدام گزینه نادرست است؟

- ۸۶%
- ۹۶%
- ۹۶/۰۹/۰۳

- (۱) اگر تاکنون به جایی نرفته باشیم، با استفاده از نقشه می‌توانیم آن مکان را پیدا کنیم.
- (۲) در کنار هر نقشه، یک راهنما وجود دارد.
- (۳) برای تهیه‌ی نقشه‌ها، از عکس‌های زمینی استفاده می‌کنیم.
- (۴) راهنمای نقشه، معنای رنگ‌ها و علامت‌های روی نقشه را مشخص می‌کند.

- ۸۴%
- ۹۲%
- ۹۵/۰۸/۲۱

- ۲- با استفاده از نقشه می‌توانیم بفهمیم که
- (۱) از چه راهی می‌توانیم به مکان مورد نظرمان برویم.
- (۲) دقیقاً چقدر طول می‌کشد تا به مقصد برسیم.
- (۳) در رستوران‌ها چه غذاهایی آماده می‌شود.
- (۴) هر پارکینگ عمومی تا چه ساعتی کار می‌کند.

- ۸۳%
- ۹۴%
- ۹۵/۰۹/۰۵

- ۳- اگر از بالا به اتاقمان نگاه کنیم، همه‌ی موارد زیر را می‌بینیم، به جز ...
- (۱) تخت خواب
- (۲) کمد کتاب
- (۳) کتاب‌های درون کمد
- (۴) میز مطالعه

۴- سارا می‌خواهد برای کلاس‌شنای خود، یک عینک‌شنای مناسب بخرد. به نظر شما کدام یک از افراد زیر می‌تواند اطلاعات

- ۸۳%
- ۹۱%
- ۹۳/۰۸/۲۳

- بیش‌تر و بهتری را به او بدهد؟
- (۱) مربی‌شنای او.
- (۲) معلم ریاضی او.
- (۳) مادرش که وکیل است.
- (۴) پدرش که دندان‌پزشک است.

- ۸۱%
- ۹۴%
- ۹۳/۱۰/۲۶

۵- کدام یک از جمله‌های زیر به «پس‌انداز» اشاره دارد؟

- (۱) علی بیشتر پول‌هایی را که مادرش در طول هفته برای تغذیه به او داده بود، در یک قلک انداخت.
- (۲) کمیل همه‌ی پولی را که پدرش برای رفتن به اردو به او داده بود، خرج کرد.
- (۳) پدر زهره همه‌ی حقوق ماهیانه‌اش را برای پرداخت هزینه‌ی سرویس زهره خرج کرد.
- (۴) حسین تمام تابستان را به همراه عمویش در یک کارگاه نجاری کار می‌کرد و با پولی که روزانه می‌گرفت، هر روز از رستوران غذا می‌خرید.

- ۸۰%
- ۹۴%
- ۹۵/۰۸/۲۱

۶- کدام یک از شغل‌های زیر تولیدی است؟

- (۱) خشک‌شویی
- (۲) بانک
- (۳) نانوایی
- (۴) پرستاری

- ۸۰%
- ۹۰%
- ۹۳/۰۸/۲۳

- ۷- علامت‌های و در راهنمای نقشه، به ترتیب به چه معنایی به کار می‌روند؟
- (۱) پمپ‌بنزین - پل
- (۲) پل - پمپ‌بنزین
- (۳) رستوران - پمپ بنزین
- (۴) پل - رستوران

- ۸۰%
- ۹۰%
- ۹۴/۰۸/۲۲

۸- کدام مورد برای تهیه‌ی نقشه به کار برده می‌شود؟

- (۱) تصاویر ذهنی
- (۲) اندازه‌گیری‌های تقریبی
- (۳) محاسبات فرضی
- (۴) عکس‌های هوایی




۹- کدام گزینه تعریف مناسبی از «محله» است؟



- (۱) قسمتی از مردم هستند که به صورت جدا جدا از هم زندگی می‌کنند.
- (۲) قسمتی از یک شهر یا روستا است که در آن گروهی از مردم در همسایگی یکدیگر زندگی می‌کنند.
- (۳) افرادی هستند که در خانه‌های یک شهر زندگی می‌کنند.
- (۴) قسمتی از یک کشور است که گروهی از مردم بر اساس شرایط آب و هوایی در آن زندگی می‌کنند.

۱۰- کدام رفتار ما باعث آزار همسایه‌ها نمی‌شود؟



- (۱) زباله‌ها را در جای مخصوص بگذاریم تا محلّ زندگی همسایه‌ها کثیف و آلوده نشود.
- (۲) صدای رادیو و تلویزیون را بسیار بلند کنیم.
- (۳) زمان استراحت همسایه‌ها، در کوچه توپ بازی کنیم.
- (۴) موقع خداحافظی با مهمان‌ها با صدای بلند صحبت کنیم.

۱۱- کدام گزینه نادرست است؟



- (۱) در مقابل درب پارکینگ دیگران، می‌توانیم اتومبیل خود را پارک کنیم.
- (۲) در زمان استراحت همسایه‌ها، نباید در کوچه سروصدا کنیم.
- (۳) در خانه نباید صدای رادیو و تلویزیون را بلند کنیم.
- (۴) موقع خداحافظی با مهمان‌ها باید با صدای آرام صحبت کنیم.

۱۲- کدام گزینه در مورد نقشه و راهنمای نقشه نادرست است؟



- (۱) رنگ‌های موجود در نقشه معنا و مفهوم خاصی ندارند.
- (۲) با استفاده از نقشه، می‌توانیم بفهمیم که چگونه و از چه راهی می‌توانیم به مقصدمان برسیم.
- (۳) برای تهیه‌ی نقشه از عکس‌های هوایی استفاده می‌شود.
- (۴) راهنمای نقشه، معنی علامت‌های روی نقشه را مشخص می‌کند.

۱۳- کدام یک از موارد زیر صحیح نیست؟




- (۱) محله‌ها با گذر زمان تغییر می‌کنند.
- (۲) بوستان محله، محلی مناسب برای ورزش و استراحت نیست و فقط جنبه‌ی زیبایی دارد.
- (۳) مسجد محلّ برگزاری مراسمی مانند دعا، عزاداری و جشن‌های مربوط به عیدهای مذهبی است.
- (۴) در مسجد، مردم علاوه بر عبادت خدا، برای حلّ مشکلات محله‌ی خود با یکدیگر مشورت می‌کنند.

سؤال‌های دشوار



۱۴- کدام مورد جزو امکانات عمومی یک محله نیست؟



- (۱) باجه‌ی تلفن
- (۲) ایستگاه اتوبوس
- (۳) دستگاه خودپرداز
- (۴) خانه‌های مسکونی



۷۴%

۹۲%

۹۳/۰۷/۲۵

۱۵- کدام گزینه جزو مواردی که در بوستان یک محله باید رعایت شود، نیست؟

- (۱) به وسایل بازی آسیب نرسانیم.
(۲) زباله‌ها را در سطل‌های مخصوص بریزیم.
(۳) می‌توانیم روی چمن‌ها بازی کنیم.
(۴) برای تمیز نگه‌داشتن بوستان و مراقبت از آن تلاش کنیم.

۷۳%

۹۲%

۹۵/۰۷/۲۳

۱۶- بوستان برای کدام کار مناسب نیست؟

- (۱) استراحت
(۲) ورزش
(۳) بازی
(۴) درس خواندن

۷۲%

۹۴%

۹۶/۰۸/۱۹

۱۷- در جدول بودجه، دستمزد با چه عنوانی مشخص می‌شود؟

- (۱) هزینه
(۲) درآمد
(۳) پس‌انداز
(۴) مخارج

۷۲%

۹۴%

۹۴/۰۷/۲۴

۱۸- با توجه به تصویر روبه‌رو، جاهای خالی را به ترتیب با کدام گزینه می‌توان کامل کرد؟

«مردم پشت سر در صف‌های منظم می‌ایستند.»

- (۱) امام جماعت - رو به قبله
(۲) آسمان - رو به قبله
(۳) قبله - کنار صف
(۴) امام جماعت - کنار صف



۱۹- با توجه به سخن حضرت محمد (ص)، اگر می‌خواهیم، باید امانت‌دار و راست‌گو باشیم و با خود به نیکی رفتار کنیم.

۷۲%

۹۰%

۹۵/۰۷/۲۳

- (۱) خدا و پیامبر (ص) ما را دوست داشته باشند - همسایگان
(۲) خدا و پیامبر (ص) ما را دوست داشته باشند - پدر و مادر
(۳) خدا و پیامبر (ص) را دوست داشته باشیم - پدر و مادر
(۴) خدا و پیامبر (ص) را دوست داشته باشیم - همسایگان

۷۱%

۹۳%

۹۵/۰۷/۲۳

۲۰- کدام گزینه در مورد محله‌ها درست نیست؟

- (۱) محله قسمتی از یک شهر است.
(۲) مردم محله در همسایگی یکدیگر زندگی می‌کنند.
(۳) در محله گروهی از مردم زندگی می‌کنند.
(۴) یک محله شامل چندین روستا است.

۷۰%

۸۹%

۹۵/۰۷/۲۳

۲۱- کدام مورد صحیح نیست؟

- (۱) همسایه‌ها بهتر است از حال یکدیگر باخبر باشند.
(۲) ما در خانه‌ی خود می‌توانیم هر کاری که می‌خواهیم، انجام دهیم ولی در خیابان باید مراعات کنیم.
(۳) زباله‌ها را باید در جای مخصوص خود قرار دهیم.
(۴) در ساعات ظهر یا پایان شب نباید بازی پُر سروصدا انجام دهیم.



۶۶%

۲۲- کدام گزینه از امکانات عمومی در شهر محسوب نمی‌شود؟

۹۳%

(۱) ایستگاه تاکسی

۹۵/۸/۲۱

(۲) تلفن کارتی
(۳) پارک
(۴) ماشین پلیس

۲۳- در متن زیر «احسان و پدرش» از چند مکان عمومی استفاده کرده‌اند؟

«روز گذشته احسان به همراه پدرش برای انجام چند کار ضروری و خرید خانه به بیرون رفتند. آن‌ها ابتدا به بانک مراجعه کردند و پدر احسان کارهای بانکی خود را انجام داد، سپس به یک فروشگاه دولتی رفتند و وسایلی را که مادر سفارش داده بود، خریدند. آن‌ها برای این‌که راحت‌تر و سریع‌تر برسند، با اتوبوس شرکت واحد به خانه برگشتند.»

۶۶%

(۱) پنج
(۲) چهار
(۳) شش
(۴) سه

۸۹%

۹۶/۰۹/۰۳

۲۴- سهراب و مادرش، سال گذشته روی هم ۱۰ میلیون تومان به عنوان پس‌انداز به بانک سپردند. امسال به دلیل هزینه‌ی بیماری پدر سهراب، مادر سهراب ۳ میلیون تومان و خود سهراب ۴ میلیون تومان از بانک برداشت کردند. چقدر از پس‌انداز سال گذشته‌ی آن‌ها باقی مانده است؟

۶۶%

۸۷%

۹۳/۰۸/۲۳

(۱) ۳ میلیون تومان
(۲) ۴ میلیون تومان
(۳) ۷ میلیون تومان
(۴) ۸ میلیون تومان

۶۲%

۸۷%

۹۶/۰۷/۲۱

۲۵- کدام یک از موارد زیر، جزء امکانات عمومی نیست؟

(۱) کتاب‌خانه‌ی محله
(۲) فضای سبز
(۳) ایستگاه اتوبوس
(۴) مغازه‌ی پارچه‌فروشی

۶۱%

۹۴%

۹۵/۰۹/۰۵

۲۶- کدام یک از موارد زیر، در جدول بودجه مشخص نمی‌شود؟

(۱) پول توجیبی
(۲) پولی که خرج شده است.
(۳) پولی که ذخیره شده است.
(۴) پولی که می‌خواهیم به دست بیاوریم.

سؤال‌های دشوارتر



۵۵%

۸۸%

۹۵/۰۸/۲۱

۲۷- کدام مورد صحیح است؟

(۱) درآمد = هزینه + پس‌انداز
(۲) درآمد = هزینه - پس‌انداز
(۳) هزینه = درآمد + پس‌انداز
(۴) پس‌انداز = هزینه + درآمد

۵۵%

۸۶%

۹۶/۰۷/۲۱

۲۸- کدام گزینه بیان‌گر ایجاد تغییر در محله نیست؟

(۱) نقل مکان افراد
(۲) تغییر شکل ساختمان‌ها
(۳) تغییر دکور داخل خانه‌ها
(۴) ایجاد کتابخانه

۵۳%

۹۴%

۹۵/۰۹/۰۵

۲۹- راهنمای نقشه چه چیزی را مشخص نمی‌کند؟

(۱) معنای رنگ‌ها
(۲) علامت‌های روی نقشه
(۳) خیابان
(۴) فاصله‌ی بین دو مکان

۵۳%

۹۳%

۹۶/۰۸/۱۹

(۴) چهار

(۳) دو

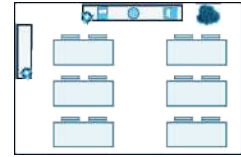
(۲) سه

(۱) یک

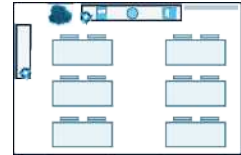
۳۰- چه تعداد از موارد زیر، جزو امکانات عمومی به‌شمار می‌روند؟

«عابر بانک وسایل بازی در پارک تلفن‌های کارتی سطح شهر پارکینگ هر خانه»

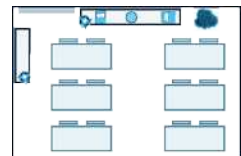
۳۱- نقشه‌ی کلاس زیر، در کدام گزینه آمده است؟



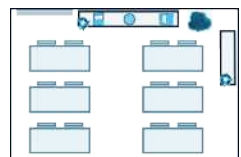
(۱)



(۲)



(۳)



(۴)

۵۳%

۸۸%

۹۵/۰۸/۲۱

۳۲- در تصویری که از بالا، از یک کوچه و ساختمان‌هایش گرفته‌ایم، کدام مورد دیده می‌شود؟

(۱) پنجره‌ی ساختمان‌ها

(۲) آب و ماهی‌های درون حوض

(۳) تمام صندلی‌های اتومبیل‌ها

(۴) علامت روی تابلوهای راهنمایی و رانندگی

۴۹%

۹۱%

۹۳/۰۷/۲۵

۳۳- کدام گزینه نادرست است؟

(۱) در مسجد، برای حل مشکلات محله‌ی خود با دیگران مشورت می‌کنیم.

(۲) مسجد صرفاً محلّ برگزاری مراسم دعا و عزاداری است.

(۳) در مسجد همه از حال هم باخبر می‌شوند.

(۴) در مسجد، مردم علاوه بر عبادت خدا با یکدیگر آشنا می‌شوند.

۳۴- با توجه به حدیث پیامبر اسلام (ص) در درس «همسایه‌ی ما»، کدام گزینه از مواردی که باعث می‌شوند خدا و پیامبر (ص) ما

۴۸%

۸۹%

۹۳/۰۷/۲۵

را دوست داشته باشند، نیست؟

(۱) امانت‌دار بودن

(۲) راست‌گو بودن

(۳) رفتار نیک با همسایگان


(۴) نمازگزار بودن




- ۳۵- با توجه به متن کتاب، چه تعداد از کارهای زیر در مسجد انجام می‌شود؟
 «مراسم دعا - حل مشکلات محله - عبادت خدا - برگزاری عزاداری و جشن‌های مذهبی - بازی»
 (۱) چهار (۲) پنج (۳) سه (۴) دو



- ۳۶- برای تهیه‌ی نقشه‌ی محله‌ی خود، بهتر است در کدام نقطه‌ی محله قرار بگیریم و برای این که دیگران هم بتوانند مکان‌های مختلف را روی نقشه تشخیص دهند، بهتر است از چه روشی استفاده کنیم؟
 (۱) در پایین‌ترین نقطه‌ای که در محله وجود دارد - یک راهنما برای نقشه تهیه کنیم.
 (۲) در بالاترین نقطه‌ای که در محله وجود دارد - یک راهنما برای نقشه تهیه کنیم.
 (۳) در پایین‌ترین نقطه‌ای که در محله وجود دارد - از آن عکس بگیریم.
 (۴) در بالاترین نقطه‌ای که در محله وجود دارد - از آن عکس بگیریم.



- ۳۷- در راهنمای نقشه، علامت  به چه معنایی به کار می‌رود؟
 (۱) خانه (۲) دریا (۳) جاده (۴) اسکله




- ۳۸- کدام گزینه از جمله تغییراتی که در محله‌ها اتفاق می‌افتد، نیست؟
 (۱) شکل و نوع ساختمان‌ها و فعالیت‌ها تغییر می‌کند.
 (۲) امکانات عمومی جدید مانند باجه‌ی تلفن عمومی ایجاد می‌شود.
 (۳) دکور داخل خانه‌ی علی عوض شده است.
 (۴) افراد دیگری به یک محله نقل مکان می‌کنند.

- ۳۹- پدر علی ماه گذشته با کار کردن در یک کارخانه، یک میلیون تومان حقوق گرفت و ۳۰۰ هزار تومان از این پول خرج اجاره‌خانه شد و ۲۰۰ هزار تومان دیگر خرج خرید وسایل مورد نیاز منزل شد. درآمد پدر علی در ماه گذشته چقدر بوده است؟



- (۱) ۳۰۰ هزار تومان
 (۲) ۲۰۰ هزار تومان
 (۳) یک میلیون تومان
 (۴) ۵۰۰ هزار تومان

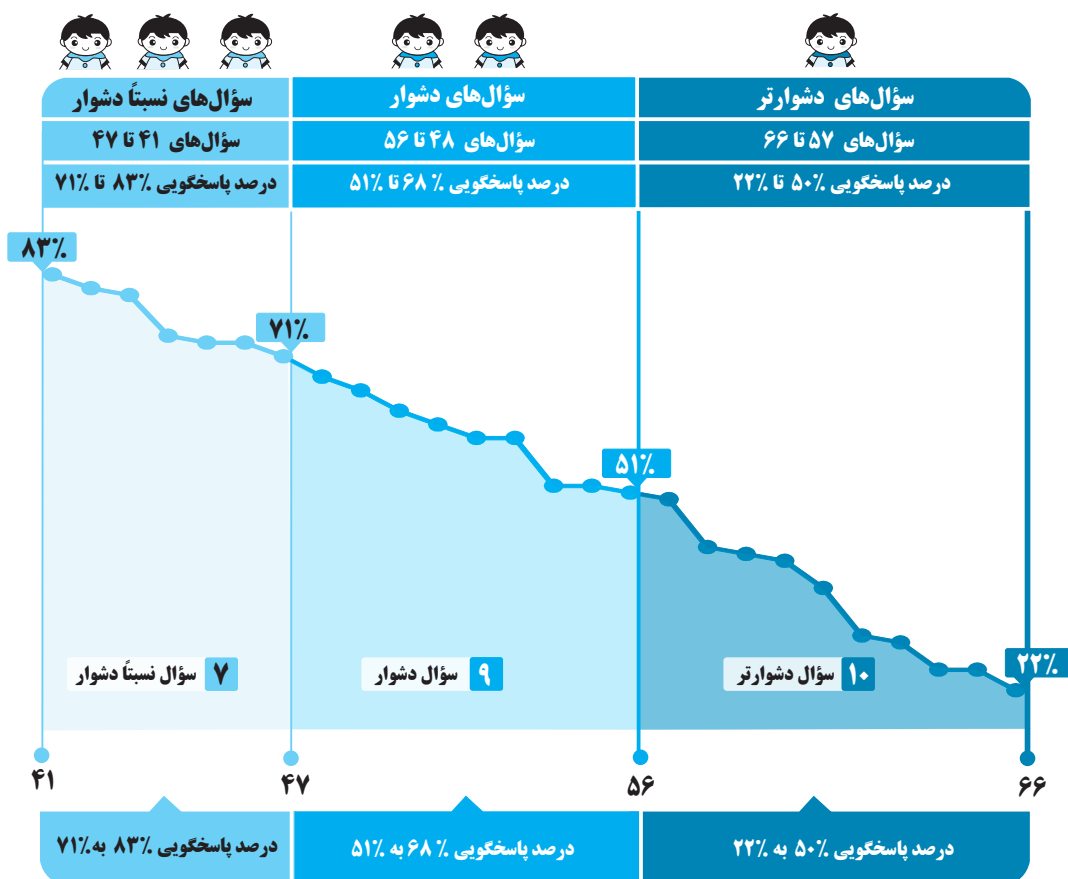
- ۴۰- مریم در ماه آبان هفته‌ای ۶۰۰۰ تومان از مادرش پول توجیبی می‌گیرد. او در پایان ماه برای تهیه‌ی وسایل کاردستی ۱۰۰۰۰ تومان از مادرش گرفته است. اگر مریم در پایان ماه ۱۴۰۰۰ تومان خرج کرده باشد، درآمد او به ترتیب از راست



- به چپ چند تومان بوده است؟
 (۱) ۷۰۰۰۰ - ۱۴۰۰۰
 (۲) ۳۴۰۰۰ - ۲۰۰۰۰
 (۳) ۶۰۰۰۰ - ۱۰۰۰۰
 (۴) ۱۰۰۰۰ - ۱۴۰۰۰

شهر من، روستای من

برای هر مبحث کتاب، جدول و نمودار سطح‌بندی سؤال‌ها مانند نمودار پایین تهیه شده. در این جدول تعداد و شماره سؤال پاسخ‌گویی هر سطح، (نسبتاً دشوار، دشوار، دشوارتر)، درصدهای پاسخ‌گویی ابتدایی و انتهایی هر سطح مشخص و نمودار براساس درصد پاسخ به سؤال و شماره سؤال‌ها تنظیم شده است. بدیهی است که این نمودار باید شیب منطقی داشته و هرچه رو به پایان می‌رویم، درصد پاسخ‌گویی کمتر و سؤال‌ها دشوارتر شود.



معرفی نشانه‌ها

در مقابل هر سؤال سه نشانه‌ی زیر را مشاهده می‌کنید:

۳ تاریخ برگزاری آزمون



۲ درصد مراجعه‌کنندگان

به هر سؤال



۱ درصد دانش‌آموزانی که

پاسخ صحیح داده‌اند.

