

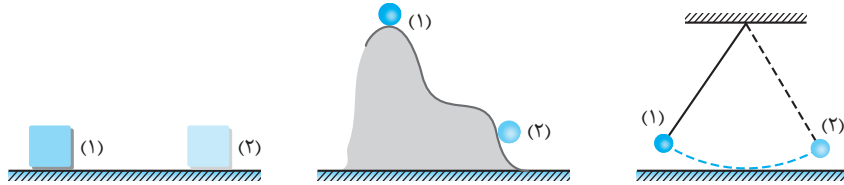
درسنامه پایستگی انرژی مکانیکی - کار و انرژی درونی

انرژی مکانیکی: مجموع انرژی‌های جنبشی و پتانسیل هر جسم را انرژی مکانیکی آن می‌نامیم که با E نشان می‌دهیم. رابطه انرژی مکانیکی به صورت مقابل است:

$$E = U + K$$

اصل پایستگی انرژی مکانیکی: در صورتی که اثر نیروی تلف‌کننده انرژی مانند نیروی اصطکاک و مقاومت هوا ناچیز فرض شود، انرژی مکانیکی جسم در طی حرکت در هر نقطه از مسیر همواره ثابت باقی می‌ماند.

$$E_1 = E_2 \Rightarrow U_1 + K_1 = U_2 + K_2$$



در استفاده از اصل پایستگی انرژی مکانیکی به نکات زیر توجه می‌کنیم:

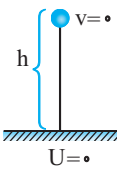
۱. با توجه به ثابت بودن انرژی مکانیکی، کاهش انرژی جنبشی برابر با افزایش انرژی پتانسیل است و برعکس: $E = U + K \Rightarrow \Delta E = \Delta U + \Delta K = 0$

$$\Rightarrow \Delta U = -\Delta K$$

۲. در حل مسائل بهتر است پایین‌ترین سطحی که جسم در آن قرار می‌گیرد را مبدأ انرژی پتانسیل (انرژی پتانسیل صفر $U = 0$) در نظر بگیریم.

نکته

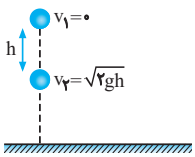
کد: ۵۱۲۰



مکان‌ها و واژه‌های مهم در پرتاب یک جسم در شرایط خلأ (جسم فقط تحت تأثیر نیروی وزن قرار دارد).

۱. پایین‌ترین مکان جسم: در صورتی که پایین‌ترین سطحی که جسم در آن قرار می‌گیرد مبدأ انرژی پتانسیل در نظر گرفته شود، در این سطح تمام انرژی جسم به صورت انرژی جنبشی می‌باشد.

$$E = U + K = K$$

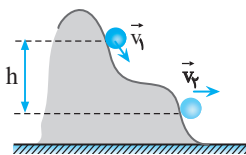


۲. نقطه اوج: در پرتاب در راستای قائم به طرف بالا، در بالاترین ارتفاعی که جسم قرار می‌گیرد (نقطه اوج)، تمام انرژی مکانیکی جسم به صورت انرژی پتانسیل گرانشی است.

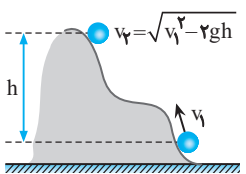
$$E = U + K = U$$

۳. اگر جسمی با تندی v_1 به سمت پایین در حرکت باشد، تندی آن پس از سقوط به اندازه h از محلی که تندی v_1 داشته، از رابطه $v_2 = \sqrt{v_1^2 + 2gh}$ به دست می‌آید.

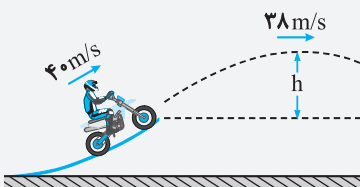
نکته: جسمی که از ارتفاع h می‌شود ($v_1 = 0$)، تندی آن پس از سقوط به اندازه h از محل رها شدن از رابطه $v = \sqrt{2gh}$ به دست می‌آید.



۴. اگر جسمی با تندی v_1 به سمت بالا پرتاب شود، تندی آن در هر ارتفاعی از نقطه پرتابش از رابطه $v_2 = \sqrt{v_1^2 - 2gh}$ به دست می‌آید که h اختلاف ارتفاع دو نقطه مورد نظر است. (v_1 تندی در مکان پایین‌تر و v_2 تندی در مکان بالاتر است.)



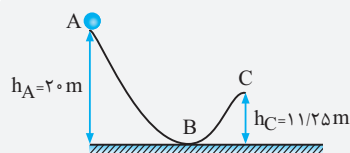
مثال: مطابق شکل مقابل، موتورسواری از انتهای سکوی پرشی با تندی اولیه 40 m/s انجام می‌دهد. اگر تندی موتورسوار در بالاترین نقطه مسیرش به 38 m/s برسد، ارتفاع h چند متر است؟ ($g = 10 \text{ N/kg}$ و اصطکاک و مقاومت هوا را در طول مسیر حرکت موتورسوار نادیده بگیرید.)



حل: در این مسئله اتلاف انرژی وجود ندارد، بنابراین انرژی مکانیکی ثابت می‌ماند. ($E_1 = E_2$) هم‌چنین در این حرکت، جسم فقط تحت تأثیر نیروی وزن قرار دارد. بنابراین می‌توانیم به کمک رابطه زیر h را حساب کنیم:

$$v_2 = \sqrt{v_1^2 - 2gh} \xrightarrow{v_1=40 \text{ m/s}, v_2=38 \text{ m/s}, g=10 \text{ N/kg}} 38 = \sqrt{40^2 - 20h} \xrightarrow{\text{طرفین را به توان ۲ می‌رسانیم}} 38^2 = 40^2 - 20h \Rightarrow 40^2 - 38^2 = 20h$$

به کمک اتحاد مزدوج داریم $\rightarrow (40+38)(40-38) = 20h \Rightarrow 2 \times 78 = 20h \Rightarrow h = 7.8 \text{ m}$



مثال: مطابق شکل زیر گلوله‌ای از نقطه A، مماس با سطح با تندی 15 m/s روبه پایین پرتاب می‌شود. نسبت تندی گلوله در نقطه B به تندی گلوله در نقطه C کدام است؟ (از اتلاف انرژی چشم‌پوشی کنید و $g = 10 \text{ m/s}^2$)

حل: با توجه به صورت سؤال، چون اتلاف انرژی نداریم، بنابراین $E_1 = E_2$ و هم‌چنین چون گلوله تنها تحت تأثیر نیروی وزن است. بنابراین می‌توانیم به کمک روابط زیر، تندی گلوله در نقاط B و C را بیابیم.

$$v_B = \sqrt{v_A^2 + 2gh} \xrightarrow{v_A=15 \text{ m/s}, h=20 \text{ m}, g=10 \text{ m/s}^2} v_B = \sqrt{15^2 + 2 \times 10 \times 20} \Rightarrow v_B = \sqrt{225 + 400} \Rightarrow v_B = \sqrt{625} \Rightarrow v_B = 25 \text{ m/s}$$

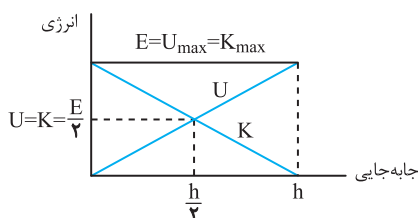
$$v_C = \sqrt{v_A^2 + 2gh'} \xrightarrow{v_A=15 \text{ m/s}, g=10 \text{ m/s}^2, h'=20 - 11.25 = 8.75 \text{ m}} v_C = \sqrt{15^2 + 2 \times 10 \times 8.75} \Rightarrow v_C = \sqrt{225 + 175}$$

$$\Rightarrow v_C = \sqrt{400} \Rightarrow v_C = 20 \text{ m/s}$$

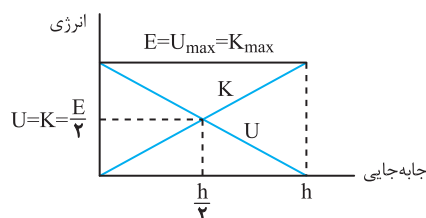
$$\frac{v_B}{v_C} = \frac{25}{20} = \frac{5}{4}$$

نهایتاً نسبت تندی گلوله در نقطه B به نقطه C را می‌یابیم:

۴. نمودار انرژی‌های یک جسم که در شرایط خلأ از سطح زمین به طرف بالا پرتاب می‌شوند (و یا در ارتفاع مشخص رها می‌شوند) برحسب جابه‌جایی به صورت زیر است (h بیشترین ارتفاع جسم از سطح است):



«جسم از سطح زمین رو به بالا پرتاب می‌شود.»

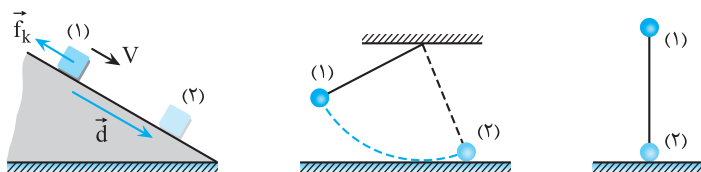


«جسم از ارتفاع h رها می‌شود.»

بررسی اتلاف انرژی در مسیرهای مستقیم و غیرمستقیم

تعریف انرژی درونی: انرژی درونی یک جسم برابر مجموع انرژی‌های ذره‌های تشکیل‌دهنده جسم است. انرژی درونی یک جسم هم به تعداد ذرات جسم و هم به انرژی هر ذره بستگی دارد.

رابطه تبدیل انرژی مکانیکی به انرژی درونی: اگر در طول مسیر حرکت، جسم تحت تأثیر نیروهایی قرار گیرد که اتلاف‌کننده انرژی هستند، تغییر انرژی مکانیکی جسم در یک جابه‌جایی برابر با کار نیروی اتلاف‌کننده انرژی است که معمولاً به صورت گرما ظاهر می‌شود.



$$W_f = E_2 - E_1 = (U_2 + K_2) - (U_1 + K_1) = \Delta U + \Delta K$$

◆ نکته

کار نیروهای اتلاف‌کننده انرژی از جمله نیروی مقاومت هوا و نیروی اصطکاک همواره منفی و برابر با $W_f = -fd$ است.

قانون پایستگی انرژی: در یک سامانه منزوی (سامانه‌ای که نه از محیط اطراف انرژی بگیرد و نه به محیط اطراف انرژی بدهد)، مجموع کل انرژی‌ها پایسته می‌ماند. به عبارتی انرژی را نمی‌توان خلق یا نابود کرد و تنها می‌توان آن را از یک شکل به شکل دیگر تبدیل کرد. این بیان را قانون پایستگی انرژی می‌نامند.

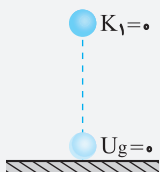
مثال: جسمی به جرم 10 کیلوگرم را از ارتفاع 20 متری رها می‌کنیم و جسم با سرعت 10 متر بر ثانیه به زمین می‌رسد. کار نیروی مقاومت هوا چند ژول است؟

حل: با توجه به شکل روبه‌رو، چون جسم از ارتفاع 20 متری رها شده، بنابراین سرعت اولیه جسم برابر صفر است. با کمک رابطه زیر خواهیم داشت:

$$W_f = E_2 - E_1 \xrightarrow{E=K+U} W_f = (K_2 + U_2) - (K_1 + U_1)$$

$$\xrightarrow{K_1=0, U_2=0} W_f = K_2 - U_1 \xrightarrow{K_2 = \frac{1}{2}mv_2^2, U_1 = mgh_1}$$

$$W_f = \frac{1}{2} \times 10 \times 10^2 - 10 \times 10 \times 20 \Rightarrow W_f = 500 - 2000 = -1500 \text{ J}$$



اصل پایستگی انرژی مکانیکی در مسی‌های مستقیم و غیرمستقیم

مرجع

صفحه ۶۸ تا ۷۲، مرتبط با متن درس

- الف) قم - ارمغان دانش - ۱۴۰۱
- ب) تهران - فاتح - ۱۴۰۱
- پ) تهران - مهر البرز - ۱۴۰۱
- ت) تهران - امام محمدباقر - ۱۴۰۱
- ث) اهرم - حضرت زینب - ۱۴۰۱
- ج) تهران - فدک - ۱۴۰۱
- چ) ارومیه - سما - ۱۴۰۱
- ح) بهشهر - دکتر حسابی - ۱۴۰۱

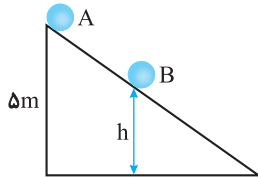
۱۵۱. در هر یک از جمله‌های زیر کلمه یا عبارت درست را انتخاب کنید و یا جاهای خالی را کامل کنید.

- الف) به مجموع انرژی‌های و یک جسم انرژی مکانیکی گفته می‌شود.
- ب) افزایش انرژی درونی هر جسم غالباً به صورت در آن ظاهر می‌شود.
- پ) به مجموع انرژی‌های پتانسیل و جنبشی هر جسم می‌گوییم.
- ت) اتومبیلی پس از ترمز متوقف می‌شود. انرژی جنبشی اولیه اتومبیل به صورت انرژی درونی ظاهر می‌شود. (درست - نادرست)
- ث) در صورتی انرژی مکانیکی جسم پایسته می‌ماند که نیروهای اتلاف کننده انرژی به جسم وارد نشوند. (درست - نادرست)
- ج) اگر نیروهای اتلاfi را در نظر بگیریم، انرژی مکانیکی جسم (ثابت - متغیر) می‌باشد.
- چ) جسم‌هایی که با جرم‌های یکسان و از ارتفاع یکسان و مسی‌های مختلف رها شوند، در هر صورت با تندی یکسان به سطح زمین می‌رسند. (درست - نادرست)
- ح) طبق قانون پایستگی انرژی در یک سامانه مجموع کل انرژی‌های پایسته می‌ماند.

کد: ۵۱۲۰

صفحه ۷۰، مکمل و مرتبط با مثال ۳-۱۲

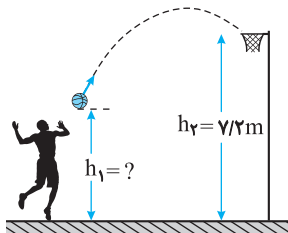
تبریز - مشکات نور - ۱۴۰۱



۱۵۲. جسمی به جرم m از نقطه A با تندی 10 m/s به سمت پایین پرتاب شده و با تندی 12 m/s از نقطه B عبور می‌کند. با صرف‌نظر از اتلاف انرژی، ارتفاع نقطه B از سطح چقدر است؟ ($g = 10 \text{ m/s}^2$)

صفحه ۶۹، مشابه و مرتبط با مثال ۳-۱۱

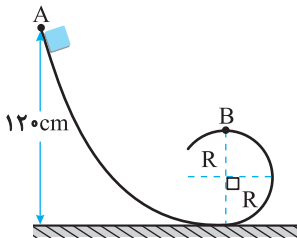
تهران - سید الشهدا - ۱۴۰۱



۱۵۳. در شکل زیر، ورزشکار توپ را با تندی اولیه 10 m/s پرتاب می‌کند و تندی توپ در لحظه ورود به سبد 6 m/s است. اگر از مقاومت هوا صرف‌نظر کنیم، فاصله نقطه پرتاب توپ تا سطح زمین چند متر است؟ ($g = 10 \text{ m/s}^2$)

صفحه ۷۰، مکمل و مرتبط با مثال ۳-۱۲

تهران - فاتح - ۱۴۰۱

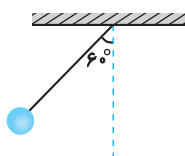


۱۵۴. مطابق شکل زیر جسمی به جرم 4 kg از ارتفاع $1/2$ متری رها شده و سپس وارد مسی‌ دایره شکل به شعاع 20 cm می‌شود.

الف) کار نیروی وزن در مسی AB چقدر است؟ ($g = 10 \text{ m/s}^2$)
ب) اگر از اصطکاک چشم‌پوشی شود، تندی جسم در نقطه B چقدر است؟

صفحه ۶۹، مرتبط با رابطه ۳-۷

شهرکرد - پژوهش - ۱۴۰۱



۱۵۵. مطابق شکل گلوله‌ای به جرم 0.2 کیلوگرم را به طنابی به طول 50 cm بسته و گلوله را به اندازه 60 درجه از وضعیت قائم منحرف و از حال سکون رها می‌کنیم. سرعت گلوله هنگامی که از وضعیت قائم می‌گذرد، چقدر است؟ ($g = 10 \text{ m/s}^2$)

بررسی اتلاف انرژی در مسی‌های مستقیم و غیرمستقیم

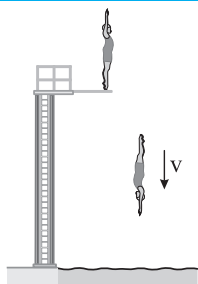
صفحه ۷۲، مکمل و مرتبط با مثال ۳-۱۳

ری - دکتر حسابی - ۱۴۰۱

۱۵۶. تویی به جرم 2 kg را با تندی 15 m/s از سطح زمین به طرف بالا پرتاب می‌کنیم. اگر تا رسیدن توپ به نقطه اوج مقدار 75 J از انرژی مکانیکی توپ تلف شود، حداکثر ارتفاع توپ از زمین چند متر می‌شود؟ ($g = 10 \text{ m/s}^2$)

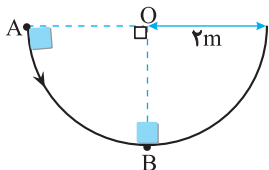
موضوع

صفحه ۷۲، مرتبط و مکمل مثال ۳-۱۳
بابل - البرز - ۱۴۰۱



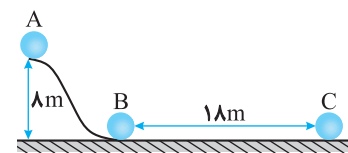
۱۵۷. مطابق شکل یک شناگر به جرم ۸۰ کیلوگرم با سرعت ۲ متر بر ثانیه از روی یک تخته پرش به ارتفاع ۲۰ متر شیرجه می‌زند. اگر شناگر با سرعت ۱۰ متر بر ثانیه به سطح آب برسد، چند ژول انرژی در مسیر تلف شده است؟ ($g = 10 \text{ m/s}^2$)

صفحه ۷۳، مکمل و مرتبط با تمرین ۳-۱۵
تهران - روشنگران - ۱۴۰۱




۱۵۸. مطابق شکل جسمی به جرم ۲kg از نقطه A در نیمکره رها می‌شود. اگر مقدار ۴J از انرژی مکانیکی صرف غلبه بر اصطکاک سطح در مسیر A تا B شود، سرعت جسم در مکان B را بیابید. ($g = 10 \text{ m/s}^2$)

صفحه ۷۲، مکمل و مرتبط با مثال ۳-۱۳
تهران - فدک - ۱۴۰۱



۱۵۹. در شکل مقابل، جسمی به جرم ۵kg از نقطه A روی سطح بدون اصطکاک AB شروع به لغزیدن می‌کند و به نقطه B می‌رسد و پس از طی مسافت $BC = 1 \text{ m}$ متوقف می‌شود. مطلوب است: ($g = 10 \text{ m/s}^2$)
الف) انرژی پتانسیل گرانشی در نقطه A
ب) سرعت جسم در نقطه B
پ) نیروی اصطکاک در مسیر BC

صفحه ۷۲، مکمل و مشابه با مثال ۳-۱۳
سیب و سراوان - پیامبر اعظم - ۱۴۰۱



۱۶۰. چتربازی به جرم ۶۰kg از هواپیمایی که در ارتفاع ۵۰m از سطح زمین و با تندی ۵۰m/s پرواز می‌کند، به بیرون می‌پرد. اگر او با تندی ۱۰m/s به زمین برسد، کار نیروی مقاومت هوا روی چترباز را در طول مسیر سقوط محاسبه کنید. ($g = 10 \text{ m/s}^2$)

صفحه‌های ۷۳ تا ۷۷ کتاب درسی

درسنامه توان و بازده

بررسی توان بدون اتلاف انرژی (بازده ۱۰۰٪)

توان: آهنگ انجام کار را توان می‌نامیم که کمیتی نرده‌ای است.

توان متوسط: هنگامی که کار W در بازه زمانی Δt انجام می‌شود، کار انجام شده در واحد زمان با توان متوسط P_{av} به صورت زیر تعریف می‌شود که یکای

$$P_{av} = \frac{W}{\Delta t}$$

SI آن وات (W) و معادل ژول بر ثانیه است.

تذکره: یکای قدیمی توان، اسب بخار (hp) است که هنوز هم از آن استفاده می‌شود و یک اسب بخار معادل ۷۴۶ وات است. یعنی: $1 \text{ hp} = 746 \text{ W}$

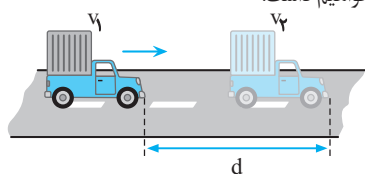
نکته

طبق تعریف توان، هر اندازه کار معینی در زمان کمتری انجام شود و یا در زمان معینی، کار بیشتری انجام گیرد، توان دارای مقدار بیشتری است.

بررسی محاسبه توان در حالت‌های مختلف

الف) تندی و نیروی متوسط وارد بر جسم مطرح باشد: مانند حرکت خودرو، قطار و هواپیما که در این صورت ۳ حالت خواهیم داشت.

۱. اگر جسمی با تندی ثابت v ، در اثر نیروی متوسط \vec{F} جابه‌جا شود، در این صورت توان متوسط



$$P = \frac{W}{t} = \frac{Fd}{t} \xrightarrow{v_{av} = \frac{d}{t}} \xrightarrow{v_{av} = v} P = Fv$$

نیروی \vec{F} از رابطه مقابل به دست می‌آید:

۲. اگر کار کل یا تغییر انرژی جنبشی را داشته باشیم (تندی جسم از v_1 به v_2 تغییر کند):

$$P = \frac{W_{\text{کل}}}{t} = \frac{\Delta K}{t}, \quad \Delta K = \frac{1}{2}m(v_2^2 - v_1^2)$$

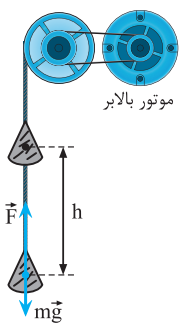
مثال: اتومبیلی به جرم ۱ تن بر روی یک مسیر افقی از حالت سکون به حرکت درمی‌آید و بعد از ۵ ثانیه تندی آن به 8 m/s می‌رسد. توان متوسط برابند نیروهای وارد بر اتومبیل برحسب kW چقدر است؟

حل: به کمک قضیه کار-انرژی جنبشی کار کل نیروهای وارد بر اتومبیل با تغییر انرژی جنبشی اتومبیل برابر است:

$$W_{\text{کل}} = \frac{1}{2}m(v_2^2 - v_1^2) = \frac{1}{2} \times 10^3 \times (8^2 - 0) = 32 \times 10^3 \text{ J}$$

$$P = \frac{W_{\text{کل}}}{t} = \frac{32 \times 10^3}{5} = 6400 \text{ W} = 6.4 \text{ kW}$$

برای محاسبه توان متوسط داریم:



ب) محاسبه توان دستگاه‌های بالابر (پمپ، پله برقی، آسانسور و ...): هر گاه جسمی به جرم m با تندی ثابت، توسط نیروی \vec{F} به طرف بالا تا ارتفاع h جابه‌جا شود، کار انجام شده توسط نیروی \vec{F} برابر با کار نیروی وزن در این جابه‌جایی است.

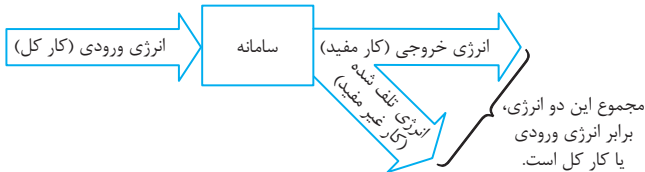
$$P_{\text{av}} = \frac{W}{t} = \frac{mgh}{t}$$

بررسی توان با اتلاف انرژی (بازده کمتر از ۱۰۰٪)

در هر سامانه تنه‌بخشی از انرژی تولیدی یا انرژی ورودی به انرژی موردنظر (انرژی مفید یا انرژی خروجی) تبدیل می‌شود و بخش دیگر انرژی تلف می‌شود (کار غیر مفید). شکل زیر طرح‌واره‌ای است که این نوع تبدیل انرژی‌ها را در سامانه نشان می‌دهد:

بازده: نسبت انرژی خروجی به انرژی ورودی (کل انرژی) در یک سامانه، بازده آن سامانه نام دارد:

$$\text{بازده} = \frac{W_{\text{مفید}}}{W_{\text{تولیدی}}} \times 100 = \frac{E_{\text{مفید}}}{E_{\text{تولیدی}}} \times 100 = \frac{P_{\text{مفید}}}{P_{\text{تولیدی}}} \times 100$$



کد: ۵۱۲۰

صفحه‌های ۷۳ تا ۷۷ کتاب درسی



مرجع	سوال
صفحه‌های ۷۳ تا ۷۴، مرتبط با متن درس (الف) تهران - فدک - ۱۴۰۱ (ب) دزفول - جنت - ۱۴۰۱ (پ) رشت - اندیشه‌های شریف - ۱۴۰۱ (ت) تهران - فرهیختگان - ۱۴۰۱ (ث) تهران - دانشجو - ۱۴۰۱	۱۶۱. در هر یک از جمله‌های زیر، کلمه یا عبارت درست را انتخاب کنید و یا جاهای خالی را کامل کنید. (الف) به تغییرات انجام کار توان می‌گویند. (درست - نادرست) (ب) هر اندازه یک وسیله کار معینی را در زمان (کمتری - بیشتری) انجام دهد، توان انجام کار آن بیشتر است. (پ) یکای توان در SI می‌باشد. (ت) به کار انجام شده در واحد زمان می‌گویند. (ث) آهنگ انجام کار را (توان - انرژی) می‌گویند.
صفحه ۸۱، مکمل و مرتبط با تمرین ۲۰ تهران - دانش مفید - ۱۴۰۱	۱۶۲. تلمبه‌ای در مدت ۲۰ ثانیه، ۲ کیلوگرم آب را تا ارتفاع ۳۰ متر بالا می‌برد. توان متوسط این تلمبه برای انجام این کار چند وات است؟ ($g = 10 \text{ m/s}^2$)
صفحه ۸۱، مکمل و مشابه تمرین ۲۱ کرمانشاه - بعثت - ۱۴۰۱	۱۶۳. شخصی به جرم ۵۰ کیلوگرم در مدت ۱۰ ثانیه از تعداد ۵۰ پله بالا می‌رود. توان متوسط مفید این شخص چند وات است؟ (اتلاف انرژی نداریم و ارتفاع هر پله ۲۰ سانتی‌متر است.)
صفحه ۸۱، مکمل و مشابه تمرین ۲۰ تهران - فرهیختگان - ۱۴۰۱	۱۶۴. بالابری با تندی ثابت، باری به جرم ۵۰۰ کیلوگرم را در مدت ۲ دقیقه تا ارتفاع ۷۵ متر بالا می‌برد. اگر جرم بالابر ۳۲۰ کیلوگرم باشد، توان متوسط مفید موتور آن چند وات و چند اسب بخار است؟ ($g = 10 \text{ m/s}^2$)
صفحه ۷۴، مکمل و مشابه مثال ۳-۱۵ تهران - دانشجو - ۱۴۰۱	۱۶۵. اگر یک پمپ آب با توان متوسط مفید ۳۰۰ وات، در هر دقیقه ۵۰۰ کیلوگرم آب را بتواند از درون زمین بیرون بکشد، این آب حداکثر تا چه ارتفاعی بالا می‌رود؟ ($g = 10 \text{ m/s}^2$)
صفحه ۷۴، مکمل و مشابه مثال ۳-۱۵ شهرکرد - پژوهش - ۱۴۰۱	۱۶۶. آسانسوری با تندی ثابت، ۵ نفر مسافر را در مدت زمان ۸ دقیقه ۷۲ متر بالا می‌برد. اگر جرم متوسط هر نفر ۶۰ کیلوگرم و جرم آسانسور ۷۰۰ کیلوگرم باشد، توان متوسط مفید موتور آسانسور چند وات است؟ ($g = 10 \text{ m/s}^2$)
صفحه ۷۴، مکمل و مشابه مثال ۳-۱۵ تهران - شهید بهرامی - ۱۴۰۱	۱۶۷. پمپ آبی می‌تواند در هر دقیقه ۲۰ kg آب را از عمق ۱۰ متری بالا آورده و با تندی 5 m/s از دهانه لوله خارج کند. توان متوسط مفید پمپ چقدر است؟ ($g = 10 \text{ m/s}^2$)

<p>مرجع</p> <p>صفحه ۷۴، مکمل و مرتبط مثال ۳-۱۵ بهشهر - دکتر حسابی - ۱۴۰۱</p>	<p>۱۶۸. توان الکتریکی متوسط مفید یک موتور که برای بالا بردن اجسام مورد استفاده قرار می‌گیرد، برابر ۳۰۰۰ وات است. اگر توسط این موتور جسمی به جرم ۸۰ کیلوگرم را بالا بکشیم، این جسم در مدت ۱۰ ثانیه چند متر بالا می‌آید؟ ($g = 10 \text{ m/s}^2$)</p>
<p>صفحه ۷۳، مرتبط با رابطه ۳-۹ تهران - سلمان فارسی - ۱۴۰۱</p>	<p>۱۶۹. در یک مسابقه اسکی، ۲۰ ثانیه طول می‌کشد تا اسکی‌بازی به جرم ۶۰kg از ارتفاع ۳۰۰ متری سطح زمین، از حال سکون شیرجه رود و با تندی ۳۰m/s به زمین برسد. اگر نیروی مقاومت هوا ثابت فرض شود، در این مسیر اندازه توان متوسط نیروی مقاومت هوا چند وات است؟ ($g = 10 \text{ m/s}^2$)</p>
<p>صفحه ۸۱، مکمل و مرتبط با تمرین ۲۰ تهران - شهید باهنر - ۱۴۰۱</p>	<p>۱۷۰. در پشت سد آب از ارتفاع ۲۰۰ متری بالای سطح زمین به پایین سد به ارتفاع ۴۰ متر از سطح زمین سرازیر می‌شود. در مسیر حرکت آب توربینی قرار دارد که کار نیروی گرانشی را به انرژی الکتریکی تبدیل می‌کند. اگر توان الکتریکی خروجی از مولد ۲۰۰MW باشد، در هر ثانیه چند متر مکعب آب باید روی توربین بریزد؟ ($g = 10 \text{ m/s}^2, \rho_{\text{آب}} = 1000 \text{ kg/m}^3$)</p>

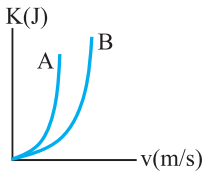
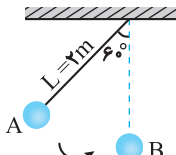
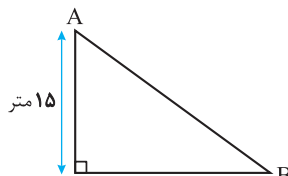
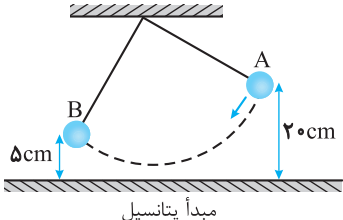
صفحه‌های ۷۵ تا ۷۷ کتاب درسی



<p>مرجع</p> <p>صفحه‌های ۷۵ تا ۷۷، مرتبط با متن درس الف) تهران - مکتب الاحرار - ۱۴۰۱ ب) بهبهان - سرای دانش - ۱۴۰۱ پ) دزفول - جنت - ۱۴۰۱</p>	<p>۱۷۱. در هر یک از جمله‌های زیر، کلمه یا عبارت درست را انتخاب کنید و یا جاهای خالی را کامل کنید. الف) بازده برابر با نسبت انرژی خروجی به انرژی ورودی است. (درست - نادرست) ب) سامانه تعیین می‌کند که چه درصدی از انرژی ورودی به سامانه به انرژی خروجی تبدیل می‌شود. پ) نسبت توان ورودی به سامانه، به توان خروجی از آن (بازده - توان مفید) سامانه نام دارد.</p>
<p>صفحه ۷۵، مکمل و مرتبط با رابطه ۳-۱۰ اسلامشهر - شهید کلینی - ۱۴۰۱</p>	<p>۱۷۲. پمپ آب در هر دقیقه ۳ متر مکعب آب رودخانه‌ای را به نقطه‌ای منتقل می‌کند که ارتفاع آن تا سطح آب رودخانه ۲۴ متر است. اگر توان ورودی پمپ ۲۰kW باشد، بازده پمپ چند درصد است؟ ($g = 10 \text{ m/s}^2, \rho_{\text{آب}} = 1 \text{ g/cm}^3$)</p>
<p>صفحه ۷۵، مرتبط با رابطه ۳-۱۰ الف) شیراز - عدالت - ۱۴۰۱</p>	<p>۱۷۳. جرم اتاقک بالابری به همراه بار آن ۳۰۰ کیلوگرم است. اگر این بالابر در مدت ۵ ثانیه به اندازه ۶ متر بالا رود: الف) توان متوسط مفید موتور این بالابر چند وات است؟ ب) اگر توان ورودی موتور بالابر ۵۰۰۰ وات باشد، بازده موتور چند درصد است؟ ($g = 10 \text{ m/s}^2$)</p>
<p>صفحه ۷۵، مرتبط با رابطه ۳-۱۰ کرج - سالانه - ۱۴۰۱</p>	<p>۱۷۴. توان ورودی یک موتور الکتریکی ۵kW است. اگر این موتور در هر دقیقه ۸۰۰ کیلوگرم آب را با تندی ثابت از چاهی به عمق ۳۰ متر بالا بکشد: ($g = 10 \text{ m/s}^2$) الف) توان متوسط مفید موتور چند وات است؟ ب) بازده موتور چند درصد است؟</p>
<p>صفحه ۷۵، مرتبط با رابطه ۳-۱۰ تهران - فاتح - ۱۴۰۱</p>	<p>۱۷۵. آسانسوری با جرم اتاقک ۱۰۰kg در مدت ۲ دقیقه، شخصی به جرم ۲۰kg را در راستای قائم ۳۰ متر به طرف بالا جابه‌جا می‌کند. اگر بازده آسانسور ۸۰٪ باشد، توان ورودی و خروجی موتور آسانسور را به‌دست آورید. ($g = 10 \text{ m/s}^2$)</p>
<p>صفحه ۷۶، مکمل و مرتبط با تمرین ۳-۱۷ لاهیجان - یاس - ۱۴۰۱</p>	<p>۱۷۶. یک بالابر برقی با توان ۲۵۰۰۰W و بازده ۸۰ درصد، باری به جرم ۱۲۰kg را در مدت چند ثانیه می‌تواند تا ارتفاع ۱۵ متر بالا ببرد؟ ($g = 10 \text{ m/s}^2$)</p>
<p>صفحه ۷۵، مرتبط با رابطه ۳-۱۰ رشت - شهید نصیری - ۱۴۰۱</p>	<p>۱۷۷. بالابری با تندی ثابت، باری به جرم ۱۲۰kg را در مدت زمان ۵ دقیقه تا ارتفاع ۴۰ متر بالا می‌برد. اگر جرم بالابر ناچیز باشد: ($g = 10 \text{ m/s}^2$) الف) توان متوسط مفید موتور آن چند وات و چند اسب بخار است؟ ب) اگر بازده آن ۵۰ درصد باشد، توان ورودی بالابر چقدر بوده است؟</p>
<p>صفحه ۷۵، مرتبط با رابطه ۳-۱۰ ری - دکتر حسابی - ۱۴۰۱</p>	<p>۱۷۸. توان مصرفی (توان ورودی) موتوری ۴kW و بازده موتور ۸۰ درصد است: ($g = 10 \text{ m/s}^2$) الف) این موتور در هر دقیقه چند کیلوژول انرژی تلف می‌کند؟ ب) چه مدت طول می‌کشد تا این موتور، جسمی به جرم ۱۶kg را به اندازه ۲۰m بالا ببرد؟</p>
<p>صفحه ۷۵، مرتبط با رابطه ۳-۱۰ یزد - روش نوین - ۱۴۰۱</p>	<p>۱۷۹. تلمبه‌ای در هر دقیقه ۶۰kg آب را از عمق ۴ متر به ارتفاع ۲ متری بالای سطح زمین می‌برد: ($g = 10 \text{ m/s}^2$) الف) توان متوسط مفید تلمبه چقدر است؟ ب) اگر بازده تلمبه ۸۰ درصد باشد، توان مصرفی تلمبه را به‌دست آورید.</p>
<p>صفحه ۷۵، مرتبط با رابطه ۳-۱۰ تهران - ۱۷ شهریور - ۱۴۰۱</p>	<p>۱۸۰. یک موتور آب حجمی از آب را با آهنگ $3 \text{ m}^3 / \text{s}$ تا ارتفاع ۱۵m بالا می‌برد. اگر بازده موتور ۸۰ درصد باشد، توان الکتریکی مصرفی موتور چند کیلووات است؟ ($g = 10 \text{ m/s}^2, \rho_{\text{آب}} = 1 \text{ g/cm}^3$)</p>

سؤال های ویژه برترها

مجمع

<p>صفحة ۶۹ مکمل و مرتبط با پرسش ۳-۳ ساری - فرزانهگان ۲ - ۱۴۰۱</p>	<p>۱۸۱. مطابق شکل دو گلوله را از ارتفاع h رها می‌کنیم. یکی از گلوله‌ها به صورت قائم در خلأ سقوط می‌کند و دومی روی سطح شیبدار بدون اصطکاک به پایین می‌لغزد. جدول زیر را با کلمات (هست - نیست) کامل کنید.</p>  <table border="1" data-bbox="734 349 1348 513"> <thead> <tr> <th>وابسته به</th> <th>وابسته به جرم</th> <th>کار نیروی وزن روی گلوله‌ها</th> </tr> </thead> <tbody> <tr> <td>مسیر حرکت</td> <td></td> <td></td> </tr> <tr> <td></td> <td></td> <td>تندی گلوله‌ها در انتهای مسیر</td> </tr> </tbody> </table>	وابسته به	وابسته به جرم	کار نیروی وزن روی گلوله‌ها	مسیر حرکت					تندی گلوله‌ها در انتهای مسیر
وابسته به	وابسته به جرم	کار نیروی وزن روی گلوله‌ها								
مسیر حرکت										
		تندی گلوله‌ها در انتهای مسیر								
<p>صفحة ۶۵ مرتبط با متن درس شیراز - شهید دستغیب ۲ - ۱۴۰۱</p>	<p>۱۸۲. ثابت کنید کار نیروی وزن در یک جابه‌جایی قائم برابر با منفی تغییرات انرژی پتانسیل گرانشی است. (رسم شکل و نوشتن روابط مربوطه الزامی است).</p>									
<p>صفحة ۵۴، مرتبط با رابطه ۳-۳ قم - فرزانهگان ۲ - ۱۴۰۱</p>	<p>۱۸۳. الف) اگر تندی متحرکی به جرم m به اندازه 5 متر بر ثانیه افزایش پیدا کند، انرژی جنبشی آن به اندازه $\frac{5}{4}$ انرژی جنبشی اولیه افزایش می‌یابد. تندی اولیه متحرک چند متر بر ثانیه است؟ ب) نمودار مقابل انرژی جنبشی دو جسم A و B را بر حسب تندی آن‌ها نشان می‌دهد. جرم کدام جسم بیشتر است؟</p> 									
<p>صفحة ۶۱ مکمل و مرتبط با رابطه ۳-۴ سنندج - فرزانهگان ۱ - ۱۴۰۱</p>	<p>۱۸۴. کودکی به جرم 15kg از بالای یک سرسره آبی از حال سکون به سمت پایین سر می‌خورد. اگر ارتفاع سرسره 7m باشد: الف) کار نیروی وزن چند ژول است؟ ($g = 10\text{m/s}^2$) ب) اگر کودک با تندی 10m/s به زمین برسد، کار نیروی اصطکاک در این مسیر چند ژول است؟ (با استفاده از قضیه کار و انرژی حل شود).</p> 									
<p>صفحة ۶۹ مکمل و مرتبط با رابطه ۳-۷ تهران - علامه حلی ۴ - ۱۴۰۱</p>	<p>۱۸۵. جسمی از ارتفاع h در شرایط خلأ رها می‌شود و با تندی v از ارتفاع 9 متری سطح زمین عبور می‌کند و با تندی $\frac{3}{2}v$ به سطح زمین می‌رسد. ارتفاع h چند متر است؟ ($g = 10\text{m/s}^2$)</p>									
<p>صفحة ۶۹ مکمل و مرتبط با رابطه ۳-۷ سنندج - فرزانهگان ۱ - ۱۴۰۱</p>	<p>۱۸۶. در شکل زیر طول نخ آونگ 2m است. اگر تندی گلوله آونگ در وضعیت نشان داده شده A برابر 5m/s باشد، با صرف نظر از مقاومت هوا، تندی آونگ در پایین‌ترین وضعیت (نقطه B) چند متر بر ثانیه است؟ (از قانون پایستگی انرژی حل شود و $g = 10\text{m/s}^2$ و $\cos 60^\circ = 0.5$)</p> 									
<p>صفحة ۷۳ مکمل و مرتبط با رابطه ۳-۹ تهران - علامه حلی ۴ - ۱۴۰۱</p>	<p>۱۸۷. خودرویی به جرم 1000kg با تندی 15m/s از بالای سطح شیبدار حرکت کرده و با تندی 25m/s به پایین سطح شیبدار می‌رسد. در مدت زمان 10 ثانیه، توان متوسط موتور خودرو برای انجام این کار چند کیلووات است؟ (نیروهای اتلافی ناچیز هستند) ($g = 10\text{m/s}^2$)</p> 									
<p>صفحة ۷۵ مکمل و مرتبط با رابطه ۳-۱۰ شیراز - شهید دستغیب ۲ - ۱۴۰۱</p>	<p>۱۸۸. یک پمپ برقی با توان کل $6/4\text{kW}$ در مدت زمان 5 دقیقه 6m^3 آب را تا ارتفاع 24m از سطح زمین بالا می‌برد. بازده این پمپ را پیدا کنید. ($\rho_{\text{آب}} = 10^3\text{kg/m}^3$, $g = 10\text{m/s}^2$)</p>									
<p>صفحة ۷۴ مکمل و مرتبط با مثال ۳-۱۴ ملارد - علامه حلی ۱ - ۱۴۰۱</p>	<p>۱۸۹. اتومبیلی به جرم $1 \times 10^3\text{kg}$ برای سبقت گرفتن از کامیونی، در مسیری افقی و در مدت 5s تندی خود را از 20m/s به 30m/s تغییر داده است. در صورتی که بازده موتور 25% باشد، توان متوسط موتور خودرو چقدر باید باشد؟ (از نیروی اصطکاک صفرنظر کنید).</p>									
<p>صفحة ۷۲ مکمل و مرتبط با مثال ۳-۱۳ ملارد - علامه حلی ۱ - ۱۴۰۱</p>	<p>۱۹۰. یک گلوله کوچک به جرم 20g توسط نخ از سقف آویزان است. مطابق شکل این گلوله را با تندی 2 متر بر ثانیه از نقطه A پرتاب می‌کنیم، گلوله حداکثر تا نقطه B جابه‌جا می‌شود. چند ژول از انرژی مکانیکی گلوله در این جابه‌جایی تلف شده است؟ ($g = 10\text{m/s}^2$)</p> 									

۱۴۲. الف) مطابق این قضیه، کار کل انجام شده روی یک جسم با تغییر انرژی جنبشی آن برابر است.

ب) با استفاده از قضیه کار-انرژی جنبشی می‌توان مسئله را حل کرد. ابتدا با توجه به اطلاعات داده شده، انرژی جنبشی اتومبیل را در دو وضعیت مورد نظر مسئله به دست می‌آوریم:

$$K_1 = \frac{1}{2} m v_1^2 \rightarrow \frac{m=5000 \text{ kg}}{v_1=72 \text{ km/h}=20 \text{ m/s}}$$

$$K_1 = \frac{1}{2} \times 5000 \times 20^2 = 10^6 \text{ J}$$

$$K_2 = \frac{1}{2} m v_2^2 \rightarrow \frac{m=5000 \text{ kg}}{v_2=30 \text{ m/s}}$$

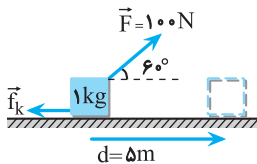
$$K_2 = \frac{1}{2} \times 5000 \times 30^2 = 2.25 \times 10^6 \text{ J}$$

به این ترتیب کار کل انجام شده روی اتومبیل برابر است با:

$$W_t = K_2 - K_1 = \frac{K_2=2.25 \times 10^6 \text{ J}}{K_1=10^6 \text{ J}} \rightarrow W_t = 2.25 \times 10^6 - 10^6$$

$$\Rightarrow W_t = 1.25 \times 10^6 \text{ J}$$

۱۴۳. الف) بر جسم ۴ نیروی وزن، عمودی سطح، F و f_k وارد می‌شود. کار نیروی وزن و نیروی عمودی سطح که بر جابه‌جایی عمودند، صفر می‌باشد. بنابراین کار کل برابر مجموع کار نیروهای F و f_k است و در این حالت داریم:



$$W_t = W_F + W_{f_k} \Rightarrow W_t = (F \cos \theta) d - f_k d$$

$$\frac{F=100 \text{ N}, d=5 \text{ m}}{\theta=60^\circ, \cos 60^\circ = \frac{1}{2}, f_k=10 \text{ N}}$$

$$W_t = 100 \times \frac{1}{2} \times 5 - 10 \times 5 = 200 \text{ J}$$

ب) با استفاده از قضیه کار و انرژی جنبشی داریم:

$$W_t = \Delta K \Rightarrow W_t = \frac{1}{2} m (v_2^2 - v_1^2) \rightarrow \frac{m=1 \text{ kg}, v_1=0}{W_t=200 \text{ J}}$$

$$200 = \frac{1}{2} \times 1 \times (v_2^2 - 0)$$

$$\Rightarrow v_2^2 = 400 \Rightarrow v_2 = 20 \text{ m/s}$$

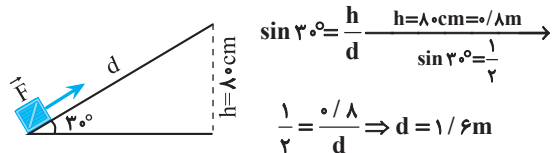
۱۴۴. الف) با استفاده از قضیه کار و انرژی جنبشی می‌توان کار کل را محاسبه کرد. بنابراین داریم:

$$W_t = K_2 - K_1 \Rightarrow W_t = \frac{1}{2} m (v_2^2 - v_1^2)$$

$$\frac{v_1=300 \text{ m/s}, v_2=100 \text{ m/s}}{m=20 \text{ g}=2 \times 10^{-2} \text{ kg}} \rightarrow W_t = \frac{1}{2} \times 2 \times 10^{-2} \times (100^2 - 300^2)$$

$$\Rightarrow W_t = -80 \text{ J}$$

۱۳۸. برای محاسبه کار نیروی ثابت F ، ابتدا جابه‌جایی عمده در امتداد سطح شیب‌دار را به دست می‌آوریم:



$$\sin 30^\circ = \frac{h}{d} \rightarrow \frac{h=8 \text{ cm}=0.08 \text{ m}}{\sin 30^\circ = \frac{1}{2}}$$

$$\frac{1}{2} = \frac{0.08}{d} \Rightarrow d = 0.16 \text{ m}$$

برای محاسبه کار نیروی ثابت F داریم:

$$W_F = (F \cos \theta) d \rightarrow \frac{F=5 \text{ N}, d=0.16 \text{ m}}{\theta=0^\circ, \cos 0^\circ=1}$$

$$W_F = 5 \times 1 \times 0.16 = 0.8 \text{ J}$$

همواره کار نیروی وزن برای جابه‌جایی h در امتداد قائم برابر با $\pm mgh$ است که علامت مثبت برای جابه‌جایی رو به پایین و علامت منفی برای جابه‌جایی رو به بالا است، بنابراین داریم:

$$W_{mg} = -mgh \rightarrow \frac{m=50 \text{ g}=0.05 \text{ kg}}{g=10 \text{ m/s}^2, h=0.08 \text{ m}}$$

$$W_{mg} = -0.05 \times 10 \times 0.08 = -0.04 \text{ J}$$

۱۳۹. در شکل نشان داده شده توپ رو به بالا حرکت کرده است. ابتدا جابه‌جایی توپ در امتداد قائم را می‌یابیم:

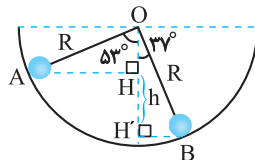
$$h = 3/4 - 1/4 = 2 \text{ m}$$

کار نیروی وزن در این جابه‌جایی در امتداد قائم و رو به بالا برابر است با:

$$W_{mg} = -mgh \rightarrow \frac{m=1/4 \text{ kg}, g=10 \text{ m/s}^2}{h=2 \text{ m}} \rightarrow W_{mg} = -1/4 \times 10 \times 2$$

$$\Rightarrow W_{mg} = -2.5 \text{ J}$$

۱۴۰. کار نیروی وزن جسم تابع اختلاف ارتفاع قائم نقاط ابتدایی و انتهایی مسیر است. ابتدا جابه‌جایی گلوله در امتداد قائم را می‌یابیم:



$$\cos 53^\circ = \frac{OH}{R} \Rightarrow OH = R \cos 53^\circ \rightarrow \frac{R=0.3 \text{ m}}{\cos 53^\circ=0.6}$$

$$OH = 0.3 \times 0.6 = 0.18 \text{ m}$$

$$\cos 37^\circ = \frac{OH'}{R} \Rightarrow OH' = R \cos 37^\circ \rightarrow \frac{R=0.3 \text{ m}}{\cos 37^\circ=0.8}$$

$$OH' = 0.3 \times 0.8 = 0.24 \text{ m}$$

$$h = OH' - OH = \frac{OH'=0.24 \text{ m}}{OH=0.18 \text{ m}} \rightarrow h = 0.24 - 0.18 = 0.06 \text{ m}$$

کار نیروی وزن در این جابه‌جایی در امتداد قائم (h) و رو به پایین برابر است با:

$$W_{mg} = +mgh \rightarrow \frac{m=10 \text{ g}=0.01 \text{ kg}}{g=10 \text{ m/s}^2, h=0.06 \text{ m}}$$

$$W_{mg} = 0.01 \times 10 \times 0.06 = 0.006 \text{ J}$$

- | | |
|---------------|-----------|
| الف) درست | ب) افزایش |
| ب) نادرست | ت) درست |
| ث) مثبت-کاهش | ج) نادرست |
| ج) جسم-سامانه | |

۱۴۸. الف) با توجه به اینکه هواپیما تندی اولیه دارد، در هنگام خروج چتر باز از هواپیما، تندی اولیه چتر باز، همان تندی اولیه هواپیما است. از طرفی به چتر باز دو نیروی وزن و مقاومت هوا وارد می‌شود که جمع کار این دو نیرو با تغییر انرژی جنبشی آن برابر است. به این ترتیب خواهیم داشت:

$$W_t = W_{mg} + W_{\text{مقاومت هوا}} = \Delta K$$

$$\Rightarrow +mgh + W_{\text{مقاومت هوا}} = \frac{1}{2}m(v_2^2 - v_1^2)$$

$$\frac{m=80\text{kg}, g=10\text{m/s}^2, h=500\text{m}}{v_1=20\text{m/s}, v_2=30\text{m/s}} \rightarrow +80 \times 10 \times 500 + W_{\text{مقاومت هوا}} = 20000$$

$$\Rightarrow W_{\text{مقاومت هوا}} = -380000\text{J}$$

(ب) با استفاده از رابطه محاسبه کار نیروی ثابت داریم:

$$W_{\text{مقاومت هوا}} = -f_{\text{هوا}} h \rightarrow \frac{W_{\text{مقاومت هوا}} = -380000}{h=500\text{m}} \rightarrow -380000 = -500h \Rightarrow f_{\text{هوا}} = 760\text{N}$$

۱۴۹. الف) هنگامی که فنری را توسط جسمی فشرده و رها می‌کنیم، انرژی پتانسیل کشسانی سامانه جسم- فنر به انرژی جنبشی جسم تبدیل می‌شود و جسم با تندی زیادی پرتاب می‌شود.

(ب) کار نیروی وزن برابر است با:

$$W_{mg} = -mgh \rightarrow \frac{m=200\text{kg}, g=10\text{m/s}^2, h=10\text{m}}{g=10\text{m/s}^2, h=10\text{m}} \rightarrow W_{mg} = -2000\text{J}$$

کار نیروی وزن برابر با منفی تغییر انرژی پتانسیل گرانشی است، بنابراین داریم:

$$W_{mg} = -\Delta U \rightarrow -2000 = -\Delta U \Rightarrow \Delta U = 2000\text{J}$$

۱۵۰. الف) کار نیروی وزن برابر با منفی تغییرات انرژی پتانسیل گرانشی جسم است، بنابراین داریم:

$$W_{mg} = -mg\Delta h = -mg(h_C - h_A)$$

$$\frac{m=10\text{kg}, h_A=5\text{m}}{h_C=2\text{m}, g=10\text{m/s}^2} \rightarrow W_{mg} = -10 \times 10 \times (2-5)$$

$$\Rightarrow W_{mg} = 300\text{J}$$

(ب) برای محاسبه تغییر انرژی پتانسیل گرانشی و چگونگی تغییر آن از کار نیروی وزن به صورت زیر استفاده می‌کنیم:

$$W_{mg} = -\Delta U \Rightarrow \Delta U = -W_{mg} \Rightarrow \Delta U = mg\Delta h$$

$$\frac{m=70\text{kg}, g=10\text{m/s}^2}{\Delta h=h_2-h_1=4-6=-2\text{m}} \rightarrow \Delta U = 70 \times 10 \times (-2)$$

$$\Rightarrow \Delta h = -1400\text{J}$$

انرژی پتانسیل گرانشی جسم به اندازه ۱۴۰۰ ژول کاهش می‌یابد.

۱۵۱. الف) جنبشی - پتانسیل
 (ب) گرما
 (پ) انرژی مکانیکی
 (ت) درست
 (ج) متغیر
 (ح) منزوی
 (ث) درست
 (چ) نادرست

(ب) کار کل وارد بر جسم با مجموع کار نیروهای f ، وزن و نیروی عمودی سطح برابر است. کار نیروی عمودی سطح و وزن که بر جابه‌جایی عمودند، صفر است. بنابراین داریم:

$$W_t = W_f \Rightarrow W_t = -fd \rightarrow \frac{W_t = -800\text{J}}{d=10\text{cm}=0.1\text{m}} \rightarrow -800 = -f \times 0.1 \Rightarrow f = 8000\text{N}$$

۱۴۵. به جسم ۳ نیروی وزن، عمودی سطح و f_k وارد می‌شود که کار نیروی عمودی سطح به دلیل عمود بودن بر جابه‌جایی صفر است. کار کل که برابر مجموع کار تک‌تک نیروها است، برابر است با:

$$W_t = W_{mg} + W_{f_k} \Rightarrow W_t = +mgh + W_{f_k}$$

$$\frac{h=d \sin 30^\circ = 6 \times \frac{1}{2} = 3\text{m}, W_{f_k} = -48\text{J}}{m=4\text{kg}, g=10\text{m/s}^2} \rightarrow W_t = 4 \times 10 \times 3 - 48 \Rightarrow W_t = 72\text{J}$$

با استفاده از قضیه کار و انرژی می‌توان نوشت:

$$W_t = \frac{1}{2}m(v_2^2 - v_1^2) \rightarrow \frac{W_t = 72\text{J}, m=4\text{kg}}{v_1=0} \rightarrow 72 = \frac{1}{2} \times 4 \times (v_2^2 - 0) \Rightarrow 36 = v_2^2 \Rightarrow v_2 = 6\text{m/s}$$

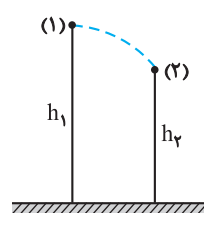
۱۴۶. به سنگ دو نیروی وزن و مقاومت هوا وارد می‌شود که جمع کار این دو نیرو با تغییر انرژی جنبشی سنگ در ابتدا و انتهای مسیرش برابر است. بنابراین خواهیم داشت:

$$W_t = W_{mg} + W_{\text{مقاومت هوا}} = \frac{1}{2}m(v_2^2 - v_1^2)$$

$$\Rightarrow -mgh - f_{\text{هوا}} h = \frac{1}{2}m(v_2^2 - v_1^2)$$

$$\frac{m=40\text{kg}, g=10\text{m/s}^2, v_2=0}{v_1=30\text{m/s}, f_{\text{هوا}}=50\text{N}} \rightarrow -40 \times 10 \times h - 50 \times h = \frac{1}{2} \times 40 \times (0 - 900) \Rightarrow 40 \times 5h = 1800 \Rightarrow h = \frac{1800}{40} = 45\text{m}$$

۱۴۷. به موتورسوار و موتور دو نیروی وزن و مقاومت هوا وارد می‌شود که جمع کار این دو نیرو با تغییر انرژی جنبشی آن‌ها برابر است. به این ترتیب خواهیم داشت:



$$W_t = W_{mg} + W_{\text{مقاومت هوا}}$$

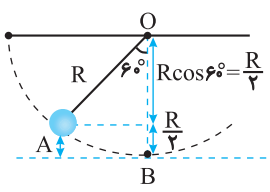
$$= \frac{1}{2}m(v_2^2 - v_1^2)$$

$$\Rightarrow +mgh + W_{\text{مقاومت هوا}} = \frac{1}{2}m(v_2^2 - v_1^2)$$

$$\frac{m=200\text{kg}, g=10\text{m/s}^2, v_1=15\text{m/s}}{v_2=20\text{m/s}, h=h_1-h_2=70-60=10\text{m}} \rightarrow 200 \times 10 \times 10 + W_{\text{مقاومت هوا}} = \frac{1}{2} \times 200 \times (400 - 225)$$

$$\Rightarrow 20000 + W_{\text{مقاومت هوا}} = 17500$$

$$\Rightarrow W_{\text{مقاومت هوا}} = -2500\text{J}$$



۱۵۵. اگر مبدأ انرژی پتانسیل گرانشی را پایین‌ترین سطحی که گلوله از آن عبور می‌کند، در نظر بگیریم، به کمک اصل پایستگی انرژی مکانیکی می‌توان نوشت:

$$E_A = E_B \Rightarrow K_A + U_A = K_B + U_B$$

$$\Rightarrow \frac{1}{2}mv_B^2 + mgh_B = \frac{1}{2}mv_A^2 + mgh_A$$

با حذف m از طرفین معادله بالا و جایگذاری مقادیر داده شده داریم:

$$\frac{v_A = 0, h_A = \frac{R}{2} = \frac{50}{2} = 25 \text{ cm} = 0.25 \text{ m}}{g = 10 \text{ m/s}^2, h_B = 0}$$

$$\frac{1}{2} \times v_B^2 + 0 = 0 + 10 \times 0.25$$

$$\frac{1}{2} \times v_B^2 = 2.5 \Rightarrow v_B^2 = 5 \Rightarrow v_B = \sqrt{5} \text{ m/s}$$

۱۵۶. اگر مبدأ انرژی پتانسیل گرانشی را سطح زمین بگیریم، ابتدا انرژی مکانیکی توپ را در لحظه پرتاب شدن و رسیدن به بالاترین مکان به صورت زیر حساب می‌کنیم:

$$E_A = K_A + U_A$$

$$= \frac{1}{2}mv_A^2 \quad \frac{m = 2 \text{ kg}}{v_A = 15 \text{ m/s}} \rightarrow$$

$$E_A = \frac{1}{2} \times 2 \times (15)^2$$

$$\Rightarrow E_A = 225 \text{ J}$$

$$E_B = K_B + U_B = mgh_B \quad \frac{m = 2 \text{ kg}}{g = 10 \text{ m/s}^2}$$

$$E_B = 2 \times 10 \times h_B \Rightarrow E_B = 20h_B$$

با جایگذاری مقادیر انرژی مکانیکی توپ در رابطه $W_f = E_B - E_A$ بالاترین ارتفاع توپ از سطح زمین برابر است با:

$$W_f = E_B - E_A \quad \frac{E_A = 225 \text{ J}, W_f = -75 \text{ J}}{E_B = 20h_B} \rightarrow -75 = 20h_B - 225$$

$$\Rightarrow 20h_B = 150 \Rightarrow h_B = 7.5 \text{ m}$$

۱۵۷. ابتدا انرژی مکانیکی شناگر را در لحظه پرش (A) و هنگام رسیدن به سطح آب (B) حساب می‌کنیم. اگر مبدأ انرژی پتانسیل گرانشی را سطح آب فرض کنیم، داریم:

$$E_A = K_A + U_A = \frac{1}{2}mv_A^2 + mgh_A$$

$$\frac{m = 80 \text{ kg}, g = 10 \text{ m/s}^2}{h_A = 20 \text{ m}, v_A = 2 \text{ m/s}}$$

$$E_A = \frac{1}{2} \times 80 \times 2^2 + 80 \times 10 \times 20 \Rightarrow E_A = 16160 \text{ J}$$

۱۵۲. با توجه به اینکه اثر ناشی از نیروهای اصطکاک و مقاومت هوا را نادیده گرفته‌ایم، اصل پایستگی انرژی مکانیکی برقرار است. لذا از رابطه پایستگی انرژی مکانیکی می‌توان نوشت:

$$E_A = E_B \Rightarrow K_A + U_A = K_B + U_B$$

$$\Rightarrow \frac{1}{2}mv_A^2 + mgh_A = \frac{1}{2}mv_B^2 + mgh_B$$

با حذف m از طرفین معادله بالا و جایگذاری مقادیر داده شده داریم:

$$\frac{v_A = 10 \text{ m/s}, v_B = 12 \text{ m/s}}{g = 10 \text{ m/s}^2, h_A = \Delta m} \rightarrow \frac{1}{2} \times 10^2 + 10 \times \Delta = \frac{1}{2} \times 12^2 + 10h_B$$

$$\Rightarrow 100 = 72 + 10h_B \Rightarrow h_B = 2.8 \text{ m}$$

دقت کنید مبدأ انرژی پتانسیل را سطح زمین گرفته‌ایم.

۱۵۳. با توجه به اینکه اتلاف انرژی نداریم، اصل پایستگی انرژی مکانیکی برقرار است. با ثابت ماندن انرژی مکانیکی در طول مسیر حرکت و با در نظر گرفتن سطح زمین به عنوان مبدأ پتانسیل گرانشی می‌توان نوشت:

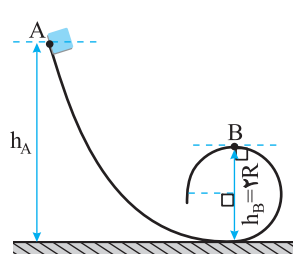
$$E_1 = E_2 \Rightarrow K_1 + U_1 = K_2 + U_2$$

$$\Rightarrow \frac{1}{2}mv_1^2 + mgh_1 = \frac{1}{2}mv_2^2 + mgh_2$$

با حذف m از طرفین معادله بالا و جایگذاری مقادیر داده شده داریم:

$$\frac{v_1 = 10 \text{ m/s}, v_2 = 6 \text{ m/s}}{h_2 = 7/2 \text{ m}, g = 10 \text{ m/s}^2} \rightarrow \frac{1}{2} \times 10^2 + 10h_1 = \frac{1}{2} \times 36 + 10 \times 7/2$$

$$\Rightarrow 50 + 10h_1 = 90 \Rightarrow h_1 = 4 \text{ m}$$



۱۵۴. الف) کار نیروی وزن برابر منفی تغییر انرژی پتانسیل گرانشی است، بنابراین می‌توان نوشت:

$$W_{mg} = -\Delta U$$

$$\Rightarrow W_{mg} = -mg\Delta h$$

$$\frac{m = 4 \text{ kg}, g = 10 \text{ m/s}^2}{\Delta h = h_B - h_A = 0 - 4 = -4 \text{ m}} \rightarrow$$

$$W_{mg} = -4 \times 10 \times (-4) \Rightarrow W_{mg} = 160 \text{ J}$$

ب) اگر مبدأ انرژی پتانسیل گرانشی را سطح زمین بگیریم، به کمک اصل پایستگی انرژی مکانیکی می‌توان نوشت:

$$E_A = E_B \Rightarrow K_A + U_A = K_B + U_B$$

$$\Rightarrow \frac{1}{2}mv_A^2 + mgh_A = \frac{1}{2}mv_B^2 + mgh_B$$

با حذف m از طرفین معادله بالا و جایگذاری مقادیر داده شده داریم:

$$\frac{v_A = 0, h_B = 2R = 40 \text{ cm} = 0.4 \text{ m}}{h_A = 120 \text{ cm} = 1.2 \text{ m}, g = 10 \text{ m/s}^2} \rightarrow 0 + 10 \times 1.2 = \frac{1}{2} \times v_B^2 + 10 \times 0.4$$

$$\Rightarrow v_B^2 = 16 \Rightarrow v_B = 4 \text{ m/s}$$

$$-f_k d = \frac{1}{2} m v_C^2 - \frac{1}{2} m v_B^2 \xrightarrow{m=0.5 \text{ kg}, v_B=4\sqrt{10} \text{ m/s}, d=18 \text{ m}, v_C=0}$$

$$-18 f_k = 0 - \frac{1}{2} \times 0.5 \times 160 \Rightarrow f_k \approx 2.22 \text{ N}$$

۱۶۰. ابتدا انرژی مکانیکی چترپاز را در لحظه پریدن (A) و هنگام رسیدن به سطح زمین (B) حساب می‌کنیم. اگر مبدأ انرژی پتانسیل گرانشی را سطح زمین فرض کنیم، داریم:

$$E_A = K_A + U_A \Rightarrow E_A = \frac{1}{2} m v_A^2 + mgh_A$$

$$\xrightarrow{m=60 \text{ kg}, g=10 \text{ m/s}^2, v_A=50 \text{ m/s}, h_A=50 \text{ m}} E_A = \frac{1}{2} \times 60 \times 2500 + 60 \times 10 \times 5000$$

$$\Rightarrow E_A = 375000 \text{ J}$$

$$E_B = K_B + U_B \Rightarrow E_B = \frac{1}{2} m v_B^2 + mgh_B$$

$$\xrightarrow{m=60 \text{ kg}, g=10 \text{ m/s}^2, v_B=10 \text{ m/s}, h_B=0} E_B = \frac{1}{2} \times 60 \times 100 + 0$$

$$\Rightarrow E_B = 3000 \text{ J}$$

کار نیروی مقاومت هوا برابر است با کاهش انرژی مکانیکی، بنابراین می‌توان نوشت:

$$W_{\text{مقاومت هوا}} = E_B - E_A \xrightarrow{E_A=375000 \text{ J}, E_B=3000 \text{ J}}$$

$$W_{\text{مقاومت هوا}} = 3000 - 375000 \Rightarrow W_{\text{مقاومت هوا}} = -372000 \text{ J}$$

۱۶۱. الف) نادرست
ب) کمتری
پ) وات
ت) توان متوسط

۱۶۲. برای محاسبه توان تلمبه داریم:

$$P_{av} = \frac{W}{\Delta t} = \frac{mgh}{\Delta t} \xrightarrow{m=2 \text{ kg}, h=30 \text{ m}, \Delta t=20 \text{ s}}$$

$$P_{av} = \frac{2 \times 10 \times 30}{20} = 30 \text{ W}$$

۱۶۳. برای محاسبه توان متوسط مفید این شخص خواهیم داشت:

$$P_{av} = \frac{W}{\Delta t} \Rightarrow P_{av} = \frac{mgh}{\Delta t} \xrightarrow{m=50 \text{ kg}, \Delta t=1 \text{ s}, h=50 \times 20 = 1000 \text{ cm} = 10 \text{ m}}$$

$$P_{av} = \frac{50 \times 10 \times 10}{1} \Rightarrow P_{av} = 500 \text{ W}$$

۱۶۴. کار کل انجام شده روی بار شامل کار نیروی وزن و کار نیروی موتور بالاتر برابر تغییر انرژی جنبشی آن است. به این ترتیب داریم:

$$W_{mg} + W_{\text{موتور}} = K_2 - K_1$$

$$\Rightarrow -mg(h_2 - h_1) + W_{\text{موتور}} = 0 - 0$$

$$\Rightarrow W_{\text{موتور}} = mg(h_2 - h_1) \xrightarrow{m=50+32=82 \text{ kg}, h_2-h_1=75 \text{ m}, g=10 \text{ m/s}^2}$$

$$W_{\text{موتور}} = 820 \times 10 \times 75 \Rightarrow W_{\text{موتور}} = 615000 \text{ J}$$

$$E_B = K_B + U_B = \frac{1}{2} m v_B^2 + mgh_B \xrightarrow{m=80 \text{ kg}, g=10 \text{ m/s}^2, h_B=0 \text{ m}, v_B=10 \text{ m/s}}$$

$$E_B = \frac{1}{2} \times 80 \times 100 + 0 \Rightarrow E_B = 4000 \text{ J}$$

با جایگذاری مقادیر انرژی مکانیکی شناگر در رابطه $W_f = K_B - K_A$ ، کار انجام شده توسط نیروی مقاومت هوا (انرژی تلف شده) بر روی شناگر برابر است با:

$$W_f = E_A - E_B \xrightarrow{E_B=4000 \text{ J}, E_A=16160 \text{ J}} W_f = 4000 - 16160$$

$$\Rightarrow W_f = -12160 \text{ J}$$

۱۵۸. ابتدا انرژی مکانیکی جسم را در لحظه رها شدن و هنگام رسیدن به

نقطه B حساب می‌کنیم. اگر مبدأ انرژی پتانسیل گرانشی را پایین‌ترین سطحی که جسم از آن عبور می‌کند، در نظر بگیریم، خواهیم داشت:

$$E_A = K_A + U_A = \frac{1}{2} m v_A^2 + mgh_A \xrightarrow{m=2 \text{ kg}, h_A=2 \text{ m}, v_A=0 \text{ m/s}, g=10 \text{ m/s}^2}$$

$$E_A = 0 + 2 \times 10 \times 2 \Rightarrow E_A = 40 \text{ J}$$

$$E_B = K_B + U_B = \frac{1}{2} m v_B^2 + mgh_B \xrightarrow{m=2 \text{ kg}, h_B=0}$$

$$E_B = \frac{1}{2} \times 2 \times v_B^2 + 0 \Rightarrow E_B = v_B^2$$

با جایگذاری مقادیر انرژی مکانیکی جسم در رابطه $W_{f_k} = E_B - E_A$ ، نندی جسم در مکان B برابر است با:

$$W_{f_k} = E_B - E_A \xrightarrow{W_{f_k}=-4 \text{ J}, E_B=v_B^2, E_A=40 \text{ J}} -4 = v_B^2 - 40$$

$$\Rightarrow v_B^2 = 36 \Rightarrow v_B = 6 \text{ m/s}$$

۱۵۹. الف) اگر مبدأ انرژی پتانسیل گرانشی را سطح زمین بگیریم، انرژی

پتانسیل گرانشی جسم در نقطه A برابر است با:

$$U_A = mgh_A \xrightarrow{m=0.5 \text{ kg}, g=10 \text{ m/s}^2, h_A=8 \text{ m}}$$

$$U_A = 0.5 \times 10 \times 8 \Rightarrow U_A = 40 \text{ J}$$

ب) انرژی مکانیکی جسم در دو مکان A و B با هم برابر است، بنابراین خواهیم داشت:

$$E_B = E_A \Rightarrow K_B + U_B = K_A + U_A$$

$$\Rightarrow \frac{1}{2} m v_B^2 + mgh_B = \frac{1}{2} m v_A^2 + mgh_A$$

$$\xrightarrow{g=10 \text{ m/s}^2, h_A=8 \text{ m}, h_B=0, v_A=0} \frac{1}{2} v_B^2 + 0 = 0 + 10 \times 8$$

جرم m از طرفین معادله حذف می‌شود

$$\Rightarrow v_B^2 = 160 \Rightarrow v_B = 4\sqrt{10} \text{ m/s}$$

ب) کار نیروی اصطکاک در مسیر BC برابر است با کاهش انرژی مکانیکی، بنابراین می‌توان نوشت:

$$W_{f_k} = E_C - E_B \Rightarrow W_{f_k} = (K_C + U_C) - (K_B + U_B)$$

توان متوسط موتور بالا بر برابر است با:

$$P_{av} = \frac{W_{\text{موتور}}}{\Delta t} \Rightarrow P_{av} = \frac{615000}{120} = 5125 \text{ W}$$

این توان بر حسب اسب بخار برابر است با:

$$P_{av} = (5125 \text{ W}) \left(\frac{1 \text{ hp}}{746 \text{ W}} \right) \Rightarrow P_{av} \approx 6.87 \text{ hp}$$

۱۶۵. با استفاده از رابطه محاسبه توان متوسط مفید خواهیم داشت:

$$P_{av} = \frac{W_{\text{موتور}}}{\Delta t} \Rightarrow P_{av} = \frac{mgh}{\Delta t} \Rightarrow P_{av} = 300 \text{ W}, m = 50 \text{ kg}$$

$$300 = \frac{50 \times 10 \times h}{60} \Rightarrow h = \frac{300 \times 60}{50 \times 10} \Rightarrow h = 3.6 \text{ m}$$

۱۶۶. با استفاده از رابطه محاسبه توان متوسط مفید برای موتور آسانسور خواهیم داشت:

$$P_{av} = \frac{W_{\text{موتور}}}{\Delta t} \Rightarrow P_{av} = \frac{mgh}{\Delta t}$$

$$\frac{m = 5 \times 10^3 + 700 = 1000 \text{ kg}, g = 10 \text{ m/s}^2}{\Delta t = 8 \times 60 = 480 \text{ s}, h = 72 \text{ m}} \Rightarrow P_{av} = \frac{1000 \times 10 \times 72}{480} \Rightarrow P_{av} = 1500 \text{ W}$$

۱۶۷. کار کل انجام شده روی آب شامل کار نیروی وزن و کار پمپ آبی برابر تغییر انرژی جنبشی آن است. به این ترتیب داریم:

$$W_{\text{وزن}} + W_{\text{پمپ}} = K_2 - K_1 \Rightarrow -mg\Delta h + W_{\text{پمپ}} = \frac{1}{2}mv_2^2$$

$$\Rightarrow W_{\text{پمپ}} = mg\Delta h + \frac{1}{2}mv_2^2 \Rightarrow W_{\text{پمپ}} = 20 \times 10 \times 10 + \frac{1}{2} \times 20 \times 25 \Rightarrow W_{\text{پمپ}} = 2250 \text{ J}$$

توان متوسط مفید پمپ برابر است با:

$$P_{av} = \frac{W_{\text{پمپ}}}{\Delta t} \Rightarrow P_{av} = \frac{2250 \text{ J}}{60 \text{ s}} = 37.5 \text{ W}$$

۱۶۸. با استفاده از رابطه محاسبه توان متوسط مفید برای این موتور خواهیم داشت:

$$P_{av} = \frac{W}{\Delta t} \Rightarrow P_{av} = \frac{mgh}{\Delta t} \Rightarrow P_{av} = 3000 \text{ W}, m = 80 \text{ kg}, g = 10 \text{ m/s}^2$$

$$3000 = \frac{80 \times 10 \times h}{10} \Rightarrow 80h = 3000 \Rightarrow h = 37.5 \text{ m}$$

۱۶۹. به کمک قضیه کار و انرژی، کار کل انجام شده روی اسکی باز با تغییر انرژی جنبشی آن برابر است. به این ترتیب داریم:

$$W_{\text{mg}} + W_f = K_2 - K_1 \Rightarrow -mg\Delta h + W_f = \frac{1}{2}mv_2^2$$

$$\Rightarrow W_f = \frac{1}{2}mv_2^2 + mg\Delta h \Rightarrow W_f = \frac{1}{2} \times 60 \times 900 + 60 \times 10 \times (-300) \Rightarrow W_f = -153000$$

اندازه توان متوسط نیروی مقاومت هوا برابر است با:

$$P_{av} = \frac{|W_f|}{\Delta t} \Rightarrow P_{av} = \frac{153000}{20} = 7650 \text{ W}$$

۱۷۰. با استفاده از رابطه محاسبه توان متوسط مفید خواهیم داشت:

$$P_{av} = \frac{W_{\text{خروجی}}}{\Delta t} \Rightarrow P_{av} = \frac{mgh}{\Delta t}$$

$$\frac{P_{av} = 200 \times 10^6 \text{ W}, g = 10 \text{ m/s}^2}{h = 200 - 40 = 160 \text{ m}, \Delta t = 1 \text{ s}} \Rightarrow 200 \times 10^6 = \frac{m \times 10 \times 160}{1}$$

$$\Rightarrow m = \frac{200 \times 10^6}{160} \Rightarrow m = 1250000 \text{ kg}$$

برای محاسبه حجم این جرم از آب به کمک رابطه $\rho = \frac{m}{V}$ خواهیم داشت:

$$\rho = \frac{m}{V} \Rightarrow V = \frac{m}{\rho} \Rightarrow V = \frac{1250000}{1000} = 1250 \text{ m}^3$$

۱۷۱. الف) درست (ب) بازده (پ) بازده

۱۷۲. توان خروجی از پمپ برابر است با:

$$P_{\text{خروجی}} = \frac{W}{\Delta t} = \frac{mgh}{\Delta t} \Rightarrow P_{\text{خروجی}} = \frac{3000 \times 10 \times 24}{60} = 12000 \text{ W} = 12 \text{ kW}$$

(ب) بازده پمپ برابر است با:

$$\text{بازده} = \frac{P_{\text{خروجی}}}{P_{\text{ورودی}}} \times 100 = \frac{12 \text{ kW}}{20 \text{ kW}} \times 100 = 60\%$$

$$\text{بازده} = \frac{12}{20} \times 100 = 60\%$$

۱۷۳. الف) توان متوسط مفید (توان خروجی) موتور بالا بر برابر است با:

$$P_{\text{خروجی}} = \frac{W}{\Delta t} \Rightarrow P_{\text{خروجی}} = \frac{mgh}{\Delta t} \Rightarrow P_{\text{خروجی}} = \frac{300 \times 10 \times 6}{5} = 3600 \text{ W}$$

(ب) بازده موتور برابر است با:

$$\text{بازده} = \frac{P_{\text{خروجی}}}{P_{\text{ورودی}}} \times 100 = \frac{3600 \text{ W}}{5000 \text{ W}} \times 100 = 72\%$$

$$\text{بازده} = \frac{3600}{5000} \times 100 = 72\%$$

$$\Delta t = \frac{1600}{P_{\text{ورودی}}} \times 100 \Rightarrow P_{\text{ورودی}} = \frac{1600 \times 100}{50}$$

$$\Rightarrow P_{\text{ورودی}} = 3200 \text{ W}$$

۱۷۸ الف) ابتدا توان متوسط مفید موتور را به صورت زیر می‌یابیم:

$$\text{بازده بر حسب درصد} = \frac{P_{\text{مفید}}}{P_{\text{مصرفی}}} \times 100$$

$$\frac{\text{بازده} = 80\%}{P_{\text{مصرفی}} = 4 \text{ kW}} \rightarrow 80 = \frac{P_{\text{مفید}}}{4} \times 100 \Rightarrow P_{\text{مفید}} = 3.2 \text{ kW}$$

انرژی مصرفی و انرژی مفید (انرژی خروجی) موتور برابر است با:

$$E_{\text{خروجی}} = P_{\text{خروجی}} t \rightarrow E_{\text{خروجی}} = 3200 \text{ W} \times 6 \text{ s} = 19200 \text{ J}$$

$$E_{\text{مصرفی}} = P_{\text{مصرفی}} t \rightarrow E_{\text{مصرفی}} = 4000 \text{ W} \times 6 \text{ s} = 24000 \text{ J}$$

برای محاسبه انرژی تلف شده توسط موتور در مدت یک دقیقه خواهیم داشت:

$$E_{\text{تلف شده}} = E_{\text{مصرفی}} - E_{\text{خروجی}} = 24000 \text{ J} - 19200 \text{ J} = 4800 \text{ J}$$

ب) برای محاسبه مدت زمان لازم برای بالا بردن جسم می‌توان نوشت:

$$P_{\text{خروجی}} = \frac{mgh}{\Delta t} \rightarrow \Delta t = \frac{mgh}{P_{\text{خروجی}}} = \frac{16 \times 10 \times 20}{3200} = 1 \text{ s}$$

۱۷۹ الف) توان متوسط مفید تلمبه برابر است با:

$$P_{\text{av}} = \frac{mgh}{\Delta t} \rightarrow P_{\text{av}} = \frac{60 \times 10 \times 6}{60} = 60 \text{ W}$$

ب) با معلوم بودن توان متوسط مفید و بازده تلمبه، توان مصرفی تلمبه را به صورت زیر محاسبه می‌کنیم:

$$\text{بازده بر حسب درصد} = \frac{P_{\text{مفید}}}{P_{\text{مصرفی}}} \times 100$$

$$\frac{\text{بازده} = 80\%}{P_{\text{مفید}} = 60 \text{ W}} \rightarrow 80 = \frac{60}{P_{\text{مصرفی}}} \times 100 \Rightarrow P_{\text{مصرفی}} = 75 \text{ W}$$

۱۸۰ ابتدا توان متوسط مفید موتور را می‌یابیم:

$$P_{\text{av}} = \frac{mgh}{\Delta t} \rightarrow P_{\text{av}} = \frac{\rho V gh}{\Delta t}$$

$$\frac{\rho = 10^3 \text{ kg/m}^3, V = 0.8 \text{ m}^3}{h = 15 \text{ m}, g = 10 \text{ m/s}^2, \Delta t = 1 \text{ s}} \rightarrow P_{\text{av}} = \frac{10^3 \times 0.8 \times 10 \times 15}{1} = 12000 \text{ W} = 12 \text{ kW}$$

۱۷۴ الف) توان متوسط مفید (توان خروجی) موتور برابر است با:

$$P_{\text{خروجی}} = \frac{W}{t} \Rightarrow P_{\text{خروجی}} = \frac{mgh}{\Delta t} \rightarrow P_{\text{خروجی}} = \frac{800 \times 10 \times 30}{60} = 4000 \text{ W} = 4 \text{ kW}$$

ب) بازده موتور بر حسب درصد برابر است با:

$$\text{بازده بر حسب درصد} = \frac{P_{\text{خروجی}}}{P_{\text{ورودی}}} \times 100 = \frac{4 \text{ kW}}{5 \text{ kW}} \times 100 = 80\%$$

۱۷۵ توان خروجی موتور آسانسور (توان متوسط مفید) برابر است با:

$$P_{\text{خروجی}} = \frac{W}{\Delta t} \Rightarrow P_{\text{خروجی}} = \frac{mgh}{\Delta t} \rightarrow P_{\text{خروجی}} = \frac{120 \times 10 \times 30}{120} = 300 \text{ W}$$

برای محاسبه توان ورودی موتور آسانسور خواهیم داشت:

$$\text{بازده بر حسب درصد} = \frac{P_{\text{خروجی}}}{P_{\text{ورودی}}} \times 100 \rightarrow P_{\text{ورودی}} = \frac{P_{\text{خروجی}}}{\text{بازده}} = \frac{300}{80} \times 100 = 375 \text{ W}$$

۱۷۶ ابتدا توان خروجی (توان متوسط مفید) بالابر را به صورت زیر می‌یابیم:

$$\text{بازده بر حسب درصد} = \frac{P_{\text{خروجی}}}{P_{\text{ورودی}}} \times 100 \rightarrow P_{\text{خروجی}} = \frac{P_{\text{ورودی}} \times \text{بازده}}{100} = \frac{2500 \text{ W} \times 80\%}{100} = 2000 \text{ W}$$

مدت زمان بالا بردن جسم برابر است با:

$$P_{\text{خروجی}} = \frac{mgh}{\Delta t} \rightarrow \Delta t = \frac{mgh}{P_{\text{خروجی}}} = \frac{120 \times 10 \times 15}{2000} = 9 \text{ s}$$

۱۷۷ الف) توان متوسط مفید برابر است با:

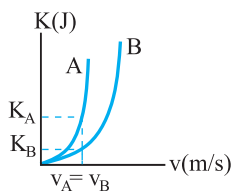
$$P_{\text{av}} = \frac{mgh}{\Delta t} \rightarrow P_{\text{av}} = \frac{1200 \times 10 \times 40}{300} = 1600 \text{ W}$$

این توان بر حسب اسب بخار برابر است با:

$$P_{\text{av}} = (1600 \text{ W}) \left(\frac{1 \text{ hp}}{746 \text{ W}} \right) \Rightarrow P_{\text{av}} \approx 2.1 \text{ hp}$$

ب) با معلوم بودن بازده و توان خروجی (توان متوسط مفید)، توان ورودی را به صورت زیر محاسبه می‌کنیم:

$$\text{بازده بر حسب درصد} = \frac{P_{\text{خروجی}}}{P_{\text{ورودی}}} \times 100 \rightarrow P_{\text{ورودی}} = \frac{P_{\text{خروجی}}}{\text{بازده}} = \frac{1600 \text{ W}}{50\%} = 3200 \text{ W}$$



(ب) برای مقایسه جرم دو جسم، در شرایطی که تندی دو جسم یکسان باشد، جسمی که انرژی جنبشی بیشتری داشته باشد، جرمش بیشتر است:

$$K = \frac{1}{2}mv^2 \Rightarrow \frac{K_A}{K_B} = \frac{m_A}{m_B} \times \left(\frac{v_A}{v_B}\right)^2 \xrightarrow{v_A=v_B} \frac{K_A}{K_B} = \frac{m_A}{m_B} \xrightarrow{K_A > K_B} m_A > m_B$$

جرم متحرک A بیشتر است.

۱۸۴. الف) کار نیروی وزن برابر است با:

$$W_{mg} = -mg\Delta h \xrightarrow{m=15\text{kg}, g=10\text{m/s}^2, \Delta h=-7\text{m}}$$

$$W_{mg} = -15 \times 10 \times (-7)$$

$$\Rightarrow W_{mg} = +1050\text{J}$$

(ب) طبق قضیه کار و انرژی خواهیم داشت:

$$\frac{W_{mg}=1050\text{J}, v_1=0}{m=15\text{kg}, v_2=10\text{m/s}} \Rightarrow 1050 + W_f = \frac{1}{2} \times 15 \times 100 - 0$$

$$\Rightarrow W_f = -300\text{J}$$

۱۸۵. با توجه به اینکه اتلاف انرژی نداریم، انرژی مکانیکی در ارتفاع ۹ متری از سطح زمین با انرژی مکانیکی در لحظه رسیدن به سطح یکسان است، بنابراین داریم:

$$E_1 = E_2 \Rightarrow K_1 + U_1 = K_2 + U_2$$

$$\frac{1}{2}mv_1^2 + mgh_1 = \frac{1}{2}mv_2^2 + mgh_2$$

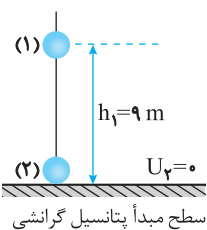
با حذف m از طرفین رابطه بالا و جایگذاری مقادیر داده شده داریم:

$$\begin{aligned} v_1 &= v, v_2 = \frac{3}{2}v \\ g &= 10\text{m/s}^2, h_1 = 9\text{m}, h_2 = 0 \end{aligned}$$

$$\frac{1}{2} \times v^2 + 10 \times 9 = \frac{1}{2} \times \left(\frac{9}{4}v^2\right) + 0$$

$$\Rightarrow \frac{5}{8}v^2 = 90 \Rightarrow v^2 = 144$$

$$\Rightarrow v = 12\text{m/s}$$



اکنون با در نظر گرفتن لحظه رها شدن گوله و برخورد آن با زمین داریم:

$$K_1 + U_1 = K_2 + U_2 \xrightarrow{K_1=0, U_2=0} mgh = \frac{1}{2}mv^2$$

$$\xrightarrow{v_2 = \frac{3}{2} \times 12 = 18\text{m/s}} 10 \times h = \frac{1}{2} \times 18^2$$

$$\Rightarrow h = 16/2\text{m}$$

با معلوم بودن بازده موتور و توان متوسط مفید آن، توان مصرفی آن به صورت زیر به دست می آید:

$$\text{بازده برحسب درصد} = \frac{P_{\text{مفید}}}{P_{\text{مصرفی}}} \times 100$$

$$\xrightarrow{\text{بازده}=80\%, P_{\text{مفید}}=12\text{kW}} 80 = \frac{120}{P_{\text{مصرفی}}} \times 100$$

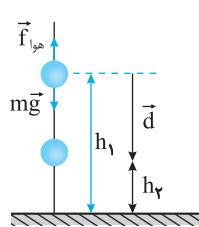
$$\Rightarrow P_{\text{مصرفی}} = 150\text{kW}$$

پاسخ سوال های ویژه برترها

۱۸۱

وابسته به	وابسته به	
مسیر حرکت	جرم	
نیست	هست	کار نیروی وزن روی گلوله‌ها
نیست	نیست	تندی گلوله‌ها در انتهای مسیر

۱۸۲. در شکل مقابل جسمی به جرم m در حال سقوط به طرف زمین است. در



حین سقوط نیروی وزن ($m\vec{g}$) و نیروی مقاومت هوا (مقاومت هوا $(\vec{f}_{\text{هوآ}})$ به آن وارد می شود. وقتی جسم از ارتفاع h_1 به ارتفاع h_2 از سطح زمین می رسد، کار نیروی وزن در این جابه جایی برابر است با:

$$W_{\text{وزن}} = (mg \cos \theta)d = (mg \cos 90^\circ)d = mgd \xrightarrow{d=h_1-h_2}$$

$$W_{\text{وزن}} = mg(h_1 - h_2) = -(mgh_2 - mgh_1)$$

$$\Rightarrow W_{\text{وزن}} = -(U_2 - U_1) \Rightarrow W_{\text{وزن}} = -\Delta U$$

رابطه بالا نشان می دهد کار نیروی وزن برای منفی تغییر انرژی پتانسیل گرانشی است.

۱۸۳. الف) با استفاده از رابطه نسبت انرژی جنبشی جسم در دو حالت داریم:

$$K = \frac{1}{2}mv^2 \Rightarrow \frac{K_2}{K_1} = \frac{m_2}{m_1} \times \left(\frac{v_2}{v_1}\right)^2$$

$$\xrightarrow{v_2 = v_1 + 5, m_2 = m_1} \frac{9}{4} = 1 \times \left(\frac{v_1 + 5}{v_1}\right)^2$$

$$K_2 = K_1 + \frac{5}{4}K_1 = \frac{9}{4}K_1$$

$$\xrightarrow{\text{از دو طرف رابطه جذر می گیریم}} \frac{3}{2} = \frac{v_1 + 5}{v_1}$$

$$\Rightarrow 3v_1 = 2v_1 + 10 \Rightarrow v_1 = 10\text{m/s}$$

بازده این پمپ برحسب درصد برابر است با:

$$\text{بازده برحسب درصد} = \frac{P_{\text{خروجی}}}{P_{\text{کل}}} \times 100 = \frac{4/8 \text{ kW}}{6/4 \text{ kW}} \times 100$$

$$\text{بازده برحسب درصد} = \frac{4/8}{6/4} \times 100 = 77.5$$

۱۸۹. می‌دانیم که کار کل انجام شده توسط موتور خودرو، برابر تغییر انرژی جنبشی آن است. به این ترتیب، با به‌دست آوردن انرژی جنبشی خودرو در دو وضعیت داده شده و محاسبه کار کل موتور خودرو داریم:

$$W_t = K_f - K_i \Rightarrow W_t = \frac{1}{2} m (v_f^2 - v_i^2)$$

$$\frac{m=1/2 \times 10^3 \text{ kg}, v_i=20 \text{ m/s}}{v_f=30 \text{ m/s}} \rightarrow W_t = \frac{1}{2} \times 1200 \times (900 - 400)$$

$$\Rightarrow W_t = 300000 \text{ J} = 300 \text{ kJ}$$

توان متوسط مفید موتور خودرو (توان خروجی) برای انجام این کار برابر

$$P_{\text{av}} = \frac{W}{\Delta t} = \frac{W=300 \text{ kJ}}{\Delta t=5 \text{ s}} \rightarrow P_{\text{av}} = \frac{300}{5} = 60 \text{ kW}$$

است با: به کمک رابطه بازده برحسب درصد، توان متوسط خودرو (توان کل) را می‌یابیم، بنابراین خواهیم داشت:

$$\text{بازده برحسب درصد} = \frac{P_{\text{خروجی}}}{P_{\text{کل}}} \times 100 = \frac{P_{\text{خروجی}}=60 \text{ kW}}{P_{\text{کل}}} \times 100$$

$$77.5 = \frac{60}{P_{\text{کل}}} \times 100 \Rightarrow P_{\text{کل}} = \frac{6000}{77.5} \Rightarrow P_{\text{کل}} = 77.4 \text{ kW}$$

۱۹۰. ابتدا انرژی مکانیکی گلوله را در دو مکان A و B به‌دست می‌آوریم.

بنابراین خواهیم داشت:

$$E_A = U_A + K_A \Rightarrow E_A = mgh_A + \frac{1}{2} mv_A^2$$

$$\frac{m=200 \text{ g}=0.2 \text{ kg}, g=10 \text{ m/s}^2}{h_A=20 \text{ cm}=0.2 \text{ m}, v_A=2 \text{ m/s}} \rightarrow$$

$$E_A = 0.2 \times 10 \times 0.2 + \frac{1}{2} \times 0.2 \times 2^2$$

$$\Rightarrow E_A = 0.4 + 0.4 = 0.8 \text{ J}$$

$$E_B = U_B + K_B \Rightarrow E_B = mgh_B + \frac{1}{2} mv_B^2$$

$$\frac{m=0.2 \text{ kg}, g=10 \text{ m/s}^2}{h_B=0.05 \text{ m}, v_B=0} \rightarrow$$

$$E_B = 0.2 \times 10 \times 0.05 + 0 = 0.1 \text{ J}$$

برای محاسبه انرژی تلف‌شده (W_f) در مسیر A تا B کافی است که میزان کاهش انرژی مکانیکی را در A و B را بیابیم. پس می‌توان نوشت:

$$W_f = E_B - E_A = \frac{E_A=0.8 \text{ J}}{E_B=0.1 \text{ J}} \rightarrow W_f = 0.1 - 0.8 = -0.7 \text{ J}$$

یادداشت:

.....

.....

.....

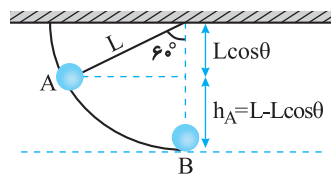
.....

.....

.....

۱۸۶. ابتدا انرژی مکانیکی جسم را در مکان A و هنگام رسیدن به نقطه B

حساب می‌کنیم. اگر مبدأ انرژی پتانسیل گرانشی را پایین‌ترین سطحی که جسم از آن عبور می‌کند، در نظر بگیریم، خواهیم داشت:



$$E_A = K_A + U_A = \frac{1}{2} mv_A^2 + mgh$$

$$\frac{v_A=5 \text{ m/s}, g=10 \text{ m/s}^2}{h_A=L-L \cos 60^\circ=2-2 \times \frac{1}{2}=1 \text{ m}} \rightarrow$$

$$E_A = \frac{1}{2} \times m \times 25 + m \times 10 \times 1 \Rightarrow E_A = 22.5 \text{ mJ}$$

$$E_B = K_B + U_B = \frac{1}{2} mv_B^2 + mgh_B$$

$$\frac{h_B=0}{g=10 \text{ m/s}^2} \rightarrow E_B = \frac{1}{2} \times m \times v_B^2 + 0 \Rightarrow E_B = \frac{mv_B^2}{2}$$

با مساوی قرار دادن مقادیر انرژی مکانیکی در دو مکان A و B خواهیم داشت:

$$E_A = E_B = \frac{E_A=22.5 \text{ mJ}}{E_B=\frac{mv_B^2}{2}} \rightarrow \frac{22.5 \text{ mJ}}{2} = \frac{mv_B^2}{2}$$

$$\Rightarrow v_B^2 = 45 \Rightarrow v_B = 3\sqrt{5} \text{ m/s}$$

۱۸۷. به کمک قضیه کار و انرژی جنبشی، ابتدا کار انجام گرفته توسط موتور

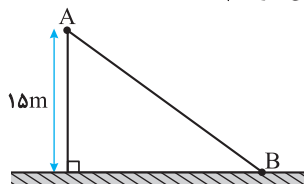
خودرو را به‌دست می‌آوریم. بنابراین خواهیم داشت:

$$W_t = W_{\text{موتور}} + W_{\text{mg}}$$

$$= K_B - K_A$$

$$\Rightarrow mgh + W_{\text{موتور}}$$

$$= \frac{1}{2} mv_B^2 - \frac{1}{2} mv_A^2$$



$$\frac{m=1000 \text{ kg}, g=10 \text{ m/s}^2, h=15 \text{ m}}{v_B=25 \text{ m/s}, v_A=15 \text{ m/s}} \rightarrow 1000 \times 10 \times 15 + W_{\text{موتور}}$$

$$= \frac{1}{2} \times 1000 \times (25)^2 - \frac{1}{2} \times 1000 \times (15)^2$$

$$150000 + W_{\text{موتور}} = 312500 - 112500$$

$$\Rightarrow W_{\text{موتور}} = 50000 \text{ J} = 50 \text{ kJ}$$

توان متوسط موتور خودرو برابر است با:

$$P_{\text{av}} = \frac{W_{\text{موتور}}}{\Delta t} = \frac{W_{\text{موتور}}=50 \text{ kJ}}{\Delta t=10 \text{ s}} \rightarrow P_{\text{av}} = \frac{50}{10} \Rightarrow P_{\text{av}} = 5 \text{ kW}$$

۱۸۸. ابتدا توان متوسط مفید (توان خروجی) پمپ را می‌یابیم. بنابراین

خواهیم داشت:

$$P_{\text{خروجی}} = \frac{mgh}{\Delta t} = \frac{m=\rho V=10^3 \times 6=6000 \text{ kg}}{g=10 \text{ m/s}^2, h=24 \text{ m}, \Delta t=30 \text{ s}} \rightarrow$$

$$P_{\text{خروجی}} = \frac{6000 \times 10 \times 24}{30} \Rightarrow P_{\text{خروجی}} = 4800 \text{ W} = 4.8 \text{ kW}$$