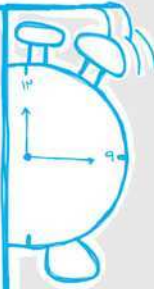


# ساختار کتاب

کتاب شب امتحان حسابان (۲) دوازدهم از ۴ قسمت اصلی به صورت زیر تشکیل شده است:

- (۱) **آزمون‌های نوبت اول:** آزمون‌های شماره ۱ تا ۴ این کتاب مربوط به مباحث نوبت اول است که خودش به دو قسمت تقسیم می‌شود:
    - (الف) **آزمون‌های طبقه‌بندی شده:** آزمون‌های شماره ۱ و ۲ را فصل به فصل طبقه‌بندی کرده‌ایم. بنابراین شما به راحتی می‌توانید پس از خواندن هر فصل از درس‌نامه تعدادی سؤال را بررسی کنید. حواستان باشد این آزمون‌ها ۲۰ نمره‌ای و مثل یک آزمون کامل هستند. در کنار سؤال‌های این آزمون‌ها نکات مشاوره‌ای نوشته‌ایم. این نکات به شما در درس خواندن قبل از امتحان و پاسخگویی به آزمون در زمان امتحان کمک می‌کند.
    - (ب) **آزمون طبقه‌بندی نشده:** آزمون‌های شماره ۳ و ۴ را طبقه‌بندی نکرده‌ایم تا دو آزمون نوبت اول، مشابه آزمون‌هایی که معلمان از شما خواهد گرفت، ببینید.
  - (۲) **آزمون‌های نوبت دوم:** آزمون‌های شماره ۵ تا ۱۲ امتحان‌های نهایی برگزار شده در سال‌های ۹۸، ۹۹ و ۱۴۰۰ هستند. این قسمت هم، خودش به ۲ بخش تقسیم می‌شود:
    - (الف) **آزمون‌های طبقه‌بندی شده:** آزمون‌های شماره ۵ تا ۸ آزمون‌های نهایی خرداد، شهریور و دی ۹۸ و دی ۹۹ هستند که طبقه‌بندی کرده‌ایم. با این کار باز هم می‌توانید پس از خواندن هر فصل تعدادی سؤال مرتبط را پاسخ دهید. هر کدام از این آزمون‌ها هم، ۲۰ نمره دارند. در واقع در این بخش، شما ۴ آزمون کامل را می‌بینید. این آزمون‌ها هم نکات مشاوره‌ای دارند.
    - (ب) **آزمون‌های طبقه‌بندی نشده:** آزمون‌های شماره ۹ تا ۱۲ را طبقه‌بندی نکرده‌ایم؛ پس، در این بخش با ۴ آزمون نوبت دوم، مشابه آزمون پایان سال معلمان مواجه خواهید شد. این آزمون‌ها به ترتیب امتحان‌های نهایی خرداد و شهریور ۱۴۰۰، خرداد و شهریور ۹۹ هستند.
  - (۳) **پاسخ‌نامه تشریحی آزمون‌ها:** در پاسخ تشریحی آزمون‌ها تمام آن‌چه را که شما باید در امتحان بنویسید تا نمره کامل کسب کنید، برایتان نوشته‌ایم.
  - (۴) **درس‌نامه کامل شب امتحانی:** این قسمت برگ برنده شما نسبت به کسانی است که این کتاب را نمی‌خوانند (🙄) در این قسمت تمام آن‌چه را که شما برای گرفتن نمره عالی در امتحان حسابان (۲) نیاز دارید، تنها در ۱۶ صفحه آورده‌ایم، بخوانید و لذتش را ببرید!
- یک راهکار: موقع امتحان‌های نوبت اول می‌توانید از سؤال‌های فصل‌های اول تا سوم آزمون‌های ۵ تا ۸ هم استفاده کنید.

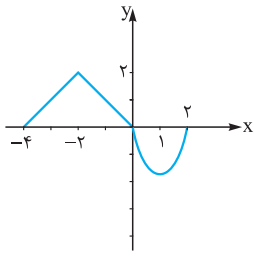
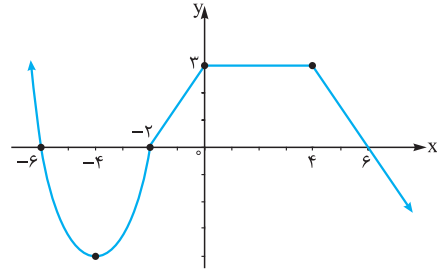


## فهرست

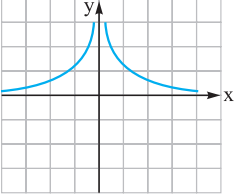
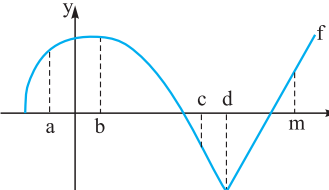
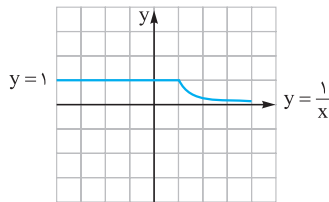
### بازم‌بندی درس حسابان (۲)

فصل‌ها	پایانی نوبت اول	پایانی نوبت دوم	شهریور و دی
اول	۷	۲/۵	۳/۵
دوم	۶	۲	۳
سوم	۷	۲/۵	۳
چهارم	—	۷	۶
پنجم	—	۶	۴/۵
جمع	۲۰	۲۰	۲۰

صفحه	صفحه	نوبت	آزمون	پاسخ‌نامه
۱	آزمون شماره ۱	اول	۳	۲۲
۲	آزمون شماره ۲	اول	۵	۲۴
۳	آزمون شماره ۳	اول	۶	۲۵
۴	آزمون شماره ۴	اول	۷	۲۷
۵	آزمون شماره ۵ نهایی خرداد ۹۸	دوم	۸	۲۹
۶	آزمون شماره ۶ نهایی شهریور ۹۸	دوم	۱۰	۳۱
۷	آزمون شماره ۷ نهایی دی ۹۸	دوم	۱۲	۳۲
۸	آزمون شماره ۸ نهایی دی ۹۹	دوم	۱۴	۳۳
۹	آزمون شماره ۹ نهایی خرداد ۱۴۰۰	دوم	۱۶	۳۵
۱۰	آزمون شماره ۱۰ نهایی شهریور ۱۴۰۰	دوم	۱۸	۳۶
۱۱	آزمون شماره ۱۱ نهایی خرداد ۹۹	دوم	۲۰	۳۸
۱۲	آزمون شماره ۱۲ نهایی شهریور ۹۹	دوم	۲۱	۳۹
۴۱	درس‌نامه توپ برای شب امتحان			

شماره	kheilisabz.com	مدت آزمون: ۱۰۰ دقیقه	رشته: ریاضی فیزیک	حسابان (۲)
<b>آزمون شماره ۱</b>				
<b>فصل اول</b>				
۱/۵	ترتیب رسم مرحله به مرحله نمودارها برای این سوال مهمه.		<p>۱ نمودار تابع <math>f(x)</math> به صورت مقابل داده شده است. نمودارهای <math>y_1 = -2f(x)</math> و <math>y_2 = -f(-\frac{1}{3}x)</math> را رسم کنید.</p>	
۰/۵	سوال و جواب‌های تک کلمه‌ای. یادت باشه برای این سوالات فقط جواب آقر مهمه نه راه حل!	<p>الف) اگر نقطه <math>A(-1, 1)</math> روی تابع <math>f(x)</math> باشد، پس از انتقال، مختصات نقطه <math>A</math> روی تابع <math>y = \frac{1}{3}f(x+1)</math> برابر است با .....</p> <p>ب) اگر دامنه تابع <math>f(x)</math> برابر <math>[-1, 4]</math> باشد، دامنه تابع <math>y = -3f(x-1)</math> برابر است با .....</p>	<p>۲ جاهای خالی را تکمیل کنید.</p>	
۲/۵	رسم تابع $f$ را باید فقط با انتقال‌ها انجام دهید. تابع $f^{-1}$ هم حتماً باید به کمک $f$ رسم شود.		<p>۳ تابع <math>f(x) = (x+1)^3 - 2</math> را در نظر بگیرید. الف) نمودار <math>f</math> را به کمک نمودار تابع <math>y = x^3</math> رسم کنید. ب) نشان دهید <math>f</math> وارون پذیر است و نمودار <math>f^{-1}</math> را رسم کنید. پ) ضابطه <math>f^{-1}</math> را بنویسید.</p>	
۱	به کلمه «اکیداً» در صورت سوال توجه کن.	<p>۴ نمودار تابع <math>f(x)</math> به صورت زیر داده شده است. بازه‌هایی که تابع در آن‌ها اکیداً صعودی، اکیداً نزولی یا ثابت است را مشخص کنید.</p> 		
۱/۵	برای نشان دادن درستی قسمت اول سوال <u>نباید</u> از عملیات تقسیم استفاده کنی.	<p>۵ نشان دهید چند جمله‌ای <math>f(x) = 2x^3 - 3x^2 - 9x + 10</math> بر <math>2x - 5</math> بخش پذیر است. سپس مقسوم‌علیه‌های دیگر <math>f(x)</math> را بیابید.</p>		
<b>فصل دوم</b>				
۱/۵	این سوال معمولاً در تمامی امتحانات مطرح می‌شود. پس فرمول‌های آن را حفظ کن.	<p>۶ دوره تناوب، مقادیر ماکزیمم و مینیمم هر یک از توابع زیر را مشخص کنید.</p> <p>الف) <math>y = -\cos \frac{\pi}{3}x + \sqrt{2}</math></p> <p>ب) <math>y = -2 \sin 5x + 3</math></p>		
۱	یه وقت اشتباهی رُج‌ها را انتساب نکنی!		<p>۷ با توجه به محورهای سینوس و تانژانت، مقادیر <math>\sin \alpha</math> و <math>\tan \alpha</math> را در ربع‌های اول و چهارم با هم مقایسه کنید.</p>	
۲	برای قسمت (الف) دقت کن که سینوس برابر یک مقدار منفی می‌شود!	<p>۸ معادلات مثلثاتی زیر را حل کنید.</p> <p>الف) <math>2 \sin x + \sqrt{3} = 0</math></p> <p>ب) <math>2 \tan^2 x - 3 \tan x + 1 = 0</math></p>		
۱/۵	در این سوال، اصلاً به ضلع سوم مثلث نیازی نیست.		<p>۹ مثلثی با مساحت ۸ سانتی‌متر مربع مفروض است. اگر اندازه دو ضلع آن ۴ و ۸ باشد، آن‌گاه چند مثلث با این خاصیت وجود دارد؟</p>	

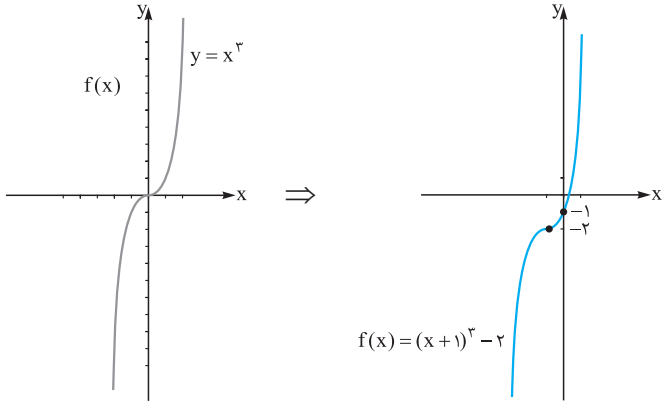
شماره	kheilisabz.com	مدت آزمون: ۱۰۰ دقیقه	رشته: ریاضی فیزیک	حسابان (۲)
نمره	نوبت اول پایه دوازدهم دوره متوسطه دوم			ردیف
<b>آزمون شماره ۱</b>				
<b>فصل سوم</b>				
۲/۵	<p>سوال هدگیری همیشه در امتحانات مطرح می شود. تکنیک های هدگیری را از درس نامه بخون.</p> <p>الف) <math>\lim_{x \rightarrow 1^+} \frac{\pi - 4}{x^2 - 3x + 2}</math>      ب) <math>\lim_{x \rightarrow \frac{\pi}{4}^+} \tan x</math>      پ) <math>\lim_{x \rightarrow +\infty} \frac{\sqrt{3x^2 + 1}}{2x - 3}</math></p>			۱۰
۱/۵	<p>یادت نره برای مجانبات قائم، باید شرط هایش بررسی شود.</p> <p>مجانبات تابع <math>f(x) = \frac{x+1}{x^2+x-6}</math> را به دست آورید.</p>			۱۱
۱/۵	<p>مجانبات افقی تابع روبه رو را بیابید.</p> <p>به <math>\sqrt{x^2}</math> توجه کن. <math>y = \frac{x}{\sqrt{x^2+1}}</math></p>			۱۲
۱/۵	<p>نمودار تابعی مانند f را طوری رسم کنید که:</p> <p>الف) <math>f(-1) = f(2) = 0</math></p> <p>ب) <math>\lim_{x \rightarrow 0^-} f(x) = -\infty</math> و <math>\lim_{x \rightarrow 1^+} f(x) = -\infty</math></p> <p>پ) خط <math>y = 1</math> مجانبات افقی آن باشد.</p> <p>باید نموداری بکشی که همه شرطها را داشته باشه. احتیاجی به ضابطه نمودار نیست.</p>			۱۳
۲۰	جمع نمرات      موفق باشید			

نمره	kheilisabz.com	زمان آزمون: ۱۲۰ دقیقه	رشته: ریاضی فیزیک	حسابان (۲)	
۱	<b>آزمون شماره ۹</b>			ردیف	
۱		<p>جای خالی را با عدد یا عبارت مناسب پر کنید.</p> <p>الف) به تابعی که در یک بازه فقط صعودی یا نزولی باشد، ..... می‌گوییم.</p> <p>ب) برد تابع تانژانت <math>(y = \tan x)</math> برابر ..... است.</p> <p>پ) با توجه به شکل مقابل حد تابع <math>f(x) = \frac{1}{ x }</math> در نقطه <math>x = 0</math> برابر است با .....</p> <p>ت) اگر تابع <math>f</math> در <math>x = a</math> مشتق پذیر باشد، آن‌گاه <math>f</math> در <math>a</math> ..... است.</p>			۱
۱	<p>درستی یا نادرستی عبارتهای زیر را تعیین کنید.</p> <p>الف) اگر تابع <math>f</math> در هر نقطه اکسترمم نسبی مشتق پذیر باشد، آن‌گاه مشتق تابع <math>f</math> در این نقاط صفر می‌شود.</p> <p>ب) تابع صعودی اکید، نقطه عطف ندارد.</p> <p>پ) اگر علامت <math>f'</math> بر بازه‌ای منفی باشد، آن‌گاه تابع <math>f</math> بر آن بازه اکیداً نزولی است.</p> <p>ت) در نقطه عطف علامت <math>f''(x)</math> تغییر می‌کند.</p>				۲
۰/۷۵	<p>نمودار تابع <math>y = \cos(x - \frac{\pi}{4})</math> را به کمک نمودار <math>y = \cos x</math> در بازه <math>[0, 2\pi]</math> رسم کنید.</p>				۳
۰/۷۵	<p>با رسم نمودار تابع <math>f(x) = \begin{cases} x^2 &amp; x \geq 0 \\ -3x &amp; -1 &lt; x &lt; 0 \end{cases}</math> تعیین کنید، تابع در چه بازه‌ای اکیداً صعودی و در چه بازه‌ای اکیداً نزولی می‌باشد.</p>				۴
۰/۷۵	<p>باقی‌مانده تقسیم عبارتهای <math>p(x) = x^3 + ax + 1</math> و <math>q(x) = 2x^2 - x + 1</math> بر <math>(x + 2)</math> یکسان می‌باشد. مقدار <math>a</math> را بیابید.</p>				۵
۰/۷۵	<p>ضابطه تابع مثلثاتی سینوس با دوره تناوب ۳ و مقادیر ماکزیمم ۵ و مینیمم ۳ بنویسید.</p>				۶
۱	<p>معادله مثلثاتی <math>2 \cos^2 x = \sin x - 1</math> را حل کنید.</p>				۷
۱	<p>الف) <math>\lim_{x \rightarrow 2^-} \frac{x+1}{ x-2 }</math></p> <p>ب) <math>\lim_{x \rightarrow +\infty} \frac{3 + \frac{1}{x}}{\frac{4}{x} - 2}</math></p>	<p>حدهای زیر را محاسبه کنید.</p>			۸
۱/۲۵	<p>مجاذب‌های قائم و افقی نمودار تابع <math>f(x) = \frac{1-2x^2}{x^2-1}</math> را در صورت وجود بیابید.</p>				۹
۱/۵	<p>معادله خط مماس بر منحنی تابع <math>f(x) = x^3 - 2x</math> را در نقطه <math>A(1, f(1))</math> به دست آورید.</p>				۱۰
۰/۷۵		<p>با توجه به نمودار <math>f</math> به سوالات زیر پاسخ دهید.</p> <p>الف) طول نقطه‌ای که مشتق در آن صفر است را بنویسید.</p> <p>ب) طول نقطه «گوشه‌ای» را بنویسید.</p> <p>پ) طول نقطه‌ای که در آن مقدار تابع و شیب خط هر دو منفی است، را بنویسید.</p>			۱۱
۱	<p>جسمی را از سطح زمین به طور عمودی پرتاب می‌کنیم. جهت حرکت به طرف بالا را مثبت در نظر می‌گیریم. فرض کنید ارتفاع این جسم از سطح زمین در هر لحظه از معادله <math>h(t) = -5t^2 + 40t</math> به دست می‌آید. مطلوب است:</p> <p>الف) سرعت متوسط در بازه <math>[1, 2]</math></p> <p>ب) سرعت لحظه‌ای در زمان <math>t = 3</math></p>				۱۲
۱		<p>با محاسبه مشتق راست و مشتق چپ تابع رسم‌شده مقابل، مشتق پذیری تابع را در نقطه <math>A(1, 1)</math> بررسی کنید.</p>			۱۳

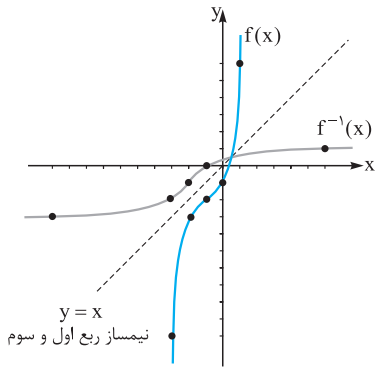
نمره	ردیف	آزمون شماره ۹	رشته: ریاضی فیزیک	زمان آزمون: ۱۲۰ دقیقه	kheilisabz.com
۲/۵	۱۴	مشتق توابع زیر را به دست آورید. (ساده کردن مشتق الزامی نیست).			
		الف) $f(x) = (\sqrt{3x} + 1)(2x^3 - 1)$			
		ب) $g(x) = 3 \tan^2 x + \cos x^2$			
		پ) $h(x) = \frac{x^2 - 3x}{5x}$			
۱/۵	۱۵	اکسترم‌های مطلق تابع $f(x) = x^3 - 3x^2 + 1$ را در بازه $[-1, 1]$ تعیین کنید.			
۱	۱۶	اگر نقطه $A(-1, 1)$ نقطه عطف منحنی $f(x) = x^3 + ax^2 + bx - 1$ باشد، مقادیر $a$ و $b$ را به دست آورید.			
۲/۵	۱۷	جدول رفتار و نمودار تابع $f(x) = \frac{2x-1}{x+1}$ را رسم کنید.			
۲۰		جمع نمرات	موفق باشید		

# پاسخنامه تشریحی

۳- الف) ابتدا نمودار  $y = x^3$  را رسم می‌کنیم. سپس نمودار  $y = x^3$  را یک واحد به سمت چپ و دو واحد به سمت پایین انتقال می‌دهیم.



ب) چون هر خط موازی محور  $X$ ها نمودار را حداکثر در یک نقطه قطع می‌کند، پس تابع یک‌به‌یک است، بنابراین تابع  $f$  وارون‌پذیر است. برای رسم وارون  $f^{-1}$ ، باید نمودار  $f(x) = (x+1)^3 - 2$  را نسبت به خط نیمساز ربع اول و سوم قرینه کنیم:



پ) برای محاسبه ضابطه وارون تابع  $f(x) = (x+1)^3 - 2$  ابتدا باید  $x$  را تنها کنیم:

$$y = (x+1)^3 - 2 \Rightarrow y+2 = (x+1)^3$$

$$\Rightarrow x+1 = \sqrt[3]{y+2} \Rightarrow x = \sqrt[3]{y+2} - 1$$

جای  $x$  و  $y$  را عوض می‌کنیم  $\rightarrow f^{-1}(x) = \sqrt[3]{x+2} - 1$

۴- طبق نمودار از سمت چپ شروع می‌کنیم.

اکیداً صعودی:  $[-4, 0]$ ، اکیداً نزولی:  $(-\infty, -4)$

اکیداً نزولی:  $[4, +\infty)$ ، تابع ثابت:  $[0, 4]$

۵- باید نشان دهیم مقدار  $f(x)$  به ازای ریشه  $5-2x$ ، برابر صفر است؛ یعنی باید

نشان دهیم:  $f(\frac{5}{2}) = 0$

$$f(\frac{5}{2}) = 2(\frac{5}{2})^3 - 3(\frac{5}{2})^2 - 9(\frac{5}{2}) + 10$$

$$= \frac{125}{2} - \frac{3 \times 25}{2} - \frac{45}{2} + 10 = \frac{125 - 75 - 90 + 40}{2}$$

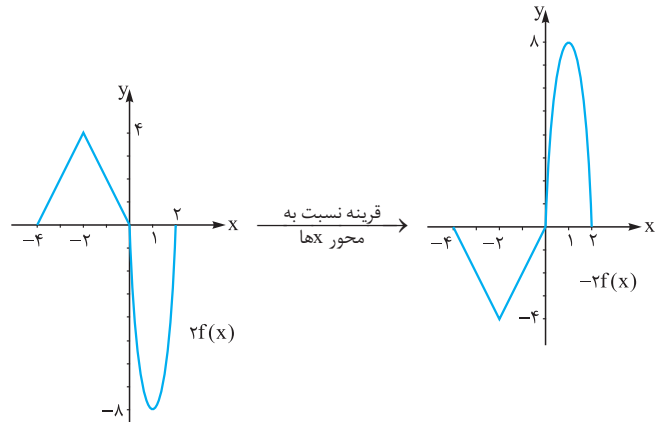
$$= \frac{165 - 165}{2} = 0 \Rightarrow f(\frac{5}{2}) = 0$$

پس  $5-2x$  یک مقسوم‌علیه  $f(x)$  است. برای پیدا کردن مقسوم‌علیه‌های دیگر باید

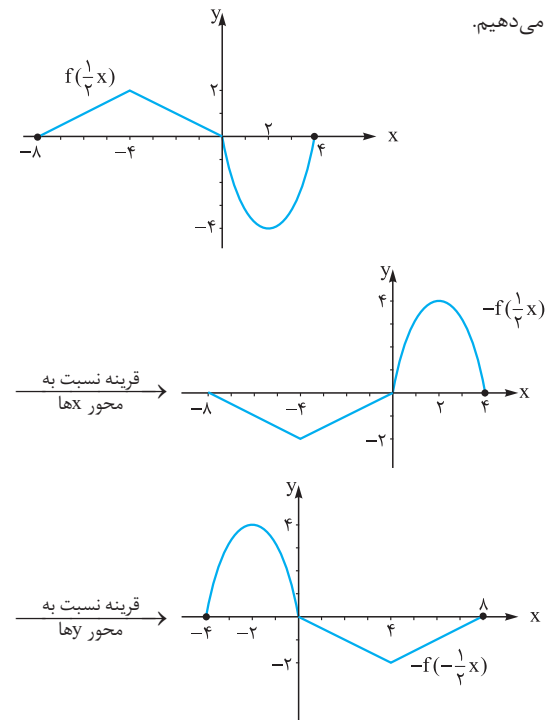
$f(x)$  را بر  $5-2x$  تقسیم کنیم.

## آزمون شماره ۱ (نوبت اول)

۱- برای رسم نمودار  $y_1 = -2f(x)$  ابتدا با توجه به ضریب ۲، یک انبساط عمودی در راستای محور  $Y$ ها انجام می‌دهیم؛ سپس به علت ضریب منفی نمودار را نسبت به محور  $X$ ها قرینه می‌کنیم.



برای رسم  $y_2 = -f(\frac{1}{2}x)$  ابتدا با توجه به ضریب  $\frac{1}{2}$ ، یک انبساط افقی در راستای محور  $X$ ها انجام می‌دهیم. سپس یک‌بار قرینه نسبت به محور  $X$ ها و بار دیگر قرینه نسبت به محور  $Y$ ها انجام می‌دهیم.



۲- الف)  $(-2, \frac{1}{2})$

$A = (-1, 1) \xrightarrow[\text{به سمت چپ}]{\text{ها یک واحد}} A' = (-2, 1)$

$\xrightarrow[\text{عمودی با ضریب } \frac{1}{2}]{\text{ها انقباض}} A'' = (-2, \frac{1}{2})$

$0 \leq x \leq 5 \Rightarrow -1 \leq x-1 \leq 4$

ب)

ب) قرار می‌دهیم  $\tan x = t$ ، در این صورت:  $2t^2 - 3t + 1 = 0$ .

مجموع ضرایب برابر صفر است، پس  $t = 1$  و  $t = \frac{1}{2}$ ؛ در نتیجه:

$$\tan x = 1 \Rightarrow \alpha = \frac{\pi}{4} \Rightarrow x = k\pi + \frac{\pi}{4}, \quad k \in \mathbb{Z}$$

اما از معادله  $\tan x = \frac{1}{2}$  مقدار زاویه قابل محاسبه نیست. مثلاً اگر  $\beta$  زاویه موردنظر

$$x = k\pi + \beta, \quad k \in \mathbb{Z} \quad \text{باشد، آن‌گاه } \tan \beta = \frac{1}{2} \text{ و در نتیجه:}$$

۹- مساحت مثلث به کمک دو ضلع و زاویه بین آن‌ها عبارت است از:

$$\text{(زاویه بین دو ضلع)} \sin \times \text{ضلع} \times \text{ضلع} \times \frac{1}{2} = \text{مساحت مثلث}$$

$$\lambda = \frac{1}{2} \times 4 \times \lambda \times \sin \theta \Rightarrow \sin \theta = \frac{1}{2}$$

زاویه بین دو ضلع در مثلث در بازه  $0 < \theta < \pi$  قرار می‌گیرد، پس  $\theta = \frac{\pi}{6}$  و  $\theta = \frac{5\pi}{6}$  قابل قبول هستند. یعنی دو مثلث با این خاصیت وجود دارد.

۱۰- الف) صورت کسر فاقد  $x$  است.  $x = 1$  را فقط در مخرج کسر جای گذاری می‌کنیم:

$$1^2 - 3(1) + 2 = 0$$

$$x^2 - 3x + 2 = 0 \Rightarrow x = 1, 2 \quad \text{با تعیین علامت مخرج کسر داریم:}$$

$x$	$1$	$2$
$x^2 - 3x + 2$	$+$	$-$

$x \rightarrow 1^+$  یعنی حد راست، طبق جدول برای همسایگی راست  $x = 1$ ، مقدار

$$\lim_{x \rightarrow 1^+} \frac{\pi - 4}{x^2 - 3x + 2} = \frac{\pi - 4}{0^-}$$

$$\frac{\text{عدد منفی}}{0^-} = +\infty$$

اما  $0 < \pi - 4 < \pi$  (با  $\pi \approx 3.14$ )، بنابراین:

ب) از مثلثات به یاد داریم که:

$$\begin{cases} \tan x = \frac{\sin x}{\cos x} \\ \sin\left(\frac{\pi}{2}\right) = 1, \quad \cos\left(\frac{\pi}{2}\right) = 0 \end{cases}$$

پس حاصل  $\lim_{x \rightarrow \frac{\pi}{2}} \tan x$  به صورت  $\frac{1}{0}$  خواهد بود که باید  $0^+$  یا  $0^-$  بودن مخرج را

مشخص کنیم. طبق صورت سؤال،  $x \rightarrow \frac{\pi}{2}^+$ ، پس با مقادیر بیشتر از  $\frac{\pi}{2}$  به  $\frac{\pi}{2}$  نزدیک می‌شویم، لذا در ربع دوم دایره مثلثاتی هستیم و در این ربع مقدار  $\cos x$  منفی است.

$$\lim_{x \rightarrow \frac{\pi}{2}^+} \tan x = \frac{1}{0^-} = -\infty \quad \text{در نتیجه:}$$

$$\lim_{x \rightarrow +\infty} 3x^2 + 1 = \lim_{x \rightarrow +\infty} 3x^2 \quad \text{پ) برای عبارت زیر رادیکال داریم:}$$

$$\lim_{x \rightarrow +\infty} \sqrt{3x^2 + 1} = \lim_{x \rightarrow +\infty} \sqrt{3x^2} = \lim_{x \rightarrow +\infty} \sqrt{3} |x| \quad \text{در نتیجه:}$$

چون  $x \rightarrow +\infty$  میل می‌کند، پس داخل قدرمطلق مثبت است و می‌توان قدرمطلق را

$$\lim_{x \rightarrow +\infty} \sqrt{3} |x| = \lim_{x \rightarrow +\infty} \sqrt{3} x \quad \text{حذف کرد. در نتیجه:}$$

$$\Rightarrow \lim_{x \rightarrow +\infty} \frac{\sqrt{3} x}{2x - 3} = \lim_{x \rightarrow +\infty} \frac{\sqrt{3} x}{2x} = \frac{\sqrt{3}}{2}$$

۱۱- مخرج کسر را برابر صفر قرار می‌دهیم:

$$x^2 + x - 6 = 0 \Rightarrow (x + 3)(x - 2) = 0 \Rightarrow x = -3, x = 2$$

چون  $x = 2$  و  $x = -3$  صورت کسر را صفر نمی‌کنند، حتماً مجانب قائم هستند. برای

بررسی دقیق‌تر ابتدا مخرج را تعیین علامت می‌کنیم:

$x$	$-3$	$2$
$x^2 + x - 6$	$+$	$-$

$$\begin{array}{r} 2x^2 - 3x^2 - 9x + 10 \quad | \quad 2x - 5 \\ \hline -(2x^2 - 5x^2) \quad \quad \quad x^2 + x - 2 \\ \hline 2x^2 - 9x + 10 \\ \hline -(2x^2 - 5x) \\ \hline -4x + 10 \\ \hline -(-4x + 10) \\ \hline 0 \end{array}$$

بنابراین:  $f(x) = (2x - 5)(x^2 + x - 2)$

$$= (2x - 5)(x + 2)(x - 1)$$

یعنی  $x + 2$  و  $x - 1$  مقسوم‌علیه‌های دیگر  $f(x)$  هستند.

۶- به طور کلی دوره تناوب توابعی به فرم  $y = a \sin(bx + c) + d$  و

$y = a \cos(bx + c) + d$  برابر  $\frac{2\pi}{|b|}$  و مقدار ماکزیمم  $|a| + d$  و مقدار مینیمم

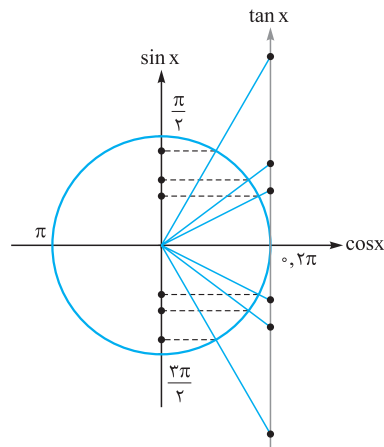
$-|a| + d$  است.

$$\begin{cases} y = -\cos \frac{\pi}{3} x + \sqrt{2} & \text{الف)} \\ T = \frac{2\pi}{|\frac{\pi}{3}|} = \frac{2\pi}{\frac{\pi}{3}} = 6 \end{cases}$$

$$\begin{cases} \max = |-1| + \sqrt{2} = 1 + \sqrt{2} \\ \min = -|-1| + \sqrt{2} = -1 + \sqrt{2} \end{cases} \quad \text{ب)}$$

$$\begin{cases} y = -2 \sin \Delta x + 3 \\ T = \frac{2\pi}{|\Delta|} = \frac{2\pi}{5} \\ \max = |-2| + 3 = 2 + 3 = 5 \\ \min = -|-2| + 3 = -2 + 3 = 1 \end{cases}$$

۷- دایره مثلثاتی رسم می‌کنیم:



در ربع اول:  $0 < \alpha < \frac{\pi}{2}$ ، طبق شکل مشخص است که همواره:  $\sin \alpha < \tan \alpha$

در ربع چهارم:  $\frac{3\pi}{2} < \alpha < 2\pi$ ، طبق شکل مشخص است که همواره:  $\sin \alpha > \tan \alpha$

۸- الف)  $2 \sin x + \sqrt{3} = 0$ ، در نتیجه  $\sin x = -\frac{\sqrt{3}}{2}$ . زاویه‌ای که مقدار سینوس

$$\text{آن } -\frac{\sqrt{3}}{2} \text{ است را از ربع ۴ انتخاب می‌کنیم. } \alpha = -\frac{\pi}{3}$$

جواب‌های کلی عبارت‌اند از:

$$\begin{cases} x = 2k\pi + \left(-\frac{\pi}{3}\right) \\ x = (2k+1)\pi - \left(-\frac{\pi}{3}\right) \end{cases} \Rightarrow \begin{cases} x = 2k\pi - \frac{\pi}{3} \\ x = 2k\pi + \frac{4\pi}{3} \end{cases}, \quad (k \in \mathbb{Z})$$

طبق جدول در همسایگی راست  $X = 2$ ، مخرج مثبت است.

$$\lim_{x \rightarrow 2^+} \frac{x+1}{x^2+x-6} = \frac{3}{0^+} = +\infty$$

در نتیجه:

طبق جدول در همسایگی چپ  $X = 2$ ، مخرج منفی است.

$$\lim_{x \rightarrow 2^-} \frac{x+1}{x^2+x-6} = \frac{3}{0^-} = -\infty$$

در نتیجه:

طبق جدول در همسایگی راست  $X = -3$ ، مخرج منفی است.

$$\lim_{x \rightarrow (-3)^+} \frac{x+1}{x^2+x-6} = \frac{-2}{0^-} = +\infty$$

در نتیجه:

طبق جدول در همسایگی چپ  $X = -3$ ، مخرج مثبت است.

$$\lim_{x \rightarrow (-3)^-} \frac{x+1}{x^2+x-6} = \frac{-2}{0^+} = -\infty$$

در نتیجه:

$$\lim_{x \rightarrow \pm\infty} \sqrt{x^2+1} = \lim_{x \rightarrow \pm\infty} \sqrt{x^2}$$

۱۲- توجه داریم که:

$$= \lim_{x \rightarrow \pm\infty} |x| = \begin{cases} \lim_{x \rightarrow +\infty} x \\ \lim_{x \rightarrow -\infty} (-x) \end{cases}$$

اکنون حد تابع داده شده را یک بار وقتی  $X \rightarrow +\infty$  و بار دیگر وقتی  $X \rightarrow -\infty$  میل می کند، محاسبه می کنیم:

$$\lim_{x \rightarrow +\infty} \frac{x}{\sqrt{x^2+1}} = \lim_{x \rightarrow +\infty} \frac{x}{x} = 1$$

$$\lim_{x \rightarrow -\infty} \frac{x}{\sqrt{x^2+1}} = \lim_{x \rightarrow -\infty} \frac{x}{-x} = -1$$

پس  $y = \pm 1$  خطوط مجانب افقی تابع هستند.

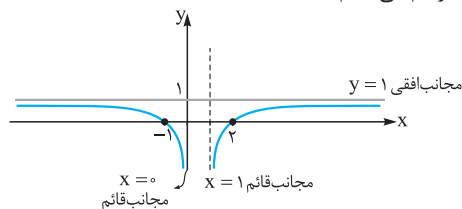
۱۳- طبق (الف)، نقاط  $(2, 0)$  و  $(-1, 0)$  روی نمودار است؛ یعنی نمودار باید محور  $X$  ها را در  $-1$  و  $2$  قطع کند.

طبق (ب)، خطوط  $X = 1$  و  $X = 0$  مجانب های قائم هستند. برای مجانب قائم  $X = 1$ ، در همسایگی راست، مقادیر  $f$  به  $-\infty$  و برای مجانب قائم  $X = 0$ ، در همسایگی چپ، مقادیر  $f$  به  $-\infty$  میل می کند.

طبق (پ)، خط  $y = 1$  مجانب افقی تابع  $f$  است، یعنی:

$$\lim_{x \rightarrow +\infty} f(x) = 1 \quad \text{یا} \quad \lim_{x \rightarrow -\infty} f(x) = 1$$

اکنون نموداری با این اطلاعات رسم می کنیم:





اما  $\sin x = -\frac{3}{4}$  غیر قابل قبول است، زیرا مقادیر  $\sin x$  باید بین ۱ و -۱ باشد. در نتیجه:

$$\sin x = 1 \Rightarrow \sin x = \sin \frac{\pi}{2}$$

$$\Rightarrow x = 2k\pi + \frac{\pi}{2}, k \in \mathbb{Z}$$

الف)  $\lim_{x \rightarrow 2^-} \frac{x+1}{|x-2|}$  -۸  
داخل قدرمطلق در مخرج منفی است.  $x \rightarrow 2^- \Rightarrow x < 2 \Rightarrow x-2 < 0 \Rightarrow$

$$\lim_{x \rightarrow 2^-} \frac{x+1}{-(x-2)} = \frac{3}{-(0^-)} = \frac{3}{0^+} = +\infty$$

ب)  $\lim_{x \rightarrow +\infty} \frac{3 + \frac{1}{x}}{\frac{4}{x} - 2}$

وقتی  $x \rightarrow +\infty$  میل کند به صفر نزدیک می‌شوند پس:

$$\lim_{x \rightarrow +\infty} \frac{3 + \frac{1}{x}}{\frac{4}{x} - 2} = \frac{3 + 0}{0 - 2} = -\frac{3}{2}$$

۹- مجانب قائم:  $x^2 - 1 = 0 \Rightarrow x = \pm 1$

چون هیچ کدام صورت را صفر نمی‌کنند، پس مجانب قائم هستند.

مجانب افقی:  $\lim_{x \rightarrow \pm\infty} \frac{1-2x^2}{x^2-1} = \lim_{x \rightarrow \pm\infty} \frac{-2x^2}{x^2} = -2 \Rightarrow y = -2$

۱۰-  $f(1) = 1^2 - 2(1) = 1 - 2 = -1 \Rightarrow A(1, -1)$

شیب خط مماس در نقطه A برابر  $f'(1)$  است.

$$f'(x) = 2x - 2 \xrightarrow{x=1} f'(1) = 2 - 2 = 0$$

معادله خط مماس  $\rightarrow y - (-1) = 0(x-1) \Rightarrow y = x - 2$

۱۱- الف)  $x = b$  زیرا خط مماس افقی خواهد بود.

ب)  $x = d$  زیرا مشتق چپ و راست در این نقطه (شیب خطوط متقاطع در  $x = d$ ) با هم متفاوت است.

پ)  $x = c$  زیرا عرض مربوط به  $x = c$  زیر محور x هاست پس مقدار تابع منفی است. همچنین شیب خطی که از این نقطه می‌گذرد منفی است (چون خط نزولی است).

۱۲- الف)  $h(t) = -5t^2 + 40t$

سرعت متوسط در بازه  $[1, 2]$  برابر است با:  $\frac{h(2) - h(1)}{2 - 1}$

اما:  $h(2) = -5(2)^2 + 40(2) = -20 + 80 = 60$

$$h(1) = -5(1)^2 + 40(1) = 35$$

$$\Rightarrow \frac{60 - 35}{2 - 1} = \frac{25}{1} = 25$$

ب) سرعت لحظه‌ای در زمان  $t = 3$  برابر است با  $h'(3)$ :

$$h'(t) = -10t + 40 \xrightarrow{t=3} h'(3) = -10(3) + 40 = 10$$

۱۳- روش اول: ضابطه تابع به صورت زیر است:

$$f(x) = \begin{cases} 1 & x \leq 1 \\ \frac{1}{x} & x > 1 \end{cases} \Rightarrow f'(x) = \begin{cases} 0 & x < 1 \\ -\frac{1}{x^2} & x > 1 \end{cases}$$

$$f'_-(1) = 0, f'_+(1) = -1$$

چون  $f'_+(1) \neq f'_-(1)$  پس تابع  $f$  در این نقطه مشتق پذیر نیست.

روش دوم: محاسبه مشتق چپ و راست به کمک تعریف:  $f(x) = \begin{cases} 1 & x \leq 1 \\ \frac{1}{x} & x > 1 \end{cases}$

۱- الف) یکنوا

ب)  $\mathbb{R}$  (مجموعه اعداد حقیقی)

پ)  $+\infty$ ، زیرا وقتی از هر دو طرف راست و چپ عدد صفر روی محور xها به صفر نزدیک می‌شویم مقادیر تابع به سمت  $+\infty$  می‌رود.

ت) پیوسته

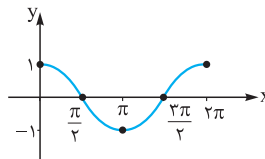
۲- الف) درست

ب) نادرست، نمودار تابع رسم شده اکیداً صعودی است و  $x = 0$  طول نقطه عطف است.

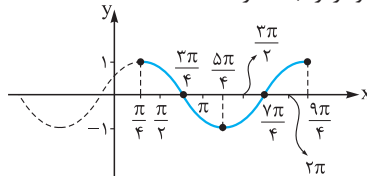
پ) درست

ت) درست

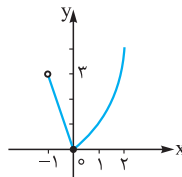
۳- ابتدا نمودار  $y = \cos x$  را در بازه  $[0, 2\pi]$  رسم می‌کنیم.



اکنون برای رسم  $y = \cos(x - \frac{\pi}{4})$  نمودار را به اندازه  $\frac{\pi}{4}$  به سمت راست انتقال می‌دهیم.



۴- نمودار را با استفاده از عددگذاری رسم می‌کنیم:



$$f(x) = \begin{cases} x^2 & x \leq 0 \\ -3x & -1 < x < 1 \\ x - 1 & x \geq 1 \end{cases} \Rightarrow \frac{x}{y} \begin{matrix} -1 & 0 \\ 3 & 0 \end{matrix}$$

در بازه  $[-1, 0]$  اکیداً نزولی و در بازه  $[0, +\infty)$  اکیداً صعودی است.

۵-  $x + 2 = 0 \Rightarrow x = -2$

اکنون  $x = -2$  را در  $p(x)$  و  $q(x)$  جای‌گذاری می‌کنیم و سپس برابر هم قرار می‌دهیم. (طبق فرض باقی‌مانده‌ها یکسان است.)

$$p(-2) = (-2)^3 + a(-2) + 1 = -2a - 7$$

$$q(-2) = 2(-2)^2 - (-2) + 1 = 11$$

$$\Rightarrow -2a - 7 = 11 \Rightarrow -2a = 18 \Rightarrow a = -9$$

۶-

$$T = 3 \Rightarrow \frac{2\pi}{|b|} = 3 \Rightarrow |b| = \frac{2\pi}{3} \Rightarrow b = \pm \frac{2\pi}{3}$$

$$\begin{cases} \max = 5 \\ \min = 3 \end{cases} \Rightarrow \begin{cases} |a| + c = 5 \\ -|a| + c = 3 \end{cases} \Rightarrow 2c = 8 \Rightarrow c = 4$$

و  $|a| = 1$  پس  $a = \pm 1$ :  $y = a \sin bx + c$

$$y = \sin \frac{2\pi}{3} x + 4 \text{ یا } y = -\sin \frac{2\pi}{3} x + 4$$

۷- می‌دانیم  $\cos^2 x = 1 - \sin^2 x$  پس:

$$2 \cos^2 x = \sin x - 1 \Rightarrow 2(1 - \sin^2 x) = \sin x - 1$$

$$\Rightarrow 2 - 2 \sin^2 x = \sin x - 1 \Rightarrow 2 \sin^2 x + \sin x - 3 = 0$$

قرار می‌دهیم  $\sin x = t$ :

$$2t^2 + t - 3 = 0 \xrightarrow{\text{مجموع ضرایب صفر است}} \Rightarrow t = 1, t = -\frac{3}{2}$$

$$\Rightarrow \sin x = 1, \sin x = -\frac{3}{2}$$

$$f'_-(1) = \lim_{x \rightarrow 1^-} \frac{f(x) - f(1)}{x - 1} = \lim_{x \rightarrow 1^-} \frac{1 - 1}{x - 1} = 0$$

$$f'_+(1) = \lim_{x \rightarrow 1^+} \frac{f(x) - f(1)}{x - 1} = \lim_{x \rightarrow 1^+} \frac{\frac{1}{x} - 1}{x - 1} = \lim_{x \rightarrow 1^+} \frac{1 - x}{x(x - 1)}$$

$$= \lim_{x \rightarrow 1^+} \frac{\cancel{1 - x}}{x(\cancel{x - 1})} = \lim_{x \rightarrow 1^+} \frac{-1}{x} = -1$$

چون  $f'_-(1) \neq f'_+(1)$  پس تابع  $f$  در این نقطه مشتق پذیر نیست.

$$\text{الف) } f'(x) = \frac{3}{2\sqrt{3x}} (2x^2 - 1) + (6x^2)(\sqrt{3x} + 1) \quad -14$$

$$\text{ب) } g'(x) = 6 \tan x (1 + \tan^2 x) + (2x)(-\sin x^2)$$

$$\text{پ) } h'(x) = \frac{(2x - 3)(\Delta x) - \Delta(x^2 - 3x)}{(\Delta x)^2}$$

$$f'(x) = 3x^2 - 6x = 0 \Rightarrow 3x(x - 2) = 0 \Rightarrow x = 0, x = 2 \quad -15$$

اما  $x = 2$  در بازه  $[-1, 1]$  نیست پس غیر قابل قبول است.

اکنون مقادیر تابع  $f$  را به ازای نقاط بحرانی  $x = 1$ ،  $x = -1$  و  $x = 0$  محاسبه می‌کنیم:

$$x = 1 \Rightarrow f(1) = 1 - 3 + 1 = -1$$

$$x = -1 \Rightarrow f(-1) = -1 - 3 + 1 = -3$$

$$x = 0 \Rightarrow f(0) = 0 - 0 + 1 = 1$$

پس نقطه  $(0, 1)$  ماکزیمم مطلق و نقطه  $(-1, -3)$  مینیمم مطلق  $f$  در بازه  $[-1, 1]$  هستند.

۱۶- نقطه  $A(-1, 1)$  باید در معادله  $f$  صدق کند:

$$f(-1) = 1 \Rightarrow (-1)^3 + a(-1)^2 + b(-1) - 1 = 1$$

$$\Rightarrow -1 + a - b - 1 = 1 \Rightarrow a - b = 3 \quad \text{I}$$

از طرفی  $A$  نقطه عطف است، در نتیجه  $x = -1$  ریشه مشتق دوم تابع  $f$  است. یعنی  $f''(-1) = 0$ .

$$f'(x) = 3x^2 + 2ax + b$$

$$f''(x) = 6x + 2a \xrightarrow{x=-1} f''(-1) = -6 + 2a = 0$$

$$\Rightarrow 2a = 6 \Rightarrow a = 3 \xrightarrow{\text{طبق I}} b = 0$$

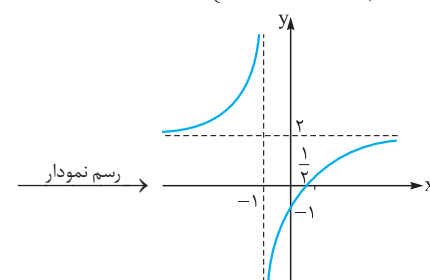
$$x + 1 = 0 \Rightarrow x = -1 \text{ مجانب قائم} \quad -17$$

$$\lim_{x \rightarrow \pm\infty} \frac{2x - 1}{x + 1} = 2 \Rightarrow y = 2 \text{ مجانب افقی}$$

$$y' = \frac{2(x+1) - 1(2x-1)}{(x+1)^2} = \frac{3}{(x+1)^2} > 0 \Rightarrow \text{تابع همواره صعودی است.}$$

$x$	$-\infty$	$1$	$+\infty$
$f'$		-	-
$f$	$2$	$\nearrow +\infty$	$-\infty \nearrow 2$

$$\text{محل برخورد با محورها} \begin{cases} \xrightarrow{x=0} y = -1 \Rightarrow (0, -1) \\ \xrightarrow{y=0} x = \frac{1}{2} \Rightarrow (\frac{1}{2}, 0) \end{cases}$$



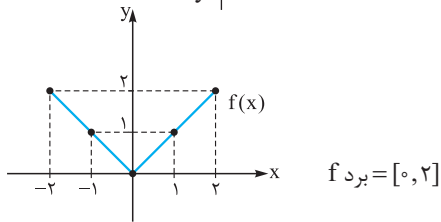
# درس نامه توپ برای شب امتحان

**مثال:** نمودار تابع  $f(x) = |x|$  را با دامنه  $[-2, 2]$  رسم کنید و برد تابع را مشخص کنید. سپس نمودار توابع  $g(x) = f(x-1)$  و  $h(x) = f(x)-1$  را به کمک انتقال رسم کرده و دامنه و برد آن‌ها را بیابید.

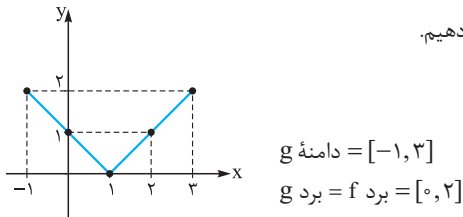
**پاسخ:**

$x$	-2	-1	0	1	2
$y$	2	1	0	1	2

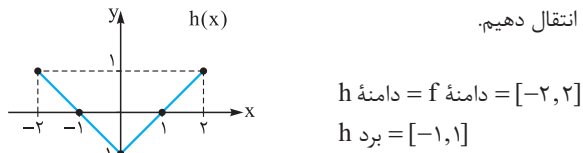
$f(x) = |x|$



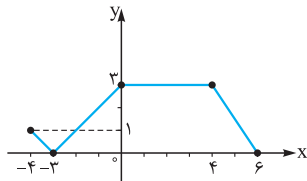
برای رسم تابع  $g(x) = f(x-1)$  باید نمودار  $f(x)$  را یک واحد به سمت راست در راستای افقی انتقال دهیم.



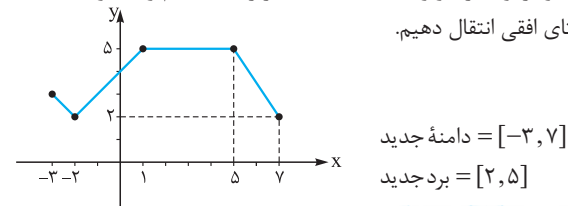
برای رسم تابع  $h(x) = f(x)-1$  باید نمودار  $f(x)$  را یک واحد به سمت پایین در راستای قائم انتقال دهیم.



**مثال:** نمودار تابع  $f$  به صورت زیر داده شده است. با انتقال‌های افقی و عمودی نمودار تابع  $y = f(x-1) + 2$  را رسم کنید.



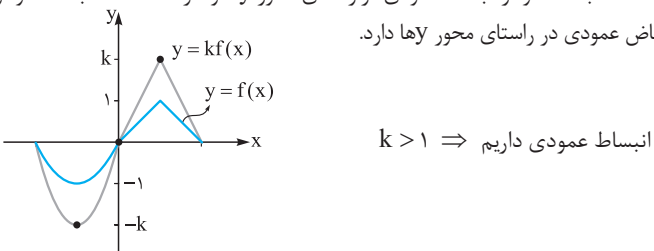
**پاسخ:** باید نمودار اولیه را دو واحد به سمت بالا در راستای قائم و یک واحد به سمت راست در راستای افقی انتقال دهیم.



## انبساط و انقباض عمودی

برای رسم نمودار تابع  $y = kf(x)$ ، باید عرض نقاط نمودار تابع  $y = f(x)$  را در  $k$  ضرب کنیم.

اگر  $k > 1$  باشد، نمودار انبساط عمودی در راستای محور  $y$ ها و اگر  $0 < k < 1$  باشد، نمودار انقباض عمودی در راستای محور  $y$ ها دارد.

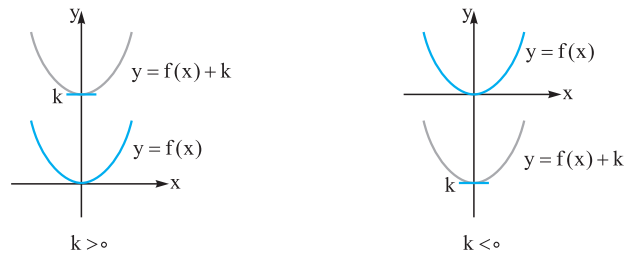


## فصل ۱: تابع

### درس اول: تبدیل نمودار توابع

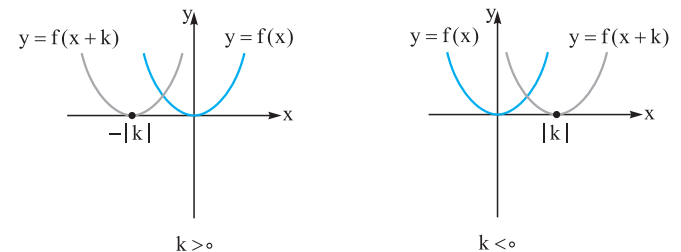
#### انتقال‌های عمودی و افقی

**انتقال عمودی:** برای رسم نمودار  $y = f(x) + k$ ، اگر  $k > 0$  باشد، باید نمودار تابع  $f(x)$  را  $k$  واحد در راستای قائم به سمت بالا ببریم. اما اگر  $k < 0$  باشد، باید این انتقال را به اندازه  $|k|$  واحد به سمت پایین انجام دهیم.



**نکته:** در انتقال عمودی دامنه تابع تغییری نمی‌کند و فقط بُرد آن به اندازه  $k$  واحد تغییر می‌کند.

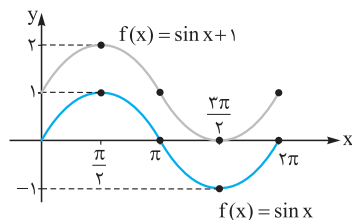
**انتقال افقی:** برای رسم نمودار  $y = f(x+k)$ ، اگر  $k > 0$  باشد، باید نمودار  $f(x)$  را  $k$  واحد در راستای افقی به سمت چپ ببریم. اما اگر  $k < 0$  باشد، باید این انتقال را به اندازه  $|k|$  واحد به سمت راست انجام دهیم.



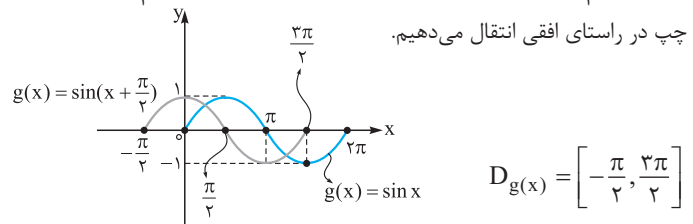
**نکته:** در انتقال افقی بُرد تابع تغییری نمی‌کند و فقط دامنه آن به اندازه  $k$  واحد تغییر می‌کند.

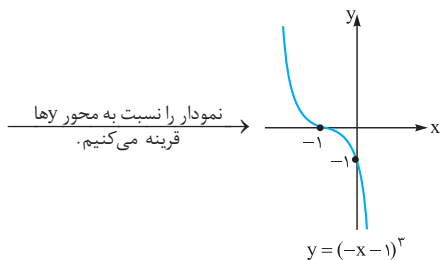
**مثال:** نمودار توابع  $f(x) = \sin x + 1$  و  $g(x) = \sin(x + \frac{\pi}{4})$  را با توجه به نمودار  $y = \sin x$  با دامنه  $[0, 2\pi]$  رسم کنید.

**پاسخ:** برای تابع  $f(x) = \sin x + 1$ ، نمودار  $y = \sin x$  با دامنه  $[0, 2\pi]$  را یک واحد به سمت بالا در راستای قائم انتقال می‌دهیم. دامنه  $f(x)$  همچنان  $[0, 2\pi]$  باقی می‌ماند.



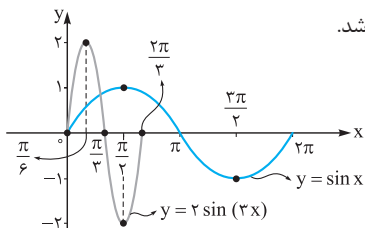
برای تابع  $g(x) = \sin(x + \frac{\pi}{4})$ ، نمودار  $y = \sin x$  را به اندازه  $\frac{\pi}{4}$  واحد به سمت چپ در راستای افقی انتقال می‌دهیم.



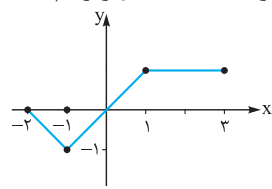


**مثال:** به کمک نمودار تابع  $y = \sin x$ ، نمودار تابع  $y = 2 \sin(3x)$  را رسم کنید.

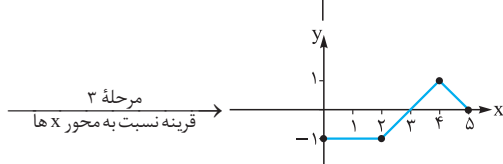
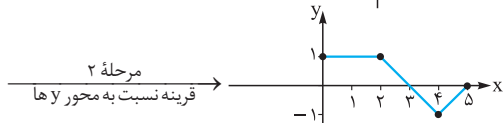
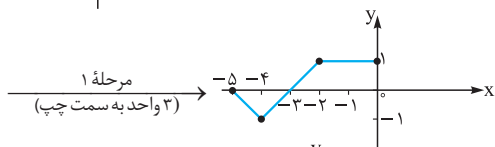
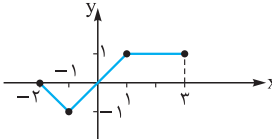
**پاسخ:** ضریب ۲ باعث می‌شود که نمودار اولیه انبساط عمودی (انبساط در راستای محور ی‌ها) داشته باشد، هم‌چنین ضریب ۳ برای  $x$  باعث می‌شود نمودار اولیه انقباض افقی (در راستای محور  $x$ ‌ها) داشته باشد.



**مثال:** نمودار  $f(x)$  در زیر رسم شده است. نمودار  $y = -f(3-x)$  را رسم کنید.



**پاسخ:** مراحل رسم: ۱- نمودار را ۳ واحد به سمت چپ می‌بریم. ۲- نمودار مرحله ۱ را نسبت به محور  $y$ ‌ها قرینه می‌کنیم. ۳- نمودار مرحله ۲ را نسبت به محور  $x$ ‌ها قرینه می‌کنیم.



### درس دوم: تابع درجه سوم، توابع یک‌نوا، بخش پذیری و تقسیم

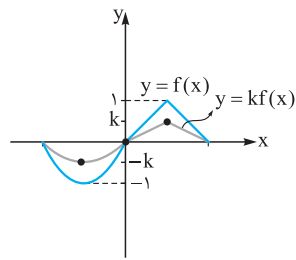
#### تابع چندجمله‌ای درجه n

اگر  $n$  یک عدد صحیح نامنفی و  $a_0, a_1, \dots, a_n$  اعداد حقیقی باشند که  $a_n \neq 0$  آن‌گاه تابع  $f(x)$  زیر، یک تابع چندجمله‌ای از درجه  $n$  نامیده می‌شود.

$$f(x) = a_n x^n + a_{n-1} x^{n-1} + \dots + a_2 x^2 + a_1 x^1 + a_0, \quad a_n \neq 0$$

در حالت‌های خاص:

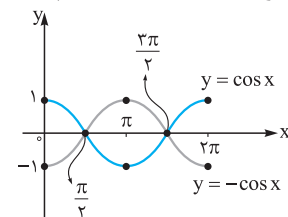
- ①  $n = 0 \Rightarrow f(x) = c$  (تابع ثابت)
- ②  $n = 1 \Rightarrow \begin{cases} f(x) = ax + b \\ a \neq 0 \end{cases}$  (تابع خطی درجه اول)
- ③  $n = 2 \Rightarrow \begin{cases} f(x) = ax^2 + bx + c \\ a \neq 0 \end{cases}$  (تابع درجه ۲ سهمی)



انقباض عمودی داریم  $0 < k < 1$

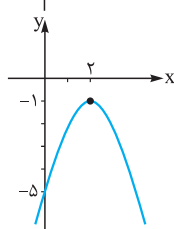
**تذکره:** در حالتی که  $k = -1$  باشد، نمودار تابع  $y = -f(x)$  قرینه نمودار تابع  $y = f(x)$  نسبت به محور  $x$ ‌ها است.

**مثال:** قرینه نمودار تابع  $y = \cos x$  را نسبت به محور  $x$ ‌ها در بازه  $[0, 2\pi]$  رسم کنید.



**پاسخ:** ابتدا نمودار  $y = \cos x$  را رسم می‌کنیم، سپس برای رسم قرینه آن، نسبت به محور  $x$ ‌ها یعنی  $y = -\cos x$ ، نمودار را نسبت به محور  $x$ ‌ها قرینه می‌کنیم.

**مثال:** نمودار مقابل از قرینه‌یابی نسبت به محور  $x$ ‌ها و انتقال نمودار تابع  $y = x^2$  به دست آمده است. ضابطه آن را مشخص کنید.

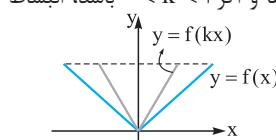


**پاسخ:** با توجه به نمودار، تابع  $y = x^2$  نسبت به محور  $x$ ‌ها قرینه شده، دو واحد به سمت راست و یک واحد پایین آمده است، پس ضابطه‌اش به صورت  $y = -(x-2)^2 - 1$  است.

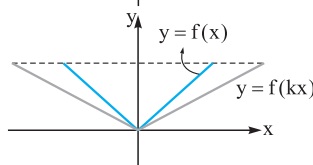
#### انبساط و انقباض افقی

برای رسم نمودار تابع  $y = f(kx)$ ، باید طول نقاط نمودار تابع  $y = f(x)$  را در  $\frac{1}{k}$  ضرب کنیم.

اگر  $k > 1$  باشد، انقباض افقی در راستای محور  $x$ ‌ها و اگر  $0 < k < 1$  باشد، انبساط افقی در راستای محور  $x$ ‌ها داریم.



(انقباض)  $k > 1$



(انبساط)  $0 < k < 1$

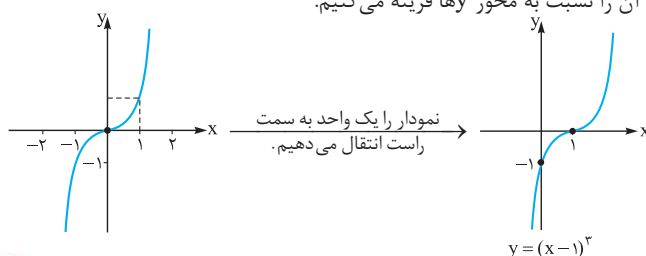
**تذکره:** نمودار تابع  $y = f(-x)$  قرینه نمودار تابع  $y = f(x)$  نسبت به محور  $y$ ‌ها است.

**تکلیف:** برای بررسی تابع  $g(x) = af(bx+c)+d$  از روی نمودار  $f(x)$ ، باید به ترتیب  $c$  (انتقال افقی)،  $b$  (انبساط و انقباض افقی)،  $a$  (انبساط و انقباض عمودی) و در نهایت  $d$  (انتقال عمودی) را انجام دهیم.

**مثال:** نمودار تابع  $y = (-x-1)^3$  را به کمک نمودار تابع  $y = x^3$  رسم کنید.

$$y = x^3 \quad \begin{array}{c|ccc} x & -1 & 0 & 1 \\ \hline y & -1 & 0 & 1 \end{array}$$

ابتدا نمودار  $y = x^3$  را رسم کرده، سپس آن را یک واحد به سمت راست می‌بریم و در نهایت آن را نسبت به محور  $y$ ‌ها قرینه می‌کنیم.

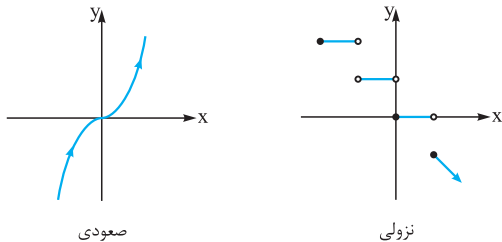


### توابع صعودی و نزولی

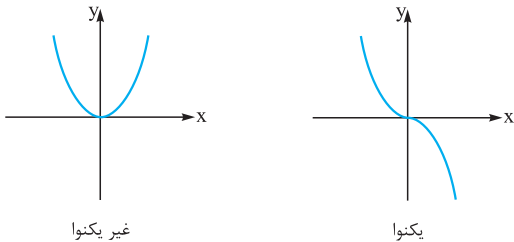
● اگر برای هر دو نقطه  $a$  و  $b$  از دامنه تابع  $f$  که  $a < b$ ، داشته باشیم  $f(a) \leq f(b)$ ، آن گاه  $f$  را تابعی صعودی می‌نامیم.

● اگر برای هر دو نقطه  $a$  و  $b$  از دامنه تابع  $f$  که  $a < b$ ، داشته باشیم  $f(a) \geq f(b)$ ، آن گاه  $f$  را تابعی نزولی است.

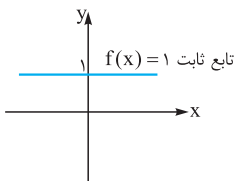
**تذکره:** در توابع صعودی با حرکت روی نمودار از چپ به راست، رو به پایین خواهیم رفت (یعنی یا نمودار ثابت است یا رو به بالا) و در توابع نزولی با حرکت روی نمودار از چپ به راست، رو به بالا خواهیم رفت. (یعنی یا نمودار ثابت است یا رو به پایین) مثال‌های زیر را ببینید:



**تذکره:** تابع یکتا تابعی است که در یک بازه فقط صعودی یا فقط نزولی باشد.

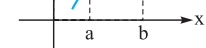


**تابع ثابت:** تابع  $f(x) = c$  را یک تابع ثابت می‌نامیم که نمودار آن یک خط افقی است. تابع ثابت هم صعودی و هم نزولی می‌باشد.

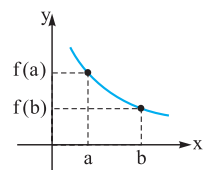


### توابع اکیداً صعودی و اکیداً نزولی

تابع  $f$  را در یک بازه، اکیداً صعودی می‌گوییم هرگاه، برای هر دو مقدار  $a$  و  $b$  در این بازه:  $a < b \Rightarrow f(a) < f(b)$

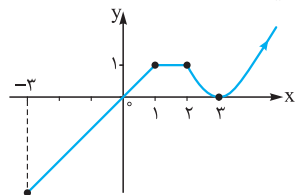


تابع  $f$  را در یک بازه اکیداً نزولی می‌گوییم هرگاه، برای هر دو مقدار  $a$  و  $b$  در این بازه:  $a < b \Rightarrow f(a) > f(b)$



**تذکره:** به تابعی که در یک بازه، فقط اکیداً صعودی یا فقط اکیداً نزولی باشد، اکیداً یکتا می‌گوییم.

**مثال:** در هر بازه نوع نمودار تابع را مشخص کنید.



**پاسخ:** در بازه  $[-3, 1]$  تابع اکیداً صعودی، در بازه  $[1, 2]$  تابع ثابت، در بازه  $[2, 3]$  تابع اکیداً نزولی، در بازه  $[3, +\infty)$  تابع اکیداً صعودی، در بازه  $[-3, 2]$  تابع صعودی و در بازه  $[1, 3]$  تابع نزولی است.

$$\text{مثال: } n = 3 \Rightarrow \begin{cases} f(x) = ax^3 + bx^2 + cx + d \\ a \neq 0 \end{cases} \quad (\text{تابع درجه } 3)$$

**مثال:** درجه چندجمله‌ای زیر را مشخص کنید.

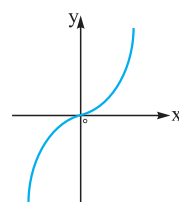
الف)  $f(x) = (x-1)^2 x^3$   
ب)  $g(x) = (x-2)^2 + 1$   
پ)  $h(x) = 3$

**پاسخ:** درجه چندجمله‌ای یعنی بزرگ‌ترین توان  $x$ :

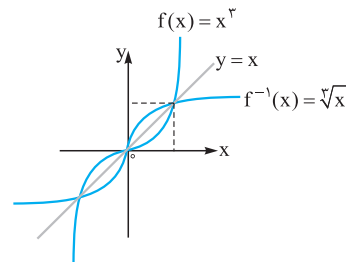
الف)  $f(x) = (x-1)^2 x^3 = (x^2 - 2x + 1)(x^3) = x^5 - 2x^4 + x^3$  پس درجه  $f(x)$  برابر ۵ است.  
ب)  $g(x) = (x-2)^2 + 1 = x^2 - 4x + 4 + 1 = x^2 - 4x + 5$  پس درجه  $g(x)$  برابر ۲ است.  
پ) درجه  $h(x)$  برابر صفر است.

### تابع درجه ۳

تابع  $f(x) = ax^3 + bx^2 + cx + d$ ،  $a \neq 0$  را تابع درجه سوم می‌نامیم. یکی از توابع چندجمله‌ای درجه سوم، تابع  $f(x) = x^3$  است که نمودار آن بصورت مقابل است:



این تابع یک‌به‌یک است و در نتیجه وارون‌پذیر است. برای رسم وارون آن، نمودار اولیه را نسبت به نیمساز ربع اول و سوم قرینه می‌کنیم.



**مثال:** نمودار تابع  $y = x^3 - 3x^2 + 3x$  را به کمک نمودار تابع  $y = x^3$  رسم کنید.

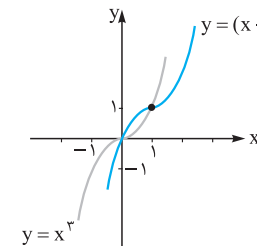
**پاسخ:** ابتدا تابع داده شده را ساده می‌کنیم:

$$y = x^3 - 3x^2 + 3x - 1 + 1$$

اتحاد مکعب

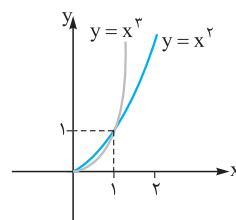
$$y = (x-1)^3 + 1$$

به کمک انتقال، نمودار اولیه را یک واحد به سمت راست در راستای محور  $x$ ها و یک واحد به سمت بالا در راستای محور  $y$ ها انتقال می‌دهیم.



### تفاوت نمودار $x^2$ و $x^3$

دو تابع  $y = x^2$  و  $y = x^3$  در فاصله  $[0, 1]$  و برای  $x \geq 1$  به صورت زیر هستند:



با توجه به نمودار داریم:

در بازه  $(0, 1)$ :  $x^2 > x^3$

در بازه  $(1, +\infty)$ :  $x^3 > x^2$

و در  $x = 1$ :  $x^2 = x^3$  می‌باشد.