

فهرست

FILM	پاسخ	درسنامه و سؤالات	
132 min	۱۰۸	۶ تا ۳۴	فصل اول: جبر و معادله
92 min	۱۳۲	۵۵ تا ۳۵	فصل دوم: تابع
26 min	۱۴۵	۶۹ تا ۵۶	فصل سوم: توابع نمایی و لگاریتمی
30 min	۱۵۷	۸۳ تا ۷۰	فصل چهارم: مثلثات
27 min	۱۷۰	۱۰۵ تا ۸۴	فصل پنجم: حد و پیوستگی

نمونه سؤال امتحانی



۱۸۸	آزمون ۱
۱۸۸	آزمون ۲
۱۸۹	آزمون ۳
۱۹۰	آزمون ۴
۱۹۲	پاسخنامه تشریحی آزمون ۱ تا ۴

بارم بندی درس حسابان ۱

شماره فصل	نوبت اول	نوبت دوم	شهریور / دی
اول	۱۰	۴	۴
دوم	۸	۳	۴
سوم	۲ (تا آخر درس ۱ از فصل ۳، صفحه ۱۷۹)	۳	۳
چهارم	-	۴	۴
پنجم	-	۶	۵
جمع	۲۰	۲۰	۲۰

1

بخش



درستنامه

و سوالات تشریحی

جبر و معادله

۱

بهترین جمله‌ای که در مورد این فصل می‌توان گفت، این است که: «پلی است از گذشته به آینده»
 در واقع این فصل و حتی می‌توان گفت کتاب حسابان (۱) ارتباطی بین دانش گذشته و بخصوص مطالب ریاضی دهم و مطالب پیش رو در سال آینده و کتاب حسابان دوازدهم است.
 از یک طرف با تکمیل آموخته‌های سال‌های قبل شما را به سطح خوبی از دانش حسابان می‌رساند و از طرف دیگر شما را برای مواجهه با مطالب جدی‌تر آماده می‌کند. با نگاهی به فهرست مطالب فصل اول، خیلی زود در می‌یابید که این فصل آشنی شله قلم‌کاری است که در همین ابتدا می‌خواهد مطالب جامانده و مقدمات لازم را به سمع و نظر شما برساند و همین جاست که اهمیت این فصل را بر همگان آشکار می‌سازد.
 از این فصل، ۱۰ نمره در نوبت اول و ۴ نمره در نوبت دوم و شهریور سؤال طرح می‌شود.

بسته ۷

بسته‌های ۵ و ۶

بسته‌های ۳ و ۴

بسته‌های ۱ و ۲

برای استفاده از فیلم‌های آموزشی شب امتحان هر بسته QR-code های مقابل را اسکن کنید.

فیلم
شب
امتحان

مجموع جملات دنباله حسابی

صفحه ۲ تا ۴ کتاب درسی

بسته اول



این کتاب و این فصل رو با دنباله‌ها شروع می‌کنیم، باشه که این شروع فال نیکی برای ادامه داستان حسابان شود.

یادآوری از دنباله‌های حسابی

اگر از سال گذشته به یاد داشته باشید، جملات دنباله‌های حسابی از جمع عددی ثابت با جمله قبل آن، به دست می‌آیند:

$$a_1, \underbrace{a_1 + d}_{a_2}, \underbrace{a_1 + 2d}_{a_3}, \underbrace{a_1 + 3d}_{a_4}, \dots \Rightarrow a_n = a_1 + (n - 1)d$$

(a_n ، جمله عمومی و d ، قدرنسبت دنباله می‌باشد.)

$$a_n - a_{n-1} = d \Rightarrow a_n - a_m = (n - m)d$$

بنابراین اختلاف هر دو جمله متوالی در دنباله‌های حسابی، برابر با قدرنسبت دنباله است:

$$2b = a + c \text{ یا } b = \frac{a+c}{2}$$

نکته! اگر a ، b ، c سه جمله متوالی از دنباله حسابی باشند، b واسطه حسابی بین a و c است و در نتیجه:

سؤال مقدار a را از دنباله حسابی $\dots, 5, a, -1$ بیابید. سپس قدرنسبت این دنباله را به دست آورید.

دنباله حسابی $\dots, 5, a, -1$ **پاسخ**

$$2a = (-1) + 5 \Rightarrow 2a = 4 \Rightarrow a = \frac{4}{2} = 2, d = a_3 - a_1 = 2 - (-1) = 3$$

هالا که دنباله‌های حسابی خوب یارتون اوامر، بریم که جمله‌های این دنباله‌ها رو با هم جمع کنیم ببینیم چی دستگیرمون می‌شه.

مجموع جملات دنباله‌های حسابی

برای پیدا کردن مجموع n عدد طبیعی متوالی اولیه یعنی $1+2+3+\dots+n$ ، جناب گاوس یک ابتکار به خرج دادند و به روش زیر، این حاصل جمع را محاسبه کردند:

$$\begin{array}{cccccccc} 1 & + & 2 & + & 3 & + & \dots & + & n \\ \downarrow & & \downarrow & & \downarrow & & & & \downarrow \\ (n) & + & (n-1) & + & (n-2) & + & \dots & + & 1 \end{array}$$

$$\underbrace{(n+1) + (n+1) + (n+1) + \dots + (n+1)}_{\text{ت } n} = n(n+1) \Rightarrow 2(1+2+\dots+n) = n(n+1)$$

$$1+2+3+\dots+n = \frac{n(n+1)}{2}$$

و در نتیجه داریم:

سؤال مجموع چه تعداد از اعداد طبیعی اولیه، برابر با ۲۱۰ می‌گردد؟

پاسخ

$$1+2+3+\dots+n = 210 \Rightarrow \frac{n(n+1)}{2} = 210 \Rightarrow n(n+1) = 420 \Rightarrow n(n+1) = 20 \times 21 \Rightarrow n = 20$$

حالا می‌توانیم از همین ابتکار الگو بگیریم و مجموع n جمله متوالی یک دنباله حسابی با جمله اول a_1 و جمله n ام، a_n را پیدا کنیم:

$$\begin{array}{cccccccc} & & a_2 & & a_3 & & \dots & & a_{n-1} & & a_n \\ & & \downarrow & & \downarrow & & & & \downarrow & & \downarrow \\ S_n = & a_1 & + & (a_1 + d) & + & (a_1 + 2d) & + & \dots & + & (a_1 + (n-2)d) & + & (a_1 + (n-1)d) \\ & \downarrow & & \downarrow & & \downarrow & & & \downarrow & & \downarrow \\ & (a_1 + (n-1)d) & + & (a_1 + (n-2)d) & + & (a_1 + (n-3)d) & + & \dots & + & (a_1 + d) & + & a_1 \end{array} = S_n$$

با جمع کردن دو رابطه بالا داریم:

$$\xrightarrow{+} 2S_n = \underbrace{(2a_1 + (n-1)d) + (2a_1 + (n-1)d) + (2a_1 + (n-1)d) + \dots + (2a_1 + (n-1)d) + (2a_1 + (n-1)d)}_{\text{ت } n}$$

$$\Rightarrow 2S_n = n(2a_1 + (n-1)d) \Rightarrow S_n = a_1 + \dots + a_n = \frac{n(2a_1 + (n-1)d)}{2}$$

و در نتیجه اگر از فرمول جمله n ام دنباله حسابی یعنی $a_n = a_1 + (n-1)d$ کمک بگیریم، داریم:

$$S_n = \frac{n}{2}(2a_1 + (n-1)d) = \frac{n}{2}(a_1 + (a_1 + (n-1)d)) \Rightarrow S_n = a_1 + a_2 + \dots + a_n = \frac{n(a_1 + a_n)}{2}$$

سؤال مجموع چند جمله اول از دنباله حسابی ۱۲، ۹، ۶، ... برابر صفر است؟

پاسخ بایک دنباله حسابی با قدرنسبت $d = -3$ مواجهیم، پس داریم:

$$S_n = 0 \Rightarrow \frac{n(2a_1 + (n-1)d)}{2} = 0 \xrightarrow{\substack{a_1=12 \\ d=-3}} n(2(12) + (n-1)(-3)) = 0 \Rightarrow 24 - 3n + 3 = 0 \Rightarrow 3n = 27 \Rightarrow n = 9$$

بنابراین مجموع ۹ جمله اول این دنباله حسابی برابر صفر است.

سؤال در یک دنباله حسابی اگر $a_2 + a_9 = 15$ باشد، مجموع ۲۰ جمله اول این دنباله را بیابید.

$$a_2 + a_9 = (a_1 + d) + (a_1 + 8d) = 2a_1 + 9d = 15 \quad (*)$$

$$S_{20} = \frac{20}{2}(2a_1 + 19d) \stackrel{(*)}{=} 10(15) = 150$$

۱ $a_1 = S_1$

۲ $S_n - S_{n-1} = a_n$

$$S_n - S_{n-1} = (a_1 + \dots + a_{n-1} + a_n) - (a_1 + \dots + a_{n-1}) = a_n$$

نکته اگر S_n مجموع n جمله اولیه دنباله‌ی حسابی a_n باشد، داریم:

زیرا:

سؤال ۴ اگر مجموع n جمله اول یک دنباله حسابی از فرمول $S_n = 5n^2 + 3n$ به دست آید، قدرنسبت و جمله عمومی دنباله را بیابید.

پاسخ $a_1 = S_1 = 5(1)^2 + 3(1) = 8$, $S_2 = a_1 + a_2 = 5(2)^2 + 3(2) = 20 + 6 = 26$

$a_2 = S_2 - S_1 = 26 - 8 = 18 \Rightarrow d = a_2 - a_1 = 18 - 8 = 10$

$\Rightarrow a_n = a_1 + (n-1)d = 8 + 10(n-1) = 10n - 2$ با یک دنباله حسابی با قدرنسبت $d = 10$ مواجهیم، پس داریم:

توجه کنید که جمله عمومی دنباله را به طور مستقیم از فرمول S_n هم می توانستیم بیابیم:

$a_n = S_n - S_{n-1} = 5n^2 + 3n - (5(n-1)^2 + 3(n-1))$

$= 5n^2 + 3n - (5n^2 - 10n + 5 + 3n - 3) = 5n^2 + 3n - 5n^2 + 10n - 5 - 3n + 3 = 10n - 2 \Rightarrow a_n = 10n - 2$

سؤال ۵ مجموع اعداد دو رقمی مضرب ۶ را بیابید. **مشابه تمرین ۲ صفحه ۶ کتاب درسی**

پاسخ $a_n = 6n + 6 < 100 \Rightarrow 6n < 94 \Rightarrow n < \frac{94}{6} = 15.6 \Rightarrow n \leq 15$

پس بزرگترین مضرب دو رقمی عدد ۶، به ازای $n = 15$ به دست می آید، بنابراین:

$S_n = \frac{n}{2} (2a_1 + (n-1)d) = \frac{15}{2} (2(12) + (15-1)(6)) = \frac{15}{2} \times 108 = 810$

و یا:

$a_n = a_{15} = 96 \Rightarrow S_{15} = \frac{15}{2} (a_1 + a_{15}) = \frac{15}{2} (12 + 96) = 810$

مجموع جملات دنباله حسابی

پرسش های تشریحی

بسته ۱

(مشابه فعالیت صفحه ۲ کتاب درسی)



۱. به کمک شکل های روبه رو، مجموع n عدد طبیعی اولیه (از ۱ تا n) را به دست آورید.

(مشابه تمرین ۱ صفحه ۶ کتاب درسی)



۲. به کمک شکل روبه رو ثابت کنید مجموع n عدد فرد متوالی اولیه، برابر با n^2 است.

(شهریور ۹۲)

۳. در هر یک از دنباله های حسابی زیر، مجموع بیست جمله اول را بیابید.

الف $-5, 0, 5, \dots$

(دی ۹۱)

ب $-5, -3, -1, \dots$

(دی ۹۵)

۴. مجموع جملات دنباله $4, 7, 10, \dots, 100$ را بیابید.

۵. مجموع اعداد فرد مضرب ۳ و کوچک تر از ۱۰۰ چقدر است؟

(مشابه تمرین ۲ صفحه ۶ کتاب درسی)

۶. مجموع اعداد طبیعی سه رقمی مضرب ۱۵ چقدر است؟

۷. در یک دنباله حسابی هر جمله از جمله ماقبل خود به اندازه $\frac{1}{3}$ بیش تر است. اگر جمله هفتم برابر ۱۳ باشد، مجموع ۲۰ جمله اول دنباله چقدر است؟

۸. در یک دنباله حسابی جملات هفتم و دوازدهم به ترتیب ۳۲ و ۱۲ می باشد. مجموع ۱۵ جمله اول این دنباله را بیابید.

۹. در دنباله حسابی $3, 9, 15, \dots$ حداقل چند جمله آن را باید با هم جمع کنیم تا حاصل از ۳۰۰ بیش تر شود؟ (مشابه تمرین ۳ صفحه ۶ کتاب درسی و دی ۹۳)

۱۰. در یک دنباله حسابی جمله چهارم برابر با ۳ و جمله هفتم برابر با ۱۲ است.

الف جمله اول و قدرنسبت دنباله را بیابید.

ب حداکثر چند جمله از آن را با هم جمع کنیم، تا حاصل کم تر از ۴۵۰ شود؟

۱۱. در دنباله حسابی با جمله عمومی $a_n = 3 - 2n$ ، مجموع n جمله اولیه دنباله (S_n) را بیابید، سپس مجموع ۱۵ جمله اول آن را به دست آورید.
- ۱۲ ☆ اگر مجموع n جمله اول یک دنباله حسابی $S_n = \frac{6n^2 - 5n}{12}$ باشد،
 [A] قدرنسبت و جمله اول آن را به دست آورید. [B] مجموع ۱۰ جمله اول آن چقدر است؟
- ۱۳ ☆ در یک دنباله حسابی با ۲۰ جمله، مجموع جملات ردیف فرد برابر ۲۴۰ و مجموع جملات ردیف زوج برابر با ۲۷۰ می باشد، جمله اول و قدرنسبت دنباله را بیابید. (مشابه تمرین ۴ صفحه ۶ کتاب درسی)
- ۱۴ ☆ در یک دنباله حسابی با ۱۰ جمله، مجموع ۵ جمله اول برابر ۲۵ و مجموع ۵ جمله آخر برابر ۱۰۰ می باشد، جمله اول و قدرنسبت دنباله را بیابید.
- ۱۵ ☆ در یک دنباله حسابی با جمله اول a_1 :
 [A] اگر قدرنسبت یک واحد افزایش یابد، به مجموع ۱۰ جمله اول آن چند واحد افزوده می شود؟
 [B] اگر همه جملات دو برابر شوند، مجموع ۱۰ جمله اول آن چند برابر می شود؟
 مجموع چند عدد طبیعی اولیه، $\frac{3}{5}$ مربع تعداد آن ها می باشد؟
- ۱۶ بر روی محیط یک دایره n نقطه قرار دارد. از هر نقطه به نقاط دیگر وصل می کنیم. اگر تعداد کل پاره خط های ایجاد شده برابر ۵۵ باشد، تعداد این نقاط چند تا است؟ (این مسئله را به دو روش حل کنید.)
- ۱۷ ☆ یک موسسه خیریه در اولین سال فعالیت خود ۵۰۰ خانوار را تحت پوشش خود دارد. اگر هدف این موسسه آن باشد که هر سال ۴۰ خانوار را به اعضای تحت پوشش خود بیفزاید، پس از ۱۰ سال مجموعاً چند خانوار را تحت پوشش خواهد داشت؟ (مشابه مثال صفحه ۳ کتاب درسی)
- ۱۸ یک مسابقه دو، طوری طراحی شده که از کنار یک سبد شروع به دویدن کرده، در ایستگاه اول یک توپ برداشته، برمی گردیم و در سید می اندازیم و سپس تا ایستگاه دوم رفته و دو توپ برمی داریم و در سید می اندازیم و به همین ترتیب تا ایستگاه n ام رفته، n توپ برمی داریم و در سید می اندازیم. اگر دونه ای در مجموع ۵۵ توپ در سبد انداخته باشد و فاصله بین هر دو ایستگاه متوالی و هم چنین ایستگاه اول تا سید، ۲ متر باشد، مجموع مسافت های طی شده توسط این دونه را بیابید. (مشابه مثال صفحه ۴ کتاب درسی)

مجموع جملات دنباله هندسی

صفحه ۴ تا ۷ کتاب درسی

بسته دوم



قبل از این که یاد بگیریم چه طور و با چه فرمولی مجموع جملات در دنباله هندسی رو به دست بیاریم، لازم می دونیم که یادآوری کوچیکی از دنباله های هندسی داشته باشیم.

یادآوری از دنباله های هندسی

جملات دنباله های هندسی از ضرب عددی ثابت و مخالف صفر در جمله قبل آن به دست می آیند:

$$a_1, \underbrace{a_1 q}_{\times q}, \underbrace{a_1 q^2}_{\times q}, \underbrace{a_1 q^3}_{\times q}, \dots \Rightarrow a_n = a_1 q^{n-1}$$

(a_n جمله عمومی (n ام) و q قدرنسبت دنباله می باشد.)

بنابراین نسبت هر دو جمله متوالی در دنباله هندسی، برابر با قدرنسبت دنباله است:

$$\frac{a_n}{a_{n-1}} = q \Rightarrow \frac{a_n}{a_m} = q^{n-m}$$

نکته! اگر a, b, c سه جمله متوالی از دنباله هندسی با جملات مثبت باشند، b را واسطه هندسی a و c می گویند و داریم:
 $b^2 = ac$ یا $b = \sqrt{ac}$

سؤال [?] مقادیر x و y را در دنباله هندسی $\frac{1}{4}, x, y, \dots$ بیابید.

پاسخ [A] روش اول

$$\frac{1}{4}, x, y, \frac{1}{4}, \dots \xrightarrow{\text{دنباله هندسی}} \begin{cases} x^2 = 4y \Rightarrow y = \frac{x^2}{4} \\ y^2 = \frac{1}{4}x \end{cases}$$

$$\Rightarrow \left(\frac{x^2}{4}\right)^2 = \frac{x}{4} \Rightarrow \frac{x^4}{16} = \frac{x}{4} \xrightarrow{\text{طرفین وسطین}} 2x^4 = 16x \xrightarrow{\div (2x)} x^3 = 8 = 2^3 \Rightarrow x = 2 \xrightarrow{y = \frac{x^2}{4}} y = \frac{4}{4} = 1$$

روش دوم در دنباله داده شده $a_1 = 4$ و $a_4 = \frac{1}{4}$ است، پس داریم:

$$q^{4-1} = \frac{a_4}{a_1} \Rightarrow q^3 = \frac{\frac{1}{4}}{4} = \frac{1}{16} = \left(\frac{1}{4}\right)^3 \Rightarrow q = \frac{1}{4} \Rightarrow \begin{cases} x = a_1 q = 4\left(\frac{1}{4}\right) = 1 \\ y = x\left(\frac{1}{4}\right) = 1\left(\frac{1}{4}\right) = \frac{1}{4} \end{cases}$$

مجموع جملات دنباله های هندسی

اگر $S_n = a_1 + a_2 + \dots + a_n$ ، مجموع n جمله اول یک دنباله هندسی باشد، به کمک روش زیر می توان فرمولی برای S_n یافت:

$$S_n = a_1 + a_1 q + a_1 q^2 + \dots + a_1 q^{n-1} \quad (*)$$

طرفین رابطه بالا را در q ضرب می کنیم:

$$qS_n = a_1 q + a_1 q^2 + a_1 q^3 + \dots + a_1 q^{n-1} + a_1 q^n \quad (**)$$

حالا اگر طرفین دو رابطه را از هم کم کنیم، داریم:

$$\xrightarrow{(**) - (*)} qS_n - S_n = (a_1 q + a_1 q^2 + \dots + a_1 q^{n-1} + a_1 q^n) - (a_1 + a_1 q + \dots + a_1 q^{n-1})$$

$$\Rightarrow \underbrace{qS_n - S_n}_{\text{فاکتور از } S_n} = \underbrace{a_1 q^n - a_1}_{\text{فاکتور از } a_1} \Rightarrow S_n (q - 1) = a_1 (q^n - 1) \Rightarrow S_n = \frac{a_1 (q^n - 1)}{q - 1}$$

توجه کنید که فرقی نمی کنه بنویسیم $S_n = \frac{a_1 (q^n - 1)}{q - 1}$ یا $S_n = \frac{a_1 (1 - q^n)}{1 - q}$! آکه گفتین چرا؟

مشابه کار در کلاس صفحه ۵ کتاب درسی

سؤال مجموع ۱۰ جمله اول دنباله هندسی $\dots, 2, 1, \frac{1}{2}$ ، چند برابر جمله اول آن است؟

پاسخ

دنباله هندسی با $a_1 = \frac{1}{2}$ ، $q = 2$ ، $\dots, 1, 2, \frac{1}{2}$

$$\Rightarrow S_{10} = \frac{a_1 (q^{10} - 1)}{q - 1} = \frac{\frac{1}{2} (2^{10} - 1)}{2 - 1} = \frac{1}{2} (1024 - 1) = \frac{1023}{2} \Rightarrow \frac{S_{10}}{a_1} = \frac{\frac{1023}{2}}{\frac{1}{2}} = 1023$$

سؤال در یک دنباله هندسی، مجموع ۱۰ جمله اول برابر ۶۶ و مجموع ۵ جمله اول برابر ۶۴ است. قدرنسبت دنباله را بیابید.

پاسخ

$$\begin{cases} S_{10} = \frac{a_1 (q^{10} - 1)}{q - 1} = 66 \\ S_5 = \frac{a_1 (q^5 - 1)}{q - 1} = 64 \end{cases} \xrightarrow{\text{دو رابطه را بر هم تقسیم می کنیم.}} \frac{S_{10}}{S_5} = \frac{\frac{a_1 (q^{10} - 1)}{q - 1}}{\frac{a_1 (q^5 - 1)}{q - 1}} = \frac{66}{64}$$

$$\xrightarrow{\text{دور در دور، نزدیک در نزدیک}} \frac{a_1 (q^{10} - 1) (q - 1)}{a_1 (q^5 - 1) (q - 1)} = \frac{66}{64} \xrightarrow{\text{اتحاد مزدوج}} \frac{(q^5 - 1) (q^5 + 1)}{q^5 - 1} = \frac{66}{64}$$

$$\Rightarrow q^5 + 1 = \frac{66}{64} \Rightarrow q^5 = \frac{66}{64} - 1 \Rightarrow q^5 = \frac{2}{64} = \left(\frac{1}{4}\right)^5 \Rightarrow q = \frac{1}{4}$$

نکته! برای مجموع n جمله اول دنباله هندسی، یعنی S_n ، نیز رابطه های روبه رو برقرار است: $S_1 = a_1$ و $S_n - S_{n-1} = a_n$

سؤال اگر مجموع n جمله اول یک دنباله هندسی برابر با $S_n = 2^n - 1$ باشد، جمله اول و قدرنسبت این دنباله را بیابید.

$$a_1 = S_1 = 2^1 - 1 = 1$$

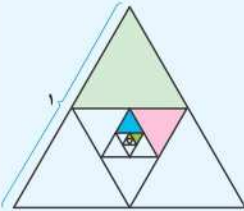
پاسخ روش اول

$$a_n = S_n - S_{n-1} = (2^n - 1) - (2^{n-1} - 1) = 2^n - 2^{n-1} = 2^{n-1} (2 - 1) = 2^{n-1}$$

$$a_n = a_1 q^{n-1} \xrightarrow{a_1=1} 2^{n-1} = 1 \times q^{n-1} \Rightarrow q = 2$$

روش دوم

$$S_n = 2^n - 1 \begin{cases} S_1 = a_1 = 2 - 1 = 1 \\ S_2 = a_1 + a_2 = 2^2 - 1 = 3 \end{cases} \Rightarrow 1 + a_2 = 3 \Rightarrow a_2 = 2 \Rightarrow q = \frac{a_2}{a_1} = \frac{2}{1} = 2$$



سؤال اگر هر بار وسط اضلاع مثلث متساوی الاضلاع روبه‌رو را به هم وصل کنیم، مساحت قسمت رنگی چقدر است؟

پاسخ مساحت مثلث متساوی الاضلاع به ضلع ۱ برابر است با:

$$S = \frac{\sqrt{3}}{4} \times 1^2 = \frac{\sqrt{3}}{4}$$

در هر مرحله مساحت رنگ شده $\frac{1}{4}$ مساحت مثلث قبلی است:

$$a_1 = \frac{1}{4} S = \frac{1}{4} \left(\frac{\sqrt{3}}{4} \right) \text{ مساحت مثلث رنگی اول:}$$

$$a_2 = \frac{1}{4} \left(\frac{1}{4} S \right) = \left(\frac{1}{4} \right)^2 \left(\frac{\sqrt{3}}{4} \right) \text{ مساحت مثلث رنگی دوم:}$$

$$a_3 = \frac{1}{4} \left(\frac{1}{4} \left(\frac{1}{4} S \right) \right) = \left(\frac{1}{4} \right)^3 \left(\frac{\sqrt{3}}{4} \right) \text{ مساحت مثلث رنگی سوم:}$$

⋮

بنابراین با دنباله‌ای هندسی با قدرنسبت $\left(\frac{1}{4}\right)$ مواجهیم و مساحت کل قسمت رنگی ایجاد شده برابر است با:

$$S_\Delta = a_1 + a_2 + \dots + a_n = \frac{a_1 (q^n - 1)}{q - 1} = \frac{\frac{1}{4} \left(\frac{\sqrt{3}}{4} \right) \left(\left(\frac{1}{4} \right)^n - 1 \right)}{\left(\frac{1}{4} - 1 \right)} = \frac{\frac{\sqrt{3}}{4^2} \times \frac{1 - 4^n}{4^n}}{-\frac{3}{4}} = \frac{341}{-4^6 \times 4} \times \sqrt{3} = \frac{341\sqrt{3}}{4096}$$

مجموع جملات دنباله هندسی

پرسش‌های تشریحی

بسته

۲

در هر یک از دنباله‌های هندسی زیر، مجموع ۱۰ جمله اول را بیابید.

۲۰ ☆ $\frac{1}{3}, \frac{1}{9}, \frac{1}{27}, \dots$

۲۱ $\frac{1}{5}, \frac{1}{25}, \frac{1}{125}, \dots$

۲۲ ☆ $\frac{1}{8}, -\frac{1}{4}, \frac{1}{2}, \dots$

حاصل عبارت‌های زیر را به دست آورید.

۲۳ ☆ $\frac{1}{2} + 1 + 2 + 4 + \dots + 2048$

۲۴ $-1 - 3 - 9 \dots - 729$

۲۵ ☆ $1 + \frac{1}{3} - \frac{1}{2} + \frac{1}{9} - \frac{1}{4} + \dots + \frac{1}{729} - \frac{1}{128}$

۲۶ ☆ مجموع چند جمله اول از دنباله هندسی $6, -12, 24, \dots$ برابر ۱۲۶ خواهد شد؟

(خرداد ۹۱، با کمی تغییر)

(شهریور ۹۵، با کمی تغییر)

(خرداد ۹۰)

۲۷. در یک دنباله اعداد، هر جمله دو برابر جمله قبلی آن است. اگر مجموع ۵ جمله اول آن برابر $46/5$ باشد، جمله اول دنباله را بیابید.

۲۸ ☆ در یک دنباله هندسی جمله پانزدهم ۸ برابر جمله دوازدهم است. مجموع ۸ جمله اول این دنباله، چند برابر جمله اول آن است؟

۲۹. مجموع ۱۲ جمله اول یک دنباله هندسی ۹ برابر مجموع ۶ جمله اول آن است. قدرنسبت را بیابید.

۳۰. مجموع ۱۰ جمله دوم دنباله هندسی $1, 2, 4, \dots$ چند برابر مجموع ۱۰ جمله اول آن است؟

۳۱ ☆ جمله عمومی یک دنباله هندسی به صورت $a_n = 3 \times 2^n$ است.

(مشابه تمرین ۵ صفحه ۶ کتاب درسی)

۱. مجموع ۵ جمله اول آن را بیابید. **ا** مجموع چند جمله از این دنباله برابر با 3066 است؟

۳۲ ☆ در یک دنباله هندسی با جمله اول a_1 و قدرنسبت q ، مجموع ۱۰ جمله اول S می باشد.

۱. اگر جمله اول را دو برابر کنیم، مجموع ۱۰ جمله اول چند برابر می شود؟

۲. اگر قدرنسبت را به توان ۲ برسانیم، مجموع ۱۰ جمله اول را بر حسب S و q بیابید.

(مشابه تمرین ۷ صفحه ۶ کتاب درسی)

● درستی هر یک از تساوی های زیر را اثبات کنید.

$$1 + a + a^2 + \dots + a^{n-1} = \frac{1 - a^n}{1 - a} \quad ۳۳ ☆$$

$$a^n + 1 = (a + 1)(a^{n-1} - a^{n-2} + \dots - a + 1) ; (n \text{ فرد}) \quad ۳۴$$

$$x^n - y^n = (x - y)(x^{n-1} + x^{n-2}y + \dots + xy^{n-2} + y^{n-1}) \quad ۳۵ ☆$$

۳۶. اگر ضلع مربع ۱ واحد باشد و در هر مرحله وسط اضلاع مربع را به هم وصل کنیم تا مربع جدیدی

حاصل شود، مساحت قسمت رنگی چقدر است؟



۳۷ ☆ طول ضلع مربعی ۱ متر است. ابتدا نیمی از مساحت آن را رنگ می کنیم. سپس نیمی از مساحت باقی مانده را رنگ می کنیم و به همین ترتیب در هر

مرحله نیمی از مساحت باقی مانده از مرحله قبل را رنگ می کنیم. پس از چند مرحله، حداقل ۹۹ درصد از سطح مربع رنگ شده است؟

(تمرین ۶ صفحه ۶ کتاب درسی - دی ۹۴)

۳۸. برای از بین بردن ذرات معلق در یک محلول، آن را از صافی هایی عبوری می دهیم. اگر در اثر عبور از هر صافی تعداد ذرات معلق موجود در محلول نصف

شود، حداقل چند صافی نیاز است تا ذرات معلق موجود در محلول، حداقل ۹۶ درصد کاهش یابد؟

۳۹ ☆ یک مثلث با محیط P در نظر بگیرید و وسط اضلاع آن را به هم وصل کنید تا مثلث کوچک تری ایجاد شود. این عمل را به طور متوالی انجام دهید.

(خرداد ۹۴، با کمی تغییر)

مجموع محیط مثلث های به دست آمده از مثلث اول تا مثلث مرحله دهم، چند برابر P است؟

۴۰ ☆ تویی در اختیار داریم که از هر ارتفاعی زمین بخورد، پس از زمین خوردن به اندازه $\frac{1}{3}$ ارتفاع اولیه اش بالا می رود. فرض کنید این توپ را به طور قائم از

زمین به هوا پرتاب کرده ایم تا به ارتفاع ۹ متری برسد. پس از شروع پرتاب تا ۱۶مین برخورد به زمین در کل مسافت عمودی طی شده این توپ چه قدر

است؟ (خرداد ۹۰، با کمی تغییر و مشابه مثال صفحه ۵ کتاب درسی)

۴۱. علی می خواهد پول خود را پس انداز کند. او روز اول 30000 تومان پس انداز می کند و روزهای دیگر میزان آن را 10% درصد نسبت به روز قبل افزایش

$$\text{می دهد، پس از یک هفته چند تومان پس انداز می کند؟ } ((1/1)^7 = 1/95)$$

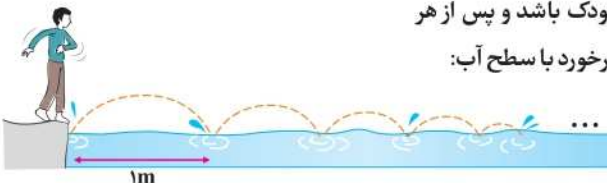
۴۲ ☆ کودکی سنگی را بر روی سطح آب پرتاب می کند. این سنگ در مسیر نیم دایره هایی روی سطح

آب حرکت می کند. اگر اولین برخورد سنگ با سطح آب ۱ متر جلوتر از کودک باشد و پس از هر

برخورد سنگ با آب، قطر نیم دایره 50% درصد کاهش یابد، پس از ۵مین برخورد با سطح آب:

۱. فاصله سنگ تا کودک چقدر است؟ (تا دو رقم اعشار)

۲. سنگ چه مسافتی را پیموده است؟ ($\pi \approx 3/2$)



۴۳ ☆ پدری برای کادوی سالگرد تولد فرزندش، سال اول ۱ سکه، سال دوم ۲ سکه، سال سوم ۴ سکه و به همین ترتیب هر سال دو برابر سال قبل سکه

برای او پس انداز می کند. اگر بهای هر سکه 10000 تومان باشد، وقتی این فرزند به ۱۰ سالگی می رسد، چند سکه کادو گرفته و بهای کل آن ها چقدر

است؟ (مشابه کار در کلاس صفحه ۶ کتاب درسی)

۴۴ ☆ در مسئله مخترع شطرنج در صفحه ۵ کتاب درسی، اگر وزن هر دانه گندم ۱ گرم باشد، نشان دهید این مخترع بیش از ۱۰۰۰ میلیارد تن گندم جایزه

دریافت خواهد کرد. (کار در کلاس صفحه ۶ کتاب درسی)



سال گذشته با معادله درجه دوم با شکل کلی $ax^2 + bx + c = 0$ آشنا شدید و روش‌های مختلف حل اونهارو یاد گرفتید. برای یادآوری به مثال زیر توجه کنید.

سؤال معادلات زیر را به روش خواسته شده حل کنید.

۲ $x^2 + 3x + 2 = 0$ (روش تجزیه)

۱ $(x-1)^2 - 25 = 0$ (ریشه‌گیری)

۴ $3x^2 - x - 2 = 0$ (روش کلی)

۳ $2x^2 + 6x - 3 = 0$ (مربع کامل)

پاسخ ۱ برای حل معادله درجه دوم به روش ریشه‌گیری آن را به فرم $x^2 = a^2$ درآورده، سپس با شرط $a \geq 0$ ، می‌توان با جذرگرفتن از طرفین تساوی، نتیجه گرفت $x = \pm\sqrt{a}$:

$$(x-1)^2 - 25 = 0 \Rightarrow (x-1)^2 = 25 \xrightarrow{\text{جذر می‌گیریم}} x-1 = \pm 5 \Rightarrow \begin{cases} x = 5+1 = 6 \\ x = -5+1 = -4 \end{cases}$$

۲ برای حل معادله درجه دوم به روش تجزیه، کافی است عبارت را به کمک فاکتورگیری یا اتحادها، به حاصل ضرب ۲ عبارت درجه اول تجزیه کنیم. سپس به کمک خاصیت حاصل ضرب صفر، هریک از عبارات را برابر صفر قرار دهیم. توجه کنید که در این حالت اگر عبارت تجزیه نشدنی باشد، فاقد ریشه است.

$$x^2 + 3x + 2 = 0 \xrightarrow{\text{اتحاد جمله مشترک}} (x+1)(x+2) = 0 \Rightarrow \begin{cases} x+1 = 0 \Rightarrow x = -1 \\ x+2 = 0 \Rightarrow x = -2 \end{cases}$$

۳ برای حل معادله درجه دوم به روش مربع کامل، ابتدا طرفین معادله را به ضریب x^2 تقسیم می‌کنیم:

$$2x^2 + 6x - 3 = 0 \xrightarrow{\div 2} x^2 + 3x - \frac{3}{2} = 0$$

$$x^2 + 3x = \frac{3}{2}$$

مقدار ثابت را به سمت دیگر معادله می‌بریم:

به طرفین معادله، مربع نصف ضریب x را اضافه می‌کنیم تا یک طرف به شکل مربع کامل درآید:

$$x^2 + 3x + \left(\frac{3}{2}\right)^2 = \frac{3}{2} + \left(\frac{3}{2}\right)^2 \Rightarrow \left(x + \frac{3}{2}\right)^2 = \frac{3}{2} + \frac{9}{4}$$

طرفین را تا حد امکان ساده می‌کنیم و سپس به کمک ریشه‌گیری جواب‌ها را می‌یابیم:

$$\left(x + \frac{3}{2}\right)^2 = \frac{15}{4} \xrightarrow{\text{جذر می‌گیریم}} x + \frac{3}{2} = \pm \frac{\sqrt{15}}{2} \Rightarrow x = -\frac{3}{2} \pm \frac{\sqrt{15}}{2} = \frac{-3 \pm \sqrt{15}}{2}$$

۴ برای حل معادله درجه دوم $ax^2 + bx + c = 0$ ، به روش کلی (روش Δ)، داریم:

$$\Delta = b^2 - 4ac \begin{cases} \Delta < 0 & \text{ریشه ندارد.} \\ \Delta = 0 & x = \frac{-b}{2a} \text{ (ریشه مضاعف)} \\ \Delta > 0 & x_1 = \frac{-b + \sqrt{\Delta}}{2a}, x_2 = \frac{-b - \sqrt{\Delta}}{2a} \end{cases}$$

$$3x^2 - x - 2 = 0 \xrightarrow{\substack{a=3, b=-1 \\ c=-2}} \Delta = (-1)^2 - 4(3)(-2) = 1 + 24 = 25 > 0 \Rightarrow \begin{cases} x_1 = \frac{-(-1) + \sqrt{25}}{2(3)} = \frac{1+5}{6} = \frac{6}{6} = 1 \\ x_2 = \frac{-(-1) - \sqrt{25}}{2(3)} = \frac{1-5}{6} = \frac{-4}{6} = \frac{-2}{3} \end{cases}$$

نکته! گاهی برای حل یک معادله می‌توان از تغییر متغیر کمک گرفت تا معادله به صورت ساده‌تری تبدیل گردد.

سؤال هریک از معادلات زیر را حل کنید.

۲ $(x^2 - 1)^2 + 3(x^2 - 1) - 4 = 0$

۱ $(1 - \sqrt{2}x)^2 + \sqrt{2}x = 0$

پاسخ ۱ وقتی به معادله نگاه می‌کنیم به عبارت ترسناک به شکل $(1 - \sqrt{2}x)^2$ می‌بینیم که یا باید اون رو به کمک اتحاد مربع دو

جمله‌ای بازش کنیم یا این‌که برای از بین بردن ترس خودمون این عبارت رو به متغیر جدید در نظر بگیریم تا شکلش عوض بشه!

$$t = (1 - \sqrt{2}x) \Rightarrow \sqrt{2}x = 1 - t \xrightarrow{\text{جایگذاری در معادله}} t^2 + 1 - t = 0 \Rightarrow t^2 - t + 1 = 0 \xrightarrow{\Delta < 0} \text{ریشه ندارد.}$$

در این معادله عبارت $(x^2 - 1)$ تکرار شده پس اسم این عبارت روعوض می‌کنیم و به اسم (متغیر) جدید برایش انتقاب می‌کنیم تا معادله شکل ساده‌تری به‌فروش بگیرد!

$$t = x^2 - 1 \xrightarrow{\text{جایگذاری در معادله}} t^2 + 3t - 4 = 0 \Rightarrow (t-1)(t+4) = 0 \Rightarrow \begin{cases} t = 1 \Rightarrow x^2 - 1 = 1 \Rightarrow x^2 = 2 \Rightarrow x = \pm\sqrt{2} \\ t = -4 \Rightarrow x^2 - 1 = -4 \Rightarrow x^2 = -3 \Rightarrow \text{ریشه ندارد.} \end{cases}$$

فالا که مسای معادله درجه دوم یارتون اوامر بریم سراغ مبعض شیرین روابط بین ضرایب و ریشه‌های معادله درجه دوم!

روابط بین ضرایب و ریشه‌های معادله درجه دوم

گفتیم که در معادله درجه دوم $ax^2 + bx + c = 0$ ، اگر $\Delta > 0$ باشد، آن‌گاه معادله دارای دو ریشه α و β است:

$$\begin{cases} \alpha = \frac{-b + \sqrt{\Delta}}{2a} \\ \beta = \frac{-b - \sqrt{\Delta}}{2a} \end{cases}$$

در این صورت می‌توان نوشت:

$$\text{مجموع ریشه‌ها: } \alpha + \beta = \frac{-b + \sqrt{\Delta}}{2a} + \frac{-b - \sqrt{\Delta}}{2a} = \frac{-b + \sqrt{\Delta} - b - \sqrt{\Delta}}{2a} = \frac{-2b}{2a} = -\frac{b}{a}$$

$$\begin{aligned} \text{حاصل ضرب ریشه‌ها: } \alpha\beta &= \left(\frac{-b + \sqrt{\Delta}}{2a}\right)\left(\frac{-b - \sqrt{\Delta}}{2a}\right) = \frac{(-b + \sqrt{\Delta})(-b - \sqrt{\Delta})}{(2a)^2} = \frac{\text{اتحاد مزدوج}}{4a^2} = \frac{(-b)^2 - (\sqrt{\Delta})^2}{4a^2} \\ &= \frac{b^2 - \Delta}{4a^2} = \frac{b^2 - (b^2 - 4ac)}{4a^2} = \frac{4ac}{4a^2} = \frac{c}{a} \end{aligned}$$

یعنی:

$$S = \alpha + \beta = -\frac{b}{a} \quad , \quad P = \alpha\beta = \frac{c}{a}$$

به کمک روابط بالا می‌توان مجموع و حاصل ضرب ریشه‌های یک معادله درجه دوم را (در صورت وجود) بدون حل معادله به‌دست آورد.

سؤال در معادله درجه دوم $2x^2 - 4x + 1 = 0$ ، اگر α و β ریشه‌های معادله باشند، بدون حل معادله حاصل عبارت‌های زیر را بیابید.

۱ $\alpha + \beta$ ۲ $\alpha\beta$ ۳ $\frac{1}{\alpha} + \frac{1}{\beta}$ ۴ $\alpha^2 + \beta^2$

۱ $2x^2 - 4x + 1 = 0 \Rightarrow a = 2, b = -4, c = 1$

۲ $\alpha\beta = \frac{c}{a} = \frac{1}{2}$

پاسخ

$\alpha + \beta = \frac{-b}{a} = \frac{-(-4)}{2} = \frac{4}{2} = 2$

۳ $\frac{1}{\alpha} + \frac{1}{\beta} = \frac{\alpha + \beta}{\alpha\beta} = \frac{S}{P} = \frac{2}{\frac{1}{2}} = 2 \times 2 = 4$

۴ $\alpha^2 + \beta^2 = (\alpha + \beta)^2 - 2\alpha\beta = S^2 - 2P = 2^2 - 2\left(\frac{1}{2}\right) = 4 - 1 = 3$

سؤال اگر $x = -1$ یک ریشه معادله $2x^2 - mx - 3 = 0$ باشد، ریشه دیگر و مقدار m را بیابید.

مشابه کار در کلاس صفحه ۵ و مثال صفحه ۶ کتاب درسی

پاسخ روش اول ریشه معادله در معادله صدق می‌کند:

$$2x^2 - mx - 3 = 0 \xrightarrow{x=-1} 2(-1)^2 - m(-1) - 3 = 0 \Rightarrow 2 + m - 3 = 0 \Rightarrow m = 3 - 2 = 1$$

حال با جای‌گذاری $m = 1$ داریم:

$$2x^2 - x - 3 = 0 \Rightarrow \Delta = (-1)^2 - 4(2)(-3) = 25 \Rightarrow x = \frac{-(-1) \pm \sqrt{25}}{2(2)} \Rightarrow \begin{cases} x = \frac{1+5}{4} = \frac{3}{2} \\ x = \frac{1-5}{4} = -1 \end{cases}$$

روش دوم کافی است از روابط بین ریشه‌ها کمک بگیریم:

$$\begin{cases} x_1 + x_2 = \frac{-(-m)}{2} = \frac{m}{2} \\ x_1 x_2 = \frac{-3}{2} \end{cases} \xrightarrow{x_1 = -1} \begin{cases} -1 + x_2 = \frac{m}{2} \\ (-1)(x_2) = \frac{-3}{2} \Rightarrow x_2 = \frac{3}{2} \end{cases}$$

$$\Rightarrow -1 + \frac{3}{2} = \frac{m}{2} \Rightarrow \frac{m}{2} = \frac{1}{2} \Rightarrow m = 1$$

نوشتن یک معادله درجه دوم با داشتن ریشه های آن

اگر α و β ریشه های یک معادله درجه دوم باشند، این معادله را می توان به صورت های روبه رو نوشت:

صورت اول: $(x - \alpha)(x - \beta) = 0$

صورت دوم: $\begin{cases} S = \alpha + \beta \\ P = \alpha\beta \end{cases} \Rightarrow x^2 - Sx + P = 0$

توجه کنید که هر ضریبی از معادلات بالا نیز دارای ریشه های α و β است.

مشابه فعالیت صفحه ۹ کتاب درسی

سؤال معادله درجه دومی را بنویسید که دارای ریشه های ۲ و -۳ باشد.

$(x - \alpha)(x - \beta) = 0 \Rightarrow (x - 2)(x - (-3)) = 0 \Rightarrow (x - 2)(x + 3) = 0 \Rightarrow x^2 + x - 6 = 0$

پاسخ روش اول

$\begin{cases} S = \alpha + \beta = -3 + 2 = -1 \\ P = \alpha\beta = (-3)(2) = -6 \end{cases} \xrightarrow{x^2 - Sx + P = 0} x^2 + x - 6 = 0$

روش دوم

مشابه مثال صفحه ۹ کتاب درسی

سؤال اگر محیط و مساحت یک مستطیل به ترتیب ۱۶ و ۱۵ باشد،

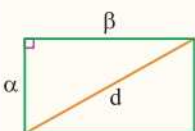
۱ بدون محاسبه ابعاد مستطیل، طول قطر آن را بیابید.

پاسخ اگر α و β را طول و عرض این مستطیل در نظر بگیریم، داریم:

$\begin{cases} 2(\alpha + \beta) = 16 \Rightarrow \alpha + \beta = 8 & \text{محیط} \\ \alpha\beta = 15 & \text{مساحت} \end{cases}$

۱ اگر طول قطر مستطیل برابر d باشد، داریم:

$d^2 = \alpha^2 + \beta^2 = (\alpha + \beta)^2 - 2\alpha\beta = 8^2 - 2(15) = 64 - 30 = 34$
 $\Rightarrow d^2 = 34 \Rightarrow d = \sqrt{34}$



۲ با داشتن $\alpha + \beta = 8$ و $\alpha\beta = 15$ ، می توان نوشت:

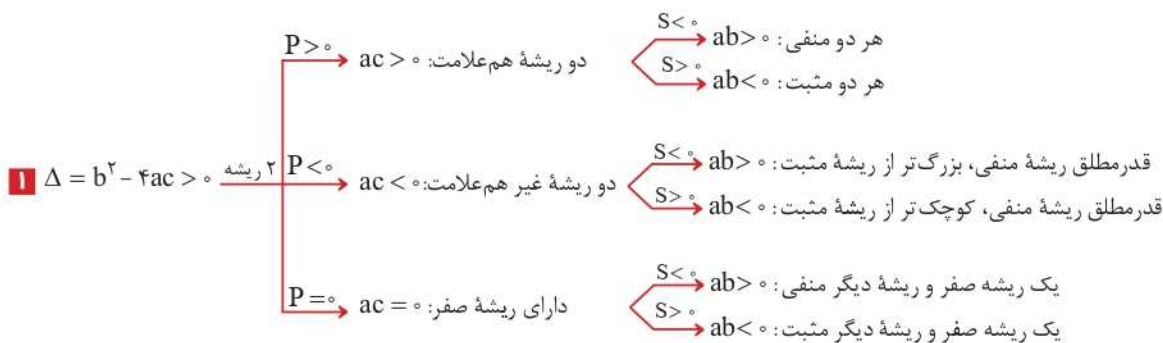
$x^2 - Sx + P = 0 \xrightarrow{\substack{S=8 \\ P=15}} x^2 - 8x + 15 = 0 \Rightarrow \Delta = (-8)^2 - 4(1)(15) = 64 - 60 = 4$

$\Rightarrow \begin{cases} \alpha = \frac{-(-8) + \sqrt{4}}{2(1)} = \frac{8+2}{2} = 5 & \text{طول} \\ \beta = \frac{-(-8) - \sqrt{4}}{2(1)} = \frac{8-2}{2} = 3 & \text{عرض} \end{cases}$

تعداد و علامت ریشه ها

در معادله درجه دوم $ax^2 + bx + c = 0$ ، با توجه به علامت Δ و علامت ضرایب a ، b ، c ، می توان در مورد تعداد و علامت ریشه های معادله بدون حل

آن اظهار نظر کرد: (S مجموع و P حاصل ضرب ریشه های معادله است).



مثال $2x^2 - 3x - 1 = 0 \Rightarrow \Delta = 17 > 0$ $P = -\frac{1}{2} < 0$ $S = \frac{3}{2} > 0$
 قدر مطلق ریشه منفی، کوچک تر از ریشه مثبت \rightarrow دو ریشه غیر هم علامت \rightarrow $ac < 0$ \rightarrow $ab < 0$

مثال $-x^2 + 4x - 3 = 0 \Rightarrow \Delta = 4 > 0$ $P = 3 > 0$ $S = 4 > 0$
 هر دو ریشه مثبت است. \rightarrow $ab < 0$ \rightarrow دو ریشه هم علامت \rightarrow $ac < 0$

به وقت نیابن همه مطالب گفته شده رو حفظ کنید! خیلی راحت فودتون می تونین با به کار گرفتن مغزتون و به کوهولو استفاده از استدلال، به نتایج گفته شده برسید. کافیه به بار امتنان کنید. به ترتیب از علامت Δ ، بعدش علامت P و در نهایت علامت S می تونید نتیجه های بالا رو به دست بیارید.

۲ $\Delta = b^2 - 4ac = 0 \Rightarrow$ ریشه مضاعف $\begin{cases} ab > 0, S < 0 & \text{ریشه مضاعف منفی} \\ ab < 0, S > 0 & \text{ریشه مضاعف مثبت} \end{cases}$

مثال $ax^2 - 2ax + a = 0 \Rightarrow \Delta = 4a^2 - 4a(a) = 0 \xrightarrow{S=2>0}$ ریشه مضاعف مثبت دارد.

۳ $\Delta = b^2 - 4ac < 0 \Rightarrow$ ریشه ندارد.

نکته! چند نکته در مورد معادله درجه دوم $ax^2 + bx + c = 0$:

- ۱ اگر $b = 0$ باشد، با شرط $ac < 0$ معادله دارای دو ریشه قرینه است.
- ۲ اگر $a = c$ باشد، با شرط $\Delta > 0$ معادله دارای دو ریشه معکوس است.
- ۳ اگر $a = -c$ باشد، معادله دارای دو ریشه قرینه و معکوس است.
- وقتی a و c هم علامت نباشن تماماً معادله ۲ تا ریشه رو داره!
- ۴ اگر $a + b + c = 0$ باشد، (مجموع ضرایب صفر باشد)، معادله دارای دو ریشه $X_1 = 1$ و $X_2 = \frac{c}{a}$ می باشد.
- ۵ اگر $a + c = b$ باشد، معادله دارای دو ریشه $X_1 = -1$ و $X_2 = -\frac{c}{a}$ می باشد.

سؤال در مورد ریشه های معادلات زیر بحث کنید.

۱ $-3x^2 + 2x + 1 = 0$ ۲ $2x^2 - 3x + \frac{1}{3} = 0$ ۳ $6x^2 + 5x - 1 = 0$ ۴ $-x^2 + 3x + 1 = 0$

پاسخ

۱ $-3x^2 + 2x + 1 = 0 \xrightarrow{a+b+c=0} X_1 = 1, X_2 = \frac{c}{a} = -\frac{1}{3}$

۲ $2x^2 - 3x + \frac{1}{3} = 0 \xrightarrow{P>0, \Delta>0} S>0, ab<0$ معادله دارای دو ریشه هم علامت است. هر دو ریشه مثبت

۳ $6x^2 + 5x - 1 = 0 \xrightarrow{a+c=b} X_1 = -1, X_2 = \frac{-c}{a} = \frac{-(-1)}{6} = \frac{1}{6}$

۴ $-x^2 + 3x + 1 = 0 \xrightarrow{a=-c} S>0$ معادله دارای دو ریشه قرینه و معکوس. قدرمطلق ریشه منفی، کوچک تر از ریشه مثبت

می تونیم بگیریم ریشه های این معادله به صورت α و $\frac{-1}{\alpha}$ که $\alpha > 1$ است! آله گفتین چرا؟

روابط بین ریشه های معادله درجه دوم

پریش های تشریحی **۳** بسته

۴۵ ☆ معادلات زیر را به روش خواسته شده حل کنید.

۱ $6x^2 - 30x = 0$ (تجزیه)

۲ $(x-3)^2 - 16 = 0$ (ریشه گیری)

۳ $4x^2 + 12x + 5 = 0$ (مربع کامل)

۴ $x^2 + 3x + 5 = 0$ (روش کلی)

معادلات زیر را حل کنید.

۴۷ $(2-\sqrt{2})x^2 + 4x + (\sqrt{2}+2) = 0$

۴۶ $(2+\sqrt{2})x^2 - 2\sqrt{2}x + (\sqrt{2}-2) = 0$

(مشابه تمرین ۵ صفحه ۱۵ کتاب درسی)

۴۹ ☆ $(\frac{x^2}{2}-1)^2 + (\frac{x^2}{2}-1) - 2 = 0$ (شهریور ۹۵)

۴۸ ☆ $(4-x^2)^2 - 2(4-x^2) - 15 = 0$

۵۱ ☆ $(\frac{x^2}{3}-2)^2 - 11(\frac{x^2}{3}-2) + 10 = 0$ (دی ۹۱)

۵۰ ☆ $(x^2-1)^4 + (x^2-1)^2 - 2 = 0$

۵۲ ☆ اگر α و β ریشه‌های معادله $x^2 - 3x - 5 = 0$ باشند، بدون محاسبه ریشه‌ها، حاصل $\frac{1}{\alpha} + \frac{1}{\beta}$ را بیابید.

۵۳ اگر α و β ریشه‌های معادله درجه دوم $2x^2 - 8x + 1 = 0$ باشند، حاصل $\frac{1}{\alpha+1} + \frac{1}{\beta+1}$ را بیابید.

۵۴ اگر α و β ریشه‌های معادله $x^2 - 5x + 1 = 0$ باشند، مقدار عددی عبارت‌های زیر را تعیین کنید.

$$\alpha^3\beta + \alpha\beta^3 \quad \boxed{\text{آ}} \quad \frac{\alpha^2}{\beta} + \frac{\beta^2}{\alpha} \quad \boxed{\text{ب}}$$

۵۵ اگر α و β ریشه‌های معادله $2x^2 - 5x - 6 = 0$ باشند، مقدار عددی $(\alpha - \beta)^2$ را محاسبه کنید.

۵۶ اگر α و β ریشه‌های معادله $x^2 - 4x + 1 = 0$ باشند، بدون حل معادله مقدار عددی $\alpha^2 + \frac{1}{\alpha} + \beta^2 + \frac{1}{\beta}$ را تعیین کنید.

۵۷ اگر α و β ریشه‌های معادله $x^2 - \sqrt{2}x - 3 = 0$ باشند، مقدار عددی عبارت‌های زیر را محاسبه کنید.

$$\frac{\alpha + \beta}{\alpha^2 + \beta^2} \quad \boxed{\text{آ}} \quad \alpha^3 + \beta^3 \quad \boxed{\text{ب}}$$

۵۸ اگر α و β ریشه‌های معادله $x^2 - 7x + 4 = 0$ باشند، بدون محاسبه α و β مقدار $\alpha\sqrt{\beta} + \beta\sqrt{\alpha}$ را تعیین کنید.

۵۹ اگر $x = 2$ یکی از ریشه‌های معادله $2x^2 - mx - 2 = 0$ باشد، مقدار m و ریشه دیگر معادله را بیابید.

۶۰ اگر $x = -1$ یکی از ریشه‌های معادله $2x^2 = (m+1)x + m^2 + 1$ باشد، مقدار m و ریشه دیگر را بیابید.

۶۱ مقدار m را طوری بیابید که در معادله $x^2 - 6x + m = 0$ ،

$\boxed{\text{آ}}$ دو ریشه با هم برابر باشد. $\boxed{\text{ب}}$ یک ریشه ۴ واحد بیش‌تر از ریشه دیگر باشد.

$\boxed{\text{ب}}$ یک ریشه ۵ برابر ریشه دیگر باشد.

۶۲ مقدار k را طوری بیابید که ریشه‌های معادله $kx^2 + 9x + 4 = 0$ ،

$\boxed{\text{آ}}$ معکوس یکدیگر باشند. $\boxed{\text{ب}}$ قرینه و معکوس یکدیگر باشند.

۶۳ m را طوری بیابید که یکی از ریشه‌های معادله $mx^2 - 4x + 1 = 0$ ، سه برابر ریشه دیگر باشد. ($m \neq 0$) (شهریور ۸۴ و مشابه تمرین ۱ صفحه ۱۵ کتاب درسی)

۶۴ در معادله $2x^2 - 8x + m = 0$ ، اگر یکی از جواب‌ها دو واحد از جواب دیگر بزرگ‌تر باشد، مقدار m و هر دو جواب معادله را بیابید. (دی ۹۲)

۶۵ در معادله $x^2 + mx - 3 = 0$ ، مقدار m را چنان بیابید که بین α و β (ریشه‌های این معادله)، رابطه $2\alpha + \beta = 4$ برقرار باشد.

۶۶ مقدار a را چنان بیابید که میان ریشه‌های معادله $x^2 - (a+2)x + a + 1 = 0$ رابطه $\frac{1}{\alpha+1} + \frac{1}{\beta+1} = \frac{5}{6}$ برقرار باشد.

۶۷ اگر α و β ریشه‌های معادله $x^2 - 3mx + 4 = 0$ باشند، m را چنان بیابید که $\alpha\beta^2 + 4 = 0$ باشد.

۶۸ معادله درجه دومی بنویسید که ریشه‌هایش $1 \pm \sqrt{2}$ باشند. (دی ۹۴ و مشابه تمرین ۱ صفحه ۱۵ کتاب درسی)

۶۹ اگر α و β ریشه‌های معادله درجه دوم $4x^2 - 5x - 5 = 0$ باشند، معادله‌ای بنویسید که ریشه‌های آن 2α و 2β باشد. (دی ۹۳)

۷۰ اگر α و β ریشه‌های معادله درجه دوم $x^2 - 2x - 1 = 0$ باشند، معادله‌ای بنویسید که ریشه‌های آن $\frac{1}{\alpha+1}$ و $\frac{1}{\beta+1}$ باشد. (خرداد ۹۵)

۷۱ اگر α و β ریشه‌های معادله درجه دوم $ax^2 + bx + c = 0$ باشند، ریشه‌های معادله درجه دوم $cx^2 + bx + a = 0$ کدام‌اند؟ ($a, c \neq 0$) (خرداد ۹۱)

۷۲ اگر مجموع دو عدد $\frac{1}{3}$ و حاصل ضرب آن‌ها $(-\frac{5}{18})$ باشد، آن دو عدد را بیابید.

● بدون حل معادله و با استفاده از S ، P و Δ در وجود و علامت جواب‌های معادلات زیر بحث کنید. (شهریور ۹۴)

$$3x^2 - x - 4 = 0 \quad \text{۷۴} \quad x^2 + x - 5 = 0 \quad \text{۷۳ ☆}$$

$$-x^2 + 6x - 3 = 0 \quad \text{۷۶} \quad 4x^2 + \frac{1}{4} = 2x \quad \text{۷۵ ☆}$$

۷۷ محیط یک زمین مستطیل شکل، ۱۸۰ متر و مساحت آن ۱۴ متر مربع است. اندازه طول و عرض این زمین را تعیین کنید. (خرداد ۹۳ و مشابه مثال کتاب درسی صفحه ۹)

۷۸ یک قالی به مساحت ۶ متر مربع وسط یک اتاق به ابعاد ۳ و ۴ متر پهن شده است، به طوری که فاصله لبه‌های قالی تا دیوارها یکسان می‌باشد.

این فاصله چقدر است؟ (مشابه تمرین ۸ صفحه ۱۶ کتاب درسی)

۷۹ طول یک کاشی ۵ سانتی‌متر بیش‌تر از ۲ برابر عرض آن است. اگر برای کاشی‌کاری یک دیوار به مساحت ۲۰ متر مربع، ۸۰۰ کاشی مصرف شده باشد،

طول و عرض کاشی‌ها چند سانتی‌متر است؟ (مشابه تمرین ۹ صفحه ۱۶ کتاب درسی)

۳
بخش



پاسخنامه

جبر و معادله

مسئله ۱

حال تعداد جملات دنباله را می یابیم:

$$a_n = 99 \xrightarrow{a_n = a_1 + (n-1)d} 3 + (n-1)(6) = 99 \Rightarrow 6(n-1) = 96$$

$$\Rightarrow n-1 = \frac{96}{6} = 16 \Rightarrow n = 17$$

و بنابراین مجموع این جملات برابر است با:

$$S_{17} = \frac{17}{2}(a_1 + a_n) = \frac{17}{2}(3 + 99) = \frac{17 \times 102}{2} = 867$$

۶ | اعداد بخش پذیر بر ۱۵، بر ۳ و ۵ بخش پذیرند و اولین عدد سه رقمی

که بر ۳ و ۵ بخش پذیر باشد، ۱۰۵ است.

$$105, 120, 135, \dots$$

برای یافتن تعداد اعداد سه رقمی بخش پذیر بر ۱۵ داریم:

$$a_n = a_1 + (n-1)d < 1000 \Rightarrow 105 + (n-1)(15) < 1000$$

$$\Rightarrow 15n + 90 < 1000 \Rightarrow 15n < 910 \Rightarrow n < \frac{910}{15} \approx 60.66 \Rightarrow n \leq 60$$

بنابراین داریم:

$$S_{60} = \frac{60}{2}(2a_1 + 59d) = \frac{60}{2}(2(105) + 59(15))$$

$$= 30(210 + 885) = 32850$$

و یا می توان گفت:

$$a_n = a_{60} = 105 + 59(15) = 990$$

$$\Rightarrow S_{60} = \frac{60}{2}(a_1 + a_{60}) = 30(105 + 990) = 32850$$

۷ | چون هر جمله از جمله قبلیش به اندازه $\frac{1}{3}$ بیش تر است، پس

قدرنسبت دنباله حسابی برابر $d = \frac{1}{3}$ است و چون $a_7 = 13$ ، پس داریم:

$$a_7 = a_1 + 6d = 13 \xrightarrow{d = \frac{1}{3}} a_1 + 6\left(\frac{1}{3}\right) = 13$$

$$\Rightarrow a_1 + 2 = 13 \Rightarrow a_1 = 13 - 2 = 11$$

$$S_{70} = \frac{70}{2}(2a_1 + 69d) \xrightarrow{\substack{a_1=11 \\ d=\frac{1}{3}}} 10 \left(2(11) + 69\left(\frac{1}{3}\right) \right)$$

$$= 10(22 + 23) = 450$$

۱ | با توجه به الگوی داده شده می توان نوشت:

$$2(1) = 1 \times 2$$

$$2(1+2) = 2 \times 3$$

$$2(1+2+3) = 3 \times 4$$

$$\vdots$$

$$\Rightarrow 2(1+2+\dots+n) = n \times (n+1) \Rightarrow 1+2+3+\dots+n = \frac{n(n+1)}{2}$$

۲ | با توجه به الگوی داده شده می توان نوشت:

$$1 = 1^2$$

$$1+3 = 2^2$$

$$1+3+5 = 3^2$$

$$1+3+5+7 = 4^2$$

$$1+3+5+7+9 = 5^2$$

$$\vdots$$

$$1+3+5+\dots+(2n-1) = n^2$$

مجموع n عدد فرد اولیه

۳ | با یک دنباله حسابی با جمله اول $a_1 = -5$ و قدرنسبت $d = 0 - (-5) = 5$ مواجهیم. بنابراین:

$$S_n = \frac{n}{2}(2a_1 + (n-1)d)$$

$$\xrightarrow{n=20} S_{20} = \frac{20}{2}(2a_1 + 19d) \xrightarrow{\substack{a_1=-5 \\ d=5}} \frac{20}{2}(2(-5) + 19(5))$$

$$\Rightarrow S_{20} = 10(-10 + 95) = 10 \times 85 = 850$$

ب) با یک دنباله حسابی با جمله اول $a_1 = -5$ و قدرنسبت $d = -3 - (-5) = 2$ مواجهیم:

$$S_n = \frac{n}{2}(2a_1 + (n-1)d)$$

$$\xrightarrow{n=20} S_{20} = \frac{20}{2}(2a_1 + 19d) \xrightarrow{\substack{a_1=-5 \\ d=2}} \frac{20}{2}(2(-5) + 19(2))$$

$$\Rightarrow S_{20} = 10(-10 + 38) = 10 \times 28 = 280$$

۴ | $4, 7, 10, \dots, 100$

دنباله حسابی با $a_1 = 4$ و قدرنسبت $d = 3$

حال تعداد جملات دنباله را می یابیم:

$$a_n = 100 \xrightarrow{a_n = a_1 + (n-1)d} 4 + (n-1)(3) = 100 \Rightarrow 3(n-1) = 96$$

$$\Rightarrow n-1 = \frac{96}{3} = 32 \Rightarrow n = 33$$

$$\Rightarrow S_{33} = \frac{33}{2}(4 + 100) = \frac{33}{2}(104)$$

$$\Rightarrow S_{33} = \frac{33 \times 104}{2} = 1716$$

۵ | اعداد فرد مضرب ۳ و کوچک تر از ۱۰۰: $3, 9, 15, \dots, 99$

دنباله حسابی با $a_1 = 3$ و قدرنسبت $d = 6$

۸ | $\begin{cases} a_7 = 32 \\ a_{12} = 12 \end{cases} \xrightarrow{a_n - a_m = (n-m)d} a_7 - a_{12} = (7-12)d$

$$\Rightarrow 32 - 12 = -5d \Rightarrow d = -4$$

$$a_7 = a_1 + 6d = 32 \xrightarrow{d=-4} a_1 + 6(-4) = 32 \Rightarrow a_1 = 32 + 24 = 56$$

$$\Rightarrow S_{15} = \frac{15}{2}(2a_1 + 14d) = \frac{15}{2}(2(56) + 14(-4))$$

$$= \frac{15}{2}(112 - 56) = \frac{15}{2} \times 56 = 420$$

$$S_{10} = \frac{6(10)^2 - 5(10)}{12} = \frac{600 - 50}{12} = \frac{550}{12} = \frac{275}{6}$$

$$S_{10} = \frac{1}{2} (2a_1 + 9d) = 5(2(\frac{1}{2}) + 9(1)) = 5(\frac{55}{6}) = \frac{275}{6}$$

$$\begin{array}{c} +d +d \\ \curvearrowright \quad \curvearrowright \\ a_1, a_2, a_3, a_4, \dots, a_n \\ +2d +2d \end{array}$$

بنابراین داریم:

$$\begin{array}{c} +2d +2d \\ \curvearrowright \quad \curvearrowright \\ a_1 + a_3 + a_5 + \dots + a_9 = 240 \\ \curvearrowright \quad \curvearrowright \\ a_2 + a_4 + a_6 + \dots + a_8 = 270 \\ +2d +2d \end{array}$$

۱۰ جمله از دنباله حسابی با جمله اول a_1 و قدرنسبت $2d$

۱۰ جمله از دنباله حسابی با جمله اول a_2 و قدرنسبت $2d$

$$\Rightarrow \begin{cases} \frac{1}{2} (2a_1 + 9(2d)) = 240 \\ \frac{1}{2} (2a_2 + 9(2d)) = 270 \end{cases} \Rightarrow \begin{cases} \Delta(2a_1 + 18d) = 240 \\ \Delta(2a_2 + 18d) = 270 \end{cases}$$

$$\xrightarrow{+5} \begin{cases} 2a_1 + 18d = 48 \\ 2a_2 + 18d = 54 \end{cases} \xrightarrow{\text{از هم کم می‌کنیم}} \begin{cases} 2a_1 + 18d = 48 \\ 2a_2 - 18d = 54 - 48 \end{cases}$$

$$\Rightarrow 2d = 6 \Rightarrow d = 3$$

$$\begin{aligned} 2a_1 + 18d = 48 &\Rightarrow 2a_1 + 18(3) = 48 \Rightarrow 2a_1 = 48 - 54 = -6 \\ &\Rightarrow a_1 = -3 \end{aligned}$$

$$\begin{cases} a_1 + a_2 + \dots + a_5 = 25 \Rightarrow \frac{\Delta}{2} (2a_1 + 4d) = 25 \\ a_6 + \dots + a_{10} = 100 \Rightarrow \frac{\Delta}{2} (2a_6 + 5d) = 100 \end{cases}$$

$$\Rightarrow \begin{cases} \frac{\Delta}{2} \times 2(a_1 + 2d) = 25 \Rightarrow \Delta(a_1 + 2d) = 25 \\ \frac{\Delta}{2} \times 2(a_6 + 2d) = 100 \Rightarrow \Delta(a_1 + 5d + 2d) = 100 \end{cases}$$

$$\xrightarrow{+5} \begin{cases} a_1 + 2d = 5 \\ a_1 + 7d = 20 \end{cases} \xrightarrow{\text{از هم کم می‌کنیم}} \begin{cases} a_1 + 2d = 5 \\ 5d - 2d = 20 - 5 \end{cases} \Rightarrow \Delta d = 15$$

$$\Rightarrow d = 3 \xrightarrow{a_1 + 2d = 5} a_1 + 2(3) = 5 \Rightarrow a_1 = 5 - 6 = -1$$

۱۵ | دنباله حسابی را با جمله اول a_1 و قدرنسبت d در نظر

$$S_{10} = \frac{1}{2} (2a_1 + 9d) = 5(2a_1 + 9d)$$

حال اگر به قدرنسبت یک واحد اضافه کنیم، خواهیم داشت:

$$S'_{10} = \frac{1}{2} (2a_1 + 9(d+1)) = 5(2a_1 + 9d + 9) = 5(2a_1 + 9d) + 45$$

$$\Rightarrow S'_{10} - S_{10} = 45 \Rightarrow \text{۴۵ واحد افزوده می‌شود.}$$

ب) اگر a_1 و جمله اول و دهم دنباله باشند، داریم:

$$S_{10} = \frac{1}{2} (a_1 + a_{10})$$

$$3, 9, 15, \dots \Rightarrow a_1 = 3 \text{ و } d = 6 \text{ دنباله حسابی با } a_1 = 3 \text{ و } d = 6$$

می‌خواهیم مجموع جملات بیشتر از ۳۰۰ شود:

$$S_n > 300 \Rightarrow \frac{n}{2} (2a_1 + (n-1)d) > 300$$

$$\Rightarrow \frac{n}{2} (2(3) + (n-1)(6)) > 300$$

$$\Rightarrow \frac{n}{2} (6 + 6(n-1)) > 300 \xrightarrow{\text{فکتور از ۶}} \frac{6n}{2} \underbrace{(1+n-1)}_n > 300$$

$$\Rightarrow 3n^2 > 300 \Rightarrow n^2 > 100 \Rightarrow n > 10 \Rightarrow n \geq 11$$

حداقل ۱۱ جمله را باید با هم جمع کنیم.

$$\begin{cases} a_4 = 3 \\ a_n - a_m = (n-m)d \\ a_7 = 12 \end{cases} \rightarrow a_7 - a_4 = (7-4)d$$

$$\Rightarrow 3 - 12 = (-3)d \Rightarrow d = \frac{-9}{-3} = 3$$

حالا با جای‌گذاری در رابطه a_4 یا a_7 مقدار a_1 را می‌یابیم:

$$a_4 = a_1 + 3d = 3 \Rightarrow a_1 + 3(3) = 3 \Rightarrow a_1 = 3 - 9 = -6$$

$$S_n < 450 \Rightarrow \frac{n}{2} (2a_1 + (n-1)d) < 450$$

$$\xrightarrow{\frac{a_1 = -6}{d = 3}} \frac{n}{2} (2(-6) + (n-1)(3)) < 450$$

$$\xrightarrow{\text{فکتور از ۳}} \frac{3n}{2} (n-5) < 450$$

$$\xrightarrow{\times \frac{2}{3}} n(n-5) < 300 \Rightarrow n^2 - 5n - 300 < 0$$

$$\Rightarrow (n-20)(n+15) < 0 \xrightarrow{\text{تعیین علامت}} -15 < n < 20$$

$$\xrightarrow{n > 0} n < 20 \Rightarrow n \leq 19$$

حداکثر ۱۹ جمله را می‌توانیم با هم جمع کنیم تا حاصل کم‌تر از ۴۵۰ شود.

$$a_n = 3 - 2n \Rightarrow a_1 = 3 - 2 = 1$$

$$\Rightarrow S_n = \frac{n}{2} (a_1 + a_n) = \frac{n}{2} (1 + 3 - 2n)$$

$$\Rightarrow S_n = \frac{n}{2} (-2n + 4) \xrightarrow{\text{فکتور از ۲}} \frac{2n}{2} (-n + 2) = n(2 - n)$$

$$\Rightarrow S_{15} = 15(2 - 15) = 15 \times (-13) = -195$$

$$a_n = 3 - 2n \begin{cases} n=1 \rightarrow a_1 = 3 - 2 = 1 \\ n=15 \rightarrow a_{15} = 3 - 2(15) = 3 - 30 = -27 \end{cases}$$

$$S_{15} = \frac{15}{2} (a_1 + a_{15}) = \frac{15}{2} (1 - 27) = \frac{15 \times (-26)}{2} = -195$$

$$S_n = \frac{6n^2 - 5n}{12} \Rightarrow \begin{cases} S_1 = a_1 = \frac{6-5}{12} = \frac{1}{12} \\ S_7 = a_1 + a_7 = \frac{6(49) - 5(7)}{12} = \frac{14}{12} \end{cases}$$

$$a_7 = S_7 - S_1 = \frac{14}{12} - \frac{1}{12} = \frac{13}{12}$$

$$d = a_7 - a_1 = \frac{13}{12} - \frac{1}{12} = \frac{12}{12} = 1$$

یعنی دونده تا ایستگاه ۱۰م دویده است و مسافت طی شده توسط او

$$\left. \begin{aligned} & 2 \times 2 = 4 \\ & 4 \times 2 = 8 \\ & 6 \times 2 = 12 \\ & \vdots \end{aligned} \right\} +4$$

دنباله حسابی
 $a_1=4, d=4 \Rightarrow S_{10} = \frac{10}{2} (2(4) + 9(4)) = 5 \times 44 = 220$ متر

دنباله هندسی با $a_1 = \frac{1}{3}$ و $q = \frac{1}{3}$
 $\frac{1}{3}, \frac{1}{9}, \frac{1}{27}, \dots \Rightarrow q = \frac{1}{3}$ و $a_1 = \frac{1}{3}$

$$\Rightarrow S_{10} = \frac{a_1(q^{10} - 1)}{q - 1} = \frac{\frac{1}{3} \left(\left(\frac{1}{3}\right)^{10} - 1 \right)}{\frac{1}{3} - 1} = \frac{\frac{1}{3} \left(\frac{1}{3^{10}} - 1 \right)}{-\frac{2}{3}}$$

$$= \frac{\frac{1}{3} \left(\frac{1 - 3^{10}}{3^{10}} \right)}{-\frac{2}{3}} = \frac{1 - 3^{10}}{2 \times 3^{10}} = \frac{3^{10} - 1}{2 \times 3^{10}}$$

دنباله هندسی با $a_1 = \frac{1}{5}$ و $q = \frac{1}{5}$
 $\frac{1}{5}, \frac{1}{25}, \frac{1}{125}, \dots \Rightarrow q = \frac{1}{5}$ و $a_1 = \frac{1}{5}$

$$S_{10} = \frac{a_1(q^{10} - 1)}{q - 1} = \frac{\frac{1}{5} \left(\left(\frac{1}{5}\right)^{10} - 1 \right)}{\frac{1}{5} - 1} = \frac{\frac{1}{5} \left(\frac{1}{5^{10}} - 1 \right)}{-\frac{4}{5}}$$

$$= \frac{\frac{1}{5} \left(\frac{1 - 5^{10}}{5^{10}} \right)}{-\frac{4}{5}} = \frac{1 - 5^{10}}{2 \times 5 \times 4 \times 5^{10}} = \frac{(5^{10} - 1)}{10 \times 5^{10}}$$

دنباله هندسی با $a_1 = \frac{1}{8}$ و $q = -2$
 $\frac{1}{8}, \frac{-1}{4}, \frac{1}{2}, \dots \Rightarrow q = -2$ و $a_1 = \frac{1}{8}$

$$S_{10} = \frac{a_1(q^{10} - 1)}{q - 1} = \frac{\frac{1}{8} \left((-2)^{10} - 1 \right)}{-2 - 1} = \frac{\frac{1}{8} (2^{10} - 1)}{-3}$$

$$= \frac{1024 - 1}{-3 \times 8} = -\frac{1023}{24} = -\frac{341}{8}$$

دنباله هندسی با $a_1 = \frac{1}{4}$ و $q = 2$
 $\frac{1}{4}, 1, 2, 4, \dots, 2048 \Rightarrow q = 2$ و $a_1 = \frac{1}{4}$
 حالا تعداد جملات دنباله را می یابیم:

$$a_n = 2048 \Rightarrow a_1 q^{n-1} = 2048 \xrightarrow{a_1 = \frac{1}{4}, q = 2} \frac{1}{4} \times 2^{n-1} = 2048$$

$$\Rightarrow 2^{n-2} = 2^{11} \Rightarrow n - 2 = 11 \Rightarrow n = 13$$

حالا با دو برابر شدن جملات و دنباله، خواهیم داشت:

$$S'_n = \frac{1}{2} (2a_1 + 2a_{10}) = 2 \left(\frac{1}{2} (a_1 + a_{10}) \right) = 2S_{10} \Rightarrow$$

فاکتور از ۲

$$1 + 2 + \dots + n = \frac{2}{2} n^2 \Rightarrow \frac{n(n+1)}{2} = \frac{2n^2}{2}$$

$$\Rightarrow \frac{n^2 + n}{2} = \frac{2n^2}{2} \xrightarrow{\text{طرفین وسطین}} \Delta n^2 + \Delta n = 2n^2$$

$$\Rightarrow n^2 - \Delta n = 0 \Rightarrow n(n - \Delta) = 0 \xrightarrow{n \neq 0} n = \Delta$$

روش اول | از نقطه اول به $(n-1)$ نقطه دیگر وصل می کنیم

از نقطه دوم به $(n-2)$ نقطه دیگر (همه به غیر از نقطه اول) وصل می کنیم.

از نقطه سوم به $(n-3)$ نقطه دیگر (همه به غیر از نقاط اول و دوم) وصل می کنیم.

با ادامه این روند، تعداد پاره خط های ایجاد شده برابر است با:

$$\text{تعداد کل پاره خط ها} = (n-1) + (n-2) + (n-3) + \dots + 2 + 1$$

$$\Rightarrow \text{مجموع } (n-1) \text{ عدد طبیعی اولیه}$$

$$\Rightarrow \text{تعداد پاره خط ها} = \frac{(n-1)(n)}{2} = \frac{n(n-1)}{2}$$

می دانیم تعداد پاره خط ها ۵۵ تا است:

$$\Rightarrow \frac{n(n-1)}{2} = 55 \Rightarrow n(n-1) = 110$$

$$\Rightarrow n(n-1) = 11 \times 10 \Rightarrow n = 11$$

روش دوم | ترکیبیات: برای داشتن هر پاره خط کافی است دو نقطه از آن را انتخاب کنیم، در نتیجه:

$$\text{تعداد پاره خط ها} = \binom{n}{2} = 55 \Rightarrow \frac{n(n-1)}{2} = 55$$

$$\Rightarrow n(n-1) = 110 = 11 \times 10 \Rightarrow n = 11$$

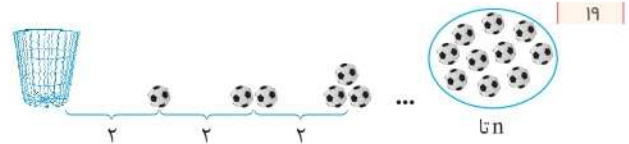
۱۸ | با یک دنباله حسابی مواجه ایم که: $d = 40$, $a_1 = 500$
 می خواهیم مجموع خانوارهای تحت پوشش را پس از ۱۰ سال بیابیم:

$$S_n = \frac{n}{2} (2a_1 + (n-1)d) \Rightarrow S_{10} = \frac{10}{2} (2a_1 + 9d)$$

$$= 5(2(500) + 9(40))$$

$$\Rightarrow S_{10} = 5(1000 + 360) = 1360 \times 5 = 6800$$

خانوار



مجموع توپ هایی که دونده در سبد انداخته ۵۵ تا است، بنابراین داریم:

$$1 + 2 + 3 + \dots + n = 55 \Rightarrow \frac{n(n+1)}{2} = 55$$

$$\Rightarrow n(n+1) = 110 = 10 \times 11 \Rightarrow n = 10$$

۲۸

$$a_{15} = \lambda a_{12} \xrightarrow{a_n = a_1 q^{n-1}} a_1 q^{14} = \lambda a_1 q^{11} \xrightarrow{\frac{a_1 \neq 0}{\div a_1}} q^{14} = \lambda q^{11}$$

$$\Rightarrow \frac{q^{14}}{q^{11}} = \lambda \Rightarrow q^3 = \lambda \Rightarrow q^3 = 2^3 \Rightarrow q = 2$$

$$S_8 = \frac{a_1(1-q^8)}{1-q} = \frac{a_1(1-2^8)}{1-2} = -a_1(1-256)$$

$$= -(255)a_1 = 255a_1 \Rightarrow \frac{S_8}{a_1} = 255$$

۲۹

$$S_{12} = 9S_6 \Rightarrow \frac{a_1(1-q^{12})}{1-q} = 9 \frac{a_1(1-q^6)}{1-q}$$

$$\Rightarrow 1-q^{12} = 9(1-q^6) \xrightarrow{\text{اتحاد مزدوج}} (1-q^6)(1+q^6) = 9(1-q^6)$$

$$\Rightarrow 1+q^6 = 9 \Rightarrow q^6 = 8 \Rightarrow q = \pm\sqrt[6]{8}$$

۳۰

دنباله هندسی با $a_1 = 1$ و $q = 2$ و $1, 2, 4, \dots$

$$S_{10} = \frac{a_1(q^{10}-1)}{q-1} = \frac{1(2^{10}-1)}{2-1}$$

$$= 2^{10} - 1 = 1024 - 1 = 1023$$

برای اذمه‌ی حل یکی از روش‌های زیر را به کار می‌گیریم:

روش اول جمله دوم از a_{11} شروع و به a_{10} فتم می‌گردیم، پس داریم:

$$\text{مجموع ۱۰ جمله دوم} = a_{11} + a_{10} + \dots + a_{10} = \frac{a_{11}(2^{10}-1)}{2-1}$$

$$= \frac{a_1 q^{10}(1024-1)}{1} = 1 \times 2^{10}(1023) = 1024 \times 1023$$

روش دوم

$$S_{10} = \frac{a_1(q^{10}-1)}{q-1} = \frac{1(2^{10}-1)}{2-1} = 2^{10} - 1$$

مجموع ۱۰ جمله اول - مجموع ۱۰ جمله اول = مجموع ۱۰ جمله دوم

$$= (2^{10}-1) - (2^{10}-1) = 2^{10} - 2^{10} = 2^{10}(2^{10}-1) = 1024 \times 1023$$

بنابراین:

$$\Rightarrow \frac{\text{مجموع ۱۰ جمله دوم}}{\text{مجموع ۱۰ جمله اول}} = \frac{1024 \times 1023}{1023} = 1024$$

روش سوم

در حالت کلی تر می‌توان نوشت:

$$\frac{a_1 + \dots + a_{10}}{a_1 + \dots + a_{10}} = \frac{\frac{a_1(1-q^{10})}{1-q}}{\frac{a_1(1-q^{10})}{1-q}} = \frac{a_1 q^{10}(1-q^{10})}{a_1(1-q^{10})} = q^{10}$$

$$\xrightarrow{q=2} \text{مجموع} = 2^{10} = 1024$$

$$S_{13} = \frac{a_1(q^{13}-1)}{q-1} = \frac{1(2^{13}-1)}{2-1} = 2^{13} - 1$$

$$= \frac{8192-1}{2} = \frac{8191}{2} = 4095.5$$

۲۴

دنباله هندسی با $a_1 = -1$ و $q = 3$ و $-1, -3, -9, \dots, -729$

حالا تعداد جملات دنباله را می‌یابیم:

$$a_n = -729 \Rightarrow a_1 q^{n-1} = -729 \Rightarrow (-1)3^{n-1} = -729 \Rightarrow 3^{n-1} = 3^6$$

$$\Rightarrow n-1 = 6 \Rightarrow n = 7$$

$$S_7 = \frac{a_1(q^7-1)}{q-1} = \frac{(-1)(3^7-1)}{3-1}$$

$$= -\frac{1}{2}(2187-1) = -\frac{2186}{2} = -1093$$

جملات دنباله در نگاه اول دنباله هندسی نمی‌سازند اما می‌توان تا دنباله هندسی از آن‌ها ساخت:

$$1 + \frac{1}{3} - \frac{1}{3} + \frac{1}{9} - \frac{1}{9} + \dots + \frac{1}{729} - \frac{1}{729}$$

$$= \left(1 + \frac{1}{3} + \frac{1}{9} + \dots + \frac{1}{729}\right) - \left(\frac{1}{3} + \frac{1}{9} + \dots + \frac{1}{729}\right)$$

هندسی با $a_1 = 1, q = \frac{1}{3}, n = 7$ هندسی با $a_1 = \frac{1}{3}, q = \frac{1}{3}, n = 7$

$$= \frac{1(1-(\frac{1}{3})^7)}{1-\frac{1}{3}} - \frac{\frac{1}{3}(1-(\frac{1}{3})^7)}{1-\frac{1}{3}} = \frac{1-\frac{1}{3^7}}{\frac{2}{3}} - \frac{\frac{1}{3}(1-\frac{1}{3^7})}{\frac{2}{3}}$$

$$= \frac{3^7-1}{2} - \left(1 - \frac{1}{3^7}\right) = \frac{3^7-1}{2 \times 3^6} - \frac{2^7-1}{2^7}$$

۲۶

دنباله هندسی با $a_1 = 6$ و $q = -2$ و $6, -12, 24, \dots$

$$S_n = a_1 + a_2 + \dots + a_n = -126 \Rightarrow \frac{6(1-(-2)^n)}{1-(-2)} = -126$$

$$\Rightarrow \frac{6(1-(-2)^n)}{3} = -126 \Rightarrow 1-(-2)^n = \frac{-126}{2} = -63$$

$$\Rightarrow (-2)^n = 1 - (-63) \Rightarrow (-2)^n = 64 \Rightarrow n = 6$$

بنابراین مجموع ۶ جمله دنباله (-126) خواهد شد.

با یک دنباله هندسی با قدرنسبت $q = 2$ سر و کار داریم، که $S_5 = 46/5$ می‌باشد بنابراین:

$$S_5 = 46/5 \Rightarrow \frac{a_1(q^5-1)}{q-1} = 46/5 \xrightarrow{q=2} \frac{a_1(2^5-1)}{2-1} = 46/5$$

$$\Rightarrow a_1(32-1) = 46/5 \Rightarrow 31a_1 = 46/5$$

$$\Rightarrow a_1 = \frac{46/5}{31} = \frac{2}{31} = \frac{2}{2 \times 31} = \frac{1}{31} = \frac{1}{5}$$

$$x^{n-1} + x^{n-2}y + \dots + xy^{n-2} + y^{n-1}$$

$\times \frac{y}{x}$
 $\times \frac{y}{x}$
 دنباله هندسی
 $q = \frac{y}{x}$
 $\frac{y^n - x^n}{x} = \frac{x^{n-1} \left(\left(\frac{y}{x} \right)^n - 1 \right)}{\frac{y}{x} - 1} = \frac{x^{n-1} \left(\frac{y^n - x^n}{x^n} \right)}{\frac{y-x}{x}}$
 $\frac{y^n - x^n}{x} = \frac{x(y^n - x^n)}{x(y-x)} = \frac{x^n - y^n}{x-y}$
 دور در دور نزدیک در نزدیک
 $x^n - y^n = (x-y)(x^{n-1} + x^{n-2}y + \dots + y^{n-1})$
 طرفین وسطین

۳۵

۳۱ | $a_1 = 3 \times 2 = 6, a_2 = 3 \times 4 = 12 \Rightarrow q = \frac{a_2}{a_1} = 2$

$S_5 = \frac{6(1-2^5)}{1-2} = \frac{6(1-32)}{-1} = (-6)(-31) = 6 \times 31 = 186$

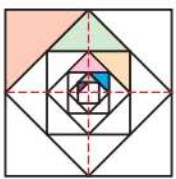
$S_n = 3066 \xrightarrow{q=2} \frac{6(1-2^n)}{1-2} = 3066 \Rightarrow 6(2^n - 1) = 3066$
 $\Rightarrow 2^n - 1 = \frac{3066}{6} = 511 \Rightarrow 2^n = 512 = 2^9 \Rightarrow n = 9$

۳۲ | مجموع ده جمله اول دنباله هندسی برابر است با:

$S = \frac{a_1(1-q^{10})}{1-q}$
 جمله اول را ۲ برابر می‌کنیم داریم:

$S_{10} = \frac{(2a_1)(1-q^{10})}{1-q} = 2 \frac{a_1(1-q^{10})}{1-q} = 2S \Rightarrow$ برابر می‌شود.
 اگر قدرنسبت را به توان ۲ برسانیم، داریم:

$S_{10} = \frac{a_1(1-(q^2)^{10})}{1-q^2} = \frac{a_1(1-(q^{10})^2)}{1-q^2}$
 $\frac{a_1(1-(q^{10})^2)}{(1-q)(1+q)} = \frac{1+q^{10}}{1+q} S$



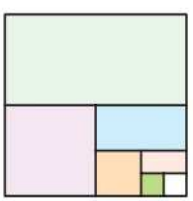
۳۶ | در مربع اول (بزرگ‌ترین مربع) مساحت قسمت رنگی $\frac{1}{8}$ مساحت مربع است. به همین ترتیب در هر مرحله، مساحت قسمت رنگی از هر مربع، $\frac{1}{8}$ مساحت همان مربع است.

بنابراین اگر a_n مساحت مثلث رنگی در مربع n ام باشد، چون مساحت مربع‌ها هر بار نصف می‌گردد، داریم:

مساحت مربع اول
 $a_1 = \frac{1}{8} (1)$
 مساحت مربع دوم
 $a_2 = \frac{1}{8} \left(\frac{1}{2} \times 1 \right)$
 مساحت مربع سوم
 $a_3 = \frac{1}{8} \left(\frac{1}{2} \times \frac{1}{2} \times 1 \right)$
 \vdots

$\Rightarrow q = \frac{1}{2}$ و قدرنسبت با $a_1 = \frac{1}{8}$ هندسی
 \Rightarrow مساحت رنگی $S_n = a_1 + a_2 + \dots + a_n = \frac{a_1(q^n - 1)}{q - 1}$
 $= \frac{\frac{1}{8} \left(\left(\frac{1}{2} \right)^n - 1 \right)}{\frac{1}{2} - 1} = \frac{\frac{1}{8} \left(\frac{1}{2^n} - 1 \right)}{-\frac{1}{2}} = -\frac{2}{8} \left(\frac{1 - 2^n}{2^n} \right)$
 $= -\frac{1}{4} \left(\frac{1 - 128}{128} \right) = -\frac{1}{4} \left(\frac{-127}{128} \right) = \frac{127}{4 \times 128} = \frac{127}{512}$

۳۷ | اگر a_n مساحت رنگ شده در هر مرحله باشد، داریم:



$a_1 = \frac{1}{4} \xrightarrow{\text{باقی مانده}} \frac{1}{4}$
 $a_2 = \frac{1}{4} \times \frac{1}{4} = \left(\frac{1}{4} \right)^2 \xrightarrow{\text{باقی مانده}} \frac{1}{4} \times \frac{1}{4}$
 $a_3 = \frac{1}{4} \times \frac{1}{4} \times \frac{1}{4} = \left(\frac{1}{4} \right)^3$
 \vdots
 $a_n = \left(\frac{1}{4} \right)^n$

۳۳ | $\frac{1 + a + a^2 + \dots + a^{n-1}}{q-1} = \frac{a_1(q^n - 1)}{q-1}$
 $\frac{a_1 = 1}{q=a} \frac{1(a^n - 1)}{a-1} = \frac{1-a^n}{1-a}$

توجه کنید که در مرحله آخر صورت و مخرج را قرینه کردیم.

۳۴ | روش اول با توجه به درستی تساوی مسئله قبل، کافی است به جای a ، $(-a)$ قرار دهیم:

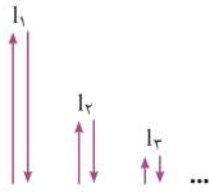
$1 + (-a) + (-a)^2 + \dots + (-a)^{n-2} + (-a)^{n-1} = \frac{1 - (-a)^n}{1 - (-a)}$
 $\xrightarrow{\text{فرد } n} 1 - a + a^2 + \dots - a^{n-2} + a^{n-1} = \frac{1 + a^n}{1 + a}$
 $\xrightarrow{\text{طرفین وسطین}} a^n + 1 = (a+1)(a^{n-1} - a^{n-2} + \dots + a^2 - a + 1)$

روش دوم

$\frac{1 - a + a^2 + \dots - a^{n-2} + a^{n-1}}{q=(-a)} = \frac{1(1 - (-a)^n)}{1 - (-a)}$
 $\frac{1 + a^n}{1 + a}$
 $\xrightarrow{\text{طرفین وسطین}} a^n + 1 = (a+1)(a^{n-1} - a^{n-2} + \dots + a^2 - a + 1)$

۴۰ | ارتفاع‌هایی که توپ پس از هر بار زمین خوردن بالا می‌آید، یک دنباله هندسی با قدرنسبت $q = \frac{1}{3}$ تشکیل می‌دهد:

$$\begin{cases} I_1 = 9 \\ I_2 = \frac{1}{3} I_1 \\ I_3 = \frac{1}{3} I_2 = \left(\frac{1}{3}\right)^2 I_1 \\ \vdots \\ I_n = \left(\frac{1}{3}\right)^{n-1} I_1 \end{cases}$$



مسافت طی شده $= 2(I_1 + I_2 + \dots + I_n) = 2S_n = 2 \times \frac{I_1(q^n - 1)}{q - 1}$

$$\begin{aligned} q = \frac{1}{3} \quad 9 \left(\left(\frac{1}{3}\right)^n - 1 \right) &= 2 \times 9 \times \frac{1 - 3^n}{3^n - 1} = \frac{18(1 - 3^n)}{3^n - 1} \\ \frac{18(1 - 3^n)}{3^n - 1} &= \frac{18(1 - 3^n)}{3^n - 1} = \frac{18(1 - 3^n)}{3^n - 1} \\ &= \frac{18 \times (1 - 3^n)}{3^n - 1} = \frac{18 - 54n}{27} = \frac{729 - 1}{27} = \frac{728}{27} \approx 26.96 \text{ متر} \end{aligned}$$

۴۱ | $a_1 = 30000$

$a_2 = a_1 + 0.1a_1 = (1.1)a_1$

$a_3 = a_2 + 0.1a_2 = (1.1)a_2 = (1.1)^2 a_1$

$a_n = (1.1)^{n-1} a_1$

بنابراین با یک دنباله هندسی با $a_1 = 30000$ و $q = (1.1)$ مواجه هستیم:

$$S_n = \frac{a_1(1 - q^n)}{1 - q} = \frac{30000(1 - (1.1)^n)}{-0.1} = 300000((1.1)^n - 1)$$

تومان $= 300000((1.1)^n - 1) = 300000 \times 0.95 = 3000 \times 95 = 285000$

۴۲ | قطر $d_1 = 1$

$d_2 = d_1 - 0.5d_1 = 0.5d_1 = 0.5$

$d_3 = d_2 - 0.5d_2 = 0.5d_2 = (0.5)^2$

بنابراین قطر نیم‌دایره‌ها تشکیل یک دنباله هندسی با قدرنسبت $q = 0.5$ می‌دهند.

فاصله سنگ و کودک $= d_1 + d_2 + \dots + d_n = S_n = \frac{a_1(1 - q^n)}{1 - q}$

$$\begin{aligned} &= \frac{1(1 - (0.5)^n)}{1 - 0.5} = \frac{1 - \left(\frac{1}{2}\right)^n}{\frac{1}{2}} \\ &= \frac{1 - \frac{1}{32}}{\frac{1}{2}} = \frac{31}{32} = \frac{31}{32} = \frac{31}{32} = \frac{31}{16} = 1.93 \text{ متر} \end{aligned}$$

$S_n = \frac{1}{3} + \left(\frac{1}{3}\right)^2 + \dots + \left(\frac{1}{3}\right)^n$ مجموع مساحت‌های رنگ‌شده در n مرحله

$$\frac{a_1 = \frac{1}{3}}{q = \frac{1}{3}} \frac{a_1(q^n - 1)}{q - 1} = \frac{\frac{1}{3} \left(\left(\frac{1}{3}\right)^n - 1 \right)}{\frac{1}{3} - 1} = \frac{\frac{1}{3} \left(\frac{1}{3^n} - 1 \right)}{-\frac{2}{3}} = 1 - \frac{1}{3^n}$$

حالا می‌خواهیم مجموع مساحت‌های رنگ شده بیشتر یا مساوی ۹۹ درصد سطح مربع اولیه باشد:

$$S_n \geq \frac{99}{100} \times 1 \Rightarrow 1 - \frac{1}{3^n} \geq \frac{99}{100} \Rightarrow \frac{1}{3^n} \leq 1 - \frac{99}{100} = \frac{1}{100}$$

$\Rightarrow 3^n \geq 100 \Rightarrow n \geq 7$

یعنی پس از ۷ مرحله، حداقل ۹۹ درصد از سطح مربع رنگ شده است.

۳۸ | میزان کاهش ذرات در هر مرحله به صورت زیر است:

مرحله اول: $\frac{1}{3}$, مرحله دوم: $\frac{1}{3} \times \frac{1}{3}$, مرحله سوم: $\frac{1}{3} \times \frac{1}{3} \times \frac{1}{3}$, ...
 \Rightarrow مرحله n = $\left(\frac{1}{3}\right)^n$

بنابراین پس از n مرحله میزان کاهش ذرات برابر است با:

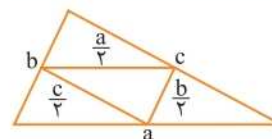
$$S_n = \frac{1}{3} + \left(\frac{1}{3}\right)^2 + \left(\frac{1}{3}\right)^3 + \dots + \left(\frac{1}{3}\right)^n = \frac{\frac{1}{3} \left(1 - \left(\frac{1}{3}\right)^n \right)}{1 - \frac{1}{3}} = 1 - \left(\frac{1}{3}\right)^n$$

حالا می‌خواهیم میزان کاهش ذرات حداقل ۹۶ درصد باشد:

$$S_n \geq \frac{96}{100} \Rightarrow 1 - \left(\frac{1}{3}\right)^n \geq \frac{96}{100} \Rightarrow \left(\frac{1}{3}\right)^n \leq \frac{4}{100} = \frac{1}{25}$$

$\Rightarrow \frac{1}{3^n} \leq \frac{1}{25} \Rightarrow 3^n \geq 25 \Rightarrow n \geq 5$

بنابراین حداقل ۵ صافی نیاز است.



۳۹ | بنا به قضیه تالس، در هر بار طول

اضلاع مثلث ایجادشده نصف طول اضلاع

مثلث قبل است، بنابراین:

محیط مثلث اول: $a_1 = a + b + c = p$

محیط مثلث دوم: $a_2 = \frac{a}{2} + \frac{b}{2} + \frac{c}{2} = \frac{1}{2}p$

محیط مثلث سوم: $a_3 = \frac{1}{2} \left(\frac{1}{2}p \right) = \left(\frac{1}{2}\right)^2 p$

محیط مثلث n ام: $a_n = \left(\frac{1}{2}\right)^{n-1} p$

$$\begin{aligned} S_{10} &= p + \frac{1}{2}p + \dots + \left(\frac{1}{2}\right)^9 p = \frac{a_1 = p}{q = \frac{1}{2}} \frac{p \left(1 - \left(\frac{1}{2}\right)^{10} \right)}{1 - \frac{1}{2}} \\ &= 2p \left(1 - \frac{1}{2^{10}} \right) \end{aligned}$$

$$\Rightarrow S_{10} = 2p \left(\frac{2^{10} - 1}{2^{10}} \right) = \frac{2^{10} - 1}{2^9} p = \frac{1024 - 1}{512} p = \frac{1023}{512} p$$

بنابراین مجموع محیط‌ها $\frac{1023}{512}$ برابر p است.

$$4x^2 + 12x + 5 = 0 \Rightarrow 4x^2 + 12x = -5$$

$$\div 4 \rightarrow x^2 + 3x = -\frac{5}{4} \xrightarrow{+\left(\frac{b}{2}\right)^2 = \frac{9}{4}} x^2 + 3x + \frac{9}{4} = -\frac{5}{4} + \frac{9}{4}$$

$$\Rightarrow \left(x + \frac{3}{2}\right)^2 = 1 \xrightarrow{\text{جذر می‌گیریم}} \begin{cases} x + \frac{3}{2} = 1 \Rightarrow x = -\frac{1}{2} \\ x + \frac{3}{2} = -1 \Rightarrow x = -\frac{5}{2} \end{cases}$$

$$\Delta = (-5)^2 - 4(2)(2) = 25 - 16 = 9 \Rightarrow x = \frac{5 \pm 3}{2(2)} = \begin{cases} \frac{8}{4} = 2 \\ \frac{2}{4} = \frac{1}{2} \end{cases}$$

$$\Delta = 3^2 - 4(5) = 9 - 20 < 0 \Rightarrow \text{معادله ریشه ندارد.}$$

(ث)

$$P_1 = \frac{1}{2}(\pi d_1) = \frac{\pi}{2} d_1 = \frac{\pi}{2}$$

$$P_2 = \frac{1}{2}(\pi d_2) = \frac{\pi}{2} d_2 = \frac{\pi}{2} \left(\frac{1}{2}\right) \times \left(\frac{1}{2}\right)$$

$$P_3 = \frac{1}{2}(\pi d_3) = \frac{\pi}{2} \left(\frac{1}{2}\right)^2 \times \left(\frac{1}{2}\right)$$

...

$$\Rightarrow \text{مسافت پیموده شده توسط سنگ} = P_1 + P_2 + \dots + P_n$$

$$P_1 = \frac{\pi}{2} \quad S_n = \frac{\frac{\pi}{2} \left(1 - \left(\frac{1}{2}\right)^n\right)}{1 - \frac{1}{2}} = \frac{\pi}{2} \times \frac{31}{16}$$

$$= \frac{31}{32} \pi = \frac{31 \times 3.14}{32} = 3.1 \text{ متر}$$

(ج)

(چ)

۴۶ | روش اول

$$a + b + c = x + \sqrt{2} - 2\sqrt{2} + \sqrt{2} - x = 2\sqrt{2} - 2\sqrt{2} = 0$$

بنابراین مجموع ضرایب صفر است و داریم:

$$\Rightarrow \begin{cases} x_1 = 1 \\ x_2 = \frac{c}{a} = \frac{\sqrt{2}-2}{\sqrt{2}+2} \times \frac{\sqrt{2}-2}{\sqrt{2}-2} = \frac{(\sqrt{2}-2)^2}{2-4} = -\frac{(\sqrt{2}-2)^2}{2} \end{cases}$$

روش دوم

$$\Delta = (-2\sqrt{2})^2 - 4(2+\sqrt{2})(\sqrt{2}-2) = 4 \times 2 - 4(2-4) = 8 + 8 = 16$$

$$x = \frac{-b \pm \sqrt{\Delta}}{2a} = \frac{2\sqrt{2} \pm \sqrt{16}}{2(2+\sqrt{2})} = \frac{2\sqrt{2} \pm 4}{2(2+\sqrt{2})} = \frac{2(\sqrt{2} \pm 2)}{2(2+\sqrt{2})}$$

$$= \frac{\sqrt{2} \pm 2}{2+\sqrt{2}} = \begin{cases} \frac{\sqrt{2}+2}{\sqrt{2}+2} \\ \frac{\sqrt{2}-2}{\sqrt{2}+2} \times \frac{\sqrt{2}-2}{\sqrt{2}-2} \end{cases}$$

$$\Rightarrow \begin{cases} x = 1 \\ x = \frac{(\sqrt{2}-2)^2}{2-4} = -\frac{(\sqrt{2}-2)^2}{2} \end{cases}$$

۴۷ | روش اول

$$a + c = 2 - \sqrt{2} + \sqrt{2} + 2 = 4 = b$$

$$\Rightarrow \begin{cases} x_1 = -1 \\ x_2 = -\frac{c}{a} = -\frac{\sqrt{2}+2}{2-\sqrt{2}} \times \frac{2+\sqrt{2}}{2+\sqrt{2}} = -\frac{(2+\sqrt{2})^2}{2} \end{cases}$$

روش دوم

$$\Delta = 4^2 - 4(2-\sqrt{2})(\sqrt{2}+2) = 16 - 4(4-2) = 16 - 8 = 8$$

$$x = \frac{-b \pm \sqrt{\Delta}}{2a} = \frac{-4 \pm \sqrt{8}}{2(2-\sqrt{2})} = \frac{-4 \pm 2\sqrt{2}}{2(2-\sqrt{2})} = \begin{cases} \frac{-2 + \sqrt{2}}{2-\sqrt{2}} \\ \frac{-2 - \sqrt{2}}{2-\sqrt{2}} \end{cases}$$

$$= \begin{cases} \frac{-(2-\sqrt{2})}{(2-\sqrt{2})} = -1 \\ \frac{(-2-\sqrt{2})}{2-\sqrt{2}} \times \frac{2+\sqrt{2}}{2+\sqrt{2}} = \frac{-(\sqrt{2}+2)^2}{4-2} = -\frac{(\sqrt{2}+2)^2}{2} \end{cases}$$

۴۵ | (ا)

$$6x^2 - 30x = 0 \xrightarrow{\text{فکتور از } 6x} 6x(x-5) = 0 \Rightarrow \begin{cases} x = 0 \\ x = 5 \end{cases}$$

$$x^2 - 3x + 2 = 0 \xrightarrow{\text{اتحاد جمله مشترک}} (x-2)(x-1) = 0 \Rightarrow \begin{cases} x = 2 \\ x = 1 \end{cases}$$

$$(x-2)^2 - 16 = 0 \Rightarrow (x-2)^2 = 4^2 \xrightarrow{\text{جذر می‌گیریم}} x-2 = \pm 4$$

$$\Rightarrow \begin{cases} x-2 = 4 \Rightarrow x = 6 \\ x-2 = -4 \Rightarrow x = -2 \end{cases}$$

$$x^2 + 6x - 7 = 0 \Rightarrow x^2 + 6x = 7 \xrightarrow{+\left(\frac{b}{2}\right)^2 = 9} x^2 + 6x + 9 = 7 + 9$$

$$\Rightarrow (x+3)^2 = 16 \Rightarrow x+3 = \pm 4 \Rightarrow \begin{cases} x+3 = 4 \Rightarrow x = 1 \\ x+3 = -4 \Rightarrow x = -7 \end{cases}$$

(ب)

(پ)

(ت)

۴۳ | دنباله تعداد سکه‌های کادو گرفته برابر است با:

1, 2, 4, 8, ...

$$\Rightarrow \text{تعداد کل سکه‌ها تا ۱۰ سالگی} = S_{10} = \frac{a_1(1-q^{10})}{1-q} = \frac{1(1-2^{10})}{1-2}$$

$$= \frac{-1+2^{11}}{1-2} = -\frac{2^{11}-1}{1-2} = 1023$$

$$\text{تومان کل} = 1023 \times 10000 = 10,230,000$$

۴۴ | تعداد کل گندم‌های جایزه مخترع برابر است با:

$$\underbrace{1+2+2^2+2^3+\dots+2^{64}}_{\text{دنباله هندسی با } q=2} = S_{65} = \frac{a_1(1-q^{65})}{q-1} = \frac{1(2^{65}-1)}{2-1} = 2^{65}-1$$

از طرفی داریم:

$$2^{10} = 1000 \Rightarrow 2^{10} = 10^3 \xrightarrow{\text{توان } 6} 2^{60} = (10^3)^6 = 10^{18}$$

$$\Rightarrow \text{وزن کل گندم‌های جایزه گرفته} = (2^{65}-1) \times 1 = 2^{65} \times 10^{18} = 32 \times 10^{18}$$

از طرفی می‌دانیم:

$$1 = 10^9 \times 1000 \times 1000 = 10^{15} \text{ گرم}$$

بنابراین جایزه مخترع تقریباً ۳۲۰۰۰ میلیارد تن گندم است.

۵۴ | آ

$$x^2 - 5x + 1 = 0 \Rightarrow a = 1, b = -5, c = 1 \Rightarrow \begin{cases} \alpha + \beta = \frac{-(-5)}{1} = 5 \\ \alpha\beta = \frac{1}{1} = 1 \end{cases}$$

$$\alpha^r \beta + \alpha \beta^r = \alpha\beta(\alpha^r + \beta^r) = \alpha\beta((\alpha + \beta)^r - r\alpha\beta)$$

$$\frac{\alpha\beta=1}{\alpha+\beta=5} \Rightarrow 1(\Delta^r - r(1)) = 25 - 2 = 23$$

$$\frac{\alpha^r}{\beta} + \frac{\beta^r}{\alpha} = \frac{\alpha^r + \beta^r}{\alpha\beta} = \frac{(\alpha + \beta)(\alpha^r + \beta^r - r\alpha\beta)}{\alpha\beta} \quad (ب)$$

$$= \frac{(\alpha + \beta)((\alpha + \beta)^r - r\alpha\beta - \alpha\beta)}{\alpha\beta} = \frac{(\alpha + \beta)((\alpha + \beta)^r - r\alpha\beta)}{\alpha\beta}$$

$$\frac{\alpha\beta=1}{\alpha+\beta=5} = \frac{5(\Delta^r - r(1))}{1} = 5(25 - 2) = 5 \times 23 = 115$$

$$2x^2 - 5x - 6 = 0 \Rightarrow a = 2, b = -5, c = -6 \quad 55$$

$$\begin{cases} \alpha + \beta = -\frac{b}{a} = \frac{5}{2} \\ \alpha\beta = \frac{c}{a} = -\frac{6}{2} = -3 \end{cases}$$

$$(\alpha - \beta)^r = \alpha^r + \beta^r - r\alpha\beta = (\alpha + \beta)^r - r\alpha\beta - r\alpha\beta$$

$$= (\alpha + \beta)^r - 2r\alpha\beta = \left(\frac{5}{2}\right)^r - 2(-3) = \frac{25}{4} + 12 = \frac{25 + 48}{4} = \frac{73}{4}$$

$$x^2 - 4x + 1 = 0 \Rightarrow a = 1, b = -4, c = 1 \quad 56$$

$$\begin{cases} \alpha + \beta = -\frac{b}{a} = 4 \\ \alpha\beta = \frac{c}{a} = 1 \end{cases}$$

$$\Rightarrow \alpha^r + \frac{1}{\alpha} + \beta^r + \frac{1}{\beta} = (\alpha^r + \beta^r) + \left(\frac{1}{\alpha} + \frac{1}{\beta}\right)$$

$$= (\alpha + \beta)^r - r\alpha\beta + \frac{\alpha + \beta}{\alpha\beta} = 4^r - 2(1) + \frac{4}{1} = 16 - 2 + 4 = 18$$

$$x^2 - \sqrt{2}x - 3 = 0 \Rightarrow a = 1, b = -\sqrt{2}, c = -3 \quad 57 | آ$$

$$\begin{cases} \alpha + \beta = -\frac{b}{a} = \sqrt{2} \\ \alpha\beta = \frac{c}{a} = -3 \end{cases}$$

$$\frac{\alpha + \beta}{\alpha^r + \beta^r} = \frac{\alpha + \beta}{(\alpha + \beta)^r - r\alpha\beta} = \frac{\sqrt{2}}{(\sqrt{2})^r - 2(-3)} = \frac{\sqrt{2}}{2 + 6} = \frac{\sqrt{2}}{8}$$

$$x^2 - \sqrt{2}x - 3 = 0 \Rightarrow \alpha + \beta = \sqrt{2}, \alpha\beta = -3 \quad (ب)$$

$$\frac{\alpha^r + \beta^r}{\alpha + \beta} = \frac{(\alpha + \beta)^r - r\alpha\beta}{\alpha + \beta} = \frac{(\alpha + \beta)^r - r\alpha\beta}{\alpha + \beta}$$

$$= \sqrt{2}(\sqrt{2}^r - 3(-3)) = \sqrt{2}(2 + 9) = 11\sqrt{2}$$

۴۸

عبارت $(4 - x^2)$ تکرار شده و معادله را ترسناک کرده است پس شکل آن را عوض می‌کنیم تا معادله‌ی مهربان‌تری داشته باشیم:

$$4 - x^2 = t \Rightarrow t^2 - 2t - 15 = 0$$

$$\text{اتحاد جمله‌ی مشترک} \rightarrow (t - 5)(t + 3) = 0$$

$$\Rightarrow \begin{cases} t = 5 \Rightarrow 4 - x^2 = 5 \Rightarrow x^2 = -1 \Rightarrow \text{معادله ریشه ندارد.} \\ t = -3 \Rightarrow 4 - x^2 = -3 \Rightarrow x^2 = 7 \Rightarrow x = \pm\sqrt{7} \end{cases}$$

$$\frac{x^2}{2} - 1 = t \Rightarrow t^2 + t - 2 = 0 \Rightarrow (t + 2)(t - 1) = 0 \quad 49$$

$$\Rightarrow \begin{cases} t = -2 \Rightarrow \frac{x^2}{2} - 1 = -2 \Rightarrow \frac{x^2}{2} = -1 \Rightarrow x^2 = -2 \Rightarrow \text{ریشه ندارد.} \\ t = 1 \Rightarrow \frac{x^2}{2} - 1 = 1 \Rightarrow \frac{x^2}{2} = 2 \Rightarrow x^2 = 4 \Rightarrow x = \pm 2 \end{cases}$$

۵۰

رقعت کنید که اینجا $(x^2 - 1)^2$ تکرار شده‌ها !!! اون توان ۲ یار تون نره.

$$(x^2 - 1)^2 = t \Rightarrow t^2 + t - 2 = 0 \Rightarrow (t + 2)(t - 1) = 0$$

$$\Rightarrow \begin{cases} t = -2 \Rightarrow (x^2 - 1)^2 = -2 \Rightarrow \text{ریشه ندارد.} \\ t = 1 \Rightarrow (x^2 - 1)^2 = 1 \Rightarrow \begin{cases} x^2 - 1 = 1 \Rightarrow x^2 = 2 \Rightarrow x = \pm\sqrt{2} \\ x^2 - 1 = -1 \Rightarrow x^2 = 0 \Rightarrow x = 0 \end{cases} \end{cases}$$

$$\frac{x^2}{3} - 2 = t \Rightarrow t^2 - 11t + 10 = 0 \Rightarrow (t - 1)(t - 10) = 0 \quad 51$$

$$\Rightarrow \begin{cases} t = 1 \Rightarrow \frac{x^2}{3} - 2 = 1 \Rightarrow \frac{x^2}{3} = 3 \Rightarrow x^2 = 9 \Rightarrow x = \pm 3 \\ t = 10 \Rightarrow \frac{x^2}{3} - 2 = 10 \Rightarrow \frac{x^2}{3} = 12 \Rightarrow x^2 = 36 \Rightarrow x = \pm 6 \end{cases}$$

$$x^2 - 2x - 5 = 0 \Rightarrow a = 1, b = -2, c = -5 \quad 52$$

$$\begin{cases} \alpha + \beta = -\frac{b}{a} = \frac{-(-2)}{1} = 2 \\ \alpha\beta = \frac{c}{a} = \frac{-5}{1} = -5 \end{cases}$$

$$\frac{1}{\alpha} + \frac{1}{\beta} = \frac{\alpha + \beta}{\alpha\beta} = -\frac{2}{5}$$

$$2x^2 - 8x + 1 = 0 \Rightarrow a = 2, b = -8, c = 1 \quad 53$$

$$\begin{cases} \alpha + \beta = -\frac{b}{a} = \frac{-(-8)}{2} = 4 \\ \alpha\beta = \frac{c}{a} = \frac{1}{2} \end{cases}$$

$$\frac{1}{\alpha + 1} + \frac{1}{\beta + 1} = \frac{\beta + 1 + \alpha + 1}{(\alpha + 1)(\beta + 1)}$$

$$= \frac{(\alpha + \beta) + 2}{\alpha\beta + (\alpha + \beta) + 1} = \frac{4 + 2}{\frac{1}{2} + 4 + 1} = \frac{6}{\frac{11}{2}} = \frac{12}{11}$$

$$\Rightarrow \frac{r+m}{r} = \frac{m^r+1}{r} \Rightarrow m^r+1=r+m \Rightarrow m^r-m-r=0$$

$$\Rightarrow (m+1)(m-r)=0 \Rightarrow \begin{cases} m=-1 \Rightarrow x_r=1 \\ m=r \Rightarrow x_r=\frac{\Delta}{r} \end{cases}$$

$$x^r - \epsilon x + m = 0 \Rightarrow a=1, b=-\epsilon, c=m \quad | \quad 61$$

$$x_1 = x_r \Rightarrow \Delta = 0 \Rightarrow (-\epsilon)^2 - 4m = 0 \Rightarrow 2\epsilon = 4m \Rightarrow m = 9 \quad | \quad 62$$

$$x_1 + x_r = -\frac{b}{a} = \epsilon \xrightarrow{x_1=x_r+\epsilon} x_r + \epsilon + x_r = \epsilon \quad | \quad 63$$

$$\Rightarrow 2x_r + \epsilon = \epsilon \Rightarrow 2x_r = 0 \Rightarrow x_r = 0, x_1 = 0 + \epsilon = \epsilon$$

$$\Rightarrow x_1 x_r = \Delta \xrightarrow{x_1 x_r = \frac{c}{a}} \frac{m}{1} = \Delta \Rightarrow m = \Delta$$

$$x_1 + x_r = \epsilon \xrightarrow{x_1 = \Delta x_r} \Delta x_r + x_r = \epsilon \Rightarrow \epsilon x_r = \epsilon \quad | \quad 64$$

$$\Rightarrow x_r = 1 \Rightarrow x_1 = \Delta \Rightarrow x_1 x_r = \Delta \Rightarrow m = \Delta$$

$$x_1 = \frac{1}{x_r} \Rightarrow x_1 x_r = 1 \Rightarrow \frac{c}{a} = 1 \Rightarrow \frac{f}{k} = 1 \Rightarrow k = f \quad | \quad 65$$

$$x_1 = \frac{-1}{x_r} \Rightarrow x_1 x_r = -1 \Rightarrow \frac{c}{a} = -1 \Rightarrow \frac{f}{k} = -1 \Rightarrow k = -f \quad | \quad 66$$

$$x_1 = 3x_r \quad (*) \quad | \quad 67$$

$$\begin{cases} x_1 + x_r = -\frac{b}{a} = \frac{f}{m} \xrightarrow{(*)} 3x_r + x_r = \frac{f}{m} \\ \Rightarrow 4x_r = \frac{f}{m} \Rightarrow x_r = \frac{1}{m} \end{cases}$$

$$\Rightarrow 4x_r = \frac{f}{m} \Rightarrow x_r = \frac{1}{m}$$

$$\begin{cases} x_1 x_r = \frac{c}{a} = \frac{1}{m} \xrightarrow{(*)} (3x_r)(x_r) = \frac{1}{m} \Rightarrow 3x_r^2 = \frac{1}{m} \end{cases}$$

$$\Rightarrow 3\left(\frac{1}{m}\right)^2 = \frac{1}{m} \Rightarrow \frac{1}{m} \left(3\left(\frac{1}{m}\right) - 1\right) = 0 \Rightarrow \begin{cases} \frac{1}{m} = 0 \\ \frac{3}{m} - 1 = 0 \Rightarrow m = 3 \end{cases}$$

$$x_1 = x_r + 2 \quad (*) \quad | \quad 68$$

$$x_1 + x_r = -\frac{b}{a} = -\frac{-\lambda}{r} = \frac{\lambda}{r} \xrightarrow{(*)} x_r + 2 + x_r = \frac{\lambda}{r} \Rightarrow 2x_r + 2 = \frac{\lambda}{r}$$

$$\Rightarrow 2x_r = \frac{\lambda}{r} - 2 \Rightarrow x_r = \frac{\lambda}{2r} - 1 \Rightarrow x_1 = \frac{\lambda}{2r} - 1 + 2 = \frac{\lambda}{2r} + 1$$

$$x_1 x_r = \frac{c}{a} \Rightarrow 2\left(\frac{\lambda}{2r} + 1\right) \left(\frac{\lambda}{2r} - 1\right) = \frac{m}{r} \Rightarrow m = 2 \times \frac{\lambda}{2r} - 2 = \frac{\lambda}{r} - 2$$

$$x^r + mx - r = 0 \Rightarrow \alpha + \beta = -m, \alpha\beta = -r \quad | \quad 69$$

از طرفی داریم:

$$r\alpha + \beta = r \Rightarrow \alpha + (\alpha + \beta) = r \Rightarrow \alpha - m = r \Rightarrow \alpha = r + m$$

$$\Rightarrow \beta = r - 2\alpha = r - 2(r + m) = r - 2r - 2m = -r - 2m$$

$$\alpha\beta = -r \Rightarrow (r + m)(-r - 2m) = -r$$

$$\Rightarrow -r - 2m - 2mr - 2m^2 = -r \Rightarrow 2m^2 + 2mr + 2m = 0$$

$$x^r - rx + f = 0$$

| 58

$$\begin{cases} \alpha + \beta = -\frac{b}{a} = r \\ \alpha\beta = \frac{c}{a} = f \end{cases}$$

$$\alpha\sqrt{\beta} + \beta\sqrt{\alpha} = \sqrt{\alpha}\sqrt{\beta}(\sqrt{\alpha} + \sqrt{\beta}) = \sqrt{\alpha\beta}(\sqrt{\alpha} + \sqrt{\beta})$$

بنابراین باید $\sqrt{\alpha} + \sqrt{\beta}$ را محاسبه کنیم.

برای این که رادیکال‌ها از بین بره چاره‌ای جز به توان رسوند نداریم:

$$(\sqrt{\alpha} + \sqrt{\beta})^2 = \alpha + \beta + 2\sqrt{\alpha\beta} = r + 2\sqrt{f} = r + 2(r) = 4r$$

$$\sqrt{\alpha} + \sqrt{\beta} > 0 \rightarrow \sqrt{\alpha} + \sqrt{\beta} = \sqrt{4r}$$

در نتیجه داریم:

$$\alpha\sqrt{\beta} + \beta\sqrt{\alpha} = \sqrt{\alpha\beta}(\sqrt{\alpha} + \sqrt{\beta}) = \sqrt{f}(\sqrt{4r}) = 2\sqrt{fr}$$

| 59 روش اول

$$2x^2 - mx - r = 0 \Rightarrow \begin{cases} x_1 + x_r = \frac{-(-m)}{2} = \frac{m}{2} \\ x_1 x_r = \frac{-r}{2} = -1 \end{cases}$$

$$\xrightarrow{x_1=r} \begin{cases} r + x_r = \frac{m}{2} \\ 2x_r = -1 \Rightarrow x_r = -\frac{1}{2} \end{cases}$$

$$\Rightarrow r + \left(-\frac{1}{2}\right) = \frac{m}{2} \Rightarrow \frac{m}{2} = \frac{r}{2} \Rightarrow m = r$$

روش دوم ریشه معادله در معادله صدق می‌کند:

$$2x^2 - mx - r = 0 \xrightarrow{x=r} 2(r)^2 - m(r) - r = 0$$

$$\Rightarrow 8 - 2m - r = 0$$

$$\Rightarrow 2m = 6 \Rightarrow m = 3$$

با جای‌گذاری $m=3$ در معادله داریم:

$$2x^2 - 3x - 2 = 0$$

$$\Delta = (-3)^2 - 4(2)(-2) = 9 + 16 = 25 \Rightarrow x = \frac{-(-3) \pm \sqrt{25}}{2(2)}$$

$$\Rightarrow \begin{cases} x_1 = \frac{3+5}{4} = \frac{8}{4} = 2 \\ x_r = \frac{3-5}{4} = \frac{-2}{4} = -\frac{1}{2} \end{cases}$$

| 60

$$2x^2 - (m+1)x - (m^2+1) = 0 \Rightarrow \begin{cases} x_1 + x_r = \frac{m+1}{2} \\ x_1 x_r = -\frac{m^2+1}{2} \end{cases}$$

$$\xrightarrow{x_1=-1} \begin{cases} -1 + x_r = \frac{m+1}{2} \Rightarrow x_r = 1 + \frac{m+1}{2} = \frac{r+m}{2} \\ -x_r = -\frac{m^2+1}{2} \Rightarrow x_r = \frac{m^2+1}{2} \end{cases}$$

۷۱ | اگر ریشه‌های معادله $ax^2 + bx + c = 0$ را α و β بگیریم:

$$\alpha, \beta = \frac{-b \pm \sqrt{\Delta}}{2a}, \Delta = b^2 - 4ac$$

از طرفی ریشه‌های معادله $cx^2 + bx + a = 0$ عبارتند از:

$$\Delta = b^2 - 4ac \Rightarrow x = \frac{-b \pm \sqrt{\Delta}}{2c} = \frac{-b \pm \sqrt{\Delta}}{2a} \cdot \frac{2a}{2a} = \frac{-b \pm \sqrt{\Delta}}{2a} \cdot \frac{2a}{c} = \frac{-b \pm \sqrt{\Delta}}{c}$$

$$\Rightarrow \begin{cases} x_1 = \frac{\alpha}{c} = \frac{\alpha}{\alpha\beta} = \frac{1}{\beta} \\ x_2 = \frac{\beta}{c} = \frac{\beta}{\alpha\beta} = \frac{1}{\alpha} \end{cases}$$

$$\begin{cases} S = x_1 + x_2 = \frac{1}{\alpha} + \frac{1}{\beta} \\ P = x_1 x_2 = \frac{1}{\alpha\beta} \end{cases} \xrightarrow{\text{تشکیل معادله}} x^2 - \frac{1}{\alpha\beta}x - \frac{\alpha + \beta}{\alpha\beta} = 0$$

$$\xrightarrow{\times 18} 18x^2 - 9x - 5 = 0$$

$$\Delta = 81 + 4(18)(5) = 81 + 360 = 441 = 21^2$$

$$\Rightarrow x = \frac{-(-9) \pm \sqrt{441}}{2(18)} = \frac{9 \pm 21}{36} = \begin{cases} \frac{30}{36} = \frac{5}{6} \\ \frac{-12}{36} = \frac{-1}{3} \end{cases}$$

$$x^2 + x - 5 = 0$$

معادله ۲ ریشه دارد. $\Delta = 1 - 4(1)(-5) = 21 > 0$

$$P = \frac{c}{a} = -5 < 0 \Rightarrow \text{۲ ریشه، هم علامت نیستند.}$$

قدرمطلق ریشه منفی، از ریشه مثبت بزرگ تر است. $S = -\frac{b}{a} = -1 < 0$

$$3x^2 - x - 4 = 0 \xrightarrow{\Delta = (-1)^2 - 4(3)(-4) = 49 > 0, P = -\frac{4}{3} < 0} \text{دو ریشه هم علامت نیستند.}$$

قدرمطلق ریشه منفی، کوچک تر از ریشه مثبت است. $S = \frac{1}{3} > 0$

$$4x^2 + \frac{1}{4} = 2x \Rightarrow 4x^2 - 2x + \frac{1}{4} = 0$$

$$\begin{cases} \Delta = (-2)^2 - 4(4)(\frac{1}{4}) = 0 \Rightarrow \text{معادله دو ریشه برابر دارد (ریشه مضاعف).} \\ S = \frac{1}{4} > 0 \Rightarrow \text{ریشه مضاعف مثبت است.} \end{cases}$$

$$-x^2 + 6x - 3 = 0 \xrightarrow{\Delta = 6^2 - 4(-1)(-3) = 24 > 0, P = \frac{-3}{-1} > 0} \text{دو ریشه هم علامت دارد.}$$

هر دو ریشه مثبت هستند. $S = \frac{-6}{-1} = 6 > 0$

$$\Delta = 144 - 4(2)(13) = 144 - 104 = 40$$

$$\Rightarrow m = \frac{-12 \pm \sqrt{40}}{2(2)} = \frac{2(-6 \pm \sqrt{10})}{4} = \frac{-6 \pm \sqrt{10}}{2}$$

$$x^2 - (a+2)x + a+1 = 0 \Rightarrow \alpha + \beta = a+2, \alpha\beta = a+1$$

$$\frac{\beta+1+\alpha+1}{(\alpha+1)(\beta+1)} = \frac{5}{6} \Rightarrow \frac{\alpha+\beta+2}{\alpha\beta+(\alpha+\beta)+1} = \frac{5}{6}$$

$$\Rightarrow \frac{a+2+2}{a+1+a+2+1} = \frac{5}{6} \Rightarrow \frac{a+4}{2a+4} = \frac{5}{6}$$

$$\xrightarrow{\text{طرفین وسطین}} 6(a+4) = 5(2a+4) \Rightarrow 6a+24 = 10a+20$$

$$\Rightarrow 10a - 6a = 24 - 20 \Rightarrow 4a = 4 \Rightarrow a = 1$$

$$x^2 - 3mx + 4 = 0 \Rightarrow \alpha + \beta = 3m, \alpha\beta = 4$$

$$\alpha\beta^2 + 4 = 0 \Rightarrow (\alpha\beta)\beta + 4 = 0 \Rightarrow 4\beta + 4 = 0 \Rightarrow 4\beta = -4$$

$$\Rightarrow \beta = -1 \xrightarrow{\alpha\beta=4} -\alpha = 4 \Rightarrow \alpha = -4$$

بنابراین داریم:

$$\Rightarrow \alpha + \beta = -4 - 1 = -5 \Rightarrow m = \frac{-5}{3}$$

$$(x - \frac{\alpha}{1+\sqrt{2}})(x - \frac{\beta}{1-\sqrt{2}}) = 0$$

$$\Rightarrow (x-1-\sqrt{2})(x-1+\sqrt{2}) = 0 \xrightarrow{\text{اتحاد مزدوج}} (x-1)^2 - \sqrt{2}^2 = 0$$

$$\Rightarrow x^2 - 2x + 1 - 2 = 0 \Rightarrow x^2 - 2x - 1 = 0$$

$$S = \alpha + \beta = (1+\sqrt{2}) + (1-\sqrt{2}) = 2$$

$$P = \alpha\beta = (1+\sqrt{2})(1-\sqrt{2}) = 1-2 = -1$$

$$x^2 - Sx + P = 0 \Rightarrow x^2 - 2x - 1 = 0$$

$$4x^2 - 5x - 5 = 0 \Rightarrow \alpha + \beta = \frac{-(-5)}{4} = \frac{5}{4}, \alpha\beta = \frac{-5}{4}$$

$$S = 2\alpha + 2\beta = 2(\alpha + \beta) = 2(\frac{5}{4}) = \frac{5}{2}$$

$$P = (2\alpha)(2\beta) = 4\alpha\beta = 4(\frac{-5}{4}) = -5$$

$$x^2 - Sx + P = 0 \Rightarrow x^2 - \frac{5}{2}x - 5 = 0$$

$$x^2 - 2x - 1 = 0 \Rightarrow \alpha + \beta = 2, \alpha\beta = -1$$

$$S = \frac{1}{\alpha+1} + \frac{1}{\beta+1} = \frac{\beta+1+\alpha+1}{(\alpha+1)(\beta+1)} = \frac{(\alpha+\beta)+2}{\alpha\beta+(\alpha+\beta)+1}$$

$$\frac{\alpha+\beta=2}{\alpha\beta=-1} \Rightarrow \frac{2+2}{-1+2+1} = \frac{4}{2} = 2$$

$$P = (\frac{1}{\alpha+1})(\frac{1}{\beta+1}) = \frac{1}{\alpha\beta+\alpha+\beta+1} = \frac{1}{-1+2+1} = \frac{1}{2}$$

$$x^2 - Sx + P = 0 \Rightarrow x^2 - 2x + \frac{1}{2} = 0$$

3

بخش



نمونه سؤال امتحانی

آزمون ۱

آزمون نوبت اول

ساعت شروع: ۸ صبح



ردیف

سؤالات امتحانی

نمره

۲/۵	۱	<p>آ) مجموع جملات نامنفی دنباله حسابی $102,96,90,84,78,72,66,60,54,48,42,36,30,24,18,12,6,0$ را بیابید.</p> <p>ب) تویی را از ارتفاع ۱۰ متری به پایین پرتاب می‌کنیم. این توپ پس از هر بار زمین خوردن، نصف ارتفاع قبلی اش به طور عمودی بالا می‌آید. این توپ تا ششمین برخورد با زمین چه مسافتی را طی می‌کند؟</p>
۲	۲	<p>نمودار مقابل مربوط به سهمی $y = ax^2 + bx + c$ می‌باشد.</p> <p>آ) مقادیر a، b و c را بیابید.</p> <p>ب) صفرهای تابع را به دست آورید.</p>
۲/۲۵	۳	<p>مجموعه جواب هر یک از معادلات زیر را بیابید.</p> <p>آ) $\sqrt{2x+1} - 2\sqrt{x+1} - 1 = 0$</p> <p>ب) $\frac{1}{x} - \frac{x}{x-1} = \frac{2x+1}{x^2-x}$</p>
۲	۴	<p>به کمک رسم نمودار، برد تابع $y = x+1 - x-1$ را بیابید، سپس محل تلاقی نمودار تابع و خطوط $y = 0$ و $y = 5$ را به دست آورید.</p>
۱/۷۵	۵	<p>فاصله نقطه $A(1, -1)$ از خط $d: 2x - y + a = 0$ برابر با $\sqrt{5}$ است. مساحت مثلثی که خط d با محورهای مختصات در ربع دوم می‌سازد را بیابید.</p>
۱/۵	۶	<p>دامنه هر یک از توابع زیر را بیابید.</p> <p>آ) $y = \frac{\sqrt{x^2+2}}{2x^2-5x+3}$</p> <p>ب) $y = \sqrt{x-1} + \sqrt{2-x}$</p>
۲/۵	۷	<p>نمودار تابع $y = 1 + [2x]$ را در بازه $[-1, 2]$ رسم کنید و برد آن را بیابید.</p>
۲	۸	<p>کدام یک از توابع زیر وارون پذیر است؟ ضابطه تابع وارون آن را بیابید.</p> <p>آ) $y = \begin{cases} \sqrt{x} & x \geq 0 \\ \sqrt{-x} & x < 0 \end{cases}$</p> <p>ب) $y = \begin{cases} x^2 & x \geq 0 \\ -1+x & x < 0 \end{cases}$</p>
۱/۵	۹	<p>اگر $f = \{(1, -1), (2, 1), (3, 2), (4, 5)\}$ و $g = \{(-1, 0), (1, 1), (2, 3), (4, 2)\}$ باشد، توابع $f+g$ و $f \circ g$ را تعیین کنید.</p>
۲	۱۰	<p>نمودار $y = 2^{-x}$ را در یک دستگاه مختصات رسم کنید.</p> <p>سپس تعیین کنید طول نقطه برخورد این نمودار با خطوط $y = \frac{1}{3}$ و $y = \frac{5}{4}$ بین کدام دو عدد صحیح قرار دارد؟</p>
۲۰		<p>★ موفق و مؤید باشید. ★</p>



ساعت شروع: ۸ صبح

آزمون نوبت اول

آزمون ۲

ردیف

سؤالات امتحانی

نمره

۲	۱	<p>آ) حاصل عبارت $t^7 + t^6 + t^5 + \dots + t + 1$ را به ازای $t = 2\sqrt{3}$ بیابید.</p> <p>ب) حداقل چند جمله از دنباله حسابی $2, 6, 10, \dots$ را جمع کنیم تا حاصل بزرگ‌تر از ۲۰۰ گردد؟</p>
۲	۲	<p>در معادله درجه دوم $3x^2 - 12x + k = 0$، یکی از ریشه‌ها ۲ واحد بزرگ‌تر از ریشه دیگر است. ریشه‌ها و مقدار k را بیابید.</p>