

درس‌نامه + پرسش‌های چهارگزینه‌ای + آزمون

ویندوز ۱۲

# فیزیک جامع

ویراست سوم

رضا خالو، امیرعلی میری

رشته  
ریاضی

$$\begin{cases} a = g \\ F_N = 0 \end{cases}$$



جلد اول

انتشارات  
گنگو

## پیشگفتار

### به نام خدا

سلام

همکاران گرامی و دانش آموزان عزیز

به دنیای پنجمه‌های کتاب فیزیک ۳ (ویندوز ۱۲) خوش آمدید.

پس از انتشار کتاب جامع فیزیک پایه (ویندوز ۱۰ و ۱۱) به این نتیجه رسیدیم که کتاب فیزیک ۳ (نوازدهم) را با همان شکل و شمایل تحت عنوان ویندوز ۱۲ ویرایش و منتشر کنیم.

کتاب دو جلدی است. یک جلد شامل درسنامه و تست‌ها و جلد دوم پاسخ نامه کاملاً تشریحی اما حکایت پنجمه‌ها چیست؟

هر فصل به پنج پنجمه و هر پنجمه به زیرموضوع‌هایی به نام «نما» که دارای شماره و عنوان است تقسیم شده است. در هر پنجمه ابتدا درسنامه و سپس تست‌های همان پنجمه آورده شده است.


۱) **درسنامه:** در این کتاب با یک درسنامه کامل و جامع روبه‌رو هستید که در آن تمام نکات درسی در قالب مسئله‌های تشریحی و به همراه تست‌های مربوط به آن نکات به صورت طبقه‌بندی شده در نماهای مختلف ارائه شده است.

۲) **تست‌ها:** تست‌ها بخش مهم کتاب را تشکیل می‌دهند که شامل تست‌های کنکور، تست‌های برگرفته از کتاب درسی و تست‌های تألیفی هستند.

الف- چینی تست‌ها در هر «نما» از ساده به سخت بوده تا بتوانید گام به گام پیش رفته و پله پله مهارتتان را بالا ببرید.

ب- معمولاً دانش آموزان در ابتدا بدون مطالعه درسنامه به سراغ حل تست‌ها می‌روند. اگر چنین کردید و در تست‌هایی دچار مشکل شدید برای رجوع به درسنامه و یادگیری بهتر کافی است به سراغ همان شماره «نما» در درسنامه بروید.

پ- برای مرور سریع تست‌ها حدود ۳۰٪ آن‌ها را با لوگوی  مشخص کرده ایم.

ت- در کنار بعضی از تست‌ها لوگوی  مشاهده می‌کنید. در پاسخ این تست‌ها، یک تست اضافی تحت عنوان «بازی با سوال» قرار دارد که شما با حل آن می‌توانید اطمینان پیدا کنید که تست مورد نظر را یاد گرفته‌اید.

ث- پنجمه روبه‌رو (آزمونک) - پنجمه تودرتو (آزمون فصل)

در آزمون‌هایی که شما خواهید دید، تست‌ها طبقه‌بندی ندارند و این شما هستید که باید موضوع تست را تشخیص دهید. به همین دلیل بین هر دو پنجمه پشت سر هم یک بخش به نام پنجمه روبه‌رو یا آزمونک و در انتهای هر فصل یک بخش به نام پنجمه تودرتو به عنوان آزمون فصل قرار دارد که در آن‌ها خبری از طبقه‌بندی تست‌ها نیست و تست‌ها ترتیب مشخص ندارند و در واقع شما یک کتاب با تست‌های ریز طبقه‌بندی و یک مینی کتاب با تست‌های درهم و برهم در اختیار دارید.

ج- پنجمه روبه‌گذشته: در این پنجمه مسائل ترکیبی دینامیک و حرکت شناسی با کمر و انرژی جنبشی ارائه شده است.



اما جلد دوم یا جلد پاسخنامه<sup>۱</sup>

تمام زحماتی که شما و ما در درسهام و تته‌ها کشیده‌ایم، در جلد ۲ به سرانجام می‌رسد. به قول معروف شاهنامه  
آخرش خوش است. برای همین سعی کردیم در این قسمت کامل‌ترین و بهترین پاسخ‌ها ارائه  
شود.

به سراغ ویژگی‌های جلد دوم برویم.

**خط فکری:** بارها شما از ما سرگشس پرسیده‌اید که چرا این مسئله از این راه حل شده یا چرا از این فرمول  
استفاده می‌کنیم؟ برای پاسخ به این نیز شما، خط فکری ارائه شده تا با خواندن آن شما استراتژی  
حل مسئله را بدست بیاورید. بنابراین اگر تته را حل نکرده‌اید، پیشنهاد می‌کنیم که ابتدا خط فکری آن را  
بخوانید و سعی کنید مسئله را حل کنید. در بیشتر تته‌ها با خواندن خط فکری مشکل شما در حل مسئله برطرف  
خواهد شد.

**نکته:** مطالب مهم و مطالبی که باید به آن دقت کنید را تحت عنوان «نکته» آورده‌ایم تا از چشم شما دور نماند.  
**یادآوری:** اگر در حل یک تته نیز به مطلبی باشد که قبلاً بیان شده، برای راحتی شما آن مطلب را دوباره  
بیان کرده‌ایم.

**یادداشت ریاضی:** گاهی در حل تته شما به یک مطلب ریاضی نیاز دارید که ممکن است آن را به خاطر نداشته  
باشید از این رو آن مطلب و یا اثبات آن را برای شما آورده‌ایم.

**میان‌بر:** بعد از حل تشریحی و کامل تته در آخر بعضی از تته‌ها برای سرعت بخشیدن به حل تته  
راه حل‌های کوتاه با تکیه بر فیزیک و ریاضی ارائه شده است.

**بازی با سوال:** در برخی از تته‌ها، همان تته به نوع دیگری بیان شده تا اگر شما تته مورد نظر را حل  
نکرده‌اید، بعد از مطالعه پاسخ، بازی با سوال را حل کرده و با پاسخ ارائه شده مقایسه کنید.

**پاسخ پینجه‌های روبه‌رو و تودرتو:** در پاسخ این تته‌ها، شماره «نمای» مربوط به آن تته ارائه شده تا شما  
متوجه شوید این تته مربوط به چه موضوعی است و درسهام آن کجاست.

در آخر باید بگوییم که پاسخ همه تته‌ها به صورت گام به گام انجام شده تا پله پله با هم تته را به طور کامل  
حل کرده و یاد بگیریم.

در پایان لازم است از تلاش صمیمانه کارکنان نشر آلو پیگناری کنیم، در واحد ویرایش خانم‌ها  
زهره نوری و زهرا امیدوار و محسن شعبان شمیرانی. همچنین آقای عرفان شاهین پور که ویرایش  
این کتاب بجز یاری ایشان امکان پذیر نبود. در واحد حروف چینی از خانم فاضله محسنی و همچنین خانم  
سکینه مختار مدیر واحد فنی و ویرایش و نیز از همکارانی که نظرات اصلاحی داده‌اند، آقایان علی حیرودی و  
وحید کرابی قدردانی می‌کنیم.

رضا خالو - امیرعلی میری

Date modified	Name	Date modified	Name
			<b>فصل اول</b>
۲۴۳	پنجره چهار روبه‌روی پنج		پنجره اول: مفهوم جابه‌جایی - مکان - مسافت -
۲۴۴	پنجره تودرتو		سرعت متوسط - تندی متوسط
۲۴۶	پنجره‌ای روبه‌گذشته	۲	درس‌نامه
	<b>فصل سوم</b>	۱۴	پرسش‌های چهار گزینه‌ای
	پنجره اول: مفاهیم اولیه		پنجره دوم: سرعت ثابت، شتاب متوسط، نمودار
۲۵۲	درس‌نامه		سرعت - زمان
۲۶۵	پرسش‌های چهار گزینه‌ای	۲۹	درس‌نامه
	پنجره دوم: سامانه جرم - فنر، آونگ		پرسش‌های چهار گزینه‌ای
۲۷۶	درس‌نامه	۴۰	پنجره یک روبه‌روی دو
۲۸۲	پرسش‌های چهار گزینه‌ای	۵۴	پنجره سوم: حرکت با شتاب ثابت روی خط راست
۲۹۱	پنجره یک روبه‌روی دو		درس‌نامه
	پنجره سوم: سرعت - شتاب - انرژی -	۵۶	پرسش‌های چهار گزینه‌ای
	تشدید نوسانگر	۷۴	پنجره دو روبه‌روی سه
۲۹۲	درس‌نامه		پنجره چهارم: بررسی نمودارهای حرکت
۳۰۰	پرسش‌های چهار گزینه‌ای		روی خط راست
۳۱۳	پنجره دو روبه‌روی سه	۹۳	درس‌نامه
	پنجره چهارم: موج و انواع آن		پرسش‌های چهار گزینه‌ای
۳۱۴	درس‌نامه	۱۰۳	پنجره سه روبه‌روی چهار
۳۲۹	پرسش‌های چهار گزینه‌ای		پنجره پنجم: سقوط آزاد
۳۴۶	پنجره سه روبه‌روی چهار		درس‌نامه
	پنجره پنجم: موج طولی و مشخصه‌های آن	۱۲۰	پرسش‌های چهار گزینه‌ای
۳۴۸	درس‌نامه	۱۲۵	پنجره چهار روبه‌روی پنج
۳۵۶	پرسش‌های چهار گزینه‌ای		پنجره تودرتو
۳۶۹	پنجره چهار روبه‌روی پنج	۱۳۳	<b>فصل دوم</b>
۳۷۰	پنجره تودرتو		پنجره اول: قانون‌های حرکت (قانون‌های نیوتون)
	<b>فصل چهارم</b>		درس‌نامه
	پنجره اول: بازتاب	۱۳۸	پرسش‌های چهار گزینه‌ای
۳۷۴	درس‌نامه		پنجره دوم: نیروهای خاص (نیروی وزن،
۳۷۹	پرسش‌های چهار گزینه‌ای		مقاومت شاره،
	پنجره دوم: شکست		کشش نخ، کشسانی فنر و نیروی عمودی سطح)
۳۸۷	درس‌نامه	۱۵۳	درس‌نامه
۳۹۷	پرسش‌های چهار گزینه‌ای		پرسش‌های چهار گزینه‌ای
۴۱۰	پنجره یک روبه‌روی دو	۱۶۲	پنجره یک روبه‌روی دو
	پنجره سوم: پراش - تداخل		پنجره سوم: نیروی اصطکاک، تعادل، کشش
۴۱۲	درس‌نامه		در راستای قائم، آسانسور
۴۱۹	پرسش‌های چهار گزینه‌ای	۱۷۳	درس‌نامه
۴۲۸	پنجره دو روبه‌روی سه		پرسش‌های چهار گزینه‌ای
	پنجره چهارم: برهم‌کنش‌های موج	۱۸۵	پنجره دو روبه‌روی سه
۴۲۹	درس‌نامه		پنجره چهارم: تکانه
۴۳۶	پرسش‌های چهار گزینه‌ای	۲۰۴	درس‌نامه
۴۴۵	پنجره سه روبه‌روی چهار		پرسش‌های چهار گزینه‌ای
	پنجره پنجم: تشکیل موج ایستاده در امواج	۲۰۵	پنجره سه روبه‌روی چهار
	صوتی و امواج الکترومغناطیسی	۲۱۱	پنجره پنجم: سینماتیک حرکت دایره‌ای
۴۴۶	درس‌نامه		درس‌نامه
۴۴۸	پرسش‌های چهار گزینه‌ای	۲۱۸	پنجره سه روبه‌روی چهار
۴۵۱	پنجره تودرتو		پنجره پنجم: سینماتیک حرکت دایره‌ای
		۲۱۹	درس‌نامه
		۲۳۱	پرسش‌های چهار گزینه‌ای

Drive Tools BOOTCAMP (C:)

File Home Share View Manage

فهرست > فیزیک دوازدهم > فیزیک ۳ جامع ریاضی (الگو) Search BOO...

Date modified	Name	Date modified	Name
	فصل ششم		فصل پنجم
	پنجره اول: ساختار هسته - نیروی هسته‌ای - انرژی بستگی هسته‌ای		پنجره اول: پدیده فوتوالکتریک
۴۹۸	درس‌نامه	۴۵۶	درس‌نامه
۵۰۱	پرسش‌های چهار گزینه‌ای	۴۶۱	پرسش‌های چهار گزینه‌ای
۵۰۵	پنجره دوم: پرتوهای طبیعی		پنجره دوم: طیف خطی
۵۰۷	درس‌نامه	۴۷۱	درس‌نامه
۵۱۲	پرسش‌های چهار گزینه‌ای	۴۷۴	پرسش‌های چهار گزینه‌ای
	پنجره یک روبه‌روی دو	۴۷۷	پنجره یک روبه‌روی دو
۵۱۳	پنجره سوم: نیمه‌عمر		پنجره سوم: مدل‌های اتمی
۵۱۵	درس‌نامه	۴۷۸	درس‌نامه
۵۱۸	پرسش‌های چهار گزینه‌ای	۴۸۳	پرسش‌های چهار گزینه‌ای
	پنجره دو روبه‌روی سه	۴۸۹	پنجره دو روبه‌روی سه
۵۱۹	پنجره چهارم: شکافت هسته‌ای - گداخت هسته‌ای		پنجره چهارم: لیزر
۵۲۱	درس‌نامه	۴۹۱	درس‌نامه
۵۲۴	پرسش‌های چهار گزینه‌ای	۴۹۳	پرسش‌های چهار گزینه‌ای
	پنجره تودرتو	۴۹۴	پنجره تودرتو

## یجره اول

### مفهوم جابه‌جایی - مکان - مسافت - سرعت متوسط - تندی متوسط

یادم می‌آید سر کلاس درس از دانش‌آموزان پرسیدم «یک جسم ساکن مثال بزنید»، در پاسخ، بعضی از شاگردان تخته سیاه و یا میز جلویشان را مثال زدند. پرسیدم «حالا بگویید که فاصله شما از سطح زمین چقدر است؟» تقریباً همه پاسخ دادند «صفر». پرسیدم در پاسخ پرسش اول من آیا به این توجه کرده‌اید که این میز و تخته سیاه به همراه کره زمین به دور خورشید می‌چرخند؟ آیا اصولاً می‌توانید جسم ساکنی را در جهان پیرامون خود مشخص کنید؟ چرا تخته سیاه یا میز را ساکن در نظر گرفتید؟ یکی از دانش‌آموزان گفت: «چون اون‌ها رو نسبت به خودمون سنجیدیم». گفتم پس برای بررسی سکون و حرکت جسم معمولاً آن را با یک مبدأ اختیاری مقایسه می‌کنیم که معمولاً خود را مبدأ می‌گیریم. سپس گفتم این مدرسه دو طبقه است و ما در طبقه دوم آن قرار داریم و وقتی من سؤال کردم که فاصله شما از زمین چقدر است پاسخ دادید «صفر». در واقع شما مجدداً برای آن که مکان خود را اعلام کنید، محل قرار گرفتن خود را مبدأ در نظر گرفتید و چنانچه کف طبقه اول را مبدأ می‌گرفتید، پاسخ شما تغییر می‌کرد یعنی برای بیان مکان یک جسم، آن را نسبت به یک مبدأ می‌سنجیم.

بعد با هم به این نتیجه رسیدیم که در بررسی سکون و حرکت و مکان هر جسم به یک مبدأ مقایسه نیاز داریم. قبل از اینکه بخواهیم درس این فصل را آغاز کنیم لازم است دو مفهوم کمیت نرده‌ای و برداری را یادآوری کنیم.

#### کمیت برداری

کمیت‌هایی که علاوه بر عدد و یکا برای بیان کردن آن‌ها به جهت هم نیاز است. به‌طور مثال اگر به شما بگویم که از در کلاس ۳m فاصله بگیر شما خواهید گفت به کدام سمت؟ به سمت داخل کلاس، خارج کلاس یا ...؟ پس برای مکان جهت هم مهم است.

#### کمیت نرده‌ای

کمیت‌هایی که برای بیان تنها به عدد و یکای مناسب نیاز دارند. به‌طور مثال برای بیان زمان تنها باید یک عدد و یکا استفاده شود.

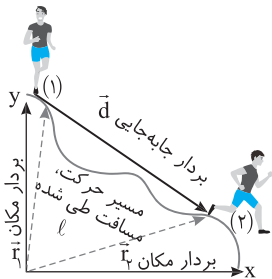
## نمای ۱ مفهوم مکان، مسافت و جابه‌جایی

مسافت: طول مسیری که متحرک طی می‌کند را مسافت گویند. این کمیت نرده‌ای بوده و مقدار آن همواره مثبت است. یکای مسافت در SI متر است.

بردار جابه‌جایی: به برداری که مکان اولیه متحرک را به مکان ثانویه متحرک وصل می‌کند، بردار جابه‌جایی گویند که یکای SI آن متر است.

بردار مکان: مکان یک جسم یک کمیت برداری است که توسط برداری نمایش داده می‌شود که مبدأ اختیاری (مبدأ مختصات) را به محل جسم وصل می‌کند. یکای بردار مکان در SI متر است.

به‌طور مثال در شکل زیر، بردارهای  $\vec{r}_1$  و  $\vec{r}_2$  بردار مکان متحرک در مکان‌های (۱) و (۲) است و  $\vec{d}$  بردار جابه‌جایی است و طول مسیر  $l$  مسافت طی شده است.



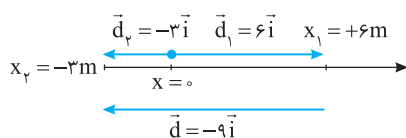
**نکته ۱** بردار جابه‌جایی برابر تفاضل بردار مکان نهایی و بردار مکان ابتدایی است:

$$\vec{d} = \vec{r}_2 - \vec{r}_1$$

**۲** بردار مکان با تغییر مبدأ مکان اختیاری، تغییر می‌کند اما بردار جابه‌جایی ثابت است.

**مسئله ۱** خودرویی روی محور Xها حرکت می‌کند. این خودرو در مبدأ زمان ( $t_1 = 0$ ) در مکان  $x_1 = +6\text{m}$  و در لحظه  $t_2$  در مکان

$x_2 = -3\text{m}$  قرار دارد. بردارهای مکان در  $t_1$  و  $t_2$  و بردار جابه‌جایی را در بازه  $t_1$  تا  $t_2$  رسم کنید.



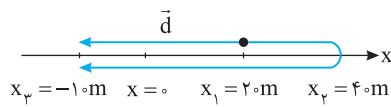
**راه‌حل** محور Xها را رسم کرده و مبدأ مکان (حرکت) را مشخص می‌کنیم. بردارهای  $\vec{d}_1$  و  $\vec{d}_2$  بردارهای مکان در لحظه  $t_1$  و  $t_2$  و بردار  $\vec{d} = -9\vec{i}$  بردار جابه‌جایی است.

**نکته ۱** برای یک متحرک همواره مسافت طی شده ( $l$ ) از اندازه جابه‌جایی ( $|\vec{d}|$ ) بزرگ‌تر و یا با آن برابر است:  $|\vec{d}| \leq l$

**۲** زمانی که متحرک روی خط راست در حرکت باشد و جهت حرکت آن تغییر نکند، مسافت طی شده و اندازه جابه‌جایی با هم برابر است.  $|\vec{d}| = l$

**۳** اگر متحرک روی محور Xها از مکان  $\bar{x}_1$  به مکان  $\bar{x}_2$  برود، جابه‌جایی آن برابر است با:  $\Delta \bar{x} = \bar{x}_2 - \bar{x}_1$

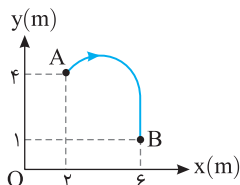
**مسئله ۲** دانش‌آموزی روی محور Xها ابتدا از مکان  $+20\text{ m}$  به مکان  $+40\text{ m}$  می‌رود، سپس به مکان  $-10\text{ m}$  برمی‌گردد. مسافت طی‌شده توسط دانش‌آموز و بردار جابه‌جایی او را مشخص کنید.



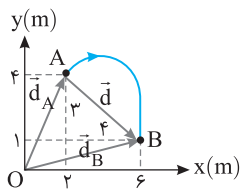
**راه‌حل** مکان‌ها را مطابق شکل روبه‌رو روی محور Xها مشخص می‌کنیم. متحرک مطابق شکل از مکان  $20\text{ m}$  به مکان  $40\text{ m}$  رفته سپس به مکان  $-10\text{ m}$  برمی‌گردد. بنابراین مسافت طی‌شده برابر است با:

$$\ell = 20 + 40 + 10 = 70\text{ m}$$

بردار جابه‌جایی از مکان ابتدایی ( $x_1 = +20\text{ m}$ ) به مکان پایانی ( $x_3 = -10\text{ m}$ ) رسم می‌شود و برابر  $\vec{d} = -30\vec{i}$  است.



**مسئله ۳** مطابق شکل، یک متحرک روی مسیر خمیده از نقطه A به نقطه B می‌رود. **الف)** بردارهای مکان و جابه‌جایی را رسم کنید و این بردارها را برحسب بردارهای یک  $\vec{i}$  و  $\vec{j}$  بیان کنید. **ب)** بزرگی بردار جابه‌جایی از A تا B را به دست آورید.



**راه‌حل** الف) از مبدأ مکان بردارهایی به نقاط A و B رسم می‌کنیم. بردارهای  $\vec{d}_A$  و  $\vec{d}_B$  بردار مکان و بردار  $\vec{d}$  بردار جابه‌جایی است.

$$\vec{d}_A = 2\vec{i} + 4\vec{j}$$

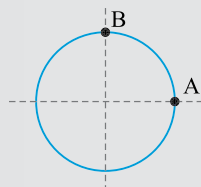
$$\vec{d}_B = 6\vec{i} + \vec{j}$$

$$\Rightarrow \vec{d} = \vec{d}_B - \vec{d}_A = 4\vec{i} - 3\vec{j}$$

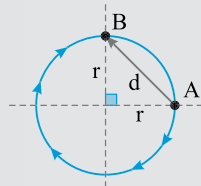
$$AB = \sqrt{(4)^2 + (-3)^2} = 5\text{ m}$$

ب) اندازه بردار جابه‌جایی را به کمک قضیه فیثاغورس به دست می‌آوریم:

**تست ۱** در شکل روبه‌رو مسیر حرکت متحرکی که روی مسیر دایره‌ای به صورت ساعتگرد در حال چرخیدن است نشان داده شده است. مسافت پیموده شده توسط متحرک از A تا B چند برابر جابه‌جایی آن در همان مسیر است؟ ( $\pi \approx 3$ )



$9\sqrt{2}$	(۱)
$\frac{9\sqrt{2}}{4}$	
$\frac{5\sqrt{2}}{2}$	(۳)
$\frac{7\sqrt{2}}{4}$	



**پاسخ** متحرک از نقطه A ساعتگرد به نقطه B می‌رود، بنابراین مسافت طی شده آن  $\frac{3}{4}$  محیط دایره است.

$$\ell = \frac{3}{4}(2\pi r) \Rightarrow \ell = \frac{3}{2}\pi r \xrightarrow{\pi \approx 3} \ell = \frac{9}{2}r$$

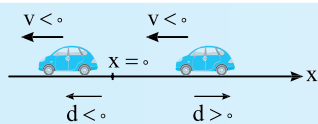
بردار جابه‌جایی را از نقطه A به نقطه B رسم می‌کنیم و اندازه جابه‌جایی را به کمک رابطه فیثاغورس به دست می‌آوریم.

$$d = \sqrt{r^2 + r^2} \Rightarrow d = \sqrt{2}r$$

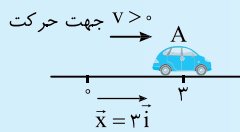
$$\frac{\ell}{d} = \frac{\frac{9}{2}r}{\sqrt{2}r} = \frac{9\sqrt{2}}{4}$$

نسبت  $\frac{\ell}{d}$  خواهد شد:

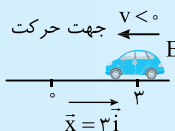
گزینه ۱



**نکته ۱** با توجه به ریاضی هر برداری که در جهت مثبت محور باشد، آن بردار مثبت و هر برداری که در جهت منفی محور باشد، آن بردار منفی است و این موضوع برای تمام کمیت‌های برداری که روی یک محور قرار دارند صادق است.



**۲** جهت بردار مکان جهت حرکت جسم را مشخص نمی‌کند، به‌طور مثال در شکل مقابل در هر دو حالت بردار مکان  $\vec{x} = 3\vec{i}$  است اما جهت حرکت متحرک A در جهت مثبت محور Xها است (به سمت راست) و جهت حرکت متحرک B خلاف جهت محور Xها (به سمت چپ) است.



**تعریف:** معادله حرکت (معادله مکان - زمان) رابطه ریاضی مکان بر حسب زمان است که در هر لحظه مکان جسم را به صورت تابعی از زمان مشخص می کند.

$$x = f(t)$$

به طور مثال اگر معادله مکان متحرکی به صورت  $x = 2t - 1$  در SI باشد مکان متحرک در  $t = 1s$  برابر  $x = 2(1) - 1 = 1m$  است و در هر لحظه مکان را می توان به دست آورد.

**مسئله ۴** معادله حرکت جسمی در SI به صورت  $x = 2t^2 - 12t + 10$  است. الف) مکان در  $t = 4s$  را بیابید. ب) در بازه  $t_1 = 2s$  تا  $t_2 = 4s$  چند ثانیه بردار مکان متحرک در جهت خلاف محور  $x$ ها است؟

$$x = 2(4)^2 - 12 \times 4 + 10 = -6m$$

الف) در معادله به جای  $t$ ،  $4s$  را قرار می دهیم و مکان را به دست می آوریم.

ب) معادله مکان - زمان تابع درجه ۲ است. برای آنکه مشخص کنیم جهت بردار مکان در خلاف جهت محور  $x$ ها باشد یعنی  $x < 0$  باشد باید معادله را تعیین علامت کنیم.

ریشه های معادله را به دست می آوریم.

$$x = 2t^2 - 12t + 10 \xrightarrow{x=0} 2t^2 - 12t + 10 = 0 \Rightarrow t^2 - 6t + 5 = 0 \Rightarrow (t-1)(t-5) = 0 \Rightarrow t = 1s, t = 5s$$

**یادآور ریاضی:** در تعیین علامت تابع درجه ۲ ( $y = ax^2 + bx + c$ )، علامت تابع بین دو ریشه مخالف علامت  $a$  و بیرون دو ریشه موافق علامت  $a$  است.

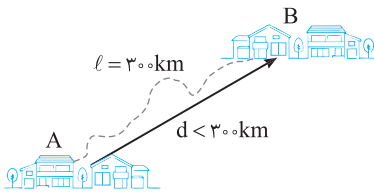
t	0	1	5	$+\infty$
x		+	-	+

بنابراین در بازه  $t = 1s$  تا  $t = 5s$ ، بردار مکان در خلاف جهت محور  $x$ هاست. یعنی در کل مدت  $2s$  تا  $4s$  بردار مکان منفی است.

## نمای ۲

### تندی متوسط و سرعت متوسط

به طور مثال اگر از ما بپرسند که شخصی با اتومبیل فاصله بین دو شهر را که  $300km$  است در مدت  $5h$  طی می کند، سرعت ماشین او چقدر است، ما به راحتی پاسخ می دهیم که  $\frac{300}{5} = 60km/h$ . این عدد که ما به دست می آوریم در واقع حاصل از تقسیم طول مسیر طی شده (مسافت) به بازه زمانی ( $\Delta t$ ) است که در فیزیک به آن **تندی متوسط** می گوئیم. راستی ما در فیزیک دو مفهوم تندی و سرعت داریم که به اشتباه در زندگی روزمره از هر دو آنها به یک معنا استفاده می کنیم، حالا بریم سراغ تعریف این دو کمیت و مقایسه آنها با هم.



$$\bar{v}_{av} = \frac{\bar{d}}{\Delta t}$$

**سرعت متوسط:** نسبت جابه جایی به زمان جابه جایی را گویند:

این کمیت برداری بوده و همواره هم جهت با بردار جابه جایی است. یکای آن در SI،  $m/s$  است.

$$s_{av} = \frac{l}{\Delta t}$$

**تندی متوسط:** نسبت مسافت طی شده به زمان را گویند.

این کمیت نرده ای است.

یکای آن در SI،  $m/s$  است.

**نکته:** برای یک بازه زمانی مشخص همواره تندی متوسط بزرگ تر و یا مساوی بزرگی سرعت متوسط خواهد بود. ( $s_{av} \geq |v_{av}|$ )

**جمع بندی:** کمیت هایی که تا الان تعریف کردیم:

نام کمیت	نوع کمیت	یکا در SI	مفهوم	نکته مهم	مقایسه اندازه آنها
مسافت ( $l$ )	نرده ای	m	طول مسیر طی شده	به مسیر حرکت بستگی دارد.	$l \geq  d $
جابه جایی ( $\bar{d}$ )	برداری	m	برداری که مکان اولیه را به مکان ثانویه وصل می کند	به مسیر حرکت بستگی ندارد.	
سرعت متوسط ( $\bar{v}_{av}$ )	برداری	m/s	نسبت جابه جایی به زمان	به مسیر حرکت بستگی ندارد.	$s_{av} \geq  v_{av} $
تندی متوسط ( $s_{av}$ )	نرده ای	m/s	نسبت مسافت به زمان	به مسیر حرکت بستگی دارد.	

**مسئله ۵** متحرکی روی خط راست در خلاف جهت محور  $x$  در حرکت است و در مبدأ زمان ( $t_1 = 0$ ) از مکان

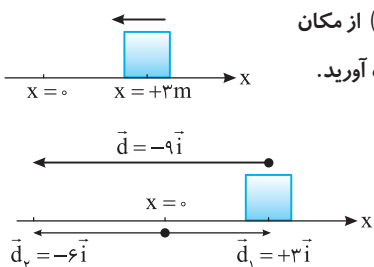
$x = +3m$  و در لحظه  $t_2 = 2s$  از مکان  $x = -6m$  می گذرد. سرعت متوسط و تندی متوسط را به دست آورید.

**راه حل:** مطابق شکل روبه رو بردارهای مکان را رسم کرده سپس به کمک شکل مسافت و

جابه جایی را به دست می آوریم.

تندی متوسط و سرعت متوسط برابر است با:


$$s_{av} = \frac{l}{\Delta t} = \frac{9}{2} = 4.5m/s, \quad \bar{v}_{av} = \frac{\bar{d}}{\Delta t} = \frac{-9\vec{i}}{2} = -4.5\vec{i}$$



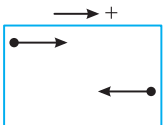


**نکته ۱** در رابطه تندی متوسط و سرعت متوسط ( $\bar{v}_{av} = \frac{\bar{d}}{\Delta t}$ ,  $s_{av} = \frac{\ell}{\Delta t}$ ) منظور از  $\Delta t$  بازه زمانی حرکت است. به طور مثال اگر حرکت متحرک از دو بخش تشکیل شده باشد که بخش اول در ۴s و بخش دوم در ۳s طی شده باشد، کل زمان حرکت برابر ۳+۴ یعنی ۷s است.

**۲** اگر متحرک در حال حرکت باشد، به شرطی در یک بازه زمانی سرعت متوسط صفر می شود که جابه جایی متحرک در آن بازه زمانی صفر شده باشد، در واقع متحرک به مکان اولیه خود بازگشته باشد.



**مسئله ۶** شناگری طول یک استخر ۵۰ متری را هنگام رفت در ۴۰s و هنگام برگشت در ۵۰s طی می کند. مطلوب است تندی متوسط و سرعت متوسط این شناگر، الف) در مدت رفت / ب) در مدت برگشت / پ) در کل مدت رفت و برگشت.



$$v_{av} = \frac{\Delta x}{\Delta t} \Rightarrow v_{av} = \frac{+50}{40} = 1/25 \text{ m/s} \Rightarrow \bar{v}_{av} = 1/25 \bar{i}$$

تندی متوسط برابر  $s_{av} = 1/25 \text{ m/s}$  است.

ب) سرعت متوسط در مدت برگشت:

$$v_{av} = \frac{\Delta x}{\Delta t} \Rightarrow v_{av} = \frac{-50}{50} = -1 \text{ m/s} \Rightarrow \bar{v}_{av} = -1 \bar{i}$$

تندی متوسط برابر  $s_{av} = 1 \text{ m/s}$  است.

پ) تندی متوسط در کل مسیر رفت و برگشت برابر است با:

$$s_{av} = \frac{\ell}{\Delta t} = \frac{50+50}{40+50} = \frac{100}{9} \text{ m/s}$$

اما سرعت متوسط در کل زمان رفت و برگشت صفر است، زیرا جابه جایی صفر است:

$$v_{av} = \frac{\Delta x}{\Delta t} \xrightarrow{\Delta x=0} v_{av} = 0$$

**نکته ۲** مسافت و تندی متوسط به مسیر حرکت بستگی دارد و برای به دست آوردن آن ها مسیر حرکت باید مشخص باشد.

**تست ۲** متحرکی روی محور xها در لحظه  $t=1\text{s}$  از مکان  $x=+3\text{m}$  و در لحظه  $t=3\text{s}$  از مکان  $x=-2\text{m}$  می گذرد. در این بازه زمانی به ترتیب از راست به چپ سرعت متوسط و تندی متوسط متحرک در SI کدام است؟

۱) ۲/۵، ۲/۵      ۲) ۲/۵، -۲/۵      ۳) -۲/۵، ۲/۵      ۴) -۲/۵، قابل محاسبه نیست.

**پاسخ ۱** سرعت متوسط برابر است با:

$$v_{av} = \frac{\Delta x}{\Delta t} = \frac{-2-3}{3-1} = -2/5 \text{ m/s}$$

گزینه ۴ ✓

چون مسیر حرکت مشخص نیست نمی توان تندی متوسط را به دست آورد.

### نمای ۳ بررسی تندی متوسط و سرعت متوسط در حرکت چندمرحله ای

یک متحرک ممکن است یک مسیر حرکت را با چند سرعت متوسط مختلف طی کند، معمولاً این گونه سؤالات دو تیپ معروف دارند:

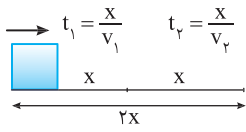
الف) در سؤال به شما سرعت متوسط و جابه جایی مربوط به آن را در بخش های مختلف حرکت می دهند:

$$\bar{v}_{av, \text{کل}} = \frac{\Delta \bar{x}_{\text{کل}}}{\Delta t_{\text{کل}}} \Rightarrow v_{av, \text{کل}} = \frac{\bar{d}_1 + \bar{d}_2 + \dots}{t_1 + t_2 + \dots} \xrightarrow{v_{av} = \frac{d}{t} \Rightarrow t = \frac{d}{v_{av}}} \bar{v}_{av, \text{کل}} = \frac{\bar{d}_1 + \bar{d}_2 + \dots}{\frac{\bar{d}_1}{v_{av_1}} + \frac{\bar{d}_2}{v_{av_2}} + \dots}$$

ب) در صورت سؤال سرعت متوسط در بازه های زمانی مختلف را به شما می دهند:

$$\bar{v}_{av, \text{کل}} = \frac{\Delta \bar{x}_{\text{کل}}}{\Delta t_{\text{کل}}} \Rightarrow \bar{v}_{av, \text{کل}} = \frac{\bar{d}_1 + \bar{d}_2 + \dots}{t_1 + t_2 + \dots} \xrightarrow{v_{av} = \frac{d}{t} \Rightarrow d = v_{av} t} \bar{v}_{av, \text{کل}} = \frac{\bar{v}_{av_1} t_1 + \bar{v}_{av_2} t_2 + \dots}{t_1 + t_2 + \dots}$$

**مسئله ۷** متحرکی روی خط راست در حال حرکت است. در هریک از حالت‌های زیر سرعت متوسط در کل مسیر را به دست آورید.  
 الف) اگر متحرک نصف مسیر را با سرعت متوسط  $20 \text{ m/s}$  و نصف دیگر آن را در همان جهت با سرعت متوسط  $40 \text{ m/s}$  طی کند.  
 ب) نصف بازه زمانی حرکت را با سرعت متوسط  $20 \text{ m/s}$  و نصف دیگر بازه زمانی حرکت را در همان جهت با سرعت  $40 \text{ m/s}$  طی کند.

**راه حل**

الف) اگر هر نیمه مسیر را  $x$  بنامیم، کل مسیر  $2x$  خواهد شد. زمان در هر قسمت را بر حسب  $x$  و سرعت به دست می‌آوریم.

$$x = vt \Rightarrow t_1 = \frac{x}{v_1} \Rightarrow t_1 = \frac{x}{20}, \quad t_2 = \frac{x}{v_2} \Rightarrow t_2 = \frac{x}{40}$$

$$v_{av} = \frac{x_1 + x_2}{t_1 + t_2} = \frac{2x}{\frac{x}{20} + \frac{x}{40}} \Rightarrow v_{av} = \frac{2}{\frac{1}{20} + \frac{1}{40}} = \frac{40}{3} \text{ m/s}$$

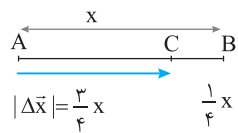
سرعت متوسط خواهد شد:

ب) در این قسمت متحرک در دو بازه زمانی یکسان با سرعت‌های متوسط متفاوت مسیر را طی کرده است و سرعت متوسط خواهد شد:

$$v_{av} = \frac{x_1 + x_2}{t_1 + t_2} = \frac{v_1 t_1 + v_2 t_2}{t_1 + t_2} \xrightarrow{t_1 = t_2} v_{av} = \frac{(v_1 + v_2)t_1}{2t_1} \Rightarrow v_{av} = \frac{v_1 + v_2}{2} \Rightarrow v_{av} = \frac{20 + 40}{2} = 30 \text{ m/s}$$

**مسئله ۸** متحرکی با تندی  $50 \text{ m/s}$  روی خط راست، مسیر  $A$  تا  $B$  را طی می‌کند و سپس  $\frac{1}{4}$  همین مسیر را از  $B$  به سوی  $A$  با تندی  $20 \text{ m/s}$

باز می‌گردد. الف) بزرگی سرعت متوسط را در کل جابه‌جایی بیابید. ب) تندی متوسط را در این بازه حرکتی به دست آورید.

**راه حل**

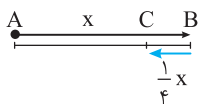
الف) با توجه به شکل زیر، زمان حرکت را از  $A$  تا  $B$  و سپس از  $B$  تا  $C$  به دست آورده، با هم جمع می‌کنیم تا زمان کل حرکت به دست آید. طول مسیر از  $A$  تا  $B$  را  $x$  فرض می‌کنیم. بنابراین خواهیم داشت:

$$\Delta t_{AB} = \frac{x}{v} \Rightarrow \Delta t_{AB} = \frac{x}{50}, \quad \Delta t_{BC} = \frac{\frac{1}{4}x}{20} \Rightarrow \Delta t_{BC} = \frac{x}{80} \Rightarrow \Delta t_{\text{کل}} = \frac{x}{50} + \frac{x}{80} = \frac{13x}{400}$$

مطابق شکل جابه‌جایی متحرک برابر برداری است که از  $A$  به  $C$  رسم می‌شود، یعنی  $\Delta x = \frac{3}{4}x$  است.

$$v_{av} = \frac{\Delta x}{\Delta t} \Rightarrow v_{av} = \frac{\frac{3}{4}x}{\frac{13x}{400}} = \frac{300}{13} \text{ m/s}$$

حال می‌توان بزرگی سرعت متوسط را به دست آورد:



$$l = x + \frac{x}{4} = \frac{5x}{4}$$

ب) برای تندی متوسط، مسافت طی شده را به دست می‌آوریم.

$$s_{av} = \frac{l}{\Delta t} = \frac{\frac{5x}{4}}{\frac{13x}{400}} = \frac{500}{13} \text{ m/s}$$

**تست ۳** متحرک  $A$  نصف مسیر مستقیمی را با تندی  $40 \text{ m/s}$  و بقیه مسیر را در همان جهت با تندی  $60 \text{ m/s}$  طی می‌کند. متحرک  $B$  تمام

مسیر را با تندی  $50 \text{ m/s}$  طی می‌کند. اگر دو متحرک هم‌زمان شروع به حرکت کنند:

- (۱) هر دو با هم به انتهای مسیر می‌رسند.
- (۲) متحرک  $A$  زودتر به انتهای مسیر می‌رسد.
- (۳) متحرک  $B$  زودتر به انتهای مسیر می‌رسد.
- (۴) اظهار نظر قطعی میسر نیست.

**پاسخ**

ابتدا باید تندی متوسط متحرک  $A$  را بیابیم. اگر شما به اشتباه تصور کنید که تندی متوسط، برابر میانگین تندی‌ها است؛ به این نتیجه خواهید رسید که تندی متوسط  $A$  برابر  $\frac{40+60}{2} = 50 \text{ m/s}$  و با تندی  $B$  مساوی است و هر

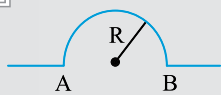
$$l_1 = \frac{l}{2}, \quad l_2 = \frac{l}{2}$$

دو با هم به انتهای مسیر می‌رسند که نتیجه‌گیری نادرستی خواهد بود. برای این منظور ابتدا باید زمان را در هر قسمت به دست آورد. اگر طول مسیر را  $l$  فرض کنیم طول هر قسمت  $\frac{l}{2}$  می‌شود و بازه‌های زمانی خواهد شد:

$$\Delta t_1 = \frac{\frac{l}{2}}{v_1} = \frac{l}{2v_1}, \quad \Delta t_2 = \frac{\frac{l}{2}}{v_2} = \frac{l}{2v_2}, \quad v_{av} = \frac{l_1 + l_2}{\Delta t_1 + \Delta t_2} \Rightarrow v_{av} = \frac{l}{\frac{l}{2v_1} + \frac{l}{2v_2}} \Rightarrow v_{av} = \frac{2v_1 v_2}{v_1 + v_2}$$

$$v_{av_A} = \frac{2 \times 40 \times 60}{40 + 60} \Rightarrow v_{av_A} = 48 \text{ m/s} \Rightarrow v_{av_A} < v_B$$

در این صورت:



**تست ۴** در شکل روبه‌رو، متحرکی کمان نیم‌دایره AB را با تندی  $۱۵/۷ \text{ m/s}$  می‌پیماید. بزرگی سرعت متوسط آن چند متر بر ثانیه است؟ ( $\pi = ۳/۱۴$ )

۳/۱۴ (۴)

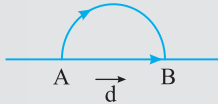
۵ (۳)

۱۰ (۲)

۱۵/۷ (۱)

**پاسخ ۸** مسافت طی شده برابر نصف محیط دایره است، پس زمان طی مسیر برابر است با:

$$s_{av} = \frac{\ell}{\Delta t} \Rightarrow \Delta t = \frac{\ell}{s_{av}} \xrightarrow{\ell = \pi R} \Delta t = \frac{3/14 \times R}{15/7} \Rightarrow \Delta t = \frac{R}{5}$$



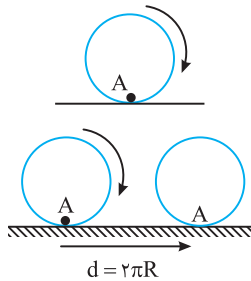
$$d = 2R$$

جابه‌جایی برابر قطر دایره ( $2R$ ) است.

$$v_{av} = \frac{|\vec{d}|}{\Delta t} \Rightarrow v_{av} = \frac{2R}{\frac{R}{5}} \Rightarrow v_{av} = 10 \text{ m/s}$$

سرعت متوسط خواهد شد:

گزینه ۲ ✓



**مسئله ۹** در شکل روبه‌رو، نقطه A روی محیط یک حلقه به شعاع  $۰/۵ \text{ m}$  قرار دارد. اگر حلقه در مدت  $۰/۲ \text{ s}$  روی سطح افقی یک دور بگردد، اندازه سرعت متوسط آن چند متر بر ثانیه است؟ ( $\pi = ۳/۱۴$ )

**راه‌حل** وقتی حلقه به اندازه یک دور بچرخد، نقطه A به اندازه محیط دایره در امتداد سطح افقی جابه‌جا می‌شود.

$$v_{av} = \frac{|\vec{d}|}{\Delta t} = \frac{2 \times \pi \times 0/5}{0/2} \Rightarrow v_{av} = 5\pi = 15/7 \text{ m/s}$$

حل چند مسأله خاص

$$\vec{d} = \vec{r}_2 - \vec{r}_1$$

**نکته** هرگاه متحرک از مکان  $\vec{r}_1$  به مکان  $\vec{r}_2$  می‌رود، جابه‌جایی متحرک خواهد شد:

$$\vec{d} = \vec{d}_1 + \vec{d}_2$$

و هرگاه متحرک جابه‌جایی  $\vec{d}_1$  و سپس جابه‌جایی  $\vec{d}_2$  را بپیماید جابه‌جایی کل متحرک خواهد شد:

**تست ۵** متحرکی در صفحه افقی XOY، در لحظه  $t_1 = ۱ \text{ s}$  در مکان  $\vec{r}_1 = 4\vec{i} + 11\vec{j}$  و در لحظه  $t_2 = ۳ \text{ s}$  در مکان  $\vec{r}_2 = -\vec{i} - \vec{j}$  قرار دارد.

کدام گزینه بردار سرعت متوسط را نشان می‌دهد؟ (یکایها در SI هستند.)

(۴)  $\vec{v}_{av} = -1/5\vec{i} + 5\vec{j}$

(۳)  $\vec{v}_{av} = 2/5\vec{i} + 6\vec{j}$

(۲)  $\vec{v}_{av} = 1/5\vec{i} + 5\vec{j}$

(۱)  $\vec{v}_{av} = -2/5\vec{i} - 6\vec{j}$

**پاسخ ۸** ابتدا بردار جابه‌جایی را به دست می‌آوریم سپس بردار سرعت متوسط را حساب می‌کنیم.

$$\vec{d} = \vec{r}_2 - \vec{r}_1 = (-\vec{i} - \vec{j}) - (4\vec{i} + 11\vec{j}) = -5\vec{i} - 12\vec{j}, \quad \vec{v}_{av} = \frac{\vec{d}}{\Delta t} = \frac{-5\vec{i} - 12\vec{j}}{3-1} \Rightarrow \vec{v}_{av} = -2/5\vec{i} - 6\vec{j}$$

گزینه ۱ ✓

**تست ۶** متحرکی در صفحه افقی XOY در مدت  $\Delta t_1 = ۱ \text{ s}$  جابه‌جایی  $\vec{d}_1 = 4\vec{i} + 11\vec{j}$  و سپس در مدت  $\Delta t_2 = ۳ \text{ s}$  جابه‌جایی  $\vec{d}_2 = -\vec{i} - \vec{j}$  را می‌پیماید. بردار سرعت متوسط کدام است؟ (یکایها در SI هستند.)

(۴)  $\vec{v}_{av} = 0/75\vec{i} + 2/5\vec{j}$

(۳)  $\vec{v}_{av} = 2/5\vec{i} + 6\vec{j}$

(۲)  $\vec{v}_{av} = 1/5\vec{i} + 5\vec{j}$

(۱)  $\vec{v}_{av} = -2/5\vec{i} - 6\vec{j}$

**پاسخ ۸** در حل این تست دقت کنید که  $\vec{d}_1$  و  $\vec{d}_2$  جابه‌جایی هستند (شکل روبه‌رو)، در این صورت بردار جابه‌جایی کل خواهد شد:

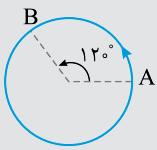


$$\vec{d} = \vec{d}_1 + \vec{d}_2 = 3\vec{i} + 10\vec{j} \xrightarrow{\vec{v}_{av} = \frac{\vec{d}}{\Delta t}} \vec{v}_{av} = \frac{3\vec{i} + 10\vec{j}}{3-1} = 1/5\vec{i} + 5\vec{j}$$

گزینه ۲ ✓



**تست ۷** در شکل روبه‌رو متحرکی روی دایره‌ای به شعاع  $10$  متر، کمان  $A$  تا  $B$  را در مدت  $5$  س می‌پیماید. اندازهٔ



سرعت متوسط از  $A$  تا  $B$  چند متر بر ثانیه است؟

(۱) ۲

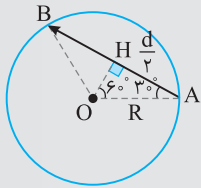
$$(۲) 2\sqrt{3}$$

$$(۳) \frac{4\pi}{3}$$

$$(۴) \frac{4\pi\sqrt{3}}{3}$$

**پاسخ ۸** بردار جابه‌جایی را از  $A$  تا  $B$  رسم می‌کنیم و نام آن را  $d$  می‌گذاریم. مثلث  $OAB$  متساوی‌الساقین است. ارتفاع  $OH$  را رسم می‌کنیم. در

این صورت  $AH = BH = \frac{d}{2}$  است. حال برای مثلث  $OHB$  می‌توانیم بنویسیم.



$$\sin 60^\circ = \frac{\frac{d}{2}}{R} \Rightarrow \frac{\sqrt{3}}{2} = \frac{d}{2R} \Rightarrow d = \sqrt{3}R \Rightarrow d = 10\sqrt{3} \text{ m}$$

با توجه به شکل:

$$v_{av} = \frac{d}{\Delta t} \Rightarrow v_{av} = \frac{10\sqrt{3}}{5} = 2\sqrt{3} \text{ m/s}$$

گزینه ۲

### نمای ۴ بررسی سرعت متوسط و بردار مکان با معادلهٔ حرکت

در بعضی از مسائل واژگانی خاص برای بیان بازه‌های زمانی و یا لحظه‌های مورد نظر استفاده می‌شود که گاهی باعث سردرگمی شما می‌شود. در جدول زیر رایج‌ترین اصطلاحات در این زمینه را بیان می‌کنیم.

اصطلاح زمانی بیان شده	نمونه
لحظهٔ $t$ منظور دقیقاً همان لحظه است.	سرعت در لحظهٔ $t = 4$ س یعنی سرعت لحظه‌ای در لحظهٔ $t = 4$ س
ثانیهٔ $t$ ام یعنی بازهٔ زمانی $t-1$ تا $t$	جابه‌جایی در ثانیهٔ چهارم یعنی جابه‌جایی در بازهٔ $t = 3$ س تا $t = 4$ س
$m$ ثانیهٔ $n$ ام یعنی بازهٔ زمانی به بازه‌های $m$ ثانیه، $m$ ثانیه تقسیم شده و ما باید $n$ امین قسمت $m$ ثانیه‌ای را بررسی کنیم. گیج شدید نگران نباشید نمونه را بررسی کنید.	۲ ثانیهٔ سوم: یعنی بازه‌های زمانی ۲ ثانیه است و سومین قسمت مورد نظر ماست. ۲ ثانیهٔ اول: ۰ تا ۲ س ۲ ثانیهٔ دوم: ۲ س تا ۴ س ۲ ثانیهٔ سوم: ۴ س تا ۶ س، این بازه مورد نظر است.

در واقع وقتی بیان می‌شود که ۳ ثانیهٔ دوم یعنی کل مدت  $6 \text{ s} = 3 \times 2$  است که ما قسمت ۳ ثانیهٔ دوم آن یعنی از  $t = 3$  س تا  $t = 6$  س را باید در نظر بگیریم.

**مسئله ۱۰** معادلهٔ حرکت جسمی در SI به صورت  $x = t^3 - 2t^2 + 1$  است. الف) سرعت متوسط در  $5$  س آغازین حرکت را بیابید. ب) سرعت

متوسط در ثانیهٔ پنجم حرکت را حساب کنید.

**راه‌حل** الف) ۵ ثانیهٔ آغازین حرکت یعنی بازهٔ  $t_1 = 0$  تا  $t_2 = 5$  س، از این‌رو در لحظهٔ  $t = 0$  و  $t = 5$  س مکان جسم را به‌دست می‌آوریم:

$$t_1 = 0 \Rightarrow x_1 = 1 \text{ m}, t_2 = 5 \text{ s} \Rightarrow x_2 = 125 - 50 + 1 = 76 \text{ m} \Rightarrow \Delta x = 76 - 1 = 75 \text{ m}$$

سرعت متوسط خواهد شد:

$$v_{av} = \frac{\Delta x}{\Delta t} \Rightarrow v_{av} = \frac{75}{5} = 15 \text{ m/s}$$

ب) ثانیهٔ پنجم یعنی بازهٔ زمانی بین  $t_1 = 4$  س و  $t_2 = 5$  س، مکان در این دو لحظه را به‌دست آورده از هم کم کرده و جابه‌جایی را به‌دست می‌آوریم.

$$x = t^3 - 2t^2 + 1 \Rightarrow \begin{cases} t_1 = 4 \text{ s} \rightarrow x_1 = 64 - 32 + 1 \Rightarrow x_1 = 33 \text{ m} \\ t_2 = 5 \text{ s} \rightarrow x_2 = 125 - 50 + 1 = 76 \text{ m} \end{cases}$$

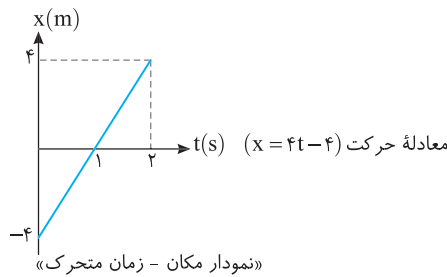
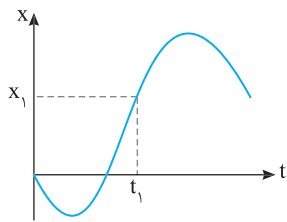
$$d = 76 - 33 \Rightarrow d = 43 \text{ m}$$

$$v_{av} = \frac{d}{\Delta t} = \frac{43}{1} = 43 \text{ m/s}$$

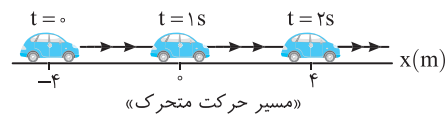
سرعت متوسط در ثانیهٔ پنجم برابر است با:

\* به‌دست آوردن تندی متوسط به کمک معادلهٔ حرکت را در بخش‌های بعدی فراموش نکنید.

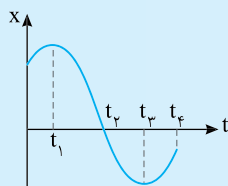
**نمای ۵ بررسی مکان، مسافت و جابه‌جایی در نمودار مکان - زمان**



برای هر حرکتی می‌توان معادله مکان - زمان  $x = f(t)$  نوشته و در هر لحظه، مکان متحرک را مشخص کرد. در ریاضی فراگرفتمیم که برای هر تابع می‌توان نمودار رسم کرد. در نتیجه برای هر متحرکی با داشتن معادله حرکت آن می‌توان نمودار مکان - زمانی شبیه شکل روبه‌رو رسم کرد و در هر لحظه مانند  $t_1$  مکان متحرک مانند  $x_1$  را مشخص کرد. به‌طور مثال اگر معادله حرکت متحرک به صورت تابع درجه اول  $x = 4t - 4$  باشد، شما به سادگی می‌توانید نمودار مکان - زمان آن را که یک خط راست مایل بوده مطابق شکل رسم کنید. راستی این نمودار مسیر حرکت نیست یعنی متحرک روی این نمودار سربالایی نمی‌رود بلکه مسیر حرکت آن مطابق شکل زیر روی خط راست است.

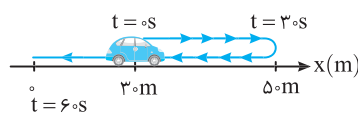
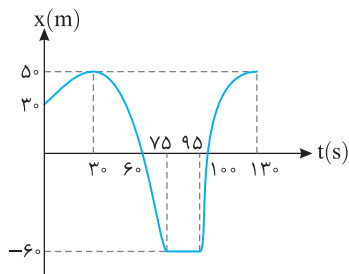


- ۱ نکته در نمودار مکان - زمان اگر نمودار بالای محور زمان باشد، مکان متحرک مثبت بوده و بردار مکان در جهت محور  $x$  هاست.
- ۲ در نمودار مکان - زمان اگر نمودار پایین محور زمان باشد، مکان متحرک منفی بوده و بردار مکان در خلاف جهت محور  $x$  هاست.
- ۳ هنگامی که نمودار مکان - زمان محور زمان را قطع می‌کند، مکان متحرک صفر ( $x = 0$ ) و علامت بردار مکان آن عوض می‌شود و در این



- لحظه بردار مکان متحرک تغییر جهت می‌دهد.
- ۴ هرگاه با گذشت زمان نمودار رو به بالا برود (نمودار صعودی باشد)، متحرک در جهت مثبت محور در حرکت بوده یعنی سرعت متحرک مثبت است.
- ۵ هرگاه با گذشت زمان نمودار رو به پایین برود (نمودار نزولی باشد)، متحرک در جهت منفی محور در حرکت بوده یعنی سرعت متحرک منفی است.

**مسئله ۱۱ نمودار مکان - زمان متحرکی که روی محور  $x$  ها در حرکت است مطابق شکل زیر است.**



- الف) مسیر حرکت متحرک در بازه صفر تا  $60s$  را رسم کنید.
- ب) جسم در کدام بازه زمانی ساکن است؟
- پ) در کدام بازه‌های زمانی متحرک در جهت مثبت محور  $x$  ها در حرکت است؟
- ت) در کدام بازه‌های زمانی متحرک در جهت منفی محور  $x$  ها در حرکت است؟
- ث) جابه‌جایی متحرک در کل بازه نشان داده شده را بیابید.
- ج) مسافت طی شده در کل بازه نشان داده شده را بیابید.
- چ) در کدام لحظه‌ها بردار مکان متحرک تغییر جهت می‌دهد؟
- ح) در چه بازه زمانی متحرک بیشترین فاصله از مبدأ را دارد؟
- خ) در کدام بازه‌های زمانی متحرک در حال نزدیک شدن به مبدأ است؟

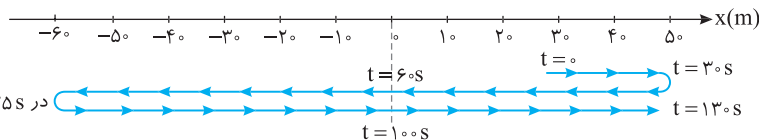
**راهنما الف)**

دقت کنید مسیر حرکت متحرک تنها روی محور  $x$  ها است. در بازه صفر تا  $30s$  متحرک از مکان  $30m$  به مکان  $50m$  رفته و در بازه  $30s$  تا  $60s$  متحرک بازگشته و مکان آن از  $50m$  به صفر می‌رسد.

- ب) در بازه  $75s$  تا  $95s$  متحرک در مکان  $x = -60m$  ساکن است، زیرا با گذشت زمان مکان آن تغییر نکرده است.
- پ) در بازه‌های زمانی صفر تا  $30s$  و  $95s$  تا  $130s$  متحرک در حال حرکت در جهت مثبت محور  $x$  ها است.
- ت) در بازه زمانی  $30s$  تا  $75s$  متحرک در حال حرکت در جهت منفی محور  $x$  ها است.

ث) متحرک ابتدا در مکان  $x_0 = +30m$  و در آخر ( $t = 130s$ ) در مکان  $x = +50m$  بوده بنابراین جابه‌جایی آن برابر است با:  $\Delta x = 50 - 30 = 20m$

ج) با توجه به شکل زیر متحرک از مکان  $30m$  به مکان  $50m$  می‌رود سپس از مکان  $50m$  به مکان  $-60m$  رفته و سرانجام به مکان  $50m$  می‌رود.

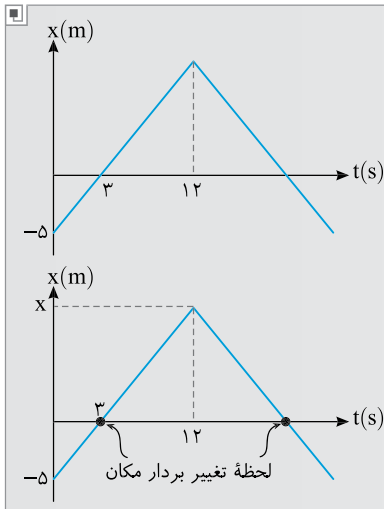


$\ell = 20 + 110 + 110 = 240m$

چ) در لحظه‌های  $t=60s$  و  $t=100s$  متحرک از مبدأ مکان می‌گذرد و بردار مکان تغییر جهت می‌دهد. قبل از لحظه  $t=60s$  بردار مکان مثبت و بعد از آن بردار مکان منفی شده است هم‌چنین قبل از لحظه  $t=100s$  بردار مکان منفی و بعد از آن بردار مکان مثبت شده است.

ح) در بازه زمانی  $75s$  تا  $95s$  متحرک در فاصله  $60$  متری مبدأ است.

خ) در بازه  $30s$  تا  $60s$  متحرک از مکان  $+50m$  به سوی مبدأ ( $x=0$ ) در حرکت است همچنین در بازه  $95s$  تا  $100s$  متحرک از مکان  $-60m$  در جهت مثبت محور در حال نزدیک شدن به مبدأ است.



**تست ۸** نمودار مکان - زمان متحرکی به صورت روبه‌رو است. مسافت طی شده توسط متحرک

در بازه زمانی بین دو لحظه تغییر جهت بردار مکان چند متر است؟

- (۱) صفر  
(۲) ۳۲  
(۳) ۱۵  
(۴) ۳۰

**پاسخ** به سراغ درس ریاضی آمده‌ایم. ابتدا به کمک شیب نمودار مکان متحرک را در لحظه

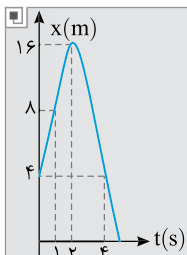
$t=12s$  به دست می‌آوریم.

$$\frac{x - (-5)}{12 - 0} = \frac{0 - (-5)}{3 - 0} \Rightarrow x = 15m$$

بنابراین متحرک در بازه زمانی بین تغییر بردار مکان از مکان صفر به  $15m$  رفته و به مکان صفر

$$\ell = 15 + 15 = 30m$$

برمی‌گردد. از این‌رو: گزینه ۴ ✓



**تست ۹** گلوله‌ای را از ارتفاع  $4m$  سطح زمین در راستای قائم به سمت بالا پرتاب کرده و نمودار مکان - زمان گلوله

به صورت روبه‌رو است. تندی متوسط گلوله در فاصله زمانی  $t=1s$  تا  $t=4s$  چند متر بر ثانیه است؟

- (۲)  $\frac{22}{3}$   
(۴)  $\frac{11}{3}$

- (۱)  $\frac{8}{3}$   
(۳)  $\frac{20}{3}$

**پاسخ** به نمودار نگاه کنید. در لحظه  $t=1s$  گلوله در مکان  $+8m$  بوده و در لحظه  $t=2s$  به مکان  $+16m$  می‌رود و مسافت  $16-8=8m$

را می‌پیماید. سپس در بازه  $t=2s$  تا  $t=4s$  از مکان  $+16m$  به مکان  $+4m$  رفته و مسافت  $16-4=12m$  را طی می‌کند و مسافت کل خواهد

$$\ell = 8 + 12 = 20m$$

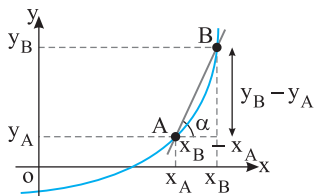
شد:

$$s_{av} = \frac{\ell}{\Delta t} = \frac{20}{4-1} \Rightarrow s_{av} = \frac{20}{3} m/s$$

تندی متوسط خواهد شد: گزینه ۳ ✓

## نمای ۶ نمودار مکان - زمان، تندی و سرعت

### یادآوری ریاضی شیب خط



در درس ریاضی یاد گرفته‌ایم که برای یک کمیت نموداری رسم کنیم که چگونگی تغییرات آن کمیت ( $y$ ) را بر حسب تغییرات کمیت متغیر دیگری ( $x$ ) نشان دهد. در شکل روبه‌رو یک نمودار در صفحه  $xOy$  رسم شده است و نقطه  $A$  و  $B$  روی این نمودار است. خطی که نقطه  $A$  را به نقطه  $B$  وصل می‌کند را خط قاطع منحنی می‌گوییم. تانژانت زاویه‌ای که این خط با جهت مثبت محور طول‌ها ( $x$ )

$$m = \tan \alpha = \frac{y_B - y_A}{x_B - x_A}$$

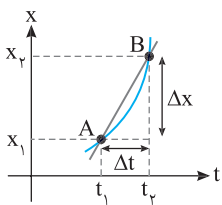
می‌سازد را شیب خط می‌گوییم.

### تعیین سرعت متوسط به کمک نمودار مکان - زمان

فرض کنید که نمودار مکان - زمان متحرکی به صورت روبه‌رو باشد و متحرک در لحظه  $t_1$  در مکان  $x_1$  و در لحظه  $t_2$  در مکان  $x_2$  است. مطابق آنچه در یادآوری ریاضی بیان شد، شیب خطی که دو نقطه

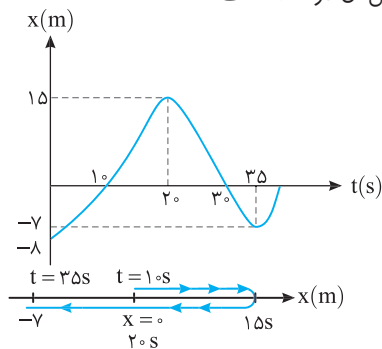
$$m = \frac{x_2 - x_1}{t_2 - t_1} = \frac{\Delta x}{\Delta t}$$

$A$  و  $B$  را به هم وصل می‌کند به صورت مقابل است:



شیب خط را با تعریف سرعت متوسط ( $v_{av} = \frac{\Delta x}{\Delta t}$ ) مقایسه کنید، نتیجه‌ای که حاصل می‌شود این است:

**معمدی** شیب خطی که دو نقطه از نمودار مکان - زمان را به هم وصل می‌کند برابر با سرعت متوسط بین آن دو نقطه است.



**مسئله ۱۲ راه‌حل** در شکل روبه‌رو سرعت متوسط و تندی متوسط در بازه ۱۰s تا ۳۵s را بیابید. در بازه ۱۰s تا ۳۵s سرعت متوسط خواهد شد:

$$v_{av} = \frac{x_2 - x_1}{t_2 - t_1} = \frac{-7 - 0}{35 - 10} = \frac{-7}{25} = -0.28 \text{ m/s}$$

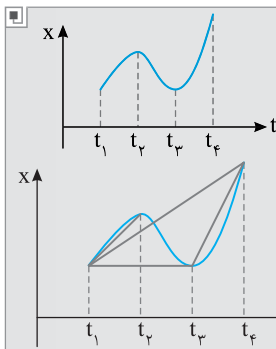
اما تندی متوسط:

مسافت طی شده در بازه ۱۰s تا ۳۵s برابر است با:

$$s_{av} = \frac{\ell}{\Delta t} \rightarrow s_{av} = \frac{37}{35 - 10} = \frac{37}{25} = 1.48 \text{ m/s}$$

$\ell = 15 + 15 + (7) = 37 \text{ m}$

**نکته** برای مقایسه سرعت متوسط در بازه‌های زمانی مختلف از روی نمودار مکان - زمان کافی است شیب خط قاطع در هر بازه زمانی را بررسی کنیم هرچه شیب خط قاطع تندتر باشد، سرعت متوسط در آن بازه زمانی بزرگ‌تر است.



**تست ۱۰** در شکل روبه‌رو در کدام بازه زمانی سرعت متوسط از بازه‌های دیگر بیشتر است؟

(۱)  $t_1$  تا  $t_2$

(۲)  $t_2$  تا  $t_3$

(۳)  $t_3$  تا  $t_4$

(۴)  $t_4$  تا  $t_1$

**پاسخ** خط قاطع نمودار را بین بازه‌های بیان شده رسم می‌کنیم. کاملاً مشخص است که شیب خط قاطع در بازه  $t_3$  تا  $t_4$  از بقیه حالت‌ها بیشتر (تندتر) است.

گزینه ۳

### تندی لحظه‌ای - سرعت لحظه‌ای

خودرویی یک مسیر ۱۰۰ کیلومتری را در مدت ۲h طی می‌کند از این رو سرعت متوسط متحرک در طول مسیر  $\frac{100}{2} = 50 \text{ km/h}$  است. اما سرعت متحرک در طول مسیر می‌تواند در یک بازه زمانی بیشتر از  $50 \text{ km/h}$  و در بازه زمانی دیگری کمتر از  $50 \text{ km/h}$  باشد. در واقع لزومی ندارد که در هر لحظه از مسیر حرکت سرعت برابر  $50 \text{ km/h}$  باشد.

**تعریف** سرعت لحظه‌ای: سرعتی است که متحرک در هر لحظه دارد.

**تعریف** تندی لحظه‌ای: اندازه سرعت لحظه‌ای را تندی لحظه‌ای گویند.

**نکته ۱** یکای کمیت‌های سرعت لحظه‌ای و تندی لحظه‌ای در SI، m/s است.

**۲** سرعت لحظه‌ای کمیتی برداری است و علاوه بر یکا به جهت نیز نیاز دارد.

**۳** تندی لحظه‌ای کمیتی نرده‌ای است و برابر اندازه سرعت لحظه‌ای متحرک است.

$$s = |\vec{v}| \leftarrow \text{تندی لحظه‌ای}$$

**۴** در سؤال‌ها گاهی سرعت لحظه‌ای و تندی لحظه‌ای را به‌طور اختصار، سرعت و تندی بیان می‌کنند.

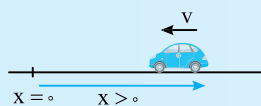
**۵** سرعت متحرک جهت حرکت را مشخص می‌کند.  $\leftarrow$  سرعت مثبت: متحرک در جهت محور X در حال حرکت است.

$\rightarrow$  سرعت منفی: متحرک در خلاف جهت محور X در حال حرکت است.



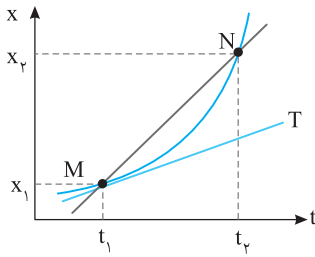
**۶** در اتومبیل عقربه تندی سنج، تندی یا بزرگی سرعت را نشان می‌دهد:

به‌طور مثال وقتی درون خودرویی به طرف شمال در حال حرکت باشیم، در نقطه‌ای از مسیر این عقربه  $100 \text{ km/h}$  را نشان دهد، تندی خودرو  $100 \text{ km/h}$  بوده اما در آن لحظه سرعت متحرک  $100 \text{ km/h}$  به طرف شمال است.



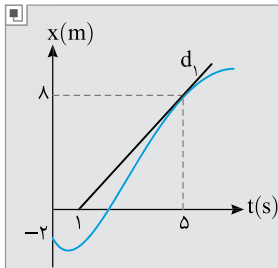
**نکته** در شکل روبه‌رو مکان متحرک مثبت بوده و بردار مکان مثبت است اما متحرک در خلاف جهت محور در حال حرکت بوده و سرعت منفی است، در واقع با این مثال ساده شما باید تفاوت بردار مکان و جهت حرکت را متوجه شوید و بدانید که علامت سرعت ارتباطی به علامت بردار مکان ندارد.

## سرعت لحظه‌ای و نمودار مکان - زمان



به نمودار مکان - زمان شکل روبه‌رو دقت کنید. سرعت متوسط در بازه  $t_1$  تا  $t_2$  برابر  $v_{av} = \frac{x_2 - x_1}{t_2 - t_1}$  است. اگر بازه زمانی  $t_1$  تا  $t_2$  را کاهش دهیم یعنی  $N$  به سمت  $M$  میل کند و  $t_2$  نیز به  $t_1$  میل کند،  $\Delta t \rightarrow 0$  برود، در نهایت خط قاطع  $MN$  به خط مماس  $T$  در نقطه  $M$  تبدیل می‌شود و سرعت متوسط به سمت سرعت لحظه‌ای در لحظه  $t_1$  میل می‌کند.

**نتیجه** ✓ سرعت لحظه‌ای برابر شیب خط مماس بر نمودار مکان - زمان در آن نقطه است.\*



**تست ۱۱** نمودار مکان - زمان متحرکی به صورت شکل روبه‌رو است. اگر سرعت متحرک در لحظه  $t = 5s$  برابر سرعت متوسط در ۶ ثانیه نخست حرکت باشد، متحرک در لحظه  $t = 6s$  در فاصله چند متری مبدأ مکان قرار دارد؟

۱۲ (۱)

۱۴ (۲)

۱۲ (۱)

۱۰ (۳)

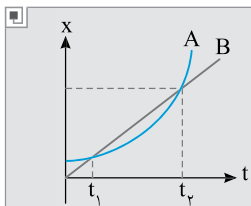
**پاسخ** ✓ سرعت در لحظه  $t = 5s$  یعنی شیب خط مماس در لحظه  $t = 5s$  (شیب خط  $d_1$ ) بنابراین:

$$v_{t=5} = \frac{\Delta x}{\Delta t} = \frac{8 - (-2)}{5 - 1} = 2 \text{ m/s}$$

بنا به فرض مسئله این سرعت با سرعت متوسط در ۶s نخست حرکت برابر است از این‌رو: **گزینه ۳** ✓  
 $v_{av} = \frac{x_2 - x_1}{t_2 - t_1} \Rightarrow 2 = \frac{x_2 - (-2)}{6 - 0} \Rightarrow x_2 = 10 \text{ m}$

## مقایسه تندى متوسط و سرعت متوسط چند متحرک به کمک نمودار مکان - زمان

## نمای ۷



**تست ۱۲** نمودار مکان - زمان دو متحرک به صورت شکل روبه‌رو است. اگر تندى متحرک‌ها در لحظه  $t_1$  به ترتیب

$v_A$  و  $v_B$  و سرعت متوسط آن‌ها در بازه  $t_1$  تا  $t_2$  به ترتیب  $v_{av_A}$  و  $v_{av_B}$  باشد، کدام گزینه درست است؟

$$v_{av_A} > v_{av_B} \text{ و } v_A > v_B \quad (2)$$

$$v_{av_A} = v_{av_B} \text{ و } v_A = v_B \quad (1)$$

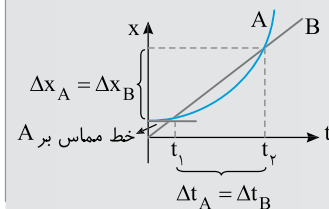
$$v_{av_A} = v_{av_B} \text{ و } v_A < v_B \quad (4)$$

$$v_{av_A} = v_{av_B} \text{ و } v_A > v_B \quad (3)$$

**پاسخ** ✓ در لحظه  $t_1$  شیب خط مماس بر نمودار  $A$  از شیب نمودار  $B$  کمتر است. بنابراین  $v_A < v_B$

است. اما در بازه  $t_1$  تا  $t_2$  جابه‌جایی و زمان جابه‌جایی یکسان بوده از این‌رو  $v_{av_A} = v_{av_B}$ .

**گزینه ۴** ✓



## نمودار مکان - زمان، تحلیل حرکت

## نمای ۸

**نکته ۱** در نمودار  $x-t$  اگر شیب خط مماس مثبت باشد سرعت متحرک مثبت بوده و متحرک در جهت مثبت محور  $x$ ها در حال حرکت است.

**۲** در نمودار  $x-t$  اگر شیب خط مماس منفی باشد سرعت متحرک منفی بوده و متحرک در جهت منفی محور  $x$ ها در حال حرکت است.

**۳** اگر با گذر زمان شیب خط مماس بر نمودار  $x-t$  تندتر شود، تندى متحرک در حال افزایش و حرکت تندشونده است.

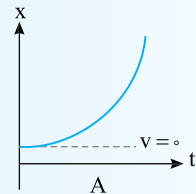
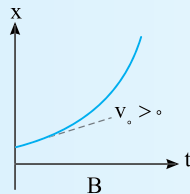
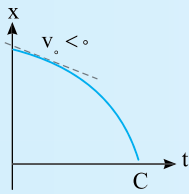
**۴** اگر با گذر زمان شیب خط مماس بر نمودار  $x-t$  کندتر شود، تندى متحرک در حال کاهش و حرکت کندشونده است.

نمودار $x-t$				
جهت حرکت	در جهت محور $x$ ( $v > 0$ )	در جهت محور $x$ ( $v > 0$ )	خلاف جهت محور $x$ ( $v < 0$ )	خلاف جهت محور $x$ ( $v < 0$ )
نوع حرکت	تندشونده	کندشونده	کندشونده	تندشونده

\* در ریاضیات یاد خواهید گرفت که «شیب خط مماس در هر نقطه از نمودار برابر مشتق تابع به ازای مختصات نقطه تماس است.»



۵ در شکل A، متحرک از حال سکون شروع به حرکت کرده، در شکل B و C در مبدأ زمان متحرک دارای سرعت اولیه است:

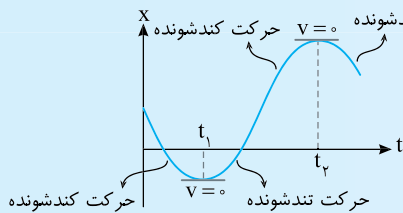


۶ در نقاط بیشینه و کمینه نمودار  $x-t$ :

الف) شیب خط مماس در این نقاط افقی بوده و سرعت صفر می‌شود و اگر علامت سرعت تغییر کند متحرک در این لحظه‌ها تغییر جهت می‌دهد.

ب) قبل از این لحظه‌ها چون سرعت در حال صفر شدن بوده حرکت کندشونده است و بعد از این لحظات حرکت تندشونده است.

به‌طور مثال در لحظات  $t_1$  تا  $t_2$  متحرک تغییر جهت می‌دهد.



تست ۱۳ نمودار مکان - زمان متحرکی به صورت روبه‌رو است. به ترتیب از راست به چپ

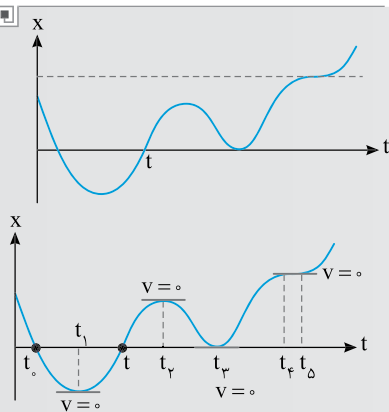
سرعت متحرک چند بار به‌طور لحظه‌ای صفر می‌شود، متحرک چند بار تغییر جهت داده و چند بار بردار مکان آن تغییر جهت می‌دهد؟

- ۱) ۳، ۳، ۳
- ۲) ۴، ۴، ۱
- ۳) ۴، ۳، ۱
- ۴) ۳، ۳، ۲

پاسخ ۱) سرعت سه بار در لحظه  $t_1$ ،  $t_2$  و  $t_3$  به‌طور لحظه‌ای صفر شده البته در بازه  $t_4$  تا  $t_5$  سرعت در یک بازه زمانی صفر است.

در لحظه  $t_1$  و  $t_2$  و  $t_3$  سه بار سرعت صفر شده و تغییر علامت داده یعنی سه بار جهت حرکت تغییر کرده است.

دو بار در لحظه‌های  $t$  و  $t_0$  که نمودار محور زمان را قطع می‌کند بردار مکان تغییر جهت می‌دهد.



گزینه ۴

### نمای ۹ تحلیل حرکت به کمک رسم نمودار مکان - زمان

ممکن است در یک مسئله به شما معادله حرکتی داده شود که شما از چند و چون نمودار آن باخبر باشید. به‌طور مثال معادله حرکت تابع درجه اول یا دوم یا تابع مثلثاتی باشد، در این صورت شما با رسم نمودار مکان - زمان می‌توانید به پرسش‌هایی درباره مسافت، جابه‌جایی، سرعت، نوع حرکت و ... پاسخ بدهید. اصولاً نمودار مکان - زمان تمام اطلاعات لازم درباره حرکت یک متحرک را به شما ارائه می‌دهد.

مسئله ۱۳ معادله مکان - زمان متحرکی در SI به صورت  $x = 2 \sin(\pi t)$  است. در یک دوره در کدام بازه زمانی:

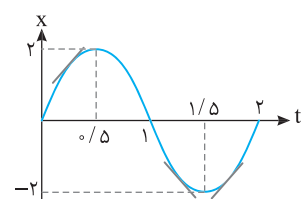
الف) اندازه جابه‌جایی و مسافت طی شده توسط متحرک با هم برابر است؟ (ب) سرعت مثبت است؟

پ) حرکت کندشونده است؟ (ت) متحرک در حال دورشدن از مبدأ است؟

راهنما یادآور ریاضی در توابع مثلثاتی سینوسی و کسینوسی مانند  $y = \sin ax$  و  $y = \cos ax$  دوره تناوب تابع  $T = \frac{2\pi}{|a|}$  است.

نکته در بازه‌های زمانی که جهت سرعت تغییر نمی‌کند اندازه جابه‌جایی و مسافت طی شده متحرک یکسان است.  $\ell = |d|$

دوره تناوب را به دست می‌آوریم.  $T = \frac{2\pi}{|a|} \Rightarrow T = \frac{2\pi}{\pi} \Rightarrow T = 2s$



بیشینه مقدار  $x$  برابر  $2m$  است، نمودار را رسم می‌کنیم.

دقت کنید پرسش‌های مسئله در مدت یک دوره یعنی  $t = 2s$  مطرح شده است.

الف) در بازه‌های  $0$  تا  $0.5s$  و  $1.5s$  تا  $2s$  و  $0.5s$  تا  $1s$  و  $1s$  تا  $1.5s$  اندازه جابه‌جایی و مسافت یکسان است.

ب) در بازه‌های  $0$  تا  $0.5s$  و  $1.5s$  تا  $2s$  شیب خط مماس مثبت و سرعت متحرک مثبت است.

پ) در بازه  $0.5s$  تا  $1s$  و  $1s$  تا  $1.5s$  شیب خط مماس کندتر می‌شود و سرعت در حال کاهش است.

ت) در بازه  $0$  تا  $0.5s$  و  $1s$  تا  $1.5s$  متحرک در حال دورشدن از مبدأ است.

## نیچره اول

مفهوم جابه‌جایی - مکان - مسافت - سرعت متوسط - تندی متوسط

## نمای ۱ مفهوم مکان، مسافت و جابه‌جایی

کدام گزینه درست است؟

(۱) جابه‌جایی و مسافت هر دو کمیت‌های نرده‌ای هستند.  
 (۲) جابه‌جایی و مسافت هر دو دارای یکای یکسانی در SI هستند.  
 (۳) جابه‌جایی و مسافت هر دو به مسیر حرکت بستگی دارند.  
 (۴) هر سه گزینه درست است.

در شکل روبه‌رو دو خودروی A و B در لحظه نشان داده شده از نقاط مشخص شده می‌گذرند.

کدام گزینه گزاره‌های درست را مشخص کرده است؟

(الف) بردار مکان متحرک A در این لحظه در SI به صورت  $\vec{j}$  بوده و بردار مکان و جهت حرکت هم‌جهت یکدیگرند.

(ب) بردار مکان متحرک A در این لحظه در SI به صورت  $6\vec{i}$  بوده و بردار مکان و جهت حرکت خلاف جهت یکدیگرند.

(پ) بردار مکان متحرک B در این لحظه در SI به صورت  $4\vec{j}$  بوده و بردار مکان و جهت حرکت هم‌جهت یکدیگرند.

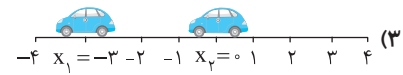
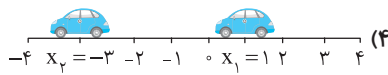
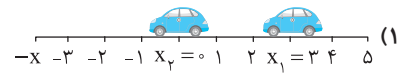
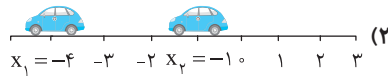
(ت) بردار مکان متحرک B در این لحظه در SI به صورت  $4\vec{j}$  بوده و بردار مکان و جهت حرکت خلاف جهت یکدیگرند.

(۱) (الف)، (پ) (۲) (الف)، (ت) (۳) (ب)، (پ) (۴) (ب)، (ت)

در سه تست زیر به کمک معادله حرکت، مکان متحرک را مشخص می‌کنیم.

۳ معادله حرکت متحرکی در SI به صورت  $x = t^2 - 4t$  است. به ترتیب مکان متحرک در  $t_1 = 3s$  و  $t_2 = 4s$  را  $x_1$  و  $x_2$  می‌نامیم. کدام

گزینه مکان  $x_1$  و  $x_2$  را به درستی نشان می‌دهد؟



۴ معادله مکان - زمان متحرکی در SI به صورت  $x = t^2 + at + b$  است. اگر متحرک در مبدأ زمان از مکان  $x = 12m$  شروع به حرکت کرده

و در لحظه  $t = 3s$  از مبدأ مکان بگذرد، a و b به ترتیب از راست به چپ کدام است؟

(۱) ۱۲، ۷ (۲) ۱۲، -۷ (۳) -۱۲، ۱ (۴) ۱۲، -۱

۵ معادله حرکت متحرکی در SI به صورت  $x = t^3 - 3t + 1$  داده شده است. به ترتیب از راست به چپ این متحرک در لحظه  $t = 2s$  در چند

متری مبدأ حرکت و در چند متری مبدأ مکان قرار گرفته است؟

(۱) ۲، ۲ (۲) ۲، ۳ (۳) ۳، ۳ (۴) ۳، ۲

۶ معادله حرکت جسمی در SI به صورت  $x = t^2 + t - 12$  است. در بازه  $t_1 = 2s$  تا  $t_2 = 4s$  چند ثانیه بردار مکان منفی است؟

(۱) ۱ (۲) ۲ (۳) ۱/۵ (۴) ۵/۷

در تست‌های زیر به مقایسه مسافت و جابه‌جایی روی محور X می‌پردازیم.

۷ شکل روبه‌رو مسیر حرکت سه شخص را نشان داده است. به ترتیب از

راست به چپ در چه تعداد از مسیرها، جابه‌جایی و مسافت طی شده

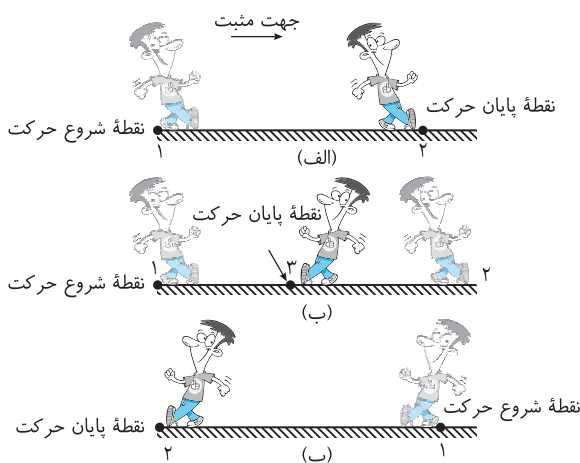
یکسان و در چه تعداد جابه‌جایی‌ها مثبت است؟

(۱) ۱، ۱

(۲) ۲، ۲

(۳) ۲، ۱

(۴) ۱، ۲



کتاب درسی

از کتاب درسی

تجربی - ۹۶



۸ مطابق شکل روبه‌رو جسمی روی محور  $x$  از نقطه  $A$  حرکت کرده و بعد از رسیدن به نقطه  $B$ ، به نقطه  $C$  بازمی‌گردد. در این حرکت مسافت طی شده توسط جسم چند برابر اندازه جابه‌جایی آن است؟

از کتاب درسی

۱ (۴)

۳ (۳)

۲ (۲)

۵ (۱)

۹ متحرکی روی محور  $x$ ها بدون تغییر جهت از مکان  $x_1 = -3\text{m}$  به مکان  $x_2 = 5\text{m}$  می‌رود. چه تعداد از گزاره‌های زیر درست است؟

(الف) بردار مکان متحرک همواره مثبت است.

(ب) مسافت طی شده و جابه‌جایی هم‌اندازه هستند.

۳ (۴)

۲ (۳)

۱ (۲)

صفر (۱)

۱۰ متحرکی طی مسیری از نقطه  $x_1 = -1\text{m}$  به نقطه  $x_2 = 2\text{m}$  می‌رسد. کدام گزینه می‌تواند مسافت طی شده باشد؟

(۴) هر سه گزینه می‌تواند باشد.

(۳)  $3/25\text{m}$

(۲)  $2/5\text{m}$

(۱)  $2\text{m}$

۱۱ کدام گزینه نادرست است؟

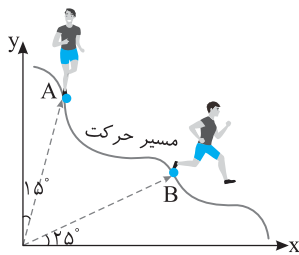
(۱) ممکن است بردار جابه‌جایی جسم مثبت باشد اما بردار مکان جسم منفی باشد.

(۲) ممکن است جهت حرکت تغییر کند اما بردار مکان آن تغییر جهت نداده باشد.

(۳) ممکن است بردار مکان تغییر جهت دهد اما جهت حرکت متحرک ثابت بماند.

(۴) با تغییر جهت حرکت، الزاماً بردار مکان تغییر جهت می‌دهد.

در تست‌های زیر حرکت متحرک روی خط راست صورت نمی‌گیرد، البته در کتاب در این مورد سؤال طرح شده بنابراین مکان، جابه‌جایی، مسافت بر مسیر خمیده هم به نظر می‌رسد.



۱۲ متحرکی از نقطه  $A$  تا نقطه  $B$  روی مسیر خمیده شکل روبه‌رو جابه‌جا می‌شود. در این جابه‌جایی

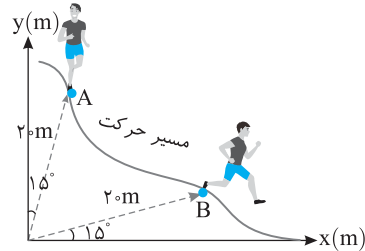
زاویه‌ای که بردار مکان با جهت مثبت محور  $x$ ها می‌سازد چند درجه و چگونه تغییر می‌کند؟ (مبدأ مختصات مبدأ حرکت است.)

(۲)  $50^\circ$  پادساعتگرد

(۱)  $50^\circ$  ساعتگرد

(۴)  $25^\circ$  پادساعتگرد

(۳)  $25^\circ$  ساعتگرد



۱۳ در شکل روبه‌رو، بزرگی جابه‌جایی متحرکی که مسیر خمیده را از  $A$  تا  $B$  می‌پیماید، چند متر

است؟

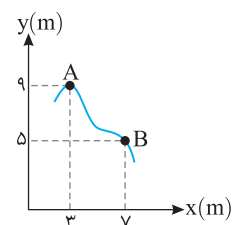
از کتاب درسی

(۱)  $20$

(۲)  $40$

(۳)  $20\sqrt{3}$

(۴)  $10\sqrt{3}$



۱۴ در شکل روبه‌رو ذره‌ای روی یک مسیر منحنی از نقطه  $A$  به نقطه  $B$  می‌رود. اندازه بردار

جابه‌جایی متحرک چند متر است؟

(۱)  $2\sqrt{2}$

(۲)  $4\sqrt{2}$

(۳)  $2$

(۴)  $4$

۱۵ متحرکی از مکان  $\vec{d}_1 = 4\vec{i} + 3\vec{j}$  به  $\vec{d}_2 = \vec{i} - \vec{j}$  می‌رود. بردار جابه‌جایی متحرک و مسافت طی شده توسط آن برحسب متر به ترتیب از راست

به چپ کدام می‌تواند باشد؟

(۴)  $6\text{m}$ ،  $3\vec{i} + 4\vec{j}$

(۳)  $3\text{m}$ ،  $3\vec{i} + 4\vec{j}$

(۲)  $6\text{m}$ ،  $-3\vec{i} - 4\vec{j}$

(۱)  $3\text{m}$ ،  $-3\vec{i} - 4\vec{j}$

۱۶ اگر از نقطه  $O$  به اندازه  $4\text{m}$  به سمت غرب و سپس به اندازه  $2\text{m}$  با زاویه  $60^\circ$  نسبت به جهت غرب، به سمت جنوب غربی حرکت کنیم،

از کتاب درسی

اندازه جابه‌جایی نسبت به نقطه  $O$  و مسافت طی شده به ترتیب از راست به چپ چند متر است؟

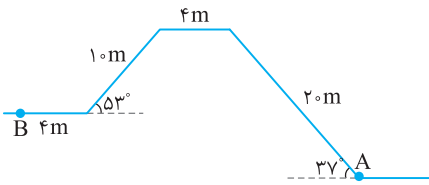
(۴)  $6$ ،  $2\sqrt{7}$

(۳)  $6$ ،  $2\sqrt{3}$

(۲)  $2\sqrt{7}$ ،  $6$

(۱)  $6$ ،  $6$

۱۷ متحرکی روی مسیری مطابق شکل روبه‌رو از مکان A به مکان B می‌رسد، مسافت طی شده متحرک و اندازه تقریبی جابه‌جایی به ترتیب از راست به چپ چند متر است؟



به چپ چند متر است؟

(۱)  $30/3, 30/3$

(۲)  $50/2, 38$

(۳)  $40/3, 38$

(۴)  $30/3, 38$

۱۸ پرنده‌ای که روی لبه ساختمان بلندی به ارتفاع ۵۰ متر نشسته بود، ابتدا پرواز کرده و به پای ساختمان رسیده، سپس ۴۰m به سمت شرق حرکت کرده و در نهایت ۳۰m به سمت شمال می‌رود. جابه‌جایی کل این پرنده چند متر است؟

خارج ریاضی - ۹۷

(۴)  $40\sqrt{2}$

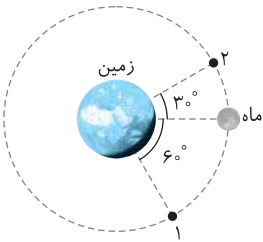
(۳) ۵۰

(۲)  $50\sqrt{2}$

(۱) ۱۲۰

۱۹ در شکل روبه‌رو مسیر حرکت ماه به دور زمین وقتی در جهت ساعتگرد از مکان (۱) به مکان (۲) می‌رود نشان داده شده است. مسافت پیموده شده در این حرکت چند برابر اندازه بردار جابه‌جایی است؟

از کتاب درسی



(۲)  $\frac{3\sqrt{2}}{4}\pi$

(۱)  $\frac{\sqrt{2}}{4}\pi$

(۴)  $\sqrt{2}\pi$

(۳)  $\frac{\sqrt{2}}{2}\pi$

۲۰ در شکل روبه‌رو متحرکی روی مسیر دایره‌ای از نقطه A به نقطه B می‌رود. بردار جابه‌جایی در این حرکت

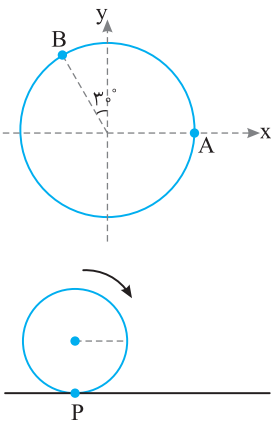
با جهت مثبت محور X چه زاویه‌ای می‌سازد؟

(۱) ۳۰

(۲) ۱۵۰

(۳) ۶۰

(۴) ۱۲۰



۲۱ در شکل روبه‌رو اگر چرخ یک خودرو که قطر لاستیک آن ۶۰cm است روی سطح افقی به اندازه نیم دور بچرخد، بزرگی جابه‌جایی نقطه P چند متر خواهد بود؟ ( $\pi \approx 3$ )

(۲)  $30\sqrt{13}$

(۱) ۶۰

(۴) ۷۵

(۳) ۹۰

## نمای ۲ تندی متوسط و سرعت متوسط

از کتاب درسی

۲۲ بردار سرعت متوسط با بردار ..... هم جهت است و تندی متوسط .....

(۲) جابه‌جایی، می‌تواند مثبت یا منفی باشد.

(۱) تغییر سرعت، الزاماً مثبت است.

(۴) تغییر سرعت، می‌تواند مثبت یا منفی باشد.

(۳) جابه‌جایی، الزاماً مثبت است.

۲۳ سه متحرک سه مسیر مختلف را مطابق جدول زیر طی کرده‌اند. کدام گزینه می‌تواند به ترتیب از راست به چپ مقادیر A، B و C را به درستی نشان می‌دهد؟ (یک‌ها در SI)

سرعت متوسط	زمان	مکان پایانی	مکان آغازین	
A	۴s	$6/4\vec{i}$	$-2\vec{i}$	متحرک (۱)
$-2/8\vec{i}$	۲s	$-2/5\vec{i}$	B	متحرک (۲)
$3/3\vec{i}$	C	$8/6\vec{i}$	$2\vec{i}$	متحرک (۳)

از کتاب درسی

(۱)  $2/1$  و  $3/1\vec{i}$  و ۲

(۲)  $2/1$  و  $-3/1\vec{i}$  و ۲

(۳)  $4/2$  و  $3/1\vec{i}$  و ۴

(۴)  $4/2$  و  $-3/1\vec{i}$  و ۴

برای حل سؤال‌های بعد رسم مسیر حرکت در حل سؤال به ما کمک می‌کند.

۲۴ متحرکی روی خط راست (محور Xها) حرکت می‌کند. در دو لحظه  $t_1 = 2s$  و  $t_2 = 6s$  به ترتیب در مکان‌های  $+4m$  و  $-6m$  مبدأ مکان

قرار دارد. به ترتیب از راست به چپ سرعت متوسط و تندی متوسط متحرک در بازه زمانی  $t_1$  تا  $t_2$  در SI کدام است؟

(۲)  $+2/5, +2/5$

(۱)  $+2/5, -2/5$

(۴)  $+2/5, -2/5$  نمی‌توان اظهار نظر کرد.

(۳)  $-2/5, -2/5$  نمی‌توان اظهار نظر کرد.

۲۵ متحرکی روی محور X حرکت می کند و در مبدأ زمان از مکان  $x_0 = -40\text{m}$  می گذرد و در لحظه  $t_1 = 6\text{s}$  به مکان  $x_1 = 100\text{m}$  می رسد و در نهایت در لحظه  $t_2 = 10\text{s}$  از مکان  $x_2 = 20\text{m}$  می گذرد. اندازه سرعت متوسط این متحرک در SI در این ۱۰s کدام است؟ تجربی - ۹۸

- (۱) ۲۲ (۲) ۱۴ (۳) ۶ (۴) ۲

۲۶ ذره ای در امتداد محور X ها از مبدأ شروع به حرکت می کند و در مدت ۲۰ ثانیه ابتدا تا نقطه A به طول  $50\text{m}$  می رود و بعد به نقطه  $20\text{m}$  برمی گردد. سرعت متوسط ذره در این مدت چند متر بر ثانیه است؟ کنکور دهه های گذشته

- (۱) ۱ (۲) ۴ (۳) صفر (۴) ۲

۲۷ متحرکی از مکان  $-1/6\text{I}$  روی محور X ها شروع به حرکت می کند و پس از ۴s جابه جایی اندازه سرعت متوسط آن  $3/5\text{m/s}$  است. مکان این متحرک در  $t = 4\text{s}$  کدام گزینه است؟ (یکها در SI)

- (۱)  $\bar{x} = 12/4\text{I}$  و  $\bar{x} = -12/4\text{I}$  (۲)  $\bar{x} = 12/4\text{I}$  و  $\bar{x} = -15/6\text{I}$   
(۳)  $\bar{x} = 15/6\text{I}$  و  $\bar{x} = -15/6\text{I}$  (۴)  $\bar{x} = 15/6\text{I}$  و  $\bar{x} = -12/4\text{I}$

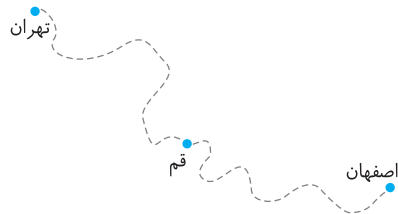
۲۸ مورچه ای از لبه پله اول پلکانی در مدت ۴s خود را به لبه پله دهم می رساند. اگر پهنای هر پله  $40\text{cm}$  و بلندی آن  $30\text{cm}$  باشد، اندازه جابه جایی چند متر و اندازه سرعت متوسط مورچه چند متر بر ثانیه است؟

- (۱) ۱۰، ۴۵۰ (۲) ۵۰۰، ۹ (۳) ۴/۵، ۰/۱ (۴) ۵، ۱/۹

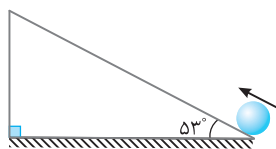
۲۹ متحرکی روی محور X در حال حرکت است. بردار جابه جایی آن در دو ثانیه اول حرکت در SI برابر  $-4\text{I}$  و در مدت دو ثانیه دوم برابر  $2\text{I}$  است. بردار سرعت متوسط و تندی متوسط در چهار ثانیه اول حرکت در SI به ترتیب از راست به چپ کدام است؟ تجربی - ۱۴۰۰

- (۱)  $-1/5$ ،  $-1/2$  (۲)  $1/5$ ،  $1/2$  (۳)  $1/2$ ،  $3/2$  (۴)  $1/2$ ،  $-3/2$

۳۰ خودرویی از تهران راه می افتد و مسیر  $125\text{km}$  تهران تا قم را در مدت یک ساعت و نیم و فاصله  $274\text{km}$  قم تا اصفهان را در مدت زمان  $80$  درصد بیشتر از مسیر قبلی طی می کند. در کل مسیر از تهران تا اصفهان کدام گزینه درست است؟



- (۱) سرعت متوسط خودرو  $95\text{km/h}$  است.  
(۲) تندی متوسط خودرو  $95\text{km/h}$  است.  
(۳) تندی متوسط خودرو  $105\text{km/h}$  است.  
(۴) سرعت متوسط خودرو  $105\text{km/h}$  است.



۳۱ گویی را از پایین سطح شیبدار مقابل به سمت بالا پرتاب کرده و گوی تا ارتفاع  $4\text{m}$  بالا رفته و بازمی گردد. اگر زمان رفت گوی  $3\text{s}$  و زمان بازگشت آن  $5\text{s}$  باشد، به ترتیب از راست به چپ سرعت متوسط و تندی متوسط آن در SI کدام است؟  $(\sin 37^\circ = 0/6)$

- (۱)  $-1/25$ ،  $+1/25$  (۲) صفر،  $+1/25$   
(۳)  $-2/5$ ،  $+2/5$  (۴) صفر،  $+2/5$

سه تست مفهومی زیر برای عمق بخشیدن به یادگیری این مطالب ارائه شده است.

۳۲ کدام گزینه قطعاً نادرست است؟ از کتاب درسی

(۱) تندی متوسط و سرعت متوسط با هم برابرند.  
(۲) تندی متوسط از اندازه سرعت متوسط بیشتر است.  
(۳) اندازه سرعت متوسط از تندی متوسط بیشتر است.  
(۴) ممکن است تندی متوسط صفر نباشد اما سرعت متوسط صفر شود.

۳۳ بردار سرعت متوسط متحرکی که روی محور X ها در حال حرکت است در یک بازه زمانی معین برابر  $\vec{v}_{av} = +4\text{I}$  (در SI) می باشد. کدام گزینه در مورد جهت حرکت این متحرک درست می باشد؟

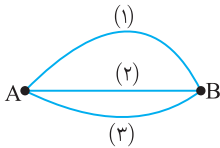
(۱) در جهت مثبت است.  
(۲) ابتدا در جهت مثبت و سپس در جهت منفی است.  
(۳) ابتدا در جهت منفی و سپس در جهت مثبت است.  
(۴) هر سه گزینه می تواند درست باشد.

۳۴ چه تعداد از گزاره های زیر درست است؟ از کتاب درسی

(الف) اگر جهت حرکت متحرک در جهت مثبت باشد الزاماً سرعت متوسط متحرک مثبت است.  
(ب) اگر جهت سرعت متوسط متحرک مثبت باشد متحرک همواره در جهت مثبت محور X ها حرکت کرده است.  
(پ) اگر جهت سرعت متوسط متحرک منفی باشد الزاماً متحرک در جهت منفی محور X ها جابه جا شده است.

(۱) صفر (۲) ۱ (۳) ۲ (۴) ۳

- ۳۵ متحرکی روی خط راست در حرکت است و در مدت ۴s یک بار تغییر جهت می‌دهد، در این ۴s مسافت طی شده ۲ برابر اندازه جابه‌جایی و اختلاف اندازه سرعت متوسط و تندی متوسط برابر ۲m/s است. تندی متوسط متحرک در این مدت چند m/s است؟
- (۱) ۲ (۲) ۶ (۳) ۴ (۴) ۸



- ۳۶ مطابق شکل زیر، سه متحرک با تندی یکسان و ثابت سه مسیر نشان داده شده را طی می‌کنند و سرعت متوسط در مسیرهای (۱) و (۲) و (۳) به ترتیب  $v_{av_1}$ ،  $v_{av_2}$  و  $v_{av_3}$  خواهد بود. کدام گزینه درست است؟
- (۱)  $v_{av_1} = v_{av_2} = v_{av_3}$  (۲)  $v_{av_1} > v_{av_2} > v_{av_3}$  (۳)  $v_{av_1} < v_{av_2} < v_{av_3}$  (۴)  $v_{av_1} > v_{av_2} > v_{av_3}$

### نمای ۳ بررسی تندی متوسط و سرعت متوسط در حرکت چندمرحله‌ای

- ۳۷ تندی متوسط خودرویی که بین دو شهر رفت و آمد می‌کند. در مسیر رفت ۹۰km/h و در مسیر برگشت ۶۰km/h باشد. به ترتیب از راست به چپ سرعت متوسط و تندی متوسط در مسیر رفت و برگشت چند km/h است؟
- (۱) صفر، ۷۲ (۲) ۷۵، ۷۵ (۳) صفر، ۷۵ (۴) ۷۵، ۷۲
- ۳۸ شناگری طول ۵۰ متری استخری را در مسیر رفت با سرعت متوسط ۵m/s و در مسیر برگشت با سرعت متوسط ۲m/s طی می‌کند، سرعت متوسط این شناگر در ۱۴ ثانیه آغازین حرکت چند متر بر ثانیه است؟
- (۱) ۲/۵ (۲) ۷ (۳) ۳ (۴) صفر
- در تست‌های زیر، سرعت یا تندی به همراه زمان، در هر مرحله داده شده است.

- ۳۹ متحرکی طول مسیری را در مدت  $t$  ثانیه طی کرده است. اگر نصف زمان حرکت را با تندی ۱۰m/s و بقیه زمان را با تندی ۴۰m/s طی کرده باشد، تندی متوسط در کل مسیر چند m/s است؟
- (۱) صفر (۲) ۱/۶ (۳) ۲۵ (۴) ۵۰
- ۴۰ راننده‌ای فاصله مستقیم بین دو شهر را به این ترتیب می‌پیماید که ابتدا ۲ ساعت با تندی متوسط ۶۰km/h رانندگی کرده سپس ۳۰ دقیقه برای استراحت توقف کرده و سرانجام برای رسیدن به مقصد با تندی متوسط ۹۰km/h به مدت ۲/۵ ساعت رانندگی می‌کند. تندی متوسط آن در این مدت چند km/h بوده است؟
- (۱) ۱۵۰ (۲) ۷۵ (۳) ۳۰ (۴) ۶۹
- ۴۱ متحرکی روی خط راست به مدت  $t_1$  با سرعت متوسط ۲۰m/s و سپس در همان جهت به مدت  $t_2$  با سرعت متوسط ۴۰m/s حرکت می‌کند. اگر سرعت متوسط در کل مسیر برابر ۲۸m/s باشد، نسبت  $\frac{t_1}{t_2}$  کدام است؟
- (۱)  $\frac{2}{3}$  (۲)  $\frac{3}{2}$  (۳)  $\frac{4}{3}$  (۴)  $\frac{3}{4}$

- ۴۲ متحرکی روی محور X به مدت  $t_1$  با سرعت متوسط ۲۰m/s در جهت محور X و سپس به مدت  $t_2$  با سرعت متوسط ۴۰m/s در خلاف جهت محور X حرکت می‌کند. اگر سرعت متوسط کل ۲۸m/s و خلاف جهت محور X باشد، نسبت  $\frac{t_1}{t_2}$  کدام است؟
- (۱)  $\frac{1}{2}$  (۲)  $\frac{2}{3}$  (۳)  $\frac{1}{4}$  (۴)  $\frac{3}{4}$

- ۴۳ متحرکی در جهت مثبت محور X در حرکت است. اگر سرعت متوسط آن در بازه صفر تا ۸s برابر ۱۵m/s باشد، سرعت متوسط آن در بازه صفر تا ۳s کدام مقدار می‌تواند باشد؟
- (۱) ۱۵m/s (۲) ۲۵m/s (۳) ۳۰m/s (۴) هر سه گزینه می‌توانند درست باشند.

در تست‌های بعد، سرعت یا تندی به همراه جابه‌جایی، در هر مرحله داده شده است.

- ۴۴ متحرکی  $\frac{2}{3}$  مسیر مستقیمی را در یک جهت با سرعت متوسط ۲۸ متر بر ثانیه و  $\frac{1}{3}$  مسیر را با سرعت متوسط ۶ متر بر ثانیه و باقی‌مانده مسیر را با سرعت متوسط ۸ متر بر ثانیه طی می‌کند. سرعت متوسط متحرک در کل مسیر چند متر بر ثانیه است؟
- (۱) ۳۰ (۲) ۱۴ (۳) ۱۲ (۴) ۳/۵

۴۵ متحرکی جابه‌جایی‌های متوالی  $x$ ،  $2x$  و  $3x$  را روی خط راست، در یک سو و با سرعت‌های  $v$ ،  $2v$  و  $3v$  می‌پیماید. سرعت متوسط آن در این حرکت چند  $v$  است؟

- ۱ (۱) ۱/۵ (۲) ۲ (۳) ۲/۵ (۴)

۴۶ متحرکی روی خط راست نیمه اول مسیر را با تندی متوسط  $30\text{ m/s}$  و مسیر باقی‌مانده را در همان جهت در دو مدت زمانی برابر با تندی‌های  $4\text{ m/s}$  و  $16\text{ m/s}$  طی می‌کند. تندی متوسط در کل مسیر چند  $\text{m/s}$  است؟

- ۱۵ (۱) ۲۵ (۲) ۱۲/۵ (۳) ۱۸ (۴)

در تست‌های زیر متحرک روی خط راست و در امتداد یک محور حرکت نمی‌کند.

۴۷ متحرکی ابتدا  $400\text{ m}$  را با سرعت ثابت  $16\text{ m/s}$  به سمت شمال سپس به مدت  $25\text{ s}$  با سرعت ثابت  $12\text{ m/s}$  به طرف شرق حرکت می‌کند. سرعت متوسط متحرک در این جابه‌جایی چند متر بر ثانیه است؟

- ۱۰ (۱) ۱۵ (۲) ۲۰ (۳) ۱۸ (۴)

۴۸ متحرکی در صفحه مختصات  $xoy$ ، در مدت  $5$  ثانیه از نقطه  $A(8, 0)$  به نقطه  $B(0, 8)$  می‌رود. مؤلفه سرعت متوسط آن روی محور  $ox$  چند متر بر ثانیه است؟

- ۱ (۱)  $-1/6\sqrt{2}$  (۲)  $-1/6$  (۳)  $1/6\sqrt{2}$  (۴)  $1/6$

۴۹ یک ذره در صفحه مختصات در امتداد خط راست در بازه زمانی  $3\text{ s}$  تا  $5\text{ s}$  از نقطه  $A(-4, 6)$  به نقطه  $B(8, -3)$  می‌رود تندی متوسط آن چند  $\text{m/s}$  است؟ (یکای در SI)

- ۷/۵ (۱) ۱۵ (۲) ۸ (۳) ۶ (۴)

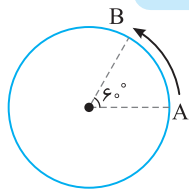
۵۰ متحرکی از نقطه  $(1, 1)$  به نقطه  $(4, 5)$  می‌رود. اگر این جابه‌جایی  $5\text{ s}$  طول بکشد تندی متوسط در این جابه‌جایی چند متر بر ثانیه می‌تواند باشد؟ (یکاهای در SI)

- ۰/۵ (۱) ۰/۲۵ (۲) ۰/۷۵ (۳) ۱/۲۵ (۴)

۵۱ متحرکی از مکان  $\vec{d}_1 = 7\vec{i} + 4\vec{j}$  در مدت  $2\text{ s}$  به مکان  $\vec{d}_2 = 3\vec{i} - \vec{j}$  و سپس در مدت  $3\text{ s}$  به مکان  $\vec{d}_3 = -5\vec{i} - \vec{j}$  می‌رسد، سرعت متوسط متحرک چند متر بر ثانیه است؟

- ۱ (۱)  $\sqrt{2}$  (۲)  $2/6$  (۳)  $\sqrt{5}$  (۴)  $5/6$

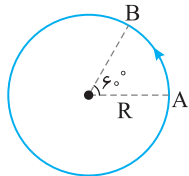
حال دو تست در حرکت به دور دایره با هم حل کنیم از نظر ظاهری دو تست شبیه به هم‌اند اما حل آن‌ها با هم متفاوت است.



۵۲ متحرکی مطابق شکل روی مسیر دایره شکلی به شعاع  $30\text{ m}$ ، در لحظه  $t = 2\text{ s}$  در نقطه A و در لحظه  $t = 5\text{ s}$  در نقطه B است. سرعت متوسط و تندی متوسط متحرک از A تا B چند متر بر ثانیه است؟

- ۱ (۱)  $10, 10\sqrt{3}$  (۲)  $10$  و  $\frac{10\pi}{3}$

- ۳ (۳)  $10\sqrt{3}$ ، ۵ (۴)  $10$  و  $\frac{10\pi}{3}$



۵۳ متحرکی با تندی ثابت  $4\text{ m/s}$ ، کمان A تا B را طی می‌کند. اندازه سرعت متوسط از A تا B چند متر بر ثانیه است؟

- ۱ (۱)  $\frac{12}{\pi}$  (۲) ۴ (۳)  $\frac{\pi}{12}$  (۴)  $\frac{1}{4}$

### نمای ۴ بررسی سرعت متوسط و بردار مکان با معادله حرکت

۵۴ معادله مکان - زمان (معادله حرکت) جسمی در SI به صورت  $x = t^3 - 2t + 1$  است. سرعت متوسط آن در ثانیه سوم حرکتش با سرعت متوسط آن در ثانیه دوم حرکتش چند  $\text{m/s}$  اختلاف دارد؟

- ۱۲ (۱) ۶ (۲) صفر (۳) ۱۵ (۴)

۵۵ معادله حرکت متحرکی که روی محور X حرکت می‌کند، در SI به صورت  $x = 3t^2 - 15t + 12$  است. سرعت متوسط متحرک در بازه  $t_1 = 0$  تا  $t_2 = t'$  صفر شده است،  $t'$  چند ثانیه است؟

- ۱ (۱) ۲ (۲) ۵ (۳) ۴ (۴)

در سه تست زیر از لحظه تغییر جهت بردار مکان سؤال شده است.

۵۶  معادله حرکت متحرکی که روی خط راست حرکت می کند در SI به صورت  $x = t^2 + t + 1$  است. بردار مکان آن چند بار تغییر جهت می دهد؟  
 (۱) صفر (۲) ۱ (۳) ۲ (۴) ۳

۵۷  معادله حرکت متحرکی به صورت  $x = t^2 - t - 6$  است. سرعت متوسط متحرک از  $t = 0$  تا لحظه تغییر جهت بردار مکان چند متر بر ثانیه است؟  
 (۱) ۱ (۲) ۲ (۳) ۳ (۴) ۴

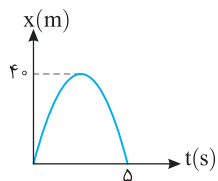
۵۸  معادله مکان - زمان متحرکی در SI به صورت  $x = \alpha + \beta t^3$  است. اگر سرعت متوسط متحرک در بازه زمانی صفر تا ۳s برابر  $18 \text{ m/s}$  و مکان متحرک در لحظه  $t = 2 \text{ s}$  برابر  $24 \text{ m}$  باشد، مقادیر  $\alpha$  و  $\beta$  در SI کدام اند؟  
 (۱) ۳ و ۸ (۲) ۲ و ۸ (۳) ۳ و ۶ (۴) ۲ و ۶

۵۹  متحرکی با معادله  $x = 0.2 \cos 10\pi t$  روی محور xها در حرکت است. در بازه  $t_1 = \frac{1}{6} \text{ s}$  و  $t_2 = \frac{4}{3} \text{ s}$  سرعت متوسط متحرک چند  $\text{m/s}$  است؟ (یکها در SI)  
 (۱) صفر (۲)  $+\frac{3}{175}$  (۳)  $-\frac{3}{175}$  (۴)  $-\frac{3}{175}$

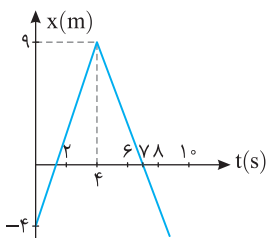
۶۰  متحرکی روی خط راست در راستای محور xها در حرکت است و از نقطه A به نقطه B می رود. نسبت جابه جایی (d) به مسافت طی شده ( $\ell$ ) کدام گزینه است؟  
 (۱)  $0 < \frac{d}{\ell} \leq 1$  (۲)  $\frac{d}{\ell} \geq 1$  (۳)  $-1 \leq \frac{d}{\ell} \leq 1$  (۴)  $\frac{d}{\ell} = 1$

۶۱  دو متحرک A و B که روی خط راست در حرکت هستند، در یک لحظه به هم می رسند. در این لحظه کدام گزینه در مورد این دو متحرک قطعاً درست است؟  
 (۱) مسافت پیموده شده آنها یکسان است.  
 (۲) اندازه بردار جابه جایی آنها یکی است.  
 (۳) مکان آنها نسبت به هر مبدأ یکسان است.  
 (۴) جابه جایی و مسافت پیموده شده آنها به مبدأ اختیاری بستگی دارد.

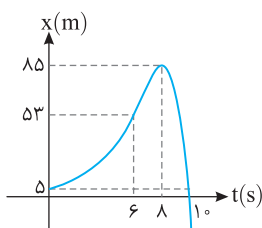
### نمای ۵ بررسی مکان، مسافت و جابه جایی در نمودار مکان - زمان



۶۲  نمودار مکان - زمان متحرکی مطابق شکل روبه رو است. جابه جایی و مسافت طی شده در بازه صفر تا  $5 \text{ s}$ ، به ترتیب از راست به چپ کدام است؟  
 (۱) صفر، ۸۰ (۲) ۸۰، ۸۰  
 (۳) صفر، ۴۰ (۴) ۴۰، ۴۰



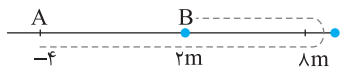
۶۳  نمودار مکان - زمان متحرکی مطابق شکل روبه رو است. جابه جایی متحرک در بازه صفر تا  $8 \text{ s}$  چند متر است؟  
 (۱) ۱ (۲) ۱۲ (۳) ۱۳ (۴) ۸



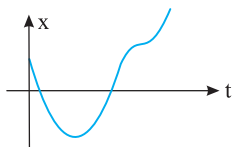
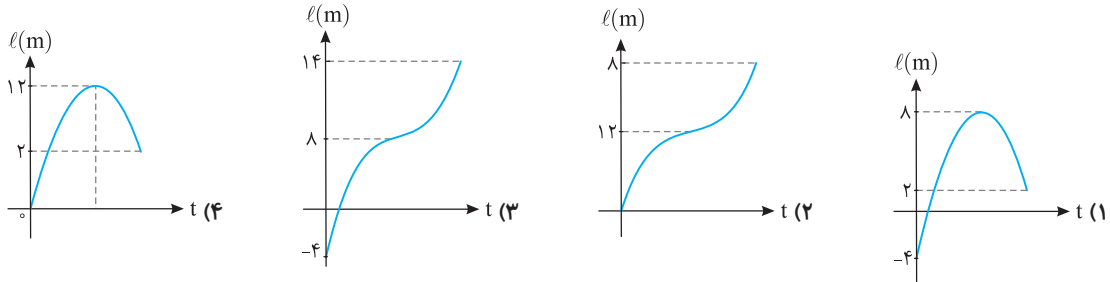
۶۴  شکل روبه رو، نمودار مکان - زمان متحرکی است که روی خط راست حرکت می کند. کدام یک از موارد زیر در مورد این حرکت درست است؟  
 (۱) جابه جایی در مدت  $t = 8 \text{ s}$  تا  $t = 10 \text{ s}$  برابر  $48 \text{ m}$  است.  
 (۲) جابه جایی در مدت  $t = 6 \text{ s}$  تا  $t = 10 \text{ s}$  برابر  $64 \text{ m}$  است.  
 (۳) مسافت طی شده در مدت  $t = 8 \text{ s}$  تا  $t = 10 \text{ s}$  برابر  $48 \text{ m}$  است.  
 (۴) مسافت طی شده در مدت  $t = 6 \text{ s}$  تا  $t = 10 \text{ s}$  برابر  $117 \text{ m}$  است.



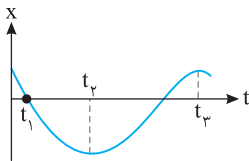

در حل دو تست زیر باید به مسیر حرکت دقت کنیم:



مسیر حرکت متحرکی روی محور X از نقطه A تا B به صورت روبه‌رو است. نمودار مسافت - زمان متحرک به صورت کدام گزینه می‌تواند باشد؟



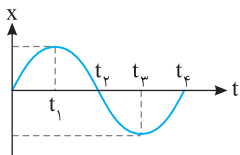
نمودار مکان - زمان متحرکی که روی خط راست حرکت می‌کند، در SI به صورت زیر است. کدام گزینه مسیر حرکت متحرک را به درستی نشان می‌دهد؟



در کدام یک از لحظات نشان داده شده در نمودار مکان - زمان، متحرک بیشترین فاصله را از مبدأ دارد؟

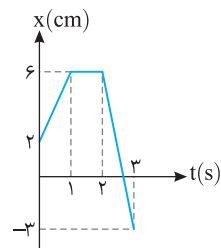
- (۱) صفر
- (۲)  $t_2$
- (۳)  $t_1$
- (۴)  $t_3$

در سه تست زیر جهت حرکت و جهت بردار مکان در نمودار  $x-t$  را بررسی می‌کنیم:



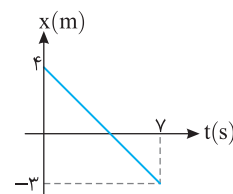
در شکل روبه‌رو نمودار مکان - زمان متحرکی رسم شده است. در کدام بازه زمانی متحرک در حال حرکت در جهت منفی محور است؟

- (۱)  $t_2$  تا  $t_4$
- (۲)  $t_3$  تا  $t_4$
- (۳)  $t_1$  تا  $t_3$
- (۴) صفر تا  $t_1$



شکل روبه‌رو نمودار مکان - زمان مورچه‌ای را نشان می‌دهد که روی محور X حرکت می‌کند. مدت زمانی که متحرک در حال نزدیک شدن به مبدأ است، برابر کدام گزینه می‌باشد؟

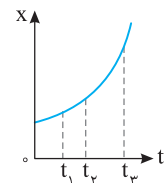
- (۱)  $\frac{1}{3}$  s
- (۲)  $\frac{2}{3}$  s
- (۳) ۳ s
- (۴)  $\frac{1}{2}$  s



شکل روبه‌رو نمودار مکان - زمان متحرکی است که روی محور X حرکت می‌کند. در چه لحظه‌ای بردار مکان متحرک تغییر جهت می‌دهد؟


- (۱) ۲
- (۲) ۳
- (۳) ۴
- (۴) ۵

نمای ۶ نمودار مکان - زمان، تندی و سرعت





نمودار مکان-زمان متحرکی سهمی و مطابق شکل روبه‌رو است. سرعت متوسط متحرک در کدام بازه زمانی بیشتر است؟


- (۱) صفر تا  $t_1$
- (۲)  $t_3$  تا  $t_1$
- (۳)  $t_3$  تا  $t_2$
- (۴) بستگی به اندازه فاصله‌های زمانی دارد.

۱۱۱  معادله حرکت متحرکی در SI به صورت  $x = t^2 + 7t + 12$  است. در چه لحظه‌ای متحرک در کمترین فاصله خود از مبدأ مکان قرار دارد؟  
 (۱) صفر (۲) ۱ (۳) ۱۲ (۴) ۵

مسافت و تندی متوسط به طور مستقیم از دو معادله مکان - زمان به دست نمی‌آید. با حل دو تست زیر چگونگی به دست آوردن آن‌ها را یاد بگیریم.


۱۱۲  معادله مکان - زمان متحرکی در SI به صورت  $x = 2t^2 + 4t - 8$  است. در فاصله زمانی  $t_1 = 0$  s تا  $t_2 = 2$  s، مسافتی که متحرک طی می‌کند، چند برابر اندازه جابه‌جایی آن است؟  
 (۱) ۱ (۲) ۱/۵ (۳) ۱/۶ (۴) ۲


۱۱۳  معادله مکان - زمان متحرکی که در راستای محور X حرکت می‌کند، در SI به صورت  $x = t^2 - t - 6$  است، تندی متوسط در بازه  $t = 1$  s تا  $t = 4$  s چند متر بر ثانیه از بزرگی سرعت متوسط در همان بازه بیشتر است؟  
 (۱) ۵ (۲) صفر (۳) ۴ (۴) ۱

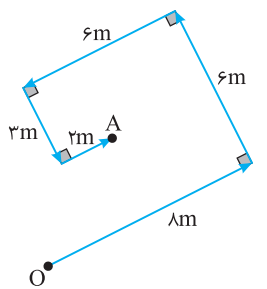
۱۱۴  معادله مکان - زمان متحرکی در SI به صورت  $x = at^2 + bt + 4$  است. اگر در تمام بازه‌های زمانی اندازه جابه‌جایی و مسافت با هم برابر باشند، کدام گزینه الزاماً درست است؟  
 (۱)  $ab < 0$  (۲)  $ab > 0$  (۳)  $a = 0$  (۴)  $b = 0$


سطح دوم

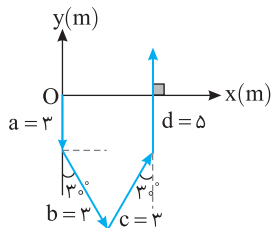
یینجره دو جداره


۱۱۵  متحرکی روی محور Xها در مبدأ زمان از مکان  $X_0 = 8$  m عبور می‌کند و در مدت ۵ s به ترتیب در مکان‌های  $X = 12$  m و  $X = 10$  m تغییر جهت می‌دهد و در امتداد محور Xها به حرکت خود ادامه می‌دهد. اگر تندی متوسط متحرک در این مدت  $4$  m/s باشد، سرعت متوسط متحرک در این مدت چند متر بر ثانیه خواهد بود؟  
 (۱) ۴ (۲) ۳/۶ (۳) ۲/۴ (۴) ۳/۲

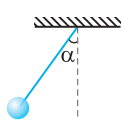
۱۱۶  متحرکی روی خط راست در یک جهت در حال حرکت است. متحرک نیمه اول مسیر را با تندی متوسط  $20$  m/s طی می‌کند. در نیمه دوم مسیر، متحرک  $\frac{1}{3}$  زمان را با تندی متوسط  $8$  m/s و بقیه زمان را با تندی  $6$  m/s طی می‌کند. تندی متوسط متحرک در کل مسیر حرکت چند m/s است؟  
 (۱) ۱۰ (۲) ۱۲ (۳) ۱۱ (۴) ۱۵





۱۱۷  متحرکی مطابق شکل از نقطه O شروع به حرکت کرده و در مسیر نشان داده شده به نقطه A رسیده است. اندازه جابه‌جایی از O تا A چند متر است؟  
 (۱) ۲۵ (۲)  $5\sqrt{2}$  (۳) ۵ (۴)  $3\sqrt{2}$



۱۱۸  ذره‌ای مطابق شکل از مبدأ مختصات به راه می‌افتد و جابه‌جایی‌های  $\vec{a}$ ،  $\vec{b}$ ،  $\vec{c}$  و  $\vec{d}$  که اندازه آن‌ها به ترتیب  $3$  m،  $3$  m،  $3$  m و  $5$  m است را طی می‌کند. بردار جابه‌جایی که ذره در ادامه باید طی کند تا مکانش  $\vec{r} = -2\vec{j}$  شود، کدام گزینه است؟  
 (۱)  $-3\vec{i} + 3\vec{j}$  (۲)  $-3\vec{i} + 4\vec{j}$  (۳)  $-3\vec{i} - 4\vec{j}$  (۴)  $3\vec{i} - 3\vec{j}$

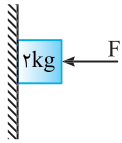


۱۱۹  در شکل روبه‌رو آونگی را رها می‌کنیم تا در طرف دیگر راستای قائم نیز به اندازه  $\alpha$  درجه منحرف شود. اگر نسبت مسافت به اندازه جابه‌جایی گوی آونگ در این مسیر  $\frac{\sqrt{2}}{4} \pi$  باشد،  $\alpha$  چند درجه است؟  
 (۱) ۴۵ (۲) ۳۷ (۳) ۳۰ (۴) ۶۰

۱۲۰  ذره‌ای در صفحه افقی XOY، در بازه‌های زمانی ۳ s، ۵ s و ۴ s به ترتیب جابه‌جایی‌های  $\vec{d}_1 = 5\vec{i} - 2\vec{j}$ ،  $\vec{d}_2 = 3\vec{i} + 7\vec{j}$  و  $\vec{d}_3 = 4\vec{i} + 4\vec{j}$  را می‌پیماید. اندازه سرعت متوسط در کل جابه‌جایی چند متر بر ثانیه است؟ (یکایها در SI)  
 (۱) ۲/۵ (۲) ۱/۲۵ (۳) ۴ (۴) ۷/۲۵

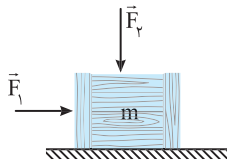
۱۰۸۳ ۵ جسمی به جرم  $4\text{ kg}$  روی سطح افقی تحت اثر نیروی افقی  $F$  با سرعت ثابت  $5\text{ m/s}$  حرکت می‌کند. اگر  $F$  قطع شود، جسم پس از طی مسافت  $4$  متر متوقف می‌شود،  $F$  چند نیوتون است؟

- ۱۲/۵ (۴)      ۲۰ (۳)      ۱۰ (۲)      ۲/۵ (۱)



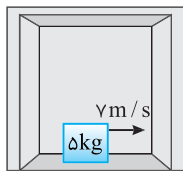
۱۰۸۳ ۶ در شکل روبه‌رو جسم تحت تأثیر نیروی  $F=40\text{ N}$  با تندی ثابت  $v=10\text{ m/s}$  در حال حرکت به سمت پایین می‌باشد. اگر نیروی  $F$  را  $\frac{3}{2}$  برابر کنیم جسم پس از طی چه مسافتی برحسب متر متوقف می‌شود؟

- ۰/۷۵ (۴)      ۱/۲۵ (۳)      ۲/۵ (۲)      ۱۰ (۱)



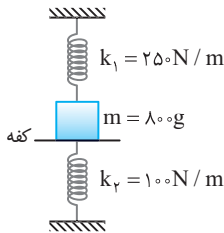
۱۰۸۳ ۷ مطابق شکل مقابل، دو نیروی افقی و قائم  $\vec{F}_1$  و  $\vec{F}_2$  به جسمی که روی سطح افقی قرار دارد، وارد می‌شود و جسم ساکن است. اگر بزرگی این دو نیرو، هر یک  $2$  برابر شود و جسم همچنان ساکن بماند، نیرویی که سطح به جسم وارد می‌کند،  $k$  برابر می‌شود. کدام مورد درست است؟

- $2 < k < 3$  (۱)       $1 < k < 2$  (۲)       $k = 2$  (۳)       $k = 1$  (۴)



۱۰۸۳ ۸ جسمی به جرم  $5\text{ kg}$  را کف آسانسوری که با شتاب  $4\text{ m/s}^2$  در حال حرکت به سمت بالا است با تندی افقی  $7\text{ m/s}$  روی کف آسانسور تماس بر کف پرتاب می‌کنیم. اگر ضریب اصطکاک جنبشی بین جسم و سطح آسانسور  $0.2$  باشد، این جسم پس از چند ثانیه متوقف می‌شود؟ ( $g=10\text{ N/kg}$ )

- ۱/۵ (۱)      ۱ (۲)      ۳ (۳)      ۲/۵ (۴)



۱۰۸۳ ۹ مطابق شکل وزنه‌ای را توسط کفه‌ای در تعادل قرار داده‌ایم به طوری که فنرها طول طبیعی خود را داشته باشند. اگر کفه را رها کنیم  $2\text{ cm}$  پایین می‌آید، شتاب وزنه چند متر بر مربع ثانیه و به کدام سمت می‌شود؟ ( $g=10\text{ N/kg}$ )

- ۵ (۱)      ۱۰ (۲)      ۲/۵ (۳)      ۱/۲۵ (۴)

۱۰۸۳ ۱۰ گلوله‌ای به جرم  $m$  از لبه یک بام به طور مایل پرتاب می‌شود. اندازه تغییر سرعت گلوله در مدت  $5\text{ s}$  چند متر بر ثانیه است؟ ( $g=10\text{ N/kg}$ )

- ۴۰ (۴)      ۵۰ (۳)      ۲۰ (۲)      ۲۵ (۱)

## سینماتیک حرکت دایره‌ای



### نمای ۲۹ دوره و تندی

اگر از شما پرسیده شود مدت زمان گردش زمین به دور خورشید چقدر است، بلافاصله پاسخ خواهید داد،  $365$  روز، اما اگر پرسیده شود سرعت گردش زمین به دور خورشید چقدر است، احتمالاً پاسخی نخواهید داشت. این امر نشان می‌دهد که در حرکت‌های دوره‌ای، آنچه مهم است مدت زمان پیمودن یک دور کامل است. این مدت زمان را با  $T$  نشان داده و دوره می‌نامیم.

**تعریف:** زمان پیمودن یک دور کامل را دوره (پریود) گویند و آن را با حرف  $T$  نشان می‌دهند. یکای دوره ثانیه است.

**نکته:** اگر متحرک روی مسیر دایره‌ای به شعاع  $r$  با تندی ثابت  $v^*$  در حرکت باشد، در مدت یک دوره یک دور روی محیط دایره می‌چرخد بنابراین مسافت طی شده در مدت  $T$  برابر محیط دایره است و تندی خواهد شد:

$$v = \frac{\ell}{d} \xrightarrow{\ell=2\pi r} v = \frac{2\pi r}{T}, \quad T = \frac{2\pi r}{v}$$

**نکته:** دوره حرکت عقربه ثانیه‌شمار  $60\text{ s}$  یا  $1\text{ min}$  یا  $\frac{1}{60}\text{ h}$  است و دوره حرکت عقربه دقیقه‌شمار  $3600\text{ s}$  یا  $60\text{ min}$  یا  $1\text{ h}$  است و دوره حرکت عقربه ساعت‌شمار  $43200\text{ s}$  یا  $720\text{ min}$  یا  $12\text{ h}$  است.

**نکته:** دوره حرکت وضعی زمین به دور محور خودش  $24\text{ h}$  است.

\* در این فصل تندی یعنی اندازه سرعت را با حرف  $v$  نمایش می‌دهیم.

**مسئله ۱** در یک ساعت عقربه‌ای طول عقربه ثانیه‌شمار  $\frac{4}{3}$  طول عقربه ساعت‌شمار است.

**الف)** دوره حرکت عقربه ثانیه‌شمار چند برابر سرعت عقربه ساعت‌شمار است؟

**ب)** تندی نوک عقربه ثانیه‌شمار چند برابر تندی نوک عقربه ساعت‌شمار است؟

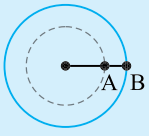
**راهدل** الف) نسبت دوره‌ها خواهد شد:

$$\frac{T_s}{T_h} = \frac{1 \text{ h}}{60} = \frac{1}{720}$$

$$\frac{v_s}{v_h} = \frac{\frac{2\pi r_s}{T_s}}{\frac{2\pi r_h}{T_h}} = \frac{T_h}{T_s} \times \frac{r_s}{r_h} \Rightarrow \frac{v_s}{v_h} = 720 \times \frac{4}{3} = 960$$

**ب)** نسبت تندی نوک عقربه‌ها خواهد شد:

**نکته** دوره تمام نقاط واقع بر یک صفحه گردان، با هم برابر هستند.



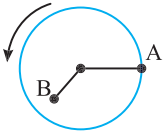
شکل (۱)

$$T_A = T_B$$

$$T = \frac{t}{N}$$

**نکته** اگر در مدت  $t$ ، تعداد دورها  $N$  باشد، دوره خواهد شد:

هنگامی که در کلاس درس از دانش‌آموزان می‌پرسیم که اگر روی یک صفحه گرامافون (یا CD) در حال چرخش دو لکه رنگی A و B وجود داشته باشد (شکل (۱))، تندی کدامیک بیشتر است؟ اغلب پاسخ می‌دهند تندی A و B با هم برابر است. این پاسخ نادرست است زیرا در مدت یک دوره، B مسافت بیشتری را طی می‌کند، بنابراین تندی B بیشتر است. برای درک بهتر مسأله زیر را با هم حل می‌کنیم:



**مسئله ۲** در شکل روبه‌رو روی یک صفحه گردان دو لکه رنگی A و B نقش بسته است و صفحه در مدت یک دقیقه،  $30$  دور می‌چرخد.  $(30 \text{ rpm})$  فاصله A و B از مرکز چرخش به ترتیب  $40 \text{ cm}$  و  $25 \text{ cm}$  است.

**الف)** دوره حرکت هر لکه را بیابید. **ب)** تندی هر لکه را حساب کنید.

**راهدل** الف) دوره را می‌توان با یک تناسب ساده و یا روش زنجیره‌ای به‌دست آورد.

$$N = 30 \text{ دور} \quad \left| \quad t = 60 \text{ s} \right. \quad \left. \begin{array}{l} \text{دور ۱} \\ \text{دور ۳۰} \end{array} \right. \quad \frac{t}{T} \Rightarrow T = \frac{t}{N} \Rightarrow T = 2 \text{ s} \quad \text{یا} \quad T = \frac{1 \text{ min}}{30 \text{ دور}} \times \frac{60 \text{ s}}{1 \text{ min}} \Rightarrow T = 2 \text{ s}$$

$$T_A = T_B = 2 \text{ s} \quad \text{دوره A و B با هم برابر است:}$$

**ب)** تندی A و B خواهد شد:

$$T = \frac{2\pi r}{v} \Rightarrow v = \frac{2\pi r}{T} \quad \left\{ \begin{array}{l} v_A = \frac{2\pi \times (40/100)}{2} \Rightarrow v_A = 0.4\pi \text{ m/s} \\ v_B = \frac{2\pi \times (25/100)}{2} = 0.25\pi \text{ m/s} \end{array} \right.$$

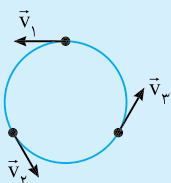
**نتیجه** کاملاً مشخص است که تندی نقاط دورتر از مرکز، بیشتر است، اما دوره تمام نقاط روی صفحه با هم برابر است.

**یادآوری** بردار سرعت در هر نقطه بر مسیر حرکت مماس است.

**نکته** حرکت دایره‌ای با تندی ثابت یک حرکت شتابدار است، زیرا اگر چه اندازه سرعت تغییر نمی‌کند اما در هر

لحظه مطابق شکل جهت بردار سرعت در حال تغییر است و بنابراین حرکت شتابدار است. در واقع اگر تندی ثابت باشد

اندازه بردارهای  $v_1$  و  $v_2$  و  $v_3$  برابر است اما بردارهای  $\vec{v}_1$  و  $\vec{v}_2$  و  $\vec{v}_3$  یکسان نیستند.



**نکته** تمام تعاریف حرکت‌شناسی مانند سرعت متوسط  $v_{av} = \frac{\Delta x}{\Delta t}$ ، شتاب متوسط  $a_{av} = \frac{\Delta v}{\Delta t}$  و ... در حرکت دایره‌ای نیز کاربرد دارد، اما باید همواره به جهت بردارها دقت کرد.

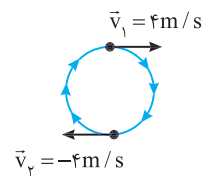
**مسئله ۳** ذره‌ای روی مسیر دایره‌ای به شعاع  $20\text{cm}$  با تندی ثابت  $4\text{m/s}$  در حرکت است.

**الف)** دوره حرکت چند ثانیه است؟ **ب)** سرعت متوسط در مدت یک دوره را بیابید. **پ)** اندازه شتاب متوسط در مدت نیم‌دوره چند متر بر مجذور ثانیه است؟ **ت)** اگر جرم ذره  $100\text{g}$  باشد در مدت نیم‌دوره اندازه تغییر تکانه چند واحد SI است؟

$$T = \frac{2\pi r}{v} \Rightarrow T = \frac{2 \times \pi \times (0.2)}{4} \Rightarrow T = \frac{\pi}{10} \text{ s}$$

**راه‌حل** الف) با توجه به تعریف دوره:

**ب)** در مدت یک دوره ذره به جای اول باز می‌گردد و جابه‌جایی صفر است بنابراین سرعت متوسط صفر است.  $v_{av} = \frac{\Delta x}{\Delta t} \xrightarrow{\Delta x=0} v_{av} = 0$



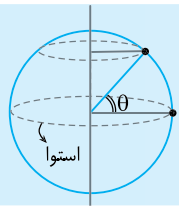
**پ)** در مدت نیم‌دوره ذره روی دایره نصف محیط را مطابق شکل می‌چرخد. در این صورت بردار سرعت قرینه می‌شود و شتاب متوسط خواهد شد:

$$a_{av} = \frac{\Delta v}{\Delta t} \Rightarrow a_{av} = \frac{|-4 - 4|}{\frac{\pi}{20}} = \frac{160}{\pi} \text{ m/s}^2$$

**ت)** دقت کنید اندازه سرعت ثابت است اما جهت بردار سرعت قرینه شده است از این رو اندازه تغییر تکانه خواهد شد:

$$|\Delta \vec{P}| = m |\Delta \vec{v}| = 0.1 \times |-4 - 4| = 0.8 \text{ kg m/s}$$

یکی از حرکت‌های دایره‌ای حرکت زمین به گرد محور خود است. تمام اجسام و نقاط روی زمین به همراه زمین می‌چرخند و یک مسیر دایره‌ای را طی می‌کنند. دوره همه نقاط یکسان و برابر  $T = 24\text{h}$  است، اما تندی همه نقاط با هم برابر نیست.



**نکته** روی سطح زمین دایره‌هایی فرضی موازی خط استوا در نظر گرفته می‌شود که به آن‌ها مدارهای جغرافیایی گویند. در شکل روبه‌رو مدار  $\theta$  درجه نشان داده شده است.

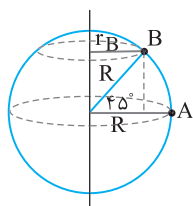
**مسئله ۴** دو نقطه  $A$  و  $B$  را روی زمین هم‌تراز سطح دریا در نظر بگیرید.  $A$  روی خط استوا و  $B$  در مدار  $45^\circ$  جغرافیایی.

**الف)** نسبت دوره حرکت  $A$  به دوره حرکت  $B$  را بیابید.

**ب)** نسبت تندی حرکت  $A$  به تندی حرکت  $B$  را بیابید. (فرض کنید زمین، یک کره کامل به شعاع  $R$  است.)

$$T_A = T_B = 24\text{h} \Rightarrow \frac{T_A}{T_B} = 1$$

**راه‌حل** الف) دوره چرخش تمام نقاط زمین بیست و چهار ساعت است.



**ب)** اگر زمین را کره کامل در نظر بگیریم، شعاع چرخش نقطه  $A$  برابر با شعاع کره زمین است ( $r_A = R$ ) و شعاع

$$r_B = R \cos 45^\circ$$

چرخش نقطه  $B$  با توجه به شکل روبه‌رو برابر است با:

$$\frac{v_A}{v_B} = \frac{\frac{2\pi r_A}{T_A}}{\frac{2\pi r_B}{T_B}} = \frac{r_A}{r_B} = \frac{R}{R \cos 45^\circ} \Rightarrow \frac{v_A}{v_B} = \frac{1}{\cos 45^\circ} = \sqrt{2}$$

**نمای ۳۰** شتاب مرکزگرا

**نکته** هرگاه متحرکی بر مسیری خمیده در حال حرکت باشد، نیروی خالص وارد بر آن صفر نیست و حرکت شتابدار است. اگر نیروی خالص صفر باشد بنا بر قانون اول نیوتون متحرک باید روی خط راست با سرعت ثابت حرکت کند.

**نکته** در حرکت دایره‌ای یکنواخت (با تندی ثابت) همواره نیرویی در امتداد شعاع و رو به مرکز، جسم را بر مسیر دایره‌ای نگه می‌دارد که به آن نیروی مرکزگرا گویند. ( $F_c$ )

**تست ۲۰** ماهواره‌ای در مداری به شعاع  $2R_e$  دور زمین می‌چرخد. نیروی مرکزگری وارد بر ماهواره چه کسری از وزن ماهواره در سطح زمین است؟ ( $R_e$  شعاع کره زمین است.)

- (۱)  $\frac{1}{4}$  (۲)  $\frac{1}{9}$  (۳) ۱ (۴)  $\frac{1}{2}$

**پاسخ** نیروی وزن ماهواره در محل ماهواره  $(W_h)$ ، نیروی مرکزگرا است. یعنی به جای نسبت نیروی مرکزگری وارد بر ماهواره به وزن ماهواره در سطح زمین، نسبت نیروی وزن در محل ماهواره و نیروی وزن روی سطح زمین را حساب می‌کنیم.

$$\frac{F_c}{W} = \frac{W_h}{W} = \frac{mg_h}{mg} = \frac{G \frac{M_e}{(2R_e)^2}}{G \frac{M_e}{R_e^2}} = \frac{1}{4}$$

گزینه ۱ ✓

**نکته** برای اجسام درون ماهواره حالت بی‌وزنی وجود دارد.

**تست ۲۱** شخصی به جرم  $60\text{kg}$  در ماهواره‌ای روی یک نیروسنج ایستاده است و شعاع مدار ماهواره  $\frac{3}{2}R_e$  ( $R_e$  شعاع زمین) است. نیروسنج چند نیوتون را نشان می‌دهد؟

- (۱) ۴۰۰ (۲)  $\frac{800}{3}$  (۳) ۳۰۰ (۴) صفر

**پاسخ** در یک ماهواره که به گرد زمین می‌گردد، جسم بر تکیه‌گاه خود نیرویی وارد نمی‌کند و نیروسنج عدد صفر را نشان می‌دهد. **گزینه ۴** ✓

### تکانه و انرژی جنبشی ماهواره

در بعضی از تست‌ها درباره انرژی جنبشی ( $K = \frac{1}{2}mv^2$ ) و تکانه ( $P = mv$ ) یک ماهواره سؤال می‌شود.

**تست ۲۲** ماهواره‌های A و B به ترتیب به جرم  $350\text{kg}$  و  $700\text{kg}$  در مدارهای دایره‌ای به دور زمین می‌چرخند. اگر فاصله ماهواره A و B از سطح زمین به ترتیب  $1600\text{km}$  و  $3200\text{km}$  باشد، انرژی جنبشی ماهواره A چند برابر انرژی جنبشی ماهواره B است؟ (شعاع کره زمین  $6400\text{km}$  است)

- (۱) ۱ (۲) ۴ (۳)  $\frac{3}{5}$  (۴)  $\frac{5}{12}$

**پاسخ** نسبت تندی چرخش ماهواره A به تندی چرخش ماهواره B را حساب می‌کنیم:

$$\frac{v_A}{v_B} = \sqrt{\frac{r_B}{r_A}} \Rightarrow \frac{v_A}{v_B} = \sqrt{\frac{6400+3200}{6400+1600}} \Rightarrow \frac{v_A}{v_B} = \sqrt{\frac{6}{5}}$$

$$\frac{K_A}{K_B} = \frac{\frac{1}{2}m_A v_A^2}{\frac{1}{2}m_B v_B^2} \Rightarrow \frac{K_A}{K_B} = \frac{350}{700} \times \frac{6}{5} \Rightarrow \frac{K_A}{K_B} = \frac{3}{5}$$

نسبت انرژی جنبشی A به B خواهد شد: **گزینه ۳** ✓

### سینماتیک حرکت دایره‌ای

### ینجره ینجره

### نمای ۲۹ دوره و تندی

**۱۰۸۴** دوره متحرکی که با حرکت یکنواخت، دایره‌ای به قطر ۱۵ متر را در هر دقیقه ۲۰ دور می‌زند،  $(20\text{rpm})$  چند ثانیه است؟

- (۱)  $1/5$  (۲) ۳ (۳)  $2\pi$  (۴)  $3\pi$

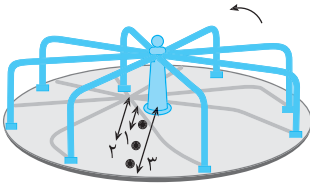
**۱۰۸۵** دوره حرکت دورانی زمین به دور محور خود، چند برابر دوره عقربه ساعت‌شمار است؟

- (۱) ۱ (۲) ۲۴ (۳) ۲ (۴)  $\frac{1}{2}$

۱۰۸۶ دوره متحرکی که یک مسیر دایره‌ای را یکنواخت طی می‌کند.  $\omega/5s$  است. این چرخ در پایان ۱۵ ثانیه چند رادیان چرخیده است؟

- ۱)  $15\pi$       ۲)  $\frac{3}{\pi}$       ۳)  $60\pi$       ۴)  $30\pi$

۱۰۸۷ یک دیسک گردان در شهر بازی را در نظر بگیرید که توسط یک موتور الکتریکی می‌چرخد. سه فرد روی دیسک قرار دارند. اگر  $T$  دوره و  $v$  تندی حرکت این افراد باشد کدام گزینه درست است؟



۱)  $v_1 = v_2 = v_3, T_1 = T_2 = T_3$

۲)  $v_1 = v_2 = v_3, T_1 < T_2 < T_3$

۳)  $v_1 < v_2 < v_3, T_1 = T_2 = T_3$

۴)  $v_1 < v_2 < v_3, T_1 > T_2 > T_3$

۱۰۸۸ پره یک بالگرد در هر دقیقه، ۳۰۰۰ دور می‌چرخد (۳۰۰۰rpm) و شعاع پره  $1/8m$  است، تندی نوک پره بالگرد چند متر بر ثانیه است؟ ( $\pi=3$ )

- ۱)  $540$       ۲)  $270$       ۳)  $360$       ۴)  $186$

در سه تست زیر درباره نقاط واقع بر سطح زمین پرسش شده است.

۱۰۸۹ جسم A در مدار  $45^\circ$  جغرافیایی و جسم B در مدار  $60^\circ$  جغرافیایی، روی سطح زمین و نسبت به زمین ساکن هستند. دوره A چند برابر دوره B است؟

- ۱)  $\sqrt{\frac{3}{2}}$       ۲)  $\sqrt{\frac{2}{3}}$       ۳)  $\frac{2}{3}$       ۴)  $1$

۱۰۹۰ اگر شعاع کره زمین  $6400km$  فرض شود، تندی نقطه‌های واقع در مدار  $37^\circ$  روی زمین چند کیلومتر بر ساعت است؟ ( $\pi=3, \sin 37^\circ = 3/5$ )

- ۱)  $1200$       ۲)  $1200$       ۳)  $1280$       ۴)  $2320$

۱۰۹۱ در حرکت وضعی زمین به دور محور خود، تندی نقطه‌ای در مدار جغرافیایی  $60^\circ$  درجه شمالی، چند برابر تندی نقطه‌ای واقع در مدار جغرافیایی  $30^\circ$  درجه شمالی است؟

ریاضی - ۸۵

- ۱)  $2$       ۲)  $\sqrt{3}$       ۳)  $\frac{1}{2}$       ۴)  $\frac{\sqrt{3}}{3}$

### نمای ۳۰ شتاب مرکزگرا

۱۰۹۲ جرم گلوله A دو برابر جرم گلوله B است. هر دو روی یک مسیر دایره‌ای با تندی برابر می‌چرخند. شتاب مرکزگرای گلوله A چند برابر شتاب مرکزگرای گلوله B است؟

کنکور دهه‌های گذشته

- ۱)  $1$       ۲)  $2$       ۳)  $3$       ۴)  $4$

۱۰۹۳ متحرکی با تندی ثابت  $v_1$ ، دایره‌ای به شعاع  $40$  متر و متحرک دیگری با تندی ثابت  $v_2$ ، دایره‌ای به شعاع  $80$  متر را می‌پیماید. اگر شتاب مرکزگرای آن‌ها برابر باشد، کدام است؟

کنکور دهه‌های گذشته

- ۱)  $\sqrt{2}$       ۲)  $2\sqrt{2}$       ۳)  $2$       ۴)  $4$

۱۰۹۴ متحرکی روی مسیر دایره‌ای به شعاع  $10$  متر، دارای حرکت یکنواخت است. اگر شتاب آن  $\frac{5\pi^2}{2} m/s^2$  باشد، قوس  $\frac{\pi}{3}$  را در چند ثانیه می‌پیماید؟

- ۱)  $\frac{1}{6}$       ۲)  $\frac{\pi}{6}$       ۳)  $\frac{1}{3}$       ۴)  $\frac{2}{3}$

۱۰۹۵ ذره‌ای در حال حرکت یکنواخت روی دایره‌ای به شعاع  $r=2m$  در صفحه XOY است. اگر بردار شتاب آن در SI در یک لحظه  $\vec{a} = 3\vec{i} + 4\vec{j}$  باشد، تندی آن چند متر بر ثانیه است؟

تجربی - ۹۴

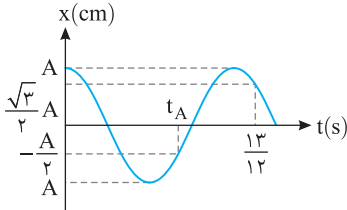
- ۱)  $5$       ۲)  $10$       ۳)  $\sqrt{5}$       ۴)  $\sqrt{10}$

۱۰۹۶ دو جسم روی صفحه گردانی که با دوره ثابتی می‌چرخد قرار دارند. اولی به مرکز دوران نزدیک‌تر است، در این صورت.....

- ۱) شتاب مرکزگرا برای هر دو یکسان است.  
۲) شتاب مرکزگرای آن بیشتر است.  
۳) شتاب مرکزگرای آن کمتر است.  
۴) شتاب مرکزگرای هر دو صفر است.

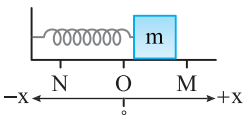
۱۳۹۹-۶ نوسانگری در دو بازه زمانی متوالی  $t_1$  و  $t_2$  مسافت‌های  $3/78\text{cm}$  و  $4/22\text{cm}$  را طی می‌کند. اگر دامنه نوسان نوسانگر  $2\text{cm}$  باشد، کدام گزینه درست است؟

$$(1) \quad t_1 + t_2 = \frac{T}{2} \quad (2) \quad t_1 + t_2 = T \quad (3) \quad t_2 - t_1 = \frac{T}{2} \quad (4) \quad t_2 - t_1 = t_1$$



۱۳۹۹-۷ نمودار مکان - زمان نوسانگر هماهنگ ساده‌ای مطابق شکل زیر است.  $t_A$  برابر چند ثانیه است؟

$$(1) \quad \frac{1}{3} \quad (2) \quad \frac{2}{3} \quad (3) \quad 1 \quad (4) \quad \frac{4}{3}$$



۱۳۹۹-۸ مطابق شکل روبه‌رو، جسمی به جرم  $m$  به فنری با جرم ناچیز متصل است و بین دو نقطه  $M$  و  $N$  حرکت نوسانی هماهنگ ساده انجام می‌دهد. چه تعداد از جملات زیر درست می‌باشند؟

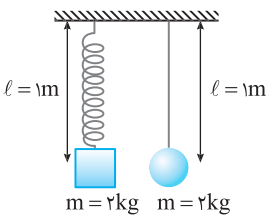
الف) در نقطه  $M$ ، اندازه شتاب نوسانگر بیشینه است. / ب) در نقطه  $O$  اندازه سرعت نوسانگر بیشینه است. / پ) در نقطه  $N$  علامت شتاب منفی است. / ت) در نقطه  $N$  اندازه نیروی کشسانی فنر کمینه است.

$$(1) \quad 1 \quad (2) \quad 2 \quad (3) \quad 3 \quad (4) \quad 4$$

۱۳۹۹-۹ معادله حرکت هماهنگ ساده‌ای در SI به صورت  $x = 0.04 \cos 5\pi t$  است. در چه لحظه‌هایی از دوره اول حرکت، مکان نوسانگر

$-0.02\text{m}$  است؟

$$(1) \quad \frac{1}{75} \quad (2) \quad \frac{1}{100} \quad (3) \quad \frac{2}{75} \quad (4) \quad \text{گزینه (1) و (3) درست است.}$$



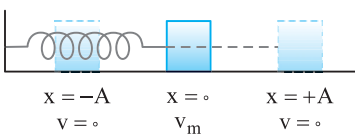
۱۳۹۹-۱۰ در شکل روبه‌رو هر دو سیستم نوسانی با بسامد یکسان در حال نوسان‌اند. اگر طول فنر و ریسمان هر دو برابر  $l$  و ثابت فنر  $k$  باشد،  $k$  چند نیوتون بر سانتی‌متر است؟ ( $g = 10\text{m/s}^2$ )

$$(1) \quad 20 \quad (2) \quad 0.2 \quad (3) \quad 10 \quad (4) \quad 0.1$$

### سرعت - شتاب - انرژی - تشدید نوسانگر



#### نمای ۹ شتاب نوسانگر



$$F_{\text{net}} = ma \xrightarrow{F=-kx} -kx = ma \Rightarrow a = -\frac{k}{m}x$$

می‌دانیم بسامد زاویه‌ای در حرکت هماهنگ ساده  $\omega = \sqrt{k/m}$  است. بنابراین خواهیم داشت:

$$a = -\frac{k}{m}x \xrightarrow{\omega = \sqrt{k/m}} \boxed{a = -\omega^2 x}$$

۱ معادله شتاب - مکان:

۲ بزرگی شتاب برحسب مکان:

همان‌گونه که بیان شد علامت منفی بیان می‌کند که شتاب و مکان هم علامت نیستند.

۳ در این صورت بیشینه شتاب خواهد شد:

$$x_m = \pm A \Rightarrow |a_m| = A\omega^2$$

تست ۱ در یک حرکت هماهنگ ساده در لحظه‌ای که مکان نوسانگر  $x = -4\text{cm}$  است، اندازه شتاب  $25\pi^2\text{m/s}^2$  است. دوره حرکت چند

ثانیه است؟

$$(1) \quad 0.04 \quad (2) \quad 0.08 \quad (3) \quad 0.02 \quad (4) \quad 0.25$$

از کتاب درسی

پاسخ با توجه به معادله شتاب - مکان در حرکت هماهنگ ساده، بسامد زاویه‌ای را به دست می‌آوریم:

$$|\bar{a}| = \omega^2 |\bar{x}| \Rightarrow 25\pi^2 = \omega^2 \times 0.04 \Rightarrow \omega = \frac{25\pi}{0.2} \Rightarrow \omega = 25\pi \text{ rad/s} \xrightarrow{\omega = \frac{2\pi}{T}} 25\pi = \frac{2\pi}{T} \Rightarrow T = 0.08\text{s}$$

گزینه ۲

\* در کتاب درسی از قرار دادن علامت منفی قانون هوک که بسیار مهم است صرف‌نظر شده است.



**تست ۲** معادله مکان - زمان نوسانگر در SI به صورت  $x = 0.03 \cos 10\pi t$  است. در لحظه  $t = \frac{1}{30}$  s، اندازه شتاب نوسانگر چند  $m/s^2$  است؟ ( $\pi^2 = 10$ )

۵ (۱)      ۱۵ (۲)      ۳۰ (۳)      ۲۵ (۴)

**پاسخ** ابتدا مکان نوسانگر را در لحظه  $t = \frac{1}{30}$  s به دست می‌آوریم:

$$x = 0.03 \cos 10\pi t \Rightarrow x = 0.03 \cos 10\pi \times \frac{1}{30} \Rightarrow x = 0.03 \cos \frac{\pi}{3} \Rightarrow x = \frac{0.03}{2} \Rightarrow x = \frac{3}{200} \text{ m}$$

اکنون اندازه شتاب را حساب می‌کنیم:

$$|\ddot{a}| = \omega^2 |\bar{x}| \Rightarrow |a| = (10\pi)^2 \times \frac{3}{200} \xrightarrow{\pi^2 = 10} |a| = 15 \text{ m/s}^2$$

گزینه ۲ ✓

**نمای ۱۰ نیروی وارد بر نوسانگر**

بنا به قانون دوم نیوتون خواهیم داشت:

$$F = ma \xrightarrow{a = -\omega^2 x} F = -m\omega^2 x$$

۱ معادله نیرو - مکان:

$$|F| = m\omega^2 |x|$$

۲ بزرگی نیروی وارد بر نوسانگر برابر است با:

$$F_m = mA\omega^2$$

۳ در دو انتهای مسیر یعنی  $x_m = \pm A$  نیرو بیشینه است و مقدار آن برابر است با:

**تست ۳** ذره‌ای به جرم  $m$  روی پاره‌خطی به طول  $20 \text{ cm}$  دارای حرکت هماهنگ ساده با بسامد زاویه‌ای  $50\pi \text{ rad/s}$  است. اگر بیشینه نیروی وارد بر ذره  $2 \text{ N}$  باشد،  $m$  چند گرم است؟ ( $\pi^2 = 10$ )

۸ × ۱۰<sup>-۳</sup> (۱)      ۸ × ۱۰<sup>-۲</sup> (۲)      ۸ × ۱۰<sup>+۱</sup> (۳)      ۸ × ۱۰<sup>-۱</sup> (۴)

**پاسخ** با توجه به رابطه نیروی بیشینه خواهیم داشت:

$$F_m = mA\omega^2 \Rightarrow 2 = m \times \left(\frac{20}{100} \times 10^{-2}\right) \times (50\pi)^2 \Rightarrow m = \frac{2}{2500} \text{ kg} = 0.8 \text{ g}$$

گزینه ۴ ✓

**مسئله ۱** ذره‌ای به جرم  $10 \text{ g}$  گرم تحت تأثیر نیروی  $F = -\pi^2 x$  دارای حرکت هماهنگ ساده است. دوره حرکت را بیابید. ( $\pi^2 = 10$ )

**راه حل** با مقایسه معادله نیرو - مکان  $F = -kx$  و  $F = -\pi^2 x$  در واقع  $k = \pi^2$  است از این رو:

$$T = 2\pi \sqrt{\frac{m}{k}} \Rightarrow T = 2\pi \sqrt{\frac{0.01}{\pi^2}} \Rightarrow T = 0.2 \text{ s}$$

**نمای ۱۱ تندی بیشینه\***

در مرکز نوسان یعنی حالت تعادل تندی نوسانگر بیشینه است که اندازه آن برابر است با:

$$v_m = A\omega$$

**تست ۴** در شکل روبه‌رو، سطح بدون اصطکاک و وزنه در حال تعادل است. اگر بیشینه طول فنر  $45 \text{ cm}$  و حداقل طول آن  $39 \text{ cm}$  باشد، تندی وزنه در هنگام عبور از حالت تعادل چند متر بر ثانیه است؟

۳۰۰ (۱)      ۱۵۰ (۲)      ۳ (۳)      ۱/۵ (۴)

**پاسخ** دامنه نوسان را حساب می‌کنیم:

$$A = \frac{l_{\max} - l_{\min}}{2} = \frac{45 - 39}{2} \Rightarrow A = 3 \text{ cm}$$

بسامد زاویه‌ای را به دست می‌آوریم:

$$\omega = \sqrt{\frac{k}{m}} \Rightarrow \omega = \sqrt{\frac{200}{0.02}} = 100 \text{ rad/s}$$

در نقطه تعادل تندی بیشینه است، بنابراین:

$$v_m = A\omega \xrightarrow{A = 0.03 \text{ m}} v_m = 0.03 \times 100 = 3 \text{ m/s}$$

گزینه ۳ ✓

\* اثبات رابطه تندی بیشینه را در قسمت انرژی حرکت هماهنگ ساده بیان می‌شود.

**تست ۱۳** بین حرکات یک سامانه جرم - فنر و یک آونگ ساده کم دامنه تشدید رخ داده است. اگر ثابت فنر سامانه جرم - فنر، ۴ برابر شود، طول آونگ را چند برابر کنیم تا دوباره بین حرکت آن‌ها تشدید رخ دهد؟

- (۱) ۲ (۲)  $\frac{1}{2}$  (۳)  $\frac{1}{4}$  (۴) ۴

**پاسخ** باید بسامد (یا دوره) دو سامانه در حالت دوم نیز یکی شود.

ثابت فنر ۴ برابر شده است، دوره جدید سامانه جرم - فنر خواهد شد:

بنابراین دوره آونگ جدید باید نصف دوره آونگ قبلی باشد.

$$f_{\text{فنر}} = f_{\text{آونگ}} \Rightarrow T_{\text{فنر}} = T_{\text{آونگ}}$$

$$T = 2\pi\sqrt{\frac{m}{k}} \Rightarrow \frac{T'}{T} = \sqrt{\frac{k}{k'}} \xrightarrow{k'=4k} \frac{T'}{T} = \frac{1}{2}$$

$$\begin{cases} T' = 2\pi\sqrt{\frac{\ell'}{g}} \\ T = 2\pi\sqrt{\frac{\ell}{g}} \end{cases} \Rightarrow \frac{T'}{T} = \sqrt{\frac{\ell'}{\ell}} \Rightarrow \frac{1}{2} = \sqrt{\frac{\ell'}{\ell}} \Rightarrow \ell' = \frac{1}{4}\ell$$

کریه ۳

### سرعت - شتاب - انرژی - تشدید نوسانگر

### نیجه سوم

### نمای ۹ شتاب نوسانگر

۱۴۰۰ دامنه یک نوسانگر جرم - فنر ۴cm است. اگر جرم وزنه ۸۰g و ثابت فنر ۲۰۰N/m باشد در لحظه‌ای که مکان نوسانگر ۲cm- است،

تجربی - ۹۳

شتاب نوسانگر چند متر بر مربع ثانیه است؟

- (۱) ۱۵۰ (۲) ۷۵ (۳) ۵۰ (۴) ۲۵

۱۴۰۱ یک نوسانگر در هر دقیقه ۳۰ مرتبه از مرکز نوسان می‌گذرد و فاصله دو انتهای مسیر حرکت از یکدیگر ۴cm است. در لحظه‌ای که نوسانگر

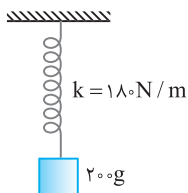
در فاصله ۵mm از انتهای مسیر قرار دارد اندازه شتاب نوسانگر چند سانتی‌متر بر مجذور ثانیه است؟ ( $\pi^2 \approx 10$ )

- (۱) ۲/۵ (۲) ۲/۷۵ (۳) ۳/۵ (۴) ۳/۷۵

۱۴۰۲ در شکل روبه‌رو، وزنه در حالت تعادل قرار دارد. اگر آن را ۵cm به آرامی پایین بکشیم و رها کنیم، شتاب وزنه در

لحظه‌ای که پس از رها شدن ۲cm بالا رفته است، چند متر بر مربع ثانیه است؟

- (۱) ۲۷ (۲) ۱/۳۵ (۳) ۶ (۴) ۱۳/۵



۱۴۰۳ رابطه شتاب و مکان یک نوسانگر ساده در SI به صورت  $a + 4x = 0$  است. دوره چند ثانیه است؟

- (۱)  $\pi$  (۲)  $2\pi$  (۳) ۱ (۴) ۲

۱۴۰۴ گلوله‌ای که به فنری متصل است، در یک سطح افقی بدون اصطکاک بین دو نقطه M و N نوسان می‌کند و در هر ۴/۰ ثانیه ۲ نوسان کامل

تجربی - ۹۵

انجام می‌دهد. اگر بیشینه شتاب نوسان  $20 \text{ m/s}^2$  باشد، فاصله MN چند سانتی‌متر است؟ ( $\pi^2 = 10$ )

- (۱) ۲ (۲)  $2\sqrt{10}$  (۳) ۴ (۴)  $4\sqrt{10}$

۱۴۰۵ وزنه‌ای به جرم m به انتهای فنری با جرم ناچیز که ثابت فنر آن  $10 \text{ N/m}$  است، آویخته شده و با دامنه ۸ سانتی‌متر نوسان می‌کند. اگر بیشینه

کنکور دهه‌های گذشته

شتاب آن  $2 \text{ m/s}^2$  باشد، جرم وزنه چند گرم است؟

- (۱) ۲۵۰ (۲) ۵۰۰ (۳) ۲۰۰ (۴) ۴۰۰

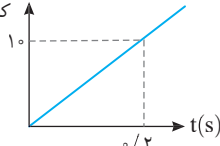
۱۴۰۶ آونگ ساده‌ای که جرم گلوله آن ۲۰ گرم و طول ریسمان آن ۱ متر است، دارای حرکت هماهنگ ساده است و طول مسیر آن ۶cm است. در

لحظه‌ای که فاصله گلوله آونگ از انتهای مسیرش ۱cm است، اندازه شتاب آن چند متر بر مربع ثانیه است؟ ( $g = 10 \text{ N/kg}$ )

- (۱) ۰/۲ (۲) ۰/۴ (۳) ۰/۳ (۴) ۰/۱

۱۴۰۷ نمودار شناسه تابع کسینوس (فاز) برحسب زمان نوسانگری که دارای حرکت هماهنگ ساده روی پاره‌خطی به طول

شناسه تابع کسینوس



۴cm بوده به صورت روبه‌رو است. در مکان  $x = \sqrt{2} \text{ cm}$  اندازه شتاب نوسانگر چند متر بر مربع ثانیه است؟

- (۱)  $25\sqrt{2}$  (۲)  $5\sqrt{2}$  (۳) ۲۵ (۴) ۵

۱۴۰۸ معادله مکان - زمان متحرکی در SI به صورت  $x = 0.2 \cos(\pi t)$  است. در  $t = \frac{1}{3}$  s شتاب متحرک چند سانتی‌متر بر مجذور ثانیه است؟

از کتاب درسی

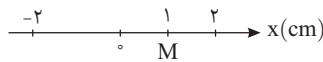
$(\pi^2 = 10)$

- (۱)  $-0.1$  (۲)  $-10$  (۳)  $0.1$  (۴)  $10$

۱۴۰۹ در یک حرکت هماهنگ ساده نوسانگر با پیشینه شتاب خود نوسان را شروع می‌کند. در چه لحظاتی بر حسب دوره (T)، اندازه شتاب نصف شتاب پیشینه است؟

- (۱)  $\frac{T}{6}, \frac{T}{3}, \frac{2T}{3}, \frac{5T}{6}$  (۲)  $\frac{T}{3}, \frac{2T}{3}, \frac{4T}{3}, \frac{5T}{3}$  (۳)  $\frac{T}{12}, \frac{T}{6}, \frac{2T}{3}, \frac{5T}{6}$  (۴)  $\frac{T}{6}, \frac{T}{3}, \frac{4T}{3}, \frac{5T}{6}$

۱۴۱۰ نوسانگری به جرم  $2 \text{ kg}$  به انتهای فنری به ثابت  $k$  متصل است و مطابق شکل روبه‌رو بر سطح افقی بدون اصطکاک با دامنه  $2 \text{ cm}$  نوسان می‌کند. اگر بزرگی شتاب نوسانگر در نقطه  $M$ ،



خارج ریاضی - ۹۹

$4 \text{ m/s}^2$  باشد،  $k$  چند نیوتون بر متر است؟

- (۱)  $800$  (۲)  $400$  (۳)  $80$  (۴)  $40$

۱۴۱۱ نوسانگری با دوره  $0.4 \text{ s}$  در حال نوسان است. اگر در مدت  $0.2 \text{ s}$  جابه‌جایی نوسانگر  $6 \text{ cm}$  باشد، در ابتدا این بازه زمانی شتاب نوسانگر چند متر بر مربع ثانیه است؟  $(\pi^2 = 10)$

- (۱)  $7/5$  (۲)  $-7/5$  (۳)  $3$  (۴)  $-3$

۱۴۱۲ نوسانگری با معادله  $x = 0.4 \cos 2\pi t$  در SI روی خط راست در حال نوسان است. در بازه  $t = \frac{1}{6} \text{ s}$  تا  $t = \frac{1}{10} \text{ s}$  چند ثانیه بزرگی شتاب نوسانگر از مقدار  $8\pi^2 \sqrt{2} \text{ m/s}^2$  کوچکتر است؟

- (۱)  $\frac{1}{60}$  (۲)  $\frac{11}{120}$  (۳)  $\frac{1}{12}$  (۴)  $\frac{11}{240}$

۱۴۱۳ آونگ ساده‌ای در سطح زمین حرکت نوسانی کم دامنه انجام می‌دهد. اگر این آونگ در ارتفاع  $R_e$  از سطح زمین و با همان دامنه قبلی حرکت نوسانی کم دامنه انجام دهد، پیشینه شتاب حرکت آونگ چند برابر می‌شود؟  $(R_e$  برابر شعاع کره زمین است.)

- (۱)  $2$  (۲)  $4$  (۳)  $\frac{1}{2}$  (۴)  $\frac{1}{4}$

نمای ۱۰ نیروی وارد بر نوسانگر

۱۴۱۴ ذره‌ای به جرم  $50 \text{ g}$  روی پاره‌خطی به طول  $10 \text{ cm}$  حرکت هماهنگ ساده انجام می‌دهد. اگر دوره نوسان  $\frac{1}{2}$  ثانیه باشد، پیشینه نیروی وارد بر نوسانگر چند نیوتون است؟  $(\pi^2 = 10)$

تجربی - ۹۱

- (۱)  $4$  (۲)  $2$  (۳)  $1$  (۴)  $\frac{1}{2}$

۱۴۱۵ نوسانگری به جرم  $2 \text{ g}$  در هر دقیقه  $120$  نوسان کامل انجام می‌دهد. اگر در هر دوره مسافت  $16 \text{ cm}$  را طی کند، بزرگی نیروی خالص وارد بر نوسانگر هنگام عبور از نصف دامنه منفی چند نیوتون است؟  $(\pi^2 = 10)$

کنکور دهه‌های گذشته

- (۱)  $6/4 \times 10^{-3}$  (۲)  $1/28 \times 10^{-3}$  (۳)  $2/56 \times 10^{-3}$  (۴)  $5/12 \times 10^{-3}$

۱۴۱۶ وزنه‌ای به جرم  $500 \text{ g}$  گرم را از فنر سبکی آویزان کرده‌ایم و در حالت تعادل، طول فنر  $4 \text{ cm}$  افزایش یافته است. اگر این وزنه را با دامنه  $4 \text{ cm}$  در راستای قائم به نوسان درآوریم، بیشترین نیرویی که ضمن نوسان از طرف فنر به وزنه وارد می‌شود، چند نیوتون است؟  $(g = 10 \text{ m/s}^2)$

- (۱)  $5$  (۲)  $10$  (۳)  $15$  (۴)  $20$

۱۴۱۷ جرم گلوله آونگ ساده‌ای  $200 \text{ g}$  گرم است. اگر طول آونگ  $1 \text{ m}$  و دامنه حرکت  $1 \text{ cm}$  باشد، پیشینه نیروی برگرداننده نوسانگر چند نیوتون است؟  $(g = 10 \text{ N/Kg})$

- (۱)  $0.1$  (۲)  $0.1$  (۳)  $0.2$  (۴)  $0.4$

۱۴۱۸ معادله مکان - زمان حرکت هماهنگ ساده جرم و فنری در SI به صورت  $x = 0.1 \cos(\Delta\pi t)$  است. اگر جرم جسم را  $4$  برابر کنیم و پیشینه نیروی نوسانگر همانند حالت قبلی باشد معادله مکان - زمان آن در SI کدام یک از گزینه‌های زیر خواهد شد؟

- (۱)  $x = 0.2 \cos 2/5\pi t$  (۲)  $x = 0.1 \cos 2/5\pi t$  (۳)  $x = 0.2 \cos \Delta\pi t$  (۴)  $x = 0.1 \cos \Delta\pi t$