



# مرجع متلنات



مؤلفان : رضا سلامى ، كاظم اجلالى



انتشارات خوستخون

ارادتی خدمات به دانش آموزان این مرز و بوم توفیقی است که در سالیان گذشته و مسنوات اخیر در قالب های مختلف نصیب اینجانب و دوستان حقیر گردیده است. بابت این موضوع خدای متعال را بسیار شاگردم. خدمتی که اساتید و بزرگان در دهی ۶۰ بر ما انجام دادند و صفا ناشدنی است، اساتیدی همچون سید ابوالفضل رزم آرا، حاج مسلم اکبری نظری، رحمت الله هدایتی و ... خالصانه زندگی خود را در راه موفقیت دانش آموزان جنوب شهر تهران مصروف نمودند و از خوش اقبالی بنده این بود که توفیق شاگردی این بزرگواران در دبیرستان استقلال ( نمونه دولتی امام صادق (ع)) واقع در منطقه ۹ تهران نصیب شد. یکی از آموخته هایم از این عزیزان ارائه ی خدمت به دانش آموزان ایران عزیزان مخصوصاً دانش آموزان محروم می باشد.

با توجه به این آموخته هایمان به موازات تحصیل در دانشگاه به همراه تعدادی دیگر از همکلاسی هایمان در بعضی از مدارس محروم و ممتاز جنوب شهر تهران مشغول تدریس شدیم که در رأس آن مدارس، مدرسه ی خودمان که همان مدرسه ی نمونه دولتی امام صادق (ع) بود، قرار داشت. تدریس در آن مدرسه ویژگی خاص خود را داشت چرا که دانش آموزان عمدتاً ممتاز و تیزهوش بوده و مطالب موجود در کتب درسی آن ها را اغنا نمی کرد و لازم بود هر معلمی با جمع آوری مطالب گوناگون از کتب داخلی و خارجی جزوه ای در خور آن دانش آموزان ارائه دهد. با گذشت زمان و توفیقات روز افزون دانش آموزان آن دبیرستان در زمینه های علمی مخصوصاً المپیاد و کنکور باعث می شد جزوات نوشته شده تکمیل تر شده و متناسب با توانایی ها و خواسته های آنان باشد.

گسترش خدمت رسالی به دانش آموزان از آن جا شروع شد که تصمیم گرفته شد با تأسیس انتشاراتی، زحمات چندین ساله ی دوستان در جمع آوری و تدوین جزوات برای دانش آموزان ممتاز، برای عموم داوطلبین کشور که لزاستعداد و توانایی بالایی برخوردارند منتشر شود. این انتشارات در سال ۱۳۸۰ و با نام انتشارات خوشخوان تأسیس و با فراخوانی از دبیرستان های موفق و ممتاز و مشابه از جمله دبیرستان های نمونه دولتی رشد، الزهرا (س)، تیزهوشان فرزندگان، علامه حلی و غیر انتفاعی های انرژی الیمی، علامه طباطبائی، علامه امینی، ... کادر مؤلفان گسترده تر و قوی تر گردید.

بنابراین کتاب حاضر و تمام کتب مشابه که از این انتشارات منتشر می شود مختص دانش آموزان ممتاز و تیزهوشان می باشد و مطالعه آن را برای عموم دانش آموزان توصیه نمی کنیم. امید است که خدمت همکاران ما در سایر انتشارات ها برای عموم دانش آموزان (قوی، متوسط و ضعیف) و خدمت همکاران ما را در انتشارات خوشخوان برای دانش آموزان ممتاز و تیزهوش و نیز المپیادی ها مورد قبول در گاه حق واقع بوده و مورد رضایت شما عزیزان را فراهم آورده باشد.

این مقوله بیش از آن که به پیشگفتار شباهت داشته باشد به شرح ماجرا و سرگذشت تبدیل شد به همین بهانه لازم می بینم از زحمات تمام اساتیدی که از دوره ابتدایی و راهنمایی در روستاهای خاکی و دوزدوزان (از توابع شهرستان سراب) گرفته تا دبیرستان های شهید اصغری اسلام شهر و امام صادق (ع) تهران، تشکر و قدردانی نمایم.

از شما خوانندگان گرامی نیز کمال تشکر را داشته و تقاضا دارم عیوب و نقص کارهای ما را به بزرگواری خود بر ما بخشیده و در صورت صلاحدید آن ها را از طریق تلفن، نامه و یا ایمیل بر ما انتقال دهید تا در بهبود کیفیت کار تا حد ممکن نظرات شما عزیزان را دخالت دهیم و خواهشمند است در صورت نارضایتی چه از نظر کیفیت و چه از نظر قیمت کتاب و ... ما را حلال کنید تا خدای نکرده در روز آخرت شرمندگی شما عزیزان نباشیم.



---

با تشکر

رسول حاجی زاده

مدیر انتشارات خوشخوان



## مقدمه مؤلفان

مدتهاست که منتظر تألیف یک کتاب آموزشی با ابزار و شیوه های نوین، توسط همکاران امان هستیم و به خود می گوئیم چرا اکثر کتابهای موجود در بازار تقریباً مانند هم و با یک سبک و روش تألیف میشوند؟ چرا تمرینات کتابهای موجود، سطح و دسته بندی دلچسپی ندارند و یا به لحاظ کمی و کیفی ایراد دارند؟ چرا از نرم افزارهای آموزشی، بهره ی چندانی در انتقال مطالب برده نمیشود؟ چرا حتی ظاهر کتابها هم فرق چندانی با هم ندارد و چراهای فراوان دیگری که مجال بیان تمام آنها نیست. به هر حال انتظارمان فایده های داشت و مجبور شدیم خودمان دست به کار شویم تا شاید بتوانیم به چراهای کسانی که مانند ما فکر میکنند پاسخ دهیم. دانش و تجربه ی اندک خود را به کار بستیم و توکل کردیم که :

تکیه بر تقوی و دانش در طریقت کافرست      راهروگر صد هنر دارد توکل بایندش

اما چرا مثلثات را انتخاب کردیم؟ سالها پیش در ریاضیات دبیرستان، دو کتاب مثلثات وجود داشت که در پی تغییر نظام آموزشی، این کتابها حذف و قسمتی از مباحث آن ها در کتابهای ریاضیات سالهای مختلف آورده شد. شاید کارشناسان تألیف کتب درسی، مثلثات را شاخه ی مستقنی در ریاضیات نمی دیدند و می خواستند با این کار مثلثات را ساده تر و کم حجم تر ارائه کنند. به هر دلیل که برای ما روشن نیست، یک فصل از کتاب درسی ریاضیات هر سال مثلثات نام گرفت و دانش آموزان با آن، همان گونه برخورد کردند که با فصل هایی چون بردار، ماتریس، مجموعه و... برخورد میکردند. نتیجه ی منطقی این روند هم آن بود که وقتی به مباحثی چون حد، پیوستگی، مشتق و کاربرد مشتق پرداخته میشد، بیشترین مشکل دانش آموزان مربوط به مسائلی مربوط به مثلثات بود. هر چند با تغییر کتابهای ریاضی در سالهای اخیر با نگرشی نو و کاربردی به مثلثات، اندکی وضع موجود بهبود یافت ولی قسمت عمده ی مشکل همچنان باقی است و به نظر میرسد باید اهمیت بیشتری برای مثلثات قائل شد. بر این باوریم که با نگارش یک کتاب مستقل مثلثات و عمق بخشیدن به مطالب کتب درسی و استفاده از مثالهای متنوع و کاربردی و طرح مسائل کیفی و کمی میتوان تا حدی برای رفع این مشکل تلاش کرد.

این کتاب کوششی است در حد بضاعت مؤلفان که دارای ویژگی های زیر است:

- 1- ارائه مفهومی مطالب در قالب یک طرح درس کامل با محوریت کتب درسی
- 2- طرح مثال های متنوع تا در آموزش دانش آموزان با سطوح مختلف، کارایی داشته باشد
- 3- ارائه تمرینات تکمیلی در هر فصل به شکلی کاملاً ویژه در سطوح مختلف و با کیفیتی فوق العاده
- 4- تشریح کامل سوالات پیچیده و سخت تمرینات تکمیلی به همراه راهنمایی گام به گام و پاسخ نهایی برای تمرین ساده و متوسط
- 5- استفاده از شکل های رنگی، زیبا و کاملاً دقیق هم در درس و هم در تشریح و راهنمایی تمرینات تکمیلی
- 6- شبیه سازی نرم افزاری مطالب برای درک شهودی و بهتر مفاهیم

با وجود صرف وقت زیاد و دقت فراوان، یقیناً نقایصی در این اثر موجود است. اگر خوانندگان محترم نظرات اصلاحی خود را از طریق نشر و یا به طور مستقیم با مولفان در میان بگذارند، موجب خوشحالی و تشکر خواهد بود. در ضمن در تلاشیم تا از طریق سایت مربوط به انتشارات، معلمان و همکاران گرامی را در ارائه نرم افزاری هر درس و انتخاب سوالات با سطوح مشخص از میان تمرینات هر فصل یاری کنیم.

در پایان از زحمات و همکاری آقایان ارشدی، هویدی، امیری، حسینی، عظیمی، ابراهیمی، اسلامی فر، مددی پور، یگانه، شاکر، موسی فرانس، محمدی فرد و معین که در پدید آوردن این اثر ما را یاری کردند، خاتم افسانه نیک پور که ویرایش کتاب را به عهده داشتند و به خصوص از جناب آقای حاجی زاده مدیریت محترم انتشارات خوشخوان از صمیم قلب قدر دانی می نمایم و امید داریم خداوند توفیق دلمه ی این راه را به ما عطا فرماید که اگر چنین شود به زودی آگار دیگری را با این ویژگی ها تقدیم دوستان ریاضیات خواهیم کرد.

سخنی فقط با دانش آموزان



طی تألیف این کتاب که کار تقریباً سختی بود، بارها دچار تردید می شدیم و هر بار آنچه که انگیزه ی ما را زیاد می کرد، تصویر شما عزیزان بود که بعد از مطالعه ی بخشی از کتاب، از فهم آن لذت برده و عزم خود را برای تلاش بیشتر جزم کرده اید. اکنون کار تمام شده و حالا نوبت شماست که به بهترین صورت از آن استفاده کنید.

■ خواهشمندیم قبل از مطالعه به مطالب زیر توجه کنید:

۱- دانش آموزان دبیرستانی به صورت زیر میتوانند از این کتاب استفاده کنند:

- سال اول ■ فصل ۱ به همراه فصل ۸ که مربوط به راهنمایی و جواب آخر تمرینات است.
- سال دوم ■ فصول ۱ تا ۲ به خصوص فصول ۲ و ۲ به همراه فصل ۸
- سال سوم رشته ی ریاضی - فیزیک ■ فصول ۱ تا ۷ به خصوص فصول ۴ تا ۷ به همراه فصل ۸
- سال سوم رشته ی علوم تجربی ■ فصول ۱ تا ۴ و ۶ به همراه فصل ۸
- سال چهارم رشته ی ریاضی - فیزیک ■ تمام فصول و به خصوص فصلی که در CD تحت عنوان (( مثلثات در مباحث مختلف)) است.
- سال چهارم رشته ی تجربی ■ تمامی فصول غیر از فصول ۵ و ۷

۲- در هر فصل بعد از درس، تمرینات و سوالات چهارگزینه ای قرار گرفته است که در فصل آخر کتاب، کلید تستها و پاسخ تمرینات تشریحی قرار گرفته است.

۲- تمرینات تکمیلی هر فصل در چهار سطح بگونه ی تنظیم شده است که ۱۵ درصد آن ساده، ۴۰ درصد آن متوسط، ۳۵ درصد آن سخت و ۱۰ درصد آن پیچیده است. لذا در هر سطحی که قرار دارید، حتماً از تمرینات استفاده کرده و سعی کنید به سطح بالاتر هم برسید.

۴- در فصل آخر کتاب، حل کامل تمامی سوالات پیچیده و اغلب سوالات سخت، راهنمایی کامل و گام به گام به همراه جواب آخر برای سوالات متوسط و جواب آخر برای سوالات ساده وجود دارد که بسیار گره گشاست.

۵- هنگام مطالعه ی درس و راهنمایی حل حتماً به رنگ های مختلف توجه کنید، چرا که رنگ ها هدفمند است و شما را در یادگیری کمک میکند.

۶- هنگام مطالعه ی هر درس، قبل از مشاهده ی حل مثال ها، حداقل به اندازه ی زمان پیشنهاد شده روی آنها کار کنید.

۷- به همراه کتاب، یک CD وجود دارد که حاوی اطلاعات بسیار خوبی از جمله پاسخ تشریحی سوالات چهارگزینه ای و برنامه های مربوط به < شبیه سازی ها > می باشد.

۸- در بعضی از قسمت های درس به نماد شبیه سازی < برمی خورید. حتماً به CD مراجعه کرده و از برنامه ی مورد نظر استفاده کنید. مطمئن باشید که بسیار مفید خواهند بود.

۹- بعد از کسب مهارت در هر فصل، بهتر است سوالات چهارگزینه ای را نیز پاسخ دهید و با کلید آن در فصل ۸ تصحیح کنید. اگر نیاز به تشریح سوالات چهارگزینه ای داشتید، به CD مراجعه کنید.

اگر به مشکلی برخوردید یا پیشنهادی داشتید از طریق ناشر محترم یا به طور مستقیم با ما در میان بگذارید:

edjlali\_Kazem@yahoo.com

■ کاظم اجلالی :

Re.eslami@gmail.com

■ سید محمود رضا اسلامی :





## فصل اول : نسبت‌های مثلثاتی در دایره مثلثاتی

۳	۱-۱- نسبت مثلثاتی سینوس
۸	۲-۱- نسبت مثلثاتی کسینوس
۱۰	۳-۱- نسبت‌های مثلثاتی تانژانت و کتانژانت
۱۴	۴-۱- رابطه‌ی بین شیب خط و تانژانت
۱۶	۵-۱- چند مسأله کاربردی
۱۸	۶-۱- نسبت‌های مثلثاتی زوایای متمم
۱۹	۷-۱- روابط بین نسبت‌های مثلثاتی
۲۵	۸-۱- تمرینات تکمیلی
۳۶	۹-۱- سوالات چهارگزینه‌ای

## فصل دوم : روابط مثلثاتی در دایره مثلثاتی

۴۳	۱-۲- زاویه و واحدهای اندازه‌گیری آن
۴۳	۱-۱-۲- معرفی درجه
۴۴	۲-۲- تعریف نسبت‌های مثلثاتی در دایره مثلثاتی
۴۵	۲-۱-۲- معرفی رادیان
۴۸	۳-۱-۲- تبدیل درجه و رادیان به یکدیگر
۵۴	۳-۲- جدول مقادیر مثلثاتی زوایای مهم
۵۸	۴-۲- تناوب نسبت‌های مثلثاتی
۵۹	۵-۲- نسبت‌های مثلثاتی قرینه کمان
۵۹	۶-۲- نسبت‌های مثلثاتی مکمل کمان
۶۲	۷-۲- نسبت‌های مثلثاتی متمم کمان
۶۵	۸-۲- تمرینات تکمیلی
۷۲	۹-۲- سوالات چهارگزینه‌ای

## فصل سوم : توابع مثلثاتی

۷۹	۱-۳- معرفی توابع مثلثاتی و ویژگی‌های آنها
۸۶	۲-۳- نمودار توابع سینوس و کسینوس و انتقال آنها
۹۵	۳-۳- نمودار توابع تانژانت و کتانژانت
۹۷	۴-۳- قضیه‌ی سینوس‌ها و کسینوس‌ها





- ۱۰۳ ۵-۳- تمرینات تکمیلی  
۱۱۲ ۶-۳- سوالات چهارگزینه ای

#### فصل چهارم : نسبت های مثلثاتی زوایای مرکب

- ۱۱۱ ۱-۴- یادآوری چند اتحاد مثلثاتی  
۱۱۳ ۲-۴- سینوس و کسینوس مجموع و تفاضل دو کمان  
۱۱۶ ۳-۴- تانژانت و کتانژانت مجموع و تفاضل دو کمان  
۱۱۹ ۴-۴- نسبت های مثلثاتی دو برابر کمان  
۱۱۳ ۵-۴- نسبت های مثلثاتی نصف کمان  
۱۳۵ ۶-۴- تمرینات تکمیلی  
۱۳۹ ۷-۴- سوالات چهارگزینه ای

#### فصل پنجم : روابط تبدیل ضرب به جمع و جمع به ضرب

- ۱۴۵ ۱-۵- روابط تبدیل ضرب به جمع  
۱۴۸ ۲-۵- روابط تبدیل جمع به ضرب  
۱۵۱ ۳-۵- تمرینات تکمیلی  
۱۵۵ ۴-۵- سوالات چهارگزینه ای

#### فصل ششم : معادلات مثلثاتی

- ۱۶۱ ۱-۶- معادلات ساده ی مثلثاتی  
۱۶۲ ۲-۶- معرفی معکوس نسبت های مثلثاتی  
۱۶۷ ۳-۶- حل نمونه هایی از معادلات مثلثاتی  
۱۶۹ ۴-۶- معادلات کلاسیک  
۱۷۱ ۵-۶- تمرینات تکمیلی  
۱۷۵ ۶-۶- سوالات چهارگزینه ای

#### فصل هفتم : توابع معکوس مثلثاتی

- ۱۸۱ ۱-۷- توابع معکوس پذیر  
۱۸۴ ۲-۷- معکوس توابع سینوس و کسینوس  
۱۸۸ ۳-۷- ویژگی های توابع معکوس سینوس و کسینوس



- ۱۹۳ ۴-۷- معکوس توابع تنازات و کتنازات  
۱۹۶ ۵-۷- ویژگی های توابع معکوس تنازات و کتنازات  
۲۰۱ ۶-۷- تمرینات تکمیلی  
۲۰۷ ۷-۷- سوالات چهارگزینه ای

**فصل هشتم : راهنمایی حل و جواب آخر تمرینات**

- ۲۵ ۱-۸- پاسخ تمرین های فصل اول  
۳۷ ۲-۸- پاسخ تمرین های فصل دوم  
۳۳ ۳-۸- پاسخ تمرین های فصل سوم  
۳۴ ۴-۸- پاسخ تمرین های فصل چهارم  
۲۵۲ ۵-۸- پاسخ تمرین های فصل پنجم  
۳۶۲ ۶-۸- پاسخ تمرین های فصل ششم  
۳۷۷ ۷-۸- پاسخ تمرین های فصل هفتم  
۲۹۲ ۸-۸- پاسخ سوالات چهارگزینه ای

۲۹۳

**ضمیمه**

دنیایِ حجابیِ منگنی

در منگنیِ عالمِ الزویا

فصل

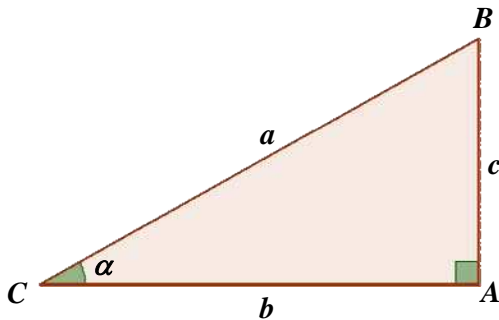


- ۱-۱- نسبت مثلثاتی سینوس ..... ۳
- ۱-۲- نسبت مثلثاتی کسینوس ..... ۸
- ۱-۳- نسبت‌های مثلثاتی تانژانت و کتانژانت ..... ۱۰
- ۱-۴- رابطه‌ی بین شیب خط و تانژانت ..... ۱۴
- ۱-۵- چند مسأله کاربردی ..... ۱۶
- ۱-۶- نسبت‌های مثلثاتی زوایای متمم ..... ۱۸
- ۱-۷- روابط بین نسبت‌های مثلثاتی ..... ۱۹
- ۱-۸- تمرینات تکمیلی ..... ۲۵
- ۱-۹- سوالات چهارگزینه‌ای ..... ۳۶

در این فصل نسبت‌های مثلثاتی یک زاویه در مثلث قائم‌الزاویه را معرفی خواهیم کرد. شما خواهید آموخت که نسبت اندازه اضلاع یک مثلث قائم‌الزاویه با زوایای آن چه ارتباطی دارد و این ارتباط چه کاربردی می‌تواند داشته باشد. همچنین در مثالها و مسائل پایانی فصل مقدماتی را فراهم خواهیم کرد که در فصل‌های بعدی به شدت مورد استفاده قرار خواهند گرفت. مطالعه این فصل برای تمامی کسانی که می‌خواهند مثلثات را به عنوان یک ابزار محاسباتی بیاموزند، توصیه می‌شود. لازم به ذکر است که مطالب این فصل منطبق بر سرفصل‌های کتاب ریاضیات سال اول دبیرستان می‌باشد.

## ۱-۱- نسبت مثلثاتی سینوس

در مثلث قائم الزویه  $\triangle ABC$  ( $\hat{A} = 90^\circ$ )، زاویه حاده  $\alpha$  را در نظر می‌گیریم. سینوس این زاویه حاده این گونه تعریف می‌شود:



$$\sin(\alpha) = \frac{\text{اندازه‌ی ضلع مقابل به زاویه‌ی } \alpha}{\text{اندازه‌ی وتر}} = \frac{c}{a}$$

از آنجا که در مثلث قائم الزویه، طول وتر از سایر اضلاع بزرگ‌تر است، همواره حاصل تقسیم اندازه‌ی ضلع مقابل به زاویه‌ی  $\alpha$  بر اندازه‌ی وتر عددی کوچک‌تر از یک خواهد بود:

$$0 < \alpha < 90^\circ \Rightarrow 0 < \sin \alpha < 1$$



اگر  $0 < \alpha < 90^\circ$  و  $\sin \alpha = \frac{m-3}{5}$  باشد، چند مقدار صحیح می‌تواند داشته باشد؟



(حل)

$0 < \sin \alpha < 1$ : زاویه‌ای حاده است:

$$\Rightarrow 0 < \frac{m-3}{5} < 1 \quad (\text{ضرب طرفین در } 5) \Rightarrow 0 < m-3 < 5 \quad (\text{جمع طرفین با } 3)$$

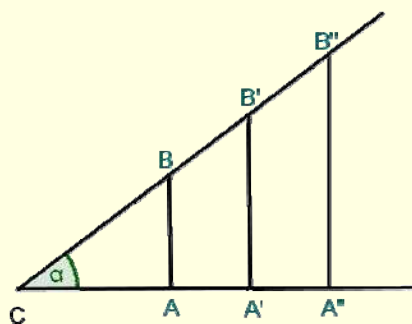
$$\Rightarrow 3 < m < 8 \quad (\text{مشخص کردن اعداد صحیح}) \Rightarrow m = 4, 5, 6, 7$$

بنابراین ۴ مقدار صحیح وجود دارد.

در مورد زاویه‌ی مشخص و حاده‌ی  $\alpha$  می‌توان گفت  $\sin \alpha$  نیز عددی مشخص است. یعنی در مثلث‌های قائم الزویه متفاوت که یک زاویه‌ی حاده‌ی  $\alpha$  دارند، نسبت اندازه‌ی ضلع مقابل  $\alpha$  به اندازه‌ی وتر، عددی ثابت است. به شکل زیر توجه کنید:



شبه سازی  
کد: ۱۰۱



طبق قضیه‌ی تالس می‌توان گفت که در مثلث‌های  $ABC$  و  $A'B'C$  و  $A''B''C$  اضلاع باهم متناسب می‌باشند و حاصل نسبت اندازه‌ی ضلع مقابل  $\alpha$  بر اندازه‌ی وتر در هر سه مثلث باهم برابر است.

$$\sin \alpha = \frac{AB}{BC} = \frac{A'B'}{B'C} = \frac{A''B''}{B''C}$$



هر یک از مثلث‌های قائم‌الزاویه‌ی زیر را رسم کرده و مقدار  $\sin 30^\circ$  را در آن‌ها حساب کنید.

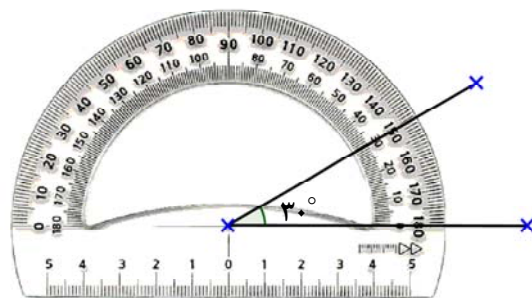


الف)  $\hat{A} = 90^\circ$  و  $\hat{C} = 30^\circ$  و  $BC = 4\text{ cm}$

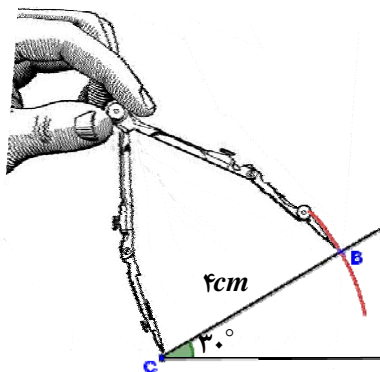
ب)  $\hat{A} = 90^\circ$  و  $\hat{C} = 30^\circ$  و  $BC = 3\text{ cm}$

حل الف)

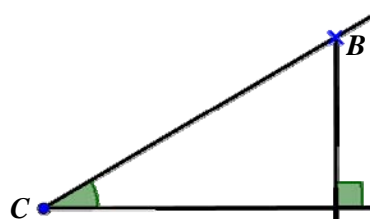
۱ رسم زاویه‌ی  $\hat{C} = 30^\circ$  به کمک نقاله



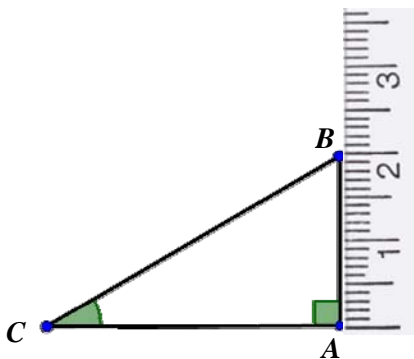
۲ مشخص کردن ضلع  $BC$  به کمک پرگار



۳ رسم عمود از  $B$  به کمک گونیا



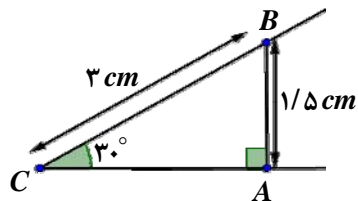
۴ اندازه‌گیری ضلع  $AB$  به کمک خط کش



۵ محاسبه‌ی  $\sin 30^\circ$ :  $\sin 30^\circ = \frac{AB}{BC} = \frac{2}{4}$

حل ب)

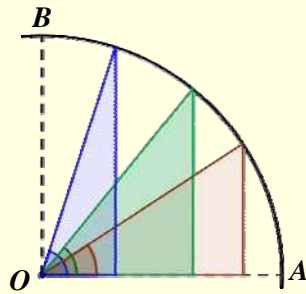
اگر قسمت الف را تکرار کنیم، مثلث  $ABC$  این‌گونه رسم می‌شود:



$$\sin 30^\circ = \frac{AB}{BC} = \frac{1/5}{3} = \frac{1}{15}$$



شبه سازی  
کد: ۱۰۲



هرچه زاویه  $\alpha$  از صفر تا  $90$  درجه بزرگتر گردد، مقدار  $\sin \alpha$  نیز بزرگتر می‌شود. همان‌طور که در دایره‌ی روبه‌رو مشخص شده، در تمامی مثلث‌های قائم‌الزاویه، طول وتر یکسان است و با زیاد شدن زاویه  $\alpha$ ، اندازه‌ی ضلع مقابل بزرگتر می‌شود و در نتیجه مقدار  $\sin \alpha$  بیشتر می‌شود.



۴ دقیقه

سینوس زوایای  $30^\circ$ ،  $60^\circ$  و  $45^\circ$  را به روش هندسی به دست آورده و با هم مقایسه کنید.



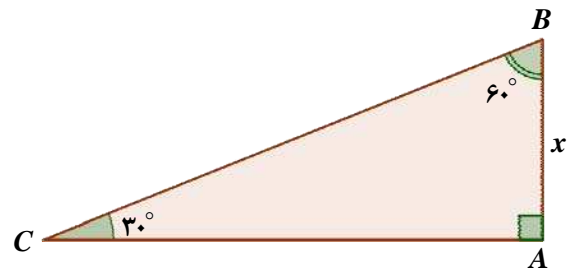
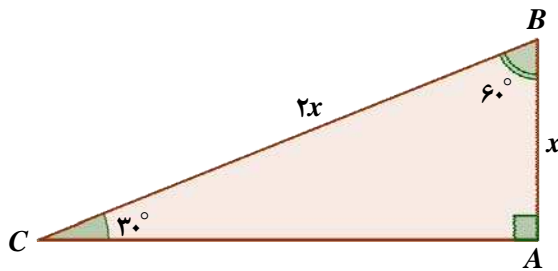
(حل)

در مثلث قائم‌الزاویه، ضلع روبه‌روی زاویه  $30^\circ$  نصف وتر است.

۲

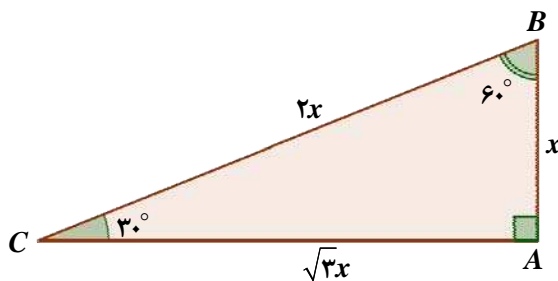
رسم مثلث قائم‌الزاویه‌ای با زاویه  $30^\circ$

۱



به کمک رابطه‌ی فیثاغورث طول ضلع  $AC$  را بر حسب  $x$  به دست می‌آوریم:

$$(2x)^2 = x^2 + (AC)^2 \Rightarrow 4x^2 = x^2 + (AC)^2 \Rightarrow (AC)^2 = 3x^2 \Rightarrow AC = \sqrt{3}x$$



محاسبه‌ی  $\sin 30^\circ$  و  $\sin 60^\circ$

۳

$$\sin 30^\circ = \frac{x}{2x} = \frac{1}{2} \quad \text{و} \quad \sin 60^\circ = \frac{\sqrt{3}x}{2x} = \frac{\sqrt{3}}{2}$$

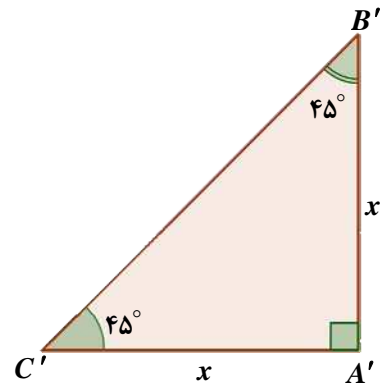
## نسبت مثلثاتی سینوس

به کمک رابطه فیثاغورث طول وتر را بر حسب  $x$  می یابیم:

$$(BC)^2 = x^2 + x^2$$

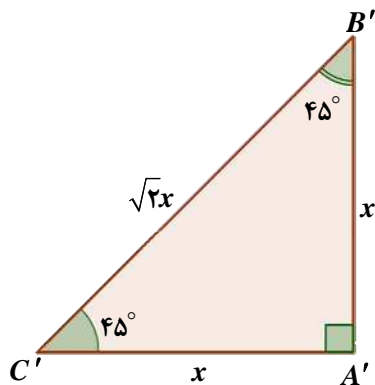
$$\Rightarrow (BC)^2 = 2x^2 \Rightarrow BC = \sqrt{2}x$$

رسم مثلث قائم الزاویه با زاویه  $45^\circ$



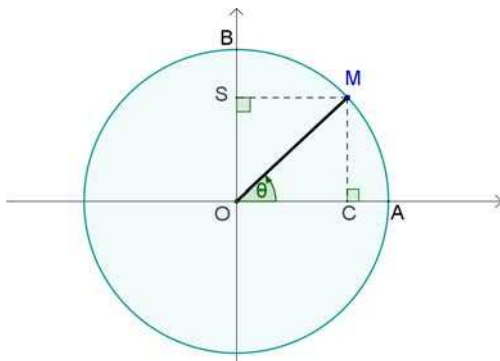
محاسبه  $\sin 45^\circ$

$$\sin 45^\circ = \frac{x}{\sqrt{2}x} = \frac{1}{\sqrt{2}} \times \frac{\sqrt{2}}{\sqrt{2}} \Rightarrow \sin 45^\circ = \frac{\sqrt{2}}{2}$$



$$\frac{1}{2} < \frac{\sqrt{2}}{2} < \frac{\sqrt{3}}{2} \Rightarrow \sin 30^\circ < \sin 45^\circ < \sin 60^\circ$$

پس مقایسه  $\sin 30^\circ$ ،  $\sin 45^\circ$  و  $\sin 60^\circ$  به این ترتیب خواهد بود:



دایره ی روبه رو که به شعاع ۱ رسم شده است، معروف به دایره ی مثلثاتی است. مقدار  $\sin \theta$  برابر با طول کدام پاره خط است؟ ( $\theta$  زاویه ی دلخواه است.)



(حل)

از نقطه ی  $M$  به دو پاره خط  $OA$  و  $OB$  عمود رسم می کنیم. در مثلث قائم الزاویه  $OMC$ ، مقدار  $\sin \theta$  را حساب می کنیم:

$$\sin \theta = \frac{MC}{OM} = \frac{MC}{1} = MC$$

در مستطیل  $OSMC$ ، طول  $MC$  با طول  $OS$  برابر است.

$$\Rightarrow \sin \theta = OS$$



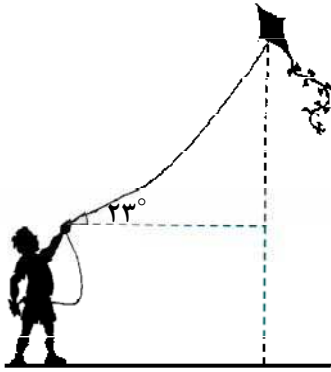
شبه سازی  
کد: ۱۰۳

همان طور که در دایره ی مثلثاتی مشخص است با افزایش زاویه ی  $\theta$ ، طول  $OS$  یعنی  $\sin \theta$  بیشتر می شود. همچنین اگر  $\theta$  به صفر نزدیک شود، سینوس آن به صفر و اگر به  $90^\circ$  نزدیک شود، سینوس آن

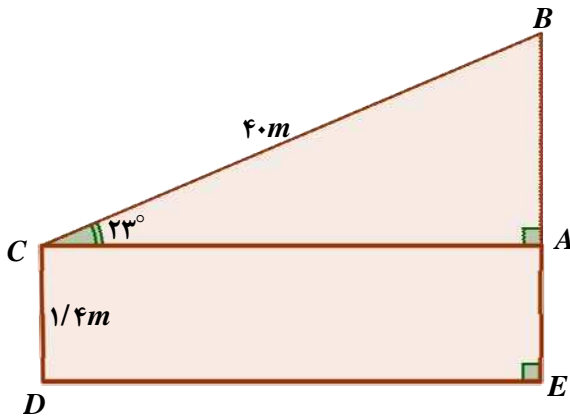


به عدد یک نزدیک می شود. پس داریم:  $\sin 90^\circ = 1$ ،  $\sin 0^\circ = 0$





شخصی که دارای قد ۱ متر و ۴۰ سانتی‌متر است، بادبادکی به هوا فرستاده است. در لحظه‌ای که ۴۰ متر از نخ را رها کرده است، زاویه بین راستای نخ و سطح زمین  $23^\circ$  می‌باشد. ارتفاع بادبادک از سطح زمین چقدر است؟  
(فرض کنید در امتداد مستقیم قرار دارد و  $\sin 23^\circ = 0.39$  است.)



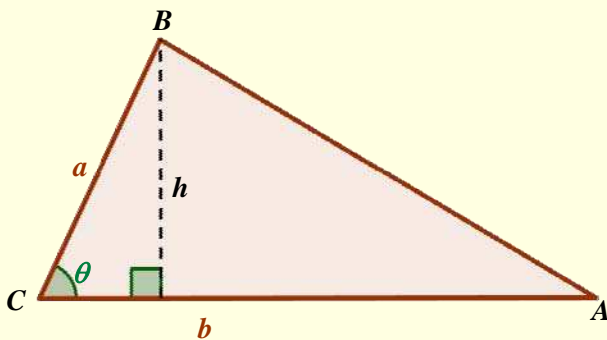
(حل)

همان‌طور که در شکل روبه‌رو مشخص است برای محاسبه ارتفاع بادبادک از زمین باید ابتدا اندازهی ضلع  $AB$  را محاسبه و سپس آن را با اندازهی  $AE$  جمع کنیم:

$$\sin 23^\circ = \frac{AB}{BC} \text{ (جاگذاری)} \Rightarrow 0.39 = \frac{AB}{40} \Rightarrow AB = 15.6m$$

$$\Rightarrow BE = AB + AE \Rightarrow BE = 15.6 + 1/4 = 17m$$

مساحت یک مثلث دلخواه با دو ضلع  $a$  و  $b$  که زاویه‌ی بین آن‌ها  $\theta$  می‌باشد، از رابطه‌ی  $S = \frac{1}{2}ab \sin \theta$  به دست می‌آید.



اثبات:

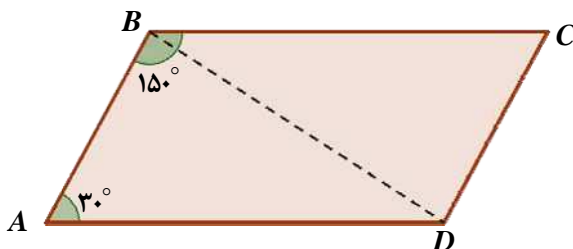
$$\sin \theta = \frac{h}{a} \Rightarrow h = a \sin \theta$$

$$S = \frac{1}{2}b \times h \text{ (جاگذاری)} \Rightarrow S = \frac{1}{2}b \times a \sin \theta$$

$$\Rightarrow S = \frac{1}{2}ab \sin \theta$$



مساحت متوازی‌الاضلاعی را که اندازه‌ی دو ضلع مجاور آن ۵ و ۸ و زاویه‌ی بین این دو ضلع  $150^\circ$  می‌باشد، به دست آورید.



(حل)

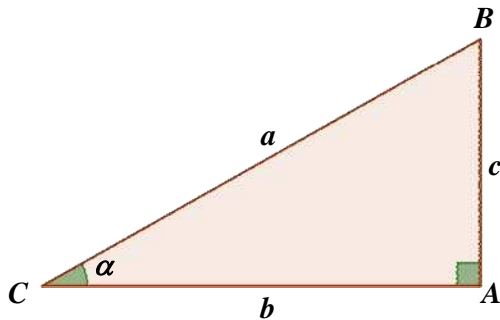
در شکل مقابل زاویه‌ی  $A$  مکمل زاویه‌ی  $B$  است. پس داریم:

$$S_{ABD} = \frac{1}{2}AB \cdot AD \sin 30^\circ = \frac{1}{2} \times 8 \times 5 \times \frac{1}{2} = 10$$

پس مساحت متوازی‌الاضلاع دو برابر مساحت مثلث و برابر ۲۰ می‌باشد.

۱-۲- نسبت مثلثاتی کسینوس

در مثلث قائم الزاویه  $\triangle ABC$  ( $\hat{A} = 90^\circ$ )، کسینوس زاویه ی حاده ی  $\alpha$  این گونه تعریف می شود:



$$\cos \alpha = \frac{\text{اندازه ی ضلع مجاور به زاویه ی } \alpha}{\text{اندازه ی وتر}} = \frac{b}{a}$$

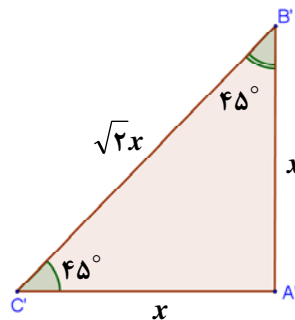
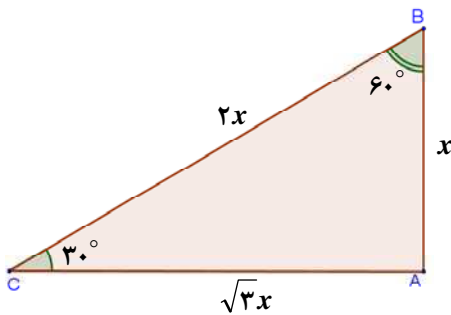
از آن جا که طول وتر از سایر اضلاع بزرگتر است، حاصل تقسیم اندازه ی ضلع مجاور زاویه ی  $\alpha$  بر اندازه ی وتر عددی کوچکتر از یک است:

$$0^\circ < \alpha < 90^\circ \Rightarrow 0 < \cos \alpha < 1$$

در مورد زاویه ی مشخص و حاده ی  $\alpha$  می توان گفت  $\cos \alpha$  عددی ثابت است که فقط به  $\alpha$  بستگی دارد.



به کمک دو شکل زیر،  $\cos 30^\circ$ ،  $\cos 45^\circ$  و  $\cos 60^\circ$  را محاسبه کرده و با هم مقایسه کنید:



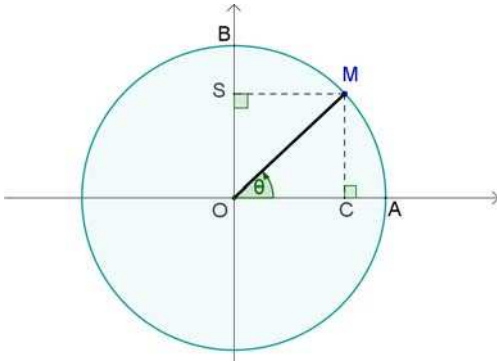
(حل)

$$\triangle ABC : \begin{cases} \cos 30^\circ = \frac{\text{اندازه ی ضلع مجاور}}{\text{اندازه ی وتر}} = \frac{\sqrt{3}x}{2x} = \frac{\sqrt{3}}{2} \\ \cos 60^\circ = \frac{\text{اندازه ی ضلع مجاور}}{\text{اندازه ی وتر}} = \frac{x}{2x} = \frac{1}{2} \end{cases}$$

$$\triangle A'B'C' : \cos 45^\circ = \frac{x}{\sqrt{2}x} = \frac{1}{\sqrt{2}} \times \frac{\sqrt{2}}{\sqrt{2}} = \frac{\sqrt{2}}{2}$$

پس مقایسه ی  $\cos 30^\circ$ ،  $\cos 45^\circ$  و  $\cos 60^\circ$  به این ترتیب خواهد بود:

$$\cos 30^\circ > \cos 45^\circ > \cos 60^\circ$$



دایره‌ی روبرو به شعاع ۱ رسم شده است.  
الف) مقدار  $\cos \theta$  برابر با طول کدام پاره‌خط است؟  
ب) با افزایش  $\theta$  از صفر تا  $90^\circ$ ، مقدار  $\cos \theta$  چگونه تغییر می‌کند؟

(حل)

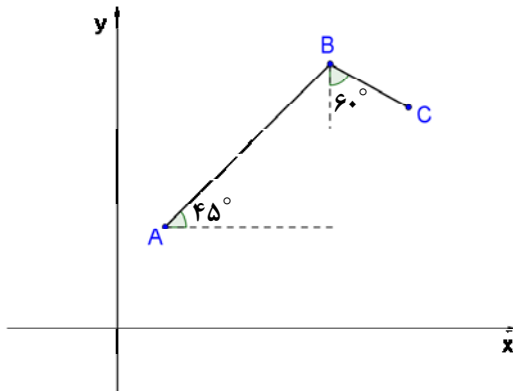
$$\Delta OMC : \cos \theta = \frac{OC}{OM} = \frac{OC}{1} \Rightarrow \cos \theta = OC$$

در شکل مشخص است که با افزایش  $\theta$ ، طول پاره‌خط  $OC$  کاهش می‌یابد. وقتی  $\theta$  در حدود صفر است، کسینوس آن تقریباً یک است و هنگامی که  $\theta$  به  $90^\circ$  می‌رسد، کسینوس آن کاهش یافته و تقریباً صفر است.



$\theta$	$0^\circ$	$1^\circ$	...	$89^\circ$	$90^\circ$
$\sin \theta$	۰		↗		۱
$\cos \theta$	۱		↘		۰

با افزایش زاویه‌ی  $\theta$  از صفر تا  $90^\circ$ ، سینوس و کسینوس آن به شکل مقابل تغییر می‌کنند:



متحرکی از نقطه‌ی  $A$  به نقطه‌ی  $B$  و سپس به نقطه‌ی  $C$  تغییر مکان داده است. این متحرک در راستای افقی چند کیلومتر جابجا شده است؟

$$(AB = 10\sqrt{2} \text{ km} \text{ و } BC = 4\sqrt{3} \text{ km})$$



(حل)

هدف در این مسأله به دست آوردن طول  $DC$  و  $AE$  است:

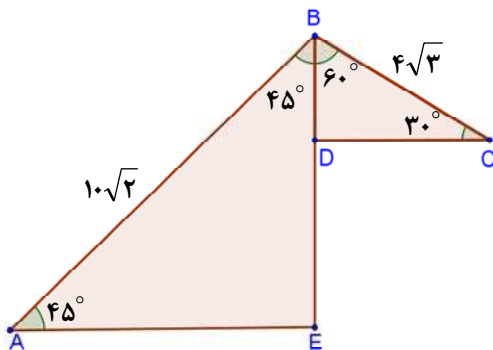
$$\cos A = \frac{AE}{AB} \Rightarrow AE = AB \cos A \text{ (جاگذاری)}$$

$$\Rightarrow AE = 10\sqrt{2} \times \cos 45^\circ = 10\sqrt{2} \times \frac{\sqrt{2}}{2} = 10 \text{ km}$$

$$\cos C = \frac{DC}{BC} \Rightarrow DC = BC \cos C \text{ (جاگذاری)}$$

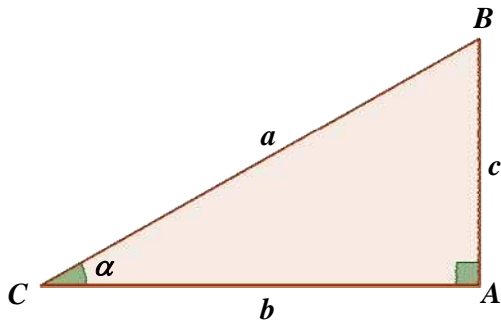
$$\Rightarrow DC = 4\sqrt{3} \times \cos 30^\circ = 4\sqrt{3} \times \frac{\sqrt{3}}{2} = 6 \text{ km}$$

جواب نهایی  $10 + 6 = 16 \text{ km}$  می‌باشد.



۳-۱- نسبت‌های مثلثاتی تانژانت و کتانژانت

در مثلث قائم‌الزاویه  $\triangle ABC$  ( $\hat{A} = 90^\circ$ )، زاویه حاده  $\alpha$  را در نظر می‌گیریم. تانژانت و کتانژانت این زاویه این گونه تعریف می‌شود:



$$\tan \alpha = \frac{\text{اندازهی ضلع مقابل}}{\text{اندازهی ضلع مجاور}} = \frac{c}{b}$$

$$\cot \alpha = \frac{\text{اندازهی ضلع مجاور}}{\text{اندازهی ضلع مقابل}} = \frac{b}{c}$$

چون تانژانت و کتانژانت زاویه  $\alpha$ ، عکس یکدیگر می‌باشند، بیشتر از  $\tan \alpha$  استفاده می‌شود و کتانژانت را بر حسب تانژانت بیان می‌کنند:

$$\cot \alpha = \frac{1}{\tan \alpha}$$



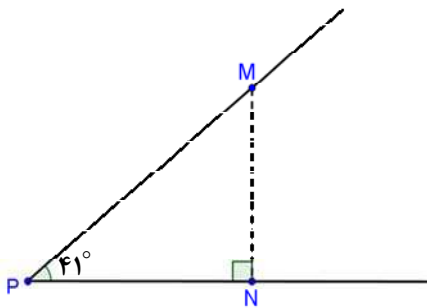
الف- به طور تقریبی  $\tan 41^\circ$  را محاسبه کنید.



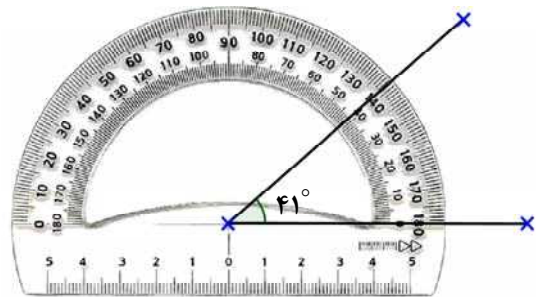
ب- زاویه‌ی حاده‌ای را مشخص کنید که تانژانت آن  $\frac{2}{3}$  باشد.

(حل الف)

رسم عمود از نقطه‌ی دلخواه  $M$



رسم زاویه  $41^\circ$  به کمک نقاله



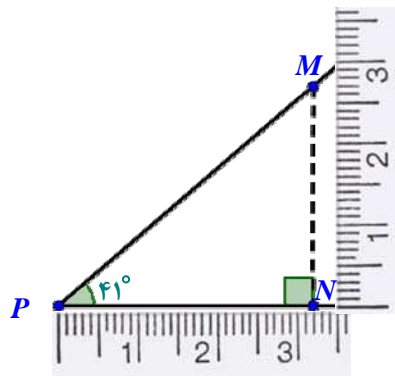
اندازه‌گیری ضلع مقابل و مجاور

به طور تقریبی  $MN = 2/8$  و  $PN = 3/2$  اندازه‌گیری شده‌اند.

پس داریم:

$$\tan 41^\circ = \frac{MN}{PN}$$

$$\Rightarrow \tan 41^\circ \approx \frac{2/8}{3/2} \approx 0.9$$



حل ب)

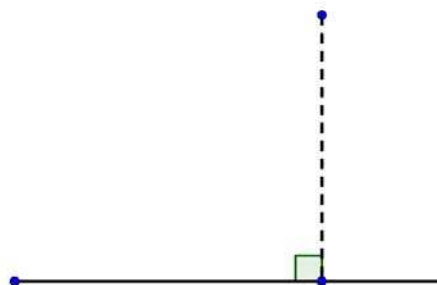

رسم یک زاویه‌ی قائمه



مشخص کردن اضلاع آن به طول‌های ۲ و ۳



$$\tan \alpha = \frac{2}{3}$$

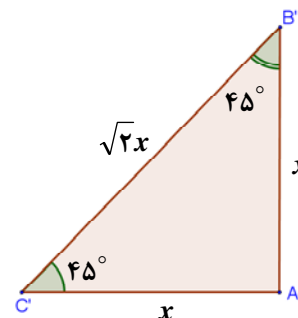
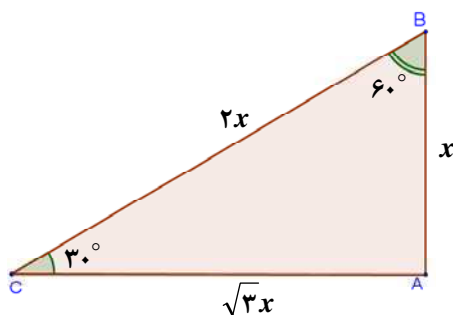
زاویه  $\alpha$  را به کمک نقاله اندازه‌گیری می‌کنیم. جواب به طور تقریبی  $33/6^\circ$  می‌باشد.

۳ دقیقه

تانژانت و کتانژانت زوایای  $30^\circ$ ،  $45^\circ$  و  $60^\circ$  را از طریق هندسی به دست آورده و با هم مقایسه کنید.

حل)

از دو مثلث قائم الزاویه‌ی زیر کمک می‌گیریم:



$$\begin{cases} \tan 30^\circ = \frac{x}{\sqrt{3}x} = \frac{1}{\sqrt{3}} = \frac{\sqrt{3}}{3} \\ \cot 30^\circ = \frac{1}{\tan 30^\circ} = \frac{1}{\frac{1}{\sqrt{3}}} = \sqrt{3} \end{cases}$$

$$\begin{cases} \tan 60^\circ = \frac{\sqrt{3}x}{x} = \sqrt{3} \\ \cot 60^\circ = \frac{1}{\sqrt{3}} = \frac{\sqrt{3}}{3} \end{cases}$$

$$\begin{cases} \tan 45^\circ = \frac{x}{x} = 1 \\ \cot 45^\circ = \frac{1}{1} = 1 \end{cases}$$

پس مقایسه‌ی بین این نسبت‌ها این گونه خواهد شد:

$$\tan 30^\circ < \tan 45^\circ < \tan 60^\circ$$

$$\cot 30^\circ > \cot 45^\circ > \cot 60^\circ$$

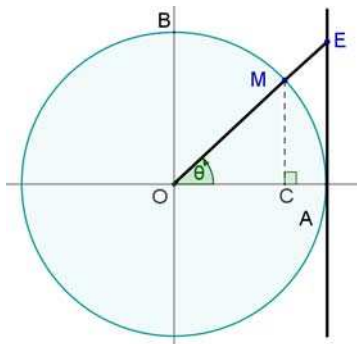
## نسبتهای مثلثاتی تانژانت و کتانژانت

به کمک اغلب ماشین حساب‌ها، می‌توان نسبت‌های مثلثاتی سینوس، کسینوس و تانژانت را محاسبه کرد. فقط باید دقت داشت که ابتدا ماشین حساب در وضعیت درجه قرار گیرد. زیرا واحدهای دیگری نیز برای تعیین زاویه استفاده می‌شود. برای نمونه داریم:



شبه سازی  
کد: ۱۰۵

$$\begin{aligned} \sin 30^\circ &= 0/5, \sin 43^\circ \approx 0/68, \sin 88^\circ \approx 0/99 \\ \cos 30^\circ &= 0/86, \cos 43^\circ \approx 0/73, \cos 88^\circ \approx 0/03 \\ \tan 30^\circ &\approx 0/57, \tan 43^\circ \approx 0/93, \tan 88^\circ \approx 28/63 \end{aligned}$$



دایره‌ی روبرو به شعاع ۱ رسم شده است. (دایره مثلثاتی)



الف) مقدار  $\tan \theta$  برابر با طول کدام پاره‌خط است؟  
ب) با افزایش  $\theta$  از صفر تا  $90^\circ$ ،  $\tan \theta$  چگونه تغییر می‌کند؟  
ج) در مورد  $\tan 0^\circ$  و  $\tan 90^\circ$  چه نظری دارید؟

حل الف)

$$\Delta OAE : \tan \theta = \frac{AE}{OA} = \frac{AE}{1} \Rightarrow \tan \theta = AE$$

حل ب)

در شکل مشخص است که با افزایش  $\theta$  از صفر تا  $90^\circ$ ، طول  $AE$  افزایش می‌یابد.

حل ج)

ابتدا که  $\theta = 0$  است، طول پاره‌خط  $AE$  صفر است، یعنی  $\tan 0^\circ = 0$  و همین‌طور که زاویه بزرگتر می‌شود و به  $90^\circ$  درجه نزدیک تر می‌شود،  $\tan \theta$  افزایش پیدا می‌کند. اما دقیقاً در زاویه‌ی  $90^\circ$ ، امتداد  $OM$ ، خط  $AE$  را قطع نمی‌کند و به همین دلیل  $\tan 90^\circ$  تعریف نشده می‌باشد.



شبه سازی  
کد: ۱۰۶

توجه:

از آن‌جا که مقدار  $\tan \theta$  وقتی  $\theta$  نزدیک  $90^\circ$  است، عدد بزرگی است،  $\tan 90^\circ$  را بی‌نهایت نیز می‌خوانند و با علامت  $\infty$  نشان می‌دهند. توجه کنید:

$$\tan 80^\circ \approx 5/7, \tan 87^\circ \approx 19/1, \tan 89/8^\circ \approx 286/5, \tan 90^\circ = \infty \text{ (تعریف نشده)}$$



یادگیری مقادیر نسبت‌های مثلثاتی  $0^\circ$ ،  $30^\circ$ ،  $45^\circ$ ،  $60^\circ$  و  $90^\circ$  الزامی است. پیشنهاد می‌کنیم جدول مثلثاتی روبرو را به طور دقیق یاد بگیرید.

$\alpha$	$0^\circ$	$30^\circ$	$45^\circ$	$60^\circ$	$90^\circ$
$\sin \alpha$	۰	$\frac{1}{2}$	$\frac{\sqrt{2}}{2}$	$\frac{\sqrt{3}}{2}$	۱
$\cos \alpha$	۱	$\frac{\sqrt{3}}{2}$	$\frac{\sqrt{2}}{2}$	$\frac{1}{2}$	۰
$\tan \alpha$	۰	$\frac{\sqrt{3}}{3}$	۱	$\sqrt{3}$	تعریف نشده
$\cot \alpha$	تعریف نشده	$\sqrt{3}$	۱	$\frac{\sqrt{3}}{3}$	۰

دو مطلب زیر به یادگیری این جدول کمک می‌کند:

- ۱- یادگیری دو ردیف سینوس و تانژانت کافی است. می‌توان سینوس و کتانژانت را از روی این دو به دست آورد.
- ۲- مقادیر سینوس و تانژانت هر دو در حال افزایش می‌باشند.



حاصل عبارات زیر را به دست آورید.

$$1) \sin 60^\circ - 2 \sin 30^\circ + \tan 30^\circ \tan 60^\circ$$

$$2) \frac{2 \tan 45^\circ}{1 + 2 \cos 60^\circ}$$



(حل)

می‌توانیم بدون استفاده از جدول جاگذاری کنیم:

$$1) \frac{\sqrt{3}}{2} - (2 \times \frac{1}{2}) + (\frac{\sqrt{3}}{3} \times \sqrt{3}) = \frac{\sqrt{3}}{2} - 1 + 1 = \frac{\sqrt{3}}{2}$$

$$2) \frac{2 \times 1}{1 + (2 \times \frac{1}{2})} = \frac{2}{1+1} = \frac{2}{2} = 1$$



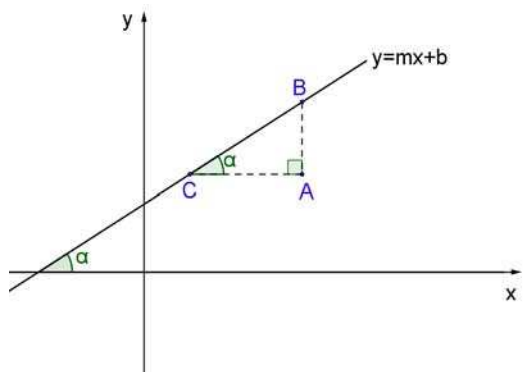
خوارزمی متولد ۷۸۰ میلادی در خوارزم و مؤلف کتاب‌های متعدد در ریاضیات و نجوم است. شهرت علمی خوارزمی مربوط به کارهایی است که در ریاضیات مخصوصاً در رشته‌ی جبر انجام داده است. به موجب تلاش‌های این دانشمند اصطلاح الگوریتم که لاتین شده‌ی نام وی است به زبان ریاضی افزوده شد. او در کتاب «حساب الهند» دستگاه شمارش هندی را توضیح داده است. این کتاب یکی از آثار بود که آشنایی اروپایی غربی را با دستگاه مکانی اعشاری موجب شد. کتاب دیگری از خوارزمی که مغرب زمین از طریق ترجمه‌ی لاتین با آن آشنا شد و متن عربی آن موجود است، کتاب «حساب الجبر و المقابله» می‌باشد. او موفق به اندازه‌گیری یک درجه از قوس نصف النهار شد.



ابو جعفر محمد بن موسی خوارزمی

خدمت شایان دیگر خوارزمی به جهان علم این است که وی حساب هندی را در دنیای متمدن انتشار داد و اروپاییان را با استعمال صفر برای نشان دادن مرتبه‌ی خالی آشنا ساخت. برای نشان دادن مرتبه‌ی خالی آشنا ساخت. خوارزمی در سایر رشته‌های علوم و مخصوصاً نجوم هم کارهای جالب و سودمندی انجام داد و نقشه‌های جغرافیایی بطلمیوس را اصلاح کرد. خوارزمی در حدود سال ۸۴۸ میلادی درگذشت.

### ۴-۱- رابطه‌ی بین شیب خط و تانژانت

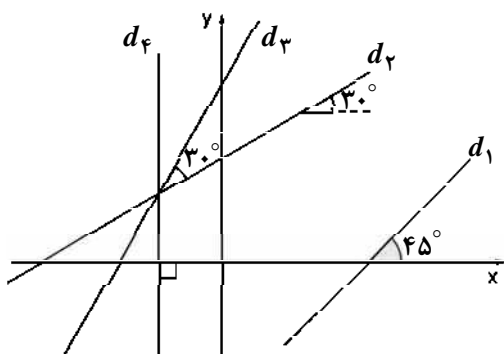


خط روبرو به معادله  $y = mx + b$  را در نظر بگیرید.  $m$  شیب این خط است که نشان دهنده‌ی نسبت میزان افزایش ارتفاع به اندازه‌ی جابه‌جایی در راستای افقی است:

$$m = \frac{AB}{AC}$$

از طرفی در مثلث  $ABC$ ، این نسبت همان  $\tan \alpha$  می‌باشد. پس می‌توان گفت:

$$m = \tan \alpha = \frac{AB}{AC} \quad (\alpha \text{ زاویه‌ی خط با جهت مثبت محور طول‌ها می‌باشد.})$$



در شکل مقابل شیب هر یک از خطوط  $d_1$  تا  $d_4$  را تعیین کنید.



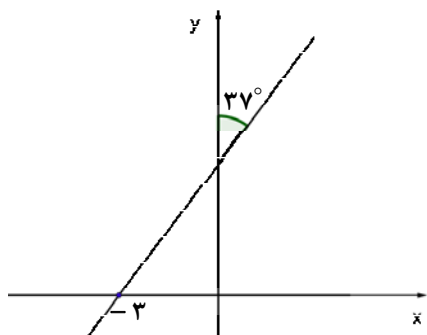
(حل)

زاویه‌ی  $d_1$  با جهت مثبت محور طول‌ها  $\alpha = 45^\circ \Rightarrow m_1 = \tan 45^\circ = 1$

زاویه‌ی  $d_2$  با جهت مثبت محور طول‌ها  $\alpha = 30^\circ \Rightarrow m_2 = \tan 30^\circ = \frac{\sqrt{3}}{3}$

زاویه‌ی  $d_3$  با جهت مثبت محور طول‌ها  $\alpha = 30^\circ + 30^\circ = 60^\circ \Rightarrow m_3 = \tan 60^\circ = \sqrt{3}$

زاویه‌ی  $d_4$  با جهت مثبت محور طول‌ها  $\alpha = 90^\circ \Rightarrow m_4 = \tan 90^\circ = \infty$  (تعریف نشده)



خط روبرو از نقطه  $A(6, a)$  می‌گذرد. مقدار  $a$  را به دست آورید.

$$\left( \tan 37^\circ = \frac{3}{4} \text{ و } \tan 53^\circ = \frac{4}{3} \right)$$





(حل)

این خط از نقطه‌ی  $(-۳, ۰)$  می‌گذرد، کافی است شیب خط را به دست آوریم و معادله‌ی خط را مشخص کنیم:

$$\hat{M} + \hat{N} = 90^\circ \Rightarrow 37^\circ + \hat{N} = 90^\circ \Rightarrow \hat{N} = 53^\circ$$

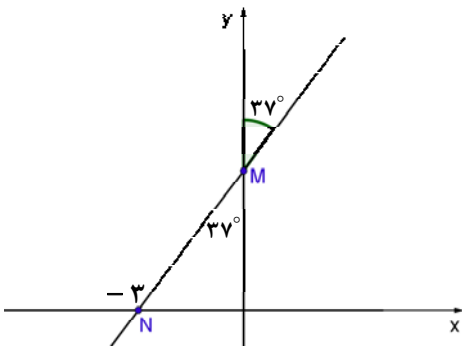
$$m = \tan N = \tan 53^\circ = \frac{4}{3}$$

معادله‌ی خط:

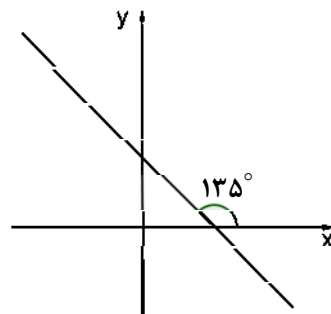
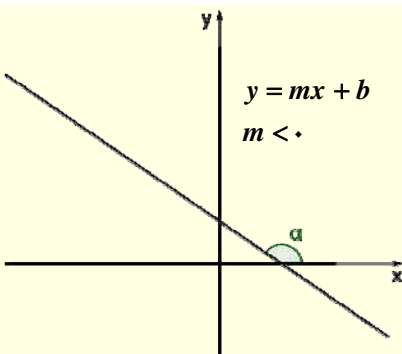
$$y - y_1 = m(x - x_1) \Rightarrow y - 0 = \frac{4}{3}(x + 3) \Rightarrow y = \frac{4}{3}x + 4$$

طول نقطه‌ی  $A$  را در معادله‌ی خط جاگذاری می‌کنیم تا عرض آن یعنی  $a$  به دست آید:

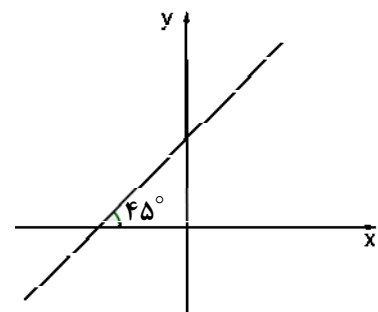
$$y = \left(\frac{4}{3} \times 6\right) + 4 \Rightarrow y = 8 + 4 = 12 \Rightarrow a = 12$$



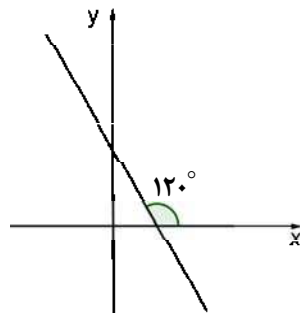
حتی در مواردی که شیب خط منفی باشد نیز رابطه‌ی  $m = \tan(\alpha)$  صحیح است. در این صورت زاویه‌ی خط با جهت مثبت محور طول‌ها  $(\alpha)$  منفرجه می‌باشد. در فصل بعدی خواهیم دید که تانژانت زاویه منفرجه عددی منفی است. به نمونه‌های زیر توجه کنید:



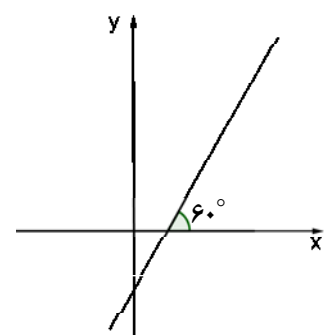
$$m = \tan 135^\circ = -\tan 45^\circ = -1$$



$$m = \tan 45^\circ = 1$$



$$m = \tan 120^\circ = -\tan 60^\circ = -\sqrt{3}$$



$$m = \tan 60^\circ = \sqrt{3}$$



شبیه سازی

کد: ۱۰۷

۱-۵- چند مسأله‌ی کاربردی



فردی با قد یک متر و پنجاه سانتی‌متر الواری به طول  $390\text{cm}$  را که یک سر آن به دیوار تکیه داده شده است، با زاویه‌ی  $45^\circ$  درجه بلند کرده است. فرد از دیوار دور می‌شود تا جایی که سر دیگر الوار تا قد او پایین بیاید. او چقدر از دیوار دور شده است؟

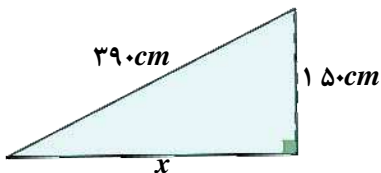


(حل)

در حالت اول:

$$\tan 45^\circ = \frac{\text{طول قد فرد}}{\text{فاصله‌ی فرد از دیوار}} = \frac{150\text{cm}}{\text{فاصله‌ی فرد از دیوار}} \quad \text{فاصله‌ی فرد از دیوار} = 150\text{cm}$$


در حالت دوم:



$x =$  فاصله فرد از دیوار

$$\text{فیثاغورت: } x^2 + 150^2 = 390^2 \Rightarrow x^2 = 129600 \Rightarrow x = 360\text{cm}$$

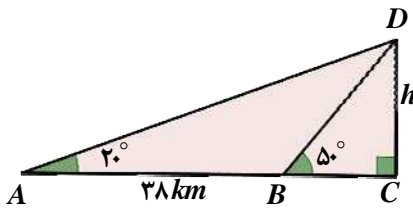
پس مقدار جابجایی فرد برابر با  $(360 - 150 = 210\text{cm})$  می‌باشد.



دو پدافند  $A$  و  $B$  که در فاصله‌ی  $38$  کیلومتری از هم قرار دارند، یک هواپیمای جنگنده را با زاویه‌های  $20^\circ$  و  $50^\circ$  نسبت به افق مورد شلیک قرار می‌دهند. ارتفاع پرواز این جنگنده چند کیلومتر است؟



(حل)

هدف در این مسأله به دست آوردن  $h$  است.

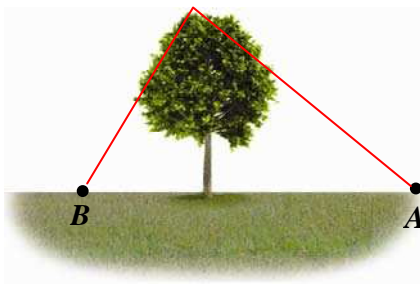
$$\begin{cases} \Delta ADC : \tan 20^\circ = \frac{h}{AC} \Rightarrow AC = \frac{h}{\tan 20^\circ} \\ \Delta BDC : \tan 50^\circ = \frac{h}{BC} \Rightarrow BC = \frac{h}{\tan 50^\circ} \end{cases} \quad (\text{جاگذاری})$$

$$\Rightarrow AB = AC - BC \Rightarrow 38 \text{ km} = \frac{h}{\tan 20^\circ} - \frac{h}{\tan 50^\circ}$$

$$\Rightarrow 38 = h \left( \frac{1}{\tan 20^\circ} - \frac{1}{\tan 50^\circ} \right) \quad (\text{به کمک ماشین حساب})$$

$$\Rightarrow 38 = h \times 1/9 \Rightarrow h = \frac{38}{1/9} = 20 \text{ cm}$$

ارتفاع جنگنده از سطح زمین ۲۰ km است.



در شکل مقابل درختی به ارتفاع ۲/۵ متر از نقطه‌ی  $A$  با زاویه‌ی ۲۵° و از نقطه‌ی  $B$  با زاویه‌ی ۵۰° دیده می‌شود. فاصله‌ی دو نقطه از یکدیگر چقدر است؟

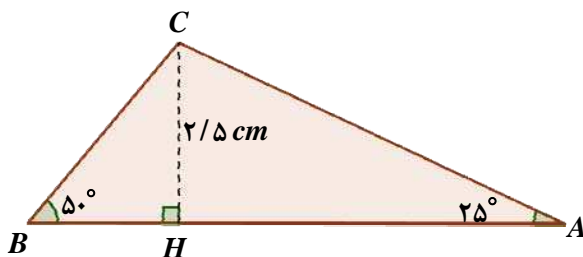


$$(\tan 50^\circ = 1/19 \text{ و } \tan 25^\circ = 0/47)$$

(حل)

برای به دست آوردن  $AB$ ، کافی است در دو مثلث  $ACH$  و  $BCH$  اضلاع  $AH$  و  $BH$  را به دست آورده و با هم جمع

کنیم:



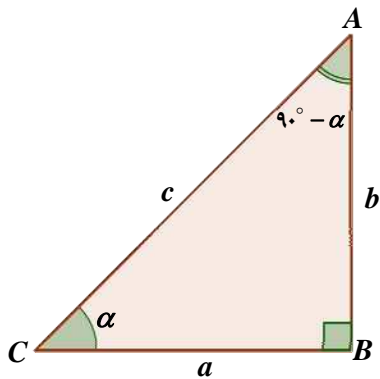
$$\begin{cases} \Delta AHC : \tan 25^\circ = \frac{CH}{AH} \Rightarrow 0/47 = \frac{2/5}{AH} \Rightarrow AH = 5/32 \text{ m} \\ \Delta BHC : \tan 50^\circ = \frac{CH}{BH} \Rightarrow 1/19 = \frac{2/5}{BH} \Rightarrow BH = 2/10 \text{ m} \end{cases}$$

$$\Rightarrow AB = AH + BH = 5/32 + 2/10 = 7/42 \text{ m}$$

پس فاصله‌ی دو نقطه از هم ۷/۴۲ m است.

### ۱-۶- نسبت‌های مثلثاتی زوایای متمم

دو زاویه را که مجموع آن‌ها  $90^\circ$  باشد، متمم گویند. مانند  $30^\circ$  و  $60^\circ$  یا  $15^\circ$  و  $75^\circ$ .  
در حالت کلی دو زاویه  $\alpha$  و  $90^\circ - \alpha$  متمم هستند. در مورد این زوایا می‌توان گفت که سینوس یکی برابر با کسینوس دیگری و تانژانت یکی برابر با کتانژانت دیگری است. توجه کنید:



$$\sin(90^\circ - \alpha) = \frac{a}{c} = \cos(\alpha)$$

$$\cos(90^\circ - \alpha) = \frac{b}{c} = \sin(\alpha)$$

$$\tan(90^\circ - \alpha) = \frac{a}{b} = \cot(\alpha)$$

$$\cot(90^\circ - \alpha) = \frac{b}{a} = \tan(\alpha)$$

به عنوان نمونه داریم:

$$\sin 75^\circ = \sin(90^\circ - 15^\circ) = \cos(15^\circ)$$

$$\cot 60^\circ = \cot(90^\circ - 30^\circ) = \tan(30^\circ)$$

$$\cos 10^\circ = \cos(90^\circ - 80^\circ) = \sin(80^\circ)$$

درستی این روابط را با ماشین حساب بررسی کنید.



حاصل عبارت  $A = \tan 20^\circ \times \tan 45^\circ \times \tan 70^\circ$  را به دست آورید.



$$\tan 70^\circ = \tan(90^\circ - 20^\circ) = \cot 20^\circ$$

$$\Rightarrow \tan 20^\circ \times \tan 70^\circ = \tan 20^\circ \times \cot 20^\circ = \tan 20^\circ \times \frac{1}{\tan 20^\circ} = 1$$

$$A = \tan 20^\circ \times \tan 45^\circ \times \tan 70^\circ = (\tan 20^\circ \times \tan 70^\circ) \times \tan 45^\circ = 1 \times 1 = 1$$

(حل)



سه عدد  $\sin 20^\circ$ ،  $\cos 10^\circ$  و  $\tan 80^\circ$  را باهم مقایسه کنید.



(حل)

$$\begin{cases} \cos 10^\circ = \cos(90^\circ - 80^\circ) = \sin 80^\circ \\ \sin 80^\circ > \sin 20^\circ \end{cases} \Rightarrow \cos 10^\circ > \sin 20^\circ$$

در زوایای حاده، زاویه‌ی بزرگتر سینوس بزرگتری دارد.

حال  $\tan 80^\circ$  را با  $\sin 80^\circ$  مقایسه می‌کنیم:

$\tan 80^\circ = 1$  از  $\tan 45^\circ$  بزرگتر است، در صورتی که  $\sin 80^\circ$  از یک کوچکتر است، پس  $\tan 80^\circ > \sin 80^\circ$  خواهد بود. پس داریم:

$$\tan 80^\circ > \sin 80^\circ > \sin 20^\circ$$

$$\tan 80^\circ > \cos 10^\circ > \sin 20^\circ$$

## ۱-۷- روابط بین نسبت‌های مثلثاتی

به مثال زیر توجه کنید:



در محاسبه‌ی  $2\sin\alpha$ ،  $\sin(2\alpha)$ ،  $\sin^2(\alpha)$  و  $\sin^2\alpha$  چه تفاوتی وجود دارد؟ با یک مثال عددی تفاوت را نشان دهید.



(حل)

در محاسبه‌ی  $2\sin\alpha$  : ابتدا  $\sin\alpha$  محاسبه شده و حاصل در ۲ ضرب می‌شود.  
 در محاسبه‌ی  $\sin(2\alpha)$  : ابتدا  $2\alpha$  محاسبه شده و سپس سینوس آن به دست می‌آید.  
 در محاسبه‌ی  $\sin^2(\alpha)$  : ابتدا  $\alpha^2$  محاسبه شده و سپس سینوس آن به دست می‌آید.  
 در محاسبه‌ی  $\sin^2\alpha$  : ابتدا  $\sin\alpha$  محاسبه شده و سپس مربع آن به دست می‌آید.  
 به عنوان مثال عددی  $\alpha = 9^\circ$  را بررسی می‌کنیم:

$$2\sin\alpha = 2\sin 9^\circ \approx 0.312 \quad \text{و} \quad \sin 2\alpha = \sin 18^\circ \approx 0.309$$

$$\sin\alpha^2 = \sin 81^\circ \approx 0.988 \quad \text{و} \quad \sin^2\alpha = (\sin 9^\circ)^2 \approx 0.024$$

بین نسبت‌های مثلثاتی روابطی وجود دارد که در این بخش با چند رابطه‌ی معروف و کاربرد آنها در حل مسائل آشنا می‌شویم:

$$۱) \tan\alpha = \frac{\sin\alpha}{\cos\alpha}$$

$$۲) \cot\alpha = \frac{\cos\alpha}{\sin\alpha}$$

$$۳) \tan\alpha \cdot \cot\alpha = 1$$

$$۴) \sin^2\alpha + \cos^2\alpha = 1$$

$$۵) 1 + \tan^2\alpha = \frac{1}{\cos^2\alpha}$$

$$۶) 1 + \cot^2\alpha = \frac{1}{\sin^2\alpha}$$

اثبات رابطه‌ی (۱):

$$\tan\alpha = \frac{\text{اندازه‌ی ضلع مقابل } \alpha}{\text{اندازه‌ی ضلع مجاور } \alpha} \Rightarrow \tan\alpha = \frac{\frac{\text{اندازه‌ی ضلع مقابل}}{\text{اندازه‌ی وتر}}}{\frac{\text{اندازه‌ی ضلع مجاور}}{\text{اندازه‌ی وتر}}} = \frac{\sin\alpha}{\cos\alpha}$$

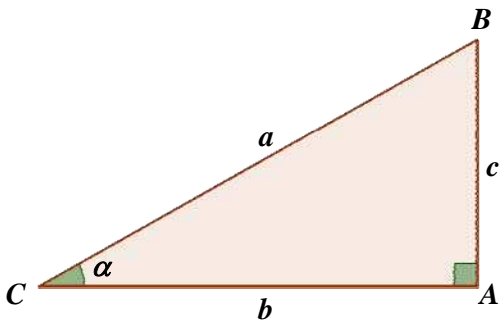
به راحتی می‌توان رابطه‌ی (۲) را نیز به همین ترتیب اثبات کرد.

اثبات رابطه‌ی (۳):

$$\tan\alpha \cdot \cot\alpha = \frac{\sin\alpha}{\cos\alpha} \times \frac{\cos\alpha}{\sin\alpha} = 1$$

اثبات رابطه‌ی (۴):

به مثلث قائم الزاویه‌ی روبرو توجه کنید:



$$\cos \alpha = \frac{b}{a} \text{ و } \sin \alpha = \frac{c}{a}$$

$$\Rightarrow \sin^2 \alpha + \cos^2 \alpha = \left(\frac{c}{a}\right)^2 + \left(\frac{b}{a}\right)^2 = \frac{c^2}{a^2} + \frac{b^2}{a^2} = \frac{b^2 + c^2}{a^2} \text{ (پیتاگورث)} \Rightarrow \sin^2 \alpha + \cos^2 \alpha = \frac{a^2}{a^2} = 1$$

به نمونه‌های زیر توجه کنید:

$$\sin 45^\circ = \frac{\sqrt{2}}{2}, \cos 45^\circ = \frac{\sqrt{2}}{2} \Rightarrow \sin^2 45^\circ + \cos^2 45^\circ = \frac{1}{2} + \frac{1}{2} = 1$$

$$\sin 30^\circ = \frac{1}{2}, \cos 30^\circ = \frac{\sqrt{3}}{2} \Rightarrow \sin^2 30^\circ + \cos^2 30^\circ = \frac{1}{4} + \frac{3}{4} = 1$$

اثبات رابطه‌ی (۵):

$$1 + \tan^2 \alpha = 1 + \left(\frac{\sin \alpha}{\cos \alpha}\right)^2 = 1 + \frac{\sin^2 \alpha}{\cos^2 \alpha} = \frac{\cos^2 \alpha + \sin^2 \alpha}{\cos^2 \alpha} = \frac{1}{\cos^2 \alpha}$$

رابطه‌ی (۶) نیز به همین ترتیب قابل اثبات است.



با فرض  $\tan \theta = 5$ ، حاصل عددی  $A = \frac{3 \sin \theta - \cos \theta}{\sin \theta - 4 \cos \theta}$  را به دست آورید.



(حل)

(روش اول)

$$\tan \theta = 5 \Rightarrow \frac{\sin \theta}{\cos \theta} = 5 \Rightarrow \sin \theta = 5 \cos \theta \text{ (جاگذاری در } A \text{)}$$

$$\Rightarrow A = \frac{3(5 \cos \theta) - \cos \theta}{5 \cos \theta - 4 \cos \theta} = \frac{15 \cos \theta - \cos \theta}{\cos \theta} = \frac{14 \cos \theta}{\cos \theta} = 14$$

(روش دوم)

صورت و مخرج کسر را بر  $\cos \theta$  تقسیم می‌کنیم:

$$A = \frac{\frac{3 \sin \theta - \cos \theta}{\cos \theta}}{\frac{\sin \theta - 4 \cos \theta}{\cos \theta}} = \frac{3 \frac{\sin \theta}{\cos \theta} - \frac{\cos \theta}{\cos \theta}}{\frac{\sin \theta}{\cos \theta} - 4 \frac{\cos \theta}{\cos \theta}} = \frac{3 \tan \theta - 1}{\tan \theta - 4} = \frac{(3 \times 5) - 1}{5 - 4} = 14$$



عبارت‌های زیر را به صورت مربع یک عبارت مثلثاتی بنویسید.



۱)  $\tan^2 \alpha + \cot^2 \alpha - 2$

۲)  $(1 + \tan \alpha)^2 + (1 + \cot \alpha)^2 + 1$

حل ۱

$$\tan^2 \alpha + \cot^2 \alpha - 2 = (\tan \alpha)^2 + (\cot \alpha)^2 - 2 \times \tan \alpha \times \cot \alpha \text{ (اتحاد مربع دو جمله‌ای)} = (\tan \alpha - \cot \alpha)^2$$

حل ۲

$$(1 + \tan \alpha)^2 + (1 + \cot \alpha)^2 + 1 = 1 + 2 \tan \alpha + \tan^2 \alpha + 1 + 2 \cot \alpha + \cot^2 \alpha + 1$$

$$= \tan^2 \alpha + \cot^2 \alpha + 1 + 2 \tan \alpha + 2 \cot \alpha + 2$$

$$= \tan^2 \alpha + \cot^2 \alpha + 1 + 2(\tan \alpha \times 1) + 2(\cot \alpha \times 1) + 2(\tan \alpha \times \cot \alpha) \text{ (اتحاد مربع سه جمله‌ای)}$$

$$= (\tan \alpha + \cot \alpha + 1)^2$$



اگر سینوس زاویه‌ی حاده‌ی  $\theta$  برابر با  $\frac{2}{5}$  باشد، سایر نسبت‌های مثلثاتی  $\theta$  را محاسبه کنید.



حل

$$\begin{cases} \sin^2 \theta + \cos^2 \theta = 1 \\ \sin \theta = \frac{2}{5} \end{cases} \Rightarrow \frac{4}{25} + \cos^2 \theta = 1$$

$$\Rightarrow \cos^2 \theta = \frac{21}{25} \Rightarrow \cos \theta = \frac{\sqrt{21}}{5} \text{ یا } \cos \theta = -\frac{\sqrt{21}}{5} \text{ (غیر قابل قبول)}$$

$$\tan \theta = \frac{\sin \theta}{\cos \theta} = \frac{\frac{2}{5}}{\frac{\sqrt{21}}{5}} = \frac{2}{\sqrt{21}} = \frac{2}{\sqrt{21}} \times \frac{\sqrt{21}}{\sqrt{21}} = \frac{2\sqrt{21}}{21}$$

$$\cot \theta = \frac{\cos \theta}{\sin \theta} = \frac{\frac{\sqrt{21}}{5}}{\frac{2}{5}} = \frac{\sqrt{21}}{2}$$



اگر  $\sin \theta - \cos \theta = \frac{1}{3}$  باشد، مقدار عبارت  $\sin \theta \cos \theta$  چقدر است؟



حل

طرفین فرض را به توان ۲ می‌رسانیم تا عبارت  $\sin \theta \cos \theta$  ظاهر شود:

$$\Rightarrow (\sin \theta - \cos \theta)^2 = \frac{1}{9} \Rightarrow \sin^2 \theta + \cos^2 \theta - 2 \sin \theta \cos \theta = \frac{1}{9}$$

$$\Rightarrow 1 - 2 \sin \theta \cos \theta = \frac{1}{9} \Rightarrow 2 \sin \theta \cos \theta = 1 - \frac{1}{9} = \frac{8}{9} \Rightarrow \sin \theta \cos \theta = \frac{4}{9}$$



۱)  $\sin^6 \alpha + \cos^6 \alpha$

۲)  $\sin^6 \alpha + \cos^6 \alpha$

حاصل عبارات زیر را به ساده‌ترین صورت در آورید.



حل ۱)

از اتحاد فرعی  $a^2 + b^2 = (a+b)^2 - 2ab$  استفاده می‌کنیم:

$$\sin^2 \alpha + \cos^2 \alpha = (\sin^2 \alpha) + (\cos^2 \alpha) = ((\sin \alpha)^2 + (\cos \alpha)^2)^2 - 2(\sin^2 \alpha)(\cos^2 \alpha) = 1 - 2\sin^2 \alpha \cos^2 \alpha$$

حل ۲)

از اتحاد فرعی  $a^3 + b^3 = (a+b)^3 - 3ab(a+b)$  استفاده می‌کنیم:

$$\begin{aligned} \sin^3 \alpha + \cos^3 \alpha &= (\sin^2 \alpha) \sin \alpha + (\cos^2 \alpha) \cos \alpha = (\sin^2 \alpha + \cos^2 \alpha)^3 - 3\sin^2 \alpha \cos^2 \alpha (\sin^2 \alpha + \cos^2 \alpha) \\ &= 1 - 3\sin^2 \alpha \cos^2 \alpha \end{aligned}$$



درستی رابطه‌ی  $\frac{2}{\sin^2 \theta} - \frac{1}{\sin^4 \theta} = 1 - \cot^4 \theta$  را اثبات کنید.



حل)

از سمت چپ شروع به ساده کردن می‌کنیم تا به سمت راست برسیم:

$$\begin{aligned} \text{سمت چپ: } \frac{2}{\sin^2 \theta} - \frac{1}{\sin^4 \theta} &= \frac{1}{\sin^2 \theta} \left( 2 - \frac{1}{\sin^2 \theta} \right) = (1 + \cot^2 \theta)(2 - (1 + \cot^2 \theta)) \\ &= (1 + \cot^2 \theta)(1 - \cot^2 \theta) = 1 - \cot^4 \theta \quad \text{سمت راست:} \end{aligned}$$



زاویه‌ی حاده‌ی  $\theta$  در رابطه‌ی  $5\sin^2 \theta + 2\cos^2 \theta + 2\sin \theta \cos \theta = 5$  صدق می‌کند.  $\tan \theta$  چقدر است؟



حل)

طرفین رابطه را بر  $\cos^2 \theta$  تقسیم می‌کنیم:

$$\begin{aligned} 5 \frac{\sin^2 \theta}{\cos^2 \theta} + \frac{2\cos^2 \theta}{\cos^2 \theta} + 2 \frac{\sin \theta \cos \theta}{\cos^2 \theta} &= \frac{5}{\cos^2 \theta} \\ \Rightarrow 5 \tan^2 \theta + 2 + 2 \tan \theta &= 5(1 + \tan^2 \theta) \Rightarrow 2 + 2 \tan \theta = 5 \Rightarrow \tan \theta = \frac{3}{2} \end{aligned}$$



اگر  $\tan \beta = 3$  باشد، حاصل  $\frac{\sin \beta}{20 \cos^3 \beta - \sin \beta}$  را به دست آورید.



حل)

صورت و مخرج کسر را بر  $\cos^3 \beta$  تقسیم می‌کنیم:

$$\begin{aligned} \frac{\frac{\sin \beta}{\cos^3 \beta}}{20 \frac{\cos^3 \beta}{\cos^3 \beta} - \frac{\sin \beta}{\cos^3 \beta}} &= \frac{\frac{\sin \beta}{\cos \beta} \times \frac{1}{\cos^2 \beta}}{20 - \frac{\sin \beta}{\cos \beta} \times \frac{1}{\cos^2 \beta}} = \frac{\tan \beta (1 + \tan^2 \beta)}{20 - \tan \beta (1 + \tan^2 \beta)} \quad (\text{جاگذاری}) \\ &= \frac{3 \times 10}{20 - (3 \times 10)} = \frac{30}{20 - 30} = \frac{30}{-10} = -3 \end{aligned}$$





$$1) \frac{\sin x}{1 - \cos x} = \frac{1 + \cos x}{\sin x}$$

$$2) \frac{1}{\cos^6 x} - \frac{3 \tan^2 x}{\cos^2 x} = 1 + \tan^6 x$$

$$\frac{\sin x}{1 - \cos x} = \frac{1 + \cos x}{\sin x} \quad (\text{طرفین - وسطین})$$

$$\Leftrightarrow \sin^2 x = 1 - \cos^2 x \Leftrightarrow \sin^2 x + \cos^2 x = 1 \quad (\text{همواره درست})$$

حل ۱)

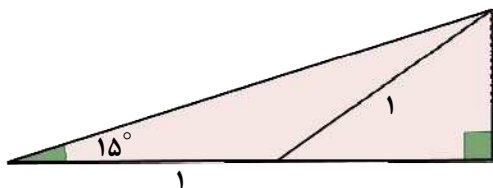
حل ۲)

$$\text{سمت چپ} = \frac{1}{\cos^2 x} \left( \frac{1}{\cos^2 x} - 3 \tan^2 x \right)$$

$$= (1 + \tan^2 x) \left( \left( \frac{1}{\cos^2 x} \right)^2 - 3 \tan^2 x \right) = (1 + \tan^2 x) \left( (1 + \tan^2 x)^2 - 3 \tan^2 x \right)$$

$$= (1 + \tan^2 x) (1 - \tan^2 x + \tan^4 x) \quad (\text{اتحاد چاق و لاغر}) = (1 + (\tan^2 x)) (1 - (\tan^2 x) (1) + (\tan^2 x)^2)$$

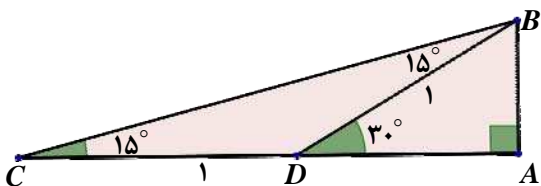
$$= 1 + (\tan^2 x)^3 = 1 + \tan^6 x = (\text{سمت راست})$$



به کمک شکل مقابل مقدار دقیق  $\tan 15^\circ$  را حساب کنید.



حل



از آن جا که مثلث  $BDC$  متساوی الساقین است، دو زاویه حاده این مثلث،  $15^\circ$  خواهد بود. زاویه خارجی  $D$  در مثلث  $BDC$  نیز برابر  $15^\circ + 15^\circ = 30^\circ$  می‌باشد:

$$\Rightarrow \tan 15^\circ = \frac{AB}{AC} = \frac{AB}{1 + AD} \quad (I)$$

پس مقادیر  $AD$  و  $AB$  را حساب کرده و در رابطه‌ی  $I$  جاگذاری می‌کنیم:

$$\Rightarrow \begin{cases} AB = BD \times \sin 30^\circ = 1 \times \frac{1}{2} = \frac{1}{2} \\ AD = BD \times \cos 30^\circ = 1 \times \frac{\sqrt{3}}{2} = \frac{\sqrt{3}}{2} \end{cases} \quad (\text{جاگذاری در رابطه‌ی } I) \quad \Rightarrow \tan 15^\circ = \frac{\frac{1}{2}}{1 + \frac{\sqrt{3}}{2}} \quad (\text{ساده کردن})$$

$$\Rightarrow \tan 15^\circ = \frac{\frac{1}{2}}{\frac{2 + \sqrt{3}}{2}} = \frac{1}{2 + \sqrt{3}} \times \frac{2 - \sqrt{3}}{2 - \sqrt{3}} = \frac{2 - \sqrt{3}}{2^2 - (\sqrt{3})^2} = \frac{2 - \sqrt{3}}{4 - 3} = 2 - \sqrt{3}$$



به روش هندسی ثابت کنید:  $\sin 2\alpha = 2 \sin \alpha \cos \alpha$



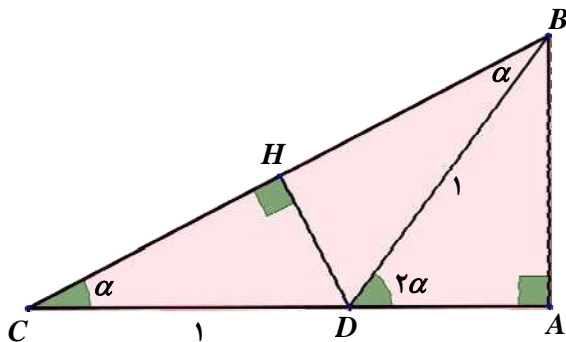
حل

قبل از اثبات، درستی رابطه را به ازای  $\alpha = 30^\circ$  بررسی می‌کنیم:

$$\sin 60^\circ = 2 \sin 30^\circ \cos 30^\circ \Rightarrow \frac{\sqrt{3}}{2} = 2 \times \frac{1}{2} \times \frac{\sqrt{3}}{2}$$

اثبات:

در شکل روبرو هم زاویه‌ی  $\alpha$  و هم زاویه‌ی  $2\alpha$  وجود دارد:  
برای رسم این شکل کافی است مثلث متساوی‌الساقین  $BCD$  را به طول  
ساق ۱ واحد و زاویه‌ی  $\alpha$  رسم می‌کنیم. سپس از نقطه‌ی  $B$  بر امتداد  
ضلع  $CD$  عمود کنیم. سپس از نقطه‌ی  $D$  بر ضلع  $BC$  عمود کنیم.



$$\left. \begin{array}{l} \Delta ABC : \sin \hat{C} = \frac{AB}{BC} \Rightarrow \sin \alpha = \frac{AB}{BC} \\ \Delta ABD : \sin 2\alpha = \frac{AB}{1} \Rightarrow AB = \sin 2\alpha \end{array} \right\} \Rightarrow \sin \alpha = \frac{\sin 2\alpha}{BC} \quad (I)$$

حال کافی است  $BC$  را به دست آوریم:

$$\Delta CDH : \cos \alpha = \frac{CH}{CD} \Rightarrow \cos \alpha = \frac{CH}{1} \Rightarrow CH = \cos \alpha$$

پس  $BC$ ، برابر با  $2CH$  یعنی  $2 \cos \alpha$  می‌باشد و با جاگذاری در رابطه‌ی (I) خواهیم داشت:

$$\Rightarrow \sin \alpha = \frac{\sin 2\alpha}{2 \cos \alpha} \quad (\text{طرفین - وسطین}) \Rightarrow \sin 2\alpha = 2 \sin \alpha \cos \alpha$$

محمد بن یحیی بن اسماعیل بن عباس، معروف به ابوالوفای بوزجانی، ریاضی‌دان و اخترشناس سده‌ی چهارم هجری قمری در اول رمضان ۳۲۸ در بوزجان (تربت جام امروزی)، در مرز خراسان و افغانستان زاده شد. مقدمات ریاضیات زمان را، همان جا نزد دایی و عمویش فراگرفت. در سن ۲۰ سالگی به بغداد رفت و نزد اساتید مختلفی به تحصیل خود ادامه داد. وی پس از مدتی به یکی از دانشمندان مشهور زمان خود تبدیل شد. او بر بسیاری از آثار پیشینیان مثل «مقدمات» اقلیدس، «جبر و مقابله» خوارزمی، «جبر» دیوفانت، «مجسطی» بطلمیوس تفسیر نوشت. خود نیز ابتکارات و نوآوری‌های بسیاری در هندسه و مثلثات دارد. در یکی از رسایل خود از دو روش مبتنی بر مثلثات کروی برای تعیین فاصله بغداد تا مکه معظمه استفاده کرده است. برای تجلیل از بوزجانی، دهانه یکی از آتشفشان‌های ماه بنام او نام‌گذاری شده است.



ابوالوفای بوزجانی

«آن چه از علم حساب مورد نیاز کاتبان و حسابگران است» و «آن چه از اعمال هندسی مورد نیاز صنعتگران است» دو نمونه از کتاب‌های بوزجانی هستند. وی در سوم رجب ۳۸۸ در بغداد درگذشت.

حاصل عبارات زیر را به دست آورید.

۱

- ۱)  $2 \sin 60^\circ \cos 60^\circ - \sin 30^\circ \tan 30^\circ$   
 ۲)  $2 \sin 30^\circ \cos 30^\circ - \sin 60^\circ + 2 \tan 20^\circ \cot 20^\circ$   
 ۳)  $\cos 60^\circ \cos 30^\circ - \sin 60^\circ \sin 30^\circ - \tan 45^\circ + 2 \cot 45^\circ$

آیا رابطه‌ی  $\sin 60^\circ = 2 \sin 30^\circ$  درست است؟

۲

آیا رابطه‌ی  $\cot 60^\circ = 2 \cot 30^\circ$  درست است؟

۳

درستی رابطه‌های زیر را نشان دهید:

۴

- ۱)  $\sin 45^\circ \cos 45^\circ = \sin 30^\circ$   
 ۲)  $2 \sin 30^\circ \cos 30^\circ = \sin 60^\circ$   
 ۳)  $\cos 60^\circ \cos 30^\circ + \sin 60^\circ \sin 30^\circ = \cos 30^\circ$   
 ۴)  $3 \sin 30^\circ - 4 \sin^3 30^\circ = 1$   
 ۵)  $\sin 60^\circ \cos 30^\circ - \cos 60^\circ \sin 30^\circ = \sin 30^\circ$   
 ۶)  $\cos 60^\circ = \frac{1 - \tan^2 30^\circ}{1 + \tan^2 30^\circ}$   
 ۷)  $\frac{\sin^2 45^\circ}{2} = \frac{\sin^2 60^\circ}{3} = \sin^2 30^\circ$   
 ۸)  $\tan 60^\circ = \frac{2 \tan 30^\circ}{1 - \tan^2 30^\circ}$   
 ۹)  $2 \sin 60^\circ \cos 60^\circ = \sin 60^\circ$   
 ۱۰)  $3 \cos 30^\circ - 4 \cos^3 30^\circ = 0$

تحقیق کنید رابطه‌ی  $(a+b)^2 \sin^2 30^\circ - (a-b)^2 \cos^2 60^\circ = ab$  همواره یک اتحاد است.

۵

به کمک ماشین حساب بررسی کنید کدام یک از رابطه‌های زیر صحیح است.

۶

- ۱)  $\tan 15^\circ = \tan(45^\circ - 30^\circ)$   
 ۲)  $\sin 15^\circ = \cos 60^\circ - \cos 45^\circ$   
 ۳)  $\sin 75^\circ = \sin 45^\circ + \sin 30^\circ$   
 ۴)  $\cot 15^\circ = \cot 45^\circ - \cot 30^\circ$

با استفاده از رابطه‌های زیر نسبت‌های مثلثاتی دو زاویه‌ی  $15^\circ$  و  $75^\circ$  را به دست آورید.

۷

- ۱)  $\sin(a+b) = \sin a \cos b + \cos a \sin b$   
 ۲)  $\sin(a-b) = \sin a \cos b - \cos a \sin b$   
 ۳)  $\cos(a+b) = \cos a \cos b - \sin a \sin b$   
 ۴)  $\cos(a-b) = \cos a \cos b + \sin a \sin b$

مطلوب است محاسبه‌ی سایر نسبت‌های مثلثاتی زاویه‌های حاده‌ی زیر که یکی از نسبت‌های مثلثاتی آنها داده شده است:

۸

- ۱)  $\sin x = \frac{\sqrt{3}}{3}$       ۲)  $\cos y = \frac{1}{3}$       ۳)  $\tan w = 2$       ۴)  $\cot z = \sqrt{2}$

در مثلث قائم‌الزاویه‌ی  $ABC$  ( $\angle C = 90^\circ$ ) مقدار بعضی از اجزای مثلث معلوم شده است. به کمک ماشین حساب جزء مجهول خواسته شده را به دست آورید.

۹

- ۱)  $\sin A = \frac{21}{43}$  و  $c = 12/45$  و  $a = ?$   
 ۲)  $\cos B = \frac{3}{5}$  و  $c = 21/4$  و  $a = ?$   
 ۳)  $\angle A = 32^\circ$  و  $a = 46$  و  $c = ?$   
 ۴)  $b = 8$  و  $c = 17$  و  $\cos A = ?$  و  $\sin A = ?$

۱۰ اگر  $\tan x = 3$  باشد، حاصل عبارت  $A = \frac{\sin x - 2 \cos x}{3 \cos x - 4 \sin x}$  را به دست آورید.

۱۱ اگر  $\tan x = 2$  باشد، حاصل عبارت  $A = \frac{\sin^4 x}{3 + \cos^2 x}$  را به دست آورید.

۱۲ حاصل عبارت  $\frac{\sin^5 x + \cos^5 x + \sin x}{\sin^3 x + \cos^3 x}$  را به ازای  $\tan x = 2$  به دست آورید.

۱۳ اگر  $\sin x - \cos x = \frac{1}{5}$  باشد، حاصل عبارت  $A = \sin x \cos x$  را به دست آورید.

۱۴ اگر  $\sin x \cos x = \frac{1}{4}$  و  $0 < x < 90^\circ$  باشد، حاصل عبارت  $A = \sin x + \cos x$  را به دست آورید.

۱۵ اگر  $\tan x + \cot x = 2$  و  $0 < x < 90^\circ$  باشد، حاصل عبارت  $A = \sin x + \cos x$  را به دست آورید.

۱۶ اگر  $\tan \alpha + \cot \alpha = 3$  باشد، مقدار  $\tan^4 \alpha + \cot^4 \alpha$  را حساب کنید.

۱۷ اگر  $\frac{1}{\cos \alpha} - \tan \alpha = 2$  باشد، حاصل  $\frac{1}{\cos \alpha} + \tan \alpha$  را به دست آورید.

۱۸ اگر  $0 < x < 90^\circ$  و  $\sin^2 x + 2 \sin x \cos x - 3 \cos^2 x = 1$  مقدار  $\tan x$  را محاسبه کنید.

۱۹ اگر  $0 < \alpha < 90^\circ$  و  $\cos \alpha = \frac{m^2 - 1}{m^2 + 1}$  و  $(m > 1)$  باشد، مقدار  $\sin \alpha$ ،  $\tan \alpha$  و  $\cot \alpha$  را بر حسب  $m$  محاسبه کنید.

۲۰ تحقیق کنید تساوی‌های  $\sin \alpha = \frac{2m}{1+m^2}$  و  $\cos \alpha = \frac{1-m^2}{1+m^2}$  به ازای هر عدد حقیقی  $m$  درست هستند.

۲۱ اگر  $\tan x = \frac{m+1}{m}$  و  $\cos x = \frac{m}{m+2}$  باشد، مقدار  $m$  را حساب کنید.

۲۲ اگر  $0 < x < 90^\circ$ ،  $\tan x = \frac{\sqrt{3}}{3} m$ ،  $\cot x = \frac{3(m - \sqrt{3})}{m}$  و  $m > 0$  باشد، مقدار عددی  $\cos x$  را تعیین کنید.

۲۳ اگر  $\cos x = 2a + b$  و  $2b + \sin x = a$  باشد، چه رابطه‌ای بین  $a$  و  $b$  وجود دارد؟

۲۴ اگر  $\sin \alpha = \frac{a-1}{a+1}$  و  $\cos \theta = \frac{2\sqrt{a}}{a+1}$  باشد، ساده‌ترین رابطه میان  $\alpha$  و  $\theta$  را به دست آورید. ( $a > 1$ )

۲۵ اگر  $\tan x = \frac{a-1}{b}$  و  $\cot x = \frac{3}{a-2}$  باشد، چه رابطه‌ای بین  $a$  و  $b$  برقرار است؟

۲۶ اگر  $\tan x = a - b$  و  $2 \cot x - a = b$  باشد، چه رابطه‌ای بین  $a$  و  $b$  وجود دارد؟

۲۷ آیا تانژانت یک زاویه‌ی حاده همواره از سینوس آن بیشتر است؟ آیا کتانژانت یک زاویه‌ی حاده همواره از کسینوس آن بیشتر است؟

۲۸ اگر  $0 < \alpha < 45^\circ$  باشد، آیا همواره  $\sin \alpha$  از  $\cos \alpha$  بزرگتر است؟

۲۹ اگر  $45^\circ < \alpha < 90^\circ$  باشد، آیا همواره  $\tan \alpha$  از  $\cot \alpha$  بزرگتر است؟

۳۰ اگر  $45^\circ < \alpha < 60^\circ$  و  $\cos \alpha = 2m - 3$  باشد، حدود  $m$  چیست؟

۳۱ اگر  $60^\circ < \theta \leq 90^\circ$  و  $\cos \theta = 2m + 1$  باشد، محدوده‌ی  $m$  را بیابید.

اگر  $30^\circ \leq \alpha \leq 60^\circ$  و  $\sin \alpha = 1 - 3m$  باشد، تعیین کنید  $m$  در چه فاصله‌ای تغییر می‌کند؟

۳۲

اگر  $0 < \alpha < 30^\circ$  و  $\sin \alpha = \frac{-m+2}{4}$  باشد، عدد صحیح  $m$  را مشخص کنید.

۳۳

اگر  $30^\circ \leq \theta < 60^\circ$  و  $\tan \theta = \sqrt{3}m$  باشد، محدوده‌ی  $m$  را بیابید.

۳۴

اگر  $0 \leq x \leq 90^\circ$  باشد، بیشترین و کمترین مقدار عبارتهای زیر را تعیین کنید:

۳۵

۱)  $1 - 2 \cos x$

۲)  $2 + 3 \sin x$

۳)  $3 - 4 \sin^2 x + 2 \cos^2 x$

۴)  $\sin^2 x + 2 \sin x + 3$

۵)  $2 \cos x - \sin^2 x + 3$

۶)  $2 \sin x - \cos^2 x + 5$

عبارتهای زیر را ساده کنید:

۳۶

۱)  $\sin^3 a \cdot \cot^2 a \cdot \tan^2 a \cdot \cos^2 a$

۲)  $\sin x \cdot \cos x \cdot \tan x \cdot \cot x$

۳)  $\frac{(1 + \tan \alpha)(1 - \cot \alpha)}{(1 + \cot \alpha)(1 - \tan \alpha)}$

۴)  $\cos b \left( \frac{2}{\cos b} + \tan b \right) \left( \frac{1}{\cos b} - 2 \tan b \right) + 3 \tan b$

۵)  $\frac{(1 + \sin \alpha \cos \alpha)(1 - \sin \alpha \cos \alpha) - \sin^2 \alpha \cos^2 \alpha}{\cos^2 \alpha + \sin^2 \alpha}$

۶)  $\sqrt{\sin^2 x + 4 \cos^2 x} + \sqrt{\cos^2 x + 4 \sin^2 x}$

اگر  $x$  زاویه‌ای حاده و کمتر از  $45^\circ$  باشد، آنگاه حاصل عبارت زیر را بیابید. (علامت قدر مطلق است.)

۳۷

$$A = \left| \frac{\sin x - \cos x}{\sin x} \right| - |\tan x - \cot x|$$

حاصل عبارت  $A = \sin^2 10^\circ + \sin^2 40^\circ + \sin^2 50^\circ + \sin^2 80^\circ$  را به دست آورید.

۳۸

حاصل عبارتهای زیر را به دست آورید:

۳۹

$$A = \tan 1^\circ \times \tan 2^\circ \times \tan 3^\circ \times \dots \times \tan 88^\circ \times \tan 89^\circ$$

$$B = \tan 1^\circ \times \cot 2^\circ \times \tan 3^\circ \times \cot 4^\circ \times \dots \times \cot 88^\circ \times \tan 89^\circ$$

اگر  $A$  و  $B$  و  $C$  زوایای یک مثلث باشند، ثابت کنید:

۴۰

$$\sin\left(A + \frac{B}{2}\right) = \cos\left(\frac{C-A}{2}\right)$$

اگر  $2 \sin \alpha + 3 \cos \beta = 5$  باشد، حاصل عبارت  $A = 4 \sin \alpha \cos \beta$  چقدر است؟

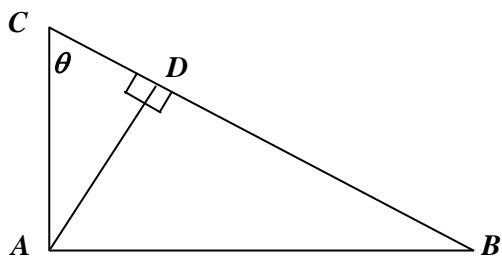
۴۱

اگر  $A$  و  $B$  و  $C$  زوایای مثلثی باشند، از تساوی زیر نتیجه بگیرید که مثلث  $ABC$  متساوی‌الاضلاع است.

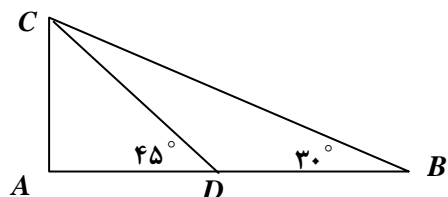
۴۲

$$\cos(A-B) \cos(B-C) \cos(C-A) = 1$$

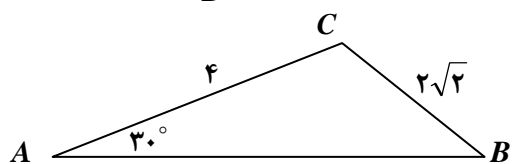
## تمرینات تکمیلی



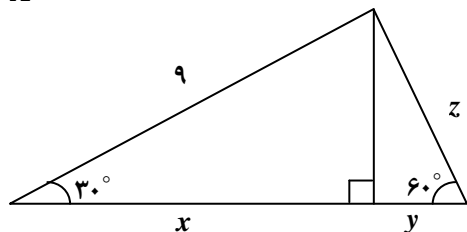
۴۳ در شکل روبه‌رو  $BC = 10$  و  $\angle ACB = \theta$  می‌باشد. اندازه تمام پاره خطها را بر حسب  $\theta$  تعیین کنید.



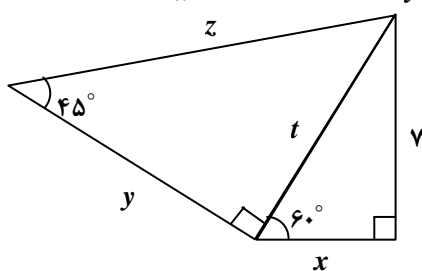
۴۴ در شکل روبه‌رو  $BD = 8(\sqrt{3} - 1)$  می‌باشد. اندازه های  $BC$  و  $AC$  و  $CD$  و  $AB$  را تعیین کنید.



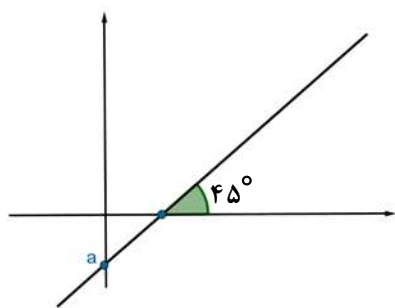
۴۵ در شکل روبه‌رو اندازه‌ی  $AB$  را تعیین کنید.



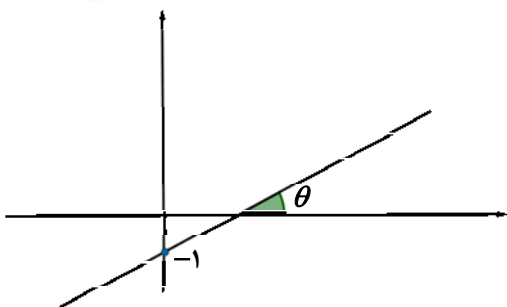
۴۶ مقادیر  $x$  و  $y$  و  $z$  را در شکل زیر به دست آورید.



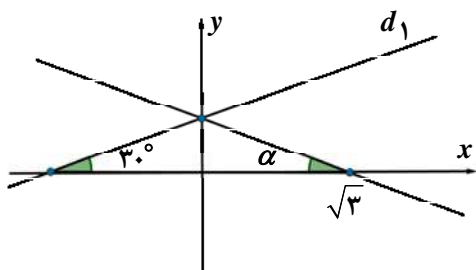
۴۷ مقادیر  $x$  و  $y$  و  $z$  و  $t$  را در شکل روبه‌رو به دست آورید.



۴۸ در شکل مقابل معادله‌ی خط به صورت  $2y + bx + 1 = 0$  است. مقدار  $a$  را بیابید.

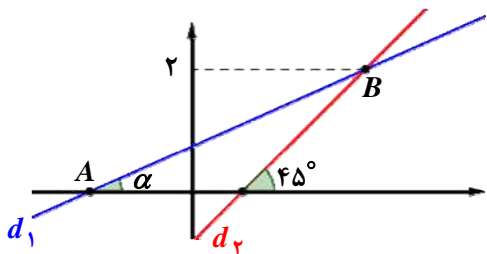


۴۹ در شکل مقابل معادله‌ی خط به صورت  $x + by - \sqrt{3} = 0$  است. مقدار  $\sin \theta$  را به دست آورید.



در شکل مقابل معادله‌ی خط  $d_1$  به صورت  $x - 3ay + 1 = 0$  است. مقدار  $\tan \alpha$  را به دست آورید.

۵۰



در شکل مقابل معادله‌ی خطوط به صورت  $d_1: ax - by + 2 = 0$  و  $d_2: bx - 2ay + 1 = 0$  می‌باشد. طول پاره‌خط  $AB$  را به دست آورید.

۵۱

در مثلث قائم‌الزویه‌ی  $ABC$  ( $\angle C = 90^\circ$ ) مقدار بعضی از اجزای مثلث معلوم شده است. اجزای مجهول خواسته شده را به دست آورید.

۵۲

۱)  $\cot A = \frac{9}{13}$  و  $a = 26$  و  $b = ?$


۲)  $\tan A = \frac{3}{4}$  و  $b = 1/6$  و  $a = ?$

۳)  $\cot B = \frac{8}{15}$  و  $b = 75$  و  $c = ?$

۴)  $b = 7$  و  $\angle B = 45^\circ$  و  $c = ?$

۵)  $\angle A = 60^\circ$  و  $a = 1/5$  و  $c = ?$  ,  $\cot B = ?$

۶)  $a = 8$  و  $c = 10$  و  $\tan B = ?$



از نقطه‌ای که به ارتفاع  $1/36$  متر از سطح زمین قرار دارد برجی با زاویه‌ی  $21^\circ$  قابل مشاهده است. در صورتی که فاصله‌ی این نقطه از پای برج  $420$  متر باشد، ارتفاع برج را تعیین کنید. ( $\tan 21^\circ = 0/38$ )

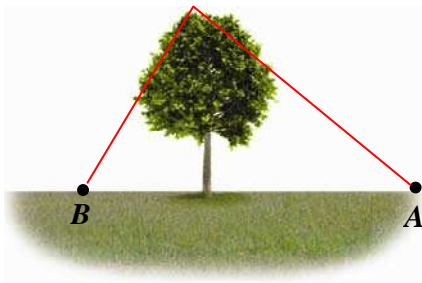
۵۳



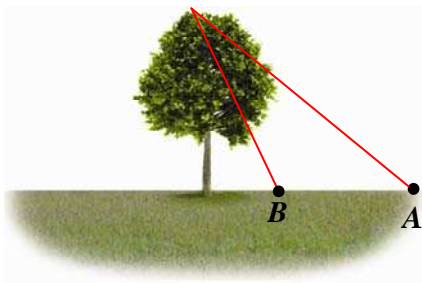
دو شخص که در دو طرف یک ساختمان ایستاده‌اند، بالاترین نقطه‌ی ساختمانی به ارتفاع  $20$  متر را با زاویه‌های  $30^\circ$  و  $45^\circ$  می‌بینند. اگر این دو شخص هم‌قد باشند، فاصله‌ی آنها از یکدیگر چقدر است؟ ( $\sqrt{3} = 1/7$ )

۵۴

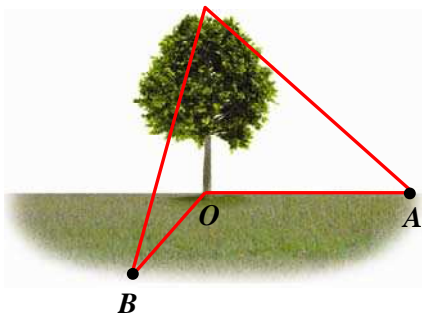
## تمرینات تکمیلی



۵۵ فاصله‌ی دو نقطه‌ی  $A$  و  $B$  که در سطح زمین قرار دارند ۱۰۰ متر است. درختی که پای آن بین این دو نقطه قرار دارد از نقطه‌ی  $A$  با زاویه‌ی  $30^\circ$  و از نقطه‌ی  $B$  با زاویه‌ی  $60^\circ$  دیده می‌شود. ارتفاع درخت را بیابید.



۵۶ فاصله‌ی دو نقطه‌ی  $A$  و  $B$  که در سطح زمین قرار دارند ۲۱ متر است. درختی که پای آن در یک طرف این دو نقطه قرار دارد از نقطه‌ی  $A$  با زاویه‌ی  $30^\circ$  و از نقطه‌ی  $B$  با زاویه‌ی  $45^\circ$  دیده می‌شود. ارتفاع درخت را بیابید. ( $\sqrt{3} = 1/7$ )

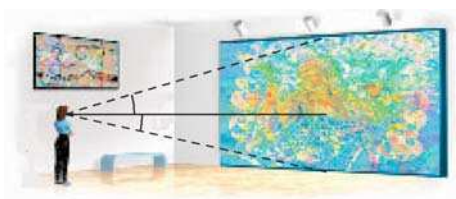


۵۷ در شکل مقابل فاصله‌ی دو نقطه‌ی  $A$  و  $B$  برابر ۱۰ متر است. درخت از نقطه‌ی  $A$  با زاویه‌ی  $60^\circ$  و از نقطه‌ی  $B$  با زاویه‌ی  $45^\circ$  دیده می‌شود. در صورتی که زاویه‌ی  $AOB$  قائمه باشد، ارتفاع درخت را بیابید.

در بالای ساختمانی به ارتفاع ۲۰ متر یک آنتن مخابراتی نصب شده است. از نقطه‌ی  $A$  واقع بر سطح زمین ساختمان با زاویه  $30^\circ$  و بالای آنتن با زاویه‌ی  $60^\circ$  دیده می‌شود. طول آنتن چند متر است؟



۵۸ قد شخصی ۱۸۰ سانتی‌متر است. این شخص در فاصله‌ی ۱۶۵ سانتی‌متری از تیر چراغ برقی ایستاده است. اگر طول سایه این شخص ۱۳۵ سانتی‌متر باشد، ارتفاع تیر چراغ برق چقدر است؟



۵۹ شخصی مقابل یک تابلو به طول ۳ متر که روی دیوار نصب شده است ایستاده است. اگر این شخص بدون اینکه سر خود را تکان دهد به تابلو نگاه کند و بالاترین قسمت تابلو را با زاویه‌ی  $30^\circ$  و پایین‌ترین قسمت تابلو را با زاویه‌ی  $60^\circ$  ببیند، فاصله‌ی شخص تا تابلو چند سانتی‌متر است؟