

آزمون‌های مبحثی و جامع + پاسخ تشریحی

موج آزمون فیزیک دوازدهم + آزمون‌های جامع کنکور

رضا خالو، امیرعلی میری

رشته
تجربی



انتشارات
گوناگون

به نام خدا

پیش: چرا کتاب موج آزمون دوازدهم رو نوشتین؟

پاسخ: با توجه به تجربه‌های تدریس ما، دانش‌آموزان بعد از زدن تست‌های کتاب‌های تستی، نیاز به ارزیابی خود به کمک آزمون دارن. واسه همین تمام مباحث کتاب دوازدهم رو در قالب آزمون‌های کوتاه در این کتاب آوردیم.

پیش: آزمون‌های این کتاب چه ویژگی‌هایی دارن که به شما اطمینان می‌ده کتاب برای دانش‌آموزان مفیده؟

پاسخ: در این آزمون‌ها مباحث کتاب درسی به صورت ۴۰ آزمون ۱۰-تایی ارائه شده که دانش‌آموز در یک زمان کوتاه بتونه هر آزمون رو حل کنه. البته برای مباحث‌های مهم‌تر، تعداد آزمون‌ها بیشتره و آزمون‌های مرحله‌ای سخت‌تر می‌شن اما در سطح کنکور سراسری‌اند.

گفتن این نکته ضروریه که سطح آزمون‌ها در سطح کنکور سراسریه البته مباحث‌هایی که در کنکور ساده‌ترن اینجا هم ساده هستن و مباحث‌هایی که سوالات آن‌ها در کنکور پیچیده‌تره اینجا هم در همون سطحه.

پیش: همه آزمون‌ها ۱۰-تایی هستن؟

پاسخ: نه، هر فصل دو آزمون جامع ۵-تایی داره و در انتهای کتاب چهار آزمون ترمی ۲۰-تایی و دو آزمون جامع دوازدهم ۲۵-تایی و پنج آزمون ۳۰-تایی شبیه کنکور اومده.

پیش: همه سوالات آزمون‌ها تالیفی هستن؟

پاسخ: نه، ارزشیابی سوالات کنکور و سوالات کتاب درسی استفاده کردیم و در جاهایی که تست نمونه وجود نداشت، تست‌های تالیفی آوردیم و در آزمون‌های جامع آخر کتاب از کنکورهای آزمایشی هم استفاده کردیم.

پیش: خوب بریم سراغ پاسخ‌ها، اون‌ها رو چه جور نوشتین؟

پاسخ: اول باید بگیم که تحلیل آزمون از خود آزمون برای دانش‌آموزا مهم‌تر و باارزش‌تره، با علم به این موضوع، در پاسخ‌ها کمال گتارده‌ستون رو به فکر بردیم و بخش زیادی از کتاب به پاسخ‌ها اختصاص داده شده.

نیم‌نگاه: تمام نکات درسی مربوط به تست رو بیان کردیم، در پاسخ هر تست مثابه کنکور، خودت تست کنکور قرار

گرفتنه و در برخی از تست‌ها به **پژایه‌سوال** آوردیم که در اون تست رو از یک نگاه دیگه طرح کردیم و در یه جاهایی

هم به **یادآوری** و **جمع‌بندی** مطالب پرداختیم، البته هر جا که برای تست راه حل ساده‌تر و سریع‌تری بوده اون

راه حل رو به صورت **میلبرن** برای دانش‌آموز بیان کردیم.

برای درک بهتر، پاسخ‌ها رو مرحله‌ای حل کردیم و گام به گام جورفتیم و سطح سوالات رو در پاسخ اول‌ها به صورت

A (ساده) B (متوسط) و C (دشواری) مشخص کرده‌ایم.

پیش: کتاب درسامه نداره؟

پاسخ: چون کتاب به صورت آزمونیه سری الگوهای یادآوری به صورت نمودار درختی در ابتدای هر فصل هم

به صورت QR Code اومده و هم در سایت نشر الگو به آدرس www.olgoobooks.ir قرار داره.

پیش: سوال آخر، انتظار شما از همکاران و دانش آموزانی که از کتاب استفاده می کنند چیست؟
پاسخ: از همکاران و اساتید گرامی و هم چنین دانش آموزان عزیز انتظار داریم که هر گونه اشکال و نقدی که به کتاب دارند رو از طریق کانال https://t.me/physics_olgoo و سایت نشر الگو www.olgoobooks.ir به ما منتقل کنند تا با سوهان نقد آن ها ناهمواری های کتاب صیقل داده شود.

در بیان لازم است از تلاش صمیمانه کارکنان نشر الگو پیگیری کنیم. در واحد ویرایش خانم زهره نوری و زهرا امیدوار و همچنین آقای محسن شعبان شمیرانی که ویرایش این کتاب بن بری ایشان امکان پذیر نبود، در واحد حرفه ای از خانم فاضله معنی برای صفحه آرای کتاب و همچنین سرکار خانم سکینه مختار مدیر واحد فنی و ویرایش قدر دانی می کنیم.

رضا خالو - امیرعلی میری

فهرست

آزمون‌های مرحله‌ای و جامع

فصل سوم: نوسان و امواج

- آزمون ۲۵ (صفحه ۵۴ تا ۵۶ کتاب درسی)..... ۳۴
 آزمون ۲۶ (صفحه ۵۴ تا ۵۶ کتاب درسی)..... ۳۵
 آزمون ۲۷ (صفحه ۵۷ تا ۵۹ کتاب درسی)..... ۳۶
 آزمون ۲۸ (صفحه ۵۷ تا ۵۹ کتاب درسی)..... ۳۷
 آزمون ۲۹ (صفحه ۵۷ تا ۵۹ کتاب درسی)..... ۳۸
 آزمون ۳۰ (صفحه ۵۸ تا ۶۰ کتاب درسی)..... ۳۹
 آزمون ۳۱ (صفحه ۵۳ تا ۶۰ کتاب درسی)..... ۴۰
 آزمون ۳۲ (صفحه ۶۱ تا ۶۶ کتاب درسی)..... ۴۲
 آزمون ۳۳ (صفحه ۶۱ تا ۶۶ کتاب درسی)..... ۴۳
 آزمون ۳۴ (صفحه ۶۴ و ۶۵ کتاب درسی)..... ۴۴
 آزمون ۳۵ (صفحه ۶۶ تا ۶۸ کتاب درسی)..... ۴۶
 آزمون ۳۶ (صفحه ۶۹ تا ۷۶ کتاب درسی)..... ۴۷
 آزمون ۳۷ (صفحه ۶۹ تا ۷۶ کتاب درسی)..... ۴۸
 آزمون ۳۸ (صفحه ۶۱ تا ۷۶ کتاب درسی)..... ۴۹
 آزمون ۳۹ (صفحه ۷۶ تا ۸۸ کتاب درسی)..... ۵۱
 آزمون ۴۰ (صفحه ۷۶ تا ۸۸ کتاب درسی)..... ۵۲
 آزمون ۴۱ (صفحه ۷۶ تا ۸۸ کتاب درسی)..... ۵۴
 آزمون ۴۲ (جامع (۱))..... ۵۵
 آزمون ۴۳ (جامع (۲))..... ۵۷

فصل چهارم: آشنایی با فیزیک اتمی و هسته‌ای

- آزمون ۴۴ (صفحه ۹۵ تا ۱۱۱ کتاب درسی)..... ۶۰
 آزمون ۴۵ (صفحه ۹۵ تا ۱۱۱ کتاب درسی)..... ۶۰
 آزمون ۴۶ (صفحه ۱۱۲ تا ۱۲۱ کتاب درسی)..... ۶۲
 آزمون ۴۷ (جامع (۱))..... ۶۲
 آزمون ۴۸ (جامع (۲))..... ۶۴

فصل اول: حرکت بر خط راست

- آزمون ۱ (صفحه ۱ تا ۱۰ کتاب درسی)..... ۲
 آزمون ۲ (صفحه ۱ تا ۱۰ کتاب درسی)..... ۳
 آزمون ۳ (صفحه ۱۰ تا ۱۳ کتاب درسی)..... ۴
 آزمون ۴ (صفحه ۱۰ تا ۱۳ کتاب درسی)..... ۵
 آزمون ۵ (صفحه ۱۳ تا ۱۵ کتاب درسی)..... ۶
 آزمون ۶ (صفحه ۱۵ تا ۲۱ کتاب درسی)..... ۷
 آزمون ۷ (صفحه ۱۵ تا ۲۱ کتاب درسی)..... ۸
 آزمون ۸ (صفحه ۱۵ تا ۲۱ کتاب درسی)..... ۹
 آزمون ۹..... ۱۰
 آزمون ۱۰..... ۱۲
 آزمون ۱۱..... ۱۳
 آزمون ۱۲ (جامع (۱))..... ۱۵
 آزمون ۱۳ (جامع (۲))..... ۱۶

فصل دوم: دینامیک

- آزمون ۱۴ (صفحه ۲۸ تا ۳۳ کتاب درسی)..... ۲۰
 آزمون ۱۵ (صفحه ۳۳ تا ۳۶ کتاب درسی)..... ۲۱
 آزمون ۱۶ (صفحه ۴۱ تا ۴۳ کتاب درسی)..... ۲۲
 آزمون ۱۷ (صفحه ۳۷ تا ۴۳ کتاب درسی)..... ۲۳
 آزمون ۱۸ (صفحه ۳۷ تا ۴۳ کتاب درسی)..... ۲۴
 آزمون ۱۹ (صفحه ۳۷ تا ۴۳ کتاب درسی)..... ۲۵
 آزمون ۲۰ (صفحه ۴۳ و ۴۴ کتاب درسی)..... ۲۶
 آزمون ۲۱ (صفحه ۴۴ تا ۴۶ کتاب درسی)..... ۲۷
 آزمون ۲۲ (صفحه ۴۴ تا ۴۹ کتاب درسی)..... ۲۸
 آزمون ۲۳ (جامع (۱))..... ۲۹
 آزمون ۲۴ (جامع (۲))..... ۳۱

فصل پنجم: آزمون‌های جامع

• آزمون‌های جامع فیزیک دوازدهم

- آزمون ۴۹ (جامع ترم اول فیزیک دوازدهم (۱)) ۶۸
- آزمون ۵۰ (جامع ترم اول فیزیک دوازدهم (۲)) ۷۰
- آزمون ۵۱ (جامع ترم دوم فیزیک دوازدهم (۱)) ۷۲
- آزمون ۵۲ (جامع ترم دوم فیزیک دوازدهم (۲)) ۷۴
- آزمون ۵۳ (جامع فیزیک دوازدهم (۱)) ۷۶
- آزمون ۵۴ (جامع فیزیک دوازدهم (۲)) ۷۹

• آزمون‌های جامع مطابق با کنکور سراسری

- آزمون ۵۵ ۸۲
- آزمون ۵۶ ۸۵
- آزمون ۵۷ ۸۹
- آزمون ۵۸ ۹۲
- آزمون ۵۹ ۹۶

فصل ششم: پاسخ‌های تشریحی

- پاسخ فصل اول ۱۰۲
- پاسخ فصل دوم ۱۳۱
- پاسخ فصل سوم ۱۵۴
- پاسخ فصل چهارم ۱۹۷
- پاسخ آزمون‌های جامع ۲۰۷
- پاسخنامه کلیدی ۲۵۷

۵۲ متحرکی با شتاب ثابت در بازه زمانی t تا $t+5$ ثانیه جابه‌جایی 30 متر را طی می‌کند و سرعتش به 15m/s می‌رسد. سرعت این متحرک در لحظه t چند متر بر ثانیه است؟

- ۵ (۱) -4 (۲) -3 (۳) -2 (۴)

۵۳ متحرکی که با سرعت اولیه $v_0 = 5\text{m/s}$ روی محور x ها با شتاب ثابت در حال حرکت است. در لحظه $t=1\text{s}$ از مکان $+15$ متری و در لحظه $t=3\text{s}$ از مکان $+35$ متری عبور می‌کند. بردار مکان اولیه این متحرک در SI کدام است؟

- ۱ (۱) $-7/\delta i$ (۲) $+7/\delta i$ (۳) $-8/\gamma \delta i$ (۴) $+8/\gamma \delta i$

۵۴ خودرویی از حال سکون روی خط راست با شتاب ثابت شروع به حرکت می‌کند و در مدت t جابه‌جایی 196km را طی می‌کند. اگر این خودرو 96km آخر مسیر حرکتش را در مدت 2h طی کرده باشد، t چند ساعت است؟

- ۵ (۱) 4 (۲) 7 (۳) 11 (۴)

۵۵ متحرکی روی محور x ها با شتاب ثابت در حرکت است و در لحظه $t=1\text{s}$ با سرعت $v=+5\text{m/s}$ از مکان $x=-3\text{m}$ می‌گذرد. اگر متحرک در لحظه $t=6\text{s}$ در جهت مثبت محور x در بیشترین فاصله خود از مبدأ باشد. در لحظه $t=13\text{s}$ در چند متری مبدأ است؟

- ۱۵ (۱) 12 (۲) 3 (۳) 7 (۴)

۵۶ در یک حرکت با شتاب ثابت روی خط راست سرعت متوسط در 3s آغازین حرکت 5m/s و در 4s آغازین حرکت 7m/s است. سرعت اولیه متحرک چند متر بر ثانیه است؟

- ۱ (۱) -1 (۲) 2 (۳) -2 (۴)

۵۷ خودرویی با سرعت ثابت 90km/h روی جاده مستقیمی در حال حرکت است. راننده در فاصله 150 متری خود مانعی می‌بیند و با تأخیر واکنش t ثانیه‌ای ترمز می‌کند و با شتاب $2/\delta\text{m/s}^2$ از سرعت خودرو می‌کاهد و خودرو در مقابل مانع می‌ایستد، t چند ثانیه است؟

- ۱ (۱) $3/5$ (۲) $1/2$ (۳) $0/8$ (۴) $0/5$

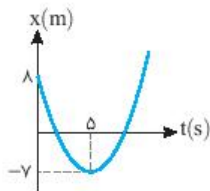
۵۸ دو متحرک هم‌زمان روی محور x از حال سکون با شتاب‌های ثابت a و $\frac{9}{25}a$ از یک نقطه به سوی یک مقصد حرکت می‌کنند و با فاصله زمانی δt به مقصد می‌رسند. زمان حرکت متحرک کندتر چند ثانیه است؟

- ۱ (۱) $12/5$ (۲) $7/5$ (۳) 10 (۴) 7

۵۹ معادله حرکت متحرکی که در مبدأ زمان $t=0$ شروع به حرکت می‌کند در SI به صورت $x = 4t^2 - 32t - 17$ است. در لحظه‌ای که سرعت متحرک صفر می‌شود، متحرک در چند متری مبدأ حرکتش قرار دارد؟

- ۹۱ (۱) 64 (۲) 32 (۳) 108 (۴)

۶۰ نمودار مکان - زمان متحرکی که روی خط راست در حرکت است به صورت سهمی شکل روبه‌رو است. سرعت متحرک در لحظه $t=10\text{s}$ چند متر بر ثانیه است؟



- ۶ (۱) -6 (۲) 12 (۳) -12 (۴)

حرکت با شتاب ثابت (۲)

۷

آزمون

۶۱ متحرکی روی خط راست با شتاب ثابت حرکت می‌کند و در مدت 10s ، 120m جابه‌جا می‌شود و سرعتش به 16m/s می‌رسد. تندی متوسط این متحرک در این 10s چند m/s است؟

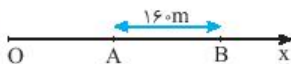
- ۱۴ (۱) 10 (۲) 8 (۳) 12 (۴)

۶۲ متحرکی که با سرعت v در حرکت است ترمز کرده و روی خط راست پس از جابه‌جایی x می‌ایستد. اگر این متحرک 75% درصد اول مسیر را در مدت t_1 و بقیه مسیر را در مدت t_2 طی کند، $\frac{t_2}{t_1}$ کدام است؟

- ۱ (۱) $\frac{\sqrt{3}}{2}$ (۲) $\frac{1}{2}$ (۳) 2 (۴) 1

نشرالگو

۶۳ مطابق شکل روبه‌رو، متحرکی با شتاب ثابت 2m/s^2 روی محور x از نقطه O با سرعت $+6\text{m/s}$ می‌گذرد. اگر فاصله بین A و B را در مدت 8s طی کند، فاصله OA چند متر است؟



- | | | |
|--|--------|--------|
| | ۲۷ (۱) | ۵۴ (۲) |
| | ۳۶ (۳) | ۸۰ (۴) |

۶۴ متحرکی در یک مسیر مستقیم با شتاب ثابت 5m/s^2 از حال سکون به حرکت در می‌آید و پس از مدت t_1 حرکتش یکنواخت می‌شود و در نهایت با شتاب ثابت 10m/s^2 حرکتش کند شده و می‌ایستد. اگر کل زمان حرکت 10s و تندی متوسط در این مدت 14m/s باشد، t_1 چند ثانیه است؟

- | | | |
|-------|-------|-------|
| ۵ (۱) | ۳ (۲) | ۶ (۳) |
| | | ۴ (۴) |

۶۵ متحرکی با شتاب ثابت $+2\text{m/s}^2$ در مدت 5s ، جابه‌جایی -25m متر را طی می‌کند. نوع حرکت متحرک در این 5s چگونه است؟

- | | | |
|---------------------|-----------------------------------|-----------------------------------|
| (۱) همواره تندشونده | (۲) ابتدا تندشونده و سپس کندشونده | (۳) ابتدا کندشونده و سپس تندشونده |
|---------------------|-----------------------------------|-----------------------------------|

۶۶ معادله سرعت - مکان متحرکی که با شتاب ثابت در مبدأ زمان از مبدأ مکان می‌گذرد در SI به صورت $\frac{v^2}{25} - \frac{4x}{5} = 1$ است، به ترتیب از

راست به چپ اندازه شتاب حرکت چند متر بر مجذور ثانیه و اندازه سرعت اولیه چند متر بر ثانیه است؟

- | | | |
|-----------|-----------|---------------|
| ۱۰، ۵ (۱) | ۵، ۱۰ (۲) | ۸، ۴ (۳) |
| | | ۱۲/۵، ۲/۵ (۴) |

۶۷ معادله سرعت - زمان متحرکی که روی محور x حرکت می‌کند در SI به صورت $v = -3t + 6$ است. مسافت طی شده در دو ثانیه سوم حرکت چند متر است؟

- | | | |
|--------|--------|--------|
| ۳۲ (۱) | ۱۲ (۲) | ۱۸ (۳) |
| | | ۱۶ (۴) |

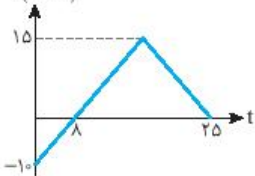
۶۸ دو متحرک A و B در مبدأ زمان از مبدأ مکان روی محور x ها از حال سکون شروع به حرکت می‌کنند. اگر در یک جابه‌جایی مساوی، سرعت متوسط متحرک A ، ۳ برابر سرعت متوسط متحرک B باشد، شتاب متحرک B چند برابر شتاب متحرک A است؟

- | | | |
|---------|-------|--------------------------|
| ۱/۹ (۱) | ۳ (۲) | ۹ (۳) |
| | | $\frac{\sqrt{3}}{3}$ (۴) |

۶۹ خودرویی پشت چراغ قرمز متوقف است و با سبز شدن چراغ با شتاب ثابت شروع به حرکت می‌کند. در همین لحظه کامیونی در همان جهت از کنار خودرو با سرعت ثابت 25km/h می‌گذرد. هنگامی که خودرو به کامیون می‌رسد، مجدداً سرعت خودرو چند km/h است؟

- | | | |
|--------|--------|--------|
| ۲۵ (۱) | ۵۰ (۲) | ۲۰ (۳) |
| | | ۳۰ (۴) |

$v(\text{m/s})$



۷۰ نمودار سرعت - زمان متحرکی که روی خط راست در حرکت است به صورت شکل روبه‌رو است. مسافت طی شده توسط این متحرک در بازه زمانی $t = 4\text{s}$ تا $t = 18\text{s}$ چند متر است؟

- | | | |
|----------|----------|----------|
| ۴۲/۵ (۱) | ۵۲/۵ (۲) | ۷۲/۵ (۳) |
| | | ۶۲/۵ (۴) |



حرکت با شتاب ثابت (۳)

۸

آزمون

۷۱ محیطبان یک پارک حفاظت شده هنگام گشت شبانه با اتومبیل خود با تندی 36km/h در جاده‌ای مستقیم در حرکت است که ناگهان گوزن بدون حرکتی را در جلوی خود می‌بیند و ترمز می‌گیرد. حرکت خودرو با شتابی به اندازه 4m/s^2 کند می‌شود تا سرانجام متوقف شود. اگر لحظه‌ای که محیطبان ترمز می‌گیرد، گوزن در فاصله 15 متری از خودرو باشد، خودرو در چه فاصله‌ای از گوزن متوقف می‌شود؟

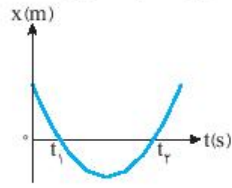
- | | | |
|---------|-------|---------|
| ۲/۵ (۱) | ۵ (۲) | ۳/۵ (۳) |
| | | ۷ (۴) |

۷۲ متحرکی روی خط راست با شتاب ثابت حرکت می‌کند و در 7 ثانیه اول، 126 متر جابه‌جا می‌شود و بزرگی سرعتش به 32m/s می‌رسد. جابه‌جایی آن در 7 ثانیه دوم چند متر است؟

- | | | |
|---------|---------|---------|
| ۱۲۶ (۱) | ۱۳۲ (۲) | ۳۲۲ (۳) |
| | | ۴۵۶ (۴) |

زمان پیشنهادی: ۳۰ دقیقه

۵۵۱ نمودار مکان - زمان متحرکی که روی محور X حرکت می کند، مطابق سهمی شکل روبه رو است. کدام گزینه در مورد حرکت این متحرک صحیح است؟

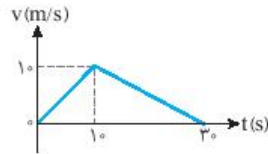


(۱) در مدتی که متحرک در خلاف جهت محور X حرکت می کند، دارای حرکت تندشونده است.

(۲) در مدتی که متحرک در جهت محور X حرکت می کند، دارای حرکت کندشونده است.

(۳) متحرک در لحظه $t = \frac{t_1 + t_2}{2}$ تغییر جهت داده است.

(۴) متحرک در لحظه $t = \frac{t_2 - t_1}{2}$ تغییر جهت داده است.



۵۵۲ نمودار $v-t$ متحرکی که در امتداد محور X حرکت می کند مطابق شکل روبه رو است. اگر سرعت متوسط متحرک در ۵ ثانیه اول حرکت برابر سرعت متوسط متحرک در بازه t تا $30s$ باشد، t کدام است؟

(۱) ۲۵

(۲) ۱۰

(۳) ۲۰

(۴) ۱۵

۵۵۳ متحرکی با تندی متوسط $40m/s$ به مدت $10s$ در جهت مثبت محور X حرکت کرده و سپس تغییر جهت داده و با تندی متوسط $30m/s$ به مدت t ثانیه خلاف جهت محور X حرکت می کند. اگر سرعت متوسط متحرک در طول این مسیر $20m/s$ باشد، t چند ثانیه است؟

(۱) ۱۰

(۲) ۸

(۳) ۶

(۴) ۴

۵۵۴ دو قطار A و B به طول های L_A و L_B با تندی های یکسان در حال حرکت اند. اگر قطار A از پلی به طول 400 متر در مدت t و قطار B از پلی به طول 800 متر در مدت $2t$ به طور کامل عبور کنند، نسبت $\frac{L_A}{L_B}$ کدام است؟

(۱) ۲

(۲) $\frac{1}{2}$

(۳) ۴

(۴) $\frac{1}{4}$

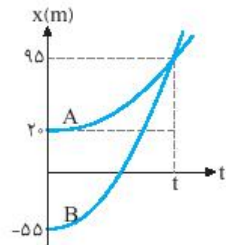
۵۵۵ اتومبیلی با سرعت ثابت $72km/h$ در یک جاده مستقیم در حرکت است. راننده در فاصله 50 متری مانعی می بیند و ترمز می کند. اگر زمان واکنش راننده $0.5s$ باشد و اتومبیل با شتاب $4m/s^2$ از سرعتش کاسته شود، اتومبیل با سرعت چند متر بر ثانیه به مانع برخورد می کند؟

(۱) ۴

(۲) ۵

(۳) $4\sqrt{5}$

(۴) اتومبیل به مانع برخورد نمی کند.



۵۵۶ نمودار مکان - زمان دو متحرک A و B که هم زمان از حال سکون به حرکت درآمده اند به صورت سهمی شکل روبه روست. اگر شتاب متحرک A برابر $1/5m/s^2$ باشد، نسبت سرعت متحرک B به سرعت متحرک A در لحظه ای که از A سبقت می گیرد، کدام است؟

(۱) ۲

(۲) $\frac{1}{2}$

(۳) ۴

(۴) $\frac{1}{4}$

۵۵۷ متحرکی از حال سکون با شتاب $2m/s^2$ شروع به حرکت می کند. سرعت متوسط متحرک در دو ثانیه دوم حرکت چند متر بر ثانیه است؟

(۱) ۴

(۲) ۸

(۳) ۶

(۴) ۱۰

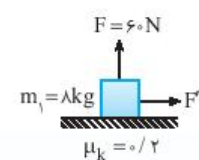
۵۵۸ معادله حرکت متحرکی به جرم $2kg$ که تحت تأثیر نیروی خالص F در حال حرکت بوده در SI به صورت $x = -2t^2 + \alpha t + \beta$ است. نیروی F و شتاب متحرک در لحظه تغییر جهت به ترتیب از راست به چپ چند نیوتون و چند متر بر مجذور ثانیه است؟

(۱) ۴، -۸

(۲) -۸، صفر

(۳) -۸، -۴

(۴) -۴، -۳



۵۵۹ در شکل روبه رو وزنه m_1 با نیروی افقی F' با سرعت ثابت $15m/s$ در حال حرکت است. اگر جهت نیروی قائم F تغییر کرده و بر جسم رو به پایین وارد شود، جسم پس از چه مدتی متوقف می شود؟ ($g = 10N/kg$)

(۱) ۲/۵

(۲) ۳/۵


(۳) ۵

(۴) ۴/۵

نشرالگو

۵۶۰ در شکل مقابل، در ابتدا جسم ساکن است. نیروی افقی F را به تدریج افزایش می‌دهیم تا جسم شروع به حرکت کند. اگر کمترین زاویه‌ای که

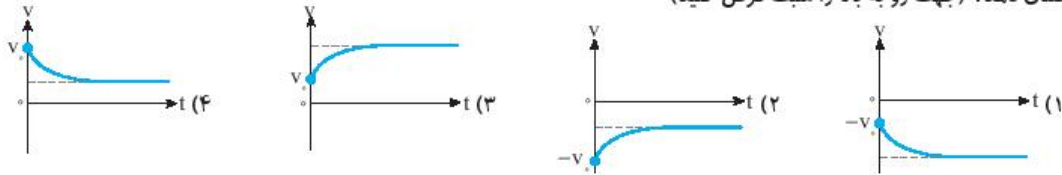
نیروی سطح با راستای افق در این مدت می‌سازد 30° باشد، ضریب اصطکاک ایستایی بین جسم و سطح کدام است؟



(۱) $\sqrt{3}$ (۲) $\frac{\sqrt{3}}{3}$ (۳) ۱ (۴) 0.5

۵۶۱ هنگامی که تندی چترباز در حال سقوطی به وزن 600 N به v_0 می‌رسد، چتر خود را باز می‌کند. اگر در این لحظه اندازه نیروی مقاومت هوا

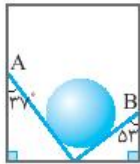
برابر با 1100 N باشد، کدام گزینه زیر می‌تواند نمودار سرعت - زمان حرکت چترباز پس از باز شدن چتر را تا قبل از رسیدن به زمین به درستی نشان دهد؟ (جهت رو به بالا را مثبت فرض کنید)



۵۶۲ وزنه‌ای به جرم $4/5\text{ kg}$ را به فنری می‌آویزیم و جسم و فنر را با شتاب a به سمت بالا به حرکت در می‌آوریم، در این حالت طول فنر 5 cm

افزایش می‌یابد. اگر دوباره همان مجموعه را از حال سکون با شتاب a به سمت پایین به حرکت در آوریم، طول فنر 3 cm افزایش می‌یابد. ثابت فنر در SI کدام است؟

- (۱) 625 (۲) 1125 (۳) 2500 (۴) 375



۵۶۳ در شکل روبه‌رو یک گوی به جرم 2 kg درون آسانسوری بین دو دیواره قرار دارد. اگر آسانسور با شتاب 2 m/s^2 رو

به بالا شروع به حرکت کند و نیرویی که دیواره A بر گوی وارد می‌کند $\frac{3}{4}$ برابر نیرویی باشد که دیواره B به گوی

وارد می‌کند، نیرویی که گوی بر دیواره B وارد می‌کند چند نیوتون خواهد شد؟ ($g = 10\text{ N/kg}$ و $\cos 53^\circ = 0.6$)

- (۱) 12 (۲) 16 (۳) $14/4$ (۴) $19/2$

۵۶۴ معادلهٔ تکانه - مکان جسمی به جرم 200 g که روی محور x ها در حرکت است در SI به صورت $P = 4x + 3$ است. اگر در مبدأ زمان سرعت

جسم 5 m/s خلاف جهت محور x باشد، مکان اولیهٔ آن چند متر است؟

- (۱) 17 (۲) -17 (۳) -1 (۴) 1

۵۶۵ نخ به طول 100 cm را به دو قسمت تقسیم کرده و با هر یک از آن‌ها آونگی می‌سازیم، به طوری که دورهٔ یکی از آونگ‌ها سه برابر آونگ دیگر

باشد. اختلاف دورهٔ دو آونگ چند ثانیه خواهد شد؟ ($\pi = 3$)

- (۱) 0.6 (۲) $1/8$ (۳) $1/2$ (۴) $2/4$

۵۶۶ وزنه‌ای را به یک فنر آویزان می‌کنیم. طول فنر 20 cm افزایش می‌یابد و وزنه به حال تعادل می‌ایستد. این وزنه را به همین فنر بسته و روی سطح

افقی بدون اصطکاک به نوسان در می‌آوریم به طوری که بیشینه فشردگی فنر 20 cm می‌شود. بیشینه تندی نوسانگر چند متر بر ثانیه است؟

($g = 10\text{ m/s}^2$)

- (۱) $\frac{\sqrt{2}}{10}$ (۲) $\sqrt{2}$ (۳) $5\sqrt{2}$ (۴) $2\sqrt{2}$

$k = 400\text{ N/m}$

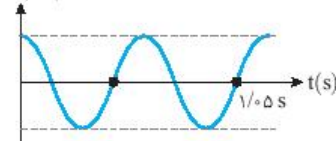


۵۶۷ در شکل روبه‌رو فنر در حال نوسان بوده و بیشترین و کمترین طول فنر به ترتیب 72 cm و 54 cm است. در

لحظه‌ای که طول فنر 58 cm باشد، آهنگ تغییر سرعت جسم در SI کدام است؟ ($\pi^2 = 10$)

- (۱) 2 (۲) 10 (۳) 20 (۴) 1

$x(\text{cm})$



۵۶۸ نمودار مکان - زمان سامانه جرم - فنری که جرم آن 200 g و شتاب بیشینه آن $8\pi^2\text{ m/s}^2$ است

به صورت روبه‌رو است. انرژی جنبشی نوسانگر در لحظهٔ $t = 1/0.5\text{ s}$ چند میلی‌ژول است؟

- (۱) $0.576\pi^2$ (۲) $64\pi^2$ (۳) $0.64\pi^2$ (۴) $576\pi^2$

۵۶۹ نوسانگری روی پاره‌خطی به طول 10 cm با بسامد 4 Hz در حال نوسان است. نوسانگر در لحظهٔ t_1 در مکان $x = +2\text{ cm}$ قرار داشته و حرکت

آن کندشونده است. چند ثانیه بعد از این لحظه نوسانگر برای اولین بار به مکان $x = -2\text{ cm}$ می‌رسد؟

- (۱) 0.25 (۲) 0.125 (۳) 0.5 (۴) 2

- ۵۷۰ کدام عبارت درباره انتشار یک موج در فتر، درست می باشد؟
 (۱) موج عرضی در فتر منتشر نمی شود.
 (۲) موج طولی در فتر منتشر نمی شود.
 (۳) هر دو نوع موج طولی و عرضی را می توان در یک فتر منتشر ساخت.
 (۴) هیچ یک از دو نوع موج طولی و عرضی نمی تواند در فتر انتشار یابد.



جمع ترم دوم فیزیک دوازدهم (۱)

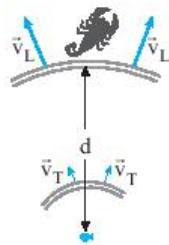
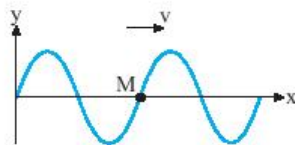
آزمون ۵۱

- ۵۷۱ چه تعداد از جمله های زیر درست است؟
 الف) فاصله بین یک قله و دره مجاور هم در امواج دایره ای روی سطح آب برابر با طول موج است.
 ب) با تغییر محیط انتشار موج، بسامد ثابت می ماند ولی طول موج تغییر می کند.
 پ) در انتشار موج سطحی روی آب های کم عمق، با افزایش عمق، طول موج افزایش می یابد.
 ت) مقدار متوسط آهنگ انتقال انرژی در یک موج سینوسی برای همه انواع امواج مکانیکی با مربع دامنه (A^2) و بسامد (f) موج متناسب است.
 (۱) ۲ (۲) ۳ (۳) ۴ (۴) صفر

- ۵۷۲ دو دیپازون A و B در یک محیط صوت منتشر می کنند. شخصی که در نزدیکی دو دیپازون است، ارتفاع صوت A را بیشتر از ارتفاع صوت B و بلندی صوت A را کمتر از بلندی صوت B حس می کند، در این صورت
 (۱) بسامد و شدت صوت A به ترتیب کمتر و بیشتر از بسامد و شدت صوت B است.
 (۲) بسامد و شدت صوت A به ترتیب کمتر و کمتر از بسامد و شدت صوت B است.
 (۳) طول موج و شدت صوت A به ترتیب کمتر و کمتر از طول موج و شدت صوت B است.
 (۴) طول موج و شدت صوت A به ترتیب کمتر و بیشتر از طول موج و شدت صوت B است.

- ۵۷۳ یک سیم بین دو نقطه با نیروی کشیده F و تندی انتشار موج در آن v است. اگر سیم را از وسط دولا کرده و به هم بتابانیم، سپس با نیروی ۲F بکشیم، تندی انتشار موج در آن چند v می شود؟
 (۱) ۱ (۲) ۲ (۳) $2\sqrt{2}$ (۴) ۴

- ۵۷۴ نقش موجی در یک طناب در لحظه t_1 مطابق شکل است. در بازه زمانی $t_2 - t_1$ جابه جایی ذره M برابر $\frac{A}{2} +$ است. $t_2 - t_1$ و مسافتی که

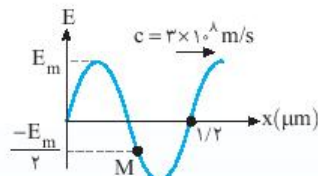


- موج در این بازه زمانی طی می کند، به ترتیب از راست به چپ کدام است؟
 (۱) $\frac{\lambda}{4}, \frac{T}{4}$
 (۲) $\frac{\lambda}{12}, \frac{T}{12}$
 (۳) $\frac{3\lambda}{4}, \frac{3T}{4}$
 (۴) $\frac{7\lambda}{12}, \frac{7T}{12}$

- ۵۷۵ عقرب های ماسه ای وجود طعمه را با امواجی که بر اثر حرکت طعمه در ساحل شنی ایجاد می شود، احساس می کنند. این امواج که در سطح ماسه منتشر می شوند به دو نوع امواج طولی و عرضی هستند و تندی آن ها به ترتیب v_L و v_T است. اگر اختلاف زمان رسیدن این دو موج به نزدیکترین پای عقرب Δt باشد، فاصله عقرب با طعمه کدام است؟

- (۱) $\frac{v_L - v_T}{v_L v_T} \Delta t$
 (۲) $\frac{v_T v_L}{v_L - v_T} \Delta t$
 (۳) $\frac{v_L - v_T}{v_T v_L} \Delta t$
 (۴) $\frac{v_T v_L}{v_L - v_T} \Delta t$

- ۵۷۶ در شکل روبه رو، نقش موج میدان الکتریکی یک موج الکترومغناطیسی در لحظه t نشان داده شده است. اندازه میدان در نقطه M در بازه زمانی



- ت $t + 10^{-15}$ s چگونه تغییر می کند؟
 (۱) ابتدا افزایش و سپس کاهش می یابد.
 (۲) همواره کاهش می یابد.
 (۳) ابتدا کاهش و سپس افزایش می یابد.
 (۴) همواره افزایش می یابد.

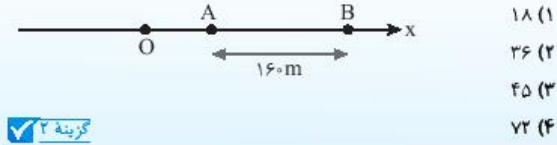
نشرالگو

اکنون به کمک معادله سرعت - مکان (مستقل از زمان) را حساب می کنیم.
 $v_A^2 - v_O^2 = 2a\Delta x_{OA} \Rightarrow 12^2 - 6^2 = 2 \times 2(OA) \Rightarrow OA = 27m$

۱۰ مطابق شکل زیر، متحرکی با شتاب ثابت $2m/s^2$ روی محور x حرکت

می کند. اگر فاصله بین دو نقطه A و B را در مدت t ثانیه طی کند و در نقطه O

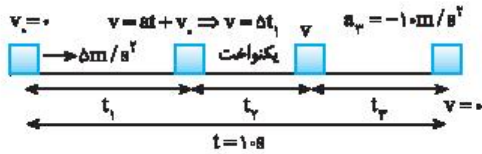
سرعتش صفر باشد، فاصله OA چند متر است؟



گزینه ۲

۶۴ تجزی - ۹۷

روی کاغذ شکل زیر را برای درک بهتر مسئله رسم کنید.



متحرک در تمام مدت در یک جهت در حرکت بوده است، بنابراین جابه جایی و مسافت طی شده با هم برابرند و خواهند شد:

$$l = \Delta x = s_{av} \times \Delta t \Rightarrow \Delta x = 14 \times 10 \Rightarrow \Delta x = 140m$$

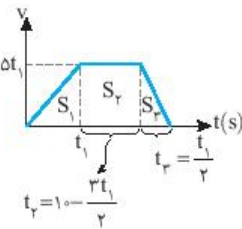
اما نکته طلایی در حل این تست رابطه بین t_1 و t_2 است. شتاب در مرحله اول $a_1 = \Delta m/s^2$ و در مرحله آخر $a_2 = -10m/s^2$ یعنی دو برابر a_1 است، بنابراین

$$t_2 = \frac{1}{2} t_1$$

$$\left. \begin{aligned} \text{در مرحله اول } v = at + v_0 \Rightarrow v = \Delta t_1 \Rightarrow t_1 = \frac{v}{\Delta} \\ \text{در مرحله آخر } v = at + v_0 \Rightarrow 0 = -10t_2 + v \Rightarrow t_2 = \frac{v}{10} \end{aligned} \right\} \Rightarrow t_2 = \frac{1}{2} t_1$$

نتیجه اگر متحرک در مدت t با شتاب a از سرعت v_1 به v_2 برسد این متحرک در

مدت $\frac{t}{n}$ با شتاب na نیز از سرعت v_1 به v_2 می رسد.



اکنون نمودار سرعت - زمان را رسم می کنیم. زمان حرکت یکنواخت یعنی t_2 برابر است با:

$$t_1 + t_2 + t_3 = 10 \Rightarrow t_1 + t_2 + \frac{t_1}{2} = 10$$

$$t_2 = 10 - \frac{3t_1}{2}$$

سطح زیر نمودار برابر جابه جایی متحرک است که برابر $140m$ است. از این رو خواهیم داشت:

$$\Delta x_{\text{کل}} = S_1 + S_2 + S_3 \Rightarrow 140 = \frac{\Delta t_1^2}{2} + \Delta t_1 \times (10 - \frac{3}{2}t_1) + \frac{1}{2}(\Delta t_1 \times \frac{t_1}{2})$$

$$\frac{\Delta t_1^2}{2} + 5\Delta t_1 - \frac{15}{2}t_1^2 + \frac{\Delta t_1^2}{4} = 140 \Rightarrow \frac{15}{4}t_1^2 + 5\Delta t_1 = 140$$

$$15t_1^2 - 20t_1 + 560 = 0 \Rightarrow 3t_1^2 - 4t_1 + 112 = 0 \Rightarrow t_1 = \frac{+4 \pm \sqrt{16 - 1344}}{6}$$

$$t_1 = \frac{+4 \pm 16}{6} \Rightarrow t_1 = 4s \text{ (با توجه به گزینه ها)}$$

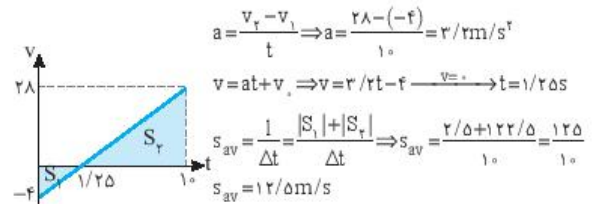
سرعت ابتدایی و سرعت انتهایی هر دو مثبت هستند، علامت سرعت تغییر نکرده و در این مدت متحرک تغییر جهت نداده است. بنابراین تندی متوسط و سرعت متوسط باهم برابر است:

$$v_{av} = s_{av} \Rightarrow s_{av} = \frac{120}{10} = 12m/s$$

بازگ با سوال اگر در همین مدت سرعت بعد از $120m$ جابه جایی به جای $160m/s$ ، به $28m/s$ می رسید مسئله چگونه بود؟

$$\Delta x = \frac{v_2 + v_1}{2} \Delta t \Rightarrow 120 = \frac{28 + v_1}{2} \times 10 \Rightarrow v_1 = -4m/s$$

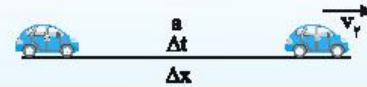
سرعت متحرک در اول مسیر منفی و در انتهای مسیر مثبت شده است، بنابراین متحرک تغییر جهت داده است و تندی متوسط با سرعت متوسط یکی نیست از این رو ابتدا شتاب را به دست می آوریم. سپس نمودار سرعت - زمان را رسم می کنیم.



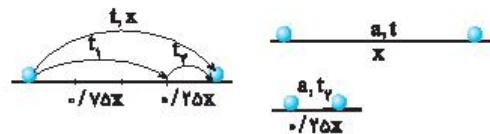
۶۲ B

نیم نگاه برای سوالاتی که سرعت انتهایی مسیر داده شده و سرعت ابتدایی را

نداریم بهتر است حرکت را از انتها با شتاب قرینه در نظر بگیریم: $\Delta x = -\frac{1}{2}at^2 + v_0t$



در حل این سوال می توان سه مسیر را تحلیل کرد. اول مسیر $\frac{v_0}{100}$ ، آخر مسیر و کل مسیر. اما چون سرعت نهایی را داریم قسمت آخر مسیر و کل مسیر را تحلیل می کنیم.



با توجه به نیم نگاه:

$$\Delta x = -\frac{1}{2}at^2 + v_0t \Rightarrow \begin{cases} -\frac{1}{2}x = -\frac{1}{2}at^2 \\ x = -\frac{1}{2}at^2 \end{cases} \xrightarrow{\text{تقسیم}} \frac{1}{4} = \frac{t^2}{t^2} \Rightarrow t_2 = \frac{t}{2}$$

در این صورت t_1 نیز برابر است با:

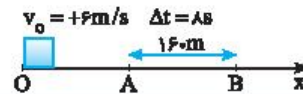
$$t_1 = t - t_2 = t - \frac{t}{2} \Rightarrow t_1 = \frac{t}{2}$$

$$\frac{t_2}{t_1} = \frac{t/2}{t/2} = 1$$

بنابراین خواهیم داشت:

۶۳ B تجزی - ۹۸

با توجه به شکل به کمک معادله جابه جایی - زمان، سرعت متحرک را در نقطه A به دست می آوریم:



$$\Delta x_{AB} = \frac{1}{2}at^2 + v_0t \Rightarrow 160 = \frac{1}{2} \times 8 \times t^2 + 6 \times 8 \Rightarrow v_A = 12m/s$$

۱۱ معادله سرعت - زمان متحرکی که روی محور x حرکت می‌کند، در SI به صورت $v = -2t + 4$ است. بزرگی جابه‌جایی متحرک در ۲ ثانیه سوم چند متر است؟

ریاضی - ۸۸

۱۵ (۱)	۱۲ (۲)	۱۸ (۳)	۲۴ (۴)
--------	--------	--------	--------

گزینه ۳ ✓

خارج ریاضی - ۹۲

در جابه‌جایی‌های یکسان، سرعت متوسط A ، برابر سرعت متوسط B است بنابراین:

$$v_{av A} = 2v_{av B} \Rightarrow \frac{\Delta x_A}{t_A} = 2 \frac{\Delta x_B}{t_B} \Rightarrow \frac{\Delta x_A}{t_B} = \frac{\Delta x_B}{t_A} \Rightarrow t_B = 2t_A$$

هر دو متحرک از حال سکون شروع به حرکت کرده‌اند و $v_{A0} = v_{B0} = 0$ بوده و جابه‌جایی آن‌ها یکسان است. حال با توجه به معادله مکان - زمان می‌توان نوشت:

$$\Delta x_A = \Delta x_B \Rightarrow \frac{1}{2} a_A t_A^2 = \frac{1}{2} a_B t_B^2 \xrightarrow{t_B = 2t_A} a_A = 4a_B \Rightarrow \frac{a_B}{a_A} = \frac{1}{4}$$

۱۲ دو متحرک A و B از یک نقطه بدون سرعت اولیه در یک مسیر مستقیم شروع به حرکت می‌کنند. اگر شتاب متحرک A ، برابر شتاب متحرک B باشد، در یک جابه‌جایی مساوی، سرعت متوسط متحرک A چند برابر سرعت متوسط متحرک B است؟

خارج ریاضی - ۹۲

۲ (۱)	۲ (۲)	$\sqrt{2}$ (۳)	۴ (۴)
-------	-------	----------------	-------

گزینه ۲ ✓

خارج ریاضی - ۹۲

هنگامی که خودرو به کامیون می‌رسد، جابه‌جایی‌های آن‌ها برابر است، البته کامیون دارای سرعت ثابت و خودرو دارای حرکت با شتاب ثابت است.

$$\Delta x_C = \Delta x_D \Rightarrow \frac{v_C t}{2} = v_D t \xrightarrow{v_D = 20 \text{ km/h}} v_C = 2 \times 20 = 40 \text{ km/h}$$

پیشنهاد هر گاه متحرک A با سرعت اولیه v_0 و شتاب ثابت از یک نقطه شروع به حرکت کند و متحرک B هم‌زمان با سرعت ثابت v در همان جهت از آن نقطه بگذرد، اگر هنگام رسیدن مجدد A به B سرعت A ، v' باشد رابطه زیر برقرار است.

$$v - v_0 = v' - v$$

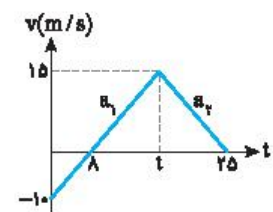
پیشنهاد متحرک A با سرعت اولیه 20 m/s و شتاب ثابت از نقطه A روی خط راست می‌گذرد، هم‌زمان با آن متحرک B با سرعت ثابت 12 m/s در همان جهت می‌گذرد. سرعت متحرک A هنگام رسیدن به متحرک B چند متر بر ثانیه است؟

$$v - v_0 = v' - v \Rightarrow 20 - 20 = v' - 20 \Rightarrow v' = 20 \text{ m/s}$$

ریاضی - ۹۸

شتاب در قسمت اول مسیر برابر است با:

$$a_1 = \frac{v - v_0}{t} \Rightarrow a_1 = \frac{0 - (-10)}{1} \Rightarrow a_1 = 10 \text{ m/s}^2$$



لحظه‌ای که سرعت به 10 m/s می‌رسد را حساب می‌کنیم:

$$v = a_1 t + v_0 \Rightarrow 10 = 10t + (-10) \Rightarrow t = 2 \text{ s}$$

بازه 4 s تا 18 s قبل از 20 s و در مرحله اول است، بنابراین کافی است به صورت زیر مسئله را حل کنید.

$$v = 10t - 10 \Rightarrow \begin{cases} t = 4 \text{ s} \rightarrow v_1 = 10 \times 4 - 10 = 30 \text{ m/s} \\ t = 18 \text{ s} \rightarrow v_2 = 10 \times 18 - 10 = 170 \text{ m/s} \end{cases}$$

۱۱ متحرکی در یک مسیر مستقیم با شتاب ثابت 5 m/s^2 به حرکت در می‌آید و پس از مدتی حرکتش یکنواخت می‌شود و در نهایت با همان شتاب 5 m/s^2 حرکتش کند شده و می‌ایستد. اگر کل زمان حرکت 25 ثانیه و سرعت متوسط در این مدت 20 m/s باشد، زمانی که حرکت یکنواخت بوده است، چند ثانیه است؟

تجربی - ۹۷

۵ (۱)	۱۰ (۲)	۱۵ (۳)	۲۰ (۴)
-------	--------	--------	--------

گزینه ۳ ✓

ابتدا به کمک معادله جابه‌جایی - زمان، سرعت اولیه در ابتدای بازه زمانی را به دست می‌آوریم:

$$\Delta x = \frac{1}{2} a t^2 + v_0 t \Rightarrow -25 = \frac{1}{2} \times 2 \times (5)^2 + v_0 \times 5 \Rightarrow v_0 = -10 \text{ m/s}$$

معادله سرعت - زمان خواهد شد: $v = at + v_0 \Rightarrow v = 2t - 10 \Rightarrow t = 5 \text{ s} \Rightarrow v = 0$ بنابراین در بازه 0 تا 5 s سرعت از -10 m/s به صفر می‌رسد و در این مدت حرکت همواره کندشونده است.

۶۵ معادله داده شده معادله سرعت - مکان حرکت با شتاب ثابت یا همان معادله مستقل از زمان است، آن را به شکل زیر بازنویسی می‌کنیم:

$$\frac{v^2}{25} - \frac{4x}{5} = 1 \Rightarrow \frac{v^2 - 20x}{25} = 1 \Rightarrow v^2 - 20x = 25 \Rightarrow v^2 - 20x = 20x$$

حال این رابطه را با رابطه $v^2 - v_0^2 = 2a\Delta x$ مقایسه می‌کنیم ضریب x دو برابر شتاب است از این رو: $20 = 2a \Rightarrow a = 10 \text{ m/s}^2$ در صورت مسئله بیان شده متحرک در مبدأ زمان ($t = 0$) از مبدأ مکان می‌گذرد. بنابراین سرعت اولیه آن وقتی است که $x = 0$ باشد از این رو:

$$v^2 - 20x = 20x \xrightarrow{x=0} v^2 - 20x = 25 \Rightarrow v^2 = 25 \Rightarrow |v| = 5 \text{ m/s}$$

پیشنهاد معادله سرعت - مکان متحرکی که با شتاب ثابت در مبدأ زمان از مکان $x_0 = +4 \text{ m}$ می‌گذرد و همواره در جهت مثبت محور x در حرکت است در SI به صورت $\frac{v^2}{20} - \frac{x}{5} = 1$ است. سرعت اولیه‌اش چند متر بر ثانیه است؟

پیشنهاد دقت کنید در مبدأ زمان متحرک در مبدأ مکان قرار ندارد، بلکه در مکان $x_0 = +4 \text{ m}$ است، از این رو، سرعت اولیه این متحرک در $t = 0$ برابر است با:

$$\frac{v^2}{20} - \frac{4}{5} = 1 \Rightarrow \frac{v^2}{20} = \frac{9}{5} \Rightarrow v^2 = 36 \Rightarrow v_0 = \pm 6 \text{ m/s}$$

البته با توجه به صورت مسئله که متحرک همواره در جهت مثبت محور در حرکت است $v_0 = 6 \text{ m/s}$ قابل قبول است.

۶۷ اول باید بدانیم که دو ثانیه سوم یعنی بازه زمانی بین 4 s تا 6 s . سرعت در لحظه $t = 2 \text{ s}$ تغییر جهت می‌دهد. لحظه تغییر جهت $t = 2 \text{ s}$ است.

بنابراین در بازه 4 s تا 6 s تغییر جهتی رخ نخواهد داد و مسافت طی‌شده با جابه‌جایی برابر است. سرعت در لحظه‌های $t = 4 \text{ s}$ و $t = 6 \text{ s}$ را به دست می‌آوریم.

$$v = -3t + 6 \Rightarrow \begin{cases} t = 4 \text{ s} \rightarrow v_1 = -3 \times 4 + 6 = -6 \text{ m/s} \\ t = 6 \text{ s} \rightarrow v_2 = -3 \times 6 + 6 = -12 \text{ m/s} \end{cases}$$

به کمک فرمول طلایی مسئله تمام است:

$$l = |\Delta x| = \left| \frac{v_1 + v_2}{2} \right| \times \Delta t \Rightarrow l = \frac{6 + 12}{2} \times 2 = 18 \text{ m}$$

می‌توانستید با رسم نمودار سرعت - زمان و محاسبه سطح زیر نمودار در بازه $t = 4 \text{ s}$ تا $t = 6 \text{ s}$ مسئله را حل کنید. البته باید برای رسم تمام محاسبات بالا را انجام دهید:

$$l = \frac{6 + 12}{2} \times 2 = 18 \text{ m}$$

نشرالگو

۱۳ V۳ A

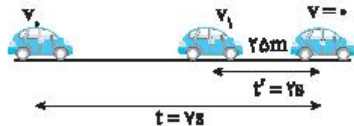
ابتدا به کمک فرمول طلایی (مستقل از شتاب) سرعت v_1 را بدست می آوریم.

$$\Delta x = \frac{v+v_1}{2} \Delta t \Rightarrow 25 = \frac{0+v_1}{2} \times 2 \Rightarrow v_1 = 25 \text{ m/s}$$

در مدت ۲۵ سرعت متحرک از ۲۵ m/s به صفر رسیده است. پس شتاب حرکت برابر

$$a = \frac{v-v_1}{t} \Rightarrow a = \frac{0-25}{2} \Rightarrow a = -12.5 \text{ m/s}^2$$

است با:



حال به کمک معادله سرعت - زمان برای کل مسیر سرعت اولیه را بدست می آوریم.

$$v = at + v_1 \Rightarrow 0 = -12.5 \times 25 + v_1$$

$$\Rightarrow v_1 = 312.5 \text{ m/s}$$

۱۴ V۴ C

متحرک در جهت مثبت محور در حال حرکت است و در دو ثانیه دوم یعنی بازه زمانی $t=25$ تا $t=45$ سرعت متوسط آن از سرعت متوسط در دو ثانیه اول یعنی $t=0$ تا $t=25$ بیشتر است بنابراین حرکت آن تند شده است. سرعت متحرک را با توجه رابطه سرعت - زمان در $t=45$ و $t=25$ حساب می کنیم:

$$v = at + v_0 \Rightarrow \begin{matrix} v_1 = 2a + v_0 \\ v_2 = 4a + v_0 \end{matrix}$$

۱) سرعت متوسط در یک بازه زمانی در حرکت با شتاب ثابت برابر میانگین سرعت ابتدایی و انتهایی آن بازه حرکت است.

$$v_{av} = \frac{v_1 + v_0}{2} \Rightarrow v_{av} = \frac{2a + v_0 + v_0}{2} = a + v_0$$

$$v_{av_1} = \frac{2a + v_0 + v_0}{2} \Rightarrow v_{av_1} = a + v_0$$

$$v_{av_2} = \frac{4a + v_0 + v_0}{2} \Rightarrow v_{av_2} = 2a + v_0$$

$$v_{av_2} = \frac{4a + v_0 + v_0}{2} \Rightarrow v_{av_2} = 2a + v_0$$

۲) سرعت متوسط در بازه $t=25$ تا $t=45$ برابر سرعت متوسط در بازه $t=0$ تا $t=25$ است.

$$v_{av_2} = \frac{v_{av_1} + v_{av_2}}{2} \Rightarrow 2a + v_0 = \frac{a + v_0 + 2a + v_0}{2} \Rightarrow 4a + 2v_0 = 3a + 3v_0 \Rightarrow a = v_0$$

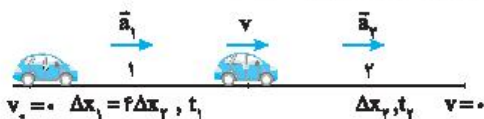
$$\Rightarrow 2a = -v_0 \Rightarrow a = -\frac{v_0}{2} = -6 \text{ m/s}^2$$

۱۵ V۵ B

برای جابه جایی در T ثانیه n می توان از رابطه زیر نیز استفاده کرد:

$$\Delta x = (n - \frac{1}{2}) a T^2 + v T$$

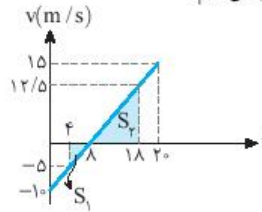
۱) در بازه اول حرکت تندی متحرک از v به v و در بازه دوم از v به 0 می رسد و جابه جایی در بازه اول چهار برابر بازه دوم حرکت است:



$$v^2 - v_1^2 = 2a \Delta x \Rightarrow \begin{cases} (1) v^2 - 0 = 2a \Delta x_1 \\ (2) 0 - v^2 = 2(-a) \Delta x_2 \end{cases}$$

$$\Delta x_1 = 4 \Delta x_2 \Rightarrow a_1 = \frac{1}{4} a_2$$

با توجه به نمودار مکان - زمان مسافت را حساب می کنیم:

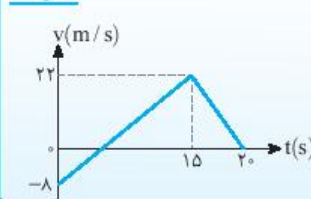


$$l = |S_1| + |S_2| \Rightarrow \frac{-5 \times 4}{2} + \frac{10 \times 12}{2}$$

$$l = 10 + 62 = 72 \text{ m}$$

البته می توانیم برای بدست آوردن سرعت های v_1 و v_2 ولحظه t از شتاب استفاده کنیم.

نمودار سرعت - زمان متحرکی که بر مسیری مستقیم حرکت می کند، به صورت شکل زیر است. مسافت پیموده شده توسط این متحرک در بازه زمانی ۵ s تا ۲۰ s، چند متر است؟



گزینه ۲

- ۱) ۱۶۰
- ۲) ۱۷۶
- ۳) ۱۸۰
- ۴) ۱۹۲

۱۶ V۱ A

جهت حرکت را مثبت می گیریم. در این صورت شتاب -4 m/s^2 است. به کمک معادله مستقل از زمان مسأله را حل می کنیم:

$$v_2^2 - v_1^2 = 2a \Delta x \Rightarrow 0 - 10^2 = 2 \times (-4) \times \Delta x \Rightarrow \Delta x = 125 \text{ m}$$

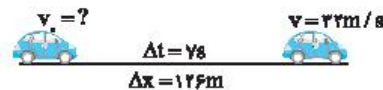
۲) گوزن در فاصله ۱۵ متری اتومبیل بوده و اتومبیل پس از $12/5 \text{ m}$ می ایستد. بنابراین فاصله گوزن تا اتومبیل در هنگام توقف $15 - 12/5 = 2/5 \text{ m}$ می باشد.

۱۷ V۲ A

در ابتدا بزرگی سرعت اولیه را به کمک فرمول طلایی بدست می آوریم. دقت کنید هفت ثانیه اول یعنی از $t=0$ تا $t=7$:

$$\Delta x = \frac{v+v_1}{2} \Delta t \Rightarrow 126 = \frac{22+v_1}{2} \times 7$$

$$\Rightarrow 18 = \frac{22+v_1}{2} \Rightarrow v_1 = 14 \text{ m/s}$$

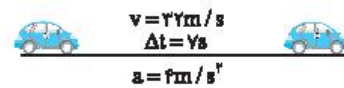


۲) شتاب را حساب می کنیم.

$$a = \frac{v-v_1}{t} \Rightarrow a = \frac{22-14}{7} \Rightarrow a = 1.14 \text{ m/s}^2$$

۳) هفت ثانیه دوم یعنی $t=7$ تا $t=14$ s. حال سرعت در انتهای این بازه را بدست می آوریم:

$$v' = at + v \Rightarrow v' = 1.14 \times 7 + 22 \Rightarrow v' = 29.98 \text{ m/s}$$



۴) جابه جایی در ۷ s دوم خواهد شد:

$$\Delta x = \frac{v'+v}{2} \Delta t \Rightarrow \Delta x = \frac{29.98+22}{2} \times 7 \Rightarrow \Delta x = 179.9 \text{ m}$$

متحرکی روی خط راست با شتاب ثابت حرکت می کند و در مدت ۵ s، ۷۵ m جابه جا می شود و بزرگی سرعتش به 20 m/s می رسد. در ۵ ثانیه بعدی سرعت متوسط متحرک چند متر بر ثانیه می شود؟

خارج ریاضی - ۹۹
گزینه ۲

- ۱) ۱۵
- ۲) ۲۵
- ۳) ۳۰
- ۴) ۳۵

نشرالگو

روش دوم: ابتدا شتاب حرکت در بازه صفر تا ۱۰s را به دست می آوریم.

$$a = \frac{v-v_0}{t} = \frac{10-0}{10-0} = 1 \text{ m/s}^2$$

سرعت متوسط در ۵s اول حرکت را حساب می کنیم.

$$v_{av} = \frac{1}{2}at + v_0 \Rightarrow v_{av} = \frac{1}{2} \times 1 \times 5 \Rightarrow v_{av} = 2.5 \text{ m/s}$$

شتاب حرکت در بازه ۱۰s تا ۳۰s را حساب می کنیم.

$$a' = \frac{-10-10}{30-10} \Rightarrow a' = -1 \text{ m/s}^2$$

اکنون فرض می کنیم که متحرک از حال سکون با شتاب $\frac{1}{2} \text{ m/s}^2$ به راه می افتد و مشخص می کنیم در چه لحظه ای سرعت متوسط آن برابر 2.5 m/s می شود.

$$v_{av} = \frac{1}{2}at + v_0 \Rightarrow 2.5 = \frac{1}{2} \times 1 \times t + 0 \Rightarrow t = 5 \text{ s}$$

اکنون باید ۱۰s از ثانیه ۳۰ به عقب برگردیم، یعنی $t = 25 \text{ s}$ جواب است.

۵۵۲ B

با توجه به صورت مسئله شکل مقابل را رسم می کنیم تا بهتر مسئله را درک کنیم. در ابتدا متحرک با تندی متوسط 40 m/s در مدت 1.5 s در جهت مثبت محور x ها جابه جا می شود. بنابراین جابه جایی کل آن در مدت $1+t$ برابر است با:

$$v_{av} = \frac{\Delta x}{\Delta t} \Rightarrow \Delta x_t = v_{av}(1+t) \Rightarrow \Delta x_t = 20(1+t) \quad (1)$$

از طرفی با توجه به شکل رابطه (۱) و (۲) را با هم برابر قرار می دهیم:

$$40 \times 1.5 + 20t = 20 + 20t \Rightarrow 20 = 20t \Rightarrow t = 1 \text{ s}$$

۵۵۴ B

برای اینکه قطار به طور کامل از روی پل بگذرد باید قطار به اندازه طول پل و طول خودش جابه جا شود. بنابراین می توان نوشت:

$$\Delta x_A = L_A + 400 \quad \Delta x = vt \Rightarrow \begin{cases} L_A + 400 = vt \\ L_B + 800 = v(2t) \end{cases}$$

دو رابطه را به هم تقسیم می کنیم.

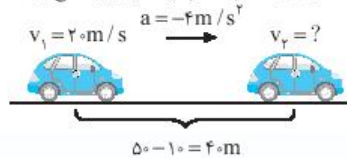
$$\frac{L_A + 400}{L_B + 800} = \frac{vt}{2vt} \Rightarrow 2L_A + 800 = L_B + 800 \Rightarrow 2L_A = L_B \Rightarrow \frac{L_A}{L_B} = \frac{1}{2}$$

۵۵۵ B

در مدت زمان واکنش راننده، اتومبیل با سرعت ثابت 72 km/h به حرکت خود ادامه می دهد و جابه جایی آن در این مدت برابر است با:

$$v = 72 \text{ km/h} = \frac{72}{3.6} \text{ m/s} \Rightarrow v = 20 \text{ m/s}, \Delta x = vt \Rightarrow \Delta x = 20 \times 0.5 = 10 \text{ m}$$

در این صورت فاصله اتومبیل از مانع در لحظه ترمز کردن برابر $40 - 10 = 30 \text{ m}$ است. به کمک معادله مستقل از زمان سرعت برخورد اتومبیل با مانع را به دست می آوریم:



$$v_2^2 - v_1^2 = 2a\Delta x \Rightarrow v_2^2 - 400 = 2(-f) \times 20 \Rightarrow v_2^2 = 80 \Rightarrow v_2 = \sqrt{80} \text{ m/s}$$

۱۳۹ در لحظه ای که انرژی جنبشی یک نوسانگر ۳ برابر انرژی پتانسیل آن است سرعت نوسانگر چند برابر سرعت بیشینه است؟

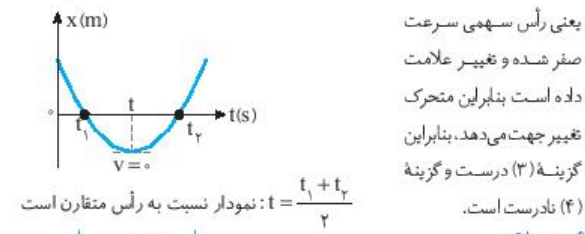
- گزینه های گذشته
- گزینه ۴
- (۱) ۲
(۲) $\frac{1}{2}$
(۳) $\frac{2\sqrt{3}}{3}$
(۴) $\frac{\sqrt{3}}{2}$

۵۵۰ B

جرم آونگ تأثیری در دوره آونگ ندارد. برای آنکه تشدید رخ دهد باید دوره دو آونگ یکسان باشد یعنی طول دو آونگ یکی شود. ریسمان آونگ B بلندتر از ریسمان آونگ A است و ضریب انبساط طولی آن نیز بیشتر است و اگر دو آونگ را گرم کنیم با افزایش دما اختلاف طول آن ها بیشتر می شود و تشدید رخ نمی دهد. اما اگر هر دو را سرد کنیم ریسمان آونگ A کمتر و آونگ B سریع تر کاهش طول می یابد و این امر سبب می شود که ریسمان A و B برابر شده و تشدید رخ دهد.

۵۵۱ A

در بازه صفر تا t متحرک در خلاف جهت محور x حرکت می کند و تندی آن در حال کاهش است و در t تندی آن صفر می شود. بنابراین در این بازه حرکت جسم کندشونده است و گزینه (۱) نادرست است. بعد از لحظه t متحرک در جهت مثبت محور xها حرکت می کند و اگر به شیب خط مماس بر نمودار دقت کنید، شیب در حال افزایش بنابراین تندی در حال افزایش است و حرکت تشدید شده است و گزینه (۲) نادرست است. در لحظه $t = \frac{t_1 + t_2}{2}$ یعنی رأس سهمی سرعت صفر شده و تغییر علامت داده است بنابراین متحرک تغییر جهت می دهد. بنابراین گزینه (۳) درست و گزینه (۴) نادرست است.



۵۵۲ B

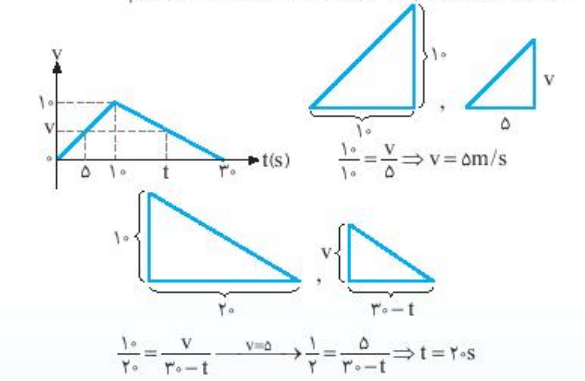
روش اول: ۵ ثانیه اول حرکت از $t = 0$ تا $t = 5 \text{ s}$ است و با توجه به نمودار در این مدت شیب نمودار $v = t$ صفر است و ثابت می ماند. سرعت متوسط در حرکت با شتاب ثابت در یک بازه زمانی برابر $v_{av} = \frac{v_0 + v_1}{2}$ است از این رو:

$$v_{av_1} = \frac{v(t=0) + v(t=5\text{s})}{2} \xrightarrow{v(t=0)=0} v_{av_1} = \frac{v(t=5\text{s})}{2}$$

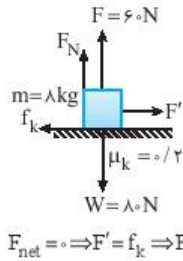
با توجه به گزینه ها مساوی یا بزرگتر از ۱۰s است و در این بازه نیز شتاب ثابت است و سرعت در $t = 3 \text{ s}$ صفر است و سرعت متوسط خواهد شد:

$$v_{av_2} = \frac{v(t) + v(t=3\text{s})}{2} \xrightarrow{v(t=3\text{s})=0} v_{av_2} = \frac{v(t)}{2}$$

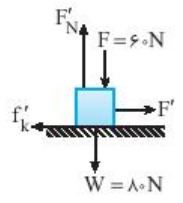
با توجه به سؤال $v_{av_1} = v_{av_2}$ است: $\frac{v(t)}{2} = \frac{v(t=5\text{s})}{2} \Rightarrow v(t) = v(t=5\text{s}) = v$ حال با توجه به نمودار سرعت - زمان داده شده تا را به دست می آوریم:



۵۵۹ B



حالت اول:
 ۱) نیروی عمودی تکیه گاه (سطح) را به دست می‌آوریم.
 $F_N = 80 - 60 = 20 \text{ N}$
 ۲) نیروی اصطکاک برابر است با:
 $f_k = \mu_k F_N \Rightarrow f_k = 0.2 \times 20 \Rightarrow f_k = 4 \text{ N}$
 ۳) جسم دارای سرعت ثابت است و نیروی خالص وارد بر آن صفر است.
حالت دوم:



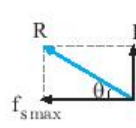
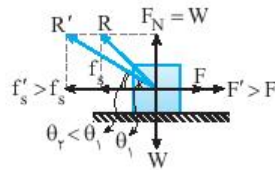
۱) اکنون جهت نیروی F را تغییر می‌دهیم و نیروی اصطکاک را حساب می‌کنیم:
 $F'_N = F + W = 60 + 80 \Rightarrow F'_N = 140 \text{ N}$
 $f'_k = \mu_k F'_N \Rightarrow f'_k = 0.2 \times 140 \Rightarrow f'_k = 28 \text{ N}$
 ۲) شتاب توقف جسم را به کمک قانون دوم نیوتون حساب می‌کنیم.
 $F_{net} = ma \Rightarrow F' - f'_k = ma \Rightarrow 60 - 28 = 8a \Rightarrow a = -3 \text{ m/s}^2$

۳) زمان توقف جسم بعد از تغییر جهت F خواهد شد:

$$v = at + v_0 \Rightarrow 0 = -3t + 15 \Rightarrow t = 5 \text{ s}$$

۵۶۰ C

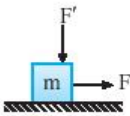
با هم فکر کنیم: نیروی سطح برابند نیروی عمودی سطح و نیروی اصطکاک است. نیروی عمودی سطح در تمام مدت افزایش F مقدار ثابتی است و برابر نیروی وزن است. در ابتدا F صفر است و با افزایش F نیروی اصطکاک ایستایی افزایش می‌یابد و زاویه بین R و راستای افق کاهش می‌یابد. بنابراین در راستای حرکت که اصطکاک ایستایی بیشینه است. زاویه θ کمینه است. با توجه به شکل می‌توان نوشت:



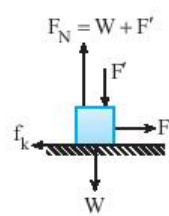
$$\tan \theta = \frac{F_N}{f_{s \max}} \xrightarrow{f_{s \max} = \mu_s F_N} \tan \theta = \frac{F_N}{\mu_s F_N}$$

$$\tan \theta = \frac{1}{\mu_s} \Rightarrow \tan \theta = \frac{1}{\sqrt{3}} \Rightarrow \mu_s = \sqrt{3}$$

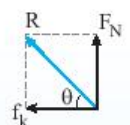
پاسخ سوال اگر جسم تحت تأثیر نیروی افقی F و نیروی قائم رو به پایین F' ، در حال حرکت بر روی سطح افقی باشد، چنانچه نیروی F' کاهش یابد تا به صفر برسد، زاویه بین نیروی سطح وارد بر جسم با سطح افق چگونه تغییر می‌کند؟



- ۱) ابتدا کاهش، سپس افزایش می‌یابد.
- ۲) همواره کاهش می‌یابد.
- ۳) همواره افزایش می‌یابد.
- ۴) ثابت می‌ماند.



پاسخ جسم تحت تأثیر نیروی F در حال حرکت است. با کاهش نیروی F' نیروی F_N کاهش می‌یابد و با کاهش نیروی F_N ، نیروی اصطکاک نیز کاهش می‌یابد اما زاویه بین نیروی سطح وارد بر جسم با سطح افق ثابت می‌ماند. دقت کنید که:



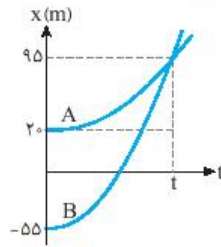
$$\tan \theta = \frac{F_N}{f_k} = \frac{F_N}{\mu_k F_N} \Rightarrow \tan \theta = \frac{1}{\mu_k}$$

بنابراین با ثابت بودن μ_k قطعاً θ ثابت می‌ماند.

گزینه ۴

۵۵۶ B

خارج تجربی - ۹۸ -



ابتدا به کمک نمودار مکان - زمان متحرک A، زمان t را به دست می‌آوریم.

$$x = \frac{1}{2} a t^2 + v_0 t + x_0$$

$$\Rightarrow 95 = \frac{1}{2} \times 1 / 5 t^2 + 0 + 20$$

$$\Rightarrow t^2 = 100 \Rightarrow t = 10 \text{ s}$$

شتاب حرکت متحرک B را حساب می‌کنیم.

$$x_B = \frac{1}{2} a_B t^2 + v_{0B} t + x_{0B} \Rightarrow 95 = \frac{1}{2} a_B (10)^2 + 0 + (-55) \Rightarrow a_B = 3 \text{ m/s}^2$$

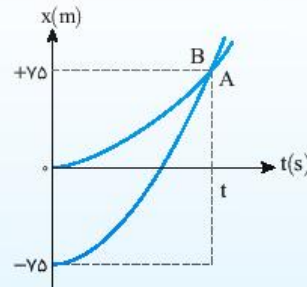
در $t = 10 \text{ s}$ ، دو متحرک به هم می‌رسند و $(x_A = x_B)$ است. اکنون سرعت دو متحرک را در این لحظه به دست می‌آوریم.

$$v = at + v_0 \xrightarrow{t=10 \text{ s}} \left\{ \begin{array}{l} v_A = 1/5 \times 10 = 2 \text{ m/s} \\ v_B = 3 \times 10 = 30 \text{ m/s} \end{array} \right. \Rightarrow \frac{v_B}{v_A} = \frac{30}{2} = 15$$

۱۴۰۰ نمودار مکان - زمان دو متحرک A و B که هم زمان از حال سکون به حرکت درآمده‌اند.

به صورت دوسهمی شکل زیر است. اگر شتاب متحرک A برابر $1/5 \text{ m/s}^2$ باشد، نسبت سرعت متحرک B به سرعت متحرک A در لحظه‌ای که از A سبقت می‌گیرد، کدام است؟

خارج تجربی - ۹۸



- گزینه ۲
- ۱) $\frac{1}{2}$ ۲) ۲ ۳) ۳ ۴) $\frac{1}{3}$

۵۵۷ B

در حرکت با شتاب ثابت، سرعت متوسط برابر است با:

$$v_{av} = \frac{v_1 + v_2}{2}$$

دو ثانیه دوم یعنی $t = 2 \text{ s}$ تا $t = 4 \text{ s}$. حال سرعت متحرک در $t = 2 \text{ s}$ و $t = 4 \text{ s}$ را حساب می‌کنیم:

$$v_1 = at_1 + v_0 \Rightarrow v_1 = 2 \times 2 + 0 \Rightarrow v_1 = 4 \text{ m/s}$$

$$v_2 = at_2 + v_0 = 2 \times 4 + 0 \Rightarrow v_2 = 8 \text{ m/s}$$

$$v_{av} = \frac{v_1 + v_2}{2} \Rightarrow v_{av} = \frac{4 + 8}{2} = 6 \text{ m/s}$$

سرعت متوسط برابر است با:

۵۵۸ A

معادله حرکت به صورت $x = -2t^2 + \alpha t + \beta$ است که همان معادله حرکت با شتاب ثابت $(x = \frac{1}{2} a t^2 + v_0 t + x_0)$ است و در تمام لحظات شتاب متحرک ثابت و برابر است با:

$$\frac{1}{2} a = -2 \Rightarrow a = -4 \text{ m/s}^2$$

بنابراین در لحظه تغییر جهت، شتاب جسم -4 m/s^2 است و نیروی وارد بر آن نیز برابر است با:

$$F = ma \Rightarrow F = 2(-4) = -8 \text{ N}$$

نشرالگو

۵۶۵ B

نخی به طول ۱۰۰cm را به دو قسمت با طول های l_1 و l_2 تقسیم کرده ایم:

$$l_1 + l_2 = 100 \text{ cm} \quad (1)$$

دوره آونگ برابر $T = 2\pi\sqrt{\frac{l}{g}}$ است:

$$\frac{T_2}{T_1} = 3 \Rightarrow \frac{2\pi\sqrt{\frac{l_2}{g}}}{2\pi\sqrt{\frac{l_1}{g}}} = 3 \Rightarrow \sqrt{\frac{l_2}{l_1}} = 3 \Rightarrow \frac{l_2}{l_1} = 9 \Rightarrow l_2 = 9l_1 \quad (2)$$

با توجه به دو معادله (۱) و (۲) طول آونگ ها را به دست می آوریم:

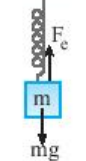
$$\begin{cases} l_1 + l_2 = 100 \text{ cm} \\ l_2 = 9l_1 \end{cases} \Rightarrow l_1 + 9l_1 = 100 \Rightarrow l_1 = 10 \text{ cm}, l_2 = 90 \text{ cm}$$

دوره دو آونگ را حساب می کنیم:

$$\begin{cases} T_1 = 2\pi\sqrt{\frac{l_1}{g}} = T_1 = 2\pi\sqrt{\frac{10}{10}} \Rightarrow T_1 = 6 \times 0.1 = 0.6 \text{ s} \\ T_2 = 2\pi\sqrt{\frac{l_2}{g}} = T_2 = 2\pi\sqrt{\frac{90}{10}} \Rightarrow T_2 = 6 \times 0.3 = 1.8 \text{ s} \\ \Rightarrow T_2 - T_1 = 1.8 - 0.6 = 1.2 \text{ s} \end{cases}$$

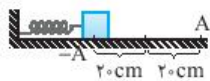
۵۶۶ B

حالت اول: پس از تعادل جسم نیروهای وارد بر جسم متوازن است



از این رو:

$$F_c = mg \Rightarrow k\Delta x = mg \Rightarrow \frac{k}{m} = \frac{g}{\Delta x} \Rightarrow \frac{k}{m} = \frac{10}{0.2} \Rightarrow \frac{k}{m} = 50$$

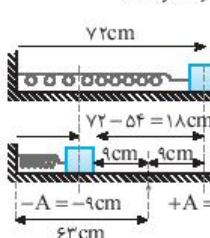


حالت دوم: سامانه جرم - فنر دارای حرکت هماهنگ ساده است و بیشینه فشردگی فنر یعنی 20 cm برابر دامنه نوسان است ($A = 20 \text{ cm}$).

$$v_{\text{max}} = A\omega = 20 \times \sqrt{\frac{k}{m}} \Rightarrow v_{\text{max}} = 0.2 \times \sqrt{50} = 0.2 \times 5\sqrt{2} \Rightarrow v_{\text{max}} = \sqrt{2} \text{ m/s}$$

۵۶۷ B

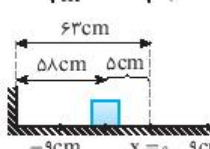
آهنگ تغییر سرعت نوسانگر همان شتاب نوسانگر است.



با توجه به کمینه و بیشینه طول فنر، دامنه نوسانگر را به دست می آوریم:

$$A = \frac{72 - 54}{2} = 9 \text{ cm}$$

$$\omega = \sqrt{\frac{k}{m}} \Rightarrow \omega = \sqrt{\frac{400}{1}} = 20 \text{ rad/s}$$



۳ هنگامی که طول فنر ۵۸cm است، مکان نوسانگر یعنی فاصله از مبدأ ($x = 0$) را به دست می آوریم:

$$x = 58 - 63 = -5 \text{ cm}$$

با توجه به معادله شتاب - مکان خواهیم داشت:

$$a = -\omega^2 x \Rightarrow a = -400 \times (-0.05) = 20 \text{ m/s}^2$$

۵۶۱ B

با باز شدن چتر مقاومت هوا 110 N و وزن چتر باز 60 N است بنابراین مقاومت هوا سبب کاهش تندی چتر باز می شود تا تندی آن به تندی حدى برسد. جهت مثبت رو به بالا انتخاب شده است. بنابراین سرعت منفی است و با باز کردن چتر تندی آن کاهش می یابد و نمودار سرعت زمان به محور x نزدیک می شود بنابراین گزینه (۲) درست است.

۵۶۲ B

نیروهای وارد بر جسم را رسم می کنیم. در حالت اول که وزنه از حال سکون رو به بالا حرکت می کند می توان نوشت:

$$F_{\text{net}} = ma \Rightarrow F - W = ma \Rightarrow k(\Delta l) - mg = ma$$

$$\Rightarrow k\left(\frac{0}{100}\right) - 45 = 4/5a \quad (1)$$

در حالت دوم که وزنه از حال سکون رو به پایین شروع به حرکت می کند خواهیم داشت:

$$mg - k(\Delta l') = ma \Rightarrow 45 - k\left(\frac{3}{100}\right) = 4/5a \quad (2)$$

اکنون دو رابطه (۱) و (۲) را مسلولی قرار می دهیم.

$$\frac{0}{100}k - 45 = 45 - k\left(\frac{3}{100}\right) \Rightarrow \frac{3}{100}k = 90 \Rightarrow k = \frac{9000}{3} \Rightarrow k = 11250 \text{ N/m}$$

۵۶۳ C

آسانسور با شتاب 2 m/s^2 رو به بالا در حرکت است. بنا به قانون دوم نیوتون:

$$F_{\text{net}} = ma \Rightarrow F_{\text{net}} = 2 \times 2 = 4 \text{ N}$$



گویی در امتداد قائم رو به بالا در حرکت است و از حال سکون شروع به حرکت کرده است بنابراین F_{net} باید رو به بالا و در امتداد قائم باشد. از این رو باید برآیند نیروی عمودی سطح F_{N_A} و F_{N_B} در امتداد قائم رو به بالا و خلاف جهت W باشد در نتیجه خواهیم داشت:

$$F_{\text{net}} = F_{N_{AB}} - W \Rightarrow 4 = F_{N_{AB}} - 20 \Rightarrow F_{N_{AB}} = 24 \text{ N}$$

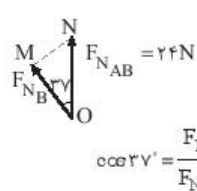
برآیند نیروهایی که دود یولاره بر گوی وارد می کنند، بنابراین:

$$\sqrt{F_{N_A}^2 + F_{N_B}^2} = 24 \Rightarrow \sqrt{\left(\frac{2}{3}F_{N_B}\right)^2 + F_{N_B}^2} = 24$$

$$\Rightarrow \frac{5}{3}F_{N_B} = 24 \Rightarrow F_{N_B} = 19/2 \text{ N}$$

۵۶۴ A

البته با توجه به شکل در مثلث OMN نیز می توان F_{N_B} را به دست آورد:



$$\cos 37^\circ = \frac{F_{N_B}}{24} \Rightarrow 0.8 = \frac{F_{N_B}}{24} \Rightarrow F_{N_B} = 19/2 \text{ N}$$

بنابراین سطح B به گوی نیروی $19/2 \text{ N}$ وارد کرده و گوی نیز به سطح B نیرویی به همین اندازه و خلاف جهت آن وارد می کند.

۵۶۴ A

تکانه جسم برابر $P = mv$ است:

$$P = 4x + 2 \Rightarrow \frac{P = mv}{m = 2 \text{ kg}} \Rightarrow 0.2v = 4x + 2 \Rightarrow v = 20x + 10$$

با توجه به معادله B بالاد هر مکان، سرعت متحرک به دست می آید. در مکان اولیه سرعت متحرک 5 m/s خلاف جهت محور x یعنی -5 m/s است از این رو مکان اولیه خواهد شد:

$$-5 = 20x_1 + 10 \Rightarrow 20x_1 = -15 \Rightarrow x_1 = -0.75 \text{ m}$$

۵ حرکت نوسانگر از صفر تا $+2\text{cm}$ مشابه حرکت آن از صفر تا -2cm است بنابراین $t_1 = t_2'$ است. به مسیر حرکت بالا خود نگاه کنید:

$$t_2 - t_1 = t_1' + t_2' + \frac{T}{4} \rightarrow t_2 - t_1 = t_1' + t_2' + \frac{T}{4}$$

$$\Rightarrow t_2 - t_1 = \frac{T}{4} = \frac{0.25}{4} = 0.0625\text{s}$$

میانبر کمینه مدت زمانی که طول می‌کشد تا مکان نوسانگر و جهت حرکت آن قرینه شود برابر $\frac{T}{4}$ است.

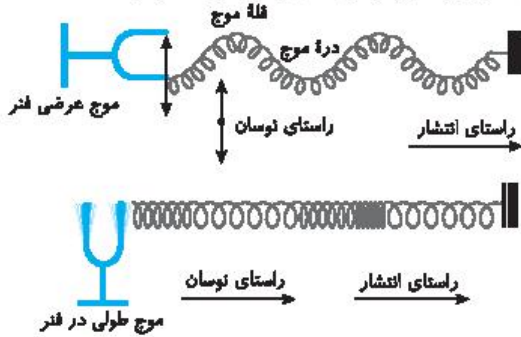
تستی ۱۴۱ جرمی متصل به فنر با بسامد 5Hz روی پار خطی به طول 8cm در سطح افقی بدون اصطکاک حرکت هماهنگ ساده انجام می‌دهد. نوسانگر در لحظه t_1 از یک سانتی متری نقطه تعادل (مرکز نوسان) عبور می‌کند و حرکتش در این لحظه کندشونده است. از لحظه t_1 حداقل چند ثانیه طول می‌کشد تا نوسانگر از یک سانتی متری طرف دیگر نقطه تعادل عبور کند؟

خارج تجربی - ۹۹

گزینه ۳ ✓

(۱) $\frac{1}{40}$ (۲) $\frac{1}{20}$ (۳) $\frac{1}{10}$ (۴) $\frac{1}{5}$

در یک فنر می‌توان موج عرضی و همچنین موج طولی منتشر کرد.

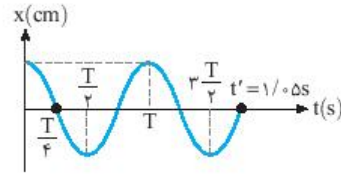


۱ فاصله بین دو فله یادو دره مجاور هم امواج دایره‌ای روی سطح آب برابر با یک طول موج است و گزاره (الف) نادرست است. در گذر موج از یک محیط به محیط دیگر، بسامد موج ثابت می‌ماند و تندی انتشار موج که به ویژگی‌های محیط بستگی دارد، تغییر می‌کند. بنابراین $(\lambda = \frac{v}{f})$ طول موج تغییر می‌کند و گزاره (ب) درست است. در انتشار امواج سطحی آب، تندی موج در آب‌های کم عمق، با افزایش عمق، افزایش می‌یابد و با ثابت بودن بسامد و افزایش تندی، طول موج افزایش می‌یابد. $(\lambda = \frac{v}{f})$ و گزاره (پ) درست است. مقدار متوسط آهنگ انتقال انرژی در یک موج سینوسی برای همه انواع امواج مکانیکی با دامنه موج (A^2) و بسامد موج (f^2) متناسب است و گزاره (ت) نادرست است. بنابراین دو گزاره (ب) و (پ) درست است.

۲ **تستی ۱۴۲** از کتاب درسی - ارتفاع صوت، بسامدی است که گوش درک می‌کند. شنونده ارتفاع صوت A را بیشتر از ارتفاع صوت B احساس می‌کند، بنابراین بسامد صوت A از بسامد صوت B بیشتر است و با توجه به ثابت بودن تندی انتشار موج در یک محیط، طول موج صوت دیاپازون A از طول موج صوت دیاپازون B کمتر است. $(\lambda = \frac{v}{f})$. بلندی صوت احساس ما از شدت صوت است. بلندی صوت A کمتر از بلندی صوت B شنیده شده است پس شدت صوت A نیز کمتر از شدت صوت B است.

پایه‌ای بیشینه شتاب نوسانگر برابر $|a_{max}| = A\omega^2$ و بیشینه تندی نوسانگر $v_{max} = A\omega$ است. با توجه به نمودار دوره را به دست می‌آوریم.

$$t' = \frac{2T}{4} + \frac{T}{4} \Rightarrow t' = \frac{3T}{4} \Rightarrow 1/0.5 = \frac{3T}{4} \Rightarrow T = 0.66\text{s}$$



بسامد زویه‌ای برابر است با: $\omega = \frac{2\pi}{T} \Rightarrow \omega = \frac{2\pi}{0.66} \Rightarrow \omega = \frac{10\pi}{3} \text{ rad/s}$ دامنه حرکت نوسانگر را به دست می‌آوریم:

$$A\omega^2 = 8\pi^2 \Rightarrow A \times (\frac{10\pi}{3})^2 = 8\pi^2 \Rightarrow A = \frac{8 \times 9}{100} = 0.72\text{m}$$

در لحظه $t = 1/0.5\text{s}$ نوسانگر در مبدأ مکان $x = 0$ قرار دارد و تندی نوسانگر بیشینه است: $v_{max} = A\omega \Rightarrow v_{max} = 0.72 \times \frac{10\pi}{3} \Rightarrow v_{max} = 2.4\pi \text{ m/s}$ انرژی جنبشی نوسانگر در این لحظه برابر است با:

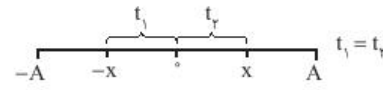
$$K = \frac{1}{2}mv_{max}^2 \Rightarrow K = \frac{1}{2} \times 0.2 \times (2.4\pi)^2$$

$$\Rightarrow K = 0.1 \times 5.76\pi^2 \Rightarrow K = 0.576\pi^2 \text{ J} = 5.76\pi^2 \text{ mJ}$$

میانبر نسبت شتاب بیشینه به تندی بیشینه برابر است با:

$$\frac{a_{max}}{v_{max}} = \omega \Rightarrow v_{max} = \frac{a_{max}}{\omega}$$

تستی در حرکت هماهنگ ساده حرکت نوسانگر از صفر تا $+x$ مشابه حرکت نوسانگر از صفر تا $-x$ است.

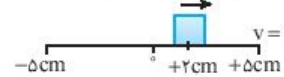


۱ طول پاره‌خط نوسان 10cm است، بنابراین دامنه نوسان 5cm است.

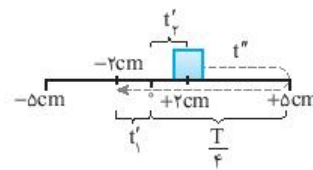


۲ بسامد نوسان 4Hz است بنابراین: $f = \frac{1}{T} \Rightarrow T = \frac{1}{f} \Rightarrow T = \frac{1}{4} \text{ s} = 0.25\text{s}$

۳ متحرک در لحظه t_1 در مکان $+2$ سانتی متری قرار داشته و حرکت آن کندشونده است یعنی نوسانگر در حال حرکت به سمت نقطه بازگشت ($v=0$) است:



۴ نوسانگر در لحظه t_2 برای اولین بار پس از t_1 به مکان $x = -2\text{cm}$ رسیده است:



$$t_2 - t_1 = t_1' + t_2' + \frac{T}{4}$$