

کاپ

کتاب آموزشی پیشرو

# تتمیم

پایه دهم  
ویرایتتر جدید



تألیف و گردآوری:  
افشین یزدان شناس

سرشناسه : یزدان شناس، افشین، ۱۳۵۸-

عنوان : کتاب درسی زیر ذره بین شیمی(۱) پایه دهم/ تألیف و گردآوری افشین یزدان شناس؛

ویراستار علمی شیواسادات امین.

مشخصات نشر : تهران: کتب آموزشی پیشرو، ۱۴۰۰.

مشخصات ظاهری : ۱۸۰ ص: مصور (رنگی)؛ ۲۹×۲۲ س.م.

شابک : ۹۷۸-۶۲۲-۷۰۷۱-۸۱-۸-۱۹۰۰۰۰۰

وضعیت فهرست نویسی : فیپای مختصر

شناسه افزوده : امین، شیواسادات، ویراستار

شماره کتابشناسی ملی : ۸۵۴۶۲۵۲

اطلاعات رکورد کتابشناسی : فیپا



ویرایتر جدید

نتیجه پایه دهم

نام کتاب	:	کتاب درسی زیر ذره بین شیمی(۱) - پایه دهم
ناشر	:	کتب آموزشی پیشرو (کاپ)
عنوان پروژه	:	کتاب درسی زیر ذره بین
مدیریت پروژه	:	خانه زیست شناسی
تألیف و گردآوری	:	افشین یزدان شناس
ناظر فنی	:	سپیده زارعی
صفحه بندی	:	کتب آموزشی پیشرو (کاپ)
حروف چینی	:	جواد جعفریان
طراحی جلد	:	امیرحامد پاژتار
ویراستار علمی	:	شیوا سادات امین، محمد عرفان عباسی، ستایش کریمی
ویراستار ادبی	:	مریم مجاور
لیتوگرافی و چاپ	:	گلیا گرافیک/ نگار نقش
سال و نوبت چاپ	:	دوم - ۱۴۰۲
شابک	:	۹۷۸-۶۲۲-۷۰۷۱-۸۱-۸-۱۹۰۰۰۰۰
شمارگان	:	۱۰۰۰ نسخه
قیمت	:	۱۹۰۰۰۰ تومان



مرکز فروش: میدان انقلاب- خیابان فخررازی- خیابان وحیدنظری غربی- پلاک ۸۳

۰۲۱-۶۶۴۹۳۴۹۰ ۰۲۱-۶۶۹۶۱۰۷۹ ۰۵-۶۶۹۶۴۷۲۳ ۰۲۱-۶۶۹۵۳۵۱۷-۱۸ (فروشگاه): ۰۲۱-۶۶۹۵۳۵۱۷-۱۸

۱۳۱۴۵-۱۱۳۹

www.zirezarebinpub.ir

www.cup-book.com

cupbook.pub

خیلی خیلی

کتاب درسی مهم است...



تقدیم به:

نگاه دقیق و عمیق همه اساتید محترم

و دانش آموزان عزیز

زیر ذره بین

## مقدمه مؤلف

**سکانس اول** از کجا شروع کنیم؟ به نظر شما کتاب درسی رو هم باید بخونیم یا جزوه کافیه؟ کدوم کتاب تست بهتره؟ و ...

سلام ... شاید این سؤاها و سؤالهای مشابه، ذهن شما را هم به خود مشغول کرده باشد، شاید هم امتحانات پایان ترم را با نمره عالی (۲۰) گذرانده باشید ولی در آزمون آزمایشی یا کنکور سراسری و ... (بگذریم). واقعیت این است که تغییر سبک سؤالات شیمی کنکور در چند سال اخیر همه دوستان را کم و بیش شوکه کرد! تعارف نداریم خود من هم با دیدن بعضی سؤالهای درس شیمی کمی تا قسمتی تعجب می کردم که این حجم سؤال و محاسبات و ... آنها در متوسط زمان یک دقیقه!! منصفانه است؟ (همین جا پیشنهاد و توصیه ام برای شما این است که خود را برای این چنین آزمون هایی در سال های پیش رو آماده کنید).

**سکانس دوم** چالش بعدی این است که سطح سؤالهای کنکور سراسری در سال های اخیر با سطح مطالب و مثال های کتاب درسی چندان که چه عرض کنم ... اصلاً هم خوانی ندارد، اما مطمئن باشید ایده و نقطه شروع همه این سؤال ها «کتاب درسی» است. در حقیقت طراحان آزمون سراسری با چیره دستی و دقت فراوان (البته بعضاً با چاشنی بی رحمی!) و به کمک علم ترکیب (بر خلاف تجزیه) سؤالاتی استخراج می کنند که ریشه آنها را می توان در سطر سطر و تمرین های کتاب درسی (مخصوصاً تمرین های دوره ای انتهای فصل ها) یافت. با این توضیحات گام بعدی برای آمادگی عالی برای این آزمون سرنوشت ساز، تسلط (نه صرفاً آشنایی!) بر کتاب درسی و زوایای مختلف آن است.

**سکانس سوم** کتابی که پیش رو دارید، به نوعی تحلیل نامه کتاب درسی است که سعی دارد زاویه نگاه شما داوطلبان و دانش آموزان را به زاویه دید طراحان آزمون ها نزدیک کند. همچنین در برخی جاها و به فراخور موضوع و اهمیت آن چند سؤال از آزمون سراسری آورده شده که مطالعه پاسخ تشریحی آنها دست کمی از مطالعه دقیق متن کتاب ندارد و شما را مطمئن می کند که تسلط بر کتاب درسی به معنای حضور قدرتمند در آزمون است. بنابراین خیلی خیلی با حوصله و دقیق، پاسخ تشریحی آنها را مطالعه کنید. مطالعه دقیق این مجموعه، مهم ترین کاری است که برای ورود موفق و قدرتمند به هر کتاب (منظورم کتاب تست است) و آزمونی باید انجام دهید و در حقیقت این کتاب مکمل و دوست همه کتاب های شیمی موجود در بازار است. مطمئنم که شما به کمک دبیر محترمتان مطالب بیشتری را به آن خواهید افزود و هدف نهایی ما هم قطعاً همین بوده و هست. در پایان از شما داوطلبان، دبیران محترم درسی شیمی و مشاوران گرامی به پاس همراهی همیشگی، صمیمانه تشکر و قدردانی می کنم و بی صبرانه منتظر نظرات و انتقادات سازنده شما به آدرس ایمیل زیر هستیم. در پایان از مدیریت و همچنین کلیه عزیزان بخش فنی انتشارات کاپ کمال تشکر را دارم.

**افشین یزدان شناس**

 Afshin.698@yahoo.com

## افشین یزدان شناس

بگذارید افشین یزدان شناس را با این جمله معرفی کنم:

«نویسنده‌ای چیره‌دست و معلمی بی نظیر!» ...

افشین یزدان شناس در شرایطی برای نوشتن این کتاب دست به قلم برده است که در اوج پختگی و تجربه خود در تدریس شیمی کنکور قرار دارد. کفایت به آخرین موقعیت او هنگام تألیف این کتاب نیم‌نگاهی بیندازیم؛ مدرس کنکور شیمی در دبیرستان‌های، ماندگار البرز «فرزانگان تهران» و تألیف کتاب بانک تست «شیمی کامل میکروپلائی گاج!» و طراح کنکور آزمایش ...

واقعیت این است که ذره‌بینی که قرار شد بر روی خطوط کتاب‌های درسی به حرکت درآید می‌بایست به دست دبیری کارگشته و مسلط به فضای کنکور سراسری سپرده می‌شد. افشین یزدان شناس مناسب‌ترین فرد برای تألیف این کتاب متفاوت بود! نکته مهم و غیرقابل انکار دیگر، نقش درس شیمی به‌عنوان مکمل بی‌چون و چرای زیست‌شناسی در قبولی دانش پژوهان رشته تجربی است! به قول پروفیسور لنینجر، بیوشیمیست معروف و نویسنده کتاب مشهور «بیوشیمی لنینجر»، یک پزشک باید یک **High Biologist** باشد و یک بیولوژیست باید یک **High chemist** باشد! بنابراین نگاه عمیق‌تر ما در انتخاب مؤلف برای تألیف این کتاب ارزشمند، ارتباط ویژه مؤلف با دانش‌آموزان رشته تجربی بوده است. نتایج خیره‌کننده این استاد برجسته کنکور در آزمون‌های سراسری سال‌های اخیر دلیل مهم دیگر ما برای انتخاب افشین یزدان شناس بوده است. در کنار همه این موارد باید تسلط غیرقابل تصور بر کتاب‌های کمک آموزشی موجود در بازار، ارتباط بسیار مؤثر و مستمر با دبیران شیمی سراسر کشور و البته احساس مسئولیت ویژه و متفاوت نسبت به اسم زبرذره‌بین را نیز اضافه کرد که همه و همه این موارد از افشین یزدان شناس نویسنده‌ای خلاق و دوست‌داشتنی ساخته است.

از صمیم قلب و با تمام وجود برای این رفیق شفیق و کتاب‌کم‌نظیرش آرزوی موفقیت می‌کنم.

**مصطفی پویان**

**مدیر خانه زیست‌شناسی**

# با کتاب‌های زیر ذره‌بین چه اهدافی را دنبال می‌کنیم؟



چندسالی است که رویکرد آزمون‌های سراسری با تغییراتی بنیادی روبه‌رو شده است. در کنکورهای اخیر با شیوه‌ای جدید از طرح سؤالات روبرو شدیم که لازمهٔ پاسخ دادن به آنها، تسلط کامل و بدون نقص کتاب‌های درسی را می‌طلبد! میزان این تغییرات به حدی بوده است که تقریباً همهٔ کتاب‌های کمک‌آموزشی موجود در بازار را با چالش بزرگی روبه‌رو کرده است! ناشران مختلف در صدد اعمال تغییرات در کتاب‌های چاپ شدهٔ گذشته برآمدند، اما واقعیت این است که باز هم دانش‌آموز قادر نیست با کمک این کتاب‌ها به اکثر سؤالات کنکور پاسخ دهد! آنچه در این میان بیش از همه جلب توجه می‌کند حجم شدن کتاب‌های کمک‌آموزشی به دلیل توضیحات مفصل به‌منظور پوشش حداکثری سؤالات کنکور است. اما واقعیت در جای دیگری نهفته است؛ کتاب درسی! بله، کتاب درسی همان حلقهٔ گمشده‌ای است که به آن توجه کمتری می‌شود و متأسفانه دانش‌آموزان، در بسیاری از اوقات، کتاب درسی را کنار می‌گذارند!

زیر ذره‌بین بردن متن کتاب درسی، حاوی این پیام ساده است که:

کتاب درسی خیلی خیلی مهم است!

ما در این پروژه‌ای که تعریف کرده‌ایم اهداف زیر را دنبال می‌کنیم:

## ۱- تأکید بیشتر و بیشتر بر متن کتاب درسی

در حقیقت ذره‌بین مؤلف روی متن کتاب درسی فرار می‌گیرد تا با نگاهی عمیق، دقیق و موشکافانه توجه دانش‌آموز را به نکات مورد نظر نویسندگان کتاب درسی، مدرسین و طراحان کنکور جلب نماید. ذره‌بین مورد نظر توسط دبیری حرفه‌ای، که خود تجربهٔ تألیف، تدریس و طراحی آزمون‌های مختلف را داشته است، روی متن کتاب درسی به حرکت درآمده است.

## ۲- بررسی بسیار دقیق‌تر شکل‌ها

تصاویر کتاب‌های درسی همواره از اهمیت بالایی در طرح تست‌های خاص و متفاوت برخوردار بوده‌اند؛ اما زاویهٔ دید طراحان کنکور، به‌ویژه در دو سالهٔ اخیر، این پیام بسیار مهم را به داوطلبان شرکت در کنکور منتقل کرده است که به هیچ وجه نباید از کنار تصاویر کتاب به سادگی عبور کرد!

### ۳- احترام گذاشتن به گروه مؤلفین کتاب‌های درسی

گروه تألیف کتاب‌های درسی معمولاً از بین اساتید حرفه‌ای و دبیران با تجربه‌ای تشکیل می‌شوند که سال‌های سال در این حوزه فعالیت کرده‌اند. استراتژی حاکم بر تألیف کتاب درسی توسط شورای عالی برنامه‌ریزی تدوین و ابلاغ می‌شود. سیاست‌های کلی این شورا باید به‌طور کامل توسط گروه تألیف در نظر گرفته شود. ممکن است ما با خیلی از این سیاست‌گذاری‌ها موافق نباشیم ولی باید واقعیت موجود را بپذیریم! در هر صورت این کتاب، کتاب درسی فرزندان ماست و در خاطره‌های درازمدت آنها ماندگار خواهد شد. رجوع موشکافانه به مطالب کتاب درسی، دقیقاً احترام گذاشتن به همهٔ اینهاست.

### ۴- به‌راحتی نقاط ضعف کتاب درسی در مواجهه با مثال‌های کنکوری مشخص می‌شود

قطعاً یکی از نکات مهمی که در هنگام مطالعهٔ کتاب‌های زیر ذره‌بین مشخص می‌شود کاستی‌های کتاب درسی است. ما تلاش کرده‌ایم مثال‌های کنکور را در جایگاه مناسب و مرتبط با متن کتاب قرار دهیم. دانش‌آموز با مقایسه این دو متوجه می‌شود که آیا می‌تواند با اطلاعات کتاب درسی از پسِ تست‌های مطرح‌شده در کنکورهای گذشته بر بیاید یا خیر! با توجه به این موضوع کلیدی، تألیف کتاب‌های جدید با حجم کم که فقط نقاط ضعف کتاب را پوشش دهند نیاز جدیدی است که ناشران مختلف با آن روبه‌رو خواهند بود. ناشران باید در این حوزه کتاب‌های جدیدی را طراحی و تألیف نمایند.

### ۵- جلوگیری از سردرگمی دانش‌آموزان در میان انبوهی از کتاب‌های کمک‌آموزشی موجود در بازار

کاملاً با شما موافقیم. اولین سؤالی که برای شروع مطالعهٔ یک درس یا در آغاز سال تحصیلی در ذهن همهٔ دانش‌آموزان نقش می‌بندد این است: «کدام کتاب کمک آموزشی پاسخ‌گوی نیاز من در آزمون‌هاست؟» و برای پاسخ به این پرسش هر دبیری کتاب مورد نظر خود را پیشنهاد می‌دهد و اینجاست که دانش‌آموزان با انبوهی از توصیه‌ها روبه‌رو می‌شوند که قطعاً موجب سردرگمی خواهد شد. ما با قاطعیت توصیه و تأکید می‌کنیم که مطالعهٔ دقیق کتاب درسی، آن‌هم با رویکرد زیر ذره‌بینی، از همان ابتدا دانش‌آموز را در مسیر واقعی مورد نظر سیستم آموزشی و طراحان کنکور قرار می‌دهد. کتاب درسی زیر ذره‌بین کتابی است که مکمل هر یک از کتاب‌های کمک‌آموزشی موجود در بازار است و موجب می‌شود دانش‌آموز با تسلط بیشتری به تجزیه و تحلیل سؤالات کنکور بپردازد.

### ۶- هم در ابتدای مسیر و هم در انتهای راه

در حقیقت رویکرد تدوین این کتاب، کاربرد دوگانه‌ای را در ذهن تداعی می‌کند. رویکرد اول قبل از مراجعه به سایر کتاب‌های کمک‌آموزشی است. در این حالت دانش‌آموز با نگاهی متفاوت‌تر و عمیق‌تر به سراغ این کتاب‌ها رفته و بیشترین استفاده را در زمان کوتاهی خواهد داشت. رویکرد دوم، پس از مطالعهٔ کتاب‌های کمک‌آموزشی است. در این حالت نیز یک دورهٔ جمع‌بندی شیرین را با کتاب‌های زیر ذره‌بین تجربه خواهد کرد. در هر دو حالت، کتاب درسی زیر ذره‌بین، یک دوست قابل اعتماد خواهد بود.

صمیمانه آرزو می‌کنیم موفقیت در کنکور سراسری، یکی از بهترین اتفاقات‌های زندگی‌تان باشد.

**مصطفی پویان**

**مدیر خانه‌زیست‌شناسی**

# فهرست

تتیمه  
پایه دهم

## کیهان زادگاه الفبای هستی

فصل ۱



۱۴	ضمیمه ۱
۳۴	ضمیمه ۲
۴۰	ضمیمه ۳

## رد پای گازها در زندگی

فصل ۲



۵۸	ضمیمه ۱
۶۵	ضمیمه ۲
۸۲	ضمیمه ۳

## آب، آهنگ زندگی

فصل ۳



۹۲	ضمیمه ۱
۹۸	ضمیمه ۲
۱۰۲	ضمیمه ۳

۱۲۲-۱ کنکور ۱۴۰۲ رشته تجربی

۱۲۲-۵ کنکور ۱۴۰۲ رشته ریاضی





●●● «هُوَ الَّذِي خَلَقَ السَّمَوَاتِ وَالْأَرْضَ فِي سِتَّةِ أَيَّامٍ» آیه ۴، سوره حدید ●●●  
 او کسی است که آسمان‌ها و زمین را در شش روز آفرید.

● شاید شما هم یکی از شیفتگان آسمان پرستاره شبانه‌گی باشید؛ سقفی زیبا و آکنده از اسرار و پرسش‌های بی‌شماری که از گذشته تاکنون ذهن کنجکاو انسان‌های هوشمند را مجذوب خویش ساخته است. در این فضای بی‌کران، ستارگان پرفروغ با نوری که می‌تابانند، پیوسته با ما سخن می‌گویند و پیام آگاه‌باش می‌فرستند؛ پیامی که از گذشته‌های دور، روایت می‌کند؛ از اینکه جهان هستی چگونه پدید آمده است؟ ذره‌های سازنده جهان هستی طی چه فرایندی و چگونه به وجود آمده‌اند؟ پرسش‌هایی که یافتن پاسخ آنها بسیار دشوار است. زمین در برابر عظمت آفرینش همانند آزمایشگاه بسیار کوچکی است که دانشمندان با آزمایش‌های گوناگون در آن، در تلاش برای یافتن پاسخ این پرسش‌ها هستند. شیمی دان‌ها با مطالعه خواص و رفتار ماده، همچنین برهم‌کنش نور با ماده در این راستا سهم بسزایی داشته‌اند.




در پاسخ به پرسش‌های فوق

## سه پرسش مهم

انسان همواره با پرسش‌هایی از این دست که «هستی چگونه پدید آمده است؟ جهان کنونی چگونه شکل گرفته است؟ پدیده‌های طبیعی چگونه و چرا رخ می‌دهند؟» روبه‌رو بوده و پیوسته تلاش کرده است برای این پرسش‌ها، پاسخ‌هایی قانع‌کننده بیابد. پاسخ به نخستین پرسش - که پرسشی بسیار بزرگ و بنیادی است - در قلمرو علم تجربی نمی‌گنجد و آدمی تنها با مراجعه به چارچوب اعتقادی و بینش خویش در پرتو آموزه‌های الهی می‌تواند به پاسخی جامع دست یابد.

اما پس از عبور از این قلمرو، علم تجربی تلاشی گسترده را برای یافتن پاسخ پرسش‌های دوم و سوم انجام داده است. این تلاش‌ها سبب شد تا دانش ما درباره جهان مادی افزایش یابد. امروزه ما درباره کیهان و منشأ آن اطلاعاتی داریم که نیاکانمان حتی نمی‌توانستند آنها را تصور کنند؛ برای نمونه ما به فضا می‌رویم؛ با عنصرهای موجود در نقاط گوناگون کیهان آشنا شده‌ایم؛ در پی یافتن زندگی در دیگر سیاره‌ها هستیم و مسافرت به مریخ را طراحی می‌کنیم. آشکار است که با گذشت زمان، انسان به پیشرفت‌هایی دست خواهد یافت که امروز در ذهن ما نمی‌گنجد.

تلاش دانشمندان برای شناخت کیهان همچنان ادامه دارد. نمونه‌ای از آن، سفر طولانی و تاریخی دو فضاییما به نام‌های **وویجر ۱ و ۲** در سال ۱۹۷۷ میلادی (۱۳۵۶ خورشیدی) برای شناخت بیشتر سامانه خورشیدی است (شکل ۱).



هدف

شکل ۱- عکس کره زمین از فاصله تقریبی ۷ میلیارد کیلومتری؛ آخرین تصویری که وویجر ۱ پیش از خروج از سامانه خورشیدی از زادگاه خود گرفت.

دو فضاییما مأموریت داشتند با گذر از کنار سیاره‌های مشتری، زحل، اورانوس و نپتون، شناسنامه فیزیکی و شیمیایی آنها را تهیه کنند و بفرستند. این شناسنامه‌ها می‌تواند حاوی اطلاعاتی مانند نوع عنصرهای سازنده، ترکیب‌های شیمیایی در اتمسفر آنها و ترکیب درصد این مواد باشد.

## عنصرها چگونه پدید آمدند؟

یکی از پرسش‌های مهمی که شیمی دان‌ها در پی یافتن پاسخ آن هستند، چگونگی پیدایش عنصرهاست. جالب است بدانید که مطالعه کیهان به ویژه سامانه خورشیدی برای پاسخ به این پرسش، کمک شایانی می‌کند؛ برای نمونه با بررسی نوع و مقدار عنصرهای سازنده برخی سیاره‌های سامانه خورشیدی و مقایسه آن با عنصرهای سازنده خورشید می‌توان به درک بهتری از چگونگی تشکیل عنصرها دست یافت.

شواهد تاریخی که از سنگ‌نبشته‌ها و نقاشی‌های دیوار غارها به دست آمده است نشان می‌دهد که انسان اولیه با نگاه به آسمان و مشاهده ستارگان در پی فهم نظام و قانونمندی در آسمان بوده است.

## آیا می‌دانید

دانشمندان مسلمان علاقه زیاد به آسمان شب و مطالعه ستاره‌ها داشتند. عبدالرحمن صوفی یکی از ستاره‌شناسان ایرانی است که برای اولین بار گزارشی درباره کهکشان «آندرومدا» ارائه داده است. این کهکشان نزدیک‌ترین همسایه به سامانه خورشیدی است. او همچنین درباره موقعیت ستاره‌ها، اندازه و رنگ آنها در صورت‌های فلکی و اطلاعات معتبری ارائه داده است.


## آیا می‌دانید

اخترشیمی، یکی از شاخه‌های جذاب شیمی است و به مطالعه مولکول‌هایی می‌پردازد که در فضاها بین ستاره‌ای یافت می‌شود. اخترشیمی دان‌ها توانسته‌اند وجود مولکول‌های گوناگونی را در مکان‌هایی بسیار دور ثابت کنند که تاکنون پای هیچ انسانی به آنجا نرسیده است.

## خود را بیازمایید

پنجمین سیاره      سومین سیاره

شکل زیر عنصرهای سازنده دو سیاره مشتری و زمین را نشان می‌دهد. با توجه به آن به پرسش‌های مطرح شده پاسخ دهید.



### نکته

در بین هشت عنصر فراوان دو سیاره زمین و مشتری:


- ۱- در سیاره مشتری عنصر فلزی و شبه فلزی وجود ندارد و هشت عنصر فراوان مشتری همگی نافلزند.
- ۲- در سیاره زمین هر سه نوع عنصر (فلز، نافلز و شبه فلز) وجود دارد.
- ۳- پنج عنصر (از هشت عنصر) در زمین، فلز هستند.
- ۴- دو نافلز (اکسیژن و گوگرد) در بین هشت عنصر فراوان دو سیاره مشترک است که یکی گازی (اکسیژن) و دیگری گوگرد جامد است.

درصد فراوانی عنصر آهن که فراوان‌ترین عنصر در زمین است به ۵۰ درصد هم نمی‌رسد. در حالی که درصد فراوانی هیدروژن (فراوان‌ترین عنصر موجود در مشتری) حدود ۹۰ درصد است.



### آیا می‌دانید

سحابی بومرنگ، سردترین مکان شناخته شده در جهان هستی با دمای  $-۲۷۲^{\circ}\text{C}$  است که حدود  $۵۰۰۰$  سال نوری از زمین فاصله دارد و در صورت فلکی سنتاروس (قنطورس) واقع شده است.



آ فراوان‌ترین عنصر در هر سیاره، کدام است؟

ب) عنصرهای مشترک در دو سیاره را نام ببرید. گوگرد (در هر دو سیاره، ششمین عنصر) و اکسیژن

پ) در کدام سیاره، عنصر فلزی وجود ندارد؟ مشتری

ت) پیش‌بینی کنید سیاره مشتری بیشتر از جنس گاز است یا سنگ؟ چرا؟ (عناصر نافلزی معمولاً گازی شکل‌اند)

ث) آیا به جز عنصرهای نشان داده شده در شکل، عنصرهای دیگری در زمین یافت می‌شود؟

چند نمونه نام ببرید. Mn (مگنزیوم)، Cu (مس) و...

۱ - Centaurus

### نکته

در بین هشت عنصر فراوان زمین، گاز نجیب وجود ندارد ولی سه عنصر (از هشت عنصر) فراوان سیاره مشتری، گاز نجیب هستند (هلیوم، آرگون، نئون)

در یافتن نوع و میزان فراوانی عناصرها در دو سیاره زمین و مشتری متفاوت است در حالی که **گوگرد و اکسیژن که هر دو نافلز هستند** عناصرهای مشترکی نیز در این دو سیاره هست. یافته‌هایی از این دست نشان می‌دهد که **عناصرها**

به صورت **ناهمگون** در جهان هستی توزیع شده‌اند. این یافته‌ها باعث شد تا دانشمندان بتوانند **چگونگی پیدایش عناصرها را توضیح دهند** به طوری که **برخی** از آنها بر این باورند که سر آغاز کیهان **غیر یکنواخت**

با **انفجاری مهیب (مهبانگ)** همراه بوده که طی آن انرژی عظیمی آزاد شده است. در آن شرایط **پس** از پدید آمدن ذره‌های زیراتمی مانند الکترون، پروتون و نوترون، عناصرهای هیدروژن و هلیوم

پا به عرصه جهان گذاشتند. با گذشت زمان و کاهش دما، گازهای هیدروژن و هلیوم تولید شده، متراکم شد و مجموعه‌های گازی به نام **سحابی** ایجاد کرد. بعدها این سحابی‌ها سبب پیدایش

**ستاره‌ها و کهکشان‌ها** شد. **ستاره و کهکشانها** → **سحابی** → **گذشت زمان. کاهش دما** → **H, He, e, p, n** → **مهبانگ** (هم جوشی هسته‌ای) **تراکم گازها**

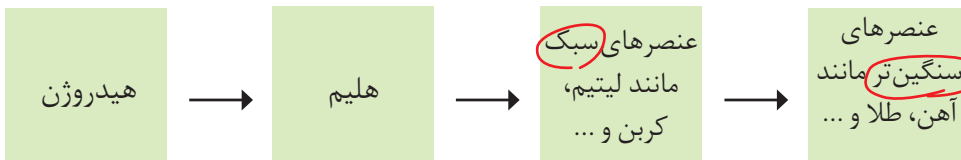

درون ستاره‌ها همانند خورشید در دماهای بسیار بالا، واکنش‌های هسته‌ای رخ می‌دهد؛ واکنش‌هایی که در آنها از عناصرهای سبک‌تر، عناصرهای سنگین‌تر پدید می‌آیند. جالب است

بدانید که **ستاره‌ها** متولد می‌شوند؛ رشد می‌کنند و زمانی می‌میرند. **هرگ ستاره اغلب با یک انفجار بزرگ همراه است** که سبب می‌شود عناصرهای تشکیل شده در آن در فضا پراکنده شود.

به همین دلیل باید ستارگان را کارخانه تولید عناصرها دانست (شکل ۲).

## آیا می‌دانید

دمای سطح خورشید به حدود  $6000^{\circ}\text{C}$  و دمای درون آن به حدود  $100000000^{\circ}\text{C}$  می‌رسد. در این ستاره به دلیل انجام واکنش‌های هسته‌ای در هر ثانیه  $5000,000,000$  کیلوگرم از جرم کاسته شده و به انرژی تبدیل می‌شود. آلبرت اینشتین رابطه  $E=mc^2$  را برای محاسبه انرژی تولید شده در واکنش‌های هسته‌ای ارائه کرد. در این رابطه،  $m$  جرم ماده برحسب کیلوگرم،  $c$  سرعت نور برحسب متر بر ثانیه  $(3 \times 10^8 \text{ ms}^{-1})$  و  $E$  انرژی آزاد شده برحسب ژول است. بر این اساس اگر در یک واکنش هسته‌ای  $0.024$  گرم ماده به انرژی تبدیل شود،  $2/16 \times 10^{11}$  ژول انرژی تولید خواهد شد. با این توصیف برآورد می‌شود که خورشید می‌تواند تا  $5000,000,000$  سال دیگر نورافشانی کند.



شکل ۲- روند تشکیل عناصرها **مقایسه انرژی مبادله شده در واکنش‌های هسته‌ای با واکنش‌های شیمیایی**

خورشید نزدیک‌ترین ستاره به زمین است که دمای بسیار بالایی دارد. انرژی گرمایی و نور خیره‌کننده خورشید به دلیل تبدیل هیدروژن به هلیوم در واکنش‌های هسته‌ای است، واکنش‌هایی که در آنها انرژی هنگفتی آزاد می‌شود. انرژی آزاد شده در واکنش هسته‌ای آن قدر زیاد است که می‌تواند صدها میلیون تن فولاد را ذوب کند. البته توجه داشته باشید که در واکنش‌های شیمیایی که در پدیده‌های طبیعی پیرامون ما و در زندگی روزانه رخ می‌دهند، مقدار انرژی مبادله شده بسیار کمتر است.

در یک نگاه کلی واکنش‌ها را می‌توان به دو دسته واکنش‌های هسته‌ای و شیمیایی تقسیم کرد:

- ✓ در واکنش‌های شیمیایی اتم جدیدی پدید نمی‌آید و می‌توان این دسته واکنش‌ها را تغییر آرایش اتم‌ها در نظر گرفت. در این دسته واکنش‌ها اصل پایستگی جرم صادق است و تقریباً در برنامه شیمی دبیرستان شما فقط با این دسته واکنش‌ها سروکار دارید.
- ✓ در واکنش‌های هسته‌ای، در طی انجام واکنش، عنصر یا عناصرهای جدیدی پدید می‌آید (سبک‌تر یا سنگین‌تر). در مورد این واکنش‌ها باید از اصل پایستگی جرم و انرژی استفاده کنید و اساساً قانون انیشتین ( $E=mc^2$ ) در مورد همین واکنش‌هاست. البته واکنش‌های هسته‌ای انواعی هم دارند که ضرورتی بر دانستن آنها برای شما وجود ندارد (پس نگران نباشید!!!).

عنصر: فقط از یک نوع اتم تشکیل شده است. برخی عناصرها تک‌اتمی (مثل فلزات) و برخی چنداتمی هستند مانند  $N_2$  و  $O_2$  ...

ترکیب: از دو یا بیش از دو نوع عنصر تشکیل شده است، مثلاً آب ( $H_2O$ ) از دو نوع عنصر (هیدروژن و اکسیژن) و سولفوریک‌اسید ( $H_2SO_4$ ) از سه نوع عنصر (هیدروژن، گوگرد و اکسیژن) تشکیل شده‌اند.

## آیا همه اتم‌های یک عنصر پایدارند؟

شیمی دان‌ها ماده‌ای را عنصر می‌نامند که از یک نوع اتم تشکیل شده باشد، برای نمونه  ${}^2He$  و  ${}^{24}Mg$  هلیوم عنصر به شمار می‌روند زیرا یک نمونه منیزیم حاوی اتم‌های منیزیم و یک نمونه هلیوم حاوی اتم‌های هلیوم است. چالب است بدانید بررسی‌ها نشان می‌دهد که اغلب در یک نمونه طبیعی از عنصری معین، اتم‌های سازنده، جرم یکسانی ندارند. برای مثال بررسی یک نمونه منیزیم نشان می‌دهد که جرم همه اتم‌های منیزیم در این نمونه یکسان نیست، بلکه مخلوطی از سه هم‌مکان (ایزوتوپ) است (شکل ۳). ۳ ایزوتوپ دارد

عدد اتمی یکسان، عدد جرمی متفاوت

## خود را بیازمایید

۱- می‌دانید که هر عنصر را با نماد ویژه‌ای نشان می‌دهند. در این نماد، شمار ذره‌های زیراتمی را نیز می‌توان مشخص کرد. هرگاه بدانید که اتمی از آهن ۲۶ پروتون و ۳۰ نوترون دارد، با توجه به الگوی زیر مشخص کنید که Z و A هر کدام، چه کمیتی را نشان می‌دهد؟

رتبه دوم فراوانی در ایزوتوپ‌های منیزیم

۵۶ ← عدد جرمی = A = مجموع پروتون‌ها و نوترون‌ها  
 ۲۶ ← عدد اتمی = Z = تعداد پروتون‌ها  
 n+p = ۵۶  
 p = ۲۶

نماد شیمیایی اتم آهن Fe

محل نوشته شدن عدد اتمی و عدد جرمی  
 سمت چپ نماد همگانی اتم‌ها (پایین و بالای ذره) است.

۲- با توجه به نماد ایزوتوپ‌های منیزیم (شکل ۳)، جدول زیر را کامل کنید.

ویژگی	A	Z	شمار الکترون	شمار نوترون
نماد ایزوتوپ				

دو رابطه بسیار مهم و مفید

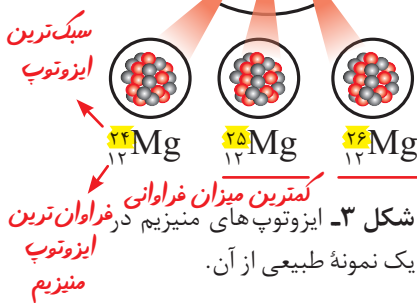
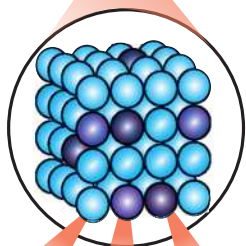

$$\Delta np : \text{اختلاف نوترون و پروتون} \quad \text{I) } Z = \frac{A - \Delta np}{2}$$

$$\Delta ne : \text{اختلاف نوترون و الکترون} \quad \text{II) } Z = \frac{A - \Delta ne + q}{2}$$

ایزوتوپ‌های یک عنصر دارای Z یکسان اما A متفاوت هستند، به دیگر سخن ایزوتوپ‌ها، اتم‌های یک عنصرند که در شمار نوترون‌ها با یکدیگر تفاوت دارند. از آنجا که خواص شیمیایی اتم‌های هر عنصر به عدد اتمی (Z) آن وابسته است؛ اتم‌های منیزیم همگی خواص شیمیایی یکسانی دارند و در جدول دوره ای عناصرها تنها یک مکان را اشغال می‌کنند؛ این در حالی است که همین ایزوتوپ‌ها در خواص فیزیکی وابسته به جرم، مانند چگالی با یکدیگر تفاوت دارند.

### نکته

- همواره در یک اتم تعداد نوترون‌ها بیش از پروتون‌ها یا حداقل مساوی پروتون‌هاست ( $n \geq p$ ) به جز در هسته فراوان‌ترین ایزوتوپ هیدروژن ( ${}^1H$ ) که فاقد نوترون بوده و در این اتم  $A = Z$  است.
- اختلاف تعداد الکترون و پروتون‌ها در یک ذره ( $\Delta pe$ )، همان بار ذره است. در یک کاتیون تعداد الکترون‌ها به اندازه بار یون کمتر از تعداد پروتون‌ها و در یک آنیون، تعداد الکترون‌ها بیش از پروتون‌ها است.



نماد E، حرف نخست واژه Element به معنای عنصر است.

ذره X را در نظر بگیرید:

$${}^A_Z X^q$$

(q: بار ذره)

شمارش ذرات زیراتمی این ذره به صورت زیر است:

- $Z =$  تعداد پروتون
- $A - Z =$  تعداد نوترون
- $Z - (q) =$  تعداد الکترون

مثال در یون:

$${}^{72}_{35} Br^{-}$$

تعداد پروتون = ۳۵  
 تعداد نوترون =  $A - Z = 72 - 35 = 37$   
 تعداد الکترون =  $Z - (q) = 35 - (-1) = 36$

سه ایزوتوپ ( $^1\text{H}$ ،  $^2\text{H}$  و  $^3\text{H}$ ) طبیعی و چهارتای دیگر ساختگی هستند.

دو ایزوتوپ ( $^1\text{H}$ ،  $^2\text{H}$ ) پایدار و بقیه از ( $^3\text{H}$  تا  $^7\text{H}$ ) ناپایدارند.

ترتیب فراوانی ایزوتوپ‌های هیدروژن:  $^1\text{H} > ^2\text{H} > ^3\text{H} > ^5\text{H} > ^6\text{H} > ^4\text{H} > ^7\text{H}$

هیدروژن ۷ ایزوتوپ دارد که:

## آیا می‌دانید

در میان ایزوتوپ‌های کربن،  $^{12}\text{C}$  خاصیت پرتوزایی دارد و با استفاده از آن سن اشیای قدیمی و عتیقه‌ها را تخمین می‌زنند؛ برای نمونه پژوهشگران می‌پنداشتند که کشور مصر مهد صنعت فرش‌بافی بوده است؛ اما با پیدا شدن فرش‌های به نام پازیریک (Pazyryk) در کوه‌های سیبری و تعیین قدمت آن با استفاده از  $^{14}\text{C}$  مشخص شد که این فرش به ۲۵۰۰ سال پیش تعلق دارد و مهد آن ایران بوده است.



در مورد هیدروژن از  $^3\text{H}$  تا  $^7\text{H}$

شرط دیگر پرتوزایی را می‌توان عدد اتمی ۸۴ و بزرگ‌تر از آن در نظر گرفت ( $Z \geq 84$ ). اما عنصرهایی هستند که هیچ یک از شرط‌ها را نداشته ولی پرتوزا هستند، مانند عنصر معروف تکنسیم ( $^{99}\text{Tc}$ ) که در آن عدد اتمی (۴۳) کوچک‌تر از ۸۴ بوده و نسبت تعداد نوترون‌ها به پروتون‌ها نیز کمتر از ۱/۵ است.

$$\frac{n}{p} = \frac{99 - 43}{43} = \frac{56}{43} = 1/3$$

البته می‌توان شرط فوق را به صورت زیر هم نوشت (اثبات با شما)

$$\frac{A}{Z} \geq 2/5$$

نسبت شمار نوترون به پروتون در سنگین‌ترین ایزوتوپ طبیعی هیدروژن کدام است؟ (تجربی ۹۸)

پاسخ: در  $^3\text{H}$  این نسبت برابر ۲ است.

## نکته

با هم بیندیشیم.  $^3\text{H}$  را باید فراوان‌ترین ایزوتوپ ناپایدار هیدروژن دانست.

۱- داده‌های جدول زیر را به دقت بررسی کنید؛ سپس به پرسش‌های مطرح شده پاسخ دهید.

نماد ایزوتوپ	$^1\text{H}$	$^2\text{H}$	$^3\text{H}$	$^4\text{H}$	$^5\text{H}$	$^6\text{H}$	$^7\text{H}$
ویژگی ایزوتوپ							
نیم عمر	پایدار	پایدار	۱۲/۳۲ سال	$1/4 \times 10^{-22}$ ثانیه	$9/1 \times 10^{-22}$ ثانیه	$2/9 \times 10^{-22}$ ثانیه	$2/3 \times 10^{-22}$ ثانیه
درصد فراوانی در طبیعت	۹۹/۹۸۸۵	۰/۰۱۱۴	ناچیز	(ساختگی)	(ساختگی)	(ساختگی)	(ساختگی)

عدد اتمی - تعداد الکترون - خواص شیمیایی عدد جرمی و تعداد نوترون‌ها و برخی خواص فیزیکی وابسته به جرم (آ) چه شباهت‌ها و چه تفاوت‌هایی میان این ایزوتوپ‌ها وجود دارد؟

(ب) یک نمونه طبیعی از عنصر هیدروژن، مخلوطی از چند ایزوتوپ است؟

(پ) نیم عمر هر ایزوتوپ نشان می‌دهد که آن ایزوتوپ تا چه اندازه پایدار است. کدام ایزوتوپ هیدروژن از همه ناپایدارتر است؟ (نیم عمر کمتری دارد)

(ت) هسته ایزوتوپ‌های ناپایدار، ماندگار نیست و با گذشت زمان متلاشی می‌شود. این ایزوتوپ‌ها پرتوزا هستند و اغلب بر اثر تلاشی افزون بر ذره‌های پرانرژی، مقدار زیادی انرژی نیز آزاد می‌کنند. انتظار دارید چند ایزوتوپ هیدروژن پرتوزا باشد؟

(ث) اغلب هسته‌هایی که نسبت شمار نوترون‌ها به پروتون‌های آنها برابر یا بیش از ۱/۵ باشد، ناپایدارند و با گذشت زمان متلاشی می‌شوند. چند ایزوتوپ هیدروژن دارای این ویژگی است؟

(ج) اگر ایزوتوپ‌های پرتوزا و ناپایدار، رادیوایزوتوپ نامیده شود، چه تعداد از ایزوتوپ‌های هیدروژن، رادیوایزوتوپ به شمار می‌رود؟

(چ) درصد فراوانی  $^2\text{H}$  هر ایزوتوپ در طبیعت نشان دهنده چیست؟ توضیح دهید.

۲- شکل زیر شمار تقریبی اتم‌های لیتیم را در یک نمونه طبیعی از آن نشان می‌دهد. با توجه به آن، درصد فراوانی هر یک از ایزوتوپ‌های لیتیم را حساب کنید.



در عنصر لیتیم، ایزوتوپ سنگین‌تر ( $^7\text{Li}$ ) فراوان‌تر است.

۱- Radioisotope

۲- Fractional Abundance

در جدول دوره‌های موجود در کتاب درسی، تنها عنصری که فاقد جرم اتمی میانگین است، عنصر تکنسیم است.



● نمونه‌ای از یک مولد رادیو ایزوتوپ تکنسیم

● هنگام عکس‌برداری از دندان‌ها در رادیولوژی باید با استفاده از پوشش‌های سربی از غده تیروئید در برابر پرتوهای پرنرژی و خطرناک محافظت کرد.

● از تکنسیم ( $^{99}\text{Tc}$ ) برای تصویربرداری غده تیروئید استفاده می‌شود زیرا یون  $^{99}\text{Tc}$  پدید یابونی که حاوی  $^{99}\text{Tc}$  است، اندازه مشابهی دارد و غده تیروئید هنگام جذب پدید، این یون را نیز جذب می‌کند. با افزایش مقدار این یون در غده تیروئید، امکان تصویربرداری فراهم می‌شود.

توجه: اندازه یون حاوی تکنسیم با یون  $\text{I}^-$  برابر است، بنابراین برای اندازه یون تکنسیم با یون پدید عبارتی نادرست است.

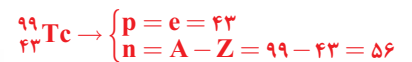
● اولین عنصر پرتوزا ساخته شده در آزمایشگاه.

● شناخته‌شده‌ترین فلز پرتوزا.  $^{99}_{43}\text{Tc}$   $^{235}\text{U}$

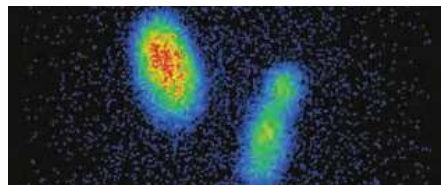
### تکنسیم، نخستین عنصر ساخت بشر معادل ۷۸٪

از ۱۱۸ عنصر شناخته شده، تنها ۹۲ عنصر در طبیعت یافت می‌شود؛ این بدان معنا است که ۲۶ عنصر دیگر ساختگی است. شیمی‌دان‌ها همواره با یافتن کاربردهای منحصر به فرد هر عنصر، انگیزه کافی برای ساختن عنصرهای جدید را داشته‌اند. تکنسیم ( $^{99}\text{Tc}$ ) نخستین عنصری بود که در واکنشگاه (راکتور) هسته‌ای ساخته شد. این رادیوایزوتوپ در تصویربرداری پزشکی کاربرد ویژه‌ای دارد (شکل ۴).

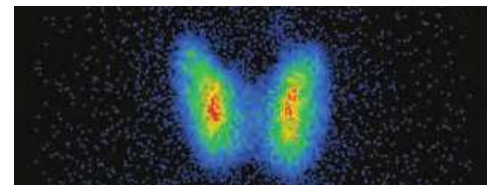
که اتم با خاصیت پرتوزایی



(آ)



(پ)



(ب)

شکل ۴- آ) غده پروانه‌ای شکل تیروئید در بدن انسان (ب) تصویر غده تیروئید سالم

(پ) تصویر غده تیروئید ناسالم

این عنصر در طبیعت وجود ندارد

همه  $^{99}\text{Tc}$  موجود در جهان باید به طور مصنوعی و با استفاده از واکنش‌های هسته‌ای ساخته شود. از آنجا که نیم عمر آن کم است و نمی‌توان مقادیر زیادی از این عنصر را تهیه و برای مدت طولانی نگهداری کرد، بسته به نیاز، آن را با یک مولد هسته‌ای تولید و سپس مصرف می‌کنند.

### ما می‌توانیم

رادیوایزوتوپ‌ها اگرچه بسیار خطرناک هستند، اما پیشرفت دانش و فناوری، بشر را موفق به مهار و بهره‌گیری از آنها کرده است، به طوری که از آنها در پزشکی، کشاورزی و سوخت در نیروگاه‌های اتمی استفاده می‌شود. اورانیوم شناخته‌شده‌ترین فلز پرتوزایی است که یکی از ایزوتوپ‌های آن، اغلب به عنوان سوخت در راکتورهای اتمی به کار می‌رود (شکل ۵).

$^{235}\text{U}$



شکل ۵- یکی از کاربردهای مواد پرتوزا، استفاده از آنها در تولید انرژی الکتریکی است.

● کیمیاگری (تبدیل عنصرهای دیگر به طلا) آرزوی دیرینه بشر بوده است. با پیشرفت علم شیمی و فیزیک، انسان می‌تواند طلا تولید کند اما هزینه تولید آن به اندازه‌ای زیاد است که صرفه اقتصادی ندارد.

این ایزوتوپ،  $^{235}\text{U}$  بوده که فراوانی آن در مخلوط طبیعی از ۰/۷ درصد کمتر است. دانشمندان هسته‌ای ایران با تلاش بسیار موفق شدند مقدار آن را در مخلوط ایزوتوپ‌های این عنصر افزایش دهند. به این فرایند، غنی‌سازی ایزوتوپی گفته می‌شود؛ فرایندی که یکی از مراحل مهم چرخه تولید سوخت هسته‌ای است. با این کامیابی ستودنی، نام ایران در فهرست ده گانه کشورهای هسته‌ای جهان ثبت شد. با گسترش این صنعت می‌توان بخشی از انرژی الکتریکی مورد نیاز کشور را تأمین نمود (شکل ۶).



## آیا می‌دانید

$^{59}\text{Fe}$  یک رادیوایزوتوپ است و در تصویربرداری از دستگاه گردش خون به کار می‌رود زیرا یون‌های آن در ساختار هموگلوبین وجود دارند.



بنابراین برخی از ایزوتوپ‌های شکل ۶- برخی رادیوایزوتوپ‌های تولید شده در ایران فسفر نیز دارای خاصیت پرتوزایی هستند.

اما جالب است بدانید که پسماند راکتورهای اتمی هنوز خاصیت پرتوزایی دارد و خطرناک است؛ از این رو دفع آنها از جمله چالش‌های صنایع هسته‌ای به شمار می‌آید.



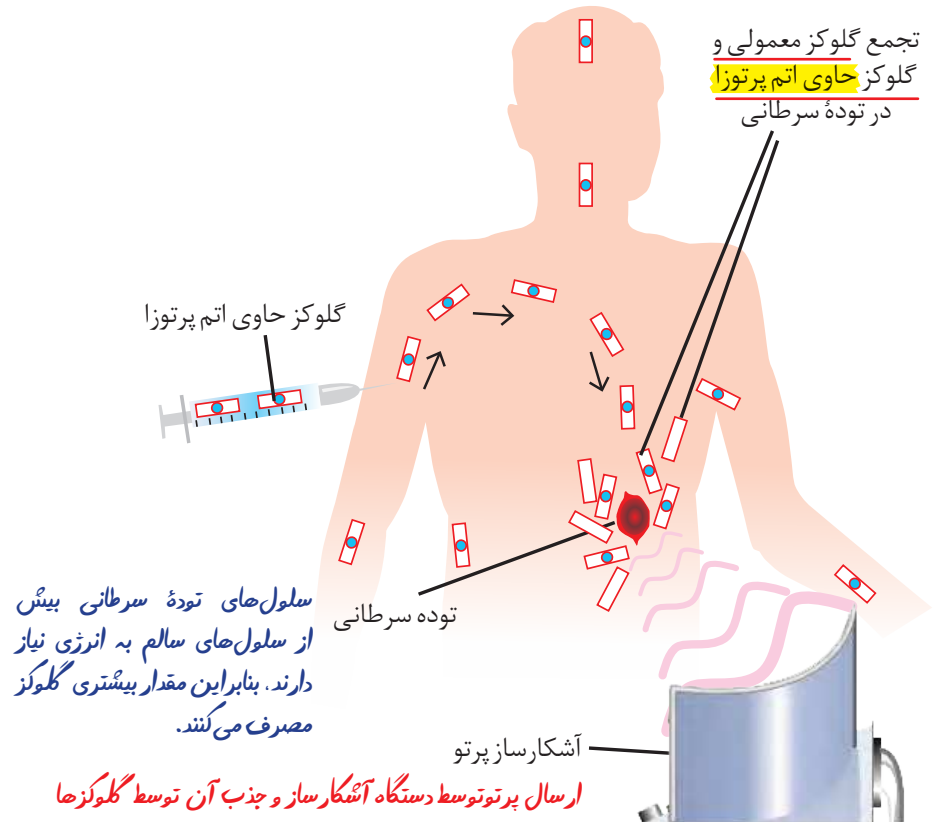
## با هم ببیندیشیم

● به گلوکز حاوی اتم پرتوزا، گلوکز نشان دار می گویند.



● دود سیگار و قلیان، مقدار قابل توجهی مواد پرتوزا دارد. از این رو اغلب افرادی که به سرطان ریه دچار می شوند، سیگاری هستند.

بنابراین مصرف انرژی بیشتری نیز دارند. توده های سرطانی، یاخته هایی هستند که رشد غیرعادی و سریع تری دارند. شکل زیر اساس استفاده از رادیوایزوتوپ ها را برای تشخیص نوعی توده سرطانی نشان می دهد. با بررسی آن، فرایند تشخیص بیماری را توضیح دهید.



## آیا می دانید

پژوهش ها نشان می دهد که مقدار بسیار کمی از مواد پرتوزا در همه جا یافت می شود. البته میزان پرتوهای تابش شده بسیار اندک است و به طور معمول بر سلامت ما اثری نمی گذارد. یکی از فراوان ترین مواد پرتوزا که در زندگی ما یافت می شود، گاز رادون است. رادون، بی رنگ، بی بو، بی مزه و سنگین ترین گاز نجیب موجود در طبیعت است. این گاز پیوسته در لایه های زیرین زمین در واکنش های هسته ای تولید می شود و به دلیل دما و فشار زیاد در آن لایه ها به منافذ و ترک های موجود در سنگ های سازنده پوسته زمین نفوذ می کند.

### مزایای طبقه بندی

طبقه بندی کردن یکی از مهارت های پایه در یادگیری مفاهیم علمی است که بررسی و تحلیل را آسان تر می کند. در واقع با استفاده از طبقه بندی، یافته ها و داده ها را به شیوه مناسبی سازماندهی می کنند تا بتوان سریع تر و آسان تر به اطلاعات دسترسی یافت. در درس علوم با اساس طبقه بندی عنصرها، مواد و جانداران آشنا شدید. شیمی دان ها نیز ۱۱۸ عنصر شناخته شده را بر اساس یک معیار و ملاک در جدولی با چیدمانی ویژه کنار هم قرار داده اند (شکل ۷). این جدول به آنها کمک می کند تا اطلاعات ارزشمندی از ویژگی های عنصرها را به دست آورند و بر اساس آن، رفتار عنصرهای گوناگون را پیش بینی کنند.

تعداد عنصرهای هر دوره جدول را به خاطر بسپارید:

\* دوره (تناوب) اول: ۲ عنصر

\* دوره (تناوب) دوم و سوم: ۸ عنصر

\* دوره (تناوب) چهارم و پنجم: ۱۸ عنصر

\* دوره (تناوب) ششم و هفتم: ۳۲ عنصر

# جدول دوره‌ای عنصرها

هست عنصر که با دایره نشان داده شده‌اند، شبه فلز محسوب می‌شوند و مانند مرزی بین فلزات (سمت چپ جدول) و نافلزات (سمت راست) قرار گرفته‌اند.

			۱۳	۱۴	۱۵	۱۶	۱۷	۱۸
			B بور ۱۰,۸۰	C کربن ۱۲,۰۱	N نیتروژن ۱۴,۰۱	O اکسیژن ۱۶,۰۰	F فلوئور ۱۹,۰۰	He هلیوم ۴,۰۰۲
			Al آلمینیم ۲۶,۹۸	Si سیلیسیم ۲۸,۰۹	P فسفر ۳۰,۹۷	S گوگرد ۳۲,۰۷	Cl کلر ۳۵,۴۵	Ar آرگون ۳۹,۹۵
۱۰	۱۱	۱۲	Ga گالیم ۶۹,۷۲	Ge ژرمانیم ۷۲,۶۴	As آرسنیک ۷۴,۹۲	Se سلنیم ۷۸,۹۶	Br برم ۷۹,۹۰	Kr کریپتون ۸۳,۸۰
۲۸ Ni نیکل ۵۸,۶۹	۲۹ Cu مس ۶۳,۵۵	۳۰ Zn روی ۶۵,۳۹	In ایندیم ۱۱۴,۸۰	Sn قلع ۱۱۸,۷۰	Sb آنتیموان ۱۲۱,۸۰	Te تلوریم ۱۲۷,۶۰	I ید ۱۲۶,۹۰	Xe زنون ۱۳۱,۳۰
۴۶ Pd پالادیم ۱۰۶,۴۰	۴۷ Ag نقره ۱۰۷,۹۰	۴۸ Cd کادمیم ۱۱۲,۴۰	Tl تالیوم ۲۰۴,۳۰	Pb سرب ۲۰۷,۲۰	Bi بیسموت ۲۰۹,۰۰	Po پولونیم [۲۰۹]	At استاتین [۲۱۰]	Rn رادون [۲۲۲]
۷۸ Pt پلاتین ۱۹۵,۱	۷۹ Au طلا ۱۹۷,۰۰	۸۰ Hg جیوه ۲۰۰,۶۰	Nh نیهونیم [۲۸۴]	Fl فلرویم [۲۸۹]	Mc مسکوویوم [۲۸۸]	Lv لیورموریم [۲۹۳]	Ts تسنیه [۲۹۶]	Og اوگانسون [۲۹۴]

بیشترین عدد اتمی جدول

بیشترین عدد جرمی جدول

۶۳ Eu اوروپیم ۱۵۲,۰۰	۶۴ Gd گادولینیم ۱۵۷,۳۰	۶۵ Tb تریبیم ۱۵۸,۹۰	۶۶ Dy دیسپروزیم ۱۶۲,۵۰	۶۷ Ho هولمیم ۱۶۴,۹۰	۶۸ Er اربیم ۱۶۷,۳۰	۶۹ Tm تولیم ۱۶۸,۹۰	۷۰ Yb ایتریبیم ۱۷۳,۰۰
۹۵ Am امریسیم [۲۴۳]	۹۶ Cm کوریم [۲۴۷]	۹۷ Bk برکلیم [۲۴۷]	۹۸ Cf کالیفرنیم [۲۵۱]	۹۹ Es اینشتینیم [۲۵۲]	۱۰۰ Fm فرمیم [۲۵۷]	۱۰۱ Md مندلیوم [۲۵۸]	۱۰۲ No نوبلیوم [۲۵۹]

دو ردیف ۱۴ عنصری متعلق به دوره ششم و هفتم جدول (لانانیدها و اکتینیدها)

شکل ۷- جدول دوره‌ای عنصرها. در این جدول هر عنصر با نماد یک یا دو حرفی نشان داده شده است. در هر نماد، حرف اول نام لاتین عنصر به صورت بزرگ نوشته می‌شود؛ برای نمونه نماد سه عنصر آلومینیم، آرگون و طلا به ترتیب Al، Ar و Au است که همگی با حرف A آغاز می‌شود.

حرف دوم به صورت کوچک نوشته می‌شود. مثلاً نماد عنصر کبالت Co است و در صورتی که حرف دوم (اکسیژن) به صورت بزرگ نوشته شود (CO) فرمول شیمیایی کربن مونوکسید خواهد بود.

عدد اتمی — ۱  
 نام — هیدروژن  
 نماد شیمیایی — H  
 جرم اتمی میانگین — ۱/۰۰۸

تنها هسته فاقد نوترون

نکته  
 عنصری که در دوره n جدول قرار دارد (n تا ۱ تا ۷) n لایه اشغال شده از الکترون دارد.

عنصرهای واسطه یک مستطیل ۴۰ عنصری در جدول را تشکیل داده. همگی فلز بوده و از دوره چهارم جدول آغاز می شوند. (گروه ۳ تا ۱۲)

۱	۱ H هیدروژن ۱,۰۰۸	۲							
۲	۳ Li لیتیم ۶,۹۴	۴ Be بریلیم ۹,۰۱							
۳	۱۱ Na سدیم ۲۲,۹۹	۱۲ Mg منیزیم ۲۴,۳۱							
۴	۱۹ K پتاسیم ۳۹,۱۰	۲۰ Ca کلسیم ۴۰,۰۸	۲۱ Sc اسکاندیم ۴۴,۹۶	۲۲ Ti تیتانیم ۴۷,۸۷	۲۳ V وانادیم ۵۰,۹۴	۲۴ Cr کروم ۵۲,۰۰	۲۵ Mn منگنز ۵۴,۹۴	۲۶ Fe آهن ۵۵,۸۵	۲۷ Co کبالت ۵۸,۹۳
۵	۳۷ Rb روبیدیم ۸۵,۴۷	۳۸ Sr استرانسیم ۸۷,۶۲	۳۹ Y ایتیریم ۸۸,۹۱	۴۰ Zr زیرکونیم ۹۱,۲۲	۴۱ Nb نیوبیم ۹۲,۹۱	۴۲ Mo مولیبدن ۹۵,۹۴	۴۳ Tc تکنسیم -	۴۴ Ru روتنیم ۱۰۱,۱	۴۵ Rh رودیم ۱۰۲,۹۰
۶	۵۵ Cs سزیم ۱۳۲,۹	۵۶ Ba باریم ۱۳۷,۳	۷۱ Lu لوتسیم ۱۷۵,۰۰	۷۲ Hf هافنیم ۱۷۸,۵	۷۳ Ta تانтал ۱۸۰,۹۰	۷۴ W تنگستن ۱۸۳,۸۰	۷۵ Re رینیم ۱۸۶,۲۰	۷۶ Os اسمیم ۱۹۰,۲۰	۷۷ Ir ایریدیم ۱۹۲,۲۰
۷	۸۷ Fr فرانسیم [۲۲۳]	۸۸ Ra رادیم [۲۲۶]	۱۰۳ Lr لورنسیم [۲۶۲]	۱۰۴ Rf رادرفوردیم [۲۶۷]	۱۰۵ Db دانبیم [۲۶۸]	۱۰۶ Sg سیبورگیوم [۲۷۱]	۱۰۷ Bh بوریم [۲۷۲]	۱۰۸ Hs هاسیم [۲۷۷]	۱۰۹ Mt مایتنریم [۲۷۶]

به این دو ناحیه و متوالی نبودن عدد اتمی دو عنصر سمت چپ و راست آن توجه کنید (دوره ششم و هفتم) حالا به اعداد اتمی دو ردیف پایین جدول (لانتانیدها و اکتینیدها) نگاه کنید... جالب نیست؟!

۵۷ La لانتان ۱۳۸,۹۰	۵۸ Ce سریوم ۱۴۰,۱۰	۵۹ Pr پراسئودیمیم ۱۴۰,۹۰	۶۰ Nd نئودیمیم ۱۴۴,۲۰	۶۱ Pm پرومتیم [۱۴۵]	۶۲ Sm ساماریوم ۱۵۰,۴۰
۸۹ Ac اکتینیم [۲۲۷]	۹۰ Th توریم ۲۳۲,۰۰	۹۱ Pa پروتاکتینیم ۲۳۱,۰۰	۹۲ U اورانیم ۲۳۸,۰۰	۹۳ Np نپتونیم [۲۳۷]	۹۴ Pu پلوتونیم [۲۴۴]



هر ستون جدول تناوبی، شامل عنصرهایی با خواص فیزیکی و شیمیایی یکسان است و گروه نامیده می‌شود. (ریاضی ۹۹)

**پاسخ:** نادرست. (فقط خواص شیمیایی مشابه)

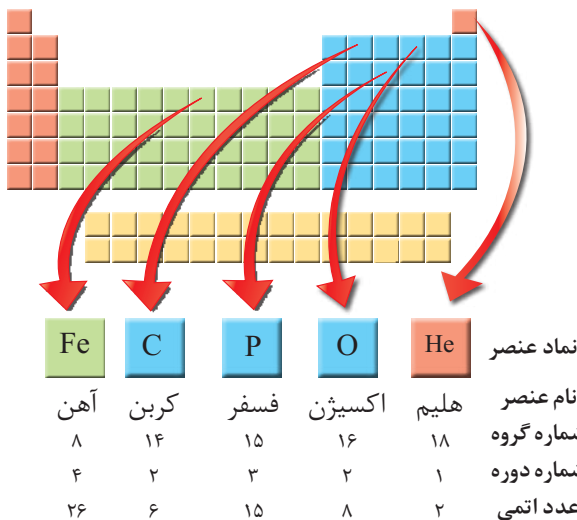
در جدول دوره‌ای<sup>۱</sup> (تناوبی) امروزی، عنصرها بر اساس افزایش عدد اتمی<sup>۲</sup> سازماندهی شده‌اند، به طوری که جدول دوره‌ای عنصرها از عنصر هیدروژن با عدد اتمی یک ( $Z=1$ ) آغاز و به عنصر شماره ۱۱۸ ختم می‌شود. این جدول، ۷ دوره<sup>۳</sup> و ۱۸ گروه<sup>۴</sup> دارد. هر ردیف افقی جدول، که نشان دهندهٔ چیدمان عنصرها بر حسب افزایش عدد اتمی است، دوره نام دارد؛ در حالی که هر ستون، شامل عنصرها با خواص شیمیایی مشابه است و گروه نامیده می‌شود. بدیهی است خواص شیمیایی عنصرهایی که در یک دوره از جدول جای دارند، متفاوت است. با پیمایش هر دوره از چپ به راست، خواص عنصرها به‌طور مشابه تکرار می‌شود؛ از این رو چنین جدولی را جدول دوره‌ای (تناوبی) عنصرها نامیده‌اند.

هر خانه از جدول به یک عنصر معین تعلق دارد و حاوی برخی اطلاعات شیمیایی آن عنصر است. برای نمونه خانه شمارهٔ هفت به عنصر نیتروژن تعلق دارد که اطلاعات آن به صورت زیر است:


۱) عدد اتمی  
۲) نماد شیمیایی  
۳) نام  
۴) جرم اتمی میانگین (نه عدد جرمی)

مواردی که در هر خانه جدول نمایش داده می‌شود.

نمادها، داده‌های عددی و خلاصه‌نویسی‌ها در جدول دوره‌ای، اطلاعات مفیدی دربارهٔ عنصرها ارائه می‌کند. با استفاده از این نشانه‌ها و فراگیری مهارت استفاده از جدول می‌توان اطلاعاتی مانند شمارهٔ گروه، دوره، شمار ذره‌های زیراتمی و... را برای یک عنصر به‌دست آورد (شکل ۸).



شکل ۸- ارائهٔ اطلاعات برخی عنصرها با استفاده از جدول دوره‌ای و داده‌های آن



۱- Periodic Table

۲- Atomic Number

۳- Period

۴- Group

## در میان تارنماها

با مراجعه به منابع علمی معتبر مانند وبگاه «انجمن شیمی ایران» و وبگاه «آیوپاک» دربارهٔ دسته‌بندی عنصرها به روش‌های دیگر، اطلاعاتی جمع‌آوری و به کلاس گزارش کنید.

## خود را بیازمایید

۱- با استفاده از جدول دوره‌ای، موقعیت (دوره و گروه) عنصرهای آلومینیم ( $Al$ )، کلسیم ( $Ca$ )، منگنز ( $Mn$ ) و سلنیم ( $Se$ ) را تعیین کنید.

۲- هلیوم ( $He$ )، عنصری است که تمایل به انجام واکنش شیمیایی ندارد. پیش‌بینی کنید کدام یک از عنصرهای زیر رفتاری مشابه با آن دارد؟ چرا؟

فقط یک آنیون آ)  $Ar$  ۱۸ گاز نجیب دوره ۳، گروه ۱۸ (ب)  $C$  ۶ نافلز دوره ۲، گروه ۱۴ (پ)  $S$  ۱۶ نافلز دوره ۳، گروه ۱۶ دارد ( $F^-$ ) ۳- اتم فلئور ( $F$ ) در ترکیب با فلزها به یون فلئورید ( $F^-$ ) تبدیل می‌شود. اتم کدام یک از عنصرهای زیر می‌تواند آنیونی با بار الکتریکی همانند یون فلئورید تشکیل دهد؟ چرا؟

فقط یک آ)  $Rb$  ۳۷ فلز گروه ۱،  $Rb^+$  (ب)  $Br$  ۳۵ نافلز گروه ۱۷،  $Br^-$  (پ)  $P$  ۱۵ نافلز گروه ۱۵،  $P^{3-}$  (یون فسفید) کاتیون دارد یون با آرایش گاز نجیب از اتم آلومینیم ( $Al$ )، یون پایدار  $Al^{3+}$  شناخته شده است. پیش‌بینی کنید اتم کدام یک از عنصرهای زیر می‌تواند به کاتیونی مشابه  $Al^{3+}$  در ترکیب‌ها تبدیل شود؟

آ)  $K$  ۱۹ فلز گروه ۱،  $K^+$  (ب)  $Ga$  ۳۱ فلز گروه ۱۳،  $Ga^{3+}$  (پ)  $N$  ۷ نافلز گروه ۱۵،  $N^{3-}$  (یون نیتريد)


## آیا می‌دانید

آیوپاک (IUPAC)، اتحادیهٔ بین‌المللی شیمی محض و کاربردی است که یکاها، نمادها، قراردادهای قواعد فرمول‌نویسی و نام‌گذاری و... را ارائه می‌کند. جدول دوره‌ای عنصرها نیز به تأیید آیوپاک رسیده است.



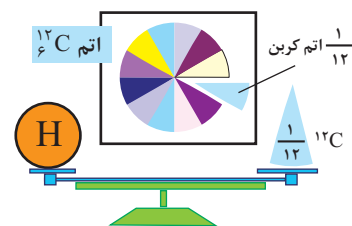
## جرم اتمی عنصرها

می‌دانید که جرم اجسام گوناگون را بسته به اندازه و نوع آنها با ترازوهای متفاوتی اندازه‌گیری می‌کنند (شکل ۹).



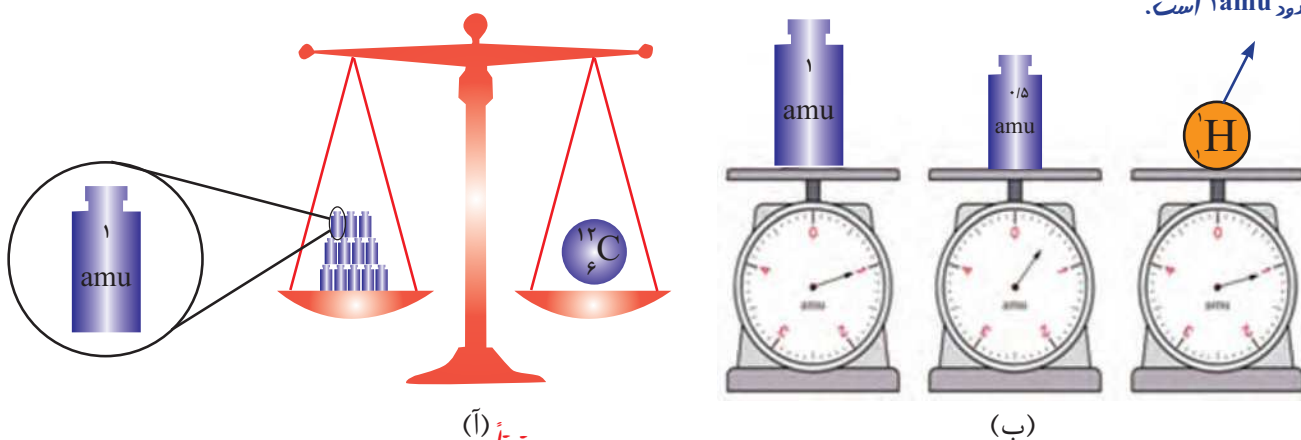
شکل ۹- جرم یک کامیون را با باسکول و یکای تن، جرم هندوانه را با ترازوی معمولی و یکای کیلوگرم و جرم طلا را با ترازوهای دقیق‌تر و یکای گرم می‌سنجند.

با این توصیف، ترازوهایی که برای اندازه‌گیری جرم مواد گوناگون به کار می‌رود، دقت اندازه‌گیری متفاوتی دارند؛ برای نمونه، دقت باسکول‌های تنی تا یک صدم تن و دقت ترازوی زرگری تا یک صدم گرم است. با استفاده از باسکول چند تنی نمی‌توان جرم یک هندوانه را اندازه‌گیری کرد؛ زیرا جرم هندوانه از دقت اندازه‌گیری این ترازو کمتر است. آیا می‌توان جرم یک دانه برنج را با ترازوی معمولی اندازه‌گیری کرد؟ **خیر- لازم است که جرم ماده مورد نظر از دقت ترازو بیشتر باشد.** دانشمندان برای اینکه بتوانند خواص فیزیکی و شیمیایی هر ماده را در محیطی مانند بدن انسان، محیط زیست، محیط آزمایش و... بررسی و اثر آن را گزارش کنند، باید بدانند که چه جرمی از اتم‌ها یا مولکول‌های آن ماده وارد محیط شده است؛ از این رو آنها همواره در پی یافتن **سنجه‌ای مناسب** و در دسترس برای اندازه‌گیری جرم اتم‌ها بوده‌اند.



اتم‌ها بسیار ریزند به طوری که **نمی‌توان** آنها را به طور مستقیم مشاهده و جرم آنها را اندازه‌گیری کرد؛ به همین دلیل دانشمندان **مقیاس جرم نسبی** را برای تعیین جرم اتم‌ها به کار می‌برند. مطابق این مقیاس، جرم اتم‌ها را با **وزنه‌ای** می‌سنجند که جرم آن  $\frac{1}{12}$  جرم ایزوتوپ کربن-12 است (شکل ۱۰). به این **وزنه، یکای جرم اتمی<sup>۱</sup> (amu)** می‌گویند.

بنابراین جرم سبک‌ترین اتم حدود 1 amu است.



شکل ۱۰- (آ) اگر جرم یک ایزوتوپ کربن-12 را برابر با عدد 12 در نظر بگیریم، سپس این عدد را به 12 بخش یکسان تقسیم کنیم، هر بخش را 1 amu می‌نامند؛ به این ترتیب مقیاسی به دست می‌آید که به کمک آن می‌توان جرم همه اتم‌ها را اندازه‌گیری کرد. (ب) اگر در این ترازوی فرضی به جای ایزوتوپ کربن-12، اتم هیدروژن قرار گیرد، جرم 1/008 amu به دست می‌آید.

● یکای جرم اتمی را با نماد u نیز نشان می‌دهند. برای نمونه جرم اتمی میانگین هیدروژن برابر با 1/008 amu یا 1/008 u است.

با تعریف amu، شیمی‌دان‌ها موفق شدند جرم اتمی دیگر عناصر و همچنین جرم ذره‌های زیراتمی را اندازه‌گیری کنند. در این مقیاس جرم پروتون و نوترون در حدود 1 amu بوده در حالی که جرم الکترون ناچیز و در حدود  $\frac{1}{2000}$  amu است (جدول ۱).

اندکی بیش از 1 amu (ریاضی ۹۹)

1- Atomic Mass Unit

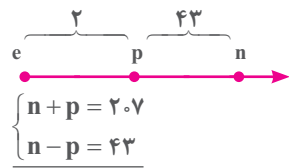
**نکته**  
یک amu، جرمی معادل  $1/66 \times 10^{-24}$  گرم دارد. این عدد جرم یک اتم هیدروژن است که از تقسیم عدد 1 بر عدد آووگادرو ( $6/02 \times 10^{23}$ ) به دست می‌آید.

**حالت اول** - اگر اختلاف نوترون و الکترون ( $\Delta ne$ ) مطرح شده در متن سؤال بیش از قدر مطلق بار یون باشد، آنگاه تعداد نوترون‌ها بیش از تعداد الکترون‌هاست ( $n > e$ ).

**حالت دوم** - اگر  $\Delta ne$  مطرح شده در متن سؤال کمتر از قدر مطلق بار یون باشد، آنگاه  $n > e$  است.

**حالا بریم سراغ حل این تست:**

در این سؤال اختلاف مطرح شده در سؤال در مورد شمار الکترون‌ها و نوترون‌ها ( $\Delta ne$ ) از قدر مطلق بار یون (۲) بزرگ‌تر است، پس  $n > e$ . اختلاف تعداد پروتون و الکترون‌ها که همان قدر مطلق بار یون است نیز برابر ۲ است. همچنین در یک کاتیون تعداد پروتون‌ها بیش از تعداد الکترون‌هاست. همه این موارد را می‌توان روی نمودار ساده زیر نشان داد و خیلی راحت اختلاف تعداد نوترون‌ها و پروتون‌ها را محاسبه کرد.



بنابراین:

$$2n = 250 \rightarrow n = 125 \rightarrow p = Z = 82$$

عدد اتمی عنصر M بین عدد اتمی دو گاز نجیب دوره پنجم ( $Xe_{86}$ ) و ششم ( $Rn_{86}$ ) قرار دارد. بنابراین M عنصری از دوره ششم است. برای محاسبه شماره گروه این عنصر اختلاف عدد اتمی M و گاز نجیب هم‌دوره خود را از عدد ۱۸ کم می‌کنیم.

$$86 - 82 = 4$$

$$M \text{ شماره گروه} = 18 - 4 = 14$$

**پاسخ تست ۱** (۴) (۳) (۲) (۱)

**۲.** کلر در طبیعت دارای دو ایزوتوپ با جرم اتمی  $35 \text{amu}$  و  $37 \text{amu}$  و کربن دارای دو ایزوتوپ با جرم اتمی  $12 \text{amu}$  و  $13 \text{amu}$  است. تفاوت جرم مولکولی سبک‌ترین و سنگین‌ترین مولکول کربن تتراکلرید، چند  $\text{amu}$  است؟ (ریاضی ۹۴)

(۱) ۶ (۲) ۷ (۳) ۸ (۴) ۹

**تحلیل سؤال**

سبک‌ترین مولکول کربن تتراکلرید ( $CCl_4$ )، مولکولی است که در آن از سبک‌ترین اتم‌های کربن و کلر استفاده کنید.

$$CCl_4 \text{ سبک‌ترین} = (1 \times 12) + (4 \times 35) = 152 \text{amu}$$

به همین ترتیب جرم سنگین‌ترین مولکول کربن تتراکلرید را محاسبه می‌کنیم:

$$CCl_4 \text{ سنگین‌ترین} = (1 \times 13) + (4 \times 37) = 161 \text{amu}$$

بنابراین:

$$161 - 152 = 9 \text{amu} = \text{اختلاف جرم مورد نظر}$$

**پاسخ تست ۱** (۴) (۳) (۲) (۱)

۱. کدام عبارت درست است؟ (ریاضی ۹۶)

(۱) در ایزوتوپ‌های هیدروژن، با افزایش جرم، الزاماً نیم‌عمر کاهش نمی‌یابد.

(۲) در یون  ${}^7_3\text{Li}^+$ ، شمار الکترون‌ها برابر شمار نوترون‌ها است.

(۳) بیشتر اتم‌های کلر را ایزوتوپ‌های سنگین‌تر آن تشکیل می‌دهند.

(۴) اگر جرم اتم عنصری  $2/33$  برابر جرم اتم  ${}^{12}_6\text{C}$  باشد، جرم اتمی آن  $16 \text{amu}$  است.

**تحلیل سؤال**

ترتیب نیم‌عمر ایزوتوپ‌های هیدروژن به صورت زیر است:



برای مثال نیم‌عمر ایزوتوپ  ${}^5_1\text{H}$  بیش از  ${}^4_1\text{H}$  است.

دلایل رد سایر گزینه‌ها:

گزینه (۲):

$${}^7_3\text{Li}^+ \rightarrow \begin{cases} n = A - Z = 7 - 3 = 4 \\ e = Z - (q) = 3 - (+1) = 2 \end{cases}$$

گزینه (۳): شکل پایین صفحه ۱۵ کتاب نشان می‌دهد که در یک نمونه طبیعی از کلر، ایزوتوپ سبک‌تر ( ${}^{35}\text{Cl}$ ) دارای فراوانی  $75/8\%$  و ایزوتوپ سنگین‌تر ( ${}^{37}\text{Cl}$ )  $24/2\%$  فراوانی دارند.

گزینه (۴): با توجه به اینکه جرم اتم کربن  $12$ ، دقیقاً برابر  $12 \text{amu}$  است:

$$\frac{\text{جرم اتم مورد نظر}}{{}^{12}_6\text{C}} = 2/33 \rightarrow$$

$$\text{جرم عنصر مورد نظر} = 12 \times 2/33 = 28 \text{amu}$$

**پاسخ تست ۱** (۴) (۳) (۲) (۱)

**۲.** اگر تفاوت شمار الکترون‌ها و نوترون‌ها در یون تک‌اتمی  ${}^{207}\text{M}^{2+}$  برابر ۴۵ باشد، عنصر M در کدام دوره و کدام گروه جدول تناوبی جای دارد؟ (تجربی ۹۰)

(۱) پنجم - ۱۳ (۲) ششم - ۱۴  
(۳) پنجم - ۱۵ (۴) ششم - ۱۶

**تحلیل سؤال**

**پند نکته ریز کوپولو اما مهم!!**

**نکته ۱** همواره اختلاف تعداد الکترون و پروتون‌ها ( $\Delta pe$ ) برابر با قدر مطلق بار یون است. اگر ذره مورد نظر، کاتیون باشد، تعداد الکترون‌ها به اندازه بار یون، کمتر از تعداد پروتون‌هاست و اگر ذره، آنیون باشد، تعداد الکترون‌ها به اندازه بار، بیش از پروتون‌هاست.

**نکته ۲** همواره تعداد نوترون‌ها بیش از پروتون‌هاست، مگر زمانی که عدد جرمی (A) دو برابر عدد اتمی (Z) باشد. در این حالت تعداد نوترون و پروتون‌ها برابر است.

یادآوری: هسته سبک‌ترین ایزوتوپ هیدروژن  ${}^1_1\text{H}$  فاقد نوترون است. **نکته ۳** برای محاسبات و استفاده از اختلاف تعداد الکترون و نوترون‌ها ( $\Delta ne$ ) به دو حالت ذکر شده توجه کنید.

۴. چند مورد از مطالب زیر، درباره  $^{99}_{43}\text{Te}$  درست‌اند؟ (فراغ، تمبری ۹۸)

- در تصویربرداری از غده تیروئید، کاربرد دارد.
- نخستین عنصری است که در واکنشگاه هسته‌ای ساخته شد.
- اندازه یون آن درست به اندازه یون یدیداست و در تیروئید جذب می‌شود.
- زمان ماندگاری آن اندک است و نمی‌توان مقدار زیادی از آن را تولید و انبار کرد.

(۱) ۱ (۲) ۲ (۳) ۳ (۴) ۴

### تحلیل سؤال

بررسی عبارت‌ها:

عبارت اول: درست.

عبارت دوم: درست. تکنسیم ( $^{99}\text{TC}$ ) نخستین عنصر ساختگی است که در واکنشگاه هسته‌ای ساخته شد.

عبارت سوم: نادرست. اندازه یون حاوی اتم تکنسیم با اندازه یون یدید ( $\text{I}^-$ ) برابر است.

عبارت چهارم: درست. نیم عمر این عنصر اندک است (حدود شش ساعت) و نمی‌توان مقدار زیادی از آن را تولید و انبار کرد.

پاسخ تست ۱ ۲ ۳ ۴

۵. عنصر A دارای سه ایزوتوپ  $A^{84}$ ،  $A^{86}$  و  $A^{88}$  است. اگر درصد فراوانی سبک‌ترین ایزوتوپ آن ۲۰٪ و جرم اتمی میانگین A برابر  $86/4$  باشد، درصد فراوانی دو ایزوتوپ دیگر به ترتیب از راست به چپ کدام‌اند؟ (عدد جرمی را به تقریب معادل جرم یک مول از هر ایزوتوپ در نظر بگیرید) (فراغ، تمبری ۹۵)

(۱) ۶۰، ۲۰ (۲) ۴۰، ۴۰ (۳) ۳۰، ۵۰ (۴) ۲۰، ۶۰

### تحلیل سؤال

عدد جرمی این ایزوتوپ‌ها (۸۴، ۸۶ و ۸۸) را می‌توان به‌عنوان جرم اتمی آنها استفاده کرد (باور کنید فوراً به نکته مهم بود!!)

اگر جرم هر ایزوتوپ را با M و فراوانی آن را با F نشان دهیم. از رابطه زیر برای محاسبه جرم اتمی میانگین ( $\bar{M}$ ) استفاده می‌کنیم. توجه کنید که  $\Delta M$  اختلاف جرم ایزوتوپ‌هاست (مثلاً  $\Delta M_{1,2}$ ، اختلاف جرم ایزوتوپ اول و دوم است).

$$\bar{M} = M_1 + (\Delta M_{1,2} \times \frac{F_2}{100}) + (\Delta M_{1,3} \times \frac{F_3}{100}) + \dots$$

وقتی  $F_1 = 20\%$  است ( $F_1 = 20$ )

$$F_2 + F_3 = 80 \rightarrow F_3 = 80 - F_2$$

بنابراین:

$$86/4 = 84 + (2 \times F_2) + [4 \times (80 - F_2)]$$

$$2/4 = 2F_2 + 3/2 - 4F_2 \rightarrow 0/8 = 2F_2 \rightarrow F_2 = 0/4 = 0\%$$

$$F_3 = 80\%$$

پاسخ تست ۱ ۲ ۳ ۴

۶. با توجه به داده‌های جدول زیر، جرم مولکولی ترکیب  $A_3X_3$ ، چند amu است؟ (عدد جرمی را برابر جرم اتمی با یکای amu در نظر بگیرید). (فراغ، بیاضی ۹۵)

ایزوتوپ	A ۴۵	A ۴۷	X ۲۵	X ۳۷
درصد فراوانی	۱۰	۹۰	۲۰	۸۰

(۱) ۲۱۳/۶ (۲) ۲۰۳/۴ (۳) ۱۹۸/۵ (۴) ۱۸۸/۷

### تحلیل سؤال

برای محاسبه جرم مولکولی  $A_3X_3$ ، باید جرم اتمی میانگین اتم‌های A و X را محاسبه کنیم.

$$\text{جرم اتمی میانگین A} = \frac{M_1 F_1 + M_2 F_2}{100}$$

$$\bar{M}_A = \frac{(45 \times 10) + (47 \times 90)}{100} \Rightarrow \bar{M}_A = 46/8 \text{ amu}$$

$$\text{جرم اتمی میانگین X} = \frac{(25 \times 20) + (37 \times 80)}{100} \Rightarrow$$

$$\bar{M}_X = 36/6 \text{ amu}$$

بنابراین:

$$A_3X_3 \text{ جرم مولکولی} = (3 \times 46/8) + (3 \times 36/6) = 93/6 + 108/8 = 203/4 \text{ amu}$$

پاسخ تست ۱ ۲ ۳ ۴

۷. عنصر A دارای چهار ایزوتوپ با عدد جرمی ۴۹، ۵۱، ۵۳ و ۵۴ است. اگر مجموع فراوانی دو ایزوتوپ اول ۶۵ و فراوانی ایزوتوپ سوم ۱۵ درصد باشد، درصد فراوانی دو ایزوتوپ اول، به ترتیب از راست به چپ کدام‌اند؟ (عدد جرمی ایزوتوپ‌ها، برابر با جرم اتمی آنها و جرمی اتمی میانگین برای عنصر A، برابر  $50/95 \text{ amu}$  فرض شود). (تمبری ۹۹)

(۱) ۲۹/۵، ۳۵/۵ (۲) ۱۷/۵، ۴۷/۵ (۳) ۱۵، ۵۰ (۴) ۱۴/۵، ۵۰/۵

### تحلیل سؤال

با توجه به توصیه سؤال، عدد جرمی هر ایزوتوپ معادل با جرم اتمی آن در نظر گرفته می‌شود. طبق داده‌های سؤال نیز:

$$F_1 + F_2 = 65$$

$$F_3 = 15$$

$$F_4 = 100 - (65 + 15) = 20$$

برای سهولت در حل سؤال، فراوانی ایزوتوپ دوم ( $F_2$ ) را برابر X در نظر می‌گیریم. حالا از رابطه معروف زیر استفاده می‌کنیم:

$$\bar{M} = M_1 + (\Delta M_{1,2} \times \frac{F_2}{100}) + (\Delta M_{1,3} \times \frac{F_3}{100}) + (\Delta M_{1,4} \times \frac{F_4}{100})$$

$$50/95 = 49 + (2 \times \frac{X}{100}) + (4 \times \frac{15}{100}) + (5 \times \frac{20}{100})$$



$$X_1 \begin{cases} F_1 = \%70 \\ A = 18 + 18 = 36 \end{cases}$$

$$X_3 \begin{cases} F_3 = 100 - (70 + 20) = \%10 \\ A = 18 + n \end{cases}$$

از رابطه زیر استفاده می‌کنیم، توجه کنید که جرم هر ایزوتوپ را معادل عدد جرمی آن در نظر می‌گیریم.


$$\bar{M} = \frac{(M_1 F_1) + (M_3 F_3) + (M_2 F_2)}{100}$$

$$36 / 8 = \frac{\overbrace{(36 \times 70)}^{2520} + \overbrace{(38 \times 20)}^{760} + (10 \times A)}{100} \rightarrow 3680 = 3280 + 10A$$

$$A = 40 = 18 + n \rightarrow \boxed{n = 22}$$

پاسخ تست ۱ ۲ ۳ ۴

۱۰. عنصر فرضی X دارای دو ایزوتوپ با جرم اتمی ۲۴ amu و ۲۷ amu است که در شکل زیر باید به ترتیب با دایره‌های سفید و سیاه‌رنگ نشان داده شوند. اگر جرم اتمی میانگین این عنصر برابر ۲۶/۷ amu باشد، چند دایره در شکل زیر باید سیاه‌رنگ باشد تا فراوانی ایزوتوپ‌ها را به درستی نشان دهد؟ (فازج، ریاضی ۹۸)



۲۷ (۴)      ۲۲ (۳)      ۱۹ (۲)      ۱۶ (۱)

### تحلیل سؤال

تعداد کل ایزوتوپ‌ها ۳۰ اتم است. متن سؤال بیان می‌کند که ایزوتوپ سبک‌تر با دایره سفید و ایزوتوپ سنگین‌تر باید با دایره سیاه‌رنگ نمایش داده شود.

از طرف دیگر جرم میانگین (۲۶/۷) به جرم ایزوتوپ سنگین‌تر ۲۷ amu نزدیک‌تر است، بنابراین تعداد این ایزوتوپ بیشتر است. تعداد ایزوتوپ‌های سبک و سنگین را با  $R_1$  و  $R_2$  نشان می‌دهیم.

$$\bar{M} = M_1 + (\Delta M_{1,2} \times \frac{R_2}{30})$$

$$26 / 7 = 24 + (3 \times \frac{R_2}{30}) \rightarrow 2 / 7 = 0 / 1 R_2 \rightarrow \boxed{R_2 = 27}$$

بنابراین شکل باید دارای ۲۷ دایره سیاه و سه دایره سفیدرنگ باشد.

پاسخ تست ۱ ۲ ۳ ۴

$$50 / 95 = 49 + (\frac{2X}{100}) + (0 / 6) + (1) \rightarrow 50 / 95 = 50 / 6 + \frac{2X}{100}$$

$$0 / 35 = \frac{2X}{100} \rightarrow X = F_2 = \%17 / 5$$

$$\rightarrow F_1 = 65 - 17 / 5 = \%47 / 5$$

پاسخ تست ۱ ۲ ۳ ۴

۸.  $\frac{2}{Y}$  جرم اکسید  $X_p O_p$  را اکسیژن تشکیل می‌دهد، جرم اتمی عنصر X چند amu است و در صورتی که تفاوت شمار پروتون‌ها و نوترون‌های اتم آن برابر ۶ باشد، عنصر X، در کدام دوره جدول تناوبی جای دارد؟ (عدد جرمی را برابر جرم اتمی در نظر بگیرید، (تجربی ۱۴۰۰))

(۱) ۶۰، چهارم      (۲) ۶۰، پنجم  
(۳) ۷۰، چهارم      (۴) ۷۰، پنجم

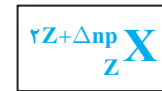
### تحلیل سؤال

$$\frac{\text{جرم عنصر اکسیژن}}{\text{جرم } X_p O_p} = \frac{2}{Y} \rightarrow \frac{3 \times 16}{(2 \times X) + (3 \times 16)} = \frac{2}{Y} \rightarrow$$

$$2X + 48 = 168 \rightarrow 2X = 120 \rightarrow X = 60 \text{ amu}$$

با توجه به توضیح سؤال، عدد جرمی (A) این عنصر نیز ۶۰ است.

**تکلم:** اگر اختلاف تعداد نوترون و پروتون‌های هسته اتم X،  $\Delta np$  و Z عدد اتمی باشد، آنگاه نماد این عنصر را می‌توان به صورت زیر نمایش داد.



بنابراین:

$$A = 2Z + \Delta np = 60 \rightarrow 2Z + 6 = 60 \rightarrow \boxed{Z = 27}$$

عدد اتمی ۲۷، در بازه اعداد اتمی ۱۹ تا ۳۶ قرار دارد. بنابراین X عنصری از دوره چهارم جدول است.

پاسخ تست ۱ ۲ ۳ ۴

۹. عنصر X با جرم اتمی میانگین  $36 / 8 \text{ g.mol}^{-1}$ ، دارای سه ایزوتوپ طبیعی است که یکی از آنها دارای ۲۰ نوترون با فراوانی ۲۰٪ و دیگری دارای ۱۸ نوترون با فراوانی ۷۰٪ است. شمار نوترون‌های ایزوتوپ دیگر کدام است؟ (جرم پروتون و نوترون را یکسان و برابر ۱ amu در نظر بگیرید). (فازج، تجربی ۹۰)

(۱) ۲۱      (۲) ۲۲      (۳) ۲۳      (۴) ۲۴

### تحلیل سؤال

ایزوتوپ‌ها را به ترتیب  $X_1$ ،  $X_2$  و  $X_3$  می‌نامیم، عدد جرمی و فراوانی ایزوتوپ‌ها به صورت زیر است:

$$X_2 \begin{cases} F_2 = \%20 \\ A = 18 + 20 = 38 \end{cases}$$



## یادداشت

۱۱. با مشخص شدن جایگاه یک عنصر در جدول تناوبی، چند مورد از مفاهیم زیر برای آن عنصر مشخص می‌شود؟ (تجربی ۱۴۰۱)

- شماره گروه
- شماره ایزوتوپ‌ها
- عدد جرمی
- شماره نوترون‌های اتم
- شماره دوره
- عدد اتمی
- شمار پروتون‌ها و الکترون‌های اتم
- زیرلایه در حال پر شدن اتم
- شش (۲) پنج (۳) چهار (۴) سه

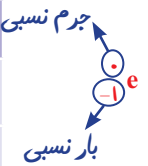
### تحلیل سؤال

با مشخص شدن جایگاه یک عنصر در جدول، شمار ایزوتوپ‌ها و به دنبال آن شمار نوترون‌های اتم و همین‌طور عدد جرمی آن مشخص نمی‌شود (سه مورد)

پاسخ تست ۱ ۲ ۳ ۴

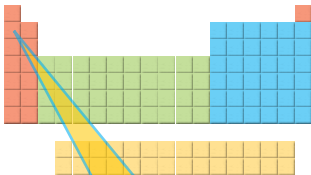
جدول ۱- برخی ویژگی‌های ذره‌های زیراتمی

نام ذره	نماد*	بار الکتریکی نسبی	جرم (amu)
الکترون	${}_{-1}e$	-۱	۰/۰۰۰۵
پروتون	${}_{+1}p$ بار نسبی	+۱	۱/۰۰۷۳
نوترون	${}_{0}n$ جرم نسبی	۰ خنثی	۱/۰۰۸۷

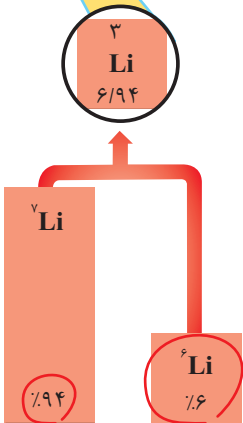


اختلاف جرم یک پروتون و نوترون ۰/۰۰۱۴ و بیش از جرم یک الکترون است.

\* در این نماد، عددهای سمت چپ از بالا به پایین به ترتیب جرم نسبی و بار نسبی ذره را مشخص می‌کند.



با این توصیف جرم اتم  ${}^7_3\text{Li}$  را می‌توان  $7\text{amu}$  در نظر گرفت. اکنون با مراجعه به جدول، جرم اتمی لیتیم را مشخص کنید. آیا تفاوتی مشاهده می‌کنید؟ (به نظر شما علت این تفاوت چیست؟ وجود ایزوتوپ‌های مختلف در اتم لیتیم موجب این تفاوت شده است.)



با هم بیندیشیم

۱- با توجه به شکل به پرسش‌های زیر پاسخ دهید.  
آ جدول زیر را کامل کنید.

نماد ایزوتوپ	درصد فراوانی در طبیعت	عدد جرمی (A)	جرم اتمی میانگین
${}^6_3\text{Li}$			
${}^7_3\text{Li}$			

مهم ب) جرم اتمی میانگین هر عنصر همان جرم نشان داده شده در جدول دوره‌ای عناصر است. اختلاف جرم ایزوتوپ اول و سوم

اختلاف جرم ایزوتوپ اول و دوم

رابطه‌ای بین جرم اتمی میانگین، درصد فراوانی و جرم اتمی ایزوتوپ‌ها بنویسید.

$$\bar{M} = M_1 + (\Delta M_{1,2} \times \frac{F_2}{100}) + (\Delta M_{1,3} \times \frac{F_3}{100}) + \dots$$

$$\bar{M} = \frac{M_1 F_1 + M_2 F_2 + \dots}{100}$$

جرم سبک‌ترین ایزوتوپ


۲- شکل روبه‌رو ایزوتوپ‌های کلر را نشان می‌دهد.

آ جرم اتمی میانگین کلر را حساب کنید.

ب) جرم اتمی میانگین به دست آمده را با جرم اتمی کلر

در جدول دوره‌ای مقایسه کنید.

(پاسخ: حدود ۳۵/۵ amu)



تست

عنصر فرضی X دارای دو ایزوتوپ سبک و سنگین به جرم‌های ۱۴ amu و ۱۶ amu و جرم میانگین ۱۴/۲ amu است. نسبت شمار اتم‌های ایزوتوپ سنگین

(ریاضی ۹۸)

به سبک در آن کدام است؟

$$\frac{1}{8} \quad (1) \quad \frac{1}{9} \quad (2) \quad \frac{1}{10} \quad (3) \quad \frac{1}{11} \quad (4)$$

$$F_1 + F_2 = 100$$

$$\bar{M} = M_1 + (\Delta M_{1,2} \times F_2) \rightarrow 14/2 = 14 + (2 \times F_2) \rightarrow F_2 = 0/1 \rightarrow F_1 = 0/9 \rightarrow \frac{F_2}{F_1} = \frac{1}{9}$$

پاسخ: