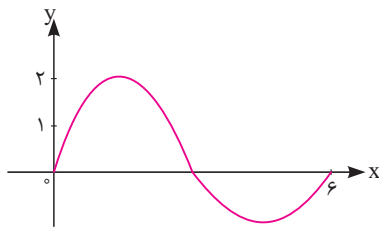


۹. گزینه درست را انتخاب کنید.  
فرض کنید تابع  $f$  به ازای هر عدد حقیقی  $x$ ، نسبت به خطوط  $x=1$  و  $x=3$  متقارن باشد کدام عبارت زیر درست است؟ (ریاضی ۱۴۰۰ - قاجار از کشور)

- (۱)  $f$  تابعی غیر متناوب است.  
(۲)  $f$  تابعی متناوب با دوره تناوب ۱ است.  
(۳)  $f$  تابعی متناوب با دوره تناوب ۲ است.  
(۴)  $f$  تابعی متناوب با دوره تناوب ۴ است.

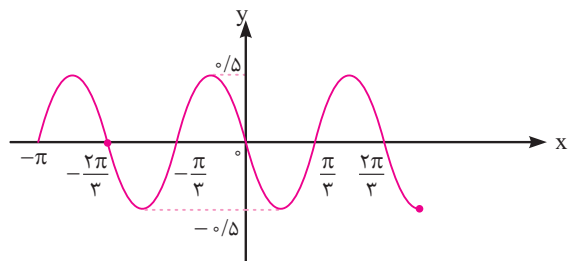
۱۰. شکل روبه‌رو قسمتی از نمودار  $y = a \sin(b\pi x)$  است  $a+b$  کدام است؟ (ریاضی ۹۳ - قاجار از کشور)



- (۱)  $\frac{4}{3}$   
(۲)  $\frac{5}{3}$   
(۳)  $\frac{7}{3}$   
(۴)  $\frac{8}{3}$

پاسخ کامل دهید.

۱۱. با تعیین مقادیر مینیمم و ماکزیمم و دوره تناوب تابع زیر، ضابطه آن را تعیین کنید.  
(نمونه دولتی نماز - میان‌دوآب)



۱۲. تابعی مثلثاتی بنویسید که دارای دوره تناوب و ماکزیمم و مینیمم به صورت زیر باشد:  
(دبیرستان دخترانه هدف تهران - دی ۱۴۰۰)

$$\text{Min} = 4 - \pi, \quad \text{Max} = 4 + \pi, \quad T = \frac{\pi}{2}$$

۱۳. دامنه تابع  $y = 4 \tan\left(\frac{\sqrt{x} - 3\pi}{2}\right) + 1$  را به دست آورید.  
(دبیرستان فر; انگان قسا - دی ۱۴۰۱)

## درس ۲ (معادلات مثلثاتی)

معادله مثلثاتی: معادله‌ای که در آن اطلاعاتی از نسبت های مثلثاتی یک زاویه مجهول داریم یک معادله مثلثاتی نام دارد مانند معادله مثلثاتی  $2 \sin x - 1 = 0$  و منظور ما از حل معادله مثلثاتی، پیدا کردن تمام زوایایی (مانند  $x = \frac{\pi}{6}$  در معادله ساده داده شده) است که در معادله صدق می‌کنند.

### جواب‌های کلی معادلات مثلثاتی

الف) جواب‌های کلی معادله سینوسی:

اگر پس از ساده کردن معادله مثلثاتی به فرم ساده  $\sin x = \sin \alpha$  برسیم.  
یک زاویه معلوم  $\alpha$       یک زاویه مجهول  $x$

$$\begin{cases} x = 2k\pi + \alpha \\ x = 2k\pi + \pi - \alpha \end{cases} \quad (k \in \mathbb{Z})$$

آنگاه تمام جواب‌ها از روابط زیر به دست می‌آیند:

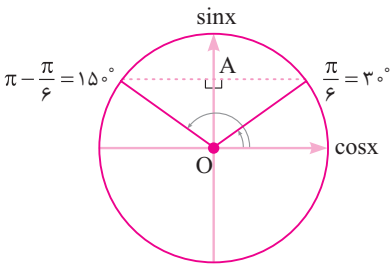
مثال ۵) جواب‌های کلی معادله مثلثاتی  $2 \sin x - 1 = 0$  را بیابید.

پاسخ: ابتدا مانند حل معادله درجه اول معمولی، عبارت شامل  $x$  را یک طرف نگاه داشته و ضرایب معلوم را به سمت دیگر منتقل می‌کنیم:

$$2 \sin x = 1 \rightarrow \sin x = \frac{1}{2}$$

حال مشخص می‌کنیم  $\frac{1}{2}$  سینوس کدام زاویه اصلی معلوم است؟ می‌دانیم  $\sin \frac{\pi}{6} = \frac{1}{2}$  حال طبق روابط بالا جواب‌های کلی معادله را می‌نویسیم:

$$\sin x = \sin \frac{\pi}{6} \rightarrow \begin{cases} x = 2k\pi + \frac{\pi}{6} \\ x = 2k\pi + \pi - \frac{\pi}{6} \end{cases}$$



**توضیحات مهم:** برای فهمیدن چرایی روابط کلی باید از دایره مثلثاتی کمک بگیریم:

اینکه در جواب‌های کلی هم  $\frac{\pi}{6}$  داریم و هم  $\pi - \frac{\pi}{6}$  به خاطر آن است که در یک دایره مثلثاتی (در بازه  $(0, 2\pi)$ ) همواره در دو نقطه، سینوس، مقداری بین  $-1$  و  $1$  پیدا می‌کند (یکی در خود  $\hat{\alpha}$  دیگری در  $\pi - \hat{\alpha}$ ) در مثال فوق،  $\sin 30^\circ = \sin 150^\circ = OA$  است.

اما علت آوردن  $2k\pi$  (مضرب زوج  $\pi$ ) قبل از  $\frac{\pi}{6}$  یا  $\pi - \frac{\pi}{6}$  آن است که ما دنبال یافتن تمام جواب‌ها هستیم و همان‌طور که می‌دانید مثلاً زاویه  $390^\circ = (360^\circ + 30^\circ)$  نیز با زاویه  $30^\circ$  هم‌انتهاست و سینوس‌اش برابر  $\frac{1}{2}$  می‌باشد.

حالت خاص معادله سینوسی: اگر سینوس  $x$  برابر با صفر باشد حالت خلاصه‌تری برای جواب کلی معادله موجود است به صورت زیر:

$$\sin x = 0 \rightarrow x = k\pi \quad (k \in \mathbb{Z})$$

زیرا همان‌طور که می‌دانید سینوس مضرب‌های صحیح  $\pi$ ، برابر صفر می‌شود.

**ب) جواب‌های کلی معادله کسینوسی**

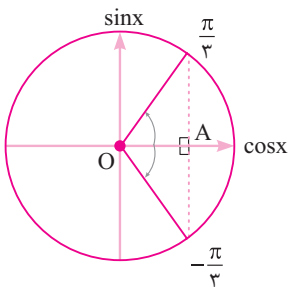
اگر پس از ساده کردن معادله مثلثاتی به فرم ساده  $\cos x = \cos \alpha$  برسیم آنگاه تمام جواب‌ها از روابط زیر پیدا می‌شوند:

$$\cos x = \cos \alpha \rightarrow x = 2k\pi \pm \alpha \quad (k \in \mathbb{Z})$$

**مثال ۵** معادله مثلثاتی  $2\cos x - 1 = 0$  را حل کرده جواب‌های کلی را مشخص کنید.

**پاسخ:**

$$2\cos x = 1 \rightarrow \cos x = \frac{1}{2} = \cos \frac{\pi}{3} \rightarrow x = 2k\pi \pm \frac{\pi}{3}$$



باز هم با توجه به دایره مثلثاتی معلوم می‌شود که مقدار کسینوس  $\alpha$ ، همواره در دو نقطه، از دایره مثلثاتی مقداری بین  $-1$  و  $1$  پیدا می‌کند در این مثال هر دوی  $\cos \frac{\pi}{3}$  و  $\cos(-\frac{\pi}{3})$  برابر با  $\frac{1}{2}$  هستند. (فلسفه وجود  $2k\pi$  هم که مانند ماجرای سینوس است).

حالت خاص معادله کسینوسی: اگر  $\cos x = 0$  باشد به جای جواب‌های کلی از رابطه زیر برای یافتن جواب‌ها استفاده می‌کنیم.

$$\cos x = 0 \rightarrow x = k\pi + \frac{\pi}{2} \quad (k \in \mathbb{Z})$$

زیرا همان‌طور که می‌دانید کسینوس مضرب‌های فرد  $\frac{\pi}{2}$  برابر صفر می‌شود.

**پ) جواب‌های کلی معادله تانژانتی یا کتانژانتی:** اگر پس از ساده کردن معادله مثلثاتی به یکی از فرم‌های ساده  $\tan x = \tan \alpha$  یا  $\cot x = \cot \alpha$  برسیم، تمام جواب‌های معادله از رابطه زیر پیدا می‌شوند:

$$\begin{cases} \tan x = \tan \alpha \\ \text{یا} \\ \cot x = \cot \alpha \end{cases} \Rightarrow x = k\pi + \alpha \quad k \in \mathbb{Z}$$

*(تمرین کتاب درسی)*

**مثال ۶** معادله مقابل را حل کنید.  $\tan 3x = \tan \pi x$

**پاسخ:** در این مثال باید کمان یکی از تانژانت‌ها را مجهول و دیگری را معلوم فرض کنیم سپس از جواب کلی استفاده نماییم:

$$3x = k\pi + \pi x \Rightarrow 3x - \pi x = k\pi \Rightarrow x(3 - \pi) = k\pi \rightarrow x = \frac{k\pi}{3 - \pi}$$

حالت خاص معادله تانژانتی یا کتانژانتی: از آنجا که  $\tan x = \frac{\sin x}{\cos x}$  و  $\cot x = \frac{\cos x}{\sin x}$  است حالت‌های خاص  $\tan x = 0$  و  $\cot x = 0$  در واقع همان

$$\tan x = 0 \rightarrow x = k\pi$$

$$\cot x = 0 \rightarrow x = k\pi + \frac{\pi}{2}$$

حالت‌های خاص  $\sin x = 0$  و  $\cos x = 0$  هستند یعنی داریم:

*(تمرین کتاب درسی)*

**مثال ۷** معادله مقابل را حل کنید.  $\tan(2x - 1) = 0$

$$\rightarrow 2x - 1 = k\pi \rightarrow 2x = k\pi + 1 \rightarrow x = \frac{k\pi + 1}{2}$$

**پاسخ:**

**همسان‌سازی:** اگر در معادله مثلثاتی هم نسبت مثلثاتی سینوس و هم نسبت مثلثاتی کسینوس موجود باشند بایستی با استفاده از اتحادها و روابط مثلثاتی که در سال‌های قبل آموختیم آن‌ها را همسان کنیم. (یکی را به دیگری تبدیل کنیم) سپس معادله را حل کنیم.

در این گونه موارد یا از روابط  $\sin^2 x = 1 - \cos^2 x$  و  $\cos^2 x = 1 - \sin^2 x$  و  $\tan x = \frac{1}{\cot x}$  و  $\cot x = \frac{1}{\tan x}$  استفاده می‌کنیم. یا روابط  $2\alpha$  را به کار می‌بریم:

$$\sin 2\alpha = 2 \sin \alpha \cos \alpha$$

$$\cos 2\alpha = 2 \cos^2 \alpha - 1$$

$$\cos 2\alpha = 1 - 2 \sin^2 \alpha$$

$$\sin\left(\frac{\pi}{2} - \alpha\right) = \cos \alpha$$

$$\cos\left(\frac{\pi}{2} - \alpha\right) = \sin \alpha$$

و  
:

(تمرین کتاب درسی)

الف)  $\cos 2x - \sin x + 1 = 0$

ب)  $\cos^2 x - \sin x = \frac{1}{4}$

پ)  $\sin x - \cos^2 x = 0$

$$1 - 2 \sin^2 x - \sin x + 1 = 0 \rightarrow 2 \sin^2 x + \sin x - 1 = 0$$

$$\sin x = t \rightarrow 2t^2 + t - 1 = 0 \xrightarrow{a+c=b} \begin{cases} t = -1 \rightarrow \sin x = -1 \\ t = -\frac{c}{a} = \frac{1}{2} \rightarrow \sin x = \frac{1}{2} \end{cases} \Rightarrow \begin{cases} x = 2k\pi + \frac{3\pi}{2} \text{ یا } x = 2k\pi - \frac{\pi}{2} \\ x = 2k\pi + \frac{\pi}{6}, x = 2k\pi + \pi - \frac{\pi}{6} = 2k\pi + \frac{5\pi}{6} \end{cases}$$

ب)  $1 - \sin^2 x - \sin x = \frac{1}{4} \rightarrow \sin^2 x + \sin x - \frac{3}{4} = 0 \xrightarrow{\times 4} 4 \sin^2 x + 4 \sin x - 3 = 0 \xrightarrow{\sin x = t} 4t^2 + 4t - 3 = 0$

$$\rightarrow (4t+3)(t-1) = 0 \begin{cases} t = -\frac{3}{4} \rightarrow \sin x = -\frac{3}{4} \text{ غیر قابل قبول} \\ -1 \leq \sin x \leq 1 \text{ زیرا} \\ t = \frac{1}{4} \rightarrow \sin x = \frac{1}{4} = \sin \frac{\pi}{6} \end{cases}$$

$$\rightarrow x = 2k\pi + \frac{\pi}{6}, x = 2k\pi + \frac{5\pi}{6}$$

پ)  $\sin x = \cos 2x \rightarrow \cos \underbrace{2x}_{\text{مجهول}} = \cos \underbrace{\left(\frac{\pi}{2} - x\right)}_{\text{معلوم}}$

$$2x = 2k\pi \pm \left(\frac{\pi}{2} - x\right) \begin{cases} 2x = 2k\pi + \frac{\pi}{2} \rightarrow x = \frac{2k\pi}{3} + \frac{\pi}{6} \\ x = 2k\pi - \frac{\pi}{2} \end{cases}$$

مثال ۸ معادلات زیر را حل کنید.

پاسخ: الف)

## سؤالات امتحانی درس دوم

۲

کدام یک از عبارات زیر درست و کدام نادرست است؟

درست  نادرست

۱۴. مقدار عددی عبارت  $\cos^2 15^\circ - \sin^2 15^\circ$  برابر  $\frac{\sqrt{3}}{4}$  است. (دیرستان نمونه دولتی نماز - میان‌نوبت دی ۱۴۰۱)

درست  نادرست

۱۵. در بازه  $(0, 2\pi)$  مقدار سینوس همواره در ۲ نقطه ۱ یا -۱ می‌گردد.

درست  نادرست

۱۶. معادله مثلثاتی  $\cos x + 1 = 0$  در بازه  $(0, 2\pi)$  دو جواب متمایز دارد.

درست  نادرست

۱۷. بی‌شمار مثلث با اضلاع ۲ و ۶ واحد می‌توان رسم کرد که مساحت آن‌ها ۳ سانتی‌متر مربع باشد.